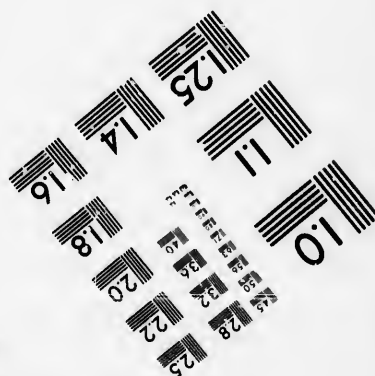





**IMAGE EVALUATION
TEST TARGET (MT-3)**



**Photographic
Sciences
Corporation**

23 WEST MAIN STREET
WEBSTER, N.Y. 14580
(716) 872-4503

**CIHM/ICMH
Microfiche
Series.**

**CIHM/ICMH
Collection de
microfiches.**



Canadian Institute for Historical Microproductions / Institut canadien de microreproductions historiques

© 1985

Technical and Bibliographic Notes/Notes techniques et bibliographiques

The Institute has attempted to obtain the best original copy available for filming. Features of this copy which may be bibliographically unique, which may alter any of the images in the reproduction, or which may significantly change the usual method of filming, are checked below.

L'Institut a microfilmé le meilleur exemplaire qu'il lui a été possible de se procurer. Les détails de cet exemplaire qui sont peut-être uniques du point de vue bibliographique, qui peuvent modifier une image reproduite, ou qui peuvent exiger une modification dans la méthode normale de filmage sont indiqués ci-dessous.

- | | |
|--|--|
| <input type="checkbox"/> Coloured covers/
Couverture de couleur | <input type="checkbox"/> Coloured pages/
Pages de couleur |
| <input type="checkbox"/> Covers damaged/
Couverture endommagée | <input type="checkbox"/> Pages damaged/
Pages endommagées |
| <input type="checkbox"/> Covers restored and/or laminated/
Couverture restaurée et/ou pelliculée | <input type="checkbox"/> Pages restored and/or laminated/
Pages restaurées et/ou pelliculées |
| <input type="checkbox"/> Cover title missing/
Le titre de couverture manque | <input checked="" type="checkbox"/> Pages discoloured, stained or foxed/
Pages décolorées, tachetées ou piquées |
| <input type="checkbox"/> Coloured maps/
Cartes géographiques en couleur | <input type="checkbox"/> Pages detached/
Pages détachées |
| <input type="checkbox"/> Coloured ink (i.e. other than blue or black)/
Encre de couleur (i.e. autre que bleue ou noire) | <input checked="" type="checkbox"/> Showthrough/
Transparence |
| <input type="checkbox"/> Coloured plates and/or illustrations/
Planches et/ou illustrations en couleur | <input type="checkbox"/> Quality of print varies/
Qualité inégale de l'impression |
| <input type="checkbox"/> Bound with other material/
Relié avec d'autres documents | <input checked="" type="checkbox"/> Includes supplementary material/
Comprend du matériel supplémentaire |
| <input type="checkbox"/> Tight binding may cause shadows or distortion
along interior margin/
La reliure serrée peut causer de l'ombre ou de la
distorsion le long de la marge intérieure | <input type="checkbox"/> Only edition available/
Seule édition disponible |
| <input type="checkbox"/> Blank leaves added during restoration may
appear within the text. Whenever possible, these
have been omitted from filming/
Il se peut que certaines pages blanches ajoutées
lors d'une restauration apparaissent dans le texte,
mais, lorsque cela était possible, ces pages n'ont
pas été filmées. | <input type="checkbox"/> Pages wholly or partially obscured by errata
slips, tissues, etc., have been refilmed to
ensure the best possible image/
Les pages totalement ou partiellement
obscurcies par un feuillet d'errata, une pelure,
etc., ont été filmées à nouveau de façon à
obtenir la meilleure image possible. |
| <input checked="" type="checkbox"/> Additional comments:
Commentaires supplémentaires: Les pages froissées peuvent causer de la distorsion. | |

This item is filmed at the reduction ratio checked below/
Ce document est filmé au taux de réduction indiqué ci-dessous.

10X	12X	14X	16X	18X	20X	22X	24X	26X	28X	30X	32X
					✓						

The copy filmed here has been reproduced thanks to the generosity of:

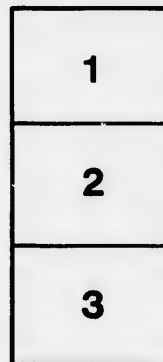

Seminary of Quebec
Library

The images appearing here are the best quality possible considering the condition and legibility of the original copy and in keeping with the filming contract specifications.

Original copies in printed paper covers are filmed beginning with the front cover and ending on the last page with a printed or illustrated impression, or the back cover when appropriate. All other original copies are filmed beginning on the first page with a printed or illustrated impression, and ending on the last page with a printed or illustrated impression.

The last recorded frame on each microfiche shall contain the symbol \rightarrow (meaning "CONTINUED"), or the symbol ∇ (meaning "END"), whichever applies.

Maps, plates, charts, etc., may be filmed at different reduction ratios. Those too large to be entirely included in one exposure are filmed beginning in the upper left hand corner, left to right and top to bottom, as many frames as required. The following diagrams illustrate the method:



L'exemplaire filmé fut reproduit grâce à la générosité de:

Séminaire de Québec
Bibliothèque

Les images suivantes ont été reproduites avec le plus grand soin, compte tenu de la condition et de la netteté de l'exemplaire filmé, et en conformité avec les conditions du contrat de filmage.

Les exemplaires originaux dont la couverture en papier est imprimée sont filmés en commençant par le premier plat et en terminant soit par la dernière page qui comporte une empreinte d'impression ou d'illustration, soit par le second plat, selon le cas. Tous les autres exemplaires originaux sont filmés en commençant par la première page qui comporte une empreinte d'impression ou d'illustration et en terminant par la dernière page qui comporte une telle empreinte.

Un des symboles suivants apparaîtra sur la dernière image de chaque microfiche, selon le cas: le symbole \rightarrow signifie "A SUIVRE", le symbole ∇ signifie "FIN".

Les cartes, planches, tableaux, etc., peuvent être filmés à des taux de réduction différents. Lorsque le document est trop grand pour être reproduit en un seul cliché, il est filmé à partir de l'angle supérieur gauche, de gauche à droite, et de haut en bas, en prenant le nombre d'images nécessaire. Les diagrammes suivants illustrent la méthode.

errata
to

pelure,
on à

48

22/6

NOUVELLE
GÉOGRAPHIE
ÉLÉMENTAIRE.

L'Atlas qui accompagne ce volume, composé de dix-huit Cartes, neuf muettes et neuf écrites, se vend séparément in-4°. cartonné, 10 fr.

Chaque Carte muette en noir, 50 c.
— — écrite et coloriée, 75 c.

Il a été tiré un certain nombre de ces Cartes avec la projection seulement, prix de la feuille, 40 c.

~~~~~  
IMPRIMERIE DE D'HAUTEL,  
Rue de la Harpe, n. 50.

215



Bibliothèque;  
Le Séminaire de Québec  
3, rue de l'Université  
Québec 4, QUE.

# GÉOGRAPHIE

ÉLÉMENTAIRE

PAR DEMANDES ET PAR RÉPONSES,

DIVISÉE EN LEÇONS,

ET ACCOMPAGNÉE D'UN ATLAS DE DIX-HUIT CARTES  
MOUTTES, ÉCRITES ET COLORIÉES,

PAR J.-B. POIRSON,

INGÉNIEUR-GÉOGRAPHE.

A L'USAGE DES COLLÈGES



*Séminaire de Québec  
Pensions  
Strangers de Québec*

A PARIS,

CHEZ AIMÉ ANDRÉ, LIBRAIRE,

QUAI DES AUGUSTINS, N°. 59,

MDCCCXXI.



---

## AVERTISSEMENT.

---

L'ÉTUDE de la géographie , si négligée autrefois parmi nous , va de pair aujourd'hui avec celle de toutes les autres connaissances , reconnues indispensables pour une bonne éducation. On ne doit donc pas s'étonner de cette foule de traités sur la géographie , plus ou moins étendus , qui ont paru en France depuis plus de trente ans. Nous aussi , nous avons osé payer notre tribut à la jeunesse studieuse , en composant cette géographie élémentaire. Il nous siérait mal d'en faire l'éloge , afin de prévenir en sa faveur le jugement du public ; mais , du moins , nous osons espérer que les chefs de l'instruction applaudiront à nos intentions et à nos efforts. Nous nous bornerons à exposer ici , en peu de mots , le plan que nous avons suivi dans la composition de ces élémens de géographie.

1°. Nous les avons divisés en introduction et en cinq parties. Dans l'introduction nous avons exposé les principales notions

mathématiques et physiques , nécessaires pour une description un peu exacte de notre globe. Nous conviendrons que , parmi ces notions , il s'en trouve quelques-unes au-dessus de l'intelligence des jeunes élèves ; mais nous avons cru devoir en laisser le développement à leurs maîtres.

Les cinq parties se composent de la description physique et politique de l'Europe, de l'Asie , de l'Afrique, de l'Amérique et de l'Océanique. En décrivant l'Europe , nous n'avons pas oublié les nouvelles divisions territoriales , et nous avons cru faciliter la description de la France , ainsi que celle de plusieurs autres états de cette partie de la terre , par l'indication de leurs bassins. En parlant de l'Afrique , nous n'avons pas manqué de nous conformer aux relations des voyageurs modernes les plus dignes de foi ; sans néanmoins adopter aucune opinion , comme certaine , sur le cours de quelques rivières. Nous avons mieux aimé ne pas compléter nos notions que de les rendre inexacts. Quant à l'Amérique , nous avons suivi les divisions politiques les plus récentes ; et toujours fidèles à notre système physique , nous avons marqué , autant que le

permettaient ces élémens , celles qui dérivent naturellement des montagnes et des fleuves. En avançant vers le nord et vers le nord-ouest de cette grande partie de la terre , nous avons dû nous arrêter-là où le capitaine Parry a cru devoir s'arrêter. Mais nous attendons avec impatience la relation de son dernier voyage.

On ne sera pas surpris que nous ayons fait de l'Océanique un troisième continent et une cinquième partie du globe terrestre. Nous avons exposé nos motifs et nul géographe ne nous démentira.

Nous avons composé des cartes pour accompagner les nouvelles leçons : sur les unes on a gravé les noms et l'on a indiqué les divisions politiques, par des signes coloriés ; les autres sont des cartes muettes , c'est-à-dire , qui n'offrent que des traits en noir , des divisions physiques , sans aucun nom. Celles-ci doivent servir aux élèves , après qu'ils auront appris chaque leçon , pour en faire l'application : ainsi , lorsqu'ils auront dit que la France s'étend en latitude et en longitude depuis tel degré jusqu'à tel degré , le maître leur présentera la carte muette , et leur fera marquer la véritable



position de ce royaume. Ensuite , ils s'assureront par l'autre carte del'exactitude de leur démonstration :

Nous sommes loin de regarder ces éléments comme exempts de défauts. Quelle géographie n'offre pas quelques inexactitudes , plus ou moins graves ? Ne peut-on pas dire d'un livre de ce genre ce que l'on dit des hommes : « Le plus parfait est celui qui a le moins de défauts , » *perfectus est ille qui vitis minimè urgetur,*

---

NOUVELLE  
GÉOGRAPHIE  
ÉLÉMENTAIRE.

---

INTRODUCTION  
à la Géographie des cinq parties de la Terre.

---

LEÇON I<sup>ère</sup>.

*Notions géométriques.*

*D.* QUEST-CE qu'une ligne ?

*R.* C'est une trace, sans épaisseur, imaginée entre deux points.

*D.* Combien y a-t-il de sortes de lignes ?

*R.* Il y en a deux sortes ; la ligne droite et la ligne courbe.

*D.* Qu'est-ce que la ligne droite ?

*R.* La ligne droite est celle qui range plusieurs points dans une même direction en passant par leur centre.

*D.* Qu'est-ce que la ligne courbe ?

*R.* La ligne courbe est celle qui, partant d'un premier point s'écarte plus ou moins du centre de tous les autres, par exemple si autour

d'un point fixe , on décrit une ligne avec un compas , cette ligne sera courbe dans toute son étendue.

*D.* Comment nommerez-vous cette ligne ?

*R.* Je la nommerai *cercle* ou *circonférence*.

*D.* Comment nommez-vous le point sur lequel on a placé la pointe du compas ?

*R.* On le nomme *centre* du cercle.

*D.* Qu'entendez-vous par le diamètre ?

*R.* C'est une ligne droite qui , partant d'un point du cercle , passe le centre , et se prolonge jusqu'au point opposé. Ainsi , il partage le cercle ou la circonférence en deux parties égales.

*D.* Qu'est-ce que le rayon ?

*R.* C'est la moitié du diamètre.

*D.* Qu'est-ce qu'une ligne perpendiculaire ?

*R.* C'est une ligne droite , qui tombe à plomb sur un plan ou surface , ou sur une autre ligne droite.

*D.* Comment nommez-vous cette ligne sur laquelle tombe la perpendiculaire ?

*R.* Je la nomme *horizontale*.

*D.* En combien de parties ces deux lignes , venant à se couper par le milieu , divisent-elles le cercle ?

*R.* Elles le divisent en quatre parties égales.

*D.* Qu'entendez-vous par deux lignes parallèles ?

*R.* Ce sont deux lignes , qui , l'une à côté de l'au-

tre, étant prolongées indéfiniment, ne peuvent se rencontrer.

*D.* Qu'est-ce qu'une ligne oblique?

*P.* C'est une ligne droite qui n'est ni perpendiculaire ni horizontale.

*D.* Qu'est-ce qu'une ellipse?

*R.* C'est un cercle allongé.

*D.* En combien de parties divise-t-on la circonférence d'un cercle?

*R.* On la divise en trois cent soixante parties, qu'on nomme degrés. Le degré se divise en soixante minutes, et chaque minute en soixante secondes.

*D.* De combien de degrés se composent la moitié et le quart de la circonférence d'un cercle?

*R.* La moitié comprend cent quatre-vingts degrés, et le quart quatre-vingt-dix.

## LEÇON II.

*Notions astronomiques et mathématiques.*

*Du mot Géographie — Rapport de la Terre avec les corps célestes.*

*D.* QUE signifie le mot *Géographie*?

*R.* Il signifie *Description de la terre.*

*D.* Comment fait-on cette description?

*R.* On la fait en déterminant la figure et l'étendue des terres et des mers, en indiquant les rivières et les grandes chaînes de montagnes,

en faisant connaître les différens pays , en les distinguant les uns des autres par leurs limites , en décrivant le nombre , les mœurs , les usages de leurs habitans , et les rapports qui existent entre eux.

*D.* La terre n'a-t-elle pas des rapports avec les corps célestes ?

*R.* Oui : il est même nécessaire de les connaître pour en faire une description satisfaisante.

*D.* Combien distinguez-vous de corps célestes ?

*R.* On en distingue de deux sortes : les uns brillent de leur propre éclat , et les autres le reçoivent.

*D.* Quels sont les corps qui brillent de leur propre éclat ?

*R.* Le premier , par rapport à nous , est le soleil : c'est lui qui échauffe et éclaire les corps opaques ou non lumineux : les autres sont les étoiles fixes.

*D.* Combien y a-t-il de corps opaques ou non lumineux ?

*R.* Il y en a vingt-neuf qu'on distingue en trois classes , qui sont les planètes , les satellites des planètes , et les comètes. Leurs mouvemens ont pour centre le soleil et forment avec cet astre ce que les astronomes appellent système planétaire ou solaire.

*D.* Quelle est la forme des planètes ?

*R.* Elles sont de forme ronde , et , à la vue simple , elles nous paraissent comme des étoiles.

**D.** Combien compte-t-on de planètes dans notre système planétaire ?

**R.** On en compte dix, savoir : Mercure , Vénus , Mars , la Terre , Piazzi , Olbers , Jupiter , Saturne , Uranus ou Herschell , et Harding.

**D.** En combien de temps la lumière solaire parvient-elle à la terre ?

**R.** Elle y parvient en huit minutes. Cette lumière est la cause physique des couleurs que nous offrent les différens objets , car elle se compose de l'assemblage de sept couleurs primitives , ainsi que l'a démontré l'immortel Newton.

**D.** Comment appelez-vous le chemin que les planètes parcourent autour du soleil ?

**R.** On l'appelle *orbite*. La terre , par exemple , a pour orbite le grand cercle , appelé Ecliptique , qu'elle parcourt dans une année ou trois cent soixante-cinq jours et six heures.

**D.** Les cercles ou orbites que les planètes décrivent autour du soleil sont-ils également éloignés de cet astre ?

**R.** Non : les rayons de ces cercles , ou ellipses , sont en raison de leur éloignement du soleil. La terre , par exemple , a pour sa distance moyenne trente-quatre millions de lieues. Elle est bien plus près de cet astre qu'Olbers qui en est éloigné de six cent cinquante-neuf millions.

## LEÇON III.

*Satellites des Planètes. — Phases de la Lune. —  
Éclipses. — Rondeur de la Terre. — Comètes.*

**D.** QU'EST-CE que les satellites des planètes?

**R.** Comme les planètes ont le soleil pour centre de leur mouvement, et décrivent autour de lui des ellipses plus ou moins alongées, d'autres corps opaques ont pour centre de leur mouvement une planète, et ne tournent autour de cet astre, que parce qu'ils sont entraînés par cette planète. Ces corps sont des satellites.

**D.** Les planètes ont-elles toutes des satellites?

**R.** Non : il n'y en a que quatre, savoir : la Terre qui en a un, et c'est la Lune ; Jupiter qui en a quatre ; Saturne qui en a sept, avec un anneau lumineux ; et Uranus ou Herschell qui en a huit.

**D.** En combien de temps la lune fait-elle sa révolution autour de la terre ?

**R.** Cette révolution s'accomplit en vingt-sept jours, sept heures et quarante-trois secondes.

**D.** Quel est le diamètre de la lune et sa distance moyenne de la terre ?

**R.** Le diamètre de la lune est de huit cents lieues, et sa distance moyenne de quatre-vingt-six mille trois cent vingt-quatre lieues. Le cercle

qu'elle décrit autour de la terre étant une ellipse, le point où elle s'en trouve le plus rapprochée, s'appelle *périgée*, et celui de son plus grand éloignement *apogée*.

*D.* Qu'entend-on par les *phases* de la lune ?

*R.* Ces phases sont les formes différentes qu'elle offre à nos regards pendant les vingt-huit ou vingt-neuf jours de sa révolution. Comme elle reçoit sa lumière du soleil, elle doit, en tournant autour de la terre, être quelquefois entre elle et le soleil, une autre fois la terre se trouve au milieu ; d'où résultent quatre aspects différens par rapport à nous, qu'on appelle la *nouvelle lune*, le *premier quartier*, la *pleine lune* et le *dernier quartier*.

*D.* Quelle est la position de la lune par rapport à nous, quand elle est *nouvelle* ?

*R.* Nous n'apercevons pas alors cet astre, parce qu'il se trouve entre le soleil et la terre, et que sa partie éclairée est tournée vers le soleil. Ce n'est que quelques jours après, qu'au soleil couchant, on l'aperçoit sous la forme d'un croissant dont les pointes sont tournées vers l'Orient.

*D.* Qu'est-ce que le *premier quartier* de la lune ?

*R.* C'est l'aspect qu'elle nous présente après le septième jour. Alors le quart de son diamètre est éclairé ; cette partie est plus arrondie, et ses pointes regardent l'Orient.



*D.* Quelle est par rapport à nous la position de la *pleine lune* ?

*R.* La lune ayant parcouru la moitié de son orbite, et dépassé tout le diamètre de la terre, nous laisse alors apercevoir toute la moitié de son disque, éclairée par le soleil.

*D.* Quel aspect nous présente la lune dans son *dernier quartier* ?

*R.* En continuant d'avancer dans son orbite, la lune s'approche du soleil. Alors nous ne la voyons plus, vers le commencement du jour, que sous la forme d'un croissant dont la partie arrondie est éclairée du côté de l'Orient, et les pointes regardent le couchant.

*D.* Le soleil et la lune ne s'éclipsent-ils pas quelquefois ?

*R.* Oui : le soleil est éclipsé, lorsque la lune se trouve entre cet astre et la terre. Alors nous ne voyons qu'une partie plus ou moins grande de son disque. Les éclipses de soleil n'arrivent que dans la nouvelle lune. Les éclipses de lune ont lieu lorsque la terre, par son mouvement, se place entre elle et le soleil.

*D.* Vous avez dit que les planètes sont rondes, comment prouvez-vous que la terre a cette forme ?

*R.* On peut s'en convaincre lorsque, étant à l'extrémité d'une longue plaine, on jette les yeux au loin sur un clocher ou d'autres édifices. Alors la base de ces objets ne se montre point en

même temps que leur sommet : ce qui arriverait s'il n'existait aucune courbure entre eux et nos yeux. Autre exemple ; si au bord de la mer où rien ne limite la vue , si ce n'est l'horizon , on aperçoit un vaisseau à une grande distance , ce n'est d'abord que par l'extrémité de ses mâts et de sa voilure qu'on le découvre ; et ce n'est qu'en s'approchant de l'observateur qu'il se montre tout entier.

*D.* Donnez une autre preuve ?

*R.* Les premiers Navigateurs qui allèrent de l'Europe toujours à l'Occident , en ne se détournant que pour doubler les grandes terres avancées vers le sud , revinrent en suivant la même direction , vers le point d'où ils étaient partis : ce qu'ils n'auraient pu faire , si la terre n'était pas ronde.

*D.* Les montagnes , qui s'élèvent au-dessus de la surface de la terre , ne nuisent-elles pas à sa rondeur ?

*R.* Non : les plus hautes montagnes ne sont , à raison de la vaste étendue de notre globe , que comme des grains de sable répandus à sa surface. Par exemple , la montagne appelée Chimborazo , dans la chaîne des Andes , au Pérou , laquelle a vingt mille-cent-deux pieds d'élévation au-dessus du niveau de la mer , n'aurait que deux tiers de ligne sur un globe de trois pieds de diamètre.

*D.* Qu'est-ce que les Comètes ?

**R.** Les Comètes sont des corps opaques qui parcourent autour du soleil des cercles, ou ellipses, très - alongés; mais leur mouvement n'a rien de régulier. Quelquefois elles descendent avec la plus grande rapidité du point le plus éloigné de leur orbite, et nous surprennent par leur apparition subite avec une longue queue enflammée qu'elles traînent après elles.

---

#### LEÇON IV.

##### *Des Étoiles fixes.*

**D.** QU'ENTENDEZ-VOUS par les Étoiles fixes?

**R.** Ce sont des étoiles qui ne changent pas sensiblement de situation entre elles. Celles qui sont les plus près de nous, sont appelées étoiles de la première grandeur, parce qu'elles nous paraissent plus grandes. Il y en a de sept grandeurs, qui se dégradent en raison de leur éloignement.

**D.** Comment distingue-t-on ces étoiles des planètes?

**R.** Les étoiles fixes ont une lumière en vibration ou scintillante, que n'ont pas les planètes. Celles-ci sont plus brillantes, et ont une couleur particulière, qui les distingue les unes des autres. Vénus est très-brillante et surpasse en grandeur les plus belles étoiles, et forme une

ombre; Mars est rouge; Jupiter argentin; Saturne pâle et de couleur de plomb.

*D.* Quelle est la cause de la scintillation des étoiles ?

*R.* Cette scintillation vient de leur petitesse apparente, et d'une infinité de petits corps qui flottent dans l'atmosphère. Dès que ces corps passent entre nos yeux et l'étoile qu'ils fixent, elle se dérobe pour un instant en toute partie à notre vue.


*D.* Quel est le nombre des étoiles fixes ?

*R.* Ce nombre est infini. M. Delalande en compte cinquante mille. Les Astronomes, pour la commodité des observations, les divisent en groupes ou constellations. Les anciens en comptaient quarante-huit, auxquelles ils ont donné des noms d'animaux et d'autres objets. Les modernes en comptent jusqu'à cent qui prennent leurs noms des figures de la fable et de différens objets terrestres.

*D.* Connaît-on la distance de la terre aux étoiles fixes ?

*R.* Elle est si grande qu'il a été impossible de la calculer. On prétend seulement que Sirius, qui est la plus proche de nous, est quatre cent mille fois plus éloignée de la terre que celle-ci ne l'est du soleil; ce qui surpasse une distance de trente-cinq fois quatre cents milliards de lieues; nombre qui absorbe l'imagination.

*D.* La terre en parcourant son orbite et en



passant devant Sirius, ne doit-elle pas voir cette étoile plus grosse que lorsqu'elle en est éloignée ?

*R.* Le grand éloignement de cette étoile et des autres, fait qu'elles nous paraissent toujours de la même grosseur. Quand on considère que le diamètre de l'orbite de la terre, qui est de soixante-huit millions de lieues, quand il se trouve à une extrémité en face d'une étoile, ne la voit pas plus grosse qu'à l'extrémité opposée, qui est aussi de soixante-huit millions de lieues, on ne peut que s'étonner et admirer dans un religieux silence.

*D.* Que pensez-vous que sont les étoiles fixes ?

*R.* On pense que ces corps lumineux sont autant de soleils qui, comme le nôtre, sont le centre d'un nombre de corps opaques dont les révolutions s'exécutent autour d'eux, et qui forment autant de systèmes solaires.

*D.* Quelle cause maintient et fait mouvoir tous les corps célestes dans leurs orbites ?

*R.* Newton a découvert la loi générale de la nature, qui dirige tous leurs mouvemens. Cette loi consiste dans la gravité et l'attraction : c'est elle qui fait retomber sur la terre un corps qu'on a lancé dans l'air, qui retient la mer dans son lit, et tous les corps célestes à de justes distances les uns des autres, sans qu'ils puissent se confondre.

*D.* Quelle idée l'observateur doit-il se former en voyant le spectacle de l'univers ?

*R.* En contemplant, dans une belle nuit, ces milliards d'astres suspendus et tournant sans cesse dans l'immense voûte du ciel, il doit admirer la sagesse et la toute-puissance du Créateur dont les œuvres surpassent infiniment tout ce que notre esprit en peut concevoir.

## LEÇON V.

*Du Soleil. — Mouvement des Astres. — Pôles et Axe du Monde.*

*D.* QUELLE est la forme et le diamètre du soleil ?

*R.* Le soleil est un globe lumineux dont le diamètre est de trois cent dix-neuf mille trois cent quatorze lieues.

*D.* Cet astre n'a-t-il pas un mouvement sur lui-même ?

*R.* Oui : quoiqu'il nous paraisse immobile relativement à notre système planétaire, il a sur lui-même un mouvement qu'il exécute en vingt-cinq jours et onze heures.

*D.* Comment s'est-on convaincu qu'il a ce mouvement ?

*R.* On s'en est convaincu par le retour périodique et réglé des taches qu'on y aperçoit.

*D.* Les planètes ont-elles comme le soleil un mouvement sur elles-mêmes ?

*R.* Oui : en même temps que les planètes parcourent leurs orbites , elles se meuvent sur elles-mêmes. La terre , par exemple , exécute son mouvement de rotation en vingt-quatre heures. Ce mouvement produit le jour et la nuit , parce qu'elle présente tour à tour sa surface au soleil qui l'éclaire. La partie éclairée est appelée le jour , et celle qui est dans l'ombre , est appelée la nuit.

*D.* Vous avez dit que les étoiles fixes ne paraissent pas changer de place ; cependant si l'on en observe une en même temps qu'un objet intermédiaire , quelque temps après , on ne la trouve plus dans la direction où d'abord on l'avait observée ?

*R.* Ce changement de place ne vient point de l'étoile , mais de la terre lorsqu'elle exécute sa révolution , en passant successivement devant tous les astres. Ce mouvement de la terre est semblable à l'effet que produiraient sur nous des objets placés sur le bord d'un bassin circulaire dont nous ferions le tour dans un bateau. Ils nous paraîtraient tourner dans un sens opposé à celui du bateau.

*D.* Les étoiles paraissent-elles avoir toutes le même mouvement de vitesse , par rapport à la terre ?

*R.* Non : la ligne sur laquelle la terre exécute son mouvement annuel , étant un des grands cercles de la sphère , celles que les étoiles pa-

raissent décrire par rapport à elle , sont moins longues , selon la place qu'elles occupent dans la sphère. La terre parcourant en même temps, tous ces cercles parallèles , il arrive que les mouvemens apparens de ces étoiles sont plus sensibles sur les grands cercles que sur les petits ; et que dans le ciel , il y a un point qui paraît immobile.

*D.* Comment nommez-vous ce point ?

*R.* On le nomme pôle céleste ou pôle de la sphère.

*D.* Quelle étoile est la plus voisine de ce point ?

*R.* Cette étoile , qui décrit un petit cercle de quatre degrés seulement autour de ce point , est celle qu'on nomme *polaire* à cause de son voisinage du pôle. Elle est placée à l'extrémité de la queue de la constellation de la petite ourse.

*D.* Cette étoile est-elle bien utile aux navigateurs

*R.* Oui : comme elle est immobile , ils s'en servent , ainsi que ceux qui voyagent par terre , comme d'un guide qui les empêche de s'égarer.

*D.* Combien y a-t-il de pôles à la sphère ?

*R.* Il y en a deux , savoir celui qui est placé sur l'hémisphère supérieur , et qu'on nomme pôle arctique ; et celui qui appartient à l'hémisphère opposé et qu'on nomme pôle antarctique.



*D.* La terre a-t-elle aussi des pôles ?

*R.* Elle en a deux, savoir celui qui regarde le pôle céleste arctique, et qui se nomme pôle du nord, septentrional ou boréal ; et celui qui regarde le pôle antarctique, et qu'on nomme pôle du sud, méridional ou austral.

*D.* Qu'est-ce que l'axe de la terre ?

*R.* Cet axe est une ligne qu'on suppose passer par le centre de la terre et ses deux pôles, et qui étant prolongée indéfiniment passerait par ceux du Ciel.

## LEÇON VI.

### *Des Sphères et du Globe.*

*D.* N'A-T-ON pas imaginé des instrumens pour étudier le mouvement des corps célestes ?

*R.* Oui : on les nomme *Sphères artificielles*.

*D.* Combien compte-t-on de sphères artificielles ?

*R.* On en compte trois, qui sont la sphère de Copernic, la sphère armillaire et le globe terrestre.

*D.* Que représente la sphère de Copernic ?

*R.* Elle représente le soleil placé pour nous au centre de l'univers, et autour duquel les astres font leurs révolutions en plus ou moins de temps.

**D.** Comment peut-on démontrer le système de Copernic ?

**R.** Les sphères qui l'exposent, étant rares et n'étant pas toutes bonnes, on y peut suppléer de la manière suivante. On jettera une petite boule de bois, pour représenter une des planètes, la terre, par exemple, sur la surface de l'eau contenue dans un grand vase de forme circulaire. Si l'on suppose que le doigt, qui agitera cette eau, au centre de gauche, soit le soleil exécutant son mouvement propre, la petite boule, portée à l'extrémité de gauche, en en faisant le tour, considéré comme son orbite, représentera la terre exécutant son mouvement annuel autour de cet astre. On remarquera aussi que cette boule, en même temps qu'elle tournera sur elle-même, exécutera le mouvement diurne ou journalier de la terre; et la place du pôle sera indiquée par le point qu'on verra à sa surface. Si après avoir ôté le doigt lorsque l'eau est en mouvement, on le remplace par une petite bougie, on verra toutes les parties de cette boule se présenter successivement à la lumière, et montrer la succession des jours et des nuits.

**D.** Pour quel système a été faite la sphère armillaire ?

**R.** Elle a été faite pour expliquer le système de Ptolémée, d'après lequel la terre est placée au centre du monde, et le soleil, ainsi

que tous les astres , tournent autour d'elle en vingt-quatre heures.

## LEÇON VII.

### *Cercles de la Sphère. — Signes du Zodiaque.*

*D.* DE quels cercles la sphère est-elle composée?

*R.* La sphère est composée de six grands cercles et de quatre petits. Les grands sont ceux qui , ayant le même centre que la sphère, la coupent en deux parties égales. Les petits , n'ayant pas le même centre , la coupent en deux parties inégales.

*D.* Quels sont les six grands cercles de la sphère ?

*R.* Ces cercles sont l'Équateur , le Zodiaque , l'Horizon , le Méridien et les deux Colures.

*D.* Quels sont les petits cercles de la sphère ?

*R.* Ces cercles sont les deux Tropiques et les deux Cercles polaires.

*D.* Qu'est-ce que l'Équateur , ou ligne équinoxiale ?

*R.* C'est un cercle qui divise le ciel et la terre en deux parties , également éloignées des pôles. Ces deux parties se nomment , l'une Hémisphère septentrional , parce qu'il est placé du côté du pôle arctique ; l'autre Hémisphère méridional , parce qu'il est placé du côté du pôle antarctique.

*D.* Pourquoi le nomme t-on ligne équinoxiale ?

*R.* Parce que , dans le temps que le soleil y passe ou plutôt que la terre présente perpendiculairement son axe aux rayons de cet astre , les jours sont égaux aux nuits , dans les deux hémisphères : ce qui arrive deux fois l'année , vers le 21 mars et le 21 septembre , et ce qu'on appelle les équinoxes.

*D.* Qu'est-ce que le Zodiaque ?

*R.* C'est une large bande d'environ seize degrés , que l'on suppose tracée dans le ciel , et dans laquelle les planètes exécutent leur mouvement autour du soleil.

*D.* Quelle est la ligne qui partage le zodiaque en deux parties égales ?

*R.* C'est l'Ecliptique , cercle que décrit le centre de la terre dans l'espace d'une année , et que l'on nomme ainsi , parce que c'est sur cette ligne que se forment les éclipses solaires et lunaires.

*D.* En combien de parties divise-t-on le Zodiaque ?

*R.* On le divise en douze signes. Chacun de ces signes contient trente degrés. Ils répondaient jadis aux douze mois de l'année , lesquels , pris trois à trois , forment les quatre saisons , qui sont le printemps , l'été , l'automne et l'hiver.

*D.* Ces signes ont-ils des noms particuliers ?

*R.* Oui : renfermant chacun un certain nombre d'étoiles ou constellations , on leur a donné des noms qu'on a cru pouvoir exprimer une

certaine ressemblance de ce que ces noms signifient avec ces constellations. Ces noms sont le *Bélier*, le *Taureau*, les *Gémeaux*, le *Cancer* ou l'*Écrevisse*, le *Lion*, la *Vierge*, la *Balance*, le *Scorpion*, le *Sagittaire*, le *Capricorne*, le *Verseau* et les *Poissons*. Les six premiers sont septentrionaux, et les six autres méridionaux.

*D.* Vous avez dit que la terre, par sa révolution annuelle, parcourt régulièrement l'écliptique : elle doit donc se placer journellement en face des mêmes étoiles qu'elle a vues les années précédentes ?

*R.* La terre, en exécutant son mouvement annuel, croit voir le soleil parcourir les signes opposés à ceux qu'elle parcourt elle-même ; mais on a remarqué que le moment de l'équinoxe arrive, avant qu'elle ait atteint précisément le même point du zodiaque où elle se trouvait à l'équinoxe de l'année précédente ; que cette différence est de 50 secondes de degré, à peu près un degré en soixante-douze ans, et que chaque année, pour cette raison, le moment de l'équinoxe arrive 20 minutes 25 secondes de temps plutôt que la précédente. (1)

---

(1) On avertit, les personnes qui étudient la Géographie, qu'on marque de la manière suivante les degrés, minutes et secondes comprises dans une circonférence : *degrés*, 1°, 2°, 3°, etc. ; *minutes*, 1', 2', 3', etc. ; *secondes*, 1", 2", 3", etc. ; comme dans cet exemple : 50° 40' 25".

*D.* Comment nomme-t-on cette différence ?

*R.* On la nomme *Précession des équinoxes*.

## LEÇON VIII.

*Les Équinoxes. — Les Saisons. — Les Jours  
et les Nuits. — Les Solstices.*

*D.* QU'ENTENDEZ-VOUS par les Equinoxes ?

*R.* Les équinoxes sont les deux points où le soleil paraît couper l'équateur céleste deux fois l'année.

*D.* Par cette précession des équinoxes, dont vous avez parlé dans la leçon précédente, le soleil ne doit donc plus se trouver dans le premier degré du Bélier au printemps, ni dans le premier de la Balance en automne, au moment de l'équinoxe, comme les anciens l'ont remarqué.

*R.* En admettant la précession d'un degré en soixante et douze ans, le soleil, dans une succession de siècles, se sera éloigné de 30 degrés, et l'équinoxe du printemps n'aura lieu que lorsque cet astre se trouvera dans le signe *des Poissons*. Ainsi dans vingt-cinq mille sept-cent-quarante-huit ans, il aura parcouru en rétrogradant, à-peu-près toutes les divisions du Zodiaque.

*D.* C'est donc dans le signe *des Poissons*,

Géographie,  
rés, minutes  
degrés, 1°,  
2", 3", etc.;

que le soleil se trouve placé aujourd'hui à l'équinoxe du printemps.

*R.* Pour se conformer à un ancien usage, que long-temps on a regardé comme invariable, on continue d'indiquer l'équinoxe dans le premier degré du signe du *Bélier*, et les solstices dans ceux du *Cancer* et du *Capricorne*. En faisant abstraction des constellations, pour ne suivre que la division des signes, on dit que le soleil est entré dans le premier degré du *Bélier*, quand il est encore dans celui des *Poissons*.

*D.* Vous avez dit dans la leçon précédente que la terre parcourait toujours les signes opposés à ceux que parcourt le soleil: donnez-en un exemple.

*R.* Le soleil étant au centre du mouvement, lorsque la terre se trouve entre cet astre et un signe quelconque, elle le voit parcourir celui qui lui est diamétralement opposé: ainsi, qu'elle se trouve parcourir le signe du *Bélier*, le soleil lui paraîtra parcourir celui de la *Balance* qui lui est opposé.

*D.* Comment s'opèrent la vicissitude des saisons, l'inégalité des jours et des nuits?

*R.* Elles s'opèrent par le mouvement annuel de la terre, et par l'inclinaison de son axe sur l'écliptique, laquelle est de 66°. 30'. Deux fois l'année, les deux extrémités de l'axe terrestre, sont également éloignées du soleil: alors arrivent les équinoxes. Quand l'un des demi-axes s'avance

vers le soleil, et que l'autre s'en éloigne dans la même proportion, alors a lieu l'inégalité des jours et des nuits.

*D.* Quelle est la longueur des jours et des nuits aux deux équinoxes ?

*R.* A deux époques, l'axe de la terre, ainsi que je l'ai dit dans la leçon précédente, étant perpendiculaire au soleil, les rayons de cet astre tombent directement sur l'équateur, et éclairent la moitié du globe, d'un pôle à l'autre, pendant que la terre exécute autour de lui son mouvement journalier de rotation: d'où il résulte que tous les peuples, quelle que soit la place qu'ils occupent sur les deux hémisphères, voient en même-temps le lever et le coucher du soleil, et qu'ils ont douze heures de jour et douze heures de nuit.

*D.* Quels signes le soleil semble-t-il parcourir au printemps ?

*R.* Ces signes sont : le *Bélier*, le *Taureau* et les *Gémeaux*.

*D.* Vous venez de parler des équinoxes ; dites maintenant ce que vous entendez par les Solstices ?

*R.* Les Solstices sont deux points, l'un en-deçà, l'autre au-delà de l'équateur, ainsi nommés, parce que le soleil paraît s'arrêter lorsqu'il y est parvenu. Il y en a deux, le solstice d'été et le solstice d'hiver.

*D.* Quand et comment arrive le solstice d'été ?



*R.* Il arrive le 21 juin. La terre qui depuis l'équinoxe du printemps a parcouru 90 degrés dans le Zodiaque, se trouvant à cette époque sous le signe du *Capricorne*, elle aperçoit au coucher de cet astre le signe du *Cancer*.

*D.* Quels signes le soleil paraît-il parcourir pendant l'été ?

*R.* Ce sont les signes du *Cancer*, du *Lion* et de la *Vierge*; mais, pour parler avec plus de précision, ce sont les *Gémeaux*, le *Cancer* et le *Lion*.

*D.* Quand et comment arrive l'équinoxe d'automne ?

*R.* Il arrive le 21 septembre: alors l'axe de la terre reprenant sa position perpendiculaire, par rapport au soleil, qu'il avait au printemps, la terre qui se trouve entre cet astre et le signe du *Bélier*, ou à cause de la précession des équinoxes dans les *Poissons*, croit voir le soleil entrer dans le signe de la *Balance*, ou pour plus de précision dans le signe de la *Vierge*.

*D.* Quels signes le soleil paraît-il parcourir en automne ?

*R.* Ce sont ceux de la *Balance*, du *Scorpion* et du *Sagittaire*; mais, plus exactement ceux de la *Vierge*, de la *Balance* et du *Scorpion*.

*D.* En quel temps arrive le solstice d'hiver ?

*R.* Ce solstice arrive le 21 décembre; la terre se trouvant alors entre le soleil et le signe du *Cancer*, ou, à cause de la précession des équinoxes,

noxe dans la constellation des *Gémeaux*, elle croit apercevoir le soleil dans le *Sagittaire*. (Voyez le solstice d'été : ce qui en a été dit se rapporte à celui d'hiver.)

*D.* Quels signes le soleil paraît-il parcourir pendant l'hiver ?

*R.* Il semble parcourir dans cette saison les signes du *Capricorne*, du *Verseau* et des *Poissons* ; mais plus exactement ceux du *Sagittaire*, du *Capricorne* et du *Verseau*.

## LEÇON IX.

### *L'Horizon. — Points cardinaux.*

*D.* QU'EST-CE que l'Horizon ?

*R.* C'est un grand cercle, représenté par un plan circulaire que l'on suppose couper le ciel et la terre en deux parties égales ; l'une supérieure et l'autre inférieure.

*D.* Combien y a-t-il d'horizons ?

*R.* Il y en a deux : l'un sensible ou visible, et l'autre rationnel qui n'existe que dans l'entendement. Le premier est celui qui termine notre vue, lorsque d'un lieu élevé nous jetons les yeux autour de nous, et que nous voyons le ciel toucher, pour ainsi dire, la terre ou la mer. Le rationnel est un cercle qui est censé passer par le centre de la terre. C'est celui qui se trouve sur les globes.

**D.** Ces deux horizons n'ont-ils pas leurs axes et leurs pôles ?

**R.** Ils se ressemblent parfaitement et sont parallèles. On en suppose autant qu'il y a de points sur la surface du globe. L'un et l'autre sont censés traversés à leur centre par un axe dont les extrémités sont aussi nommées *pôles*. Le pôle supérieur qui est au dessus de nos têtes, se nomme *Zénith* ; et le pôle qui lui est opposé *Nadir*.

**D.** En combien de parties divise-t-on l'horizon ?

**R.** On le divise en quatre parties ou points cardinaux. Le point où le soleil paraît se lever, se nomme *Levant, Orient, Est* ; le point où il paraît se coucher, *Couchant, Occident, Ouest* ; celui où le soleil se trouve à midi, se nomme *Midi, Sud* ; et le point diamétralement opposé à ce dernier, *Nord* ou *Septentrion*.

**D.** Comment appelle-t-on les points de l'horizon où le soleil paraît se lever et se coucher à l'équinoxe du printemps ?

**R.** Le premier s'appelle l'*Orient vrai* et le second l'*Occident vrai*. De l'un à l'autre point, cet astre paraît décrire un cercle, et ce cercle est l'*Équateur*.

**D.** Sur quel point de l'horizon le soleil paraît-il se lever et se coucher au solstice d'été ?

**R.** Au solstice d'été, la terre n'aperçoit plus le soleil se lever sur l'horizon au même point où

elle le voyait se lever trois mois auparavant. Ce point qui est plus rapproché du nord, se nomme *Levant d'été*; celui où il paraît se coucher et qui est aussi plus près du nord, se nomme *Couchant d'été*. Cet astre paraît alors décrire un cercle, et ce cercle est le *Tropique du Cancer*.

*D.* Sur quel point de l'horizon le soleil paraît-il se lever au solstice d'hiver ?

*R.* Dans cette saison, où l'hémisphère septentrional se trouve en grande partie dans l'ombre, les rayons du soleil tombent dans l'hémisphère méridional à 23 degrés et demi de l'équateur : alors cet astre nous paraît se lever sur un point de l'horizon plus près du Midi : ce point se nomme *Orient d'hiver*. Il s'élève bien moins haut par rapport à nous, parcourt des cercles petits, et disparaît sous l'horizon dans un point aussi plus près du Sud : ce point se nomme le *Couchant d'hiver*.

*D.* Outre les points cardinaux, l'horizon n'a-t-il pas des points collatéraux ?

*R.* On appelle ainsi des points placés entre chacun des points cardinaux : on en distingue quatre le *Nord-Est*, le *Sud-Est*, le *Nord-Ouest* et le *Sud-Ouest*.

---

**LEÇON X.**

*Durée du jour et de la nuit. — Crépuscules.*

**D.** COMMENT peut-on avec un globe terrestre connaître la durée du jour et de la nuit ?

**R.** Au moment des équinoxes, on place les deux extrémités de l'axe du globe dans le plan de l'horizon. Par cette disposition on voit que toutes les lignes parallèles placées à d'égales distances des pôles, sont coupées en deux parties égales par ce grand cercle : on voit encore que les rayons du soleil, tombant perpendiculairement sur l'équateur qui est la plus grande de ces lignes, éclaireront la moitié du globe, tandis que l'autre moitié sera dans l'ombre, et que la terre exécutant son mouvement de rotation en vingt-quatre heures, la durée du jour sera conséquemment de douze heures, et celle de la nuit de douze heures également.

**D.** Comment doit-on disposer sur l'horizon l'axe du globe, pour connaître la durée des jours et des nuits sur les deux pôles de la terre ?

**R.** Si l'on change la disposition de la ligne équinoxiale de l'axe du globe, et qu'on l'élève à 23 degrés et demi au-dessus de l'horizon, on voit que le pôle arctique est entré, depuis l'équinoxe,

de ce nombre de degrés dans la partie éclairée par le soleil ; que le pôle antarctique est entré d'autant dans la partie de l'ombre ; qu'au moment où la terre arrive au solstice, depuis trois mois le premier voit le soleil et le second a cessé de le voir ; que le cercle qui est à 23 degrés et demi du pôle et à 66 degrés et demi de l'équateur, a vu le soleil pendant tout le temps de la rotation de vingt-quatre heures ; et, conséquemment, que le jour sur le cercle polaire sera aussi de vingt-quatre heures, espace de temps qui est la plus longue nuit sur le cercle polaire opposé.

*D.* Quelle est la longueur du jour et de la nuit aux solstices, depuis l'équateur jusqu'aux cercles polaires ?

*R.* Par la disposition de l'axe du globe au 23°. degré et demi au-dessus de l'horizon, on voit que les cercles parallèles à l'équateur sont coupés en parties inégales, par l'horizon, depuis l'équateur jusqu'au cercle polaire arctique ; que les parties éclairées sont les plus grandes, et que les plus petites sont dans l'ombre, tandis que, de l'équateur au cercle polaire antarctique, les parties les plus grandes sont dans l'ombre et les plus petites dans la lumière : d'où il résulte que, depuis le cercle polaire arctique où les jours sont de vingt-quatre heures, jusqu'à l'équateur où ils sont constamment de douze heures, il y a une différence de douze heures dans la durée du jour.

*D.* Expliquez ceci par un exemple ?

*R.* A Paris, où nous sommes presque sur le 49<sup>e</sup>. degré de latitude septentrionale, le cercle parallèle à l'équateur étant des deux tiers dans la partie éclairée et d'un tiers dans l'ombre, la durée du plus long jour est de seize heures et celle de la nuit de huit heures : encore la nuit n'est-elle pas entièrement obscure à cause des crépuscules. Sous le tropique du *Cancer* le plus grand jour est de treize heures et demie, et la nuit la plus courte de dix heures et demie.

*D.* Qu'entendez vous par les Crépuscules ?

*R.* On appelle ainsi la lumière qu'on voit le matin avant le lever du soleil, et celle qu'on voit le soir après le coucher de cet astre. Le premier crépuscule se montre lorsque le soleil est encore à 18 degrés au dessous de l'horizon : on l'appelle *Aurore* ou *Crépuscule du matin*. Le crépuscule du soir arrive au moment que le soleil vient de se coucher, et se termine lorsqu'il est abaissé de 18 degrés au-dessous de l'horizon.

*D.* La durée du crépuscule est-elle la même dans tous les temps et dans tous les lieux de la terre ?

*R.* Elle est plus longue dans l'été que dans l'hiver. En partant de l'équateur aux pôles, elle est de moins d'une heure et un quart. A Paris, elle est de quatre heures le matin et d'autant le soir. Enfin sur le pôle, elle est de deux mois avant le lever, et de deux mois après le coucher du soleil.

## LEÇON XI.

*Le Méridien. — Les Coulores, etc.*

**D.** QU'EST-CE que le Méridien ?

**R.** C'est un grand cercle qui , passant par les pôles du monde et par le Zénith , coupe le ciel et la terre en deux parties égales , dont l'une est à l'orient et l'autre à l'occident. Il y en a autant qu'on en peut concevoir sur le globe.

**D.** Pourquoi l'appelle-t-on méridien ?

**R.** Parce qu'il est midi pour tous les endroits de la terre , placés sous ce cercle , lorsque le soleil paraît y passer.

**D.** Qu'est-ce que les coulores ?

**R.** Ce sont deux grands cercles qui passent par les pôles du monde : l'un coupe l'équateur au point des équinoxes , et l'autre l'écliptique au point des solstices.

**D.** De quelle utilité est le méridien qu'on trouve placé sur les globes ?

**R.** Ce cercle , qui , avec l'horizon , coupe le globe en quatre parties égales , est divisé lui-même en autant de parties , chacune de 90 degrés , division qui marque la latitude des lieux placés sur la terre entre l'équateur et les pôles. On nomme ce cercle *premier méridien*.

**D.** Qu'est-ce que les Tropiques ?

**R.** Ce sont deux petits cercles parallèles à



l'équateur , et qui en sont éloignés , l'un au nord , et l'autre au sud , chacun de 23 degrés et demi. Celui qui est au sud et sur lequel le soleil paraît s'arrêter au solstice d'été, se nomme *Tropique du Cancer* ; celui qui est au nord et sur lequel le même astre paraît s'arrêter au solstice d'hiver , se nomme *Tropique du Capricorne*.

*D.* Qu'est-ce que les Cercles polaires ?

*R.* Ce sont deux petits cercles parallèles à l'équateur , et situés vers les pôles dont ils sont éloignés , chacun , de 23 degrés et demi. L'un se nomme le *Cercle polaire arctique* , et l'autre le *Cercle polaire antarctique*.

*D.* A quoi servent les Cercles parallèles à l'équateur , marqués sur les globes depuis ce cercle jusqu'aux pôles.

*R.* Ils servent à montrer les climats. Un climat est une étendue de pays renfermée entre deux parallèles , et dont les habitans ont des jours plus longs ou plus courts que leurs voisins.

*D.* Combien compte-t-on de climats ?

*R.* On en compte soixante , savoir de l'équateur à chacun des cercles polaires vingt-quatre qui diffèrent entre eux d'une demi-heure de jour. De chacun des cercles polaires aux pôles , on en compte six qui diffèrent entre eux d'un mois de jour : de manière que sous les pôles , le jour est de six mois.

*D.* Qu'est-ce que les Zônes et combien en comptez-vous ?

*R.* Les zones sont comme de larges ceintures qui divisent le globe en cinq parties. Ces cinq zones sont la *torride* qui est comprise entre les deux tropiques, et que l'équateur divise en deux parties égales; les deux *tempérées* comprises entre les tropiques et les cercles polaires, l'une au nord et l'autre au midi de la torride; les deux *glaciales*, situées entre les cercles polaires et les pôles.

---

## LEÇON XII.

*Globe artificiel. — Latitude et longitude. — Premier méridien.*

*D.* Pour faire l'application de tout ce qui vient d'être dit sur les cercles de la sphère; n'a-t-on pas besoin d'un globe artificiel?

*R.* Il est indispensable d'en avoir un bon sous les yeux, c'est-à-dire, qui soit construit de manière que tous les cercles correspondent parfaitement avec les objets qui y sont représentés.

*D.* Quels objets ce globe représente-t-il?

*R.* Ce globe, qui est une boule, plus ou moins grosse, en carton ou en cuivre, représente la terre, avec ses mers, ses continents, ses îles, ses montagnes, ses rivières, les villes, etc.

*D.* Comment peut-on s'assurer si un globe est exact ?

*R.* On peut s'en assurer, 1°. en vérifiant si les lignes des méridiens tracés sur la boule, sont franches; si les mots, qui se raccordent sur ces lignes, sont entiers; parce que dans le cas contraire, on aurait employé les ciseaux pour faire ajuster les fuseaux sur la boule; 2°. si, en plaçant l'axe au zénith, les divisions de l'équateur, répondent exactement aux divisions de l'écliptique, placées sur l'horizon; 3°. si le plan de l'équateur est bien dans celui de l'horizon, tout autour du globe; 4°. si le diamètre des axes est coupé par le plan du méridien; 5°. si les lignes de longitude tombent juste dans le plan du méridien, et si elles ne s'en écartent pas aux antipodes; 6°. si, en tournant le globe, les lignes de latitude, sont bien d'accord avec les divisions gravées sur le grand méridien; 7°. enfin si les cercles, qui doivent être très près de la boule, la laissent passer sans frottement.

*D.* Comment sont placés sur le globe artificiel les continens, les îles, les rivières, les villes? etc.

*R.* Ces objets y sont placés au moyen de l'intersection des lignes de longitude et de latitude.

*D.* Qu'entendez-vous par les lignes de latitude ?

*R.* Les lignes de latitude sont des cercles parallèles à l'équateur; ils commencent près de

ce cercle, et vont, en diminuant de diamètre jusqu'aux pôles avec lesquels ils se confondent. On les trace de dix en dix sur les petits globes, et de cinq en cinq sur les grands. Les chiffres de ces degrés sont marqués sur le plan du grand méridien.

*D.* Faites connaître les lignes de longitude ?

*R.* Ces Lignes sont des cercles qui se prolongent d'un pôle à l'autre, en coupant perpendiculairement l'équateur et les cercles qui lui sont parallèles. On les trace de dix en dix sur les petits globes et de cinq en cinq sur les grands. Ces degrés sont marqués en chiffres sur leurs points d'intersection avec l'équateur et ses parallèles.

*D.* Les astronomes ne se servent-ils pas d'autres dénominations pour indiquer la latitude et la longitude céleste ?

*R.* Ils appellent la latitude *déclinaison* : c'est la distance d'un astre à l'écliptique, comme en géographie, la latitude est la distance d'un lieu quelconque à l'équateur.

*D.* Comment se nomme la longitude en astronomie ?

*R.* Elle se nomme *ascension* : c'est la mesure d'un arc de l'écliptique, compris entre l'équinoxe du printemps ou premier degré du *Bélier* et le lieu auquel l'astre répond perpendiculairement ; comme en géographie, c'est la distance d'un lieu à un méridien pris pour premier méridien.

*D.* Comment se comptent les longitudes en partant de ce premier méridien ?

*R.* Elles se comptent en allant vers l'ouest ou vers l'est : si, par exemple, on part du méridien de Paris, on dit : Londres est à 2 degrés 25 minutes à l'ouest, Venise est à 10 degrés à l'est du méridien de Paris.

*D.* Quel est le premier méridien ?

*R.* Il a été dit, par une Ordonnance de Louis XIII, que l'on compterait les longitudes de l'ouest à l'est, en partant de l'île de fer, l'une des plus occidentales des Canaries, dans l'ordre des degrés marqués sur l'équateur du globe artificiel, depuis 0 jusqu'à 360 ; mais les Français, les Anglais et les Espagnols ont jugé plus à propos de compter les longitudes, à partir de leurs observatoires, en les divisant en orientale et occidentale.

*D.* Dans quel lieu ces peuples ont-ils placé leur observatoire ?

*R.* Les Français comptent les longitudes, à partir de l'observatoire de Paris ; les Anglais de leur observatoire de Green-Wich, à 2 deg. 20'. 15". à l'ouest, et les Espagnols partent de Cadix, à 8 d. 37'. 37". à l'ouest de Paris,

## LEÇON XIII.

*Suite de la précédente. — Du Globe terrestre.*

*D.* Comment connaît-on la longitude d'un lieu par rapport à un méridien, considéré comme le premier ?

*R.* La longitude d'un lieu étant le nombre de degrés dont il est éloigné à l'est ou à l'ouest du premier méridien, si l'on sait l'heure qu'il est dans ce lieu, lorsqu'il est midi au premier méridien, on en aura la longitude qui ne peut être de plus de 180 degrés.

*D.* Expliquez cette réponse ?

*R.* La circonférence du globe étant divisée en 360 d., et son mouvement de rotation s'exécutant en vingt-quatre heures, elle présente au soleil 15 deg. dans une heure ou 1 deg. par 4 minutes: ainsi, s'il est midi à Paris, quand il n'est que sept heures, cinquante minutes, à Philadelphie, ville des Etats-Unis d'Amérique, la différence de cinq heures, dix minutes, donnera 77°. 30'. pour la longitude entre ces deux villes.

*D.* Le globe de la terre est-il parfait ?

*R.* La terre est une sphère aplatie sur les pôles: son diamètre sur l'équateur est de  $\frac{1}{34}$ , ou à peu-près sept lieues plus grand que l'axe qui passe par les pôles. Comme cette différence

n'est que d'une ligne  $\frac{1}{4}$  sur la surface d'un globe de trois pieds de diamètre, elle y devient insensible.

*D.* Quel est le diamètre de la terre, et quelle en est la circonférence ?

*R.* Le diamètre de la terre est de 2,865 lieues communes de 25 au degré, ou de 2,283 toises. Sa circonférence est de 9,000 lieues, et sa surface en lieues carrées en comprend 25,772,900.

*D.* Combien y a-t-il de sortes de lieues ?

*R.* On en compte, en France, quatre sortes : la lieue dont nous venons de parler, la lieue marine de 20 au degré, la lieue moyenne de 22  $\frac{1}{2}$  au degré, et le myriamètre.

*D.* Qu'est-ce que le myriamètre ?

*R.* Le myriamètre est une mesure itinéraire qui comprend 5,132 toises.

*D.* Comment se divise-t-il ?

*R.* Il se divise en kilomètres et en mètres. Le kilomètre en est la dixième partie, et le mètre la dix millième. Celui-ci répond à 3 pieds 11 lignes et  $\frac{44}{100}$  du pied de roi.

*D.* Quel est le diamètre de la terre, et quelle en est la circonférence en myriamètres ?

*R.* Le diamètre est de 1,273  $\frac{1}{2}$  de myriamètres, et la circonférence de 4,000 myriamètres.

*D.* Le degré de latitude comprend-il partout le même nombre de lieues ou de myriamètres ?

*R.* Les cercles parallèles de latitude, étant également espacés entre l'équateur et les pôles,

la valeur des degrés est toujours de 25 lieues communes.

*D.* En est-il de même des degrés de longitude?

*R.* Si l'on jette les yeux sur le globe, on remarquera que sur l'équateur les degrés de latitude et de longitude sont égaux, c'est-à-dire, l'un et l'autre de 25 lieues; mais que ceux de longitude, en s'éloignant de ce cercle, se rapprochent les uns des autres, et vont se réunir au pôle, en formant le fuseau.

*D.* Quel est le décroissement des degrés de longitude, en allant de l'équateur au pôle, considéré de dix en dix sur les cercles de latitude?

*R.* Nous avons dit que sur l'équateur les degrés sont de 25 lieues: sur le 10°. de latitude, ils ne sont que de 24 l.  $\frac{1}{2}$ ; sur le 20°. de 23 l.  $\frac{1}{2}$ ; sur le 30°. de 21 l.  $\frac{1}{2}$ ; sur le 40°. de 19 l.; sur le 50°. de 16 l.  $\frac{1}{2}$ ; sur le 60°. de 12 l.  $\frac{1}{2}$ ; sur le 70°. de 8 l.  $\frac{1}{2}$ ; sur le 80°. de 4 l.  $\frac{1}{2}$ ; et sur le 90°. de 0 de lieues.

*D.* Comment peut-on connaître la distance de deux endroits qui seraient placés obliquement sur le globe?

*R.* On ouvre un compas sur le centre des deux positions, on porte cette ouverture sur l'équateur, et l'on compte les degrés qui y sont compris; s'il y en a douze à vingt-cinq lieues chacun, il y aura trois cents lieues entre ces deux endroits.



## LEÇON XIV.

*Notions Physiques.**De la Mappemonde, ou description générale  
du Globe terrestre.*

*D.* QU'EST-CE que la Mappemonde ?

*R.* C'est un planisphère, ou tableau du globe terrestre, qui diffère du globe en ce que tous les points sont représentés sur celui-ci, dans leur véritable position, et que la mappemonde n'offre, sur son plan, ainsi que les autres cartes géographiques très étendues, que la perspective plus ou moins exacte de tous ces points.

*D.* D'où vient cette différence ?

*R.* Cette différence est causée par la construction des cercles de latitude et de longitude, tracés sur le relief d'un globe qu'on réduirait en une surface plane. Que l'on trace ces lignes sur une demi-sphère de gomme élastique ; et qu'on étende cette demi-sphère sur une table, en se dilatant, ces lignes prendront à peu près la forme irrégulière qu'elles ont sur la mappemonde.

*D.* Que remarque-t-on sur la mappemonde ?

*R.* Nous y voyons représentés deux hémisphères, l'un oriental et l'autre occidental, coupés sur le 20°. degré à l'ouest et sur le 160°. à l'est du méridien de Paris.

*D.* Que représente l'hémisphère oriental ?

*R.* Il représente l'Europe, l'Asie, l'Afrique, autrement ce qu'on appelle l'ancien continent, les îles qui leur appartiennent, avec une partie des îles du grand Océan.

*D.* Que représente l'hémisphère occidental ?

*R.* Il représente l'Amérique, autrement le deuxième continent avec une partie des îles du grand Océan et de l'Océan atlantique.

*D.* Pourquoi place-t-on sur certaines mappemondes le deuxième continent à la droite du spectateur ?

*R.* C'est que l'hémisphère occidental est placé à la droite de celui qui tourne le dos au nord et regarde le sud.

*D.* La mappemonde ne représente-t-elle pas deux autres hémisphères ?

*R.* Elle représente encore l'hémisphère septentrional et l'hémisphère méridional, coupés par l'équateur.

*D.* Que renferment ces deux hémisphères ?

*R.* Le premier renferme l'Europe, la plus grande partie de l'Asie, plus de la moitié de l'Afrique, et presque les deux tiers de l'Amérique. Le second renferme la moindre partie de l'Afrique, les îles qui l'avoisinent, la Nouvelle-Hollande, un nombre considérable d'autres îles, et une partie de l'Amérique. De vastes mers en occupent la portion la plus considérable.

*D.* Vous avez parlé de l'ancien et du deuxième continent ; n'en existe-t-il pas un troisième ?

*R.* L'étendue de la Nouvelle-Hollande , île immense , placée au centre de groupes d'autres îles considérables , découvertes par les navigateurs modernes , ne permettant pas de la réunir avec ces îles à l'extrémité sud-est d'une carte d'Asie , a déterminé les géographes , à en faire le centre d'un troisième continent ou cinquième partie du globe terrestre.

---

## LEÇON XV.

*Suite de la précédente.*

---

### *Termes employés dans la Géographie.*

*D.* Vous avez remarqué dans la mappemonde des continens et leurs diverses configurations : qu'entendez-vous par un Continent ?

*R.* Un continent est une vaste étendue de terres dont la communication n'est interrompue par aucune mer ou par aucune partie de la mer. Il comprend aussi les îles qui l'avoisinent.

*D.* Comment nommez-vous une étendue de terre moins grande qu'un continent ?

*R.* Je la nomme partie de la terre ou région. L'Europe, l'Asie et l'Afrique, prises séparément, sont des parties de la terre. L'Amérique est un

continent et une partie de la terre , ainsi que la Nouvelle-Hollande.

*D.* Qu'est-ce qu'une Région et une Contrée ?

*R.* Une région est une portion considérable d'une partie de la terre. La contrée est plus petite.

*D.* Qu'est-ce qu'une Ile ?

*R.* C'est une portion de terre environnée d'eau ; et cette terre est le sommet d'une montagne dont la base est au fond de l'eau.

*D.* Qu'est-ce qu'une Presqu'île, ou Péninsule ?

*R.* C'est une portion de terre qui s'avance plus ou moins dans la mer , et qui tient au continent par un côté.

*D.* Qu'est-ce qu'un Archipel ?

*R.* C'est un nombre plus ou moins considérable d'îles , voisines les unes des autres.

*D.* Qu'est-ce qu'un Isthme ?

*R.* C'est une portion de terre , resserrée entre deux mers , et servant de communication à deux terres plus considérables.

*D.* Qu'est-ce qu'un Promontoire et un Cap ?

*R.* Un promontoire est une terre élevée qui s'avance dans la mer. Un cap est une montagne qui se trouve ordinairement à l'extrémité d'une péninsule ou de portions de terre plus ou moins avancées dans la mer.

*D.* Qu'est-ce que la Mer ?

*R.* C'est la masse des eaux salées qui envi-

ronnent ou qui séparent les continents , elle occupe les deux tiers du globe , et on la divise en mer extérieure et en mer intérieure.

*D.* Qu'est-ce qu'un Golfe , une Baie , une Anse ?

*R.* Un golfe est une portion de mer qui entre plus ou moins dans les terres. Une baie , en général , est plus petite qu'un golfe , et une anse plus petite qu'une baie.

*D.* Qu'est-ce qu'un Déroit , un Canal ?

*R.* Un déroit est une portion de mer , resserrée entre deux terres , et réunissant deux étendues de mer , plus considérables , comme le déroit de Gibraltar. Un canal est un petit déroit , comme le canal des Dardanelles , comme le canal de Languedoc qui joint l'Océan à la Méditerranée.

*R.* Qu'est-ce qu'un Lac ?

*R.* C'est une masse plus ou moins considérable d'eau , qui n'a point de communication avec la mer. Il y a des lacs si grands qu'on leur a donné le nom de mer , tels que la mer Caspienne , la mer d'Aral.

*D.* Qu'est-ce qu'un Fleuve ?

*R.* En général , on nomme *Fleuve* toute rivière qui , depuis sa source , parcourt une grande étendue de pays , et se rend à la mer , sans avoir changé de nom ; mais on n'est convenu de donner le nom de fleuve qu'aux rivières dont le nom est précédé de l'article *le* , comme

le Danube, le Rhône, etc. Les rivières, proprement dites, sont celles qui se jettent dans les fleuves.

*D.* Comment nomme-t-on l'endroit où un fleuve se jette dans la mer ?

*R.* On le nomme *Bouche* ou *Embouchure*. S'il se jette par plusieurs bras, on nomme proprement ces endroits *Bouches* : ainsi, l'on dit les bouches du Danube, les bouches du Rhône, etc.

*D.* Qu'est-ce qu'un Confluent ?

*R.* C'est la jonction de deux rivières.

## LEÇON XVI.

*Suite de la précédente.*

*D.* QU'EST-CE qu'une Montagne, une Colline, une Vallée, un Volcan ?

*R.* Une montagne est une éminence considérable au-dessus de la surface du globe : la colline est plus petite. Une vallée est l'enfoncement qui sépare deux montagnes. Un volcan est une montagne qui vomit des flammes et des matières embrasées : le mont Vésuve est un volcan.

*D.* Qu'est-ce qu'une chaîne de montagnes ?

*R.* C'est une suite de montagnes contiguës, ou qui ne sont séparées les unes des autres, que par des vallées d'une médiocre étendue.

*D.* Qu'est-ce que les Plateaux ?

*R.* Les plateaux sont les parties les plus éle-

vées des continents : c'est-là que prennent naissance toutes les chaînes de montagnes, qui courent dans différentes directions sur la surface du globe.

*D.* Combien comptez-vous de ces plateaux ?

*R.* Les plus considérables sont au nombre de cinq : savoir en Europe le massif des Alpes ; en Asie le plateau du Thibet ; en Afrique le mont Lupata ; dans l'Amérique septentrionale le *Sierra-Verde* ; et dans la méridionale le *Matto-grosso*.

*D.* Qu'est-ce que les Bassins ?

*R.* Ce sont les parties basses des continents, dans lesquelles coulent les fleuves et les rivières.

*D.* Ne distingue-t-on pas les grands et les petits bassins ?

*R.* Oui : les grands bassins renferment les eaux d'une grande étendue de mer et celles de toutes les rivières qui s'y rendent. Ils portent les noms de ces mers, et sont entourés de hautes montagnes. Les petits bassins ne renferment qu'un fleuve et les rivières qui s'y rendent. Ils prennent le nom du fleuve, et sont entourés de montagnes plus ou moins hautes.

*D.* Où les fleuves et rivières prennent-ils leurs sources ?

*R.* Ces sources sont dans les montagnes où elles sont entretenues par les pluies et par la fonte des neiges, ou dans des lacs.

*D.* Quelle est la composition des montagnes ?

*R.* Elles sont en général composées de rocs entremêlés de différentes couches de terre. C'est dans les cavernes qui s'y trouvent, que filtrent, par un grand nombre de sinuosités, les eaux qui proviennent des pluies et des neiges fondues.

---

## LEÇON XVII.

### *Des Mers et de leurs divisions.*

*D.* QUELLES sont les deux grandes mers qui baignent le globe terrestre, et comment les nommez-vous ?

*R.* Ces mers sont celles qui séparent l'ancien continent du deuxième. On les nomme le grand Océan et l'Océan atlantique. Le premier sépare l'Asie de l'Amérique, et le second l'Europe et l'Afrique de ce dernier continent.

*D.* Comment divise-t-on le grand Océan ?

*R.* On le divise en boréal, équinoxial et austral. Le boréal s'étend depuis le tropique du Cancer jusqu'au cercle polaire arctique ; l'équinoxial est entre les deux tropiques ; et l'austral s'étend depuis le tropique du Capricorne jusqu'au cercle polaire antarctique.

*D.* Comment divise-t-on l'Océan atlantique ?

*R.* On le divise de la même manière ; c'est à dire en boréal, équinoxial et austral.

*D.* Quelles côtes baigne le grand Océan boréal ?



*R.* Il baigne une partie des côtes orientales de l'Asie et de l'Afrique, et une partie de la côte occidentale de l'Amérique.

*D.* Quelles côtes baigne le grand Océan équinoxial ?

*R.* Il baigne les côtes et les îles de l'Asie, situées entre le tropique du Cancer et l'équateur ; plusieurs autres grandes îles et archipels qui appartiennent au troisième continent, et une grande partie de la Nouvelle-Hollande.

*D.* Quelles côtes sont baignées par le grand Océan austral ?

*R.* Ce sont celles de l'Afrique depuis le tropique du Capricorne jusqu'au cap des Aiguilles ; l'autre partie de la Nouvelle-Hollande, toutes les îles situées entre l'Afrique et la côte orientale de l'Amérique, depuis le tropique du Capricorne jusqu'au pôle antarctique.

*D.* Quelles côtes baigne l'Océan atlantique dans ses trois divisions ?

*R.* Il baigne les côtes occidentales de l'Europe ; toute la côte occidentale de l'Afrique, et toute la côte orientale de l'Amérique.

*D.* Qu'est-ce que l'Océan glacial ?

*R.* C'est une partie du grand Océan et de l'Océan atlantique. Sa situation entre les cercles polaires et les pôles ; a empêché jusqu'à ce jour les navigateurs et les géographes d'en connaître l'étendue.

*D.* Qu'est-ce que la mer des Indes ?

*R.* C'est une portion du grand Océan , comprise entre l'Afrique et la Nouvelle-Hollande : elle est ainsi nommée parce que c'est la route des navigateurs qui , après avoir doublé le Cap de Bonne-Espérance, s'avancent vers les Indes, et qu'elle baigne, par ses golfes, les côtes de cette grande région.

*D.* N'y a-t-il pas d'autres mers ?

*R.* Oui : il en est beaucoup d'autres qui portent différens noms ; mais toutes ces mers , telles que la mer du Nord , la mer Baltique , la mer Blanche , la Méditerranée , la mer Ionienne , la mer Adriatique , la mer de Marmara , la mer Noire , la mer Rouge et quelques autres , ne doivent être considérées que comme de grands golfes du grand Océan ou de l'Océan atlantique.

## LEÇON XVIII.

*De l'usage des Cartes géographiques , etc.*

*D.* A quoi servent les Cartes géographiques , différentes de la mappemonde dont vous avez fait la description ?

*R.* Elles servent à nous faire connaître les cinq parties de la terre , prises séparément ; la division des différens états , tels que les empires , les royaumes , les républiques.

*D.* Combien compte-t-on de sortes de cartes géographiques ?

*D.* On en compte quatre sortes : savoir les générales, les chorographiques, les topographiques et les hydrographiques.

*R.* Développez cette réponse ?

*D.* Les cartes générales représentent une partie de la terre, un empire, un royaume, comme la Russie, la France, l'Espagne. Les cartes chorographiques représentent une région, une province, un département. Les cartes topographiques ne représentent qu'un espace de terre peu considérable, comme la ville de Paris avec son territoire. Les cartes hydrographiques ne représentent que les mers avec les côtes qu'elles baignent.

*R.* Comment distingue-t-on les quatre points de l'horizon, ou cardinaux, sur les cartes géographiques ?

*D.* Sur les cartes générales chorographiques, les lignes de latitude, qui sont parallèles entre elles, se courbent régulièrement dans la plus grande largeur de la carte : c'est à l'extrémité de ces lignes, à droite, qu'est marqué l'orient ou l'est ; et à gauche, l'occident ou l'ouest. Au bas de la ligne, appelée méridien du milieu, qui coupe perpendiculairement les lignes de latitude, et partage la carte en deux parties égales, on marque le midi ou le sud ; à l'extrémité supérieure de la même ligne, est marqué le septentrion ou le nord.

*R.* Comment place-t-on les points cardinaux

ou collatéraux sur les cartes topographiques où ces lignes ne sont pas représentées ?

*R.* On oriente une carte topographique ou un plan , avec l'aiguille aimantée qui , lorsqu'elle est libre , se tient toujours dans la direction du nord et du sud. Quand , par ce moyen , on sera parvenu à déterminer la ligne du nord et du sud , celle qui lui sera perpendiculaire , représentera l'est et l'ouest. En subdivisant les intermédiaires entre ces lignes , on aura les points collatéraux.

*D.* Qu'entend-on par échelles ?

*R.* Les échelles sont deux lignes parallèles , placées au bas des cartes , et qui représentent la grandeur d'un ou de plusieurs degrés de latitude , dont chacun se divise en lieues plus ou moins grandes.

*D.* La mesure itinéraire de France est-elle la même dans tous les pays ?

*R.* En France , il faut 25 lieues pour un degré ; en Italie , le mille est de 60 au degré ; en Espagne , la grande lieue est de 15 au degré ; en Angleterre , le mille est de  $69\frac{1}{2}$  ; en Allemagne , il est de 15 ; en Suède , de  $10\frac{1}{2}$  ; en Russie , le werst de  $104\frac{1}{2}$  ; en Turquie , le barris de  $66\frac{1}{2}$  ; en Perse , le parasange est de  $22\frac{1}{2}$  ; en Chiae , le lis de 250 , etc. Ainsi les mesures itinéraires les plus longues sont celles de Suède , d'Allemagne et d'Espagne ; et les plus courtes celles de la Chine et de la Russie.

*D.* Comment peut-on connaître avec l'échelle, la distance d'un lieu à un autre ?

*R.* Si l'on veut, par exemple, avoir la distance, en ligne droite, de Paris à Châlons-sur-Marne, on place les pointes du compas sur le centre de la position de ces deux villes. En portant ensuite cette ouverture sur l'échelle, on voit que cette distance est de trente-trois lieues.

FIN DE L'INTRODUCTION.


c l'échelle,

oir la dis-  
âlons-sur-  
pas sur le  
. En por-  
helle, on  
ois lieues.



# DESCRIPTION

## DES CINQ PARTIES DE LA TERRE.



### PREMIÈRE PARTIE.

#### DE L'EUROPE.



#### LEÇON I<sup>re</sup>.

*Importance, limites, étendue, population, religions et Gouvernements de l'Europe.*

**D.** POURQUOI commence-t-on la description des cinq parties de la terre par celle de l'Europe ?

**R.** Parce que, si l'Europe est la plus petite de ces parties, sous le rapport de l'étendue, elle en est la plus considérable, sous le rapport de la civilisation dont elle est le centre.

**D.** Quelles sont les limites de l'Europe ?

**R.** Ces limites sont au nord l'Océan glacial; au sud le détroit de Gibraltar et la Méditerranée; à l'est les monts Ouraliens, le fleuve Oural, une partie de la mer Caspienne, le Kouban, la mer Noire, le canal de Constantinople, la mer

de Marmara et le détroit des Dardanelles ; à l'ouest l'Océan atlantique.

*D.* Quelle est l'étendue de l'Europe ?

*R.* Sa plus grande largeur, qui est du Cap-Nord en Laponie jusqu'au cap Matapan en Grèce, est de huit cent soixante et dix lieues ; et sa plus grande longueur qui est du cap Saint-Vincent au détroit de Waigatch est de douze cent trente-cinq lieues.

*D.* Quelle est la population de l'Europe ?

*R.* Il est impossible de la déterminer avec précision : mais on peut l'évaluer approximativement à 170 millions d'individus. La France, l'Angleterre, l'Allemagne, l'empire d'Autriche, l'Italie, l'Espagne, en sont les parties les plus peuplées.

*D.* Quelles sont les religions les plus répandues en Europe ?

*R.* Ces religions sont la catholique, la réformée, qui comprend le luthéranisme et le calvinisme ; la grecque schismatique et la mahométane. L'idolâtrie en est entièrement exclue.

*D.* Quels sont les gouvernemens de l'Europe ?

*R.* Ces gouvernemens sont ou des monarchies absolues, comme en Russie, en Autriche et en Danemark ; ou des monarchies représentatives, comme en France, en Angleterre et en Suède ; ou républicains, comme en Suisse.

## LEÇON II.

*Des Mers et des Rivières de l'Europe.*

*D.* COMMENT divise-t-on les mers de l'Europe?

*R.* On les divise en mers extérieures et en mers intérieures.

*D.* Quelles sont les mers extérieures ?

*R.* Ce sont celles qui limitent l'Europe, savoir l'Océan atlantique, la Méditerranée, l'Océan glacial, la mer de Marmara, la mer Noire et la mer Caspienne.

*D.* Quelles sont les mers intérieures de l'Europe ?

*R.* Ces mers sont la mer Blanche, grand golfe de l'Océan glacial; la Baltique, la mer du Nord, la mer d'Irlande, la mer Ionienne, la mer Adriatique, la mer de l'Archipel et la mer d'Azof, golfe de la mer Noire.

*D.* Comment sont distribués les fleuves et rivières de l'Europe ?

*R.* Ils sont distribués sur la surface de sept grands bassins qui s'inclinent soit dans l'Océan glacial, soit dans l'Océan atlantique, soit dans les mers intérieures.

*D.* Quels fleuves se jettent dans l'Océan glacial ?

*R.* Ces fleuves sont la Petchora, qui prend sa source aux monts Ouraliens; la Dwina du Nord,



formée de plusieurs petites rivières ; l'Onéga, rivière de Russie, comme les précédentes ; la Tana, qui est aussi une rivière de Russie.

*D.* Quels fleuves ou rivières ont leur embouchure dans la mer Baltique ?

*R.* Ces fleuves ou rivières sont la Tornéa en Laponie ; la Kémi *id.* ; la Néva, en Russie ; qui n'est proprement qu'un large canal de jonction du lac Ladoga avec le golfe de Finlande ; la Duna qui prend sa source aux monts Valday, dans le gouvernement russe de Twer ; le Niémen qui prend sa source dans le gouvernement de Minsk, et sépare la Russie de la Pologne ; la Prégel qui coule en Prusse ; la Vistule qui prend sa source dans la Silésie autrichienne, et se jette dans la Baltique entre Elbing et Dantzick, où elle forme un Delta, appelé *Nogat* ; l'Oder qui prend sa source en Moravie.

En Suède, plusieurs rivières se jettent dans la Baltique. L'Ostendals est celle dont le cours est le plus considérable, quoiqu'il ne soit que de soixante-quinze lieues.

*D.* Quelles rivières se jettent dans l'Océan atlantique ?

*R.* Ces rivières sont le Glommen, en Norwège ; l'Elbe, qui prend sa source aux monts Sudètes en Bohême, et dont l'embouchure est au nord-ouest de Gluchstad ; le Weser, formé de la jonction de la Werra et de la Fulde dans la Hesse méridionale, et dont l'embouchure est

au-dessous de la ville de Brémen ; l'Ems qui a sa source dans la principauté de la Lippe ; le Rhin qui prend sa source , au pied du mont Saint-Gothard , en Suisse : ce fleuve forme trois branches considérables , en entrant dans le royaume des Pays-Bas, savoir le Wahal , le Leck et l'Yssel. Un quatrième moins considérable , qui conserve le nom du fleuve , coule entre les deux dernières et va se perdre dans les sables près de Leyde. Le cours du Rhin est de deux cent cinq lieues.

---

### LEÇON III.

#### *Suite des Fleuves et Rivières de l'Europe.*

**D.** QUELS sont les autres fleuves ou rivières qui versent leurs eaux dans l'océan atlantique ?

**R.** Ce sont , la Meuse , qui prend sa source en France , dans le département de la Haute-Marne , et a son embouchure au-dessous de Rotterdam ;

L'Escaut , qui prend sa source , près de Saint-Quentin , dans le département de l'Aisne , et qui , après avoir formé plusieurs îles , au-dessous d'Anvers , termine son cours près de Flessingue ;

La Somme , qui prend sa source à peu de distance de celle de l'Escaut et dont le cours se termine dans la Manche ;

La Seine, qui naît près de Saint-Seine au lieu dit le Pas-d'âne, au département de la Côte-d'or, et qui termine, entre le Hâvre et Honfleur, son cours de 120 lieues;

La Loire, qui sort du mont Gerbier-le-Joux, dans le département de l'Ardèche, et se jette dans l'océan à Paimbœuf, après un cours de 190 lieues;

La Sèvre niortaise, qui prend sa source dans le département des Deux-Sèvres, au-dessus de Niort, et termine un cours peu considérable, vis-à-vis l'île de Ré;

La Charente, qui prend sa source dans le département de la Vienne, et dont le cours se termine à Rochefort;

La Garonne, qui sort des Pyrénées espagnoles, et qui, après avoir pris le nom de *Gironda*, termine, au-dessous du Bec d'Ambez où elle reçoit la Dordogne, un cours de 110 lieues.

*D.* Quels sont les autres principaux fleuves de l'Europe qui versent leurs eaux dans l'océan atlantique ?

*R.* Ces fleuves sont en Espagne, le Minho, qui prend sa source dans la Galice, et dont le cours de 165 lieues, se termine au-dessous de Tuy;

Le Douro, qui prend sa source sur les frontières de l'Aragon et de la Vieille-Castille, et termine au-dessous de Porto, en Portugal, un cours de 150 lieues;

Le Tage, qui sort des montagnes qui séparent l'Aragon de la Nouvelle - Castille, et dont le cours de 170 lieues prend fin au-dessous de Lisbonne en Portugal ;

La Guadiana, qui prend sa source dans la Nouvelle-Castille, et termine son cours de 165 lieues, à Tavira en Portugal ;

Le Guadalquivir, qui prend sa source dans le royaume de Murcie, et se jette dans l'océan à Saint Lucar-de-Baraméda, après un cours de 105 lieues.

*D.* Quels sont les principaux fleuves de l'Angleterre qui ont leur embouchure dans l'océan atlantique ?

*R.* Ces fleuves sont la Tamise, qui prend sa source dans le comté de Gloucester, et dont le cours de 45 lieues se termine à Sherness, au-dessous de Gravesend ;

La Severn, qui prend sa source dans les montagnes de la principauté de Galles, et qui termine un cours peu considérable, près de Bristol ;

Le Shannon, en Irlande, qui prend sa source dans un marais du comté de Leitrim.

*D.* Quels sont les principaux fleuves de l'Europe qui versent leurs eaux dans la Méditerranée ?

*R.* Ce sont, en France, le Rhône, qui prend sa source au mont Forca, en Suisse, et qui termine au dessous d'Arles, son cours de 160 lieues ;

En Espagne , l'Ebre , qui sort des Asturies et dont le cours de 95 lieues finit au - dessous de Tortose ; La Ségura et le Xucar ;

En Italie , l'Arno , qui prend sa source dans les Apenins , et se jette dans la mer au - dessus de Livourne ; le Tibre , qui sort des Apennins et qui , après un cours de 70 lieues se jette dans la mer à Ostie.

*D.* Quels fleuves ont leur embouchure dans la mer Adriatique ?

*R.* Ce sont le Pô , en Italie , qui prend naissance près du mont Viso dans le Piémont , et termine son cours de 125 lieues , près du lac de Commacchio ;

L'Adige , qui sort des montagnes du Tyrol , et termine son cours à peu de distance au nord de l'embouchure du Pô ;

La Piave , qui prend sa source aux montagnes du Tyrol.

#### LEÇON IV.

*Suite des deux précédentes.*

*D.* QUELLES sont les Fleuves de la Turquie d'Europe qui se jettent dans la mer Méditerranée ou dans la mer Adriatique ?

*R.* Les fleuves qui se jettent dans la Méditerranée , sont le Verdar , qui prend sa source sur les frontières de Servie , et qui , après un cours

de 60 lieues , se jette dans l'Archipel ; le Maritza , autrefois *Hebrus* , qui prend sa source dans le mont Balkan ou Hémus , et qui termine dans la mer de l'Archipel ou Egée , au golfe de Saros un cours de 100 lieues ; le Drin , qui prend sa source sur les frontières de la Macédoine et se jette dans la mer Adriatique.

*D.* Quels sont les principaux fleuves de l'Europe qui ont leur embouchure dans la mer Noire ?

*R.* Ce sont le Danube , qui prend sa source à Doneschingen , dans la forêt noire en Allemagne , et qui termine au-dessous d'Ismaïl , un cours de 560 lieues , par plusieurs embouchures ;

Le Niester , qui sort des monts Crapacks , et termine entre Akerman et Odessa un cours de 200 lieues ;

Le Niéper ou Borysthène , qui prend sa source dans le gouvernement russe de Smolensk , et se perd dans la mer , au-dessous de Kerson , après un cours de 420 lieues.

*D.* Quelles rivières ont leur embouchure dans la mer d'Azof et dans le détroit qui sépare cette mer de la mer Noire ?

*R.* Ce sont le Don , qui prend sa source en Russie , au-dessus de Toula , et verse ses eaux dans la mer d'Azof , après un cours de 330 lieues ;

Le Kouban , qui prend sa source au mont

Caucase, et se jette dans le détroit de Taman, entre la mer Noire et celle d'Azof, après un cours de 70 lieues.

*D.* Quels sont les fleuves de l'Europe qui se jettent dans la partie européenne de la mer Caspienne ?

*R.* Ces fleuves sont le Volga, qui prend sa source dans les monts Valdâis (1), dans le gouvernement de Smolensk en Russie, et dont le cours de 850 lieues, se termine près de la ville d'Astracan ;

Le Téreck, qui sort du mont Caucase, et achève au-dessous de Kilia un cours de 120 lieues ;

L'Oural, qui prend sa source dans les monts Ouraliens, et termine près de Gourieff, un cours de 400 lieues. C'est le fleuve qui de ce côté sépare l'Europe de l'Asie.

## LEÇON V.

### *Principaux Lacs de l'Europe.*

*D.* Où sont situés les principaux lacs de l'Europe ?

*R.* Ces lacs sont situés en Suède, en Russie, en Suisse, en Autriche, en Hongrie, en Italie et en Turquie.

(1) Les monts Valdâis n'étant que des collines ou des terrains élevés, n'ont pu être figurés sur la Carte.

*D.* Quels sont ceux de la Suède ?

*R.* Ce sont les lacs d'Enara en Laponie ; Wéner, Wétern et Méler , dans le midi de la Suède.

*D.* Quels sont les principaux lacs de la Russie ?

*R.* Ce sont les lacs Imandra , Kajana , Piélis , Onéga , Biélo ou lac Blanc , Ladoga , Ilmen , Peypus , etc.

*D.* Quels sont les principaux lacs de la Suisse ?

*R.* Ce sont les lacs de Constance et de Zurich , au nord ; de Lucerne , de Neuf-Châtel , de Bienne , de Thun , au centre ; et celui de Genève ou le Léman au Sud.

*D.* Quels sont les principaux lacs de l'Autriche et de la Hongrie ?

*R.* Ce sont les lacs de Chiem , d'Alter , de Traun , en Autriche ; de Neustadt et de Balaton en Hongrie : ce dernier a environ 20 lieues de longueur sur 3 de largeur , sa direction est nord est.

*D.* Quels sont les principaux lacs d'Italie ?

*R.* Ce sont les lacs Majeur , de Lugano , Cômô , de Garda dans le nord ; de Pérouse , de Bolséna et de Célano dans le midi.

*D.* Quels sont les lacs de la Turquie d'Europe ?

*R.* Ce sont ceux de Zante ou Scutari et de Livadie.



## LEÇON VI.

*Principaux Golfes de l'Europe.*

*D.* NOMMEZ les principaux golfes de l'Europe?

*R.* Ces golfes sont ceux de Téchenskaïa de Bothnie, de Finlande, de Livonie, de Skagen-Rack, du Cattégat, de France ou de Gascogne, de Gênes, de Naples, de Policastro, de Tarente, de Trieste, de Cattaro, de Manfredonia, de Lépante, de Coron, de Napoli, d'Athènes, de Salonique, de Contessa, de Paros, de Larta et de Borgas.

*D.* Quelle est la situation des golfes de Téchenskaïa, de Bothnie, de Finlande et de Livonie?

*R.* Le premier est au nord de la Russie, dans la mer Glaciale, par les 64°. à 67°. deg. 30' de latitude boréale; le deuxième, dans la mer Baltique, entre la Suède et la Finlande, entre les 60°. et 66°. deg. de latitude boréale; le troisième est aussi dans la mer Baltique, entre les 59°. et 60°. deg. de la même latitude; et le quatrième est situé dans la même mer, entre les 57°. et 59°. d. de la même latitude.

*D.* Quelle est la situation des golfes de Skagen-Rack et du Cattégat?

*R.* Ces deux golfes sont situés entre le Danemark et la Suède.

*D.* Quelle est la situation des golfes de Gascogne et de Gênes?

*R.* Le premier est situé dans l'Océan atlantique, entre la France et l'Espagne; le deuxième entre la France et l'Italie.

*D.* Donnez les mêmes détails sur les golfes de Naples, de Policastro et de Tarente?

*R.* Le premier et le deuxième sont situés sur les côtes S. O. de l'Italie, au royaume de Naples; le troisième est sur la côte S. E. de l'Italie et du royaume de Naples, dans la mer Ionienne.

*D.* Où sont situés les golfes de Manfrédonia, de Trieste et de Cattaro?

*R.* Celui de Manfrédonia est à la côte orientale du royaume de Naples, dans la même mer; celui de Trieste à l'extrémité septentrionale de la mer Adriatique; et celui de Cattaro, qu'on nomme aussi les *Bouches du Cattaro*, est situé sur la côte E. de la même mer.

*D.* Que savez-vous touchant les golfes de Lépante, de Coron et de Napoli?

*R.* Celui de Lépante, fameux par une grande victoire navale que don Juan d'Autriche remporta sur les Turcs vers les dernières années du seizième siècle, est situé au N. de la Morée, sur les côtes de la Livadie, dans la mer Ionienne; celui d'Artha dans la même mer, celui de Coron à la côte O. de la Morée, dans la Méditerranée; et celui de Napoli sur la côte E. de la même province.

D. Quelle est la situation des autres golfes que vous avez nommés ?

R. Le golfe d'Athènes est à la côte E. de la Morée et se prolonge jusqu'à l'isthme de Corinthe ; celui de Salonique est à la côte de la Romélie, dans l'Archipel ; celui de Contessa, sur la même côte et dans la même mer ; il faut dire la même chose de Paros ; le golfe de Borgas est dans la mer Noire, sur la côte E. de la Romélie.

---

## LEÇON VII.

### *Principaux Détroits de l'Europe.*

D. Quels sont les principaux Détroits de l'Europe ?

R. Ce sont ceux de Vaigatch, du Sund, des grand et petit Belt, du Pas-de-Calais, le canal de Saint-George, les détroits de Gibraltar et de Messine, les drétoits de Corse et d'Otrante ; le détroits des Dardanelles, de Constantinople, et de Zabache ou d'Inicalé.

D. Quelle est la situation des détroits de Vaigatch, du Sund, du grand et du petit Belt ?

R. Le premier est situé au sud de la Nouvelle-Zemble, par le 72°. deg. de latitude N. et le

56°. de longitude E. ; le second est entre la Suède et le Danemarck ; le grand Belt entre les îles Danoises de Séelande et de Fionie , et le petit Belt entre cette dernière île et le Jutland.

*R.* Où sont situés les détroits du Pas-de-Calais et le canal de Saint-George ?

*R.* Le Pas-de-Calais sépare l'Angleterre de la France ; le canal de Saint George sépare l'Angleterre de l'Irlande.

*D.* Où sont situés les détroits de Gibraltar et de Messine ?

*R.* Le premier sépare l'Europe de l'Afrique par le 36°. de latitude N. et le 8°. de longitude O. ; le second sépare le continent d'Italie de la Sicile ; on le nomme aussi le *Phare de Messine*.

*D.* Que dites-vous du canal de Corse et de celui d'Otrante ?

*R.* Le premier , qu'on nomme aussi le détroit de Bonifacio , est entre la Corse et la Sardaigne ; l'autre , qui est à l'entrée de la mer Adriatique , sépare l'Italie de la Grèce.

*D.* Où sont situés les détroits des Dardanelles , de Constantinople et de Zabache.

*R.* Le premier et le deuxième séparent l'Asie de l'Europe ; l'un joint la mer de l'Archipel à celle de Marmara ; l'autre cette dernière mer à la mer Noire. Le détroit de Zabache ou d'Inicalé , joint la mer Noire à celle d'Azov.

---

**LEÇON VIII.***Des principaux Caps de l'Europe.*

*D.* Quels sont les principaux caps de l'Europe ?

*R.* Ce sont le cap Nord, les caps Lindeness, Skagen, Swiatoï, Canin-nos, Wralh, Cornwall, Lézard, Land-end, Clare, la Hogue, Ortégal, Finistère, Palos, de Gattes, Creux, Saint-Vincent, Trafalgar.

*D.* Avant de nommer d'autres caps, dites la situation de ceux-ci ?

*R.* Le cap Nord est situé dans l'île de Margeroë, au nord de la Laponie ci-devant Danoise, dans l'Océan glacial ; le cap Lindeness est situé au sud de la Norwège, dans la mer du nord ; le cap Skagen, est dans la mer du nord, à l'extrémité septentrionale du Jutland, en Danemark ; les caps Swiatoï et Canin-Nos, sont situés en Russie sur l'Océan glacial, et sur les deux rivages opposés de la mer Blanche, entre les 65°. et 70°. de latitude N., et les 40°. et 42°. de longitude O. ; le cap Wrahl est situé à l'extrémité N.-G. de l'Ecosse ; les caps Cornwall, Lézard et Land-end, sont situés à

l'extrémité méridionale de l'Angleterre ; le cap Clare est situé à la côte S. de l'Irlande.

*D.* Quelle est la situation des caps la Hogue, Ortégal et Finistère ?

*R.* Le premier est situé sur la côte septentrionale de France vers le 50°. de latitude N. et le 4°. de longitude O. ; les deux autres sont situés en Espagne par les 42°. et 44°. de latitude N. et les 10°. à 12°. de longitude O.

*D.* Quelle est la situation des caps Palos, de Gattes et Creux ?

*R.* Le premier est situé, en Espagne, dans la province de Murcie, et sur la Méditerranée, par le 39°. de latitude N. et le 2°. de longitude O. ; le second est aussi en Espagne, province de Grenade, sur la Méditerranée. Le cap Creux est sur les côtés de la Catalogne.

*D.* Quelle est la situation des caps Saint-Vincent et Trafalgar ?

*R.* Ces caps, devenus célèbres par deux grandes batailles navales entre les Français et les Anglais, sont situés sur l'Océan atlantique ; le premier à la pointe occidentale de la province portugaise d'Algarve, par le 37°. de latitude N., et par le 11°. au 12°. de longitude O. ; le second est sur la côte de la province espagnole d'Andalousie, près du détroit de Gibraltar, par le 36°. de latitude N. et le 8°. de longitude O.

*D.* Continuez l'énumération des autres caps de l'Europe ?

*R.* Ces autres caps sont les caps Corse, Teulada, Libaro, Pessaro, Spartivento, Leuca, Matapan, Malio, Colonne, Spada, Sidéra, Salmon.

*D.* Quelle en est la situation ?

*R.* Le cap Corse est situé à l'extrémité septentrionale de l'île de ce nom, sur la Méditerranée.

Les caps Teulada et Libaro sont situés, le premier au nord et le second au sud de l'île de Sardaigne, sur la Méditerranée.

Les caps Passaro, Spartivento et Leuca sont situés, le premier au sud de la Sicile ; les deux autres au sud de l'Italie : savoir, Spartivento à la pointe la plus méridionale, et l'autre à l'extrémité de la terre d'Otrante et à l'entrée du golfe adriatique. Les caps Matapan, Malio et Colonne sont situés, le premier au sud de la Morée ; le deuxième dans l'Archipel à l'est de Matapan, et celui de Colonne sur les côtes du Pachalik de Négrepont.

*D.* Que dites-vous des caps Spada, Sidéra et Salmon ?

*R.* Ils sont situés dans l'île de Candie, sur la Méditerranée ; le premier à la côte la plus septentrionale de cette île, et les deux autres à la côte orientale.

*D.* Quels sont les deux caps de l'Europe les

plus avancés dans la mer , l'un au nord et l'autre au sud ?

*R.* Ce sont les caps Nord et Matapan , situés presque à l'opposite l'un de l'autre.

## LEÇON IX.

### *Des grandes Chaînes de Montagnes de l'Europe , etc.*

*D.* QUELLES sont les plus grandes chaînes de montagnes , situées en Europe ?

*R.* Ces grandes chaînes sont les monts Ouraliens , les Alpes , les Pyrénées , les monts Krapaks , et les monts Dophrine en Norwège.

*D.* Outre ces chaînes de montagnes , n'y en a-t-il pas de moins considérables ?

*R.* Oui : dans les Iles britanniques les monts Cheviots ; en France , les Vosges et les Cévennes ; le mont Jura entre la France et la Suisse ; les Asturies , les Estramadures et la Sierra-Moréna en Espagne ; etc.

*D.* Où sont situés les monts Ouraliens ?

*R.* Ils sont situés entre la Russie d'Europe et l'Asie , qu'ils séparent , en quelque sorte , l'une de l'autre. Cette chaîne commence à l'Océan glacial , vers le 66°. de latitude N. et s'étend jusqu'au 52°. de cette même latitude , entre les 54°. et 56°. de longitude E.



*D.* Quelle est la situation des Alpes ?

*R.* Une partie de cette grande chaîne sépare la France de l'Italie par le 44°. de latitude N. et le 5°. de longitude E.

*D.* Quelle est la situation des Pyrénées ?

*R.* Cette chaîne de montagnes est entre la France et l'Espagne, et s'étend de l'Océan à la Méditerranée sous les 42°. et 43°. de latitude N. ; entre le 1<sup>er</sup>. deg. de long. E. et le 5°. de long. E.

*D.* Où sont situés les monts Krapacks ?

*R.* Cette chaîne, qui forme la ligne de séparation de la Gallicie occidentale et de la Moldavie avec la Hongrie et la Transylvanie, s'étend entre les 46°. et 50°. de latitude N. et les 17°. et 24°. de longitude E.

*D.* Quelle est la situation des monts Norwégiens ?

*R.* Ils séparent la Suède de la Norvège, par les 60°. et 70°. de latitude N., et les 5°. et 20°. de longitude E.

*D.* De ces grandes chaînes de montagnes ne se détache-t-il pas des rameaux plus ou moins considérables ?

*R.* Oui : nous en avons indiqué plus haut quelques-uns qui forment à leur tour des chaînes moins étendues, à l'exception des monts Cheviots qui séparent l'Angleterre de l'Ecosse.

*D.* Quelles sont les montagnes de l'Europe les plus élevées ?

*R.* Ces montagnes sont le mont Blanc, en Savoie, dont l'élévation au-dessus de la mer est de ..... 14,676 pieds.

Le mont Rosa, partie des Alpes.... 13,428 p.

Le mont Etna, en Sicile..... 10,630 p.

Le mont Perdu, dans les Pyrénées.. 9,578 p.

Le Diablerets, en Suisse..... 9,598 p.

Le mont Viso, en Piémont..... 9,387 p.

Le mont Torflou, en Carniole.... 9,294 p.

Le pic du midi, dans les Pyrénées.. 9,032 p.

Le mont Saint-Bernard, partie des Alpes..... 8,587 p.

Le mont Canigou, dans les Pyrénées. 8,547 p.

*D.* Quels sont les volcans de l'Europe ?

*R.* Ces volcans sont le mont Hécla en Islande, le mont Vésuve, dans le royaume de Naples : et le mont Etna, en Sicile.

## LEÇON X.

### *Grandes divisions de l'Europe.*

*D.* QUELES sont les grandes divisions de l'Europe ?

*R.* Ces divisions sont les empires d'Autriche, de Russie et Ottoman ; les royaumes de France, d'Espagne et de Portugal ; la Confédération germanique, l'Italie, les royaumes - unis de la

Grande-Bretagne, ceux de Prusse, de Suède, de Danemarck, des Pays-Bas, de Pologne, et la confédération Suisse. ( Voyez la carte de l'Europe. )

### EMPIRE D'AUTRICHE.

( Voyez la Carte de l'Europe centrale. )

*D.* De quels états se compose l'empire d'Autriche ?

*R.* Il se compose du royaume de Bohême avec la Moravie et la Silésie autrichienne ; de la Gallicie avec la Bukowine, du royaume de Hongrie avec la Transylvanie et l'Esclavonie, du royaume Lombardo-Vénitien avec le Tyrol et le Woralberg, du royaume d'Illyrie qui comprend la Croatie, la Carniole, la Carinthie, l'Istrie et la Dalmatie ; enfin de l'archiduché d'Autriche avec Saltzbourg et le duché de Styrie.

*D.* L'empire d'Autriche est-il ancien ?

*R.* Les états de la maison d'Autriche n'ont reçu ce titre que depuis le commencement de ce siècle, et lorsque le titre d'empereur d'Allemagne, que portait le chef de cette maison, resta sans prérogatives par la dissolution de l'ancienne confédération germanique.

#### *Royaume de Bohême.*

*D.* Quelle est la situation du royaume de Bohême et quelles en sont les limites ?

*R.* Ce royaume est situé entre les 49°. et 51°.

de latitude N. Il est borné au nord-ouest par la Saxe , au nord - est par la Silésie , au sud-ouest par la Bavière , au sud-est par la Moravie , et au sud par l'archiduché d'Autriche.

*D.* Quelles en sont les principales rivières ?

*R.* Ces rivières sont l'Elbe qui prend sa source au nord , au mont Sudètes dans ce royaume ; l'Éger , la Béraun et la Moldau.

*D.* Quelles sont les principales villes de la Bohême ?

*R.* Ces villes sont Prague , capitale et place forte sur la Moldau ; Leutméritz sur l'Elbe , Saatz sur l'Eger ; Rakonitz , Béraun , Elnbogen sur l'Eger ; Jung-Buntzlau , Neu-Bidschaw , Kœnigengratz sur l'Elbe ; Chrudim , Kaurzim , Czaslau , Tabor , Pilsen sur la Radouze , Klattau , Pilsek , Budweis , ces deux dernières sur la Moldau ; Egra , place forte à la frontière de l'ouest , et Carlsbad sur l'Eger.

### *La Moravie.*

*D.* Quelle est la situation de la Moravie et quelles en sont les limites ?

*R.* Cette province qui porté le titre de marquisat , est située entre les 49°. et 50°. de latitude N. Elle est bornée au sud-ouest par la Bohême , au nord par la Silésie autrichienne , au sud-est par la Hongrie , et au sud par l'archiduché d'Autriche.

*D.* Quelles en sont les principales rivières ?

*R.* Ces rivières sont la Marsch , l'Iglauwa , la Schwartz , l'Arch et la Taya.

*D.* Quelles sont les principales villes de la Moravie ?

*R.* Ces villes sont Brunn , capitale sur la Schwartz ; Olmutz , ancienne capitale , sur la Marsch ; Iglau sur l'Iglauwa ; Znaïm sur la Taya , et Hradisch sur la Marsch.

*D.* Comment nommez-vous le lieu , auprès duquel les Français remportèrent une grande victoire sur les armées autrichienne et russe , en décembre 1805 ?

*R.* Il se nomme Austerlitz.

#### *La Silésie autrichienne.*

*D.* Quelle est la situation et quelles sont les bornes de cette Silésie ?

*R.* Elle est située sur le 50°. de latitude N. Elle est bornée au nord-ouest par la Silésie prussienne ; au Sud par la Moravie , à l'est par la Gallicie , et à l'ouest par la Bohême.

*D.* Quelles en sont les principales villes ?

*R.* Ces villes sont Troppau où s'est tenu en 1820 un congrès des souverains alliés ; Teschen et Jaegerndorf.

#### *La Gallicie et la Bukovine.*

*D.* Quelle est la situation de la Gallicie et de la Bukovine ?

*R.* Ces deux provinces qui n'en font plus qu'une , qui porte le nom de Gallicie , sont situées entre les 47°. et 51°. de latitude N. Elles sont limitées au nord par le royaume de Pologne , au sud par la Hongrie , à l'est par la Turquie et la Russie , et à l'ouest par la Silésie autrichienne.

*D.* Quelles en sont les principales rivières ?

*R.* Ces rivières sont la Wistule , le Dniester , le Pruth , le San , le Siret , la Wistoka et le Bug.

*D.* Quelles en sont les principales villes ?

*R.* Ces villes sont Lemberg ou Léopol , capitale ; Stanislaw près du Dniester , Wiéliczka et Bochina , où se trouvent les grandes salines , au sud-est de Cracovie ; Osiek-Romanof , Rzeszof sur la Wistoka , Jaroslaw , Przymyst , Dinof , Sanak sur le San , Lamionska et Busk sur le Bug ; Brody , Stry , Sambor et Marienpol sur le Dniester ; Kolomea et Tchernowitz sur le Pruth ; Séret et Sutschawa , ancienne capitale de la Bukowine.

*D.* Pourquoi au nombre de ces villes n'avez-vous pas nommé celle de Cracovie ?

*R.* Avant 1814 , cette ville , qui est située sur la Wistule , faisait partie des possessions autrichiennes ; en 1815 , elle fut déclarée libre et indépendante sous la protection de l'Autriche , de la Russie et de la Prusse.

## LEÇON XI.

*Suite de l'Empire d'Autriche.**Le royaume de Hongrie , la Transylvanie et l'Esclavonie.*

*D.* QUELLE est la situation du royaume de Hongrie et quelles en sont les limites ?

*R.* Ce royaume , y compris le Bannat de Témesswar , est situé entre les 45°. et 49°. de latitude N. Il est borné au nord par la Gallicie et la Moldavie ; à l'est par la Transylvanie , au sud par le Danube et la Turquie , et à l'ouest par l'archiduché d'Autriche et le duché de Styrie.

*D.* Quelles sont les principales rivières de la Hongrie ?

*R.* Ces rivières sont le Danube , la Theiss , la Drave , le Raab , la Layta , la Marsch , le Gran , la Sar-Rettye , le Waag , le Maros , le Szamos , le Tèmès , le Koros , l'Ondawa , l'Ungina , la Taritza et la Kimert.

*D.* Quelles sont les principales villes du royaume de Hongrie ?

*R.* Dans la partie occidentale on remarque Presbourg , sur le Danube , capitale de tout le

royaume ; Offen ou Bude , ancienne capitale et ville libre sur le même fleuve , au nord de l'île Czépel ; Pest en face de Bude , sur la rive gauche ; Komorn dans l'île de Sctul , Gran ou Strigonie , Waëz , Kolocza , Mohats et Zembor ; Toutes ces villes sont sur le Danube. Il faut ajouter Raab sur la rivière de ce nom . Oedemburg , Stul-Weissenburg , Wesprim au nord du lac Balaton ; Zeg-Guns , près du lac de Neusiedel ; Fünkirken ou Cinq-Eglises ; Modern et Tyrnau au nord-est de Presbourg ; Neusol , Kemnits et Schernitz sur la rivière de Gran.

*D.* Quelles villes renferme la partie orientale de la Hongrie ?

*R.* Elle renferme les villes de Kachau , d'Epéries sur la Kimert ; Rosenau , Erlau ou Agria , Ungwaarsur l'Ugniar , Munkacs sur la Laritza ; Tokai , dont les vignobles produisent un excellent vin , sur la Theiss ; Szatmar sur le Szamos , Téméswar , place forte , capitale du Bannat , sur la Béga ; et Videk sur le Danube.

### *La Transylvanie.*

*D.* Quelle est la situation de la Transylvanie et quelles en sont les principales villes ?

*R.* Cette province est située à l'est de la Hongrie et au nord de la Valachie , et par les 46°. et 47°. de latitude N. Ses villes les plus remar-



quables sont Hermanstad , capitale ; Kronstadt près de la rivière d'Aluta , Karlsbourg et Neumarck sur le Maros, Klausenbourg sur le Szamos; Medwich et Schœsbourg.

*L'Esclavonie.*

*D.* Quelle est la situation de l'Esclavonie ?

*R.* Cette province est bornée au nord par la Drave , au midi par la Save , à l'est par le Danube , à l'ouest par le royaume d'Illyrie.

*D.* Quelles sont les principales villes de l'Esclavonie ?

*R.* Ces villes sont Eszek , capitale , sur la Drave; Péterwardein et Semlin , places fortes sur le Danube ; Brod et Mitrowilz sur la Save , et Poshéga.

LEÇON XII.

*Suite de l'empire d'Autriche.*

(Voyez la Carte de l'Europe centrale.)

*Royaumes Lombardo - Vénitien et d'Illyrie.*

*D.* QUELLE est la situation du royaume Lombardo-Vénitien ?

*R.* Il est situé entre les 45<sup>e</sup>. et 47<sup>e</sup>. degrés de

latitude N. , et s'étend par les 6°. et 11°. de longitude E. Il est borné au nord par le comté de Tyrol , au sud par le Pô , à l'ouest par le Piémont et autres pays appartenant au roi de Sardaigne , à l'est par la mer Adriatique et le royaume d'Illyrie.

*D.* Quels sont les principaux fleuves qui arrosent ce royaume ?

*R.* Ce sont le Pô , l'Adige , le Tessin , l'Adda , le Mincio , la Piave , l'Oglio et le Tagliamento.

*D.* De quels pays est formé le royaume Lombardo-Vénitien ?

*R.* Il est formé des cantons de Chiavenna , de la Valteline , du Comasc , du Milanèz , du Pavésar , du Lodésan , du Crémonèse , du Crémasc , du Bergamèse , du Brescian , du Véronèse , du Vicentin , du Padouan , du Dogado , de la Marche-Trévisane , du Bellunèse , du Frioul et du Mantouan.

*D.* Quelles en sont les principales villes ?

*R.* Ces villes sont Milan , capitale , belle et fort peuplée , et résidence du Vice-roi ; Venise , ancienne capitale de la république de ce nom , bâtie sur des lagunes de la mer Adriatique ; Pavie sur le Tessin , Lodi sur l'Adda , Como sur le lac de ce nom ; Bergame , Brescia , Crémone sur le Pô , Mantoue dans un lac sur le Mincio , Vérone sur l'Adige ; Padoue , Vicence , Trévisé , Feltre , Bellune sur la Piave , et Udine dans le

Frioul, célèbre par les préliminaires de la paix entre la France et l'Autriche en 1797.

*D.* Le royaume Lombardo-Vénitien est-il ancien ?

*R.* Non : il ne date que de 1815, époque où sa formation a été reconnue par le congrès de Vienne.

*Royaume d'Illyrie.*

*D.* Quelle est la situation du royaume d'Illyrie ?

*R.* Ce royaume est situé entre les 42°. et 46°. de latitude N. Il est borné au nord par la Styrie et la Hongrie, au midi par la Turquie, à l'est par ce dernier pays et par l'Esclavonie, à l'ouest par le royaume Lombardo-Vénitien.

*D.* De quels pays est-il composé ?

*R.* Il est composé des duchés de Carinthie et de Carniole, de l'Istrie, d'une partie du Frioul, de la Croatie, de la Dalmatie, du territoire de l'ancienne république de Raguse et des Bouches du Cattaro.

*D.* Quelles sont les villes les plus remarquables de ce royaume ?

*R.* Ces villes sont Trieste, port de mer sur le golfe de son nom ; Laybach, capitale du royaume et de la Carniole, célèbre par un congrès des trois grandes puissances alliées, tenu relativement à la révolution de Naples ; Clagenfurt, ca-

pitale de la Carinthie sur un lac au nord de la Drave, Willach sur cette rivière; Goritzia sur l'Isonso; Agram, capitale de la Croatie, sur la Save; Warasdin sur la Drave, Carlstadt dans la Croatie méridionale; Capo-d'Istria, capitale de l'Istrie, sur le golfe de Trieste; Rovigno, Parenzo et Pola, sur la mer Adriatique; Zara, capitale de la Dalmatie, sur la même mer; Castua et Fiume au nord du golfe de Quarnéro; Sébénico, Trau, Raguse et Cattaro.

*D.* Quelles îles dépendent du royaume d'Illyrie ?

*R.* Ce sont les îles de Veglia, de Cherson, de Pago, d'Oséro, de Brazza, de Lézina et de Lina dans la mer Adriatique.

*D.* Le royaume d'Illyrie est-il ancien ?

*R.* Il n'a été formé qu'en 1815 et 1816 du gouvernement, dit des *Provinces Illyriennes*, que la France avait composé de ses conquêtes sur la république de Venise et sur l'Autriche.


### LEÇON XIII.

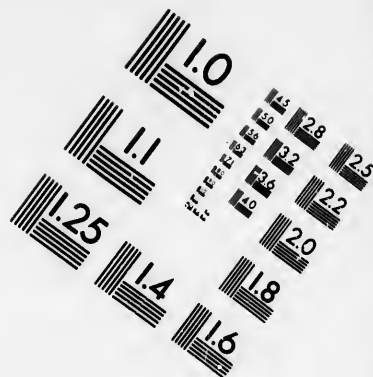
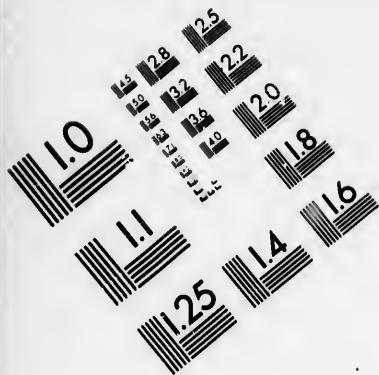
#### *Suite de l'empire d'Autriche.*

*Le comté de Tyrol.—Le duché de Styrie.—L'archiduché d'Autriche et le Saltzbourg.*

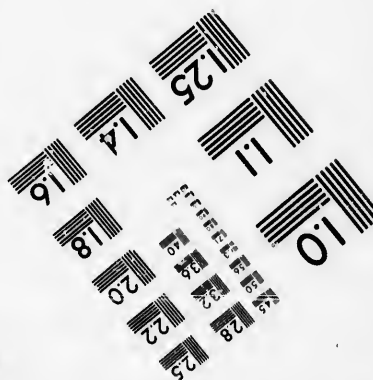
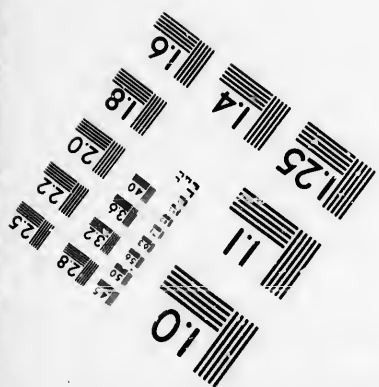


*D.* QUELLE est la situation du Tyrol ?

*R.* Cette province est située entre les 46°. et





**IMAGE EVALUATION  
TEST TARGET (MT-3)**



**Photographic  
Sciences  
Corporation**

23 WEST MAIN STREET  
WEBSTER, N.Y. 14580  
(716) 872-4503

1.5 2.8  
1.8 3.2  
2.2 3.6  
2.5 4.0  
3.0

1.0  
1.5  
2.0  
2.5  
3.0

47°. de latitude N. Elle est bornée au nord par la Bavière et le Saltzbourg, au sud par l'Italie, à l'est par la Carinthie, à l'ouest par la Suisse.

*D.* Quelles en sont les principales rivières ?

*R.* Ces rivières sont l'Inn ; l'Adige et le Lech.

*D.* Quelles en sont les villes les plus remarquables ?

*R.* Ces villes sont Inspruck, capitale, sur l'Inn ; Trente, célèbre par le dernier concile général ; Rovéredo, Botzen et Brixen. Ces quatre dernières villes sont sur l'Adige ; Statt sur l'Inn, et Bré-gents, capitale du Woralberg, sur le lac de Constance.

#### *Le duché de Styrie.*

*D.* Quelle est la situation du duché de Styrie ?

*R.* Ce duché est situé entre les 47°. et 48°. de latitude N. Il est borné au nord et à l'ouest par l'archiduché d'Autriche, au midi par le royaume d'Illyrie, à l'est par la Hongrie et l'Esclavonie.

*D.* Quelles sont les principales rivières et les villes les plus remarquables de la Styrie ?

*R.* Les principales rivières sont la Muhr et l'Ens ; et les villes les plus remarquables sont Gratz, capitale et place forte sur la Muhr ; Brück, Léoben sur la même rivière, et Cilly près de la Save.



*L'archiduché d'Autriche avec Saltzbourg.*

*D.* Quelle est la situation de ces deux pays ?

*R.* Ils sont situés dans les 47°. et 49°. de latitude N. , et bornés au nord par la Bohême et la Moravie , au sud par le duché de Styrie , à l'ouest par la Bavière , et à l'est par la Hongrie.

*D.* Quelles en sont les principales rivières ?

*R.* Ces rivières sont le Danube , qui partage l'archiduché en partie haute et basse ; l'Ens , la Salsach , la Layta et la Marsch.

*D.* Quelles en sont les principales villes ?

*R.* Ces villes sont Vienne , capitale de tout l'empire , sur le Danube, prise deux fois par les Français , en 1805 et en 1809 ; Saltzbourg sur la Salzach , Lintz , Braunau , place forte ; Neustad sur la Layta , Saint-Polten et Baden.

## LEÇON XIV.

*Suite de l'empire d'Autriche.*

*D.* QUELLE est la population de l'empire d'Autriche , et quelles en sont les forces militaires ?

*R.* Cette population est évaluée à près de vingt-huit millions d'individus , et les forces militaires s'élèvent en temps de guerre à environ trois cent cinquante mille hommes.

*D.* Quel est le gouvernement de l'Autriche ?

*R.* C'est une monarchie absolue , mais tempérée par d'anciennes lois et coutumes , pour ce qui concerne les états , autres que la Hongrie , dont le trône est électif , quoique depuis longtemps il soit héréditaire dans la maison d'Autriche , qui s'est obligée de le gouverner selon ses propres lois.

*D.* Quelle langue parle - t - on dans l'empire d'Autriche ?

*R.* On y parle en général la langue allemande ; mais l'italienne est celle du royaume Lombardo-Vénitien. La Hongrie et le royaume d'Illyrie en ont chacun une particulière.

*D.* Quelle est la religion de l'empire d'Autriche ?

*R.* La religion catholique en est la dominante. Cependant un grand nombre d'individus y professent le protestantisme , et d'autres le culte de l'église grecque.

*D.* Quelles sont les productions de l'Autriche ?

*R.* Cet empire produit des grains , des fruits , d'excellens pâturages , de bons vins , dont ceux de Tokai sont les plus recherchés. Il nourrit dans ses campagnes une grande quantité de bestiaux et de bons chevaux , et dans ses forêts toutes sortes de gibier. Il renferme des mines de fer , de cuivre , de mercure , et d'abondantes salines ; mais cet état a peu de manufactures qui puissent le disputer à celles des autres pays.

---

**LEÇON XV.**

---

*Empire de Russie ; partie européenne.*

*D.* Quelle est l'étendue de l'empire de Russie en Europe ?

*R.* Ce vaste empire s'étend en longitude depuis le 18°. 40'. jusqu'au 60°. à l'est du méridien de Paris ; et en latitude N. depuis le 43°. 30'. jusqu'au 66°. et, si l'on y comprend la Nouvelle-Zemble, jusqu'au 76°.

*D.* Quelles sont les bornes de cet empire ?

*R.* Ses bornes sont au nord l'Océan glacial, au sud la mer Noire partie Eur., la mer Caspienne partie Eur. ; la Perse et la Turquie ; à l'ouest la mer Baltique, le golfe de Bothnie, la Prusse et la Pologne ; à l'est les monts Ouraliens qui séparent l'Europe de l'Asie.

*D.* De quels pays se compose la Russie Européenne ?

*R.* Elle se compose de l'ancienne Moscovie, des provinces d'Estonie, de Courlande, de Livonie, de la Finlande, démembrée du royaume de Suède ; de la Laponie ; des provinces de l'ancienne Pologne, qui lui sont échues par les partages de ce royaume ; de la petite Tatarie qui com-

prend la Crimée, des pays des Cosaques du Don et de la mer Noire ; et de la Circassie.

*D.* Quelles sont les principales rivières de la Russie européenne ?

*R.* Ces rivières sont : le Volga, qui prend sa source près le 30°. de longitude O. et sur le 58°. de latitude N. , court de l'est à l'ouest jusqu'à son confluent avec la Kama ; coule ensuite du nord-ouest, puis dans le sud-est jusqu'à la mer Caspienne, où il se jette près d'Astrakan, sur le 44°. 30'. de latitude N. , après avoir reçu à sa gauche la Twer, la Schékesna, l'Ounaja, la la Véiougá, la Viatka, la Kama, l'Oufa et la Samara ; à sa droite l'Oka unie à la Moscowa : la Soura et la Tzana : le Dniéper ou Borysthène, qui prend sa source à dix lieues au sud de celle du Volga, et qui après avoir reçu à sa droite la Bérézina, le Pripet, le Téterow, l'Ingoul ou l'Ingoulet et le Bug ; et à sa gauche la Soj, la Desna et la Soula, se jette dans la mer Noire au-dessous et à l'ouest de Kerson.

*D.* Quelles sont les autres principales rivières que vous avez à nommer ?

*R.* Ces rivières sont : le Dniester qui prend sa source par le 50°. de latitude N. et les 20°. à 21°. de longitude E. ; et se jette dans la mer Noire ; le Don ; qui prend sa source au-dessus de Toula et se jette dans la mer d'Azov, après avoir reçu à droite la Sosna, le Donetz et la

l'Oskol; et à gauche le Voronej, le Khoper, le Sol et la Medvicditra : le Kouban qui prend sa source au mont Caucase et coule dans la mer Noire; le Térék qui sort du même mont et va se jeter dans la mer Caspienne; la Petchora qui s'unit à l'Ousa et à l'Jkma, et va se jeter dans l'Océan glacial : le Mézen : la Dwina septentrionale, qui, unie à la Witchégil, à la Pinéga, à la Sukoua et à d'autres rivières, va se perdre dans la mer Blanche près Arkangel.

---

## LEÇON XVI.

### *Divisions de la Russie d'Europe.*

**D.** En combien de gouvernemens se divise la Russie d'Europe ?

**R.** Elle se divise en cinquante-cinq gouvernemens ; savoir , dix-neuf au centre , douze au nord , neuf à l'ouest , sept au midi , deux au sud-est et six à l'est.

**D.** Quels sont les dix-neuf gouvernemens du centre et leurs principales villes ?

**R.** Ces gouvernemens , qui tirent leurs noms de leurs capitales , sont : Moscou , ancienne capitale de la monarchie , sur la Moscowa , prise par les Français en 1812 ; Vologda sur la Sukoua , Wladimir sur la Kliasva , Nowogorod au

nord du lac d'Ihnen et sur la rivière de Wolkof, Pskof au sud-est du lac de Tchoudskoé ; Twer sur les bords du Volga , Jaroslaf sur la droite du même fleuve , Kastroma sur la gauche ; Smolensk sur le Dniéper , ville prise par les Français en 1812 ; Nijninowogorod sur la droite du Volga à l'embouchure de l'Oka ; Toula sur le Don , Riazan sur l'Oka , Tambof sur la Tzana ; Orel , chef-lieu du gouvernement d'Orlof , sur l'Oka ; Tchernikof sur la Desna , Koursk sur la Sam ; Voronej sur la rivière du même nom ; Kharkof , chef-lieu du gouvernement d'Ukraine et de Pultava.

*D.* Quels sont les gouvernemens situés au nord ?

*R.* Ce sont ceux d'Arkangel, capitale du même nom sur la mer Blanche , à l'embouchure de la Dwina ; d'Olonetz , capitale du même nom , sur le lac Ladoga ; de Vologda , capitale du même nom , près de la Sukoua ; de la Laponie russe , qui a pour principales villes Umba et Kola.

*D.* Quels sont les gouvernemens , ou provinces , situés au nord-ouest.

*R.* Il y en a neuf , dont six prennent leurs noms de leurs capitales , savoir : de Pétersbourg , capitale de tout l'empire , grande et belle ville , bâtie par Pierre-le-Grand , sur le golfe de Finlande , à l'embouchure de la Néva ; d'Abo , située à l'entrée du golfe de Bothnie ; de Koupio sur le lac du même nom ; d'Uléaborg ; ville si-

tuée sur le golfe de Bothnie et la rivière d'Uléa. Les autres gouvernemens sont celui de *Kimmen-Gray*, dont le chef-lieu est *Heinola* sur un lac ; celui de *Livonie* dont le chef-lieu est *Riga* sur le golfe de son nom et à l'embouchure de la *Dwina* occidentale ; et celui d'*Esthonie*, dont *Revel*, située sur le golfe de *Finlande*, est la capitale.

*D.* Quels sont les gouvernemens situés à l'ouest ?

*R.* Ce sont ceux de la *Pologne russe* au nombre de neuf dont six prennent leurs noms de leurs capitales, qui sont *Wilna*, grande ville sur la *Wilia*, *Witepsk* sur la *Duna*, *Grodno* sur le *Niémen*, *Minsk* sur le *Sveto*, *Mohilef*, sur le *Dniéper*, *Kief* sur la droite de ce même fleuve. Les autres gouvernemens sont celui de *Courlande* au sud du golfe de *Riga*, et dont *Mittau* est la capitale ; celui de *Volensk* dont *Jitomirsk* est le chef-lieu, et celui de *Podolie* dont la principale ville est *Kaminieck*, près du *Dniéper*.

*D.* Quels sont les gouvernemens situés au midi ?

*R.* La petite *Tatarie* renferme sept gouvernemens, savoir : ceux de *Bessarabie*, conquis sur les *Turcs*, et dont la capitale est *Bender* sur le *Dniester* ; de *Kerson* dont les principales villes sont *Kerson* à l'embouchure du *Dniéper* ; et *Odessa*, fondée dans ces derniers temps,

avec un bon port sur la mer Noire ; de Tauride ou Crimée dont Simpséropol est la capitale , avec Sévastopol sur la mer Noire ; d'Ékaterinof , avec la capitale du même nom , sur la rive droite du Dniéper ; du Caucase dont Georgiefsk sur la Kouma est le chef-lieu ; du pays des Cosaques de la mer Noire , dont le chef-lieu est Azow , à l'embouchure du Don dans la mer de ce nom ; et du pays des Cosaques du Don , dont Tcherkatsk , sur le Don à l'embouchure de la Manitz est le chef-lieu.

*D.* Quels sont les gouvernemens du sud-est ?

*R.* Il y en a deux , savoir celui d'Astracan , dont la capitale du même nom est située sur la mer Caspienne à l'embouchure du Volga ; et celui de Saratof , dont la capitale du même nom est située sur la rive droite du même fleuve , par le 52°. de latitude N.

*D.* Quels sont les gouvernemens de l'est ?

*R.* Ils sont au nombre de six , qui tirent leurs noms de leurs capitales ; savoir , ceux de Viatka , dont la capitale est située sur la rivière de ce nom ; de Perm , dont la capitale est sur la Kama ; de Pensa , dont la capitale est sur la Soura ; de Kasan , dont la capitale est sur la rive gauche du Volga , et d'Orembourg , sur l'Oural.

*D.* Quelles îles dépendent de la Russie d'Europe ?

*R.* Ces îles sont celles d'Aland , à l'entrée de golfe de Bothnie ; celle de Dago , dans le golfe



de Finlande; d'Œsel, dans celui de Riga; et la Nouvelle Zemble, grande île de l'Océan glacial.

---

## LEÇON XVII.

---

### *Suite de l'Empire de Russie.*

**D.** QUELLE est la population de l'empire de Russie?

**R.** On l'évalue de cinquante-trois à cinquante-quatre millions d'individus. La partie centrale de la Russie européenne en est la plus peuplée.

**D.** Quelles sont ses forces militaires?

**R.** Cet empire peut mettre sur pied, en temps de guerre, au moins cinq cent cinquante mille hommes, dont plus de quarante mille cavaliers cosaques; de plus, il peut mettre en mer une flotte considérable.

**D.** Cet empire est-il ancien?

**R.** Sa création ne date que du commencement du 18<sup>e</sup>. siècle. Pierre-le-Grand est le premier qui changea son titre de Czar de Moscovie en celui d'empereur.

**D.** Quel est le gouvernement de l'empire de Russie?

**R.** C'est une monarchie absolue, tempérée par un sénat, par d'anciennes lois, et surtout par la civilisation qui y fait chaque jour de nouveaux progrès.

*D.* Quel est le caractère des Russes ?

*R.* Ils sont très soumis à leur souverain , laborieux et bons soldats. La noblesse y est en général instruite et polie ; les négocians et autres bourgeois se civilisent de plus en plus ; mais la classe des paysans qui , presque tous , vivent dans la servitude , est grossière et portée à l'ivrognerie.

*D.* Quelle est la langue de la Russie ?

*R.* La langue dominante est l'ancien slavon ou langue illyrienne , qui s'écrit avec des caractères presque semblables à ceux de la langue grecque. La langue tatare se parle dans la plupart des gouvernemens du sud et de l'est

*D.* Quelle est la religion des Russes ?

*R.* C'est la religion schismatique grecque. Le patriarche de Moscou en était autrefois le chef ; mais Pierre-le-Grand a supprimé cette dignité , et les affaires qui concernent le culte , sont réglées , depuis ce temps-là , par un synode , sous la suprématie de l'empereur.

*D.* Quelles sont les productions de la Russie ?

*R.* Ces productions varient suivant les climats de ce vaste empire. En général , les provinces du nord sont peu fertiles ; mais celles du midi produisent beaucoup de grains , des fruits , des pâturages , et un grand nombre de bestiaux et de chevaux. On y trouve des mines abondantes de fer , de cuivre , de plomb et de charbon de terre , etc.

---

**LEÇON XVIII.**

---

***Le Royaume de Pologne.***

(Voyez la Carte de l'Europe centrale.)

**D.** QUELLE est la situation du royaume de Pologne?

**R.** Il s'étend en longitude depuis le 15°. 30' de long. jusqu'au 21°. 50' à l'est de Paris, et depuis le 50°. jusqu'au 55°. de latitude N. Il est borné au nord et à l'ouest par la Prusse, au midi par la Gallicie, à l'est par la Russie.

**R.** Quelles en sont les rivières principales?

**R.** Ces rivières sont la Vistule, le Niémen, la Narew, le Bug, qui lui sert de limite à l'est; la Pélica, la Warta, la Proszna, l'Alra et la Wiprez.

**D.** Quelles sont les principales villes du royaume de Pologne?

**R.** Ces villes sont Warsovie, capitale, sur la rive gauche de la Vistule; Praga sur la rive droite de ce fleuve, en face de Warsovie; Lublin, Sandomir sur la Vistule; Zamosch, Chelm, Betz, Kalisz sur la Posna, Siradie sur la Warta, Czenstochaw sur la même rivière, Pétrikaw, Lancicza, Plock sur la Vistule, Rawa, Lawricz, Ostrolenka sur la Narew.

**D.** Le royaume de Pologne est-il ancien?

*R.* Il a été formé, dans ces derniers temps, de plusieurs provinces de l'ancien royaume de ce nom, dont la Russie et la Prusse s'étaient emparées.

*D.* Quelle en est la population ?

*R.* Elle s'élève à environ deux millions sept cent trente-deux mille trois cent vingt-quatre individus, dont 114,000 dans la capitale.

*D.* Quel est le gouvernement de la Pologne ?

*R.* C'est une monarchie tempérée par le gouvernement représentatif, et dont l'empereur de Russie est le chef héréditaire.

*D.* Quelle est la langue de ce royaume ?

*R.* C'est une langue particulière, formée du slavon ou illyrien ; mais tous les actes du gouvernement sont rédigés en latin.

*D.* Quel est le caractère des Polonais ?

*R.* Ils sont francs, vifs, belliqueux, et passionnés pour la liberté.

*D.* Quelle est leur religion ?

*R.* Ils sont catholiques romains ; mais il se trouve parmi eux un grand nombre de juifs.

*D.* Quelles sont les productions de la Pologne ?

*R.* Elle produit beaucoup de grains et de fruits, d'excellens pâturages, et nourrit un grand nombre de bons chevaux.

## LEÇON XIX.

*L'Empire ottoman , partie d'Europe.*

**D.** QUELLE est l'étendue de cette partie de l'Empire ottoman ?

**R.** Elle s'étend depuis le 35°. 50'. de latitude N. jusqu'au 47°. , et depuis le 13°. 30' jusqu'au 27°. de longitude à l'est du méridien de Paris. Elle est bornée au nord par les empires d'Autriche et de Russie , au sud par la Méditerranée , à l'est par la Mer Noire et l'Archipel , à l'ouest et au sud-ouest par la mer Adriatique et la mer Ionienne.

**D.** Quelles en sont les principales rivières ?

**R.** Ces rivières sont le Danube , qui reçoit au midi le Zeker, le Lumb et la Morava ; au nord la Priseth , le Sireth , la Jalonitza , l'Aluta et le Schyl ; la Save , qui reçoit au midi l'Unna , le Verbas , la Drina et la Bosna ; la Maritza qui se jette au midi dans la mer de l'Archipel ; le Vardar qui se rend dans le golfe de Salonique ; le Drin qui coule dans la mer Adriatique ; et l'Alphée qui se jette dans la Méditerranée.

**D.** En combien de provinces se divise la Turquie d'Europe ?

**R.** Elle se divise en douze provinces qui sont : la Romélie , la Moldavie , la Valachie , la Bul-

garie, la Serbie, la Bosnie, la Croatie, l'Herzégowine, l'Albanie, la Livadie, la Morée et l'île de Candie.

*. Q*uelle est la situation de la Romélie et quelles en sont les principales villes ?

*R.* Elle est située entre les 40°. et 43°. 30'. de latitude N. Elle répond à l'ancienne Thrace. Ses principales villes sont Constantinople, capitale de tout l'empire ottoman, sur la mer de Marmara et sur le canal qui porte son nom : bâtie par Constantin près des ruines de l'ancienne Byzance, et prise en 1453 par le sultan Mahomet II. Salonique, sur le golfe du même nom; Andrinople, grande ville, sur la Maritza; Bourgas sur le golfe de ce nom dans la mer Noire; Gallipoli sur le canal des Dardanelles; Philippopoli sur la Maritza, et Rodosto sur la mer de Marmara.

*D.* Quelle est la situation de la Moldavie et quelles en sont les principales villes ?

*R.* La partie de cette province qui appartient à la Turquie, est comprise entre les 46°. et 47°. de latitude N. Sa capitale est Jassy à l'ouest du Pruth; ses autres villes sont Romans sur le Sireth, Bakeu sur la Bestricza et Chotzim sur le Dniester.

*D.* Quelle est la situation de la Valachie ?

*R.* Elle est située entre les 44°. et 46°. de lat. N. Ses principales villes sont Bucharest, capitale sur le Dumbrowitz; Giorgévo sur le Danube,

Tergovisch sur la Jalonitza, et Orsova sur le Danube.

*D.* Quelle est la situation de la Bulgarie et quelles en sont les villes les plus remarquables ?

*R.* Elle est située entre les 43°. et 44°. de latitude N. Elle a pour capitale Rustchuk sur le Danube ; les autres villes sont Widdin sur ce même fleuve, Chumla au sud-est de Rustchuk, et Varna sur le golfe de ce nom dans la mer Noire.

*D.* Quelle est la situation de la Servie et quelles en sont les villes principales ?

*R.* Elle est située entre les 42°. et 45°. de latitude N. Elle a pour capitale l'importante place de Belgrade sur le Danube, à l'embouchure de la Save ; Sémendria à l'est sur le Danube, et Nyssa sur la Morava.

*D.* Quelle est la situation de la Bosnie et quelles villes renferme-t-elle ?

*R.* Elle est entre les 43°. et 45°. de latitude N. Elle renferme les villes de Travnick, capitale sur la Bosna ; Sarajévo ou Bosnasérai sur la Bosna ; Novibazar, près de la rivière Ibar qui se jette dans la Morava, et Žvornik sur la Drina.

## LEÇON XX.

*Suite de l'Empire ottoman, partie européenne.*

*D.* Quelle est la situation de la Croatie turque, et quelles villes y remarquez-vous ?

*R.* Elle est entre les  $44^{\circ}$ . à  $45^{\circ}$ . de latitude N. Elle a pour capitale Banjaluka sur l'Unna.

*D.* Donnez les mêmes détails sur l'Herzégowine ou Dalmatie turque ?

*R.* Elle est entre les  $42^{\circ}$ . et  $43^{\circ}$ . de latitude N. Elle a pour capitale Mostar.

*D.* Que dites-vous de l'Albanie ?

*R.* Elle est située entre les  $39^{\circ}$ . et  $43^{\circ}$ . de lat. N. Elle a pour capitale Janina sur un lac ; Scutari sur le Drin , au sud du lac de ce nom ; Durazzo sur un golfe de son nom ; Valona et Parga , sur la mer , en face de l'île de Corfou. En 1819 , les habitans de cette dernière ville l'abandonnèrent , de peur de tomber sous la domination du fameux Ali , pacha de Janina ; et se réfugièrent à Corfou.

*D.* Que dites-vous de la Livadie ?

*R.* Elle est située entre les  $38^{\circ}$ . et  $39^{\circ}$ . de latitude N. On y remarque Lépante , capitale sur le golfe du même nom , ou Don Juan d'Autriche , commandant de la flotte chré



tienne, défit complètement une grande flotte turque, vers la fin du 16<sup>e</sup>. siècle; Livadie, Laritza sur le Pénée; Athènes, ville fameuse dont on admire quelques anciennes ruines, sur le golfe de son nom; et Négrepont, dans l'île de ce nom, qui est l'ancienne Eubée.

*D.* Que savez-vous concernant la Morée et l'île de Candie?

*R.* La Morée est située entre les 37<sup>o</sup>. et 33<sup>o</sup>. de latitude N. Ses villes les plus remarquables sont Tripolitza, Napoli sur le golfe de ce nom; et Misitra, voisine des ruines de l'ancienne Sparte.

L'île de Candie, dont la longueur de l'est à l'ouest est d'environ soixante-quinze lieues, a pour capitale la Canée.

Quelles sont les principales îles qui dépendent de la Turquie d'Europe?

*R.* Ces îles, outre Candie, sont Négrepont, Lemnos, Imbro, Samotraki, Tasse, Skiros, Andro, Naxie, Paros, Milo, Santorin dans l'Archipel, etc.

*D.* Que savez-vous concernant d'autres îles qui sont situées dans la mer Ionienne?

*R.* Ces îles qui sont situées par les 36<sup>o</sup>. et 40<sup>o</sup>. de latitude N., sont Corfou, Sainte Maure, Théaki, Céphalonie, Zante et Cérigo. Elles forment une république sous la protection de l'Angleterre.

*D.* Quelles sont les langues en usage dans la Turquie d'Europe ?

*R.* Ce sont la langue turque et la grecque moderne.

*D.* Quelles en sont les religions ?

*R.* Les deux religions qui y dominent, sont la mahométane, et la grecque schismatique. Le mufti, qui réside dans la capitale, est le chef de la première ; et le patriarche grec de cette ville est le chef de la seconde.

*D.* Quel est le gouvernement de l'Empire ottoman ?

*R.* Il est despotique, et le grand-seigneur a le droit de vie et de mort sur ses sujets. Les provinces sont gouvernées par des pachas, plus occupés à s'enrichir par des vexations qu'à rendre les peuples heureux. La Moldavie et la Valachie sont gouvernées par des princes grecs, nommés Hospodars, que le grand seigneur élit et dépose, quand il lui plaît.

*D.* Quelle est la population de la Turquie d'Europe ?

*R.* On l'évalue à environ dix millions d'individus, dont les grecs composent le plus grand nombre.

## LEÇON XXI.

## DE LA FRANCE.

*Sa situation, ses limites et ses divisions.*

**D.** QUELLE est la situation de la France ?

**R.** Ce royaume s'étend depuis le  $42^{\circ} 20'$  jusqu'au  $52^{\circ} 10'$  de latitude N., et depuis le  $7^{\circ} 30'$  à l'ouest, jusqu'au  $5^{\circ} 50'$  à l'est du méridien de Paris.

**D.** Quelles en sont les limites ?

**R.** Il est limité au nord par la Manche et la mer du Nord ; au nord-est par le royaume des Pays-Bas, la Prusse et la Bavière Rhénanes ; au midi par l'Espagne et la Méditerranée ; à l'ouest par l'Océan atlantique ; à l'est par la Confédération Germanique, la Confédération Suisse, et l'Italie.

**D.** Quelle est la division de la France ?

**R.** Elle est divisée en 86 départemens qui tirent leurs noms ou des montagnes, ou des fleuves, ou des rochers remarquables qu'ils renferment, ou près desquels ils sont situés.

**D.** Comment peut-on diviser ces 86 départemens ?

**R.** On peut les diviser en onze bassins, qui

sont les bassins de la Seine , de la Loire , de la Garonne , de la Somme , de la Manche , de la Vilaine , de la Charente , de l'Adour , de l'Aude , du Rhône , du Rhin et de la Meuse.

*D.* Quelle est l'inclinaison de ces bassins ?

*R.* Les huit premiers sont inclinés sur l'Océan atlantique ; ceux de l'Aude et du Rhône versent leurs eaux dans la Méditerranée , et ceux du Rhin et de la Meuse dans la mer du Nord.

### *Le Bassin de la Seine.*

*D.* Quel est le cours de cette rivière , et quelles rivières reçoit-elle dans son sein ?

*R.* La Seine prend sa source dans le département de la Côte-d'Or , près du village de Saint-Seine , au lieu dit le Pas-d'âne ; elle coule dans la direction O. O. N. Elle reçoit à sa droite l'Aube , la Marne unie à l'Ornain , l'Oise unie à l'Aisne , et celle-ci à la Vesle : elle reçoit à sa gauche l'Yonne , unie à l'Armançon ou Serain et à la Cure ; le Loing , l'Essonne , l'Eure et la Rille ; et va se décharger dans la mer au Havre-de-Grâce par une large embouchure.

## LEÇON XXII.

*Départemens répandus sur le bassin de la Seine.*

**D.** COMBIEN comptez-vous de départemens dans le bassin de la Seine?

**R.** Ils sont au nombre de douze ; savoir, les départemens de la Haute-Marne, de l'Aube, de la Marne, de l'Yonne, de Seine-et-Marne, de l'Aisne, de l'Oise, de la Seine, de Seine-et-Oise, d'Eure-et-Loir, de la Seine-Inférieure et de l'Eure.

**D.** D'où le *département de la Haute-Marne* tire-t-il son nom, quelle en est la capitale, et quels en sont les chefs-lieux d'arrondissement?

**R.** Il tire son nom de sa position sur la Marne ; sa capitale est Chaumont-sur-Marne, et ses chefs-lieux d'arrondissement sont Vassy et Langres, ville ancienne, bâtie sur une montagne.

**D.** Donnez les mêmes détails sur les *départemens de l'Aube et de la Marne*?

**R.** Le *département de l'Aube* tire son nom de cette rivière ; sa capitale est Troyes, située sur la Seine ; ses chefs-lieux d'arrond. sont : Nogent-sur-Seine, Bar-sur-Seine, et Arcis-sur-Aube.

Le *département de la Marne* tire son nom de

cette rivière qui l'arrose. Sa capitale est Châlons-sur-Marne, et ses chefs-lieux d'arrond. sont : Reims, sur la Vesle, ville ancienne, où nos rois se faisaient sacrer et couronner; Epernay, sur la Marne, Vitry-le-Français sur la même rivière, et Sainte-Menchould sur l'Aisne.

*D.* Continuez ce qui concerne les autres départemens du bassin de la Seine ?

*R.* Le *département de l'Yonne* tire son nom de cette rivière sur laquelle il est situé. Sa capitale est Auxerre, sur la même rivière; les chefs-lieux d'arrond. sont : Sens, ville ancienne sur la Marne, Tonnerre sur l'Armançon, Avalon sur le Voisin, et Joigny sur l'Yonne.

Le *département de Seine-et-Marne* prend son nom de sa position sur ces deux rivières. Sa capitale est Melun, sur la Seine, et les chefs-lieux d'arrond. sont : Meaux, ville épiscopale, sur la Marne; Coulommiers, sur le Grand-Morin; Provins, et Fontainebleau, remarquable par une superbe maison royale et sa vaste forêt.

Le *département de l'Aisne* prend son nom de cette rivière; sa capitale est Laon sur une montagne, au bas de laquelle coule la Soudre; les chefs-lieux d'arrond. sont : Saint-Quentin sur la Somme, Vervins, Soissons, située sur l'Aisne, et Château-Thierry sur la Marne.

Le *département de l'Oise* prend son nom de

cette rivière qui l'arrose. Sa capitale est Beauvais sur le Terrain ; ses chefs-lieux d'arrond. sont : Clermont sur la Brèche , Compiègne , au confluent de l'Oise et de l'Aisne ; et Senlis , sur la Nouette.

Le *département de la Seine* a pour capitale Paris , qui est aussi celle de tout le royaume. La population de cette ville est d'environ six cent mille âmes. Elle est le centre du gouvernement et la résidence du Roi. Ses chefs-lieux d'arrond. sont : Saint-Denis et Sceaux , l'un au nord , et l'autre au midi.

Le *département de Seine et Oise* , qui prend son nom du confluent de ces deux rivières , a pour capitale Versailles , dont le château bâti par Louis XIV , a été la résidence des Rois de France jusqu'en 1789.

Les chefs-lieux d'arrond. : sont Mantes sur la Seine , Pontoise sur l'Oise , Rambouillet , et Corbeil sur la Seine.

Le *département d'Eure-et-Loir* , placé sur ces deux rivières , a pour capitale Chartres , sur l'Eure ; les chefs-lieux d'arrond. sont : Dreux sur la Blaise ; Nogent-le-Rotrou , sur l'Huine ; et Châteaudun près du Loir.

Le *département de la Seine-Inférieure* , a pour capitale Rouen , ville manufacturière , commerçante et très-peuplée , sur la Seine ; les chefs-lieux d'arrond. sont : Dieppe , à l'embouchure de la Béhune , dans la mer ; le Hâvre-

de-grâce, Yvetot, et Neufchâtel sur la Béthune.

Le *département de l'Eure* a pour capitale Evreux sur l'Iton; ses chefs-lieux d'arrond. sont : Pont-Audemer, sur la Rille; Louviers, ville manufacturière sur l'Eure, et les Andelys, sur la Seine.

### LEÇON XXIII.

#### *Le bassin de la Loire.*

*D.* QUEL est le cours de la Loire, et quelles rivières lui versent leurs eaux?

*R.* Cette rivière prend sa source dans le département de l'Ardèche, au mont Gerbier; coule dans la direction du nord et nord-ouest jusqu'à Orléans, puis au sud-ouest jusqu'à Blois, et de cette ville à l'ouest jusqu'à Nantes, où elle se jette, à douze lieues plus loin, dans la mer, par une large embouchure. Elle reçoit dans son cours, sur la droite, la Nièvre, l'Arroux, le Loir, la Sarthe réunie à la Mayenne à Angers; et sur sa gauche l'Allier réuni à la Dore et à la Sioule, le Loiret, la Beuvronne, le Cher uni à la Seudre et à l'Ourou, l'Indre, la Vienne unie à la Creuse, à la Gartempe et au Clain, la Thoué et la Sèvre nantaise.

*D.* Quels sont les départemens situés sur le bassin de la Loire?



*R.* Ils sont au nombre de dix-sept : ceux de la Haute-Loire, de la Loire, du Puy-de-Dôme, de l'Allier, de la Nièvre, du Cher, du Loiret, de Loir et Cher, de la Creuse, de la Haute-Vienne, de l'Indre, d'Indre et Loire, de la Vienne, de Maine et Loire, de la Sarthe, de la Mayenne et de la Loire-Inférieure.

*D.* Quelles sont les capitales et chefs-lieux d'arrondissemens de ces départemens ?

*R.* Le *département de la Haute-Loire*, qui prend son nom de sa position sur cette rivière, a pour Capitale le Puy, sur la Loire ; les chefs-lieux d'arrond. sont : Issingaux sur la Terrasse, et Brioude sur la Loire.

Le *département de la Loire* a pour capitale Montbrison ; ses chefs-lieux d'arrond. sont : Roanne, sur la Loire, et Saint-Etienne, célèbre par sa fabrique d'armes, sur le Furens.

Le *département du Puy-de-Dôme* qui tire son nom de cette montagne, a pour capitale Clermont-Ferrand, ville ancienne et peuplée ; les chefs-lieux d'arrond. , sont : Riom sur l'Am-bonne, Issoire sur l'Allier, Thiers et Ambert sur la Dore.

Le *département de l'Allier*, a pour capitale Moulins sur l'Allier ; les chefs-lieux d'arrond. sont : Mont-Luçon sur le Cher, Gannat sur la Sioule, et la Palisse sur la Bèbre.

Le *département de la Nièvre*, dont le nom vient d'une petite rivière qui coule du nord, a

pour capitale Nevers , sur la Loire , à l'embouchure de la Nivre ; ses chefs-lieux d'arrond. sont : Cosne sur la Loire , Clamecy et Château-Chinon sur l'Yonne.

Le *département du Cher* a pour capitale Bourges , sur l'Ourou et l'Èvre , ville assez considérable ; ses chefs-lieux d'arrond. sont : Sancerre sur la Loire , célèbre par un siège fameux pendant les guerres de religion ; et Saint-Amand sur le Cher.

Le *département du Loiret* , qui tire son nom d'une petite rivière dont la source est à Olivet , et se jette dans la Loire au sud d'Orléans , a pour capitale Orléans , ville peuplée et commerçante ; et pour chef-lieu d'arrond. Gien sur la Loire , Montargis sur le Loing , et Pithiviers sur l'Œuf.

Le *département de Loir et Cher* a pour capitale Blois , sur la Loire , et pour chefs-lieux d'arrond. Vendôme sur le Loir , et Romorantin sur la Seudre. Le magnifique château de Chambord y est situé.

Le *département de la Creuse* a pour capitale Guéret , près de la rivière de son nom , et pour chefs-lieux d'arrond. Boussac sur la petite Creuse , et Bourgañeuf sur le Thorion.

Le *département de la Haute-Vienne* prend son nom de sa situation sur cette rivière ; il a pour capitale Limoges , ville bien peuplée , sur la Vienne ; et pour chefs-lieux d'arrond.

Bellac près et au sud de la Gartempe, Rochecouart et Saint-Yrieix.

Le *département de l'Indre* a pour capitale Château - Roux sur l'Indre ; ses chefs - lieux d'arrond. sont : le Blanc sur la Creuse ; la Châtre sur l'Indre , et Issoudun sur le Théols.

Le *département d'Indre-et-Loire* a pour capitale Tours , ville considérable ; ses chefs-lieux d'arrond. sont : Chinon sur la Vienne, et Loches.

Le *département de la Vienne* a pour capitale Poitiers , ville ancienne et peuplée , sur le Clain ; et pour chefs-lieux d'arrond. Châtellerault sur la Vienne , Loudun et Civray sur la Charente.

Le *département de Maine-et-Loire* a pour capitale Angers , ville considérable sur la Mayenne, au-dessous du confluent de la Sarthe et du Loir. Les chefs-lieux d'arrond. sont : Saumur sur la Loire , au confluent du Touet ; Segré sur l'Oudon , Beaupréau sur l'Evre ; et Beaugé.

Le *département de la Sarthe* a pour capitale le Mans , au confluent de l'Huine et de la Sarthe, et pour chefs-lieux d'arrond. la Flèche sur le Loir , Saint-Calais et Mamers.

Le *département de la Mayenne* a pour capitale Laval sur la Mayenne , et pour chefs-lieux d'arrond. Château-Gonthier et Mayenne.

Le *département de la Loire-Inférieure* a pour capitale Nantes , ville grande , belle , peuplée et très commerçante , sur la Loire ; les chefs-lieux

d'arrond. sont : Ancenis sur la Loire , Châteaubriand, Paimbœuf , près de l'embouchure de la Loire ; et Savenai.

---

## LEÇON XXIV.

### *Le bassin de la Garonne , au midi.*

**D.** QUEL est le cours de la Garonne , et quelles rivières reçoit-elle ?

**R.** Elle prend sa source au bas des Pyrénées et au sud-est de Castel-Léon sur l'Espagne. Elle court d'abord dans la direction du nord-ouest l'espace de quinze lieues ; puis à l'est et au nord-est jusqu'à Toulouse ; puis retourne dans le nord-ouest ; passe à Bordeaux et se réunit à la Dordogne au Bec d'Ambès. Cette rivière , devenue , par ce confluent , large de deux lieues et demie , se décharge dans la mer par une vaste embouchure , près de la Tour-de-Cordouan.

La Garonne reçoit à sa droite l'Arriège , le Tarn , l'Agout , l'Aveyron , le Lot uni à la Truyère et à la Lozère , la Dordogne qui prend sa source près du Mont-d'Or dans le Puy-de-Dôme , et qui reçoit à sa droite le Vésère uni à la Corrèze , l'Isle unie à la Dronne ; et à sa gauche la Save , la Gimone , le Gers , et la Baize.

**D.** Quels sont les départemens situés sur le bassin de la Garonne ?

**R.** Ces départemens sont au nombre de treize, savoir ceux de l'Arriège, de la Haute-Garonne, du Gers, du Tarn, de l'Aveyron, de la Lozère, du Cantal, de la Corrèze, du Lot, de Tarn-et-Garonne, de Lot-et-Garonne, de la Dordogne et de la Gironde.

**D.** Quels sont les capitales et les chefs lieux d'arrondissemens de ces départemens ?

**R.** Le *département de l'Arriège* a pour capitale Foix sur l'Arriège ; et pour chefs-lieux d'arrond. Pamiers sur la même rivière, et Saint-Girons sur l'Alerth.

Le *département de la Haute-Garonne* a pour capitale Toulouse, ville considérable sur la Garonne, près de l'embouchure du canal du midi ; les chefs-lieux d'arrond. sont : Villefranche sur le canal, Muret et Saint-Gaudens sur la Garonne.

Le *département du Gers* a pour capitale Auch sur le Gers, et pour chefs-lieux d'arrondiss. Lombèz sur la Save, Condom et Mirande sur la Baize.

Le *département du Tarn* a pour capitale Alby sur le Tarn ; les chefs-lieux d'arrond. sont : Castres sur l'Agout, Gaillac sur le Tarn, et Lavaur sur l'Agout.

Le *département de l'Aveyron* a pour capitale Rhodéz sur l'Aveyron, et pour chefs-lieux

d'arrond. Villefranche sur la même rivière, Espalion sur la Lozère, Milhau sur le Tarn, et Sainte-Afrique sur la Sergues.

Le *département de la Lozère* a pour capitale Mende sur la Lozère, et pour chefs-lieux d'arrond. Florac sur le Tarnon, et Marvejols sur le Couloguet.

Le *département du Cantal*, qui prend son nom de la montagne ainsi nommée, a pour capitale Aurillac, sur la petite rivière de Jourdanne; les chefs-lieux d'arrond. sont : Saint-Flour sur la Baize, Mauriac et Murat sur le Cantal.

Le *département de la Corrèze* a pour capitale Tulle sur la Corrèze; ses chefs-lieux d'arrond. sont : Brives-la-Gaillarde sur la même rivière, et Ussel sur la Diège.

Le *département du Lot* a pour capitale Cahors sur le Lot. Les chefs-lieux d'arrond. sont : Figeac sur la Selle, et Gourdon.

Le *département de Tarn-et-Garonne* prend son nom de ces deux rivières qui se joignent près de Moissac. Sa capitale est Montauban, ville bien peuplée sur le Tarn, et ses chefs-lieux d'arrond. sont : Moissac sur le Tarn, et Castel-Sarasin sur la Garonne.

Le *département de Lot-et-Garonne* a pour capitale Agen près de la rive droite de la Garonne, et pour chefs-lieux d'arrond. Ville-

neuve sur le Lot , Nérac sur la Baize , et Marmande sur la Garonne.

Le *département de la Dordogne* a pour capitale Périgueux sur l'Isle , et pour chefs - lieux d'arrond. Bergerac sur la Dordogne , Ribérac sur la Dronne , Sarlat et Nontron sur le Baudiat.

Le *département de la Gironde* , a pour capitale Bordeaux , ville grande , belle , peuplée et commerçante sur la Garonne ; ses chefs - lieux d'arrond. sont : la Réolle sur la Garonne , Libourne sur l'Isle , Blaie sur la Gironde , Lesparre à l'ouest de la Gironde , et Bazas.

## LEÇON XXV.

*Bassin de la Somme au nord , et celui de la Manche.*

*Bassin de la Somme.*

**D.** QUEL est le cours de la Somme , et quelles rivières reçoit-elle ?

**R.** Cette rivière prend sa source à une lieue nord-est de Saint-Quentin : son cours est de l'est à l'ouest ; elle se rend dans la Manche ,

près d'Abbeville par une large bouche. Ce bassin renferme aussi les rivières de Canche et d'Aathie ; la partie française de l'Escaut ; réunie à la Scarpe, à la Sambre et à la Lys. Ces quatre dernières rivières, qui prennent leur source en France, coulent dans la Belgique et se rendent dans la mer du Nord.

*D.* Quels départemens renferme le bassin de la Somme ?

*R.* Il renferme trois départemens, savoir : ceux de la Somme, du Pas-de-Calais et du Nord.

*D.* Quels sont les capitales et les chefs-lieux d'arrond. de ces départemens ?

*R.* Le *département de la Somme* a pour capitale Amiens, ville bien peuplée et commerçante, sur la Somme ; les chefs-lieux d'arrond. sont Abbeville et Péronne sur la Somme, et Montdidier.

Le *département du Pas-de-Calais* a pour capitale Arras, sur la Scarpe ; et pour chefs-lieux d'arrond. Montreuil sur la Canche, Boulogne-sur-Mer, Saint-Omer sur l'Aas, et Béthune.

Le *département du Nord* a pour capitale Lille, ville considérable et place forte, sur la Deuil ; et pour chefs-lieux d'arrond. Dunkerque, port de mer ; Hazebrouck, Douay sur la Scarpe, Cambrai sur l'Escaut, et Avesnes sur l'Helpe.



*Le Bassin de la Manche.*

*D.* Qu'est-ce que la Manche ?

*R.* C'est une mer intérieure , située à l'ouest du détroit ou Pas-de-Calais, qui sépare la France de l'Angleterre.

*D.* Quels départemens sont situés sur ce bassin ?

*R.* Ce bassin , qui comprend la côte depuis l'embouchure de la Seine jusqu'à l'île d'Ouessant , et qui reçoit la Touques , la Dive , l'Orne , la Vire et la Rance , renferme quatre départemens , savoir : l'Orne , le Calvados , la Manche , et les Côtes du nord.

*D.* Dites les noms des capitales et des chefs-lieux d'arrondissemens de ces départemens ?

*R.* Le *département de l'Orne* a pour capitale Alençon sur la Sarthe , et pour chefs-lieux d'arrond. Domfront sur la Varenne , Argentan sur l'Orne , et Mortagne.

Le *département du Calvados* , qui prend son nom d'une chaîne de rochers qui bordent la mer au nord , a pour capitale Caen , ville bien peuplée , sur l'Orne ; et pour chefs-lieux d'arrond. Bayeux sur l'Aure , Lisieux et Pont-l'Évêque sur la Touques , Falaise , et Vire sur la Vire.

Le *département de la Manche* , qui prend son nom de sa position sur cette mer , a pour capi-

tales Saint-Lô sur la Vire ; et pour chefs-lieux d'arrond. Coutances sur la Sioule , Valognes , Cherbourg sur la mer , Avranches sur la Sis et Mortain.

*Le département des Côtes du nord*, qui prend son nom de sa position sur la mer , a pour capitale Saint-Brieux , et pour chefs-lieux d'arrond. Dinan sur la Rance , Loudéac , Guingamp , et Annion.

## LEÇON XXVI.

### *Bassins de la Vilaine et de la Charente.*

#### *Bassin de la Vilaine.*

*D.* QUE comprend le bassin de la Vilaine ?

*R.* Il comprend les côtes depuis l'embouchure de la Loire jusqu'à l'île d'Ouessant , et renferme la Vilaine qui prend sa source à peu de distance au nord-est de Vitré , et qui , après avoir reçu à gauche les rivières d'Ille et de Mère , l'Isac et le Don , et à sa droite l'Ourte , se jette dans le golfe du Morbihan ; le Blavet et l'Aulne.

*D.* Quels sont les départemens placés sur le bassin de la Vilaine ?

*R.* Ils sont au nombre de trois , savoir : ceux d'Ille-et-Vilaine , du Morbihan et du Finistère.

*D.* Dites les noms des capitales et des chefs-lieux de ces départemens.

*R.* Le *département d'Ille-et-Vilaine* a pour capitale Rennes , ville considérable, au confluent de l'Ille dans la Vilaine. Les chefs-lieux d'arrond. sont : Fougères, Vitré près de la source de la Vilaine, Saint-Malo, Redon sur l'Ouet à son embouchure dans la Vilaine, et Montfort.

Le *département du Morbihan* a pour capitale Vannes sur le lac du Morbihan, et pour chefs-lieux d'arrond. Pontivy sur le Blavet, Ploërmel et Lorient. Il comprend la presqu'île de Quiberon, et l'île de Belle-Isle.

Le *département du Finistère* prend son nom de sa position à l'extrémité occidentale de la France : il a pour capitale Quimper-Corentin sur l'Odet, et pour chefs-lieux d'arrond. Brest, beau port militaire sur l'Océan, Morlaix, Châteaulin sur l'Aulne, et Quimperlé sur la Layta.

#### *Bassin de la Charente.*

*D.* Quel est le cours de la Charente, et quelles rivières reçoit-elle?

*R.* Cette rivière prend sa source au sud de Rochechouart; coule dans le nord-ouest jusqu'à Civrai, puis du nord au sud jusqu'à Angoulême, et dans le nord-ouest jusqu'à son entrée dans la mer à l'ouest de Rochefort. Elle reçoit le Bau-

diat et la Boutonne à gauche ; la Sèvre , le Lay et la Sendre à droite.

*D.* Quels sont les départemens situés sur le bassin de la Charente ?

*R.* Il y en a quatre , savoir : la Vendée , les Deux-Sèvres , la Charente et la Charente-Inférieure.

*D.* Dites les noms des capitales et des chefs-lieux d'arrond de ces départemens ?

*R.* Le *département de la Vendée* , qui prend son nom d'une petite rivière qui passe à Fontenay-le Comte , et se jette dans la Sèvre nantaise , a pour capitale Bourbon-Vendée , ci-devant la Roche-sur-Yon , et pour chefs-lieux d'arrond. les Sables-d'Olonne et Fontenay.

Le *département des Deux-Sèvres* , qui prend son nom de deux rivières dont la source y est située , a pour capitale Niort sur la Sèvre , et pour chefs-lieux d'arrond. Thouars et Partenay sur la Thoué , et Melle.

Le *département de la Charente* a pour capitale Angoulême , grande ville sur la Charente ; et pour chefs-lieux d'arrond. Cognac sur la Charente , Confolent sur la Vienne , et Barbézieux. Il comprend les îles de Rhé et d'Oléron.

Le *département de la Charente-Inférieure* a pour capitale la Rochelle , port de mer ; et pour chefs-lieux d'arrond. Rochefort , port de mer , et Saintes sur la Charente ; Saint Jean-d'Angély sur la Boutonne , et Jonzac.

---

---

**LEÇON XXVII.***Bassins de l'Adour et de l'Aude.*

---

*Bassin de l'Adour.*

*D.* QUEL est le cours de l'Adour et quelles rivières reçoit-il?

*R.* L'Adour prend sa source dans les Pyrénées au sud de Bagnères ; il coule au nord l'espace de vingt lieues , retourne à l'ouest , puis au sud-ouest , et se jette dans la mer à l'ouest de Bayonne : à sa droite il reçoit la Douze , et à sa gauche l'Uy-de-Béarn , le Gave-de-Pau , le Gave-d'Oléron et la Nive.

*D.* Quels départemens comprend le bassin de l'Adour ?

*R.* Il en comprend trois , savoir : les Hautes-Pyrénées , les Basses - Pyrénées et les Landes.

*D.* Dites les noms des capitales et des chefs-lieux d'arrondissemens de ces départemens.

*R.* Le *département des Hautes - Pyrénées* , qui prend son nom de sa position , a pour capitale Tarbes sur l'Adour , et pour chefs-lieux d'arrond. Bagnères sur l'Adour , et Argelez sur le Gave-de-Pau.

Le *département des Basses - Pyrénées* a pour

capitale Pau , lieu de naissance de Henri IV ; et pour chefs - lieux d'arrond. Oléron sur le Gave de ce nom , Mauléon sur le Gaison , Orthès sur le Gave-de-Pau , et Bayonne, pl. f. , près de la mer.

Le *département des Landes* a pour capitale Mont-de-Marsan sur la Douze , qui se jette dans l'Adour ; et pour chefs-lieux d'arrond. Saint-Sever sur la Gabas , et Dax sur l'Adour.

*Bassin de l'Aude à l'est.*

*D.* Quel est le cours de l'Aude , et quelles rivières reçoit-elle ?

*R.* Cette rivière prend sa source dans les Pyrénées - Orientales , coule dans la direction du nord jusqu'à Carcassonne ; de là elle tourne à l'est , et se rend dans la Méditerranée , au nord - est de Narbonne. Le bassin de l'Aude renferme les rivières d'Hérault , d'Orb , de Gly , de Tet et de Tech.

*D.* Quels départemens renferme le bassin de l'Aude ?

*R.* Il en renferme trois , savoir : ceux de l'Aude , des Pyrénées orientales et de l'Hérault.

*D.* Dites les noms des capitales et des chefs-lieux d'arrond. de ces départemens ?

*R.* Le *département de l'Aude* a pour capitale Carcassonne , ville ancienne , sur l'Aude et sur le canal du midi qui traverse tout ce département ;

les chefs-lieux d'arrond. sont : Castelnau-dary sur le canal, Limoux sur l'Aude; et Narbonne, près de l'embouchure de cette rivière.

Le *département des Pyrénées orientales*, qui prend son nom de sa position, a pour capitale Perpignan, place forte sur le Tet; et pour chefs-lieux d'arrond. Prades sur le Tet, et Céret sur le Tech.

Le *département de l'Hérault* a pour capitale Montpellier, ville considérable sur le Béranger, et pour chefs-lieux d'arrond. Béziers sur l'Orb et sur le canal du midi, Lodève et Saint-Pons.

---

## LEÇON XXVIII.

### *Bassin du Rhône.*

*D.* QUEL est le cours de ce fleuve et quelles rivières reçoit-il?

*R.* Le Rhône prend sa source dans les Alpes, près du mont Saint-Gothard. Il se dirige d'abord au sud-ouest jusqu'à Martignac, puis au nord-ouest jusqu'à son entrée dans le lac de Genève; puis au sud-ouest, en sortant de ce lac, et redescend ensuite au midi jusqu'au-dessous de Belley; il remonte ensuite au nord-ouest: après être redescendu au sud, il coule à l'ouest jusqu'à Lyon; là, son cours se dirige constamment vers

le sud. Après avoir arrosé les villes de Lyon, de Vienne, de Valence, d'Avignon et d'Arles, il se décharge par trois bouches dans la Méditerranée. Il reçoit dans son cours, en France, et sur sa droite, l'Ain, la Saône qui sort des montagnes des Vosges et reçoit le Doubs, l'Oignon et la Tille : l'Ardèche et le Gard. A sa gauche, il reçoit l'Isère, la Drôme, l'Aigues et la Durance. A ce bassin il faut ajouter le Var et l'Argens qui tombent aussi dans la Méditerranée.

*D.* Quels départemens sont situés dans le bassin du Rhône ?

*R.* Ces départemens sont au nombre de dix-sept, savoir : ceux de la Haute-Saône, de la Côte-d'Or, du Doubs, du Jura, de Saône et Loire, de l'Ain, du Rhône, de l'Isère, de l'Ardèche, de la Drôme, des Hautes-Alpes, des Basses-Alpes, de Vaucluse, du Var, des Bouches du Rhône, du Gard, et de l'Île de Corse.

*D.* Quelles sont les capitales et les chefs-lieux d'arrondissemens de ces départemens ?

*R.* Le *département de la Haute-Saône*, qui tire son nom de sa position presque aux sources de cette rivière, a pour capitale Vesoul sur la Drajone ; et pour chefs-lieux d'arrond. Gray sur la Saône, et Lure sur l'Oignon.

Le *département de la Côte d'Or*, qui prend son nom d'une chaîne de collines qu'il a au sud, est traversé par le canal de Bourgogne. Il a pour capitale Dijon, belle ville sur la Tille et l'Ouche,



et pour chefs-lieux d'arrond. Beaune sur la Bouzoire, Semur sur l'Armançon, et Châtillon-sur-Seine.

Le *département du Doubs* a pour capitale Besançon, place forte, presque entourée par le Doubs ; et pour chefs-lieux d'arrond. Baumeles-Dames, Saint-Hyppolite et Pontarlier, trois villes aussi sur le Doubs.

Le *département du Jura*, qui tire son nom des montagnes qu'il a à l'est, a pour capitale Lons-le-Saulnier, et pour chefs-lieux d'arrond. Dôle sur le Doubs, Poligny et Saint-Claude sur la Biemme.

Le *département de Saône-et-Loire*, qui prend son nom de ces deux rivières entre lesquelles il est situé, a pour capitale Mâcon sur la Saône, et pour chefs lieux d'arrond. Châlons-sur-Saône, Autun sur l'Arroux, Louhans sur la Seille et Charolles sur la Ressouce.

Le *département de l'Ain*, qui prend son nom de cette rivière, a pour capitale Bourg sur la Veyle, et pour chefs-lieux d'arrond. Trévoux sur la Saône, Nantua et Belley sur le Rhône.

Le *département du Rhône* a pour capitale Lyon, la plus grande ville du royaume après Paris, et pour chef-lieu d'arrond. Villefranche, près de la Saône.

Le *département de l'Isère* a pour capitale Grenoble, place forte, sur l'Isère ; et pour chefs-

lieux d'arrond. Vienne, ville ancienne, sur le Rhône; Saint-Marcellin, sur l'Isère et la Tour-du-Pin sur la Bourbe.

Le *département de l'Ardèche* a pour capitale Privas sur le Mésajon, et pour chefs-lieux d'arrond. Tournon sur le Rhône et l'Argentière.

Le *département de la Drôme* a pour capitale Valence sur le Rhône, et pour chefs-lieux d'arrond. Montélimar, Die sur la Drôme, qui se jette dans ce même fleuve, et Nyons sur l'Aigues.

Le *département des Hautes-Alpes*, qui prend son nom de sa position, a pour capitale Gap, et pour chefs-lieux d'arrond. Embrun, et Briançon sur la Durance.

Le *département des Basses-Alpes* a pour capitale Digne sur la Bléone, et pour chefs-lieux d'arrond. Sisteron sur la Durance, Barcelonnette sur l'Ubaye, Castellane sur le Verdon, et Forcalquier.

Le *département de Vaucluse*, qui est ainsi nommé d'une fontaine de ce nom, a pour capitale Avignon sur le Rhône et au confluent de la Durance; ses chefs-lieux d'arrond. sont: Orange sur l'Aigues, Apt sur le Caulon, et Carpentras.

Le *département du Var* a pour capitale Draguignan sur l'Artubie, et pour chefs-lieux d'arrond. Toulon, beau port de mer militaire, Brignolles et Grasse.

Le *département des Bouches du Rhône* tire son nom de l'embouchure de ce fleuve : il a pour capitale Marseille , ville ancienne et beau port de mer marchand , et pour chefs-lieux d'arrond. Aix sur l'Arc , et Arles sur le Rhône.

Le *département du Gard* a pour capitale Nismes, ville ancienne, et pour chefs-lieux d'arrond. Uzès sur la Seine , Allais sur le Gardon , et le Vigan sur l'Aise.

Le *département de l'île de Corse*, que nous plaçons sur le bassin du Rhône , à cause de sa position sur la Méditerranée , a pour capitale Ajaccio , et pour chefs-lieux d'arrond. Bastia , Calvi et Corté.

## LEÇON XXIX.

### *Bassins du Rhin et de la Meuse.*

#### *Bassin du Rhin.*

**D.** QUEL est le cours du Rhin , et quelles rivières reçoit-il ?

**R.** Ce fleuve prend sa source dans les Alpes, au pays des Grisons. Son cours est d'abord dans la direction du nord jusqu'au lac de Constance qu'il traverse au nord-ouest ; puis il se dirige vers

l'ouest jusqu'à Bâle ; il coule encore dans le nord jusqu'à Mayence ; de cette ville il court jusqu'à Wesel, dans le nord-ouest ; et de Wesel, jusqu'à la mer, il court dans l'ouest. A sa droite, il reçoit la Kentzig, le Necker, le Mein, la Lahn, la Seig, la Ruhr et la Lippe. A sa gauche, il reçoit l'Aar, l'Ill près de Strasbourg, la Lauter, la Nahé et la Moselle, qui a reçu la Sarre, la Meurthe et la Save. Arrivé en Hollande, il se partage en quatre branches, qui prennent les noms de Whaal, de Leck ; du Vieux-Rhin, qui passe à Utrecht, Leyde, etc. La quatrième, qui est l'Yssel, après avoir arrosé les villes de Zutphen et de Dwen-ter, se rend dans le Zuiderzée.

*D.* Quels sont les départemens placés sur le bassin du Rhin ?

*R.* Sur la partie française, ils sont au nombre de cinq ; savoir, ceux du Haut-Rhin, du Bas-Rhin, des Vosges, de la Meurthe et de la Moselle.

*D.* Dites les noms des capitales et des chefs-lieux d'arrondissemens de ces départemens ?

*R.* Le *département du Haut-Rhin* a pour capitale Colmar sur le Thurou, et pour chefs-lieux d'arrond. Altkirch sur l'Ill ; et BÉfort, place forte, sur la Savoureuse.

Le *département du Bas-Rhin* a pour capitale Strasbourg, ville considérable et place forte sur l'Ill, près de son embouchure dans le Rhin, et pour chefs-lieux d'arrond. Weissem-

bourg sur la Lauter, Schélestadt sur l'Ill, et Saverne.

Le *département des Vosges*, qui prend son nom d'une chaîne de montagnes qu'il a à l'est, a pour capitale Épinal sur la Moselle, et pour chefs-lieux d'arrond. Mirecourt sur le Madon, Neuf-Château sur le Mouson, a son confluent dans la Meuse; Saint-Diez sur la Meurthe, et Remiremont sur la Moselle.

Le *département de la Meurthe* a pour capitale Nancy, belle ville, sur la Meurthe; et pour chefs-lieux d'arrond. Lunéville, sur la Meurthe; Toul, ville fortifiée, sur la Moselle, Château-Salins sur la Seille, et Sarrebourg sur la Sarre.

Le *département de la Moselle* a pour capitale Metz, ville considérable et place forte sur la Moselle, au confluent de la Seille; et pour chefs-lieux d'arrond. Thionville, place forte, sur la Moselle; Sarreguemine, ville fortifiée, sur la Sarre; et Briey sur l'Orne.

### *Bassin de la Meuse.*

*D.* Quel est le cours de la Meuse et quelles rivières reçoit-elle ?

*R.* La Meuse prend sa source à trois lieues au nord-est de Langres, dans le département de la Haute-Marne. Elle coule dans la direction du nord jusqu'à deux lieues au sud de Nimègue,

après avoir arrosé les villes de Neuf-Château , Commerci , Verdun , Mézière , Namur , Liège , Maëstricht et Ruremonde. Elle retourne subitement à l'ouest , passe à Gorcum , Dordrecht et Brielle où elle se jette dans la mer du Nord. Elle reçoit dans son cours les rivières de Chiers , de Semons , de l'Ourthe et de la Roër à droite ; la Sambre et la Dommel à gauche.

*D.* Quels départemens sont compris dans la partie française du bassin de la Meuse ?

*R.* Il y en a deux , savoir ceux de la *Meuse* et des *Ardennes*.

*D.* Dites les noms des capitales et des chefs-lieux d'arrondissemens de ces départemens ?

*R.* Le *département de la Meuse* a pour capitale Bar-le-Duc sur l'Ornain , et pour chefs-lieux d'arrond. Commercy, Verdun sur la Meuse, et Montmédi , ville fortifiée ; sur la Chiers.

Le *département des Ardennes* , ainsi nommé de la forêt de ce nom , a pour capitale Mézières , place forte , dans une presqu'île formée par la Meuse. Les chefs-lieux d'arrond. sont : Rhétel sur l'Aisne ; Sedan , ville fortifiée , sur la Meuse ; et Rocroy , place forte.

## LEÇON XXX.

*Anciennes divisions de la France.*

**D.** QUELLE était l'ancienne division politique de la France ?

**R.** Avant 1790, elle était divisée en trente-deux provinces dont vingt au circuit et douze au milieu. Les provinces du circuit, au nord, étaient : la Normandie, capitale Rouen ; la Picardie, capitale Amiens ; l'Artois, capitale Arras ; la Flandre, capitale Lille. Celles du circuit à l'est étaient la Lorraine, capitale Nancy ; l'Alsace capitale Strasbourg ; la Franche-Comté, capitale Besançon ; la Bourgogne, capitale Dijon ; le Lyonnais, capitale Lyon ; le Dauphiné, capitale Grenoble. Celles du circuit au midi, étaient la Provence, capitale Aix ; le Languedoc, capitale Toulouse ; le Roussillon, capitale Perpignan ; le comté de Foix, capitale Foix ; le Béarn, capitale Pau. Les provinces du circuit à l'ouest étaient la Guienne, capitale Bordeaux ; la Saintonge avec l'Angoumois, capitales Saintes et Angoulême ; le Poitou, capitale Poitiers ; l'Aunis, capitale la Rochelle ; et la Bretagne, capitale Nantes.

**D.** Quelles étaient les provinces du centre ?

**R.** Au nord, c'étaient l'Anjou, capitale An-

gers ; le Maine , capitale le Mans ; l'Orléanais , capitale Orléans ; l'Ile de France , capitale Paris. A l'est , c'étaient la Champagne , capitale Troyes ; le Nivernais , capitale Nevers ; le Bourbonnais , capitale Moulins ; l'Auvergne , capitale Clermont. A l'ouest , c'étaient le Limousin , capitale Limoges ; la Marche , capitale Guéret ; le Berry , capitale Bourges ; la Touraine , capitale Tours.

*D.* Quelles sont aujourd'hui les nouvelles divisions ecclésiastiques , judiciaires , administratives et militaires de la France ?

*R.* Autrefois la France ecclésiastique était divisée en cent dix-huit évêchés et dix neuf archevêchés ; aujourd'hui elle n'a que quarante-un évêchés et neuf archevêchés ; nombre qui doit être augmenté.

Autrefois la France était divisée , relativement à l'ordre judiciaire , en douze parlemens et deux conseils souverains ; aujourd'hui elle est divisée en vingt-sept cours royales.

Autrefois la France était divisée en intendances et pays d'état ; aujourd'hui elle l'est en préfectures et en sous-préfectures. Les préfectures sont les capitales de départemens ; les sous-préfectures sont les chefs-lieux d'arrondissemens.

Autrefois la France était divisée en un certain nombre de gouvernemens militaires : ils ont été remplacés par vingt - une divisions militaires. Paris est le chef-lieu de la première.



## LEÇON XXXI.

*Suite de la France.*

**D.** QUELLE est la population de la France ?

**R.** La population de la France s'élève à plus de trente millions d'individus ; et ce nombre s'accroît d'année en année.

**D.** Quelles sont les forces de la France ?

**R.** Ses forces de terre peuvent être portées en temps de guerre à quatre cent mille hommes au moins , tous bons soldats ; et ses forces maritimes , quoique bien diminuées , s'élèvent à plus de cent cinquante bâtimens de guerre de toutes grandeurs.

**D.** Quelles sont les productions de la France ?

**R.** Elle produit en abondance toutes sortes de grains ; une grande quantité de différens fruits ; d'excellens vins ; de nombreux et gras pâturages , où elle nourrit un nombre immense de bestiaux. Elle renferme des mines de fer , de cuivre , de plomb , de mercure , d'étain , de charbon de terre ; des carrières de marbres. Ses forêts servent de retraite à une grande quantité de bêtes fauves ; et ses rivières sont remplies d'excellens poissons. Aussi dit-on généralement et avec raison que la France peut se passer de

tous ses voisins , et qu'ils ne peuvent se passer d'elle.

*D.* Quel est le climat de la France ?

*R.* Il est , en général , fort tempéré. Les hivers n'y sont jamais trop rigoureux ; ni les étés trop chauds. L'air y est salubre , et l'on n'y voit presque jamais ces maladies qui , dans d'autres pays , détruisent une grande partie de la population.

*D.* Quel est le caractère des Français ?

*R.* Ils sont spirituels , inventifs , industriels , enjoués , aimant les belles - lettres et les arts , belliqueux , braves et hospitaliers ; mais les autres nations les taxent d'inconstance et de légèreté.

*D.* Quel est le gouvernement de la France ?

*R.* C'est un gouvernement monarchique représentatif , composé du pouvoir royal qui propose les lois , les sanctionne et les fait exécuter ; et de celui des deux chambres qui sont la chambre des députés des départemens et celle des pairs. Le concours de ces trois pouvoirs est nécessaire pour la formation des lois.

*D.* Quelle est la religion de la France ?

*R.* La religion catholique est la religion de l'état ; mais les autres cultes , tels que le réformé et le juif y sont permis et autorisés par les lois.

*D.* Le royaume de France est-il bien ancien , et combien de rois l'ont gouverné jusqu'à présent ?

*R.* C'est la plus ancienne monarchie de l'Europe, et elle n'a pas moins de quinze cents ans d'antiquité. Trois races ou dynasties comprennent tous les rois qui en ont occupé le trône, jusqu'au règne de Louis XVIII qui en est le soixante-neuvième monarque. Ces trois races sont celles des Mérovingiens, des Carlovingiens et des Capétiens. L'origine de cette dernière remonte jusqu'au-delà du dixième siècle.

*D.* Quelles sont les possessions françaises en Asie, en Afrique et en Amérique ?

*R.* En Asie, ce sont Pondichéry, Chandernagor et d'autres établissemens moins importants ; en Afrique, l'île de Bourbon et la colonie du Sénégal ; en Amérique, l'île de Saint-Domingue à la souveraineté de laquelle la France n'a pas renoncé ; aux Antilles, la Martinique, la Guadeloupe, la Désirade, Marie-Galande, la Guyanne française dont Cayenne est la capitale, et dans le golfe de Saint-Laurent les îles de Saint-Pierre et de Miquelon.

---

**LEÇON XXXII.***La Confédération Germanique.*

*D.* QUELS états comprend la confédération germanique ?

*R.* Elle comprend les provinces allemandes de l'Autriche, de la Prusse et du royaume des Pays-Bas; les royaumes de Bavière, de Saxe, de Hanovre et de Wirtemberg; la Hesse électorale, les grands duchés du Bas-Rhin, de Bade, de Hesse-Darmstadt, de Nassau, de Luxembourg, de Saxe-Weimar, de Mecklenbourg et d'Oldembourg, les principautés d'Anhalt, de Waldeck, de Brunswick et de Hohenzollern; les comtés de Reuss, de la Lippe et de Schaumbourg, et plusieurs villes libres.

*Le royaume de Bavière*

*D.* Quelle est la situation de ce royaume ?

*R.* Il est situé entre les 47°. et 50°. de latitude N. Il est borné au nord par les grands-duchés de Saxe et de Hesse-Darmstadt, au midi par le Tyrol, à l'est par l'archiduché d'Autriche, à l'ouest par le royaume de Wirtemberg.

*D.* Quelles sont les principales rivières du royaume de Bavière ?

*R.* Ces rivières sont le Danube, l'Inn, l'Iser,

le Lech, la Nab et l'Iller, qui se jettent dans le Danube; et la Rednitz qui se jette dans le Mein.

*D.* Quelles sont les divisions du royaume de Bavière?

*R.* Il se divise en huit provinces, savoir: du Haut-Mein, du Bas-Mein, du Rhin, de la Régén, de Retzat, du Haut-Danube, du Bas-Danube et de l'Iser.

*D.* Quelles sont les principales villes de ce royaume?

*R.* Ces villes sont: Munich, capitale du royaume sur l'Iser; Würtzbourg sur le Mein; Nuremberg sur la Rednitz, Bamberg sur la même rivière; Bayreuth sur le Mein; Anspach, Ingolstadt, Naumbourg; sur la Saale, Augsbourg, ville fameuse par la confession de foi luthérienne; Mindelheim, Spire sur le Rhin, et Lândau, place forte sur la Quiech, cédée à la Bavière, en vertu du traité de Paris de 1815.

*D.* Quel est le Gouvernement de la Bavière, et quelle en est la religion?

*R.* C'est un Gouvernement monarchique représentatif; et la religion catholique est celle de l'Etat.

*Le royaume de Saxe.*

*D.* Quelle est la situation du royaume de Saxe?

*R.* Ce royaume est situé entre les 50°. et 52°. de latitude N. Il est borné au nord et à l'est par la Prusse, au sud par les monts Erzgebürg et

par la Bohême , et à l'ouest par le grand duché de Saxe-Weimar.

*D.* Quelles en sont les principales rivières ?

*R.* Ses rivières sont l'Elbe , la Mulda , la Sprée, l'Elster et la Saale.

*D.* Quelles en sont les divisions et les villes principales ?

*R.* Le royaume de Saxe est divisé en cinq Cercles , savoir : la Misnie , Leipsick, l'Erzébürg , le Woigland et une petite partie de la Lusace méridionale. Les villes principales sont Dresde , capitale du royaume , belle ville , Meissen sur l'Elbe ; Leipsick , très-peuplée et très-commerçante , avec une célèbre université , sur l'Elster ; Bautzen sur la Sprée , Plauen sur la Saale et Freyberg près la Mulda.

*D.* Quel est le gouvernement de la Saxe , et quelle en est la religion ?

*R.* Cegouvernement est une monarchie absolue ; le protestantisme est la religion de presque tous les habitans du royaume ; mais la religion catholique est celle du roi et de sa famille , et de plusieurs grandes maisons.

#### *Le royaume de Wirttemberg.*

*D.* Quelle est la situation de ce royaume ?

*R.* Ce royaume est situé entre les 47°. 30'. et 49°. 30'. de latitude N. Il est borné au nord et à l'est par la Bavière , au midi et à l'ouest par le grand-duché de Bade et le lac de Constance.

*D.* Quelles en sont les rivières principales ?

*R.* Ces rivières sont le Danube, le Neckar, l'Iaxt et le Kocher.

*D.* Quelles en sont les divisions et les principales villes ?

*R.* Il se divise en douze bailliages, savoir : le Iaxt, le Neckar-Inférieur, le Kocher, l'Ens, le Rottemberg, Rems et Fils, la Forêt noire, les Alpes, le Neckar-Citérieur, le Neckar-Supérieur, le Danube et le Lac. Les principales villes sont Stuttgart, capitale du royaume, sur le Neckar; Louisbourg sur le Neckar, Ulm sur le Danube, Tubingen sur le Neckar, Mergenthiem, Gaildorf et Buchau.

*D.* Quel est le gouvernement du royaume de Wirttemberg, et quelle en est la religion ?

*R.* C'est une monarchie avec représentation. La religion luthérienne est celle de l'Etat.

### *Le Royaume de Hanovre.*

*D.* Quelle est la situation du royaume de Hanovre ?

*R.* Ce royaume, qui appartient au roi d'Angleterre, est situé entre le 51°. et 54°. de latitude N. Il est borné, au nord, par le Danemark, le grand-duché de Mecklembourg, et la mer du Nord; au midi et à l'est par le royaume de Prusse et la Hesse él., à l'ouest par le duché d'Oldembourg et le royaume des Pays-Bas.

*D.* Quelles en sont les divisions ?

*R.* Ce royaume est composé de treize divisions, qui sont le duché de Brémen, le duché de Verden, le duché de Lunebourg, le comté de Danneberg, la principauté de Calenberg, la principauté de Grubenhagen, l'évêché d'Hildesheim, le comté d'Hoya, le comté de Diepholtz, l'évêché d'Osnabruck, le comté de Lingen, le comté de Bentheim, l'Oost-Frise et la principauté de Jéver.

*D.* Quelles en sont les principales rivières ?

*R.* Ces rivières sont l'Elbe, le Weser, l'Aller, la Leine et l'Oker.

*D.* Quelles sont les principales villes du royaume de Hanovre ?

*R.* Ses principales villes sont Hanovre, capitale du royaume, sur la Leine ; Lunebourg et Gottingue sur la même rivière ; Celle sur l'Aller ; Embden sur l'Ems ; Osnabruck, Hameln sur le Weser, Brémen, ville libre, sur la même rivière ; Hoya, Nienburg sur le Weser, Haarburch, au sud-est d'Hambourg, sur l'Elbe ; et Lingen sur l'Ems.

*D.* Quelle en est la religion ?

*R.* Le luthéranisme.



## LEÇON XXXIII.

*Suite de la Confédération Germanique.*

*La Hesse électorale. — Les Grands-duchés de Hesse-Darmstadt, de Bade et de Nassau.*

*D.* QUELLE est la situation de la Hesse électorale ?

*R.* Elle est située par le 51°. de latitude N., et bornée au nord par le royaume de Hanovre et le grand duché du Bas-Rhin ; au sud, par le grand-duché de Hesse Darmstadt ; à l'est, par le royaume de Prusse et le grand-duché de Saxe-Weimar ; et à l'ouest, par le grand-duché du Bas-Rhin.

*D.* Quelles sont les principales rivières de cet Etat ?

*R.* Ces rivières sont le Weser, la Fulde et la Lahn.

*D.* Quelles en sont les divisions et les principales villes ?

*R.* Il est divisé en deux districts, qui sont Cassel et Fulde. Les principales villes sont Cassel, capitale, sur la Fulde ; Eschweg sur la Werra, Marbourg sur la Lahn, Hersfeld sur la Fulde, Smalkad, Frizlar et Giessen sur la Lahn.

*D.* Quel est le gouvernement de la Hesse électorale ?

*R.* Il est absolu , mais subordonné dans plusieurs de ses rapports , ainsi que les autres Etats de la Confédération , aux actes de la diète de Francfort sur le Mein.

*Grand-Duché de Hesse-Darmstadt.*

*D.* Quelle est la situation de ce grand-duché ?

*R.* Il est situé sur le 50°. de latitude N. Il est borné , au nord , par la Hesse électorale ; à l'est , par la Bavière ; au midi , par le grand-duché de Bade ; et à l'ouest , par le grand-duché du Bas-Rhin.

*D.* Quelles en sont les divisions ?

*R.* Il est divisé en quatre petites provinces , qui sont la Hesse méridionale , les principautés de Starkenberg et d'Isembourg , et le duché du Rhin.

*R.* Quelles en sont les principales villes ?

*R.* Les principales villes sont Darmstadt , capitale ; Mayence , grande et forte ville sur le Rhin , une des forteresses de la Confédération germanique ; Hanau , au confluent de la Kentzig et du Mein ; Offenbach , sur la même rivière ; Hombourg.

La ville libre de Francfort , où se tient la diète de la Confédération germanique , est située sur le Mein.

*D.* Quel est le gouvernement du grand duché de Hesse-Darmstadt, et quelle en est la religion?

*R.* C'est un gouvernement représentatif. La religion est la luthérienne, dans la plus grande partie. La catholique est celle de la ville de Mayence et de son territoire ou duché du Rhin.

*Grand-Duché de Bade.*

*D.* Quelle est la situation du grand-duché de Bade?

*R.* Ce grand-duché est situé entre les 47°. et 49°. 50'. de latitude N. Au nord, il est borné par le grand-duché de Hesse-Darmstadt; au midi, par la Suisse; à l'est, par le Wirtemberg, la Bavière, et à l'ouest, par le Rhin.

*D.* Quelles sont les divisions de ce grand-duché?

*R.* Il est divisé en huit Cercles, savoir: Mein et Tauber, Neckar, Pfinz et Enz, Murg, Kintzig, Treisana, Fürstemberg, et le Lac.

*D.* Quelles sont les principales villes de ces divisions?

*R.* Ces villes sont Manheim, capitale sur le Rhin à l'embouchure du Neckar; Carlsruhou, jolie ville et résidence du grand-duc de Bade; Rastadt, célèbre par un congrès de ce nom en 1798, sur le Rhin; Freybourg, université sur la Kentzig, Heidelberg sur le Mein, et Cons-

tance sur le lac de ce nom. La forteresse de Kell, située vis-à-vis Strasbourg, appartient aussi à ce grand-duché.

*D.* Quel est le gouvernement du grand-duché de Bade ?

*D.* C'est un gouvernement représentatif, sous la souveraineté du grand-duc.

*Le grand-duché de Nassau.*

*D.* Quelle est la situation du grand-duché de Nassau ?

*R.* Il est situé entre le 50°. et le 51°. de latitude N. Il est limité, au nord, par le grand-duché du Bas-Rhin, au midi et à l'ouest par le Rhin et par le grand-duché de Hesse-Darmstadt, et à l'est par la Hesse électorale.

*D.* Quelles en sont les principales villes ?

*R.* Ces villes sont Weilbourg sur la Lahn, capitale; Nassau-Usingen sur la même rivière, et Dillingen.

*D.* Quel est le gouvernement de ce grand-duché ?

*R.* Ce pays est gouverné par son grand duc, et sans représentation.

## LEÇON XXXIV.

*Suite de la Confédération Germanique.*

*Grands-Duchés de Saxe-Weimar, de Mecklembourg, d'Oldembourg, et principauté d'Anhalt.*

*D. QUELLE* est la situation du grand-duché de Saxe-Weimar ?

*R.* Il est situé par les 51°. et 52°. de latitude N. Il est borné, au nord, par la Prusse, au midi par la Bavière, à l'est par le royaume de Saxe, à l'ouest par la Hesse.

*D.* Quelles en sont les principales villes ?

*R.* Ces villes sont : Weimar, capitale ; Eyse-  
nach sur la Nassa ; Gotha sur la même rivière ;  
Meinungen sur la Werra ; Cobourg ; Naum-  
bourg sur la Saale, Saalfed, Hildebourg-Hausen  
sur la Werra ; et Jéna, université, ville célèbre  
par la grande victoire que les Français rempor-  
tèrent, en octobre 1806, sur les armées Prus-  
siennes, sur la Saale.

*Grand-duché de Mecklembourg.*

*D* Quelle est la situation du grand-duché de Mecklembourg ?

*R.* Ce grand-duché est situé entre les 53°. et

54°. 30'. de latitude N. Il est borné au nord par la mer Baltique, au sud et à l'est par les royaumes de Prusse et de Hanovre, à l'ouest par le Danemarck.

*D.* Quelles sont les principales rivières et villes de ce grand-duché ?

*R.* Les principales rivières sont : l'Elbe qui le borde au sud-ouest, la Stecknitz, la Stock, la Tellenée et la Pène. Ses villes les plus remarquables sont : Schwerin, capitale, sur le lac de ce nom ; Strélitz, Wismar sur la mer, et Rostock sur la Stok.

*Grand-Duché d'Oldembourg.*

*D.* Quelle est la situation du grand-duché d'Oldembourg ?

*R.* Ce grand-duché est situé entre les 52°. et 54°. de latitude N. Il est borné au nord par la mer du Nord et les Bouches de-Weser, au sud, à l'est et à l'ouest par le Hanovre.

*D.* Par quelles rivières ce grand-duché est-il arrosé, et quelles en sont les principales villes ?

*R.* Il est arrosé par le Weser et la Hunte ; et ses principales villes sont : Oldembourg, capitale sur la Hunte, Jéver, Klopembourg, et Embden, port de mer.

*D.* Quelle est la situation de la principauté d'Anhalt ?

*R.* Cette principauté est située sur l'Elbe,

entre les 51°. et 52°. de latitude N. Au nord , elle est bornée par la Prusse, qui l'entoure de tous côtés.

*D.* Quelles en sont les principales rivières et les villes les plus remarquables?

*R.* Les rivières principales sont : l'Elbe , la Saale et la Mulda; et les villes sont : Dessau , capitale , à l'embouchure de la Mulda , dans l'Elbe ; Bernbourg sur la Saale , et Cothen.

*D.* Quels sont les gouvernemens des Etats que vous avez nommés dans cette leçon ?

*R.* Ces Etats sont gouvernés d'une manière presque absolue par leurs princes.

## LEÇON XXXV.

### *Suite de la Confédération germanique.*

*Principautés de Schwartzbourg , de Waldeck , de Brunswick et de Hohenzollern ; Comtés de Reuss et de la Lippe ; autres Etats et Villes libres , etc.*

*D.* QUELLE est la situation de la principauté de Schwartzbourg ?

*R.* Cette principauté est située entre les 51°. et 52°. de latitude N. Elle est divisée en trois parties dont deux sont placées sur la Wipra dans

les états prussiens , et la troisième plus au sud , dans le grand duché de Saxe.

*D.* Quelles en sont les villes principales ?

*R.* Ces villes sont : Sondershausen , capitale sur la Wipra , et Rudelstadt sur la Saale.

*D.* Quelle est la situation de la principauté de Waldeck , et quelles en sont les villes principales ?

*R.* Cette principauté est située sur le 51°. de latitude N. , et placée entre le grand-duché du Bas-Rhin qui la borde au nord et à l'ouest , et l'électorat de Hesse qu'elle a au sud et à l'est. Ses principales villes sont : Corbach , capitale ; et Waldeck sur l'Edder.

*D.* Quelle est la situation de la principauté de Brunswick et quelles en sont les villes principales ?

*R.* Cette principauté est située sur le 52°. de latitude N. , et au sud-est du royaume de Hanovre. Elle a pour principales villes Brunswick et Wolfenbuttel sur l'Oker.

*D.* Quelle est la situation de la principauté de Hohenzollern , et quelles en sont les principales villes ?

*R.* Cette principauté , qui a donné son nom à une des plus anciennes maisons de l'Europe , est située par le 48°. 30'. de latitude N. , sur le Danube et au midi du royaume de Wirtemberg. Elle est divisée en deux parties , dont les principales villes sont Héchingen , capitale ; et Siegmaringen sur le Danube.



*D.* Quelle la situation du comté de Reuss, et quelles en sont les principales villes?

*R.* Ce comté est entre les 50°. et 51°. de latitude N. Il est divisé en trois parties dont deux sont placées sur la rivière d'Ester et l'autre sur la Saale, entre le royaume de Saxe et le grand - duché de ce nom. Les villes les plus remarquables sont : Greitz, capitale, sur l'Elster ; Géra sur la même rivière, et Schleitz sur la Saale.

*D.* Quelle est la situation du Comté de la Lippe - Detmold, et quelle en est la ville la plus remarquable?

*R.* Ce comté est situé sous le 52°. de latitude N., entre le Weser et la Leine, et à l'ouest du Hanovre. Sa capitale est Buckburg. Il a aussi les villes de Detmold sur l'Ems et de Schaumbourg.

*D.* Quels sont les autres états qui font partie de la Confédération germanique ?

*R.* Ces états sont : les provinces héréditaires de la maison d'Autriche, en Allemagne, dont nous avons déjà parlé ; plusieurs provinces de la monarchie prussienne, les duchés de Holstein et de Lauenbourg qui appartiennent au roi de Danemarck ; le grand duché de Luxembourg qui appartient au royaume des Pays Bas ; et les villes libres. Nous rendrons compte des provinces prussiennes, danoises, et du Luxembourg, lors-

qu'il sera question de la Prusse, du Danemarck et du royaume des Pays-Bas.

*D.* Quelles sont les villes libres qui font partie de la Confédération germanique ?

*R.* Ces villes sont : Hambourg, sur la rive droite de l'Elbe ; Brémen, sur le Weser ; Lubeck, et Francfort sur le Mein.

*D.* Quelle est la situation de Hambourg ?

*R.* Cette ville, l'une des plus peuplées et des plus opulentes d'Allemagne, est située entre les 53°. et 54°. de latitude N., sur l'Elbe et à vingt lieues de l'embouchure de ce fleuve dans la mer du Nord. Les villes de Cuxhaven et Ritzbittel en dépendent avec leur territoire.

*D.* Quelle est la situation de Brémen ?

*R.* Cette ville, qui possède une université, est située sur le Weser, et à quinze lieues de l'embouchure de ce fleuve dans la mer du nord.

*D.* Quelle est la situation de Lubeck.

*R.* Cette ville, qui est considérable, est placée près du 54°. de latitude N. sur la Trave et à deux lieues au sud-ouest du golfe de son nom, dans la mer Baltique. Travemunde, située sur le même golfe, en dépend.

*D.* Quelle est la situation de la ville de Francfort ?

*R.* Cette ville, qui est le siège de la Diète Germanique, et l'une des plus riches et plus com-

merçantes de l'Allemagne, est sur le Mein, à cinq lieues de son embouchure dans le Rhin.

*D.* La Confédération germanique est-elle ancienne ?

*R.* Elle n'a été formée qu'en 1815, par l'acte du Congrès de Vienne, qui a réglé les rapports généraux des princes et des villes qui la composent, soit avec l'union, soit avec les peuples soumis à leur domination.

*D.* Quel est le chef de cette Confédération ?

*R.* C'est l'empereur d'Autriche qui préside la diète dans la personne d'un ministre plénipotentiaire; mais cette présidence ne lui donne qu'une supériorité honorifique.

*D.* Les royaumes de Bavière, de Wirtemberg, de Saxe et de Hanovre sont-ils anciens ?

*R.* L'origine des trois premiers ne remonte qu'à l'année 1806, et celui de Hanovre ne date que de 1815.

## LEÇON XXXVI.

### *Le Royaume de Prusse.*

(Voyez la Carte de l'Europe centrale.)

*D.* QUELLE est la situation du royaume de Prusse ?

*R.* Il s'étend depuis le 3°. 35'. jusqu'au 20°. 30'. de longitude à l'est du méridien de Paris.

et depuis le  $49^{\circ} 56'$ . jusqu'au  $55^{\circ}$ . de latitude N. Au nord, il est borné par la mer Baltique, le grand-duché de Mecklembourg, et le royaume de Hanovre; au sud, par l'empire d'Autriche, la Saxe, la Hesse et le duché de Nassau; à l'ouest, par le royaume des Pays-Bas, et à l'est, par celui de Pologne.

*D.* En combien de provinces se divise ce royaume?

*R.* Il se divise en neuf grandes provinces, qui sont : le Brandebourg, la Prusse orientale, la Prusse occidentale, la Prusse méridionale, la Poméranie, la province de Magdebourg, la Silésie, le duché de Saxe, et le grand-duché du Bas-Rhin.

### *Le Brandebourg.*

*D.* Quelle est la situation du Brandebourg?

*R.* Cette province, située entre les  $52^{\circ}$ . et  $53^{\circ}$ . de latitude N., est bornée au nord par la Poméranie et le Mecklembourg; au sud par le grand duché de Saxe; à l'est par la Prusse occidentale, et à l'ouest par le duché de Magdebourg.

*D.* Quelles en sont les principales rivières?

*R.* Ces rivières sont : l'Oder, la Sprée, la Stéponitz, le Havel, l'Ucker, et la Warta.

*D.* Quelles sont les principales villes du Brandebourg?

*R.* Ces villes sont : Berlin, capitale de toute la

monarchie, grande, belle, forte et peuplée, sur la Sprée; Custring, place forte, sur l'Oder, à l'embouchure de la Netze; Francfort sur l'Oder; Prenslow, place forte, sur l'Ucker; Perlberg sur la Stéponitz; Grossen sur l'Oder; Brandebourg sur le Havel; Postdam et Spandau, places fortes, sur la Sprée; et Stendal près de l'Elbe.

*La Prusse orientale.*

*D.* Quelle est la situation de cette province?

*R.* Elle est située entre les 53°. et 55°. de latitude N. Au nord, elle est bornée par la mer Baltique et la Russie; au sud et à l'est, par le royaume de Pologne; et à l'ouest, par la Prusse occid.

*D.* Quelles rivières arrosent cette province?

*R.* Ces rivières sont : le Niémen, la Prégel, la Passarge, et l'Alle.

*D.* Quelles en sont les principales villes?

*R.* Ces villes sont : Kœnigsberg, capitale, sur la Prégel; Mémel, port sur le Curisch-Haff; Tilsitt, fameuse par le traité de ce nom en 1807, sur le Niémen; Gumbinen sur la Prégel, Braunsberg sur la Passarge, Heilsbourg sur l'Alle; Friedland, fameuse par une victoire des Français sur les Prussiens et les Russes en 1806; Preussich-Eylau, célèbre par une autre victoire des mêmes, dans la même année; et Pillau, port de mer sur le Frisch-Haff.

*Prusse occidentale.*

*D.* Quelle est la situation de la Prusse occidentale ?

*R.* Elle est située entre les 53°. et 54°. 20'. de latitude N. Elle est limitée , au nord , par la Poméranie ; au sud , par la Prusse méridionale ; à l'est , par la Prusse occidentale ; à l'ouest , par le Brandebourg.

*D.* Quelles en sont les principales rivières ?

*R.* Ces rivières sont : la Vistule et le Nogat, qui en est une branche , et qui , avec la branche occidentale , forme un Delta avant son entrée dans la mer Baltique , au golfe de Dantzick.

*D.* Quelles sont les principales villes de la Prusse occidentale ?

*R.* Ces villes sont : Marienwerder , capitale , ville assez considérable près de la Vistule ; Dantzick sur la Vistule et près du golfe de son nom ; Marienbourg sur le Nogat ; Elbing , place forte , sur le Frisch-Haff ; Culm ; Dirchau ; Graudentz , toutes trois sur la Vistule ; Caunitz et Thorn sur la Vistule.

*Prusse méridionale.*

*D.* Quelle est la situation de cette province ?

*R.* Cette province est bornée , au nord-ouest , par la Prusse occidentale ; à l'ouest , par le Brandebourg ; au midi , par la Silésie ; et à l'est , par le royaume de Pologne.

**D.** Quelles en sont les principales rivières et les villes les plus remarquables.

**R.** Les principales rivières sont : la Vistule , la Warta , la Proszna , l'Obra et la Netze. Les villes remarquables sont : Posen, capitale, sur la Warta ; Bromberg ; Inowralaw sur la Netze ; Mézeritz et Kosten sur l'Obra , et Gnessen. Toutes ces villes ont été démembrées de l'ancien royaume de Pologne.

## LEÇON XXXVII.

### *Suite du Royaume de Prusse.*

#### *La Poméranie.*

**D.** QUELLE est la situation de la Poméranie ?

**R.** Cette province est située sur le 54°. de latitude N. Elle a, au nord, les côtes de la mer Baltique ; au midi, le Brandebourg et la Prusse occidentale ; à l'est, la Vistule, et à l'ouest, le grand-duché de Mecklembourg.

**D.** Quelles rivières arrosent cette province ?

**R.** Ces rivières sont : l'Oder , la Péén , la Persante , la Wipper , et la Stolpe.

**D.** Quelles sont les principales villes de la Poméranie ?

*R.* Ces villes sont : Stettin , capitale et place forte , sur l'Oder ; Stralsund , place forte , capitale de l'ancienne Poméranie suédoise , sur le détroit de Rugen ; Anklam sur la Péén , Demmin sur la même rivière ; Bergen dans l'île de Rugen ; Ussédom et Wollin dans l'île du même nom , à l'embouchure de l'Oder ; Colberg , à l'embouchure de la Persante ; Rugenwald , à l'embouchure de la Wipper , dans la mer Baltique ; Stolpe , sur la rivière de ce nom ; et Corlin sur la Persante

*Duché de Magdebourg.*

*D.* Quelle est la situation du duché de Magdebourg ?

*R.* Il est situé par les 51°. à 52°. de latitude N. Il s'étend , au nord et à l'est , le long de l'Elbe ; il a , au midi , le grand-duché de Saxe , et à l'ouest le Hanovre.

*D.* Quelles en sont les principales villes ?

*R.* Ces villes sont : Magdebourg , place forte et capitale , sur l'Elbe ; Hall sur la Saale ; Mansfeld et Stendal.

*Duché de Silésie.*

*D.* Quelle est la situation du duché de Silésie ?

*R.* Ce duché est situé entre les 50°. et 52°. de



latitude N. Au nord, il est borné par le Brandebourg et la Prusse méridionale; à l'est, par le royaume de Pologne; au midi, par la Bohême, la Moravie et la Silésie autrichienne; à l'ouest, par le royaume de Saxe et le duché de ce nom.

*D.* Quelles en sont les principales rivières?

*R.* Ces rivières sont : l'Oder, la Bober, la Neiss, la Schweidnitz et la Kalsbasch.

*D.* Quelles en sont les villes les plus remarquables?

*R.* Ces villes sont : Breslau, place forte et capitale; Glogau, Oppeln, Kosel, Ratibor, toutes sur l'Oder; Liegnitz, sur la Kalsbasch, Jauer, Schweidnitz, sur la rivière de ce nom; Wolau, Oels, Neiss, Glatz, sur la Neiss; et Brieg sur l'Oder.

#### *Duché de Saxe.*

*D.* Quelle est la situation du duché de Saxe?

*R.* Il s'étend entre les 51°. à 52°. de latitude N. Il est borné, au nord, par le Brandebourg; au midi, par le royaume de Saxe; à l'est, par la Silésie; à l'ouest, par le Dessau et Magdebourg.

*D.* Quels pays comprend le grand-duché de Saxe?

*R.* Ce duché comprend le pays d'Halberstadt,

la Thuringe , le Cercle électoral de Saxe , et partie de la province de Lusace.

*D.* Quelles en sont les principales rivières ?

*R.* Ces rivières sont : l'Elbe, la Saale, la Sprée, la Zorge , l'Unstratt , et la Neiss.

*D.* Quelles en sont les villes les plus remarquables ?

*R.* Ces villes sont : Wittemberg , place forte , capitale sur l'Elbe ; Halberstadt sur l'Oker ; Torgau sur l'Elbe ; Halle sur la Saale ; Erfurth sur la Géra ; Querfurth , Heiligenstadt sur la Lione ; Gœrlitz sur la Neiss ; Spremberg sur la Sprée ; Luckau ; Mersebourg sur la Saale ; Cottbuss sur la Sprée , et Guben sur la Neiss.

## LEÇON XXXVIII.

*Suite du Royaume de Prusse.*

*Grand-Duché du Bas-Rhin.*

*D.* QUELLE est la situation du grand-duché du Bas-Rhin ?

*R.* Il est situé entre les 49°. et 52°. 30. de latitude N. Au nord il est borné par les royaumes des Pays-Bas et de Hanovre ; au sud par la France , la Bavière Rhénane , et les grands-duchés de Nassau et de Hesse-Darmstadt ; à l'ouest

par les Pays-Bas , et à l'est par la Hesse électo-  
rale et le Hanovre.

*D.* De quel pays ce grand-duché est-il com-  
posé ?

*R.* Il est formé des duchés de Juliers , de  
Clèves , de Westphalie et de Berg ; du comté de  
la Marck ; des principautés de Rawensberg et  
de Minden ; des évêchés de Munster et de Pa-  
derborn , et des quatre départemens français de  
Rhin-et-Moselle , de la Moselle , de la Sarre et  
de la Roër.

*D.* Quelles en sont les principales rivières ?

*R.* Ces rivières sont : le Rhin qui le traverse ,  
la Moselle , la Sarre , le Weser , la Lippe , la  
Roër , la Ruhr et la Niers.

*D.* Quelles en sont les villes les plus remar-  
quables ?

*R.* Ces villes sont : Dusseldorf dans le pays  
de Berg , capitale , près du Rhin ; Cologne , an-  
cienne capitale de l'électorat de ce nom ; Wesel,  
Bonn , Coblantz , ville forte , située sur le  
Rhin , à l'embouchure de la Moselle ; Aix-la-  
Chapelle , Clèves , Trèves , ancienne capitale de  
l'électorat de ce nom , sur la Moselle ; Guel-  
dres sur la Niers ; Minden sur le Weser ; Muns-  
ter , près des sources de l'Ems ; Lippstadt ;  
Hamm et Paderborn , sur la Lippe ; Arensburg  
sur la Ruhr ; Sarrebruck et Sarrelouis , villes  
fortes , démembrées de la France , sur la Sarre.

*D.* Quelles sont les provinces de la monar-

chie Prussienne , qui font partie de la Confédération germanique ?

*R.* Ces provinces sont : le Brandebourg , la Poméranie , le duché de Magdebourg , le duché de Saxe , et le grand-duché du Bas-Rhin.

---

### LEÇON XXXIX.

#### *Suite du Royaume de Prusse.*

*D.* LE royaume de Prusse est-il ancien ?

*R.* Il ne date que du commencement du dix-huitième siècle. Auparavant ce n'était qu'un électorat qui portait le titre de Brandebourg. L'ancienne capitale des états de l'Électeur était Kœnigsberg , capitale de la Prusse orientale.

*D.* Quelle est la population de la Prusse ?

*R.* Elle s'élève à environ onze millions d'individus.

*D.* Comment cet état s'est-il agrandi ?

*R.* Il s'est agrandi à différentes époques , soit par des conquêtes , soit par des cessions ; 1<sup>o</sup>. par les conquêtes du roi Frédéric-le-Grand qui s'empara d'une partie de la Silésie , appartenant à la maison d'Autriche ; 2<sup>o</sup>. par les cessions , lorsque cette puissance entra avec l'Autriche et la Russie , dans le partage de la Pologne ; et dans ces derniers temps , lorsque le roi de Saxe fut forcé de lui céder plusieurs de ses

provinces , et lorsqu'en 1815 , la France , en vertu du traité de Paris , lui céda quatre départemens , en totalité ou en partie.

*D.* Quel est le gouvernement de la Prusse ?

*R.* C'est une monarchie absolue et presque militaire. Cependant les provinces nouvellement acquises se gouvernent en général par les lois qui les régissaient auparavant.

*D.* Quelles sont les forces militaires de la Prusse ?

*R.* Elles peuvent s'élever en temps de guerre à environ deux cent cinquante mille hommes.

*D.* Quelle est la religion de la Prusse ?

*R.* La religion de l'état est le luthéranisme , qu'embrassa dès sa naissance Albert , électeur de Brandebourg ; mais dans quelques provinces , sur-tout dans le grand-duché du Bas-Rhin , la religion catholique est la plus répandue.

*D.* Quelles sont les productions de la Prusse ?

*R.* Elle produit des grains , peu de vin ; mais ses pâturages nourrissent beaucoup de bestiaux , et ses forêts servent de retraite à un nombreux gibier. Ses manufactures ne sont point renommées. Ses provinces occidentales sont les plus peuplées , les plus industrieuses , et les plus riches.

## LEÇON XL.

*Le royaume de Danemarck.**( Voyez la Carte de l'Europe centrale. )*

**D.** QUE comprend le Danemarck proprement dit ?

**R.** Il comprend le Jutland et les îles qui sont situées à l'est, entre ce pays et la Suède, dans la mer Baltique.

**D.** Quest ce que le Jutland et quelle en est la situation ?

**R.** Le Jutland est une presqu'île de la mer du Nord, qui s'étend entre le 53°. et le 58°. de latitude N. ; et depuis le 5°. jusqu'au 9°. à l'est de Paris. Il est borné au sud par l'Allemagne.

**D.** Quels pays comprend cette presqu'île et quelles en sont les principales rivières ?

**R.** Elle comprend, outre le Jutland propre, les duchés de Sleswick, de Holstein, et de Lauenbourg. Ses rivières principales sont : l'Elbe qui la borne au midi, et l'Eyder.

**D.** Quelles sont les principales villes du Jutland propre ?

**R.** Ces villes sont : Wiborg, près du golfe ou lac de Lyn ; Aalborg sur le même lac ; Aarhus sur la mer Baltique, à l'ouest.

*D.* Quelles sont les principales villes du duché de Sleswick ?

*R.* Ces villes sont : Sleswick , capitale près de la mer à l'ouest ; Flensburg , et Tonningen , port de mer très-commerçant , à l'embouchure de l'Eyder dans la mer du Nord.

*D.* Quelle est la situation du duché de Holstein , et quelles en sont les principales villes ?

*R.* Il est situé sous le 54°. de latitude N. Ses principales villes sont : Kiel , capitale sur l'Eyder ; Lunden , Gluckstadt et Altona sur l'Elbe , au-dessous de Hambourg.

*D.* Quelle est la situation du Lauenbourg , et quelles en sont les principales villes ?

*R.* Il est situé sous le 53°. de latitude N. et au sud-est du Holstein. Il a Lauenbourg , capitale , sur l'Elbe , et Ratzeburg.

*Iles du Danemarck.*

*D.* Quelles sont les îles principales du Danemarck propre ?

*R.* Ces îles sont : celles de Sééland , de Fionie , d'Aaland , de Falster , de Moen , d'Alsen , d'Æroë-Amager , de Farnern , et de Bornholm dans la mer Baltique ; Sylt et Helgoland dans l'Océan atlantique , à l'embouchure de l'Elbe.

*D.* Quelle est la situation de l'île de Sééland , et quelles en sont les villes les plus remarquables ?

*R.* Cette île est située entre les 55°. et 56°. de

latitude N. , et vis-à-vis l'extrémité sud-ouest de la Suède. Ses principales villes sont : Copenhague , capitale du royaume , port de mer et université ; Roskild et Elsingor , port de mer sur le Sund ; Frédérikborg , château royal.

*D.* Quelle est la situation de l'île de Fionie , et quelles en sont les principales villes ?

*R.* Cette île est située à l'est du Jutland et à l'ouest de l'île de Sééland. Ses principales villes sont : Odensée , capitale au centre , Niborg , et Swinborg sur les côtes.

*D.* Quelle est la situation de l'île de l'Aaland , et quelle en est la principale ville ?

*R.* Cette île est située sous le 54°. de latitude N. Naskow en est la capitale.

*D.* Quelle est la situation de l'île de Bornholm , et quelle en est la ville principale ?

*R.* L'île de Bornholm est située dans la Baltique par le 55°. de latitude N. Elle renferme la ville de Runder.

*D.* Quelle est la situation des îles de Falster , de Moen , d'Alsen et de Fémern ?

*R.* Elles sont situées au sud de la Sééland et de la Fionie , entre les 54°. et 55°. de latitude N.

*D.* Quelles sont les autres îles de l'Océan atlantique qui dépendent du Danemarck ?

*R.* Ces îles sont : celles d'Islande et de Faéroé.

*D.* Quels sont la situation , la division et les principaux endroits de l'Islande ?



*R.* L'Islande est comprise entre le 18°. 20' et le 27°. de longitude à l'ouest de Paris, et entre le 63°. 30' et 67°. 30' de latitude N. Elle est divisée en quatre parties qui prennent les noms des quatre points cardinaux. Ses principaux endroits sont : Skalholt, village au N. O. du mont Hécla, volcan célèbre, dans le quartier méridional; Holla au nord; Holméra à l'est, et Oskglot à l'ouest.

*D.* Que dites-vous des îles Faéroé?

*R.* Ce groupe qui se compose de quarante îles dont celle de Wager est la plus considérable, est situé sous le 9°. de longitude O, et sous le 62°. de latitude N.

## LEÇON XL. (*Bis.*)

### *Suite du Danemarck.*

*D.* QUELLES sont les principales productions du Danemarck?

*R.* Ce royaume produit peu de grains et point de vin : mais il renferme d'excellens et nombreux pâturages qui nourrissent beaucoup de bestiaux. Le Holstein nourrit des chevaux estimés et très-propres à la cavalerie.

*D.* Quel est le caractère des Danois?

*R.* Ils sont braves, bons marins, laborieux et attachés à leur gouvernement.

*D.* Quel est ce gouvernement ?

*R.* C'est une monarchie absolue, tempérée néanmoins par des lois sages et les coutumes du pays.

*D.* Quelle est la religion du Danemarck ?

*R.* C'est le luthéranisme avec l'épiscopat.

*D.* Quelle est la population de ce royaume, et quelles en sont les forces militaires ?

*R.* Cette population n'est guère que de deux millions cinq cent mille individus. Les forces de terre ne s'élèvent pas à plus de trente-six mille hommes en temps de guerre ; et les forces de mer qui, autrefois, étaient considérables, sont aujourd'hui presque nulles, ayant été détruites par les Anglais, au commencement de ce siècle.

*D.* Quelles sont les provinces du Danemarck qui entrent dans la Confédération germanique ?

*R.* Ce sont les duchés de Holstein et de Lauenbourg.

*D.* Quelles sont les possessions du Danemarck dans les autres parties du monde ?

*R.* En Afrique sur la côte de Guinée, ce sont les ports de Christiaubourg, de Printzensten, et de Komgerten ; en Asie, sur la côte de Coromandel, la ville de Tranquebar avec son territoire ; en Amérique, dans la mer des Antilles, les îles de Saint-Thomas, de Saint-Jean, de Sainte-Croix et de Saint-Christophe.

## LEÇON XLI.

*Royaume uni de Suède et de Norwège.*

*D.* QUELLE est la situation de ce royaume ?

*R.* Ce royaume, qui forme une grande presqu'île, est borné au nord par l'Océan Glacial, au midi et à l'est par la Baltique et la Russie, et à l'ouest par l'Océan Atlantique. Il s'étend depuis le 55°. jusqu'au 72°. de latitude N., et depuis le 30. jusqu'au 25°. de longitude à l'est du méridien de Paris.

*D.* Quelles sont les principales rivières du royaume de Suède et de Norwège ?

*R.* Ces rivières sont : la Tornéa, la Calix, la Luléa, la Pitéa, la Skelestéa, la Luisina, l'Osterdall, le Claro, le Glomen, et l'Angermana.

*D.* Quelles en sont les divisions ?

*R.* Il se divise en cinq grandes parties qui sont : la Suède propre, la Gothie, la Bothnie occidentale, la Laponie et la Norwège.

*La Suède propre.*

*D.* Quelles provinces comprend cette division ?

*R.* Elle comprend onze provinces, savoir : celles d'Upsal, de Westéras, d'Orébro, de Garisikland, de Dalécarlie, d'Helsingeland, d'Herjédal, de Médelpaland, de l'Angermaland ou Angermanie, et de l'Hamtland.

*D.* Quelles sont les principales villes de ces provinces ?

*R.* La province d'Upsal ou l'Upland, a pour capitale la ville de Stockolm, qui l'est aussi de tout le royaume, et Upsal qui possède une fameuse université. Le Westéras a pour capitale la ville de ce nom sur le lac Méler. L'Orébro a pour capitale la ville de ce nom sur le lac de son nom. Le Garisikland a Gèfle, sur le golfe de Bothnie. La Dalécarlie a Fahlun sur un lac. L'Helsingeland a Oderham et Hurdwikswall, sur le golfe de Bothnie. L'Herjédal a Sweg sur la Luisna. Le Médelpaland a Sundwall sur le golfe de Bothnie. L'Angermaland a Hernosand sur le même golfe ; et l'Hamtland a Ostersund sur le lac de Stoor.

### *La Gothie.*

*D.* Quelles provinces renferme la Gothie ?

*R.* Cette province qui est entre les 55°. et 59°. de latitude N. renferme le Gothemborg, le Halland, le Malmogus, le pays de Christianstadt, le Skaraborg, le pays de Carlstadt, le Linko-

ping, le Jonkoping, le Cronemborg, le Calmar, le Bléking, et l'île de Gottland.

*D.* Quelles sont les principales villes de la Gothie ?

*R.* Ces villes dont la plupart donnent leur nom au pays où elles sont situées, sont : Gothemborg à l'embouchure du Claro dans la mer du nord ; Halmstadt sur le Cattégat ; Helsingborg, forteresse ; Malmoé sur le Sund ; Christianstadt, Wénersborg sur le Claro, à sa sortie du lac Wener ; Skara au midi du même lac ; Carlstadt au nord de ce lac ; l'Inkoping, Jonkoping au sud du lac Wetter ; Wexio sur le Morums ; Calmar sur la mer Baltique, Carlscrona, port de mer très-fréquenté sur la Baltique, et Wisby dans l'île de Gottland.

*La Bothnie occidentale, et la Laponie.*

*D.* Quelle est la situation de la Bothnie occidentale et quelles en sont les principales villes ?

*R.* Elle est située par les 64°. et 67°. de latitude N. Ses principales villes sont Tornéa, capitale au fond du golfe de Bothnie ; Luéa, Pitéa et Uméa, sur ce même golfe.

*D.* Quelle est la situation de la Laponie et quel en est le lieu le plus remarquable ?

*R.* Elle s'étend entre les 64°. et 66°. de latitude N. Elle renferme Asèle sur l'Angermana.

---

**LEÇON XLII.**

*Suite du Royaume de Suède et de Norwège.*

---

*La Norwège.*

*D.* QU'EST-CE que la Norwège, et quelle en est la situation ?

*R.* La Norwège est un ancien royaume qui, après avoir long-temps appartenu au Danemarck, a été cédé à la Suède en 1814, en vertu d'un traité ratifié par le Congrès de Vienne. Il est situé depuis le 58°. de latitude N. jusqu'au 72°. en y comprenant la Laponie ci-devant Danoise. Il s'étend le long des côtes de la mer du Nord, à l'ouest des monts Dofrine qui le séparent de la Suède.

*D.* En combien de provinces divise-t-on la Norwège ?

*R.* Elle se divise en cinq provinces, qui sont : l'Aggerhus ou Christiania, le Drontheim, le Bergenhus, le Christiansand, et le Nordland.

*D.* Quelles en sont les villes principales ?

*R.* Les villes principales sont : Christiania, capitale de la province de ce nom et de toute la

Norwège, au fond d'une baie ; Drontheim , capitale de la province de son nom , et port de mer sur une baie de l'Océan atlantique ; Berghen, ancienne capitale de la Norwège , dans la province de ce nom , et près de la mer du Nord ; Christiansand sur le Skager-Rack.

*Iles du Royaume de Suède et de Norwège.*

*D.* Quelles sont les principales îles du royaume uni de Suède et de Norwège ?

*R.* Ces îles sont : sur la côte de la Laponie , Fishéroé , Wardhun , Hindoen , Ring-Watsoé, Soroé et Maggeroé , sur les côtes de Norwège , Sengen , Hindoen , Angoen , Waagen , Mals-troem , Végen occidentale , Wigten , Hitterih , Stadland , etc. ; et dans la Baltique , les îles de Gotland , d'Oland. La Suède possède , en Amérique , l'île de Saint-Barthélemi dans la mer des Antilles.

*D.* Quel est le climat de la Suède ?

*R.* C'est le plus froid de l'Europe, les hivers y sont très-rigoureux ; mais il y a ordinairement été trois mois d'une très-grande chaleur. L'air en est pur , et l'on y voit rarement des maladies épidémiques.

*D.* Quelles sont les productions de ce royaume ?

*R.* Il produit peu de grains et point de vins , ses pâturages nourrissent un assez grand nombre de bestiaux. Ses forêts sont remplies de renards et d'hermines et fournissent une grande

quantité de bois de marine ; ses montagnes renferment des mines considérables de fer , de cuivre et d'autres métaux dont elle fait un commerce considérable.

*D.* Quel est le caractère des Suédois ?

*R.* Ils sont braves , polis , laborieux et cultivent les sciences avec succès.

*D.* Quelle est la population de la Suède et quelles en sont les forces militaires ?

*R.* Ce royaume renferme avec la Norvège un peu plus de trois millions d'individus , et peut mettre de quarante à cinquante mille hommes sur pied ; mais sa principale force consiste dans sa marine et dans sa position.

*D.* Quel est le gouvernement de la Suède ?

*R.* C'est une monarchie représentative. La Suède propre et la Norvège ont , chacune , une diète qui concourt avec le pouvoir royal à la formation des lois.

*D.* Quelle est la religion de la Suède ?

*R.* C'est un luthéranisme qui admet l'épiscopat.

*D.* Quelle est la langue suédoise ?

*R.* C'est une langue particulière formée de l'ancien scandinave.



## LEÇON XLIII.

*Le Royaume uni de la Grande-Bretagne.*

*D.* DE quels pays est formé ce royaume ?

*R.* Il est formé de deux grandes îles. La première comprend l'Angleterre et l'Écosse, la seconde est l'Irlande ; ce royaume comprend encore plusieurs groupes d'îles dans l'Océan Atlantique.

*D.* Quelle en est la situation ?

*R.* Ils s'étendent depuis le 50°. jusqu'au 61°. 50'. de latitude N., avec les îles Schetland ; et depuis 0°. 30'. jusqu'au 13°. de longitude à l'ouest du méridien de Paris. L'Écosse est située au nord de l'Angleterre dont elle est séparée par les monts Cheviots, et l'Irlande à l'ouest de ce dernier royaume, dont elle est séparée par la mer de son nom, et par le canal de Saint-Georges.

*D.* Quelles sont les autres îles comprises dans le royaume uni de la Grande-Bretagne ?

*R.* Ces îles sont : les îles de Man et d'Anglesey dans la mer d'Irlande ; les Schetland, les Orcades, les Hébrides, les îles de Saint-Kilda, de Skie, de Coll, de Tyrey, de Mull, de Jura, d'Ilay et d'Arrau, au nord et à l'ouest de l'Écosse ; les Sorlingues, l'île de Wight, au sud-

ouest de l'Angleterre, et les îles de Jersey et de Guernesey près la côte de France.

*L'Angleterre propre.*

*D.* Quelle est la situation de l'Angleterre proprement dite ?

*R.* Elle s'étend du 50°. au 56°. de latitude N. Elle est bornée au nord par l'Ecosse ; au sud , à l'est et à l'ouest par l'Océan atlantique.

*D.* Quelles en sont les principales rivières ?

*R.* Ces rivières sont : la Tamise qui traverse la ville de Londres et se jette dans la mer du nord ; la Severn qui se jette dans le canal de Bristol ; le Trent qui se jette dans la mer du Nord ; l'Ouse , l'Yorck , l'Humber , la Tyne , la Wye , et la Wyne.

*D.* Quelles sont les divisions de l'Angleterre ?

*R.* Elle se divise en Angleterre propre et en principauté de Galles ; et ces deux parties se se divisent ensemble en cinquante-deux comtés, dont trente-sept au circuit et quinze au milieu. Voici le tableau des premiers : les comtés du circuit , en commençant par ceux du nord , et en allant ensuite à l'est , au sud et à l'ouest , sont : Northumberland , Durham , Yorck , Lancaster , Westmoreland , Cumberland , Lincoln , Norfolk , Suffolk , Huntingdon , Cambridge , Bedford , Hertford , Essex , Middle-

sex, Kent, Surrey, Sussex, Berk, Hamp, Wilts, Dorset, Sommerset, Devon, Cornwall, Glamorgan, Brecknok, Radnor, Caemarthén, Pembrok, Cardigan, Montgoméři, Mérioneth, Caernarvon, Anglesey, Denbigh et Flint. Les douze derniers appartiennent à la principauté de Galles.

*D.* Quels sont les comtés du milieu ?

*R.* Ce sont : ceux de Stafford, de Warwick, de Worcester, de Chester, de Derby, de Nottingham, de Leicester, de Rutland, de Northampton, de Buckingham, d'Oxford, de Gloucester, de Montmouth, de Héréford et de Shrop.

*D.* Quelles sont les principales villes de l'Angleterre ?

*R.* Ces villes sont : Londres, ville opulente, très-peuplée, capitale de tout le royaume sur la Tamise ; York sur la rivière du même nom ; Liverpool, Bristol vers l'embouchure de la Severn ; Manchester, ville manufacturière sur la Mersey ; Birmingham, Schieffield sur le Don ; Falmouth sur la baie de ce nom ; Exéter sur l'Ese ; Dorchester sur la From ; Salisbury sur l'Avon ; Kingston sur l'Humber ; Lincoln sur la Witham ; Chester à l'embouchure de la Drée ; Nottingham sur le Trent ; Gloucester sur la Severn ; Oxford, université fameuse, sur la Tamise ; Cambridge, université, au nord de Londres ; Cantorbéry, archevêché, à l'est de cette capitale ; Chichester, Portsmouth sur la rade de Spithead ; Ipswich ; Yarmouth, port de mer ; Norwich sur la

Wenson ; Boston sur le Wasch , et Niewport dans l'île de Wight.

*D.* Quelles sont les villes principales de la principauté de Galles ?

*R.* Les villes les plus remarquables de cette principauté , qui est située à l'ouest de l'Angleterre propre , et dont les fils aînés des rois d'Angleterre portent le titre , depuis Edouard II , sont : Caermarthen , capitale , sur le Towi , Pembrock et Caernarvon.

#### LEÇON XLIV.

*Suite de la Grande-Bretagne.*

##### *L'Écosse.*

*D.* QUELLE est la situation de l'Écosse ?

*R.* Elle s'étend entre les 55°. et 59°. de latitude N. Elle est bornée au nord , à l'est et à l'ouest par l'Océan Atlantique , et au sud par les monts Cheviots , qui la séparent de l'Angleterre.

*D.* En combien de parties est divisé ce royaume ?

*R.* Il est divisé en trente-deux comtés dont cinq au nord , treize au sud , et quatorze au milieu.

*D.* Quelles en sont les principales rivières ?

*R.* Ces rivières sont : la Forth qui se jette dans le golfe de ce nom , à l'est ; le Tay qui se jette à l'est dans le golfe de son nom , et la Clyde qui coule au nord-ouest dans le golfe de Dumbarton.

*D.* Quelles sont les villes les plus remarquables de l'Ecosse ?

*R.* Ces villes sont Edimbourg , université , capitale de tout le royaume , sur le golfe de Forth ; Glasgow sur la Clyde ; Perth sur le Tay ; Aberdén , université ; Dundée près l'embouchure du Tay ; Inverness sur le golfe de Murray ; Dumfries sur le Nun ; Inverbervy sur la mer du Nord , et Dornok sur le golfe du même nom.

### *L'Irlande.*

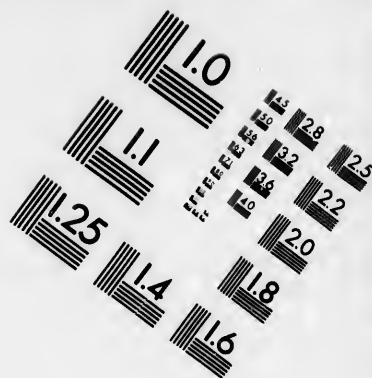
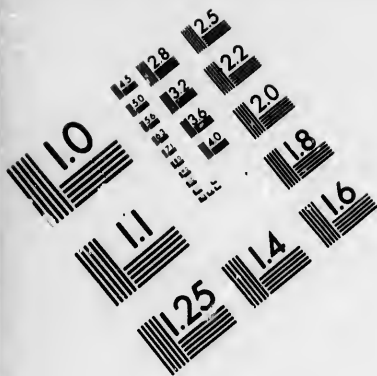
*D.* Quelle est la situation du royaume d'Irlande ?

*R.* Cette île , qui se nommait autrefois Hibernie , s'étend depuis le 51°. 20'. jusqu'au 55°. 30'. de latitude N. ; et depuis le 8°. jusqu'au 13°. de longitude à l'ouest du méridien de Paris. Elle a cent soixante-cinq lieues de longueur , et soixante de largeur.




*D.* Quelles sont les principales rivières de l'Irlande ?

*R.* Ces rivières sont : le Shannon qui prend sa source au nord dans le lac d'Allen , et se décharge





**IMAGE EVALUATION  
TEST TARGET (MT-3)**



**Photographic  
Sciences  
Corporation**

23 WEST MAIN STREET  
WEBSTER, N.Y. 14580  
(716) 872-4503

15 28 25  
18 22  
20  
18

10  
11  
12



au sud-ouest par une large embouchure dans l'Océan Atlantique ; le Blakwatter qui se jette dans la mer au sud-est ; la Boyne qui se jette dans l'Océan , à l'est ; la Foyle , la Resligo , la Barrew , la Nore , la Lune et la Lée.

*D.* Quelles sont les divisions de l'Irlande ?

*R.* Ce royaume se divise en quatre grandes parties , savoir : le Leinster , à l'est ; l'Ulster , au nord ; le Connaught , à l'ouest ; et le Munster au sud.

*D.* Quelles villes remarquables ces provinces renferment-elles ?

*R.* Le Leinster renferme Dublin , capitale du royaume ; ville considérable sur la mer , à l'est ; Wexfort et Wicklow , aussi sur la mer à l'est ; l'Ulster renferme Antrim sur le lac Néagh , Donégal et Londonderry sur la Foyle. Le Connaught a les villes de Gallway , sur la baie de ce nom , et Sligo : le Munster renferme celles de Cork , port de mer , à l'embouchure de la Lée , Limerick sur le Shannon , et Waterfort à l'embouchure de la Suive.

*D.* Quels sont les lacs et les baies les plus considérables de l'Irlande ?

*R.* Les lacs principaux sont : ceux de Neagh , d'Erne , d'Erg , de Foyle , Rée , et Swilly. Les baies les plus considérables sont : celles de Donégal , de Gallway , de Shannon , de Dingle , de Bantry , et de Kinnemar.

## LEÇON XLV.

*Suite du Royaume uni de la Grande-Bretagne.*

**D.** EN quelles années l'Écosse et l'Irlande ont-elles été réunies à l'Angleterre ?

**R.** L'Écosse y fut réunie entièrement en 1706, époque où elle perdit son parlement particulier : la réunion de l'Irlande, qui avait aussi son parlement, ne date que du commencement de ce siècle.

**D.** Quelles sont les productions du royaume uni de la Grande-Bretagne ?

**R.** Ainsi que tous les autres pays du nord, il ne produit point de vin ; peu de blé, mais assez d'autres grains ; il renferme de nombreux et excellents pâturages qui nourrissent une grande quantité de bestiaux et de chevaux estimés. Les forêts y sont rares, ainsi que les métaux ; mais on y trouve d'abondantes mines de charbons de terre.

**D.** Quelle est la population et quelles sont les forces militaires de la Grande-Bretagne ?

**R.** La population des trois royaumes avec celle des îles qui les avoisinent, s'élève à environ quatorze millions d'individus. Les forces militaires, en temps de guerre, quant aux troupes

de terre , peuvent s'élever à cent cinquante mille hommes , et quant aux armées navales , elles comprennent plus de six cents vaisseaux de guerre , de toute grandeur.

*D.* Quel est le caractère des Anglais ?

*R.* Ils sont braves , bons marins , industrieux , très-propres au commerce , aux sciences et aux arts ; mais on les accuse d'ambition , d'une trop grande estime pour eux-mêmes , et d'un injuste mépris pour les autres nations.

*D.* Quelle est la langue de la Grande-Bretagne ?

*R.* C'est une langue formée de l'ancien breton , du saxon et du français.

*D.* Quel est le gouvernement de ce royaume ?

*R.* C'est une monarchie mêlée d'aristocratie et de démocratie. Le pouvoir monarchique est entre les mains du roi , l'aristocratie se trouve dans la chambre des pairs , et la démocratie dans celle des communes. Le concours de la puissance royale et des deux chambres est nécessaire pour la confection des lois.

*D.* Quelle est la religion des trois royaumes ?

*R.* La religion de l'état , qu'on nomme anglicane , est la luthérienne épiscopale dont le roi est le chef ; le presbitéranisme qui rejette l'épiscopat , est établi dans une grande partie de l'Ecosse ; et la religion catholique est celle du plus grand nombre des Irlandais. Outre ces trois cultes , il en existe plusieurs autres en Angle-

terre, entre autres ceux des méthodistes et des quakers. On trouve aussi dans ce pays un grand nombre de juifs. Il faut professer le culte anglican, pour être membre de l'une des deux chambres du parlement.

*D.* Quelles sont les possessions de la Grande-Bretagne, hors de l'Europe ?

*R.* Ces possessions sont très-étendues en Asie, où elle est maîtresse de l'Inde, et de plusieurs îles considérables; en Amérique, où elle a le Canada, et plusieurs îles; et en Afrique, où elle a des forts sur la côte occidentale, et possède le cap de Bonne-Espérance.

---

## LEÇON XLVI.

### *Royaume des Pays-Bas.*

(Voyez la Carte de l'Europe centrale.)

*D.* QUELLE est la situation du royaume des Pays-Bas ?

*R.* Ce royaume est situé entre le  $0^{\circ} 10'$ . et le  $5^{\circ}$ . de longitude, à l'est de Paris, et entre le  $49^{\circ} 30'$ . et le  $53^{\circ} 36'$ . de latitude N. Il est borné au nord et à l'ouest par la mer du Nord, au midi par la France, et à l'est par la Confédération germanique.

*D.* Quelle est la composition de ce royaume?

*R.* Il est composé de la Hollande, de la Belgique, d'une partie de l'ancien évêché de Liège, et du grand-duché de Luxembourg.

*D.* En combien de provinces est-il divisé ?

*R.* Il est divisé en dix-sept provinces, savoir : pour la Hollande, celles de Hollande, d'Utrecht, de Gueldre, d'Over-Yssel, de Drenthe, de Frise, de Groningüe, de Limbourg ; pour la Belgique, de celles de Brabant, de la Flandre orientale, de la Flandre occidentale, de Haynault et de Namur ; la partie occidentale de l'évêché de Liège ; enfin la province de Luxembourg.

*D.* Quelles sont les villes capitales de ces provinces ?

*R.* Ces villes sont ; Amsterdam, grande, belle et riche, capitale de la Hollande, et de tout le royaume, sur l'Y ; Utrecht, cap. de la province de ce nom, sur le Rhin ; Arnheim, capitale de la Gueldre sur le Rhin ; Zéwoll, capitale de l'Over-Yssel, sur l'Yssel ; Kœverden, capitale de la Drenthe près de la Wecht ; Leeuwarden, capitale de la Frise ; Groningue, capitale de la province de ce nom ; Maestricht sur la Meuse, place forte, capitale du Limbourg ; Liège, ville considérable sur la Meuse, capitale de la province de ce nom ; Bruxelles, seconde capitale du royaume, et capitale du Brabant méridional, sur la Senne ; Gand, au confluent de la Lys dans l'Escaut, capitale de la Flandre orientale ; Bruges, sur un canal,

capitale de la Flandre occidentale ; Mons , pl. f. , capitale du Haynault ; Namur sur la Sambre et la Meuse , pl. f. , capitale de la province de ce nom ; Luxembourg , pl. f. , sur l'Alzerte , capitale du grand-duché de Luxembourg. Il faut y comprendre le duché de Bouillon.

*D.* Quelles sont les principales rivières du royaume des Pays-Bas ?

*R.* Ces rivières sont le Rhin , la Meuse , le Leck , le Waal , l'Yssel , l'Escaut , la Domel , la Wecht , la Sambre et la Lys.

*D.* Quelles sont les principales îles des Pays-Bas ?

*R.* Ces îles sont celles de Walcheren ; du Nord et du Sud-Béveland , de Schouwen et de Tholen à l'embouchure de l'Escaut ; celles d'Over-Slakkée , de Veruc et d'Yssel-Mond à l'embouchure de la Meuse et de l'Escaut ; celles de Texel , à l'entrée du Zuyderzée , golfe de la mer du nord ; de Wlieland , de Ter-Scheelling , d'Ameland , et de Schiermonikoog , au nord de la Hollande.

*D.* Quelles sont les principales villes de l'île de Walcheren ?

*R.* Ces villes sont Middelbourg , capitale ; et Flessingue , port de mer et place forte.

*D.* Quelle partie du royaume des Pays - Bas entre dans la Confédération germanique ?

*R.* C'est le grand-duché de Luxembourg , dont la capitale est une forteresse de cette confédération.

## LEÇON XLVII.

*Suite du Royaume des Pays-Bas.*

*D.* LE royaume des Pays-Bas est-il ancien ?

*R.* Non : son existence ne date que de 1814. Auparavant les provinces qui le composent , appartenaient à la France , par droit de conquête.

*D.* Quelles sont les productions de ce royaume ?

*R.* La Belgique et l'évêché de Liège produisent différentes espèces de grains , des fruits ; nourrissent un nombreux bétail , et renferment d'abondantes mines de charbon de terre et de houille. Quant à la Hollande , elle a de nombreux pâturages et une grande quantité de bestiaux ; le grand-duché de Luxembourg abonde en bois et en fer. Les eaux minérales de Spa , dans le pays de Liège méritent leur célébrité.

*D.* Quel est le gouvernement des Pays-Bas ?

*R.* C'est une monarchie représentative , où les lois se font concurremment avec le roi et une assemblée de députés des provinces , qui se tient alternativement , d'année en année , à Amsterdam et à Bruxelles.

*D.* Quelles sont la population et les forces du royaume des Pays-Bas ?

*R.* On peut évaluer la population à environ quatre millions d'individus. Les forces de terre s'élèvent à près de soixante mille hommes, en temps de guerre, mais les forces maritimes sont presque nulles.

*D.* Quelle est la religion du royaume des Pays-Bas ?

*R.* Dans la Belgique, dans le pays de Liège, et dans le grand-duché de Luxembourg, la religion catholique est la plus répandue, mais dans les provinces de la Hollande, c'est le calvinisme, qui est aussi celle du roi et de sa famille. Il y a néanmoins dans ces provinces beaucoup de catholiques qui ont toute liberté dans l'exercice de leur culte. On trouve aussi beaucoup de juifs dans le royaume des Pays-Bas.

*D.* Quelles sont les possessions du royaume des Pays-Bas hors de l'Europe ?

*R.* Ce royaume possède en Afrique sur la côte d'Or, le fort Nassau; en Asie, sur la côte de Coromandel, la ville de Négapatam avec son territoire; les îles de Java, de Sumatra et les Moluques; dans les Antilles, les îles de Saba et de Saint-Eustache, et sur la côte orientale de l'Amérique méridionale, la colonie de Paramaribo dans la Guiane.



## LEÇON XLVIII.

*Confédération Suisse.*

(Voyez la Carte de l'Europe centrale.)

*D.* QUELLE est la situation de la Suisse ?

*R.* Elle est bornée au nord par le Rhin, le grand-duché de Bade et le lac de Constance, au sud par les Alpes et l'Italie; à l'ouest par le royaume de France, et à l'est par le Tyrol. Sa situation en latitude N. est entre les 45°. 40'. et 47°. 40', et sa longitude O. est depuis le 3°. 40'. jusqu'au 8°.

*D.* Combien de cantons comprend la Confédération suisse ?

*R.* Elle comprend vingt-deux cantons qui prennent presque tous le nom de leurs villes capitales.

*D.* Nommez ces vingt-deux cantons ?

*R.* Ces cantons sont : ceux de Berne, capitale Berne sur l'Aar; de Schafhouse, capitale Schafhouse sur le Rhin; de Zurich, capitale Zurich sur la Limmath; d'Argovie, capitale Arau sur l'Aar; de Basle, capitale Basle sur le Rhin et au sud de l'Alsace; de Soleure, capitale Soleure sur l'Aar; de Fribourg, capitale Fribourg sur la Sane; de Vaud, capitale Lausanne, près et

au nord du lac Léman ; de Lucerne , capitale Lucerne , sur le lac de ce nom ; d'Underwald , capitale Stantz ; de Turgovie , capitale Fraunfeld , sur la Thur ; de Zug , capitale Zug , sur le lac de ce nom ; de Schweitz qui a donné son nom à la Suisse , capitale Schweitz ; d'Uri , capitale Altorf sur la Reuss ; de Glaris , capitale Glaris ; de Saint-Gall , capitale Saint-Gall ; d'Appenzell , capitale Appenzell ; des Grisons , Coire capitale sur le Rhin ; du Tessin ou des bailliages italiens , capitale Bellinzona , sur le Tessin ; du Valais , Sion capitale sur le Rhône ; de Neuchâtel , capitale Neuchâtel , sur le lac de ce nom ; et de Genève , capitale Genève , ville belle , riche et commerçante , sur le Rhône , à sa sortie du lac Léman.

*D.* Quelles sont les principales rivières de la Suisse ?

*R.* Ces rivières sont le Rhin , le Rhône , l'Aar , la Limmat , la Reuss , le Sil et le Tessin.

*D.* Quelle est la population de la Suisse , et quelles en sont les productions ?

*R.* La population s'élève au nombre de près de quinze cent mille individus. Les productions de ce pays , rempli de hautes montagnes , consistent en général en un peu de vin et de grains ; mais il renferme des pâturages qui nourrissent de nombreux troupeaux. Les cantons méridionaux sont les plus fertiles en vins et en fruits , entre autres ceux de Vaux et de Genève.

*D.* Quel est le gouvernement de la Confédération suisse ?

*R.* C'est une république fédérative. Une Diète présidée par un directeur fédéral décide des affaires générales de la Confédération ; mais chaque canton a son gouvernement particulier, ou démocratique, ou mêlé d'aristocratie et de démocratie.

*D.* Quelle est la religion de la Suisse ?

*R.* La religion catholique domine dans le plus grand nombre des cantons, tels que Soleure, Fribourg, Valais, Tessin ; et le calvinisme dans les autres, tels que Berne, Basle, Zurich, Vaud, Genève.

*D.* Quel est le caractère des Suisses ?

*R.* Les Suisses sont braves, sincères, et très-affectionnés à leur religion et à leur patrie. Ils ont aussi, en général, d'heureuses dispositions pour les sciences.

## LEÇON XLIX.

### *L'Italie.*

(Voyez la Carte de l'Europe centrale.)

*D.* QUELLE est la situation de l'Italie ?

*R.* Elle s'étend, en longitude, depuis le 3°. 26'. jusqu'au 16°. 40'. à l'est de Paris ; et en la-

titude depuis le 36°. jusqu'au 46°. Cette presqu'île qui a la forme d'une botte, est bornée au nord par la chaîne des Alpes, au midi par la Méditerranée, à l'est par la mer Adriatique, à l'ouest par les Alpes et la Méditerranée.

*D.* Quelles sont les principales rivières de l'Italie ?

*R.* Ces rivières sont le Pô dont le bassin est circonscrit par les Alpes, et qui coule de l'ouest à l'est dans la mer Adriatique ; il reçoit à sa gauche la Doire unie à la Sésia, le Tessin qui traverse le lac Majeur, l'Osana qui passe à Milan, l'Adda qui traverse le lac de Côme, l'Oglio qui sort du lac d'Iseo, le Mincio qui traverse celui de Guarda et passe à Mantoue ; à droite le Pô reçoit la Stura unie au Tanaro, la Bormida, la Trébia, le Turo, la Secchia et le Panaro.

Au nord-ouest de la mer Adriatique on trouve l'Adige unie à l'Elch ; la Brenta, la Piave ; et au nord le Tagliamento.

Sur le revers oriental de l'Apennin, on trouve le Réno, le Métauro, le Chiento, le Tronto, la Pescara, l'Offanto, et le Bradano ; et sur le revers occidental, l'Arno, l'Ombrone, le Tibre uni au Chiaro, le Voltorno et le Sitaro.

*D.* Quels sont les principaux lacs de l'Italie ?

*R.* Ces lacs sont ceux de Lugano ; de Côme, de Guarda et de Pérouse.

*D.* Par quelles montagnes est-elle traversée ?

*R.* Elle est traversée par l'Apennin, branche des Alpes, qui court de l'ouest au sud-est.

*D.* Quels états sont renfermés dans l'Italie ?

*R.* Elle comprend trois royaumes, savoir : de Sardaigne, de Naples et Lombardo-Vénitien, (voyez, pour ce dernier, l'Empire d'Autriche) : le grand duché de Toscane, et les duchés de Parme, de Modène et de Lucques ; l'Etat du Pape, la principauté de Monaco, et la petite république de Saint-Marin.

## LEÇON L.

### *Le Royaume de Sardaigne.*

*D.* QUELS pays comprend le royaume de Sardaigne ?

*R.* Il comprend en terre ferme le duché de Savoie, la principauté de Piémont, et le duché de Gènes ; et dans la Méditerranée l'île de Sardaigne.

*D.* Quelle est la situation des trois pays situés en terre ferme ?

*R.* Ils s'étendent du 43°. 40'. au 46°. 20'. de latitude N., et du 7°. 50'. au 6°. de longitude O. Ils sont bornés au nord par la Suisse, au sud par la Méditerranée, à l'est par le grand-duché de Toscane, le duché de Parme et par le royaume Lombardo-Vénitien, et à l'ouest par la France.

*D.* Quelles sont les principales villes du Piémont ?

*R.* Ces villes sont : Turin , capitale de tout le royaume , belle , forte , peuplée , avec une université , sur le Pô ; Coni sur la Stura ; Saluces , Alexandrie , place forte au confluent du Tanaro dans la Stura ; Verceil , sur la Sésia ; Ivrée ; Aost , sur la Doria-Baltea ; Casal sur le Pô , Novarre , Suze sur la Doire.

*D.* Quelles sont les principales villes de la Savoie ?

*R.* Ces villes sont Chambéry , capitale ; Moutiers , Saint-Jean de Maurienne , Annecy sur le lac de ce nom , Thonon et Montmélian.

*D.* Quelles sont les principales villes du duché de Gênes ?

*R.* Ces villes sont : Gênes , surnommée *la superbe* , à cause de la beauté de ses édifices et de sa situation sur la mer , et ancienne capitale de la célèbre république de ce nom ; Savone , Chiavari , la Spezzia sur le petit golfe de son nom , et Nice , avec un port sur la Méditerranée.

La principauté de Monaco , qui appartient à un prince français , est située sur la mer , près et à l'est de Nice. Elle renferme Monaco capitale , et Manton.

*La Sardaigne.*

*D.* Quelle est la situation de cette île ?

*R.* Cette île est située entre les 5°. 45'. et 7°. 25'. de longitude O. ; sa latitude s'étend depuis le 38°. 55'. jusqu'au 41°. 20'. N. Elle est séparée de l'île de Corse par le détroit de Bonifacio.

*D.* Quelles sont les principales villes de la Sardaigne ?

*R.* Ces villes sont : Cagliari , capitale et résidence du vice-roi , située au sud sur le golfe de ce nom ; Oristagni sur le golfe de ce nom , à l'ouest ; et Sassari , au nord-ouest.

*D.* Le royaume de Sardaigne est-il ancien ?

*R.* Il ne date que d'environ quatre-vingt-cinq ans , et de l'époque où l'île de ce nom fut cédée au duc de Savoie en échange de la Sicile.

*D.* Quelle est la population du royaume de Sardaigne , et quelles en sont les forces militaires ?

*R.* Sa population ne s'élève guère au - dessus de trois millions d'habitans ; et ses forces militaires en temps de guerre sont tout au plus de cinquante mille hommes.

*D.* Quelles sont les productions de ce royaume ?

*R.* Le Piémont produit du riz , du vin , de la soie , des grains , d'excellens fruits , et nourrit des bestiaux ; la Savoie est peu fertile , et ne pro-

duit qu'en quelques endroits du blé et du vin ; le terroir de la Sardaigne est aussi peu fertile, et l'air y est épais et malsain.

*D.* Quel est le gouvernement du royaume de Sardaigne et quelle en est la religion ?

*R.* Le gouvernement est une monarchie absolue. La religion catholique est la dominante.

## LEÇON LI.

### *Le Royaume de Naples ou des Deux-Siciles.*

*D.* QUELLES sont les deux grandes divisions du royaume de Naples ?

*R.* Ces deux divisions sont : le royaume de Naples propre , et l'île de Sicile.

*D.* Quelle est la situation de la première division ?

*R.* Elle est située entre les 37°. et 43°. de latitude N., et elle s'étend entre le 10°. 30'. et le 16°. 35'. de longitude E. Elle est circonscrite de trois côtés par la Méditerranée, et touche au nord-ouest à l'état romain.

*D.* Quelles sont les divisions du royaume de Naples , proprement dit ?

*R.* Il est divisé en quatre parties qui sont la Pouille , l'Abruzze , la terre de Labour et la Calabre.



*D.* Quelle est la situation de la Pouille et quelles en sont les principales villes ?

*R.* Elle s'étend entre les 40°. et 42°. de latitude N. Ses principales villes sont : Bari , Manfredonia sur la mer Adriatique ; Otrante sur la mer Ionienne , et Tarente sur le golfe de ce nom.

*D.* Quelle est la situation de l'Abruzze et quelles en sont les principales villes ?

*R.* L'Abruzze est située entre les 42°. et 43°. de latitude N. Ses principales villes sont : Aquila , capitale près de l'Altino ; Chieti et Molise.

*D.* Quelle est la situation de la Calabre et quelles en sont les villes les plus remarquables ?

*R.* Cette province est située entre les 38°. et 41°. de latitude N. Ses villes les plus remarquables sont : Cosenza , capitale ; Acérenza , et Reggio , à l'extrémité méridionale du royaume.

*D.* Quelle est la situation de la terre de Labour , et quelles sont ses principales villes ?

*R.* Cette province est située à l'ouest , entre les 40°. 40'. et 41°. 40'. de latitude N. Ses principales villes sont : Naples , ville belle et très-peuplée sur le golfe de son nom , et capitale de tout le royaume ; Salerne , capitale de la principauté de son nom ; Capoue , Gaëte , place forte ; Avelino et Bénévent : cette dernière ville , avec son territoire , appartient au pape. Dans cette province , est situé le mont Vésuve , fameux volcan , à l'est et près de Naples.

*La Sicile.*

*D.* Quelle est la situation de la Sicile ?

*R.* Cette île est située dans la Méditerranée, entre les 36°. 36' et 38°. 25' de latitude N. Elle est séparée, au sud-ouest, du royaume de Naples, par le détroit de Messine.

*D.* Quelles sont les divisions de la Sicile ?

*R.* Elle est divisée en trois provinces ou vallées, savoir : la vallée de Mazara, la vallée de Démona et la vallée de Noto.

*D.* Quelles en sont les principales villes ?

*R.* Ces villes sont : Palerme, capitale de toute l'île, dans la vallée de Mazara ; Messine et Catania, l'une sur le détroit de Messine, et l'autre au midi près de l'Etna, dans la vallée de Démona ; Syracuse et Noto dans la vallée de Noto.

*D.* Quelles sont les îles qui dépendent du royaume des Deux-Sicules ?

*R.* Ces îles sont : celles d'Ischia, de Procida et de Capri, à l'entrée du golfe de Naples ; de Lipari ou d'Eole au nord ; de Lampedouse, de Linosa et de Pentellaria au midi. Les îles de Gozzo et de Malte, voisines de ces dernières, appartiennent aux Anglais, après avoir appartenues aux Chevaliers de Saint-Jean de Jérusalem, et aux Français.

*D.* Quelles sont les productions du royaume des Deux-Sicules ?

*R.* Ce royaume produit une grande quantité de grains, sur-tout la Sicile ; des fruits en abondance, d'excellens vins, dont celui de *Lacryma Christi*, qu'on tire du voisinage du Vésuve, est le plus recherché ; de la soie, et des huîtres.

*D.* Quelle en est la population et quelles en sont les forces militaires ?

*R.* La population s'élève à plus de quatre millions d'individus, et les forces militaires en temps de guerre, à près de soixante mille hommes. La puissance navale de cet état ne se compose que de quelques bâtimens de guerre de la moyenne grandeur.

*D.* Quel est le caractère des Napolitains et des Siciliens ?

*R.* Ces deux peuples sont peu belliqueux et peu patiens ; spirituels, industriels, et amateurs des arts, surtout de la musique.

*D.* Quel est le gouvernement du royaume de Naples ?

*R.* C'est une monarchie absolue.

*D.* Quelle est la religion de cet état ?

*R.* C'est la religion catholique, et nul autre culte n'y est toléré.

## LEÇON LII.

*Suite de l'Italie.*

*Le Grand-Duché de Toscane , les Duchés de Parme et de Modène , la Principauté de Lucques.*

**D.** QUELLE est la situation du grand-duché de Toscane ?

**R.** Il est situé entre les  $42^{\circ}.30'$  et  $44^{\circ}.20'$  de latitude N. Il est borné , au nord , par le duché de Modène et la principauté de Lucques , au sud et à l'est , par l'état romain , à l'ouest par la Méditerranée.

**D.** Quelles en sont les principales villes ?

**R.** Ces villes sont : Florence , capitale , sur l'Arno , belle et très-peuplée ; Livourne , port de mer très-fréquenté ; Pise sur l'Arno ; Sienne , près de l'Ombrone , et Piombino , chef-lieu de la principauté de ce nom.

**D.** Quelles îles dépendent de ce grand-duché ?

**R.** L'île d'Elbe qui a pour ville principale Porto-Ferraïo , et l'île de Capraïa dont le chef-lieu porte le même nom.

*Le Duché de Parme.*

*D.* Quelle est la situation du duché de Parme?

*R.* Ce duché est situé par le 45°. de latitude N. Il est borné au nord par le Pô, au sud par l'Apennin, à l'est par le duché de Modène, et à l'ouest par la principauté de Piémont.

*D.* Quelles en sont les principales villes ?

*R.* Ces villes sont : Parme, capitale, belle ville, sur la rivière de ce nom ; Plaisance sur le Pô ; et Guastalla.

*D.* Par qui ce duché est-il gouverné ?

*R.* Il est gouverné par Marie-Louise, archiduchesse d'Autriche, après la mort de laquelle il est réversible à Marie-Louise, infante d'Espagne.

*Le Duché de Modène.*

*D.* Quelle est la situation de ce duché ?

*R.* Il est situé sous la même latitude que le duché de Parme à l'est duquel il est situé ; au nord, il est borné par le Pô, au sud par la Toscane et la principauté de Lucques, et à l'est par les états du Pape.

*D.* Quelles en sont les principales villes ?

*R.* Ces villes sont : Modène, capitale, belle et peuplée, près du Panaro ; Regio, Carrara et Massa. Ces deux dernières villes sont situées sur la Méditerranée. La première est le chef-lieu

d'une principauté de ce nom, et la seconde celui d'un duché du même nom.

*La Principauté de Lucques.*

*D.* Quelle est la situation de la principauté de Lucques ?

*R.* Cette principauté, qui formait autrefois une république du même nom, est située au sud du duché de Modène, au nord et à l'ouest de la Toscane, et à l'est de la Méditerranée.

*D.* Quelles en sont les principales villes, et par qui est-elle gouvernée ?

*R.* Sa capitale est Lucques sur le Secchio; elle a encore Viaregio, port de mer sur la Méditerranée. Elle est gouvernée par l'infante Marie-Louise, sœur du roi d'Espagne, Ferdinand VII.

LEÇON LIII.

*Suite de l'Italie.*

*États du Pape. — République de Saint-Marin.*

*D.* QUELLE est la situation de l'état du Pape ou de l'Eglise ?

*R.* Cet état est situé entre les 41°. et 45°. de la-

titude N. Au nord , il est borné par le Pô et le grand-duché de Toscane , au midi par le royaume de Naples , à l'est par la mer Adriatique , et à l'ouest par la Méditerranée.

*D.* Quelles sont les provinces dont cet état se compose ?

*R.* Ces provinces , qui se subdivisent , sont au nombre de huit , savoir : le Ferrarais , le Bolo- nais , la Marche d'Ancône , le Pérousin , le duché de Castro , le patrimoine de Saint-Pierre , la Sabine , et la Campagne de Rome.

*D.* Quelles sont les principales villes de ces huit provinces ?

*R.* Le Ferrarais a pour capitale Ferrare , grande et belle ville , sur une branche du Pô , appelée *Volana* ;

Le Bolonais a pour capitale Bologne , grande et belle ville.

La Marche d'Ancône a pour capitale Ancône , place forte et port sur la mer Adriatique , et Macérata ;

Le Pérousin a pour capitale Pérouse , près du lac de ce nom ;

Le duché de Castro a pour capitale Ronsi- glione ;

Le Patrimoine de Saint-Pierre a pour capitale Viterbe ; et Civita-Vecchia , port sur la Médi- terranée ;

La Sabine a pour capitale Magliano ;

La Campagne de Rome a pour capitale Rome

sur le Tibre, qui l'est aussi de l'état du Pape et de tout le monde chrétien.

*D.* L'état du Pape ne renferme-t-il pas d'autres villes qui méritent d'être nommées ?

*R.* Oui : ces villes sont Ravenne, Césène, Rimini, Urbin, Lorette, fameux pèlerinage, sur la mer Adriatique ; Tolentino, Ascoli, Orviette, Spolète, Tivoli, Frascati, Albano, Terracine, et plusieurs autres.

*D.* Quelle est la population de l'état Romain ?

*R.* Elle s'élève à environ deux millions quatre cent mille habitans, dont cent quarante mille dans la ville de Rome.

*D.* Quel est le gouvernement de cet état ?

*R.* Cet état est gouverné temporellement par le pape, avec une autorité presque absolue, mais tempérée par un sénat et par le consistoire des cardinaux que ce souverain ne manque pas de consulter, même pour les affaires temporelles.

*D.* Quelle est la situation de la république de Saint-Marin ?

*R.* Elle est placée dans l'état du Pape, presque sur le 44°. de latitude N., et ne s'étend pas au de-là du petit territoire de la ville de ce nom.



## LEÇON LIV.

*L'Espagne.*

**D.** QUELLE est la situation de l'Espagne ?

**R.** Ce royaume est placé entre le 1°. à l'est et le 11°. 35'. de longitude, à l'ouest de Paris ; et entre les 36°. et 43°. 40'. de latitude N. Cette presque île est baignée au nord et à l'ouest par l'Océan Atlantique ; au nord-est, elle est séparée de la France par les Pyrénées ; au sud et à l'est elle est baignée par la Méditerranée.

**D.** Quelles sont les principales rivières de l'Espagne ?

**R.** Les rivières dont le cours est incliné vers l'Océan Atlantique, sont :

1°. Le *Tage* qui, après avoir pris sa source dans la nouvelle Castille, sur les frontières de l'Aragon, coule de l'est au sud-ouest, et reçoit à sa droite la Tynna unie à l'Hénarès, l'Alagon et le Zézère, et à sa gauche l'Almonte ;

2°. La *Guadiana*, qui coule presque parallèlement au Tage jusqu'à Badajoz, d'où elle se rend à la mer dans la direction du sud. Elle reçoit à sa gauche le Guadalchè et l'Ardilla ;

3°. Le *Guadalquivir*, qui prend sa source sur les frontières du royaume de Murcie et de la

nouvelle Castille , court encore presque parallèlement à la Guadiana , et à huit lieues au nord de Séville , prend sa direction au sud , reçoit le Génil à sa gauche , et se jette dans l'Océan à San-Lucar de Baraméda ;

4°. Le *Douro* qui prend sa source dans la Vieille-Castille , et coule de l'est à l'ouest. A sa droite , cette rivière reçoit la rivière de Curillon unie à l'Alenzau et à la Cέα , l'Elza unie au Tuerco et au Téra , rivières qui toutes prennent leurs sources dans les montagnes des Asturies ; de plus le Sabor , le Tuerto et la Taméga ; à sa gauche , le Douro reçoit le Duranton , l'Adaja , la Tomès et l'Aguéda ;

5° Le *Minho* qui prend sa source dans la Galice à cinq lieues au nord de Lugo , coule dans le midi jusqu'à Orense , et de là retourne au sud-ouest jusqu'à la mer. A sa gauche , il reçoit les rivières de Sil , de Naréca , de Tambre , d'Ulla , de Lima , de Mondégo , de Caldao et de Tinto , qui complètent ce bassin.

*D.* Quelles sont les rivières d'Espagne qui versent leurs eaux dans la Méditerranée ?

*R.* Ces rivières sont : 1°. l'Ebre qui prend sa source dans la Vieille-Castille , sur les frontières du royaume de Léon , et coule dans la direction sud-est jusqu'à la mer ; à sa droite , ce fleuve reçoit le Jalon et la Guadalope , et à sa gauche les rivières d'Aragon , de Gallégo , et celle de Ségré unie à la Noguéra et à la Cinca ; 2°. le Guadala-

viar qui se perd dans la mer près de Valence ; le Xucar , et la Ségura qui va à l'Orbâ.

*D.* Quelles sont les montagnes de l'Espagne ?

*R.* Ces montagnes sont : les Pyrénées qui la séparent de la France au nord - est ; la Sierra-Moréna , qui est entre la Guadiana et le Guadalquivir ; les Asturies , suite des Pyrénées jusqu'au cap Finistère , et les montagnes de Tolède entre le Tage et la Guadiana.

## LEÇON LV.

### *Suite de l'Espagne.*

*D.* QUELLES sont les divisions de l'Espagne ?

*R.* Ce royaume se divise en dix grandes provinces ou royaumes , savoir , au centre la Nouvelle - Castille ; au nord la Navarre , la Vieille - Castille , et la Biscaye ; au nord-ouest les royaumes de Léon et de Galice ; à l'ouest l'Estramadure ; au midi l'Andalousie , le royaume de Murcie , et à l'est la Catalogne.

*D.* Quelles sont les principales villes de la Nouvelle-Castille ?

*R.* Ces villes sont : Madrid , ville belle et peuplée , capitale de tout le royaume , sur le Mançanarez ; Tolède , ville ancienne , sur le Tage ; Cuença , sur le Xucar ; Alcalá , université ; et Guadalaxara sur l'Hénarés.

*D.* Quelles sont les principales villes de la Navarre ?

*R.* Ces villes sont : Pampelune, capitale et place forte, sur l'Arga; Sangüessa sur l'Aragon; Estella sur l'Ega.

*D.* Quelles sont les principales villes de la Vieille-Castille ?

*R.* Ces villes sont : Burgos, capitale sur l'Arlanzón, Santander sur le golfe de Gascogne; Calahorra sur l'Ebre; Soria sur le Douro; Ségovie et Avila.

*D.* Quelles sont les villes principales de la Biscaye ?

*R.* Ces villes sont : Bilbao, capitale; Saint-Sébastien, place forte, sur le golfe de Gascogne ou de Biscaye, et Vittoria.

*D.* Quelles sont les principales villes du royaume de Léon ?

*R.* Ces villes sont Léon, capitale sur l'Elza; Oviédo, capitale de la province des Asturies; Valladolid sur le Curillon; Toro et Zamora sur le Douro; Salamanque, fameuse université, sur la Tomès; et Ciudad-Rodrigo, sur l'Agüeda.

*D.* Quelles sont les villes principales de la Galice ?

*R.* Ces villes sont : San-Jago-de-Compostelle, capitale, fameuse par un pèlerinage à Saint-Jacques; Orense et Tuy sur le Minho; La Corogne, port militaire, sur la rade du même nom;

le Ferrol, port de mer ; Mondégo et Lugo sur le Minho.

*D.* Quelles sont les villes principales de l'Estremadure ?

*R.* Ces villes sont : Badajos , capitale ; Mérida , sur la Guadiana ; Truxillo , Placentia et Coria sur l'Alagon.

*D.* Quelles sont les villes les plus remarquables de l'Andalousie ?

*R.* Ces villes sont : Séville, capitale sur le Guadalquivir ; Cordoue et Andujar sur le même fleuve ; Grenade , capitale de la province de ce nom ; Cadix , beau port sur la baie de ce nom ; Gibraltar, forteresse qui appartient aux Anglais, sur le détroit de ce nom ; Malaga sur la Méditerranée ; et Palos , port d'où partit Christophe Colomb , pour aller à la découverte de l'Amérique.

*D.* Quelles sont les principales villes du royaume de Murcie ?

*R.* Ces villes sont : Murcie , capitale ; Carthagène , beau port sur la Méditerranée , et Lorca.

*D.* Quelles provinces comprend la Catalogne et quelles en sont les principales villes ?

*R.* Cette grande province comprend celles d'Aragon et de Valence. Ses principales villes sont : Barcelonne , port sur la Méditerranée ; Saragosse , capitale de l'Aragon sur l'Èbre ; Valence , capitale de la province de ce nom , à

l'embouchure du Guadalaviar ; Tarragone et Rose sur la mer ; Alicante sur le golfe de ce nom ; Ségorbe sur le Murviédro ; et Huesca dans l'Aragon.

*D.* Quelles sont les îles voisines de l'Espagne ; quelle en est la situation, et quelles en sont les principales villes ?

*R.* Ce sont : les îles Baléares qui comprennent Majorque , Minorque , Cabrera , Iviça et Formentara. Elles sont situées dans la Méditerranée, à l'est de l'Espagne , par les 39°. à 40°. de latitude N. Leurs principales villes sont : Saint-Philippe , située dans celle de Minorque , et Palme dans l'île de Majorque.

## LEÇON LVI.

### *Suite de l'Espagne.*

*D.* QUEL est le climat de l'Espagne ?

*R.* Il varie , selon la situation des provinces. Il est fort chaud dans les plaines du centre , assez froid vers les Pyrénées ; et sur les côtes , il est tempéré par les vents de mer. A l'exception d'une partie de l'Andalousie , où la fièvre jaune se déclare de temps en temps et fait d'affreux ravages , tout le reste du royaume jouit d'une excellente température.

*D.* Quelles sont les productions de l'Espagne ?

*R.* Le terroir de ce royaume qui est très-fertile, et qui demande à être mieux cultivé, produit du blé, des vins excellens, des fruits exquis, de la soie, de nombreux pâturages qui nourrissent une grande quantité de bestiaux, parmi lesquels on distingue ces moutons mérinos dont la laine est si recherchée pour sa finesse; des chevaux estimés pour leur beauté et leur vitesse. L'Espagne renferme aussi des mines d'or, de cuivre, de fer, de plomb et de vermillon.

*D.* Quelle est la population de l'Espagne, et quelles en sont les forces militaires ?

*R.* Cette population s'élève à environ onze millions d'individus et pourrait être plus considérable. Les forces de terre en temps de guerre vont au moins à cent mille hommes. Les forces navales, qui autrefois étaient nombreuses, sont aujourd'hui presque nulles.

*D.* Quelle est la langue de l'Espagne ?

*R.* C'est une langue, formée du latin, du gothique et de l'arabe.

*D.* Quel est le gouvernement de ce royaume ?

*R.* Avant 1819, c'était une monarchie absolue : aujourd'hui c'est un gouvernement monarchique-représentatif, où l'autorité royale est limitée par celle des cortès.

*D.* Quelle est la religion de l'Espagne ?

*R.* La religion catholique est la seule dont l'exercice public y soit permis.

*D.* L'Espagne n'a-t-elle pas des possessions dans les deux Indes ?

*R.* Oui : elle en a de très-étendues dans les Indes orientales , dans le grand Océan et en Amérique.

## LEÇON LVII.

### *Le Portugal.*

*D.* QUELLE est la situation du Portugal ?

*R.* Ce royaume est situé par les 35°. et 42°. de latitude N. , et du 9°. au 12°. de longitude O. Il est limité au nord et à l'est par l'Espagne , au midi et à l'ouest par l'Océan Atlantique.

*D.* Quelles en sont les principales rivières et montagnes ?

*R.* Les rivières sont : le Tage qui se jette dans l'Océan , deux lieues au dessous de Lisbonne ; le Douro qui , vers le nord, le traverse de l'est à l'ouest et se jette dans l'Océan à Porto ; le Minho, qui sépare au nord l'Espagne du Portugal ; le Mondégo dont l'embouchure est au-dessous de Coïmbre ; et la Guadiana qui se jette au sud dans l'Océan.

Les montagnes du Portugal sont en général le prolongement de celles de l'Espagne : on y distingue les monts Estrella qui traversent ce



royaume par les 39°. et 40°. de latitude N. , et les 9°. et 11°. de longitude O.

*D.* En combien de provinces le Portugal est-il divisé ?

*R.* Il est divisé en six provinces , savoir : celles d'Entre-Douro-y-Minho , de Tra-los-Montès , de Beyra , d'Estramadure , d'Alentéjo , et celle d'Algarve qui a le titre de royaume. Les deux premières sont au nord , les deux autres au centre , la cinquième et la sixième au midi.

*D.* Quelles sont les principales villes du Portugal ?

*R.* L'Entre-Douro-y-Minho a Braga , capitale ; Camina sur le Minho ; Barcelos sur le Carado , et Porto , à l'embouchure du Douro.

Tra-los-Montès a Bragance , capitale sur la Ferbança , et Miranda sur le Douro.

Beyra a Coïmbre , capitale et université , sur le Mondégo ; Viseu près de la Vouga , et Aveyro , port de mer.

L'Estramadure a Lisbonne , capitale du royaume , grande , forte et opulente , sur le Tage ; Leyria sur la Léna ; Santarem sur le Tage , et Sétuval sur la mer.

L'Alentéjo a Evora , capitale ; Elvas , Estrémos et Béja.

La province ou royaume d'Algarve a Lagos , capitale ; Silves et Tavira.

*D.* Quelles sont les productions du Portugal ?

*R.* Il produit des grains, des fruits, des vins excellens et de la soie ; il a de bons pâturages et nourrit beaucoup de bestiaux, et de bons chevaux.

*D.* Quelle en est la population, et quelles en sont les forces militaires ?

*R.* La population de ce royaume s'élève à plus de deux millions trois cent mille individus ; ses forces de terre à environ quarante mille hommes, et ses forces navales se composent de quelques vaisseaux de guerre de moyenne grandeur.

*D.* Quel est le gouvernement du Portugal ?

*R.* Avant 1820, c'était une monarchie absolue ; mais dans cette année, une révolution y a établi le gouvernement monarchique représentatif.

*D.* Quelle est la religion du Portugal ?

*R.* La religion catholique est la seule dont le culte public y soit permis.

*D.* Quelle est la langue de ce royaume ?

*R.* C'est une langue particulière, formée du latin, de l'arabe et de l'espagnol ?

*D.* Quelles sont les possessions du Portugal, hors de l'Europe ?

*R.* Ce sont : plusieurs îles dans l'Océan Atlantique, telles que celles de Madère, du Cap-Vert, et les Açores ; celles de Saint-Pierre et de Saint-Thomas, et plusieurs établissemens sur la côte occidentale d'Afrique ; en Asie, Goá sur la côte

de Malabar, et Macao dans le golfe de la ville de Quang-tong en Chine. La plus grande de ses possessions est le Brésil, vaste région, le long de la côte orientale de l'Amérique méridionale, qui a reçu depuis quelques années le titre de royaume.

FIN DE L'EUROPE.

---

## DEUXIÈME PARTIE.

### L'ASIE.

---

#### LEÇON I<sup>re</sup>.

#### *Étendue , Mers , Golfes et Détroits , de l'Asie.*

*D.* QUELLE est l'étendue de l'Asie ?

*R.* Elle s'étend depuis le 23°. jusqu'au 128°. de longitude à l'est du méridien de Paris. Elle est bornée au nord par l'Océan Glacial, au midi par la mer Noire et la mer des Indes, à l'est par le grand Océan; à l'ouest par la mer Caspienne, les monts Ouraliens, la Méditerranée, et la mer Rouge. De ce dernier côté, elle se joint à l'Afrique par l'isthme de Suez.

*D.* Quelles sont les mers extérieures de l'Asie ?

*R.* Ces mers sont : l'Océan Glacial qui baigne la Russie asiatique ou Sibérie; le grand Océan et la mer des Indes qui baignent l'Arabie, la Perse, l'Indoustan, l'empire Birman, et les

côtes de la Tatarie et de l'empire Chinois ; la Méditerranée qui baigne la Turquie d'Asie ; la mer Rouge qui baigne l'Arabie occidentale ; enfin la mer de Marmara et la mer Noire qui baignent la partie occidentale de l'empire Ottoman en Asie.

*D.* Quelles sont les mers formées par le grand Océan à l'est de l'Asie ?

*R.* Ces mers sont : la mer de la Chine , la mer Jaune , la mer du Japon , la mer d'Okhotsk et celle de Béring.

*D.* Quelles sont les mers intérieures de l'Asie ?

*R.* Ces mers sont : la mer Caspienne qui la sépare de l'Europe vers le nord-ouest ; et la mer d'Aral , à l'est de la mer Caspienne : on peut ajouter à ces mers le grand lac Baïkal , situé dans la Sibérie.

*D.* Quels sont les principaux golfes de l'Asie ?

*R.* Ces golfes sont : le golfe de l'Oby dans l'Océan Glacial, au nord de la Sibérie, et dans lequel se jette le fleuve du même nom ; le golfe de Kara sur la même mer ; le golfe d'Anadir dans le grand Océan ; le golfe de Penjina dans la mer d'Okhotsk ; le golfe de Pékéli dans la mer Jaune , entre la Chine et la presqu'île de Corée ; le golfe de Tunquin dans la mer de la Chine , et qui baigne les côtes de la Cochinchine ; le golfe de Siam , au sud de ce royaume , et qui baigne la côte orientale de la presqu'île de Ma-

laca ; le golfe de Pégu dans la mer des Indes, et au sud de l'empire des Birmans ; le grand golfe du Bengale dans la mer des Indes , entre l'empire des Birmans à l'est et l'Indoustan à l'ouest ; le golfe de Cambaye dans la mer des Indes et sur la côte occidentale de l'Indoustan ; ceux de Cutch et du Sind , dans la même mer ; enfin le grand golfe Persique , entre l'Arabie et la Perse.

*D.* Nommez les principaux détroits de l'Asie ?

*R.* Il y en a treize, savoir : le détroit *des Ossements*, au nord des côtes de la Russie d'Asie et de la nouvelle Sibérie : de Béring, à l'est, entre l'Asie et l'Amérique ; de la Boussole et d'Uriès, entre les îles Kuriles ; de Tessoï ou Manche de Tatarie, entre l'île de Saghalien et les côtes de la Mantchourie ; de la Pérouse, entre les îles de Saghalien et de Matsmai ou Jéso, dans la mer du Japon ; de Sangar, entre les îles de Niphon et de Matsmai, dans la même mer ; de Corée, entre cette presqu'île et le Japon ; de Formose, entre cette île et la côte de la Chine ; de Malaca, entre la presqu'île de ce nom et l'île de Sumatra ; de Manar, entre l'île de Ceylan et le Carnatic, contrée de l'Indoustan ; d'Ormus, à l'entrée du golfe Persique, et de Bab el-Mandeb, à l'entrée de la mer Rouge. On doit y ajouter les détroits des Dardanelles et le canal de Constantinople, qui séparent la Turquie asiatique de l'Europe.

---

**LEÇON II.***Iles, Presqu'îles et Caps de l'Asie.*

**D.** QUELLES sont les principales îles situées au nord du continent asiatique ?

**R.** Ces îles sont : dans l'Océan glacial celles de Kotelnoï, Faderskoï, la nouvelle Sibérie, Stolbovoï, Maly, Atrikanskoï, et le groupe des Iles aux Ours; dans la mer de Béring, les îles de Sindoo, et de Béring.

**D.** Quelles sont les Iles situées dans le grand Océan à l'est de l'Asie ?

**R.** Ce sont, les Kuriles, dont les principales sont: Poromaschir, Marikan, Uroup et Stralen; les quatre grandes îles de Saghalien, de Matsmai ou Jeso, de Niphon et de Kiu-siu; les îles de Sikoki, de Sado, d'Okî, à l'est dans la mer du Japon; de Quelpar, au sud de la Corée; de Tsoumin, sur les côtes de la Chine; les groupes de Lieu-Kieu, où se trouve Ujusima, et de Madjicosemah: au N. E. de ces dernières se trouvent les îles de l'Archevêque, d'Amsterdam, de Malabrigo, de Guadalupe; au sud-ouest celles de Formose, de Macao, de Hainan, de Paracels, de Tantalang, de Bintang et de Lingén.

*D.* Quelles sont les Iles situées dans la mer des Indes et dans la Méditerranée ?

*R.* Ce sont : celles de Domel , de Saint-Mathieu, de Salanga, de Nikobar, d'Andaman, l'Archipel des îles Merghi , à l'ouest de la presqu'île de Malaca ; de Ceylan , les groupes des Maldives et des Laquédives , au midi ; les îles Kichmis et Barhain , dans le golfe Persique ; et les îles de Chypre , de Rhodes , de Métélin , etc. , dans la Méditerranée.

*D.* Quelles sont les presqu'îles de l'Asie ?

*R.* Ce sont : celles de l'Anatolie ou Asie mineure ; d'Arabie ; de Guzerate , à la côte occidentale de l'Indoustan ; celles de l'Inde orientale et occidentale ; la presqu'île de Malaca , à l'est du golfe du Bengale ; celle de Corée entre la mer du Japon et la mer Jaune , et enfin celle du Kamschatka , dont l'étendue du nord au sud est d'environ deux cent cinquante lieues.

*D.* Quels sont les principaux caps de l'Asie ?

*R.* Ces caps sont au nombre de vingt , savoir : les caps d'Oloney , de Matzol , de Cevérovostochnoï ou Taimour , de Schélastkoï et celui du Nord , dans l'Océan glacial ; les caps, Oriental , de Saint-Thadée , d'Alintorskoï , de Lopath , d'Elizabeth , de Patience , d'Aniwa dans l'île de Saghalien ; de Romania , au sud de la presqu'île de Malaca ; le cap Négrais , à l'embouchure de l'Irrabatty , dans le golfe du Ben-



gale ; le cap Comorin , sur la pointe méridionale de la presqu'île occidentale de l'Inde ; les caps Diu et Mauze , sur le golfe du Sind et au sud de la presqu'île de Cambaye ; le cap Mazandéran , à l'entrée du golfe Persique.

---

### LEÇON III.

#### *Principaux Lacs et Fleuves de l'Asie.*

**D.** QUELS sont les principaux Lacs de l'Asie ?

**R.** Il y en a vingt, savoir : les lacs Asphaltique ou mer Morte , en Syrie ; de Van , d'Erivan et d'Urméa , dans la Perse ; de Zéreh , dans le royaume de Caboul ; de Téniss , d'Aksakal , et de Kolkliaki , dans la Tatarie indépendante ; de Palkati , d'Alaktugal , de Kiurgha , de Cosogol , de Lopnor , d'Urjunajunor , de Zajzaia , de Barkol , de Horanor , d'Alai , dans la Tatarie chinoise ; de Tchany , de Soumy , de Baïkal , de Teltsakoé , dans la Russie asiatique ; de Hononor , de Terkiri et de Palte , dans le grand Thibet ; de Touting et de Poyan , dans la Chine.

**D.** Quel est le plus fameux de ces Lacs ?

**R.** C'est le lac Asphaltique ou mer Morte , situé entre la Palestine et l'Arabie : suivant l'écriture

sainte, il occupe l'emplacement de cinq villes coupables, qui, au temps d'Abraham, furent consumées par une pluie de feu et de soufre.

*D.* Quel est le plus grand de ces Lacs?

*R.* C'est le lac Baïkal, qui s'étend du nord-est au sud-ouest depuis le 52°. de latitude N. jusque sur le 56°.

*D.* Quels sont les principaux Fleuves de l'Asie qui, au nord, versent leurs eaux dans l'Océan glacial?

*R.* Ces fleuves sont : l'Obi, le Jénisey, l'Olonék et le Léna.

*D.* Quel est le cours de l'Obi, et quelles rivières se joignent à ce fleuve?

*R.* Le cours de ce fleuve, qui prend sa source aux monts Altaï, dans la Kalmoukie, est de huit cents lieues. Il reçoit les rivières d'Irtisch, qui prend sa source dans les monts Bogdo, d'Istim et de Tobol, réunies au Tara. Il se jette dans le golfe de son nom, sur le 71°. de latitude N. et le 70°. de longitude E.

*D.* Quelle est la source, quel est le cours du Jénisey, et quelles rivières reçoit-il?

*R.* Ce fleuve prend sa source dans les monts Altaï, et termine dans l'Océan glacial un cours de sept cents lieues, après avoir reçu les rivières de Salanga, d'Orchon, d'Angara, de la Toungouska supérieure et de la Toungouska inférieure.

*D.* Quel est le cours de l'Olonék?

*R.* L'Olonek a deux cent quarante lieues de cours du sud au nord ; il se jette dans la mer par le 71°. de latitude N. et le 116°. de longitude E.

*D.* Quelle est la source , le cours du Léna , et quelles rivières reçoit-il ?

*R.* Il prend sa source dans la Sibérie russe , dans les montagnes à l'ouest du lac Baïkal. Dans son cours , qui est de six cent quatre-vingts lieues , il reçoit les rivières d'Aldan , d'Olékmia , d'Amga et de Witum , à droite ; et de Viluti à gauche.

*D.* Quelles autres rivières considérables se jettent dans l'Océan glacial ?

*R.* Ces rivières , à l'est , sont : l'Anabara , l'Yana , dont le cours est d'environ cent cinquante lieues ; l'Indigirka dont le cours est de deux cent quatre-vingts lieues ; la Kolyma , dont le cours est d'environ cent soixante lieues.

*D.* Quels fleuves versent leurs eaux dans le grand Océan , à l'est ?

*R.* Ces fleuves sont : l'Anadir , l'Amour ou Saghalien , le Hoan-ho ou fleuve Jaune , le Hiang-Tsé-Kiang ou rivière Bleue.

*D.* Quelle est la source et quel est le cours de l'Anadir ?

*R.* Il prend sa source dans les monts Yablo-noys , se dirige au sud , ensuite à l'est , et termine un cours de cent quatre-vingts lieues dans le golfe ou la mer de son nom.

*D.* Quelle est la source , quel est le cours du

fleuve Amour ou Saghalien , et quelles rivières reçoit-il ?

*R.* Ce fleuve prend sa source dans les montagnes , au nord de la Mongoulie , et après un cours de sept cent cinquante lieues , il se jette dans la Manche de Tatarie , au détroit de Tessoi. Il reçoit les rivières d'Ourson , d'Ousouri , de Soungari et de Chilca.

*D.* Dites la source , le cours , et les rivières que le Hoan-ho reçoit dans son sein ?

*R.* Ce fleuve prend sa source dans les monts Daga , au nord du Thibet , coule de l'ouest à l'est , et après un cours de huit cent quatre-vingts lieues , il se jette dans la mer Jaune. Il reçoit la rivière Hœi-ho.

*D.* Que dites-vous du Hiang-Tsé-kiang ou rivière Bleue

*R.* Ce fleuve prend aussi sa source dans les monts Daga , au nord du Thibet. Il se jette dans la mer Jaune , après un cours de neuf cent vingts lieues. Il reçoit les rivières de Datschou , de Huen-kiang , de Eta , et de Hiang-kiang.

## LEÇON IV.

*Continuation de la précédente.*

*D.* QUELS sont les Fleuves de l'Asie qui versent leurs eaux , au sud , dans le grand Océan ?

*R.* Les plus considérables sont : le Ménan-kom, ou rivière de Camboge, dont le cours est de huit cents lieues, et qui se jette dans la mer de la Chine ; le Ménan, ou rivière de Siam, qui, après un cours de trois cents lieues, se jette dans le golfe de ce nom ; l'Irrabatti, ou rivière d'Ava, qui, dans son cours de six cent cinquante lieues, reçoit, à sa droite, l'Irrabatti occidental, et va se perdre dans le golfe de Pégu. Ces fleuves prennent leurs sources dans les monts Daga, qui séparent le Thibet de la Tatarie chinoise.

*D.* Quelles sont les principales rivières qui versent leurs eaux dans la mer des Indes ?

*R.* Ce sont : le Burampouter, qui prend sa source au mont Mus-Tag, dans le petit Thibet, et dont le cours est de six cent vingts lieues ; le Gange, qui sort du mont Kantel, au sud du petit Thibet. Ces deux fleuves se rendent dans le golfe du Bengale.

*D.* Quelles rivières se jettent dans le Gange ?

*R.* A sa droite, ce fleuve reçoit la Jumna, unie à la Chamboul ; à sa gauche, la Gogra et

la Casa. C'est ce fleuve qui divise l'Inde en deux presque îles, l'une orientale et l'autre occidentale.

*D.* Quelles autres rivières terminent leur cours dans la mer des Indes ?

*R.* Ces rivières sont : le Godavéry, qui prend sa source dans les montagnes des Gattes, et après un cours de deux cents lieues, a son embouchure dans le golfe du Bengale, à la côte de Comorandel; la Kishnah, qui, après un cours de deux cent vingt lieues, de l'ouest à l'est, se décharge à la même côte; le Nerbudah, de l'ouest à l'est, qui, après un cours de deux cent trente lieues se rend dans le golfe de Cambaye; l'Indus ou Sind, qui prend sa source au mont Mus-Tag, dans le petit Thibet, et qui se jette dans le golfe de son nom, après un cours de trois cent quatre-vingt-huit lieues, et après avoir reçu les rivières de Setlège, de Chélum et de Kémih.

*D.* Quel fleuve se jette dans le golfe Persique ?

*R.* C'est l'Euphrate, qui prend sa source aux environs du mont Ararat, en Arménie; court dans le sud est; et qui, après avoir reçu à sa gauche le Tigre et le Karasu, termine dans le golfe Persique, par le 30°. de latitude N., un cours de quatre cent soixante-dix lieues.

*D.* Quelle est la source du Tigre et quel en est le cours ?

*R.* Ce fleuve prend sa source au mont Taurus, en Arménie, et se jette dans l'Euphrate au dessus de

Bassora, après un cours d'environ quatre cents lieues.

*D.* Quelles sont les rivières qui versent leurs eaux dans les mers ou dans les lacs de l'intérieur de l'Asie ?

*R.* Les plus considérables sont : l'Oxus ou Jihon, le Sir ou Sarasou, le Sihon qui jettent dans la mer d'Aral ; le Volga, l'Oural, le Térék, le Kour, l'Aras et le Tedzen, qui se jettent dans la mer Caspienne ; l'Helmend, dans le lac de Zéreh ; l'Ili et le Karatul, dans le lac Palkati ; l'Yarkand, dans le lac Lopnor ; et l'Emil dans le lac Kiurga en Kalmoukie.

## LEÇON V.

### *Principales Montagnes de l'Asie.*

*D.* QUELLES sont les principales montagnes de l'Asie ?

*R.* Ces montagnes sont : les monts Ouraliens, les monts Algydim, Timbal, Bélour ; les monts Caucase, Ararat et Taurus ; les monts Sinäi et Gébel-el-Ared ; les monts Alpons, Zagro et Brakouick ; le Caucase indien ; les monts Kantel et Himmaleh ; le Mus-Tag ; les monts Daga ; les monts Beszka, Altaï, Savansk et Jablonoys ; les monts Aldat, Musard, et Char-mar ; les monts Sioutki et les montagnes des Gattes.

*D.* Quelle est la situation des monts Ouraliens et Bélour ?

*R.* Les monts Ouraliens séparent la Russie d'Europe de la grande Tatarie ; les monts Bélour séparent à l'ouest la Tatarie indépendante de la Kalmonquie.

*D.* Quelle est la situation des monts Caucase, Ararat et Taurus ?

*R.* Ils sont situés dans la Turquie asiatique : le Caucase est au nord de la Turquie d'Asie ; le mont Ararat, montagne fendue , sur laquelle on prétend que l'arche de Noé s'arrêta après le déluge, est situé au sud et près de la rivière d'Aras ; le mont Taurus court de l'ouest à l'est dans la Perse et la Turquie asiatique , par le 40°. de latitude N.

*D.* Quelle est la situation des monts Sinaï et Gebel-el-Ared ?

*R.* Le premier est situé au nord sur le 30°. de latitude N. ; le second à l'ouest le long de la mer Rouge, jusqu'au détroit de Bab-el-Mandeb.

*D.* Quelle est la situation des monts Alpons , Caucase indien et Zagro ?

*R.* Les deux premières chaînes de montagnes , qui se réunissent au mont Taurus, sont placées au nord-ouest de la Perse et du Caboul, entre le 34°. et le 36°. de latitude N. Les monts Zagro s'étendent dans le sud-est, depuis le lac Urméa jusqu'au golfe Persique qu'ils bordent à l'est.



*D.* Quelle est la situation des monts Kantel, Mus-Tag, Himmaleh et Daga.

*R.* Le mont Kantel, dont la hauteur est considérable, est placé au sud du petit Thibet; et à la source de la Junna et de la Seflège; les monts Mus-Tag bordent à l'est les plateaux du petit Thibet; les monts Himmaleh s'étendent de l'est au nord-ouest dans le grand Thibet; les monts Daga, dont la hauteur est de dix-huit mille pieds au-dessus du niveau de la mer, séparent au N. le grand Thibet de la Tatarie chinoise.

*D.* Quelle est la situation des monts Bezka, Altaï, Savansk et Yablonois?

*R.* Ils bordent le grand plateau qui sépare la Tatarie chinoise de la Russie asiatique; ils courent depuis le 70°. de longitude E. jusqu'au 128°. On regarde cette chaîne comme une des plus élevées du globe.

*D.* Quelles montagnes s'élèvent sur le grand plateau de l'Asie?

*R.* Ce sont les monts Chamar et Sioutki. Ce sont autant de branches des monts environnans. Ils sont situés à l'est de la Songarie et de la Mongoulie.

*D.* Où est situé le mont Bogdo?

*R.* Il est situé entre les sources du Jénisey et le lac Kosogol. On doit le regarder comme une branche des monts Altaï.

*D.* Quelle est la position des montagnes des Gattes?

R. Elles sont situées dans la presqu'île de l'Inde, sur la côte de Malabar, où elles se terminent au Cap-Comorin.

## LEÇON VI.

*Température. — Population. — Productions. — Langues de l'Asie. — Mœurs et religion de ses habitans.*

D. QUELLE est la température de l'Asie.

R. Comme l'Asie s'étend depuis l'équateur jusqu'au 75° de latitude N. on y éprouve toutes les températures. Ce qui doit être remarqué c'est qu'à des latitudes égales le froid et la chaleur y sont beaucoup plus considérables qu'en Europe : par exemple, quoique le plateau de la Tatarie, soit à la même latitude que la France et l'Espagne, son élévation et ses montagnes, couvertes de neige, y rendent le froid très-vif, et sont causes que la température n'en peut être comparée à celle de ces deux royaumes. Les pays exposés au nord de ce plateau, ne recevant pas les vents chauds du midi, le froid y est très-rigoureux. C'est tout le contraire pour les pays situés au sud : comme ils sont à l'abri des vents du nord, les chaleurs y sont souvent insupportables.

*D.* Quelles sont les principales productions de l'Asie ?

*R.* La vaste étendue de cette partie du globe en rend les productions très-variées. Elle produit généralement tout ce qui est utile et agréable. Le thé, la rhubarbe et le ginseng lui sont propres ; elle abonde en parfums et en excellentes épiceries. On vante le baume de Judée, le café d'Arabie, le vin de Chypre, et celui de Schiras en Perse ; les chevaux arabes et persans. Elle nourrit toutes sortes d'animaux utiles dans plusieurs de ses vastes forêts du midi, on trouve des éléphants, des lions, des tigres, des léopards et d'autres animaux féroces. Elle renferme des mines d'or, d'argent et de pierres précieuses ; et l'on pêche sur quelques-unes de ses côtes ces perles qui font l'ornement des princes et princesses de ses différentes contrées et auxquelles les Européens attachent souvent un très-grand prix.

*D.* Quelle est la population de l'Asie ?

*R.* Les géographes ne sont point d'accord sur ce sujet. Les uns font monter cette population à près de six cent millions d'individus, et les autres ne la portent qu'à un peu plus de trois cents. Pour prendre un terme moyen entre ces deux calculs, il semble qu'on peut évaluer cette population à près de quatre cent millions d'habitans, répandus sur une surface de vingt-un millions soixante-seize mille lieues carrées,

sans y comprendre les îles. C'est surtout la difficulté d'évaluer la population de l'empire de la Chine, qui établit cette différence dans les calculs des géographes.

*D.* Quelles sont les langues les plus répandues en Asie ?

*R.* Ce sont : les langues Turque , Arabe , Persane , celles de la Chine , du Thibet , de la Tatarie , et la langue des Malais.

*D.* Quelles sont les mœurs des Asiatiques ?

*R.* Elles diffèrent selon les contrées qu'ils habitent. Ceux du midi et de l'ouest , tels que les habitans de l'Anatolie , de la Syrie , de la Perse et de l'Indoustan , sont mous et voluptueux ; ceux du nord sont belliqueux , mènent une vie dure et extrêmement pénible ; ceux de l'est , comme les Birmans , les Chinois et les Japonais , offrent dans leurs mœurs les mêmes différences. Les Arabes sont farouches , surtout ceux du désert. En général , la mollesse , le manque de courage et un sot orgueil sont le partage des peuples de l'orient. Cependant l'Asie renferme un bon nombre d'hommes industrieux ; surtout en Perse et dans l'Indoustan , où l'on fabrique de précieuses étoffes ; et dans la Chine , d'où les Européens tirent une belle porcelaine , et plusieurs autres objets de fabrique , justement estimés.

*D.* Quels sont les gouvernemens de l'Asie ?

*R.* Ils sont presque partout despotiques ,

comme en Turquie , en Perse , dans la Chine , au Japon , dans l'empire des Birmans. Les Arabes , les Tatares , les Mongouls , les Calmoucks , jouissent de leur indépendance ; et les peuples soumis à la Russie vivent selon leurs lois.

*R.* Quelles sont les religions de l'Asie ?

*R.* Le mahométisme et l'idolâtrie se partagent presque entièrement cette vaste partie de la terre. On y trouve aussi des chrétiens , mais en général schismatiques ; et des juifs établis jusques dans la Chine.

## LEÇON VII.

### *Grandes divisions de l'Asie.*

*D.* QUELLES sont les grandes divisions de l'Asie ?

*R.* Ces divisions sont au nombre de douze , savoir : la Turquie asiatique , l'Arabie , la Perse , le Caboul , l'Indoustan , la presque île orientale de l'Inde , le Japon , le royaume de Corée , l'empire de la Chine avec la Tatarie chinoise , le Thibet , la Tatarie indépendante et la Russie asiatique.

### *Turquie d'Asie.*

*D.* Quelle est la situation de la Turquie d'Asie ?

*R.* Elle est située entre les 30°. et 42°. de latitude N. , et entre les 24°. et 46°. de longitude E. Au nord , elle est bornée par la mer Noire et la Russie d'Asie à l'ouest par la mer de Marmara et l'Ar-

chipel ; au sud par la Méditerranée et l'Arabie ,  
et à l'est par la Perse.

*D.* Quelles sont les grandes divisions de la  
Turquie d'Asie ?

*R.* On y compte six grands gouvernemens  
qui se subdivisent en pachaliks, savoir : l'Anatolie  
qui est l'ancienne Asie mineure ; l'Arménie  
Turque, la Syrie , l'Aljésira , l'Irak-Arabi et le  
Kurdistan.

*D.* Quelles sont les villes capitales de ces  
provinces ?

*R.* L'Anatolie a pour capitale Kutahieh ; l'Ar-  
ménie Turque a pour capitale Erzéroum , près  
des sources de l'Euphrate ; la Syrie a pour  
principales villes Alep et Damas ; l'Aljésira a  
pour capitale Diarbékir sur le Tigre ; l'Irak-Arabi  
a pour capitale Bagdad sur le Tigre, et Bassora  
sur l'Euphrate , à vingt lieues de l'embou-  
chure de ce fleuve dans le golfe Persique. Enfin  
le Kurdistan a pour principale ville Shérésour.

*D.* Quelles sont les autres villes remarquables  
de la Turquie asiatique ?

*R.* Ces villes sont : Bursa et Isnik (l'ancienne  
Nicée), près de la mer de Marmara ; Sinope, Tré-  
bizonde (capitale d'un ancien empire) sur la mer  
noire ; Smyrne , avec un port très-fréquenté sur  
un golfe de l'Archipel ; Satalieh , au fond d'un  
golfe de son nom ; Alexandrette , St.-Jean-d'Acre  
sur la Méditerranée ; Jérusalem dans la Palestine ;  
Nicosie dans l'île de Chypre ; Konieh (l'ancienne  
*Iconium*) ; Mosul, ville considérable sur le Tigre.

*L'Arabie.*

*D.* Quelle est la situation de l'Arabie ?

*R.* L'Arabie est située entre les 11°. et 33°. de latitude N. Elle est bornée au nord par la Turquie proprement dite ; à l'ouest , elle communique avec l'Égypte, par l'Isthme de Suez, et la mer Rouge la limite ; au sud , elle est bornée par la mer des Indes ; à l'est par le golfe Persique.

*D.* Quelles sont les grandes divisions de l'Arabie ?

*R.* Cette contrée se divisait jadis en trois parties , la *Déserte* , la *Pétrée* et l'*Heureuse*. Ses divisions modernes sont : le désert de Sinaï, l'Hedjas, le Tchama, l'Yémen, l'Hadramaut, l'Oman, et l'Héger.

*D.* Où est situé le désert de Sinaï, et quelles en sont les principales villes ?

*R.* Il est situé au nord de la mer Rouge par le 31°. de latitude N. et le 32°. de longitude E. Les principales villes de cette division sont : Ca-laath et Moïlah.

*D.* Quelle est la situation de l'Hedjas, et quelles en sont les principales villes ?

*R.* L'Hedjas est situé le long du rivage oriental de la mer Rouge. Ses principales villes sont : la Mecque et Médine , célèbres dans les annales turques , l'une par la naissance , et l'autre

par la fuite de Mahomet dont le tombeau attire chaque année la visite d'un grand nombre de Musulmans. Les autres villes de l'Hedjas sont : Yambo , qui a un port fréquenté sur la mer Rouge ; Djeddah , port de la Mecque , Istabel-Antar.

*D.* Quelle est la situation du Tchama, et quelles en sont les principales villes ?

*R.* Le Tchama est un désert situé à l'est de la mer Rouge et au sud de la Mecque. Cependant on y remarque les villes de Confida et de Loheiah sur la même mer.

*D.* Quelle est la situation de l'Yémen, et quelles en sont les principales villes ?

*R.* L'Yémen est situé sur la mer Rouge au sud du Tchama , par les 11°. et 16°. de latitude N., et par les 41°. et 44°. de longitude E. Ses principales villes sont : Sana , Moka , sur le détroit de Bab-el-Mandeb ; Aden sur la mer des Indes, et Mareb.

*D.* Quelle est la situation de l'Hadramaut , et quelles en sont les principales villes ?

*R.* L'Hadramaut est situé par les 15°. et 19°. de latitude N. , le long de la côte de la mer des Indes. Ses villes principales sont : Sahar , Doan , et Késem sur la mer des Indes.

*D.* Quelle est la situation de l'Oman , et quelles en sont les principales villes ?

*R.* Cette contrée est située à l'est du désert de l'Arabie méridionale. Ses villes principales



sont : Maskat port de mer ; Rostan et Sohar sur le détroit d'Ormus.

*D.* Quelle est la situation de l'Héger, ou pays des Wéchabites, et quelles en sont les villes principales ?

*R.* Il est situé par les 25°. et 27°. de latitude N., à l'ouest du golfe Persique. Lasha, sur la rivière d'Aftan, Imna et Elkatif, en sont les principales villes.

## LEÇON VIII.

### *Le Royaume de Perse.*

*D.* QUELLE est la situation du royaume de Perse ?

*R.* Le royaume de Perse est situé entre les 26°. et 40°. de latitude N., et les 41°. et 68°. de longitude E. Au nord il est borné par la mer Caspienne et la Tatarie indépendante ; à l'ouest par la Turquie d'Asie et le golfe persique ; au sud par la mer des Indes ou golfe du Sind.

*D.* Quelles provinces renferme le royaume de Perse ?

*R.* Il en renferme onze qui sont : 1°. l'Arménie persane ; 2°. le Ghilan ; 3°. le Mazandéran ; 4°. l'Irac Adjémy ; 5°. le Korsistan ; 6°. le Farsistan ; 7°. le Laristan ; 8°. le Kerman ; 9°. le Meckran ; 10°. le Bélouchistan ; 11°. le Khorasan.

*D.* Quelle est la situation de l'Arménie persane , et quelles en sont les principales villes ?

*R.* Elle est située entre les 39°. et 42°. de latitude N. Ses principales villes sont : Erivan et Nakchivan sur l'Aras.

*D.* Quelle est la situation du Ghilan , et quelles en sont les principales villes ?

*R.* Cette province est située entre les 36°. et 39°. de latitude N. Elle a pour principales villes Resht et Astara sur la mer Caspienne.

*D.* Quelle est la situation du Mazandéran , et quelles en sont les principales villes ?

*R.* Il est situé entre les 36°. et 37°. de latitude N. Ses villes principales sont : Balfrok , et Asterabad , au sud de la mer Caspienne.

*D.* Quelle est la situation , et quelles sont les principales villes de l'Irak-Adjémy ?

*R.* Il est situé entre les 32°. et 37°. de latitude N. Il a pour principales villes , Téhéran à trente lieues au sud de la mer Caspienne , et nouvelle capitale du royaume ; Ispahan , ancienne capitale , ruinée en partie , et devenue presque déserte par les dernières révolutions de la Perse , à environ soixante-dix lieues au sud de Téhéran ; Hamadan , Yezd et Kom.

*D.* Donnez les mêmes détails sur les autres provinces de la Perse ?

*R.* Le Korsistan est entre les 30°. et 33°. de la-

itude N. ; sa principale ville est Suster , sur le Karasu qui se jette dans le Tigre.

Le Farsistan , est entre les 27°. et 30°. de la même latitude. Sa principale ville est Schiras dont les environs produisent un vin excellent.

Le Laristan , entre les 27°. et 29°. de la même latitude , a Lar et Gomron.

Le Kerman , situé entre les 26°. et 32°. de la même latitude , a pour ville principale Minah au sud , sur le golfe Persique. Les Parsis ou descendants des anciens Perses , adorateurs du feu, y sont nombreux.

Le Meckran , situé par les 25°. et 30°. de latitude N. , est mal peuplé. Ses villes les plus remarquables sont : Kédi , Pendjg et Benpour : cette contrée est limitée au sud par le golfe du Sind.

Le Bélouchistan est situé entre les 24°. et 30°. de latitude N. , et les 56°. et 67°. de longitude E. ; il a Kulat pour ville principale.

Le Khorasan , situé entre les 36°. et 39°. de la même latitude, et à l'est du Ghilan, a pour principales villes, Meshid sur la rivière de Thus , et Mewdé au nord.

*D.* Quelle est la partie de la Perse et de la Turquie Asiatique , acquise par la Russie ?

*R.* Cette partie qui comprend une grande partie de la Géorgie , le Daghistan , le Shirvan, la Mingrélie , etc. est bornée au sud par le Pha-

sis qui se rend dans la mer Noire à l'ouest, et par le Kom qui se jette à l'est dans la mer Caspienne. Elle renferme les villes de Tiflis, capitale de la Georgie; de Derbent, capitale du Daghistan sur la mer Caspienne; de Chamaki, capitale du Shirvan; et de Baku sur un golfe de la mer Caspienne.

---

## LEÇON IX.

*Le Royaume de Caboul.*

*D.* QUELLE est la situation du royaume de Caboul ?

*R.* Il est situé entre les 27°. et 34°. de latitude N; il est borné au nord par la Tatarie indépendante, à l'est par le petit Thibet, à l'ouest et au sud par la Perse et l'Indoustan.

*D.* Quelles sont les grandes divisions de ce royaume ?

*R.* Il se divise en Sedjestan, en Afganistan, en Caboulistan et en Pen-Jab.

*D.* Quelle est la situation du Sedjestan, et quelles en sont les principales villes ?

*R.* Il est situé par les 31°. et 34°. de latitude N. Ses principales villes sont : Hérat, sur la rivière du même nom, et détachée du Khorasan;

Ferrat, Donchah sur la rivière Hermend; et au nord, Balk et Gaur sur l'Oxus.

*D.* Quelle est la situation de l'Afganistan ?

*R.* Il est situé par le 31°. et le 33°. de latitude N. Sa capitale est Candahar, ville considérable, très-peuplée et très-commerçante.

*D.* Quelle est la situation du Caboulistan ?

*R.* Il est situé par les 33°. et 35°. de latitude N. Ses principales villes sont : Caboul, capitale de tout le royaume, et ville très-commerçante; Ghisni, et Peschawer, ville riche et peuplée, à l'ouest de l'Indus.

*D.* Quelle est la situation du Pen-Jab, et quelles en sont les villes principales ?

*R.* Le Pen-Jab est situé par les 30°. et 35°. de latitude N. Ses villes principales sont : Moul-tan, Attok, Lahor et Kachemire à l'est de l'Indus.

*D.* Entrez dans quelques détails sur la ville de Kachemire ?

*R.* Cette ville est située dans une vallée qui porte le même nom. Elle s'étend de la longueur d'une lieue sur les deux rives de la Djalem; et sa largeur moyenne est à peu près d'une demi-lieue. Elle ne renferme aucun édifice remarquable; l'air en est salubre et doux. Ses environs au levant et au couchant sont remplis de jardins. Au nord-est de la ville, il y a un lac couvert d'un grand nombre de petites îles dont l'aspect est charmant.

*D.* Quels sont les principaux objets du commerce des Kachemiriens ?

*R.* Ces objets sont : le papier à écrire qu'ils fabriquent, et qui est le meilleur de tout l'Orient ; et surtout ces schalls précieux, qui sont recherchés avec tant d'empressement dans tous les pays du monde. La laine qu'on y emploie, vient d'une espèce de chèvres que nourrit le Thibet.

*D.* Quel est le caractère des Kachemiriens, et quelle est leur religion ?

*R.* Ils sont vifs, gais, très-enclins au plaisir, et excessivement curieux. Ils professent presque tous le mahométisme.

*D.* Le royaume de Caboul n'avait-il pas un autre nom ?

*R.* Il était connu, il y a environ vingt-cinq ans sous le nom d'empire des Afghans.

---

## LEÇON X.

### *L'Indoustan, ou presque île occidentale de l'Inde.*

*D.* QUELLE est la situation de l'Indoustan ?

*R.* Il est situé entre les 8°. et 31°. de latitude N., et les 65°. et 90°. de longitude E. Au nord, il est borné par le Thibet et par le royaume de

Caboul; au sud-est par le Gange et le golfe du Bengale; au sud par la mer des Indes.

*D.* Quels sont les principaux états de l'Indoustan ?

*R.* On divise cette vaste région relativement aux puissances qui y dominent. Ces divisions consistent dans les états des Seikes, des princes Marattes; le Guzerat, le Mysore, le Carnatic, les Circars et le Bengale.

*D.* Quelle est la situation de l'état des Seikes, et quelles en sont les principales villes ?

*R.* Il s'étend à l'est et le long de l'Indus et du royaume de Caboul. Les deux provinces qu'il contient, sont situées entre les 23°. et 31°. de latitude N. Ses villes principales sont : Sirind, capitale sur la Sellège; Sérinagur, aux sources du Gange; Adgiméra et Tatah à l'embouchure de l'Indus.

*D.* Quelle est la situation de l'état des princes Marattes, et quelles en sont les villes principales ?

*R.* Cet état, naguère très-puissant, est situé au centre de l'Inde. Il comprend les états du ci-devant Mogol, du Nizzam du Décan et du Paishwa. Ses principales villes sont : Delhy et Agra, anciennes résidences des empereurs Mogols, mais bien déchues de la splendeur dont elles brillaient, il y a environ quatre-vingts ans : elles sont situées sur la Jumna; Ougein, au nord, et près de la source du Chambul; Nagpour, à l'ouest de la Mahanada; Cuttack

sur  
 Cor  
 la C  
 pti  
 A  
 très  
 tue  
 D  
 du  
 villes  
 R.  
 occi  
 de la  
 drab  
 nord  
 et Ga  
 D.  
 et qu  
 R.  
 nord  
 et à  
 villes  
 Bomb  
 dans  
 D. C  
 les en  
 R. C  
 sur la  
 titude  
 bad, c

sur l'embouchure de la Mahanada , à la côte de Coromandel ; Arrungabad au nord et près de la Godavéry ; Burampour sur la rivière de Tapti qui se jette dans le golfe de Cambaye.

Avant 1818 , la puissance des Marattes était très-redoutable ; mais cette année elle fut abattue par une grande victoire des Anglais.

*D.* Quelle est la situation des états du Nizzam du Décan , et quelles en sont les principales villes ?

*R.* Cet état est situé au centre de la presqu'île occidentale de l'Indoustan , par les 15°. et 19°. de latitude N. Il a pour villes principales Hydrabad , bâtie près des ruines de Golconde , au nord de la Kitznah ; Adoni sur la Tumbudra , et Ganjcottah au sud.

*D.* Quelle est la situation de l'état du Paishwa , et quelles en sont les villes principales ?

*R.* Cet état est situé au sud du Guzerate , au nord du Mysore , à l'est de la mer des Indes et à l'ouest des états du Nizzam. Il a pour villes principales : Pounah , capitale ; Visiapour et Bombay. Sur la côte est Goa , ville portugaise , dans une petite île.

*D.* Quelle est la situation du Guzerate et quelles en sont les principales villes ?

*R.* Cet état est situé au sud-est de l'Indus , sur la mer des Indes par les 20°. et 24°. de latitude N. Ses villes principales sont : Amédabad , capitale sur le Mahindri ; Cambaye sur le



golfe de ce nom ; et Surate , ville très-commerçante sur la Tapti.

*D.* Quelle est la situation du Mysore , et quelles en sont les villes principales ?

*R.* Cet état qui formait un empire considérable avant d'avoir été conquis en 1799 , par les Anglais , est situé au sud de l'état du Paishwa et de celui du Nizzam du Décan , par les 10°. et 15°. de latitude N. et à l'est de la mer des Indes. Ses principales villes sont : Seringapatam , capitale , et Bednore sur la Tumbudra.

*D.* Quelle est la situation du Carnatic et quelles en sont les principales villes ?

*R.* Cet état est situé sur la côte de Coromandel : il a pour principales villes : Arcote , capitale ; Madras , Ongole , Pondichéry , et Tanjore près du Cavéri. Madras est un des chefs-lieux des établissemens anglais dans l'Indoustan. Pondichéry avec son territoire appartient à la France.

*D.* Quelle est la situation des Circars , et quelles en sont les principales villes ?

*R.* Cet état est situé sur la côte de Coromandel au nord-est du Carnatic. Ses principales villes sont : Mazulipatam , Visagapatam et Ganjam , où les français possèdent un comptoir.

*D.* Quelle est la situation du Bengale et quelles en sont les villes les plus remarquables ?

*R.* Cet état est situé sur le golfe du même nom , et s'étend du 22°. au 26°. de latitude N.

Ses  
peti  
pos  
de l  
Mo  
Ma  
Bén  
ville  
prêt  
au c  
chef  
Gogr

*D.*  
l'Indo  
*R.*  
qui o  
sont  
vassau  
lui son  
N. ; c  
d'envi  
compa

Ses principales villes sont : Mourchedabad, sur le petit Gange ; Calcutta , principal comptoir des possessions anglaises dans l'Inde et le centre de leur gouvernement , à trente lieues au sud de Mourchedabad sur un bras du Gange ; Patnah , Manikpoure, encore plus au nord, sur le Gange ; Bénarès, sur le Gange, à l'ouest de Patnah : cette ville est le centre de la religion des Brahmines , prêtres idolâtres de l'Indoustan ; Allahabad, au confluent de la Jumna et du Gange ; et Oude, chef-lieu d'une Nababie de ce nom , sur la Gogra.

---

## LEÇON XI.

*Suite de la précédente.*

**D.** QUELLE est la puissance dominante dans l'Indoustan ?

**R.** C'est la puissance anglaise. Tous les états qui ont été nommés dans la leçon précédente sont sous sa dépendance et ses tributaires ou vassaux. On compte trente-trois provinces qui lui sont assujéties entre les 8°. et 30°. de latitude N. ; ce qui fait du nord au sud une étendue d'environ cinq cents lieues de pays. Une compagnie de marchands gouverne cet empire,

et un gouverneur, nommé par le roi d'Angleterre, lequel en est le président, commande les troupes destinées à la défense des provinces conquises.

*D.* Les Français n'ont-ils pas quelques possessions dans les états que vous avez nommés ?

*R.* Ils ont des établissemens à Chandernagor dans le Bengale , à Masulipatam , à Pondichéry et à Karical , sur la côte de Coromandel ; à Surate , sur la rivière Tapti , près du golfe de Cambaye , et dans plusieurs autres endroits.

*D.* Quelle est la situation des côtes de Coromandel et de Malabar ?

*R.* La côte de Coromandel est située à l'est de la presqu'île occidentale de l'Inde , depuis l'embouchure du Gange jusqu'au cap Comorin : elle borde à l'est le Carnatic et les Circars ; et celle de Malabar s'étend depuis le même cap jusqu'au fond du golfe de Cambaye.

*D.* Quelles sont les villes principales situées sur la côte de Malabar ?

*R.* Ce sont : les villes de Bombay , dans l'île de ce nom, chef-lieu des possessions anglaises, dans cette partie de l'Indoustan ; Goa , ville peuplée et commerçante , qui appartient aux Portugais , dans une île ; Mangalor et Mahé , établissemens français ; Calicut et Cochin , aux Hollandais ; et Travancor , aux Anglais.

*D.* Quelles sont les villes les plus remarquables situées sur la côte de Coromandel ?

*R.* Ces villes sont : Ganjam , Visigapatam , etc.

*D.* Quelle est la situation de l'île de Ceylan , à qui appartient-elle aujourd'hui , et quelles en sont les principales villes ?

*R.* Cette île est située par le 6°. et 10°. de latitude N. Elle appartient en grande partie aux Anglais , auxquels les Hollandais ont cédé les établissemens qu'ils y possédaient. Les villes principales sont : Colombo à l'ouest , Trinquemalé à l'est , et Candi au centre de l'île. Cette dernière ville , qui était la capitale d'un royaume du même nom , est tombée dans ces derniers temps au pouvoir des Anglais. C'est dans l'île de Ceylan qu'est situé le fameux Pic-d'Adam , une des plus hautes montagnes du globe.

## LEÇON XII.

*Presqu'île Orientale de l'Inde. — États qu'elle renferme.*

*D.* QUELLE est la situation de la presqu'île Orientale de l'Inde ?

*R.* Elle s'étend depuis le 1°. jusqu'auprès du 27°. de latitude N. : elle est bornée au nord par la Chine ; à l'ouest par le Gange et le golfe du Bengale ; au sud par la mer des Indes , et à l'ouest par la mer de la Chine.

*D.* Quels états sont compris dans cette presqu'île ?

*R.* Elle comprend l'empire des Birmans , les royaumes d'Ascham et de Siam , la presqu'île de Malaca , les royaumes de Camboje et de Laos ; le Siampa , la Cochinchine et le Tounquin.

*D.* Quelle est la situation de l'empire des Birmans , et de quelles provinces est-il composé ?

*R.* Il est situé entre les 11°. et 27°. de latitude N. , et les 90°. à 98°. de longitude E. Il est borné au nord par le Thibet ; à l'ouest par le royaume d'Ascham et le golfe du Bengale ; au sud par le même golfe , et à l'est par les royaumes de Laos et de Siam. Il s'est formé dans ces derniers temps des royaumes de Cassay , d'Ava , d'Arakan et de Pégû.

*D.* Quelles sont les principales villes de l'empire des Birmans ?

*R.* Ces villes sont : Ummérapoura , capitale , près des ruines de celle d'Ava ; Prom , Rangoun et Persaim sur l'Irrabatty de l'ouest ; Manipour , à l'ouest de la rivière de Kiem , la même que l'Irrabatty de l'ouest ; Arakan sur le golfe du Bengale ; Pégû sur la rivière de ce nom , et Martaban sur le golfe de Pégû.

*D.* Quelle est la situation du royaume d'Ascham , et quelle est sa ville capitale ?

*R.* Il est situé sur le Burampouter , par les 25°. à 27°. de latitude N. Il est borné au nord

par  
des  
Gh  
L  
et c  
L  
Il e  
Bir  
l'es  
sur  
non  
lâtr  
L  
R  
tud  
est  
sud  
mer  
Ind  
nas  
bât  
pre  
lan  
ves  
l'O  
C  
lon  
bel

par le Boutano et le Thibet, au midi par l'empire des Birmans et le Bengale. Sa ville capitale est Ghergong , sur le Burampouter.

*D.* Quelle est la situation du royaume de Siam, et quelles en sont es villes remarquables ?

*R.* Il est situé entre les 12°. et 22°. de latitude N. Il est borné au nord et à l'ouest par l'empire des Birmans ; au midi par le golfe de son nom, et à l'est par le Laos et le Camboje. Sa capitale est Siam sur le Ménan. Ce royaume nourrit un grand nombre d'éléphants et de bêtes féroces. L'idolâtrie en est la religion dominante.

*D.* Que dites-vous de la presqu'île de Malaca ?

*R.* Elle est située entre le 1°. et le 12°. de latitude N., et les 95°. à 102°. de longitude E. Elle est bornée au nord par le royaume de Siam, au sud par le détroit de son nom, à l'est par la mer de la Chine, et à l'ouest par la mer des Indes. On y trouve les villes de Malaca, de Tannassérim, de Quéda et de Patani. Malaca a été bâtie par les Portugais. Les habitans de cette presqu'île se nomment Malays, et parlent une langue particulière, dont on trouve de fréquens vestiges dans le langage des habitans des îles de l'Océanique.

On trouve au sud-ouest sur les 91°. et 93°. de longitude, les îles Andaman, Nicobar et Sombelong.

## LEÇON XIII.

*Suite de la précédente.*

**D.** QUELLE est la situation du royaume de Camboje , et quelles en sont les principales villes ?

**R.** Ce royaume est situé entre les 9°. et 17°. de latitude N. Il est borné au nord par le royaume de Laos ; à l'est par la Cochinchine et le Siam ; au sud par la mer de la Chine , et à l'ouest par le royaume de Siam. Il a pour capitale une ville de son nom , sur le Ménankom.

**D.** Quelle est la situation du royaume de Laos, et quelle en est la capitale ?

**R.** On le place entre les 17°. et 20°. de latitude N. Au nord , il est borné par les montagnes qui le séparent de la Chine ; à l'est par le Tunquin ; au sud par le Camboje , et à l'ouest par le royaume de Siam. Il a pour capitale Sandepour sur la rivière de Maykoug.

**D.** Quelle est la situation du Siampa ?

**R.** Il est situé entre les 10°. et 12°. de latitude N. Ses limites sont : au nord la Cochinchine et la mer de la Chine ; à l'est et au sud cette même mer, et à l'ouest le Camboje. Saigon en est le chef-lieu.

D.  
R.  
latit  
quin  
par  
et p  
dans  
tion.  
trou  
D.  
quel  
R.  
Au r  
golfe  
Laos  
est K  
que l  
Chin  
D.  
et q  
tions  
R.  
peut  
Ainsi  
qu'île  
qui es  
les ve  
ductio  
succè  
sent u

*D.* Que dites-vous de la Cochinchine ?

*R.* Ce royaume est situé par les 12°. à 18°. de latitude N. Il est borné au nord par le Tunquin ; à l'est par la mer de la Chine ; à l'ouest par le Camboje. Sa capitale est Hué-Fo, à l'est et près de la mer. C'est un pays peuplé, et qui dans ces derniers temps a éprouvé des révolutions par l'ambition d'un usurpateur. Il s'y trouve quelques missionnaires français.

*D.* Quelle est la situation du Tunquin, et quelle en est la principale ville ?

*R.* Il est situé par les 18°. à 23°. de latitude N. Au nord il est borné par la Chine ; à l'est par le golfe de son nom ; à l'ouest par le royaume de Laos, et au sud par la Cochinchine. Sa capitale est Kesho, situé sur le fleuve Sang-hoi. Ainsi que la Cochinchine, il est tributaire de l'empire Chinois.

*D.* Quelle est la population du Tunquin, et quelles en sont les principales productions ?

*R.* Ce royaume est très-peuplé, mais on ne peut dire au juste le nombre de ses habitans. Ainsi que la plupart des autres pays de la presqu'île, il produit une grande abondance de riz qui est la principale nourriture de ses habitans ; les vers à soie sont une de ses plus riches productions, et les cannes à sucre y croissent avec succès. Les montagnes et les forêts y nourrissent une grande quantité d'éléphants.



*D.* Quelle est la langue et la religion des Tunquinois ?

*R.* Cette langue a beaucoup d'affinité avec celle des Chinois, leurs anciens maîtres. Les Tunquinois ont deux sortes de religions qu'ils ont reçues de la Chine. La première est celle de Confucius, qui se réduit chez eux à honorer intérieurement le Roi du ciel, à honorer les morts, et à pratiquer les vertus morales. Le roi, les mandarins et tous les lettrés professent cette religion. La seconde est celle de l'imposteur Fô; ses sectateurs adorent les idoles : c'est la religion du peuple et des femmes. Ces deux religions sont aussi celles de la Cochinchine.

## LEÇON XIV.

### *Empire du Japon.*

*D.* QUELLE est la situation de l'empire du Japon, et de quelles îles est-il composé ?

*R.* L'empire du Japon est situé par les 30°. à 45°. de latitude N. Il est formé de plusieurs îles situées entre la mer qui porte son nom et le grand Océan Boréal.

*D.* Quelle est la principale de ces îles et quelles en sont les villes les plus remarquables ?

*R.* C'est l'île de Nippon : elle est le centre du

gou  
son  
sur  
près  
*D.*  
Jap  
elles  
*R.*  
de  
pire  
pita  
est c  
sidé  
par  
noré  
mais  
ferm  
*D.*  
*R.*  
quan  
*Sam*  
reur  
*D.*  
*R.*  
l'espr  
sont  
l'occe  
point  
ritue  
*D.*

gouvernement de l'empire. Ses villes principales sont : Jédo , capitale de tout le Japon , située sur un golfe au sud ; Méaco, ville considérable près de la mer, au sud-ouest.

*D.* Quelles sont les autres îles principales du Japon, et quelles villes remarquables renferment-elles ?

*R.* Au nord de celle de Nippon , est celle de Matsmai ou Jéso , dont le chef de l'empire possède la partie méridionale et dont la capitale porte le même nom. Au sud de Nippon, est celle de Kiusiu où est Nangasaki, ville considérable et le seul port du Japon, fréquenté par les Européens : l'île de Sikoki, située au nord-est de la précédente est très-peuplée; mais, ainsi que plusieurs autres, elle ne renferme aucune ville considérable.

*D.* Quel est le gouvernement du Japon ?

*R.* Le Japon est gouverné despotiquement , quant au civil, par un empereur nommé *Cubo-Sama*; et quant au spirituel, par un autre empereur nommé *Dairi*.

*D.* Quelles sont les mœurs des Japonnais ?

*R.* Ils ont le cœur généreux et bienfaisant , l'esprit doux , un caractère facile et sociable ; ils sont sobres , économes , mais prodigues dans l'occasion ; fiers , intrépides , délicats sur le point d'honneur , sincères , désintéressés , spirituels et amis des arts.

*D.* Quelle est la langue du Japon ?

*R.* La langue japonnaise est une langue originale et primitive, quoiqu'elle ait emprunté quelques termes à celle de la Chine, et qu'elle emploie pour l'écriture des caractères en usage dans cet empire. La prononciation de cette langue est en général nette, douce et sonore.

*D.* Quelle est la religion des Japonnais ?

*R.* Il y a trois religions au Japon, savoir : le culte des anciens Dieux du pays, qui, selon les idées de ce peuple, ont gouverné le Japon pendant plusieurs millions d'années ; l'autre qui consiste dans le culte des idoles étrangères ; et la troisième qui n'a pour objet que la pratique de la vertu, et qui ne rend de culte à aucune divinité.

*D.* Quelle est la population du Japon ?

*R.* Elle s'élève, dit-on, à vingt-cinq millions d'individus.

*D.* Quelles sont les productions du Japon ?

*R.* Cet empire produit de l'or, de l'argent, du cuivre, du plomb, mais peu de fer, une grande quantité de soufre, et des pierres précieuses. Les grains qu'on y cultive, sont : le riz, l'orge, le froment, et deux espèces de fèves. On y trouve la plupart des fruits et des légumes qui viennent en Europe. Le mûrier croît dans presque toutes les provinces de l'empire, et fournit à la subsistance d'un nombre immense de vers à soie. Les orangers et les citronniers y croissent en abondance. Les sapins, les cyprès, les

céd  
con  
por  
dan  
des  
des  
y so  
tits  
fles  
més  
char

*D.*  
*R.*  
mer  
et er  
la T  
de s  
*D.*  
roya  
*R.*  
sont  
*D.*  
en s

cèdres et les bambous y sont les arbres les plus communs. Dans le nombre des plantes du Japon le thé est la plus recommandable. On trouve dans les forêts des ours, des sangliers, des loups, des renards, des chiens sauvages, des lièvres, et des daims. Les chèvres, les brebis et les porcs y sont fort rares; les chevaux, qui sont très-petits, servent à la culture des terres; et des buffles d'une grosseur extraordinaire sont accoutumés à porter de grosses charges, comme les chameaux.

---

## LEÇON XV.

### *Le Royaume de Corée.*

*D.* QU'EST-CE que la Corée ?

*R.* C'est une grande presqu'île située entre la mer du Japon à l'est, et la mer Jaune à l'ouest, et entre les 35°. et 43°. de latitude N. ; au sud de la Tartarie chinoise, et au nord-ouest du détroit de son nom.

*D.* Quelles sont les principales villes de ce royaume ?

*R.* La capitale est *Kin-ki-tao*; les autres villes sont : Ping-haï et Ping-yon.

*D.* Quel est le climat de la Corée, et quelles en sont les productions ?

*R.* Ce climat est très-froid, surtout dans les contrées septentrionales, où l'on ne recueille ni riz, ni coton, et le peuple ne porte que des vêtemens fort grossiers. Les contrées méridionales produisent du riz, du millet, du tabac, du coton, du chanvre, de la soie, etc.

*D.* Quelles sont les autres productions de la Corée ?

*R.* On y trouve des mines de fer, de plomb et d'argent; des tigres, des martres, des castors, beaucoup de bestiaux de toute espèce; et quantité d'oiseaux domestiques et sauvages. Les éléphans y sont rares, mais les crocodiles sont communs dans les rivières. La Corée produit aussi quantité de reptiles venimeux.

*D.* Quel est le gouvernement de la Corée ?

*R.* Elle est gouvernée par un roi, qui, quoique tributaire de la Chine, exerce sur ses peuples une autorité despotique. Toutes les terres lui appartiennent. Il les donne à qui il lui plaît, et pour le temps qu'il veut.

*D.* Quelle est la langue de la Corée ?

*R.* Cette langue diffère de la chinoise, et s'écrit avec des caractères particuliers, que le peuple et les femmes emploient dans leurs écritures; mais les lettrés se servent de ceux de la langue chinoise dont l'étude fait la principale occupation des savans.

*D.* Quel est le caractère des Coréens ?

*R.* En général, ils sont doux envers les étran-

gers  
chor  
ples  
plus  
sir,

*D*

*R*

près  
ques  
Fô,  
est r  
mais  
la r

=====

*D*

nois

*R*

N. e  
né a  
'In  
les  
mer

gers, excepté envers ceux qui ont le malheur d'échouer sur les côtes du royaume. Ils sont simples, crédules, fourbes et sujets au larcin. De plus, ils sont mous, efféminés, adonnés au plaisir, et passionnés pour la danse et la musique.

*D.* Quelle est la religion des Coréens ?

*R.* Cette religion est la même, à peu de chose près, que celle du Japon. Le peuple et quelques grands sont sectateurs du culte du Dieu Fô, si accrédité parmi les Chinois ; tout le pays est rempli de temples consacrés à cette divinité ; mais en général, les grands et les lettrés suivent la religion de Confucius.

---

## LEÇON XVI.

### *Empire de la Chine, avec la Tatarie chinoise.*

*D.* QUELLE est la situation de l'empire Chinois ?

*R.* Il est situé entre les 21°. et 55°. de latitude N. et les 69°. et 139°. de longitude E. Il est borné au nord par la Russie asiatique ; à l'ouest par l'Inde et la Tatarie indépendante ; au sud par les royaumes de Siam et de Tunquin, et par la mer de la Chine ; à l'est par la mer Jaune,

celle du Japon , et la Manche de Tatarie ou détroit de Tesso.

*D.* Quelles sont les grandes divisions de la Chine ?

*R.* Elle se divise en Chine proprement dite et en Tatarie chinoise.

*D.* Quelle est la situation de la Chine proprement dite , et quelles en sont les divisions ?

*R.* Elle est située par les 18°. et 42°. de latitude N. Elle se divise en quinze provinces , savoir : de Pé-tché-li , au nord ; de Kiang-nan , à l'est ; de Kiang si , au sud de la précédente ; de Fokien , à l'est , en face de l'île de Formose ; de Tché-kiang , près de la mer Jaune ; de Hou-quang , sur le fleuve Hiang-tse-kiang , au sud-ouest du Kiang-nan ; de Honang , le long du fleuve Jaune , au sud-ouest du Pé-tché-li ; de Chang-tong , au nord du fleuve Jaune , et au sud du golfe de Pé-tché li ; de Chan-si , au sud du Pé tché-li et au nord du fleuve Jaune ; du Chen-si , au sud-ouest de la province d'Honan ; de Sé-tchuen , à l'ouest et au centre de l'empire , au nord du fleuve Bleu ; de Quang-tong , au sud , sur la mer de la Chine ; de Yu-nang , au nord du Sé-Tchuen , et à l'est du Koei-yang ; de Koei-Yang , au nord-est du Yu-nang ; enfin , du Quang-si , située au midi de la Chine.

*D.* Quelles sont les villes capitales de ces provinces ?

*R.* La capitale du Pé-tché-li est Péking , ville

cap  
ville  
plus  
L  
cien  
doc  
L  
le la  
L  
cons  
l'île  
Ha  
près  
étoff  
Vo  
elle e  
plus  
Ka  
Ho-r  
Ts  
pitale  
Si-  
pitale  
Tch  
capita  
Car  
la cap  
la Chi  
le con  
Yu-

capitale de tout l'empire, qui est divisée en deux villes, la Tatare et la Chinoise, et qui contient plus d'un million d'habitans.

La capitale du Kiang-nang est Nan-king, ancienne capitale, et le séjour des plus fameux docteurs de l'empire ;

La capitale du Kiang-si est Nan-tchang, sur le lac Poyan ;

La capitale du Fo-kien est Tchéou-fou, ville considérable et opulente, sur la côte en face de l'île Formose ;

Han-tchéou est la capitale du Tché-kiang, près de la mer Jaune : on y fabrique de riches étoffes ;

Vou-tchang est la capitale du Hou-kang ; elle est située sur le fleuve Bleu : c'est la ville la plus fréquentée de la Chine ;

Kai-Fon sur le fleuve Jaune, est la capitale du Ho-nang ;

Tsi-nang, au nord du fleuve Jaune, est la capitale du Chang-si ;

Si-guang, sur la rivière de Hœi-ho, est la capitale du Chen-si ;

Tching-tou, au nord du fleuve Bleu, est la capitale du Sé-tchuen ;

Can-tong, au sud, sur le golfe de Macao, est la capitale du Can-tong. Son port est le seul de la Chine où les Européens soient admis à faire le commerce ;

Yu-nan, est la capitale du Yu-nan.



Koei-yang , près de la rivière de Yuen-Kiang , est la capitale du Koe-yang.

*D.* Quelles autres provinces dépendent de la terre-ferme de la Chine proprement dite ?

*R.* Ce sont : les îles de Formose et d'Hainan ; la première est située par les 21°. et 24°. de latitude N. , et sa capitale est Tai-ouan ; elle est partagée du nord au sud par une chaîne de montagnes : la partie occidentale est occupé par les Chinois , et l'orientale par les naturels qui n'ont pu être domptés. L'île d'Hainan est située dans la mer de Chine et sur le golfe de Tonquin ; elle a pour capitale Kian-tchéou.

## LEÇON XVII.

### *La Tatarie Chinoise.*

*D.* QUELLE est la situation de la Tatarie chinoise ?

*R.* Elle est située entre les 34°. et 55°. de latitude N. , et par les 69°. à 141°. de longitude E. Elle est bornée au nord par la Russie asiatique ; au sud par la Chine et le grand Thibet ; à l'est par la mer du Japon et le détroit de Tessoï ; à l'ouest par la Tatarie indépendante et le petit Thibet.

*D.* Quelles sont les divisions de cette région ?

*R.* Elle se divise en trois parties qui sont : la Mantchourie , la Mongoulie et la Kalmoukie.

*D.* Quelle est la situation de la Mantchourie ?

*R.* Elle est située par les 42°. et 55°. de latitude N., et entre les 115°. et 139°. de longitude

*E.* Au nord, elle est bornée par la province russe d'Irkoutsk, à l'est par la mer du Japon et le détroit de Tessoï, au sud par la Chine, la mer Jaune et le royaume de Corée ; et à l'ouest par la Mongoulie.

*D.* Quelles en sont les principales villes ?

*R.* Ces villes sont : Kirin-Ula, sur la rivière de Soungaris ; Tsitsicar sur la rivière de Nonni, et Chin-yang ou Mukden, capitale de la province de Leao-tong, la plus voisine de la Chine.

*D.* Quelle est la situation de la Mongoulie ?

*R.* Elle est située par les 38°. et 53°. de latitude N. Au nord, elle est bornée par le gouvernement russe d'Irkoutsk, à l'est par la Mantchourie, au sud par la Chine, et à l'ouest par la Kalmoukie.

*D.* Quelles en sont les principales villes ?

*R.* Ces villes sont : Naimatchin, qui est l'entrepôt du commerce de la Russie avec la Chine, sur la frontière du nord ; Karakum, Tzé-hol, résidence d'été de l'empereur de la Chine, et Pilontai sur le Hoan-ho.

*D.* Quels pays comprend la Kalmoukie, et quelle en est la situation ?

*R.* Elle comprend la Soungarie et la petite Bucharie : elle est située depuis le 34°. jusqu'au 51°.

de latitude N. Au nord, elle est bornée par la Russie asiatique, à l'est par la Mongolie, au sud par le grand Thibet, et à l'ouest par la Tatarie indépendante et le petit Thibet.

*D.* Quelles sont les principales villes de la Kalmoukie ?

*R.* Ces villes sont : Yarkand sur la rivière de ce nom, dans la petite Bucharie ; Cashgar, près la source de la même rivière ; Korgos dans la Soungarie sur l'Ili ; Ortu et Hami ou Chamil. La Kalmoukie renferme dans sa partie méridionale le vaste désert de Cobi.

*D.* Quelles sont les mœurs et les usages des peuples de la Tatarie chinoise ?

*R.* Ces peuples sont en général assez doux, braves, et excellens cavaliers. La plupart sont nomades, c'est-à-dire, changent d'habitations, selon les besoins de leurs troupeaux. Ils se nourrissent de la chair de cheval, et le lait de leurs jumens leur sert de boisson.

*D.* Quelle est leur religion ?

*R.* Ils sont idolâtres, et les devins ou magiciens jouissent d'une grande considération parmi eux.

*D.* Pourquoi la Tatarie dont vous venez de parler est-elle appelée chinoise ?

*R.* Parce qu'elle paye tribut à l'empereur de la Chine, et pour la distinguer de la Tatarie indépendante et de la Tatarie russe.

## LEÇON XVIII.

*Autres détails sur la Chine et la Tatarie  
Chinoise.*

**D.** QUELS sont les principaux fleuves de la Chine ?

**R.** Ces fleuves sont : l'Yang-Tsé-Kiang ou rivière Bleue, et l'Hoang-Ho ou rivière Jaune. Ces deux fleuves prennent leur source au sud du mont Daga. Le premier coule d'abord dans la direction du sud-est, puis au sud, et retourne au sud-est jusqu'à la mer. Le second coule premièrement dans la direction du sud-est, retourne brusquement au sud, en ligne droite jusqu'à la mer. Après avoir coulé presque en droite ligne de l'ouest à l'est, il verse ses eaux dans la mer Jaune à environ trente lieues au nord de l'embouchure de la rivière Bleue. Ces deux grands fleuves reçoivent, à droite et à gauche, plusieurs rivières considérables.

**D.** Quelles sont les montagnes de la Chine ?

**R.** Une grande chaîne, qui part de celle qui est au centre de l'Asie, se dirige au nord de la rivière Jaune, et deux autres branches, qui partent des montagnes du Thibet, traversent le centre de cet empire, et forment le bassin des deux grands fleuves.

*D.* Quelle est la population de la Chine ?

*R.* Les géographes ne sont pas d'accord sur ce point ; cependant il paraît qu'elle n'est pas aussi considérable que plusieurs voyageurs l'ont assuré , et qu'elle ne s'élève guère au-delà de quatre-vingt-dix millions d'individus.

*D.* Quel est le gouvernement de la Chine ?

*R.* Il est impérial et despotique , si toutefois on peut donner ce nom au gouvernement paternel d'un monarque qui ne se conduit que d'après les lois de son empire , et les avis de ses ministres.

*D.* L'empire de la Chine est-il bien ancien ?

*R.* Oui : il subsiste depuis plus de quatre mille ans. On y compte vingt-trois dynasties d'empereurs. Celle qui occupe aujourd'hui le trône est d'origine tatare , parce qu'un prince de cette nation fit la conquête de la Chine , vers le milieu du dix-septième siècle.

*D.* Quelle est la langue de la Chine ?

*R.* Elle se compose d'environ quatre-vingts caractères qui représentent un nombre prodigieux de mots. A peine la vie entière d'un lettré lui suffit-elle pour l'apprendre.

*D.* Quels sont les mœurs et les usages des Chinois ?

*R.* Les Chinois sont d'un caractère doux et pacifique ; très attachés à la personne de leurs souverains , à leurs lois et à leurs coutumes. L'obéissance des enfans envers leurs parens , et

le re  
sont  
rale.

*D.*  
peup

*R.*  
ans a  
regre

*D.*  
*R.*

rius

siste

du c

culte

culte

ans a

sont

bre p

y a e

missi

naire

chris

mais

rigou

cette

*D.*

Chin

*R.*

celai

reche

le respect pour la mémoire de leurs ancêtres , sont les points les plus importans de leur morale.

*D.* Quel législateur a enseigné la morale au peuple chinois ?

*R.* C'est Confucius, qui vivait plus de cinq cents ans avant Jésus-Christ, et dont, les livres sont regardés comme sacrés par cette nation.

*D.* Quelle est la religion de la Chine ?

*R.* La religion de l'empereur, des mandarins ou grands de l'empire, et des lettrés, consiste dans l'adoration d'un Dieu unique ou roi du ciel ; mais celle du peuple consiste dans le culte qu'il rend à un imposteur nommé Foé, culte qui depuis plus de deux mille cinq cents ans a pris son origine dans l'Inde. Les Chinois sont entretenus dans cette idolâtrie par un nombre prodigieux de moines, nommés Bonzes. Il y a environ cent cinquante ans que, par la permission de l'empereur Chang-Hi, les missionnaires jésuites étaient parvenus à convertir au christianisme un très-grand nombre de Chinois; mais ses successeurs ont proscrit, par des édits rigoureux, l'exercice public et même secret de cette religion.

*D.* Quelles sont les produits de l'industrie des Chinois et ceux de leur territoire ?

*R.* Ils fabriquent, entr'autres objets, une porcelaine estimée, du papier très-fin, une encre recherchée, un vernis auquel on ne saurait

comparer celui des Européens, et des étoffes de soie et de coton. Leur territoire produit une grande quantité de riz, qui est leur principale nourriture, du thé excellent, une grande variété de fruits exquis, de plantes médicinales, etc. Il nourrit aussi de nombreux troupeaux, et renferme des mines d'or, d'argent, de fer, de cuivre etc. Ses forêts, ainsi que celles de la Tartarie, servent de retraite à un grand nombre de bêtes féroces, telles qu'éléphants, lions, tigres, ours, etc.

*D.* Quelles sont les principales curiosités de la Chine ?

*R.* On y admire une tour de porcelaine à plusieurs étages ; le grand canal impérial, qui a environ cent lieues de long ; le palais de l'empereur à Péking ; et cette muraille qui sépare la Chine proprement dite de la Tartarie chinoise, et s'étend par les montagnes, les vallées et au-dessus des rivières, depuis le 94°. jusqu'au 122°. de longitude E., et depuis le 40°. jusqu'au 44°. de latitude N. Elle commence au sud de la Mongolie, et se termine à l'extrémité méridionale de la Mantchourie.

## LEÇON XIX.

*Le grand et le petit Thibet, le Boutan et le Népaul.*

*D.* QUELLE est la situation du grand Thibet ?

*R.* Il est situé entre les 25°. et 35°. de latitude N., et par les 78°. et 100°. de longitude E. Il est borné au nord par la Kalmoukie et le pays des Eleuths, à l'est par la Chine, au sud par l'Indoustan et les Birmanes, et à l'ouest par le petit Thibet.

*D.* Quelles sont les principales villes du grand Thibet ?

*R.* Ces villes sont : Lassa, résidence du Grand Lama, chef de la religion du Thibet, près du Burampouter ; et Chaparang

*D.* Quelle est la situation du petit Thibet, et quelles en sont les principales villes ?

*R.* Le petit Thibet est situé par les 32°. et 40°. de latitude N. ; son extrémité septentrionale touche au 70°. de longitude E. ; et par la méridionale il s'avance vers le 80°. Au nord, il est borné par la petite Bucharie ; à l'est, par le désert de Cobi et le grand Thibet ; au sud, par l'Indoustan, et à l'ouest, par le royaume de Caboul et la Tatarie indépendante. Ce pays ne renferme qu'une ville un peu remarquable, nommée Latac, sur le Sind.



*D.* Quelle est la religion du Thibet ?

*R.* Les Thibétains adorent comme une divinité un homme qu'ils regardent comme immortel, et qu'ils appellent le Grand-Lama.

*D.* Quelle est la situation du Boutan, et quelles en sont les principales villes ?

*R.* Le Boutan est situé entre le fleuve Bura-rampouter au nord, et l'Indoustan au sud et à l'ouest ; et le royaume d'Ascham à l'est ; il a pour principale ville Tassisudon, au midi du mont Himmaleh.

*D.* Quelle est la situation du Népal ?

*R.* Il est situé au sud-ouest du Boutan. Ses villes principales sont : Catmandu et Gorka.

## LEÇON XX.

### *La Tatarie indépendante.*

*D.* QUELLE est la situation de la Tatarie indépendante ?

*R.* Elle est située entre les 35°. et 55°. de latitude N., et les 49°. et 81°. de longitude E. Elle est bornée au nord par la Russie d'Asie ; à l'ouest par la mer Caspienne ; au sud par la Perse et le royaume de Caboul, et à l'est par la Tatarie chinoise.

*D.* Pourquoi cette Tatarie est-elle nommée indépendante ?

*R.* Parce qu'elle n'a jamais subi le joug des puissances qui l'entourent , telles que la Chine , la Russie et la Perse.

*D.* Quelles sont les principales divisions de la Tatarie indépendante ?

*R.* Elle est divisée en trois parties , savoir : le pays des Kirguiss , le Karisme et la grande Bucharie.

*D.* Quelle est la situation du pays des Kirguiss , et quelles en sont les principales villes ?

*R.* Il est situé entre les 45°. et 51°. de latitude N. , au nord et à l'est de la mer d'Aral. Ses principales villes sont : Taskhand , capitale , sur le Sihon ; Otrar et Tarkistan sur le Sir.

*D.* Quelle est la situation du Karisme , et quelles en sont les principales villes ?

*R.* Cette contrée est située entre les 38°. et 45°. de latitude N. ; elle est bornée au nord par la mer d'Aral , à l'est par la grande Bucharie , au sud par la Perse , et à l'ouest par la mer Caspienne. Ce pays a pour principale ville Khiva , sur le Jihon ou Oxus.

*D.* Quelle est la situation de la grande Bucharie ?

*R.* Elle est située entre les 35°. et 45°. de latitude N. Elle est bornée au nord par les Kirguiss ; à l'est par la Tatarie chinoise ; au sud par la Perse et le royaume de Caboul ; et à l'ouest par le Karisme.

*D.* Quelles sont les principales villes de la grande Bucharie?

*R.* Ces villes sont : Bokara , capitale , près du Jihon ; Samarkand , ancienne capitale , très-peuplée.

*D.* Quelle est la population de la grande Bucharie ?

*R.* Elle est beaucoup plus considérable que celle des deux autres divisions de la Tatarie indépendante : elle est le centre d'un commerce assez considérable avec la Russie et la Perse.

*D.* Quel est le gouvernement de la Tatarie indépendante , et quelle en est la religion ?

*R.* Les peuples de cette vaste contrée , divisés en plusieurs hordes nomades , sont soumis à des chefs qu'on nomme Kan. Leur religion est celle du Thibet.

L  
R  
tud  
gitu  
glac  
ring  
Alta  
chin  
L  
Sib  
R  
mer  
L  
de  
ville  
R  
fon  
l'As  
pita  
vièr  
Om  
L  
R

---

**LEÇON XXI.***La Sibirie ou Russie d'Asie.*

**D.** QUELLE est la situation de la Sibirie ?

**R.** Elle est située entre les 50°. et 75°. de latitude N. , et depuis le 55°. jusqu'au 128°. de longitude E. Au nord elle est bornée par l'Océan glacial , à l'est par le détroit de la mer de Béring ; au sud par les hautes montagnes de Berzk, Altaï et Yablonois qui la séparent de la Tatarie chinoise ; à l'ouest par les monts Ouraliens.

**D.** Quelles sont les grandes divisions de la Sibirie ?

**R.** Elle se divise en trois grands gouvernemens qui sont : Tobolsk , Tomsk et Irkoutsk.

**D.** Quelle est la situation du gouvernement de Tobolsk , et quelles en sont les principales villes ?

**R.** Il est situé à l'est des monts Ouraliens, qui font la séparation naturelle de l'Europe et de l'Asie. Ses principales villes sont : Tobolsk, capitale, sur la droite de l'Obi, en face de la rivière de Tobol ; Bérésow et Surgut, sur l'Obi ; Omsk et Tara, sur l'Irtisch.

**D.** Quels peuples habitent ce gouvernement ?

**R.** Il est habité par les Tatares tobols.

*D.* Quelle est la situation du gouvernement de Tomsk, et quelles en sont les principales villes?

*R.* Il est situé à l'est de celui de Tobolsk, par les 50°. à 72°. de latitude N. Ses principales villes sont : Tomsk, capitale sur une rivière qui se jette dans l'Obi; Tourouekhansk sur le Jénisey; Narym sur l'Obi; Jéniseï et Berskoï ou Kolyvan; la première sur le Jéniseï, et la seconde sur l'Obi.

*D.* Quelles nations habitent le gouvernement de Tomsk?

*R.* Ce sont les Osthiaks et les Samoïèdes, peuples grossiers, mais doux et pacifiques.

*D.* Quelle est la situation du gouvernement d'Irkoutsk?

*R.* Il est situé par les 51°. à 75°. de latitude N. Il s'étend depuis les confins du précédent jusqu'au détroit de Béring et à la mer de ce nom.

*D.* Quelles villes et quels pays renferme ce gouvernement?

*R.* Ses principales villes sont : Irkoutsk, capitale, au sud sur l'Angara, et à vingt-cinq lieues environ au nord-ouest du lac Baïkal; Nertchingsk sur l'Onon; Kiatska, lieu d'entrepôt du commerce de la Russie avec la Chine, sur la Salanga, qui se jette dans le lac Baïkal, et près des monts Altaï; Yakoutsk et Gigansk, sur le Léna; Okhotsk sur la mer ou golfe de ce nom;

Iako  
sur  
de  
Kan  
*D.*  
kout  
*R.*  
Tou  
peu  
Osth  
Tou  
pital  
*D.*  
rien  
*R.*  
prof  
mêl  
tièr  
mag  
*D.*  
*R.*  
pêch  
part  
vieill  
tite v  
leur  
malp  
*D.*  
bérie  
*R.*

Iakousk sur le Léna , Kamschatka , et Kovinska sur la rivière de Kovima , qui se jette dans la mer de Béring , et Awatcha , port sur la côte du Kamschatka.

*D.* Par quelles nations le gouvernement d'Irkoutsk est-il habité ?

*R.* Il est habité par les Karagasses , par les Toungouses , les Koriaks et les Yakaghires , peuples moins grossiers et moins laids que les Osthiaks , les Samoïedes et les Tchukotskaïa. Les Toungouses sont surtout assez bien faits , hospitaliers et braves.

*D.* Quelle est la religion des peuples Sibériens ?

*R.* Ceux qui avoisinent les monts Ouraliens professent la plupart le culte russe , et les autres mêlent cette religion à l'idolâtrie , ou sont entièrement idolâtres et fort crédules à l'égard des magiciens.

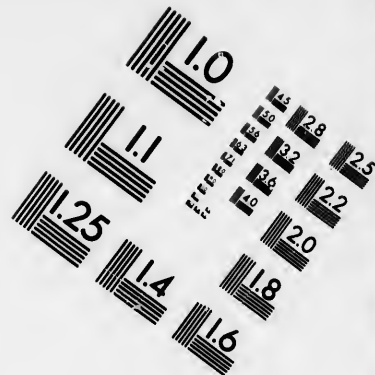
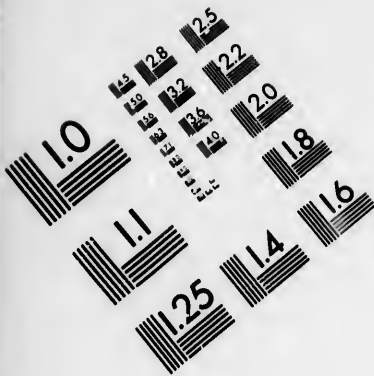
*D.* Quel est le climat de la Sibérie ?

*R.* Il est très froid , mais salubre : ce qui n'empêche pas ses habitans de terminer pour la plupart leur carrière avant d'être parvenus à la vieillesse , parce qu'ils sont sujets soit à la petite vérole , soit à d'autres maladies causées par leur mauvaise nourriture , leurs fatigues et la malpropreté.

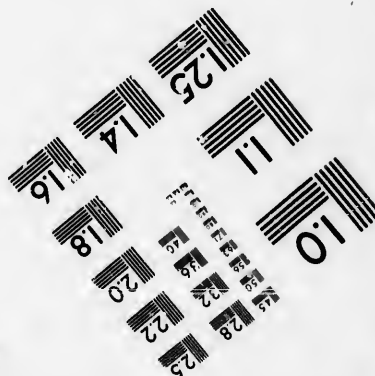



*D.* Quelles sont les productions de la Sibérie ?

*R.* Cette immense contrée renferme des mi-





**IMAGE EVALUATION  
TEST TARGET (MT-3)**



**Photographic  
Sciences  
Corporation**

23 WEST MAIN STREET  
WEBSTER, N.Y. 14580  
(716) 872-4503



1.8  
2.0  
2.2  
2.5  
2.8  
3.2  
3.6  
4.0

5.0  
5.6  
6.3  
7.1  
8.0  
9.0  
10

nes abondantes , exploitées par la Russie , surtout , de fer et de cuivre. Ses forêts nourrissent des ours et des rennes , animaux dociles que les Sibériens emploient à traîner leurs voitures ; et des martes zibelines , dont les fourrures leur servent à payer leurs impôts à la Russie , et à se procurer , par le commerce , plusieurs objets de nécessité. Ceux de ces peuples qui habitent les bords des fleuves ou de l'Océan glacial , s'adonnent principalement à la pêche , et les autres vivent de leur chasse.

C'est en Sibérie que le gouvernement russe envoie les criminels qui ont mérité un supplice plus doux que la mort.

FIN DE L'ASIE.

w  
res  
gu  
îles  
qu  
pu  
lati  
123  
Ro

---

## TROISIÈME PARTIE.

### DE L'AFRIQUE.

---

#### LEÇON I<sup>ère</sup>.

##### *Notions générales.*

*D.* QU'EST-CE que l'Afrique?

*R.* C'est la troisième partie du globe terrestre.

*D.* Quelle en est la figure?

*R.* Sa figure est celle d'une presque triangulaire.

*D.* Quelle en est l'étendue, non compris les îles?

*R.* Elle s'étend depuis le 20°. à l'ouest jusqu'au 30°. à l'est du méridien de Paris, et depuis le 37°. 30'. de latitude N. jusqu'au 35°. de latitude S. Elle a 1825 lieues de longueur et 1250 de largeur.

*D.* Quelle est la mesure de sa superficie?

*R.* Elle est de 1,750,000 lieues carrées.

*D.* Quelles sont ses bornes?

*R.* Au nord la Méditerranée; à l'est la mer Rouge, la mer des Indes, qui fait partie du

grand Océan ; et l'isthme de Suez , large de vingt-six lieues , qui la joint à l'Asie ; à l'ouest l'Océan atlantique ; et au sud le grand Océan Austral.

*D.* L'Afrique n'est-elle pas partagée par l'équateur ?

*R.* Oui : en partie septentrionale et méridionale.

*D.* Quel est le climat de l'Afrique ?

*R.* Ce climat est en général celui de la zone torride , les trois quarts du continent africain étant situés entre les deux tropiques ; dans un grand nombre d'endroits la chaleur y est presque insupportable pour les Européens. Cette chaleur , qui est entretenue par de vastes déserts d'un sable brûlant , se communique même aux parties situées dans la zone tempérée.

*D.* Quelles sont les causes qui tempèrent la chaleur dans ces parties ?

*R.* Les vents de mer , les pluies annuelles , qui rafraîchissent aussi l'atmosphère dans la zone torride. La neige tombe rarement dans les plaines et sur les lieux peu élevés , mais le sommet des hautes montagnes est couvert de neiges éternelles.

*D.* Quelles sont les productions de l'Afrique ?

*R.* Elle produit du blé , des fruits excellens , des drogues précieuses , des mines d'or et d'argent , des pierres précieuses , des marbres. Elle

nourrit, dans ses déserts et ses forêts, des lions, des tigres, des léopards, des panthères, des rhinocéros, des ours, des hiènes, des serpens monstrueux; et d'autres animaux d'un caractère plus doux: des éléphants, des gazelles, des antilopes, des girafes, des dromadaires, des chameaux, des chevaux, des zèbres, des singes de toutes grandeurs; des oiseaux très-curieux, comme les perroquets, les autruches, et beaucoup d'autres dont le plumage est orné des plus brillantes couleurs. Plusieurs de ses fleuves renferment des crocodiles et des hippopotames, animaux amphibies.

*D.* Quelle est la population de l'Afrique?

*R.* Comme elle renferme plusieurs grandes régions inhabitables ou inconnues, il est impossible de dire le nombre précis de ses habitans. Cependant on peut, par approximation, l'évaluer à environ soixante millions.

*D.* De quelle nature sont les gouvernemens de l'Afrique?

*R.* Ils sont partout despotiques. Ceux d'Alger et de Tunis, qui présentent la forme républicaine, rentrent néanmoins dans le despotisme, par l'imperfection des lois et par les caprices des souverains de ces états.

*D.* Quel est le culte des habitans de l'Afrique?

*R.* On remarque dans cette partie du monde trois sortes de religions: le mahométisme, le

christianisme, et le paganisme auquel appartient le fétichisme.

*D.* Dites les pays où ces diverses religions dominent ?

*R.* Le mahométisme domine dans les états barbaresques et en Egypte, etc. ; le christianisme, mais un christianisme corrompu, en Abyssinie ; le paganisme, dans plusieurs contrées de l'Afrique orientale et occidentale. Les nègres, surtout ceux de la côte de Guinée, sont adonnés au fétichisme.

*D.* Qu'entendez-vous par le fétichisme ?

*R.* J'entends le culte que ces nègres rendent à des objets qui frappent leur imagination, tels qu'un arbre, une pierre, un morceau de bois, etc. Un serpent est pour eux le dieu de la guerre.

## LEÇON II.

### *Des îles de l'Afrique.*

*D.* Où sont situées les îles qui dépendent de l'Afrique ?

*R.* Les unes sont situées dans l'Océan indien, les autres dans l'Océan Atlantique.

*D.* Quelles sont les îles de l'Océan Indien ?

*R.* Ces îles sont celles de Socotora, de Saint-

Jean de Novo, de Saint-Laurent, de Cosmolédos, de Natal, d'Albadra, de Comore, de Galéga, de Bourbon, de France ou Maurice, de Rodrigue, Corgados, Saint-Brandon, etc. ; et dans la mer Rouge, celles de Zéchir, Dahlah et des Emeraudes.

*D.* Quelle est la situation géographique des principales de ces îles ?

*R.* L'île de Socotora est placée au nord-est du cap Guardafui ; celles de Comore entre le 40° et le 50° de longitude E. et sur le 13° de latitude S. ; l'île de France est vers le 56° de longitude E. , et sur le 21° de latitude S. , à trente lieues environ de distance au nord-est de l'île Rodrigue ; celle de Bourbon est au 53° de longitude E. , et sur le 22° de latitude S.

*D.* Quelle est la situation et l'étendue de l'île de Madagascar ?

*R.* Elle est située entre le 42° et le 48° de longitude à l'est du méridien de Paris , et entre les 13° et 26° de latitude S. Ainsi cette île est une des plus grandes du monde, sa longueur du nord au midi étant d'environ trois cents lieues , et sa largeur moyenne de quatre-vingt-dix.

*D.* Par qui Madagascar est-elle habitée ?

*R.* Par des Africains et des Arabes qui habitent dans des villages , et sont gouvernés par des chefs qui , dans leur langue , prennent le titre de rois. Les Français y possèdent quelques

établissmens peu importans sur la côte méridionale.

*D.* A qui appartient aujourd'hui l'île de France?

*R.* Cette île, conquise par les Anglais dans la dernière guerre, leur a été cédée en 1814 par le gouvernement français.

*D.* L'île de Bourbon a-t-elle éprouvé le même sort? quelles sont ses productions, quelle est son étendue?

*R.* Elle est restée à la France: elle produit des cannes à sucre et du café. Elle a environ cinquante lieues de circuit.

*D.* Outre les îles d'Afrique, situées dans l'Océan Indien, que vous avez nommées, n'en est-il pas quelques autres d'une moindre importance?

*R.* Oui: il faut encore compter les îles Mahé ou Séchelles et les Amirantes, qui forment deux petits archipels, situés entre le 52°. et le 53°. de longitude à l'est du méridien de Paris, et depuis le 4°. jusqu'au 6°. inclusivement de latitude S. Les Anglais se sont rendus maîtres de ces îles.

*D.* Quelles sont les principales îles de la côte de Zanguebar?

*R.* Elles sont au nombre de quatre, savoir: les îles de Pemba, de Zenzibar, de Monfia et de Quiloa, situées par les 5°. et 9°. de latitude S. et les 300. et 37°. de longitude E.



## LEÇON III.

*Suite des îles d'Afrique.*

*D.* NOMMEZ les îles d'Afrique , situées dans l'Océan Atlantique?

*R.* Ce sont les Açores , l'île de Madère , les Canaries , les îles du Cap-Vert ; les îles Fernando-po , du Prince , de Saint-Thomas , d'Annobon , dans le golfe de Guinée , etc. Au large dans l'Océan Atlantique , les îles de Saint-Mathieu , de Fernando-Noronha , de l'Ascension , de Martens-de-Van , de Sainte-Hélène et de Saxembourg.

*D.* Quelle est la situation des îles Açores , et quel en est le nombre ?

*R.* On les trouve par les 28°. et 32°. à l'ouest de Paris ; et entre les 37°. et 39°. de latitude N. Elles sont au nombre de neuf.

*D.* Quelle en est la plus considérable ?

*R.* C'est Tercère , qui peut avoir treize lieues de long sur six de large , et dont la population est d'environ dix mille habitans.

*D.* Quel est le climat des Açores ?

*R.* Il est fort chaud , mais salubre , et la chaleur y est tempérée par des pluies fréquentes et des brises fort agréables.

*D.* Que remarquez-vous dans celle du Pic ?

*R.* On remarque une montagne très élevée, qu'on nomme Pic, et qu'on peut apercevoir de près de vingt-cinq lieues en mer, quand il fait beau ?

*D.* Quelle est la ville capitale des Açores ?

*R.* C'est Angra, située dans l'île de Tercère, avec un bon port sur la côte orientale, des maisons bien bâties, de grandes rues pavées et de belles fontaines.

*D.* Quelle est la situation de l'île de Madère, et à qui appartient-elle ? Quelle en est la capitale ?

*R.* Elle est située sur le 33°. de latitude N., et au 19°. de longitude à l'ouest du méridien de Paris : ainsi que les Açores, elle appartient au Portugal. Funchal, ville assez bien bâtie, en est la capitale ; Madère produit d'excellens vins.

*D.* Quelle est la situation des Canaries ? Quel en est le nombre ? A qui appartiennent-elles ?

*R.* Ces îles sont situées entre le 27°. et le 30°. de latitude N., et entre le 16°. et le 21°. de longitude à l'ouest de Paris. On en compte sept principales ; savoir : Lancerotte, Fortaventura, Canarie, Ténérif, Goméra, Palma et celle de Fer : elles appartiennent aux Espagnols.

*D.* Entrez dans quelques détails sur Ténérif.

*R.* Cette île est située au nord-ouest de Canarie. Elle produit des grains, beaucoup de vin, des oranges, des citrons, des amandes,

des figes et d'excellens légumes. Santa Cruz en est la capitale , et sa population s'élève à plus de soixante mille âmes. On y voit un Pic, ou montagne , qui se termine en une pointe d'une telle hauteur, qu'on l'aperçoit de cinquante lieues en mer. Cette montagne est un volcan qu'avoisinent plusieurs autres.

*D.* Quelle est la situation de l'île de Fer ? Quelles en sont les productions et la population ?

*R.* Cette île , qui est la plus occidentale des Canaries, est située au sud-ouest de Goméra. Elle produit du vin et des figes, et nourrit des bestiaux : sa population est tout au plus de 4,000 individus. Autrefois on comptait les longitudes sur son méridien; depuis un certain nombre d'années, nous les comptons sur le méridien de Paris, comme les Anglais sur celui de Greenwich.

#### LEÇON IV.

##### *Continuation des Îles d'Afrique dans l'Océan Atlantique.*

*D.* QUELLE est la situation des îles du Cap-Vert ? Quel en est le nombre ? A qui appartiennent-elles ?

*R.* Ce groupe d'îles s'étend entre les 15°. et

28°. 28'. de latitude N., et depuis le 25°. jusqu'au 29°. inclusivement de longitude à l'ouest du méridien de Paris. Elles sont au nombre de dix, savoir : Saint-Antoine, Saint-Vincent, Saint-Nicolas, l'île du Sel, Bonavista, Sainte-Lucie, du Mai, San-Yago, Fuégo, Brava. Elles appartiennent aux Portugais.

*D.* Quelles sont les productions de ces îles ?

*R.* Elles produisent du riz, du maïs, des oranges, des limons, des citrons, des bananes, des ananas, des melons, des raisins, et d'autres fruits excellens. Elles nourrissent du bétail, et du gibier. Celles de Bonavista, de Sel et de Mai fournissent beaucoup de sel.

*D.* Quelle est la capitale de ces îles ?

*R.* C'est la ville de San-Yago, située dans l'île de ce nom.

*D.* Où est située l'île de Saint-Louis ou de Sénégal ?

*R.* A peu de distance de l'embouchure du fleuve de ce nom ; sur le 16°. de latitude N., et le 20°. de longitude O.

*D.* Où est située l'île de Gorée ?

*R.* Près et au sud du cap Vert ; au 14°. de latitude N., et sur le 20°. de longitude O. Cette île qui, ainsi que la précédente, appartient à la France, est stérile ; mais la bonté de sa rade lui donne de l'importance.

*D.* Que dites-vous des îles Bissao ?

*R.* C'est un groupe de petites îles qui s'étendent depuis le 11°. jusque sur le 12°. de latitude N., et sur les 19°. et 20°. de longitude O. Elles sont habitées par les nègres.

*D.* Que dites-vous des îles de Fernando-po , du Prince , de Saint-Thomas , d'Annobon ?

*R.* Les deux premières sont dans le golfe de Guinée ; Saint-Thomas est presque sous la ligne , et celle d'Annobon est sur le 2°. de latitude S. Ces îles appartiennent aux Portugais.

*D.* Que savez-vous au sujet des îles Saint-Mathieu et de l'Ascension ?

*R.* Ce sont deux îles désertes. On trouve un grand nombre de belles tortues , dans celle de l'Ascension.

*D.* Quelle est la situation de l'île Sainte-Hélène , quelles en sont les productions , l'étendue et la population ?

*R.* Cette île est située par le 16°. de latitude S., et par le 10°. de longitude O. Elle produit des oranges , des citrons , des grenades , des figues , des légumes , etc. , et nourrit des bœufs , des moutons , des porcs , des volailles. L'air y est très-pur , elle a environ neuf lieues de circuit. Sa population ne s'élève guère à plus de deux mille individus. Elle appartient à l'Angleterre , et les vaisseaux de cette puissance y relâchent en revenant de l'Inde. Elle est devenue

célèbre par le séjour et la mort de Napoléon Bonaparte , que les puissances alliées y avaient relégué en 1815.

## LEÇON V.

### *Golfes , Baies et Détroits de l'Afrique.*

*D.* QUELS sont les principaux golfes de l'Afrique ?

*R.* Ce sont : les golfes de Gabès et de Sidre , sur les côtes de l'état de Tunis , dans la Méditerranée ; d'Arguin , à la côte du grand désert de Sahara , et formé par le cap Blanc ; de Guinée et de Biafra , sur la côte de Guinée , dans l'Océan Atlantique ; et le golfe de Saint-Thomas , sur la côte des Hottentots , dans la même mer.

*D.* Quelles sont les principales baies de l'Afrique ?

*R.* Ce sont : les baies de Lorenzo-Marquez , et des dunes d'Or , vers la côte de la Cafrérie , dans l'Océan Indien ; d'Antongil , au sud-est dans l'île de Madagascar ; de Sainte-Hélène , de Saldagna , de la Table , de Saint-Blaise , de Mossel , de Plettenberg , et de Canitou , dans l'Océan Austral.

*D.* Quels sont les principaux détroits de l'Afrique ?

R. Ce sont : les détroits de Bab-el-Mandeb , situé à l'entrée de la mer Rouge , et qui sépare l'Abyssinie de l'Arabie ; de Mozambique entre l'île de Madagascar et la côte orientale d'Afrique, et dont la longueur est d'environ 340 lieues; et le détroit de Gibraltar , entre l'Afrique et l'Europe.

---

## LEÇON VI.

### *Caps de l'Afrique.*

D. QUELS sont les principaux caps de l'Afrique sur la Méditerranée ?

R. Ce sont : les caps Razad , Mésurat , Bon , Tédélez , Ténez , Ceuta , etc.

D. Quelle est leur situation ?

R. Le premier est situé sur la côte du désert de Barqâh ; celui de Mésurat , sur les côtes de l'état de Tripoli ; le cap Bon est le point le plus septentrional de l'Afrique ; le cap Ceuta est situé sur la côte du royaume de Fez et sur le détroit de Gibraltar.

D. Quels sont les caps de l'Afrique , sur l'Océan Atlantique ?

R. Ce sont : les caps Cantin , Gar , Blanc , Vert , Rouge , Tagrin , des Palmes , la Hoû , des Trois-Pointes , Corse , Formose , Saint-Jean ,

Lopo, Négro, Voltas, de Bonne-Espérance, Falso et des Aiguilles.

*D.* Quels sont les principaux de ces caps ?

*R.* Ce sont : le cap Blanc, le cap Vert, le cap Négro, le cap de Bonne-Espérance, le cap Falso, et celui des Aiguilles.

Le cap Vert, est le point le plus occidental de l'Afrique.

Le cap de Bonne-Espérance, le plus fameux de l'Afrique, est situé à l'extrémité méridionale de cette partie du globe terrestre.

*D.* Quels sont les principaux caps d'Afrique sur la mer des Indes ?

*R.* Ces caps sont : ceux des Courans, d'Ambre, Sainte-Marie, Saint-André, Dauphin, de l'Est, Dorfui, et Guardafui.

*D.* Quelle est la situation de ces caps ?

*R.* Le cap des Courans est situé à l'entrée du canal de Mozambique.

Le cap d'Ambre est situé à l'extrémité septentrionale de l'île de Madagascar.

Le cap Sainte Marie est situé vers l'extrémité sud-ouest de la même île.

Le cap Saint-André appartient aussi à l'île de Madagascar.

Le cap Dauphin est situé près de l'extrémité sud-est de Madagascar.

Le cap de l'Est appartient aussi à l'île de Madagascar.

Les caps Dorfui et Guardafui sont à l'extré-



mité nord - est de la côte d'Ajan. Le premier au sud de l'autre.

---

## LEÇON VII.

### *Lacs et Rivières de l'Afrique.*

*D.* QUELS sont les principaux lacs de l'Afrique ?

*R.* Ce sont : les lacs de Loudeah dans l'état de Tunis, et au sud - ouest de la ville de ce nom ; de Natron en Egypte, de Dambéa dans l'Abysinie, de Maravi en Cafrérie, du Soudan dans la Nigritie, et qui est traversé par le Niger ; le grand lac de Wangara dans la même contrée, où l'on croit que ce fleuve va se perdre ; et quelques autres dans la Sénégambie : plusieurs de ces lacs sont peu connus.

*D.* Quelle est la situation des lacs Loudeah et Natron ?

*R.* Le premier est situé au sud - ouest de la ville de Tunis. Le second est situé en Egypte : c'est une longue vallée où la nature prépare une immense quantité de soude, par le moyen d'une eau qui transsude.

*D.* Quelle est la situation des autres lacs que vous avez nommés ?

*R.* Le lac Dambéa ou Tzana est situé en Abys-

sinie. Il a environ quatre-vingts lieues de tour, et renferme une île vers sa partie occidentale.

Le lac Maravi est situé en Cafrérie, au nord du Monomotapa. Il est considérable, mais peu connu, si ce n'est dans sa partie méridionale.

Le lac du Soudan est situé dans la Nigritie, et traversé par le Niger.

Le grand lac de Wangara est aussi situé dans la Nigritie. Il paraît renfermer une île assez considérable. Au reste, aucun voyageur n'a pu jusqu'à présent en vérifier l'étendue.

*D.* Quels lacs remarque-t-on dans la Sénégambie ?

*R.* Cette région, située entre le Sénégal et la Gambie, renferme les lacs Géba, Jacques, Cayor, Foulis, et quelques autres moins considérables, tous peu connus.

## LEÇON VIII.

### *Rivières de l'Afrique.*

*D.* QUELLES sont les principales rivières de l'Afrique ?

*R.* Ces rivières sont : le Nil, le Niger, le Sénégal, la Gambie, le Zaïre, les rivières d'Orange, des Éléphants, du Saint-Esprit, la Chingoma, et le Zembèze ou Cuama.

*D.* Où le Nil prend-il sa source, et quel en est le cours ?

*R.* On prétend qu'il prend sa source dans les montagnes de la Lune ou monts Al-Qhamar. Il porte le nom de rivière Blanche, ou de Bahar-el-Abiad, jusqu'à la rivière Bleue, ou Bahar-el-Azuk, qui est une de ses branches. Il court au nord-est à travers l'Abyssinie, jusqu'au 19°. de latitude N., où il fait une courbure considérable vers l'ouest, dans le Dongola. Il revient ensuite vers le nord, près du 21°. de latitude, et continue de couler dans cette direction à travers la Nubie; il entre en Égypte vers le 23°. de latitude N., et sur le 31°. de longitude E. Trois fois il est arrêté, dans son cours, avant et après son entrée en Égypte, par des rochers qu'il franchit. Les chutes qu'il fait alors, se nomment cataractes. Il en fait deux dans la Nubie, et la troisième a lieu en Égypte, au-dessus de la ville d'Assouan ou Syéné.

*D.* Quelles rivières le Nil reçoit-il dans son cours ?

*R.* Il reçoit les rivières de Maleg et de Bahar-el-Azug, ou rivière Bleue, que Bruce croit être sa principale branche. Près de Gôûs en Nubie, il reçoit le Rahad réuni au Dender, et le Tacaze réuni au Maleb.

Après son entrée en Égypte, ce fleuve coule dans une vallée de trois lieues de largeur, entre deux montagnes, jusqu'à la ville du Caire.

*D.* Dans quelle mer ce fleuve verse-t-il ses eaux ?

*R.* Au-dessous du Caire, il se divise en deux principales branches qui forment une île triangulaire, que l'on nomme Delta; et va se jeter dans la Méditerranée, entre les villes de Damiette et de Rosette, par plusieurs bouches, après un cours que l'on suppose être de huit cent cinquante lieues.

---

## LEÇON VIII.

### *Suite des Rivières de l'Afrique.*

*D.* QUELLES sont les autres rivières de l'Afrique qui versent leurs eaux dans la Méditerranée ?

*R.* Ce sont : le Megjerdah, qui arrose l'état de Tunis, et se jette dans cette mer au nord-est de la ville de ce nom; le Schellif qui arrose une partie de l'état d'Alger; la Mullaia qui sépare cet état de l'empire de Maroc.

*D.* Quelles sont les principales rivières de l'Afrique qui ont leur embouchure dans l'Océan atlantique ?

*R.* Ces rivières sont : la Merbeia, le Subu, le Centif, le Sénégal, la Gambie, le Rio-grandé, le Mésurado, le Saint-André, le Zaïre uni au Congo, le Coanza, la Bembarougue, la rivière d'Orange et celle des Eléphants.

*D.* Où le Sénégal prend-il sa source, et quel en est le cours ?

*R.* Ce fleuve prend sa source dans les montagnes de Sierra-Léoné, sur les confins de la Nigritie. Son cours est du sud-est au nord ouest, et de trois cents lieues jusqu'à son embouchure par le 16°. de latitude N. Il donne son nom au pays qu'il arrose. Les bords de ce fleuve sont infestés de crocodiles et d'hippopotames.

*D.* Où la Gambie prend-elle sa source, et quel en est le cours ?

*R.* Cette rivière prend sa source dans les montagnes de Sierra-Léoné. Son cours qui va du sud-est au nord-ouest, est de deux cent vingt-cinq lieues jusqu'à son embouchure. Elle est large et profonde.

*D.* Quelle est la source et quel est le cours du Zaïre ?

*R.* La source de ce fleuve, que quelques voyageurs et géographes pensent être le même que le Niger, n'est pas connue. Il court d'abord de l'est à l'ouest, tourne ensuite vers le sud-ouest et suit cette direction jusqu'à l'Océan atlantique. Il reçoit dans son cours le Congo, et traverse le royaume de ce nom.

*D.* Donnez les mêmes détails sur la rivière d'Orange et sur celle des Eléphants ?

*R.* La première prend sa source dans la Caffrerie, au pays des Hottentots, qu'elle arrose, par le 30°, de latitude N., et le 25°. de longi-

tude E. Elle termine son cours , qui est d'environ trois cents lieues , après avoir reçu à droite la Kouvomana ; à gauche la rivière de Sack.

La rivière des Eléphants prend aussi sa source dans le pays des Hottentots , et dans les montagnes situées au nord-est du cap de Bonne-Espérance. Elle tire son nom du grand nombre d'éléphants qu'on trouve sur ses bords. Son cours vers l'Océan atlantique est d'environ cent cinquante lieues.

*D.* Quelles sont les principales rivières qui versent leurs eaux dans le grand Océan ?

*R.* Ces rivières sont : celles de Mafumo , du Saint-Esprit, d'Inhambane , de Sabia , de Zam-bèze ou Cuama.

*D.* Où ces rivières prennent-elles leur source, et quel est leur cours ?

*R.* Le Mafumo prend sa source dans les montagnes de la Cafrérie. Il coule d'abord du nord au sud-ouest , se tourne ensuite à l'est , et se jette dans la baie de Lorenzo - Marquez , après un cours d'environ cent cinquante lieues.

La rivière du Saint-Esprit, ou la Manica, prend sa source dans les montagnes au sud du Monomotapa ; coule du nord à l'est , et se jette aussi dans la baie de Lorenzo-Marquez, après un cours de cent cinquante lieues environ.

L'Inhambane , prend sa source dans les montagnes de la Cafrérie. Son cours est au sud-est,

et s  
Mo  
vir  
I  
du  
le c  
vir  
L  
fleu  
sou  
de l  
est,  
par

*Pr*

*D*  
l'int  
*R*  
Tafi  
Wa  
séla  
*L*  
quel  
*R*  
Kon  
latit  
cou

et se termine à l'entrée méridionale du canal de Mozambique; après avoir arrosé un espace d'environ cent lieues.

La Sabia, prend sa source dans les montagnes du sud-est du Monomotapa. Elle se jette dans le canal de Mozambique, après un cours d'environ cent lieues.

Le Zambèze ou Cuama est un des grands fleuves de l'Afrique. On croit qu'il prend sa source dans un lac du Monomotapa. Il court de l'ouest au nord, se tourne ensuite vers le sud-est, et va se jeter dans l'Océan, à Quillimara, par plusieurs embouchures.

## LEÇON IX.

### *Principales Rivières de l'intérieur de l'Afrique.*

**D.** QUELLES sont les principales rivières de l'intérieur de l'Afrique ?

**R.** Ce sont: le Joliba ou Niger, la Drana, le Tafilet, le Zis. et le Ghir au pied de l'Atlas; le Wands-Jeddi, la Gazelle, le Kouhou, le Mis-sélad, l'Hanozo, et l'Havasch.

**D.** Quelle est la source du Joliba ou Niger, quel est son cours, et où verse-t-il ses eaux ?

**R.** Il prend sa source dans les montagnes de Kong, au pays des Mandingues, par le 11°. de latitude N., et le 8°. de longitude O. Après un cours d'environ 500 lieues, de l'ouest à l'est, à

travers une partie de la Nigritie : plusieurs géographes , d'après le Major Rennel , pensent qu'il va se perdre dans le grand lac de Wangara ; mais suivant le célèbre Mungo-Parck , ce grand fleuve a son issue dans le Zaïre. Un autre savant , M. Jackson , prétend que le Niger, sortant du lac de Wangara, forme la branche principale du Nil.

*D.* Quelle est la source , et quel est le cours de la Drana et du Tafilet ?

*R.* Ces rivières prennent leur source dans l'empire de Maroc , au pied du mont Atlas , courent du nord au sud , et vont se perdre dans des marais.

*D.* Où prennent leur source les rivières de Zis et de Ghir ?

*R.* Elles sortent du mont Atlas , dans l'empire de Maroc , courent dans le sud-est , et vont se perdre dans les marais.

*D.* Donnez les mêmes détails sur les autres rivières que vous avez nommées ?

*R.* La Gazelle et le Kouhou prennent leur source et coulent dans la Nigritie. La première coule du nord au sud , et se jette dans le lac Fittré.

Le Missélad prend aussi sa source en Nigritie , dans les monts Al-Qhamar , court du sud au nord , et va se jeter dans le lac Fittré.

L'Hanozo et l'Havasch sont peu connues : on sait pourtant que la dernière prend sa source



dans le pays des Gallas , en Abyssinie ; mais on ne sait si elle se perd dans un lac ou dans des sables.

---

## LEÇON X.

### *Montagnes de l'Afrique.*

*D.* QUELLES sont les montagnes les plus remarquables de l'Afrique ?

*R.* Ces montagnes sont la chaîne de l'Atlas , celle de Mokharan , les monts Al-Qhamar ou de la Lune , les montagnes de Kong ou de Sierra-Léoné , les monts Lupata ou l'Épine du monde , et les monts Ater et Eurès.

*D.* Quelle est la situation et l'étendue de la chaîne de l'Atlas ?

*R.* Cette chaîne s'étend de l'ouest à l'est , depuis le cap Geer , le long des états barbaresques jusqu'en Egypte , par les 30°. et 33°. de latitude N. , et depuis le 10°. de longitude E. , jusqu'au 10°. à l'ouest. Il forme au midi la limite de la Barbarie.

*D.* Quelle est la situation des monts Mokharan ?

*R.* Cette chaîne s'étend entre le Nil et la mer Rouge : en plusieurs endroits , elle ressemble à une muraille très-haute , coupée de distance en distance de vallons étroits et de ravins ; elle se termine à l'extrémité de la mer Rouge , et près

de l'isthme de Suez : elle renferme la fameuse montagne des Emeraudes.

*D.* Quelle est la situation des monts Al-Qhamar ou de la Lune, et celle des monts Lupata ?

*R.* Les monts Al-Qhamar sont situés au centre de l'Ethiopie ; ils courent du nord-est au sud-ouest.

Les monts Lupata, ou l'Épine du monde, s'étendent depuis le cap de Bonne-Espérance jusqu'à celui de Guardafui, depuis le 10°. de latitude N., jusqu'au 35°. du sud, ce qui leur donne une étendue de plus de 1100 lieues.

*D.* Quelle est la situation des monts Ater et Eurès ?

*R.* Le premier, ainsi nommé par Pline, paraît être une branche méridionale de l'Atlas ; il est situé au nord-ouest, et le second au sud-est du royaume de Fezzan. Une autre chaîne de montagnes se détache de celle-ci, et court de l'ouest à l'est sous le nom de mont Tibesty, dans un espace de plus de cent trente lieues.

## LEÇON XI.

*Divisions de l'Afrique. — Côte de Barbarie.*

*D.* EN combien de parties divise-t-on l'Afrique ?

*R.* Nous avons déjà dit qu'elle est divisée par

l'équateur en partie septentrionale et partie méridionale.

*D.* Quels pays comprend la partie septentrionale ?

*R.* Elle comprend la Barbarie, l'Égypte, le Sahara ou grand désert, la Sénégambie, la Guinée, la Nigritie, les déserts de Barquah, de Berdoa ou de Libye, la Nubie, le Darfour, l'Abysinie, et la côte d'Ajan.

*D.* Quels pays comprend la partie méridionale de l'Afrique ?

*R.* L'intérieur de cette partie est presque entièrement inconnu, malgré les courageux efforts de quelques voyageurs modernes; et l'on n'en connaît assez bien que les côtes jusqu'à une distance plus ou moins considérable.

*D.* Quels sont les pays qu'on connaît sur les côtes de l'Afrique méridionale ?

*R.* On trouve sur la côte occidentale le Congo au nord, et au midi la Cafrérie qui renferme le pays des Hottentots; sur la côte orientale, une partie de la Cafrérie, et le Monomotapa jusqu'à l'équateur.

#### *De la Barbarie.*

*D.* En combien de parties divise-t-on la Barbarie ?

*R.* On la divise en cinq parties, savoir : l'empire de Maroc, les états ou régences d'Alger, de

Tunis, de Tripoli, et le pays des Dattes, autrement Bilé-dul-Gérid.

*D.* Avant d'entrer dans les détails qui concernent chacun de ces pays, dites par quels peuples la Barbarie est habitée?

*R.* Elle est peuplée par des Arabes, des Maures, par une ancienne nation nommée Berbers, de laquelle descendent les Omazirghs dans l'état de Maroc, et les Kabyles dans Alger; par les Tibbos dans le désert de Berdoa; et par les Touaryks dans le grand désert de Sahara. A ces peuples on peut ajouter un nombre assez considérable de juifs.

*D.* Quel est le climat de la Barbarie?

*R.* L'Atlas, qui la traverse de l'est à l'ouest, dont, suivant M. de Humbolt, la hauteur est de onze mille pieds au-dessus du niveau de la mer, et qui, en tout temps est couvert de neige, est entrecoupé de vallées où l'air est tempéré; mais dans les plaines, la chaleur est presque insupportable dans les mois de juillet et d'août.

*D.* Quelles sont les productions de la Barbarie?

*R.* De tous les états qui la composent, celui de Maroc est le plus fertile: quoique ses habitans négligent l'agriculture, il est fertilisé par la chaleur du climat et par les eaux qui l'arrosent. On y récolte en abondance du froment, de l'orge, de l'avoine, non-seulement pour la consommation des habitans, mais pour l'exportation en France, en Italie et en Espagne. De plus,

on y recueille du riz, du maïs, des dattes, des raisins, des figues, des amandes, des citrons, des limons, des oranges, des grenades, des poires et des pommes, du chanvre, un lin magnifique, du tabac, etc. Ce pays produit des chênes dont le gland égale la châtaigne en saveur; et l'on y apprête ces beaux cuirs, nommés maroquins.

*D.* Quels sont les animaux domestiques et féroces de la Barbarie?

*R.* Ces animaux sont : le cheval, le mulet, le dromadaire, l'âne et le chameau. Il est une espèce de ces derniers animaux auxquels les Arabes font faire une traite de soixante-quinze milles en un jour, avec un fardeau considérable : ils supportent la faim et la soif pendant plusieurs jours, quoiqu'ils marchent sur un sable brûlant.

Excepté l'éléphant et le rhinocéros, les animaux féroces de cette partie de l'Afrique sont les mêmes que ceux des autres cantons : on y trouve aussi des serpens monstrueux.

*D.* Quel est le caractère des Barbaresques?

*R.* Ces peuples sont portés à la piraterie, qui leur fournit la plus grande partie de leur subsistance et de leurs richesses. L'habitude qu'ils ont de naviguer en fait des marins intrépides. Rencontrent-ils un bâtiment dont ils veulent s'emparer, ils se battent avec la rage du désespoir. Au reste, ils sont bons, hospitaliers, surtout ceux qui sont éloignés des grandes villes. Le caractère des Tunisiens a beaucoup de ressemblance avec

celui des peuples policés de l'Europe qui sont avec eux en relation de commerce et d'amitié.

## LEÇON XII.

### *Description des Etats Barbaresques.*

*D.* FAITES la description de l'état de Tripoli ?

*R.* Cet état, qui est plus républicain que monarchique, est situé au nord sur la Méditerranée, entre le 28°. et le 33°. de latitude N., et les 9°. et 25°. de longitude E. ; au sud-sud-est, il touche au Fezzan et au désert de Berdoa ; à l'est à l'Egypte, et à l'ouest au pays des Dattes ou Biledulgerid.

*D.* Que comprend ce pays ?

*R.* Il comprend le désert de Barquah, qui est l'ancienne Cyrénaïque ; le désert d'Héroudje, et les Oasis d'Andjetch et de Syouah.

*D.* Par qui est-il gouverné ?

*R.* Il est gouverné par un dey que les gens de guerre nomment et déposent à leur gré.

*D.* Quelles sont les principales villes de cet état ?

*R.* Ces villes sont : Tripoli, qui en est la capitale ; Lébida, ou l'ancienne *Leptis Magna* ; Mé-surat, sur le golfe de ce nom ; Sabrat et Fort sur le golfe de Sidre : dans le désert de Barquah, sont les villes de Derne, de Bengazi et de Toloméa, ou l'ancienne *Ptolémaïs*.

*D.* Faites la description de l'état de Tunis ?

*R.* Cet état est borné au nord par la Méditerranée, à l'est par celui de Tripoli, au sud par le Bilédulgid ; et à l'ouest par celui d'Alger. Il est situé entre les 33°. et 38°. de latitude N. , et les 5°. à 9°. de longitude E.

*D.* Quelles en sont les principales villes ?

*R.* Ces villes sont : Tunis , capitale ; Porto-Farina , à l'embouchure du Megjerdah , dans la Méditerranée ; Biserte , sur un golfe ; Sousa , Bugia , Kef , Susakos , Kairouan et Gadamès. A deux lieues au nord-ouest de Tunis , on voit quelques ruines de l'ancienne Carthage : ce sont les restes d'un aquéduc. La ville de Tunis est située au sud d'un petit lac qui communique avec la mer par un canal nommé la Goulette.

*D.* Quel est le gouvernement de Tunis , et quelle en est la population ?

*R.* Cet état est gouverné par un dey et par un conseil , sous la protection de la Porte ottomane. La population s'élève à environ 500,000 ames.

*D.* Quelle est la principale rivière de Tunis ?

*R.* C'est le Megjerda , qui n'est pas navigable.

*D.* Commencez la description de l'état d'Alger ?

*R.* L'état d'Alger est borné au nord par la Méditerranée ; au midi par la chaîne du mont Atlas ; à l'est par l'état de Tunis ; à l'ouest par l'empire de Maroc , et le désert d'Angarad. Il est situé

par les 33°. et 37°. de latitude N., le 6°. de longitude E., et le 3°. de longitude O.

*D.* Quelles en sont les principales villes ?

*R.* Ces villes sont : Alger, capitale ; Bricida, Oran, Constantine, Bona, la Calle, Tabnah, et Messila.

*D.* Quelle est la situation d'Alger ?

*R.* Cette ville, qui contient quatre-vingt mille âmes, est bâtie en amphithéâtre sur la pente d'une montagne qui domine la rade et la plaine. Son port, qui est vaste, a été fortement endommagé, il y a quelques années, par l'artillerie d'une escadre anglaise. Après Alger, la ville la plus considérable est celle de Constantine ?

*D.* Quelle est la principale rivière de l'état d'Alger ?

*R.* C'est le Shellif, qui traverse le lac Tititeri.

*D.* Quel est le gouvernement d'Alger ?

*R.* C'est une aristocratie présidée par un dey, que la milice turque nomme et dépose quand c'est son plaisir.

*D.* Par qui l'état d'Alger est-il peuplé ?

*R.* Il est peuplé par des Maures, des Turcs, des Kabyles et des Juifs. On peut ajouter à cette population les Berbers, qui habitent le mont Atlas.

*D.* Quelles sont les mœurs des Algériens ?

*R.* Très-mauvaises. Ils sont avares à l'excès,



perfides, voleurs, et se sont rendus célèbres par les pirateries qu'ils exercent contre les vaisseaux des puissances chrétiennes qui ne sont pas en état de faire respecter leur pavillon.

---

## LEÇON XIII.

*Description de l'Empire de Maroc.*

**D.** COMMENCEZ la description de l'empire de Maroc ?

**R.** Cet empire qui comprend le royaume de ce nom et celui de Fèz, est borné au nord par la Méditerranée, au midi par la chaîne de l'Atlas ; à l'est par l'état d'Alger, et à l'ouest par l'Océan atlantique. Il s'étend du 29°. au 36°. de latitude N., et du 4°. au 13°. de longitude O.

**D.** Quelles en sont les principales villes ?

**R.** Ces villes sont : Maroc, bâtie en 1052, qui a trois lieues de tour, et dont la population est de trente mille âmes ; Mogodore, place forte, régulière et commerçante ; Sainte-Croix, dont le port est excellent ; Fèz, capitale du royaume de ce nom, et dont la population est de quatre-vingt mille âmes ; Méquinez, où l'empereur fait quelquefois sa résidence ; Mélilla, Pénon-de-Vélez, Tanger, Ceuta, Tétuan, Larrache, Salé, et Rabat.

**D.** Donnez quelques détails sur les six dernières villes ?

*R.* Tanger est sur le détroit de Gibraltar et sur une éminence. Les consuls étrangers y résident ordinairement, ou dans des maisons de campagne aux environs qui sont couverts de vignobles.

Ceuta, à l'est du Tanger, et sur le même détroit, appartient à l'Espagne.

Tétuan, situé près du même détroit à l'est, sur le penchant de deux petites collines, a un port à l'embouchure d'une petite rivière qui se jette dans la Méditerranée; mais il ne peut y entrer que de petits bâtimens. C'est une ville médiocre, mais commerçante. Le consul de France y réside.

Larrache est située au sud de Tanger, sur la rivière de Lucos qui se jette en cet endroit dans l'Océan atlantique. Elle est médiocre, mais assez bien bâtie, et les environs en sont charmans.

Salé est sur une rivière près de l'Océan atlantique, et au sud de la précédente. Elle a quelques fortifications.

Sur la rive gauche de la rivière et en face de Salé, est située la ville de Rabat. Elle est bien bâtie, et fortifiée.

*D.* Par quelles nations l'empire de Maroc est-il peuplé?

*R.* Il est peuplé par des Maures, des Arabes, des Berbers et des Juifs.

*D.* Par quelles rivières est-il arrosé?

*R.* Par le Subu, la Morbeia, le Tentif, qui se jettent dans l'Océan, et par la Mulina qui a son embouchure dans la Méditerranée.

*D.* Quel est le gouvernement de Maroc ?

*R.* C'est un gouvernement despotique dont l'empereur est le chef héréditaire, quoique la couronne ne soit pas toujours, après sa mort, le partage de son fils aîné. Ce prince prétend descendre de Mahomet, et prend, pour cette raison, le titre de Schérif.

*D.* En quoi consiste une partie des revenus de ce prince ?

*R.* Elle provient des subsides que lui accordent les princes de l'Europe pour en obtenir la paix.

#### LEÇON XIV.

*Le Bilédulgériid ou pays des Dattes, le Fezzan, le désert de Berdoa, etc.*

*D.* QUELLE est la situation du Bilédulgériid ?

*R.* Ce pays est situé entre le mont Atlas qu'il a au nord ; le grand désert de Sahara au sud ; l'Océan atlantique à l'ouest, et l'état de Tripoli avec le Fezzan à l'est.

*D.* Comment le divise-t-on ?

*R.* On le divise en Bilédulgériid oriental et Bilédulgériid occidental.

*D.* Que contient le Bilédulgériid occidental ?

*R.* Il contient la province de Suz qui , avec Tarudan , sa capitale , appartient à l'empire de Maroc ; le Daras , le Tafilet qui appartient aussi à l'empire de Maroc , et dont la capitale porte le même nom ; Sedjelmessa , qui forme une république indépendante , et dont la capitale de même nom , est située sur le Zis : Quittoa et Tatta , sur la rivière de Drana , appartiennent à cette dernière contrée ; le pays de Zab , qui appartient à l'état d'Alger , avec Pescara , sa capitale , sur le Waddi-jeddi ; enfin le Tégorarin qui renferme un certain nombre de villages.

*D.* Que comprend le Bilédulgériid oriental ?

*R.* Ce pays , qui s'appelle aussi le pays des Sauterelles , a pour capitale Tozer , sur le lac Loudéah ; et comprend le Vergela , au sud du pays de Zab , à l'exception du Sedjulhussa.

*D.* Par qui le Bilédulgériid est-il habité ?

*R.* Il est habité par des Berbers et des Arabes nomades.

*D.* Quelles sont ses productions ?

*R.* Ce pays est peu fertile ; il ne produit guère que des dattes ; mais on y trouve un grand nombre d'autruches.

*D.* Quelle est la situation du royaume de Fez-zan ?

*R.* Il est partagé par le 13°. de longitude E., et s'étend entre les 25°. et 30°. de latitude N. Au nord , il est borné par l'état de Tripoli ; au sud,

par l'Atlas ; à l'est par le désert de Berdoa ; et à l'ouest par le désert de Sahara. Il renferme , dit-on , cent villes ou villages.

*D.* Quelles sont les plus considérables de ces villes ?

*R.* Ces villes sont : Mourzouk , capitale , et le rendez-vous des caravanes qui viennent de l'Égypte et de Tripoli ; Zouyla , Selvak , Temissa et Quatron.

*D.* Quelles sont les productions du Fezzan , et quel en est le climat ?

*R.* Il produit du blé , de l'orge , du maïs , des dattes , des oranges , des citrons , des grenades et du séné. Les chaleurs y sont très-fortes quand le vent souffle du sud ; le froid s'y fait aussi sentir ; les pluies y sont rares , mais les ouragans y sont fréquens. On n'y trouve point de rivières ; mais des sources nombreuses fournissent aux besoins de la culture.

*D.* Par qui le Fezzan est-il gouverné ?

*R.* Il est gouverné par un sultan despote , qui paye un léger tribut au dey de Tripoli. Le nombre des habitans de ce pays ne s'élève guère qu'à soixante-dix mille.

*D.* Quelle est la situation et l'étendue du désert de Berdoa ?

*R.* Au nord il touche au désert de Barqah , au midi au royaume de Bournou , à l'est à l'Égypte , et à l'ouest au Fezzan. Il s'étend entre les

25°. et 28°. de latitude N. , et par les 24°. et 35°. de longitude E.

*D.* Par qui ce désert est-il habité ?

*R.* Il est habité par les Tibbos, nation berbère qui occupe les villes ou plutôt les villages d'Arna, de Fibaboo, de Bourgou, et le désert de Bilma.

*D.* Que dites-vous du désert de Barqah ?

*R.* Il est situé au nord du précédent, au midi de la Méditerranée ; à l'est du Fezzan et de l'état de Tripoli, et à l'ouest de l'Égypte. Ses villes principales sont : Derne, Bengazi et Tolometa. Il renferme au midi les Oazis d'Hammon et d'Andjelah.

## LEÇON XV.

### *L'Égypte.*

*D.* QUELLES sont les bornes de l'Égypte ?

*R.* L'Égypte est bornée au nord par la Méditerranée, au sud par la Nubie, à l'est par l'isthme de Suèz qui la joint à l'Asie, et par la mer Rouge ; à l'ouest par les déserts de Barqah et de Berdoa.

*D.* Quelle est la situation de l'Égypte ?

*R.* Elle est située entre les 23°. et 32°. de latitude N., et depuis le 25°. jusqu'au 32°. de longitude E.

*D.* Quel est le climat de l'Égypte ?

*R.* Depuis le mois de mars jusqu'en novembre, la chaleur y est presque insupportable pour les Européens. Pendant tout cet espace de temps, le ciel est sans nuage, le soleil darde perpendiculairement ses rayons sur cette terre, et l'on n'y respire qu'un air enflammé. Les autres mois sont plus tempérés. Quand les vents du sud se font sentir, la chaleur et la sécheresse sont telles que nul corps animé n'y peut résister. Les habitans, pour ne pas être aveuglés par le sable que ces vents entraînent avec eux, sont obligés de s'enfermer dans leurs maisons pendant les trois jours qu'ils soufflent ordinairement. Malheur à l'homme qu'ils surprennent sans abri !

*D.* Quels sont les fleuves de l'Égypte ?

*R.* Le Nil est le seul de cette célèbre contrée. Il y coule dans une vallée qui n'a d'abord que trois à quatre lieues de largeur, et qui s'élargit ensuite jusqu'à dix lieues. Après un cours de cent soixante quinze lieues dans cette vallée, il se divise au-dessous du Caire en plusieurs branches. Des deux principales, l'une se jette dans la mer à Damiette, et l'autre près de Rosette. Ces deux branches forment avec la mer un triangle que les grecs ont nommé Delta, à cause de sa ressemblance avec cette lettre de leur alphabet.

*D.* Comment divise-t-on l'Égypte ?

*R.* On la divise en trois parties , savoir : le Saïd ou la haute , le Vostani, ou la moyenne, le Bohary ou la basse.

*D.* Quelles sont les principales villes de l'E-  
gypte ?

*R.* Dans la Haute-Egypte on trouve Djirgeh, Syoùt, Kéné, Esneh, Edfu, et Assouan ou Syéné ; dans l'Egypte du milieu Beni-Souef, Faioum, et Cosséir près la mer Rouge ; dans la basse le Caire, Alexandrie, Damiette, Rosette, Mansourah, et Suèz sur la mer Rouge.

*D.* Quels peuples habitent l'Egypte ?

*R.* L'Egypte est habitée par les coptes qu'on regarde comme les anciens naturels du pays ; par des arabes qui sont ou pasteurs, ou cultivateurs, ou bédouins, c'est - à - dire nomades ; par des turcs et par des juifs. Il y a environ vingt ans que les mameluks faisaient partie de cette population. Presque toute cette milice fut détruite par les français ; et ceux qui purent leur échapper, furent peu de temps après exterminés, en partie, par le pacha, gouverneur de la province.

*D.* Quelles sont les productions de l'Egypte ?

*R.* Les pluies annuelles qui tombent en abondance sous le tropique du Cancer, depuis la fin de mai jusqu'en septembre, et même jusqu'en octobre, et la fonte des neiges de la Haute-Ethiopie font déborder le Nil à une telle hauteur, que, dans la Basse-Egypte, on n'aperçoit que la cime des forêts. Le limon que déposit



au loin les eaux de ce fleuve, les canaux d'irrigation, qui entretiennent l'humidité quand il est rentré dans son lit, fertilisent le sol et lui font produire en abondance du blé, de l'orge, des légumes, d'excellens melons, des cannes à sucre, des dattes, du raisin, des figues, des oranges, des limons, et beaucoup d'autres fruits d'une saveur exquisite. Le palmier, le bananier, le lotus, le sycomore, le platane et d'autres arbres à fruit ou de luxe font l'ornement des campagnes.

*D.* Quels animaux remarquez-vous en Egypte?

*R.* De beaux et bons chevaux, des bœufs, des dromadaires, des ânes, des crocodiles, de monstrueux lézards, le rat appelé Mangouste, l'épervier, le pélican, l'ibis, et toutes sortes de volailles.

*D.* Par qui l'Egypte est-elle gouvernée ?

*R.* Avant l'arrivée d'une armée Française en 1798, elle était gouvernée despotiquement par un pacha que le grand-seigneur y envoyait tous les ans, et par vingt-quatre beys mameluks, qui disposaient de toutes les forces militaires. Après le départ des Français en 1801, le grand-seigneur en confia le gouvernement à un pacha dont la volonté ou les caprices n'éprouvent aucune résistance.

*D.* Où est situé le fameux désert de la Thébaïde, et par qui est-il habité ?

*R.* Il est situé entre la mer Rouge et le Nil

On y trouve la ville de Cosséir , et les monastères de Saint-Pierre et de Saint-Paul. Il est habité par des arabes de différentes races.

*D.* Que remarquez-vous dans le désert à l'ouest de l'Égypte ?

*R.* J'y remarque deux petits pays habités par les Arabes Maugrébins, et qu'on nomme petite et grande Oasis. Celle-ci , qui est située par le 27°. de latitude N. , et le 28°. de longitude E. , renferme une ville qu'on nomme Charge. Ces Oasis sont comme des îles au milieu d'une mer de sable. On y trouve des bosquets , des prairies , et des sources qui les arrosent.

*D.* Quels anciens monumens les voyageurs admirent-ils en Égypte ?

*R.* Ils y admirent , entre autres , plusieurs pyramides , dont la principale a plus de cinq cents pieds d'élevation , et qui sont construites depuis plus de quatre mille ans ; et les ruines magnifiques de la ville de Thèbes.

## LEÇON XVI.

### *La Nubie et le Sennaar.*

*D.* QUELLE est la position de la Nubie et du Sennaar ?

*R.* Ces deux pays réunis , sont compris entre les 13°. et 23°. de latitude N. Ils s'étendent

au nord depuis les cataractes d'Assouan ou de Syéné jusqu'aux frontières de l'Abyssinie au midi ; à l'est jusqu'à la mer Rouge ; et à l'ouest jusque sur les confins du pays de Bournou.

*D.* Quel est le climat de la Nubie ?

*R.* Pendant les mois de décembre, janvier et février, la chaleur y est insupportable. Le voyageur ne peut marcher que pendant la nuit à travers le désert qui s'étend depuis Ibrim jusqu'à Goûs, dans une longueur de près de cent lieues. Ce désert, qui est infecté d'Arabes voleurs et assassins, ne peut être traversé sans danger, même par les caravanes. La saison des pluies commence en juin dans la Nubie et n'y finit qu'au mois de septembre.

*D.* Quelles sont les principales villes de la Nubie et du Sennaar ?

*R.* Ces villes sont : Sennaar, qui passe pour être la capitale des deux pays, et dont la population est de cent mille âmes ; Dongola qui a dix mille habitans, Derkin sur le Tacaze, Gerri sur le Nil, Goûz au confluent du Maleb et du Nil, Naour et Ibrim sur ce dernier fleuve ; Suakem et Aïlab sur la côte de la mer Rouge, nommée Habesch, et qu'habitaient anciennement les Troglodytes.

*D.* Quelles sont les productions de la Nubie ?

*R.* Le bas des vallées, que le Nil traverse pour arriver en Egypte, est naturellement peu fertile, parce que ce fleuve n'y fait pas sentir les

bienfaits de son inondation annuelle ; mais les habitans suppléent à cet inconvénient par de grandes roues avec lesquelles ils élèvent l'eau et la portent à une petite distance. Les îles du fleuve sont très-fertiles, ainsi que la Nubie méridionale qu'arrosent le Rahad, le Tacaze, la rivière Bleue ou le Bahr-el-Dender. Le voisinage de ces rivières produit des grains, du bois de sandal, de l'ébène, du tabac, du tamarin, de l'ivoire, de la poudre d'or. La canne à sucre borde les rives du Nil, et les montagnes recèlent des métaux et des pierres précieuses.

*D.* Quels sont les mœurs et les usages des peuples de la Nubie ?

*R.* Ils sont courageux ; ils s'adonnent au commerce et à l'agriculture, mais ils sont grossiers et enclins à la débauche. Leurs maisons, de forme cônica, sont bâties de boue et couvertes de roseaux. Les personnes riches portent une veste sans manches, vont la tête et les pieds nus. Le bas peuple a pour vêtement une étoffe de laine, et les enfans sont élevés dans une nudité absolue.

*D.* Quelle est la religion des Nubiens ?

*R.* Dans quelques cantons, ils professent la mahométane ; dans d'autres ils sont idolâtres : plusieurs adorent la lune, et ceux qui sont les plus voisins des sources du Nil, rendent un culte à ce fleuve.

## LEÇON XVII.

*L'Abyssinie.*

**D.** QUELLE est la situation de l'Abyssinie, et quelles en sont les limites ?

**R.** Cet empire peut être situé entre le 7°. et le 15°. de latitude N., et depuis le 32°. jusqu'au 41°. de longitude E. Au nord, il est borné par la Nubie ; à l'est, par la mer Rouge.

**D.** En combien de parties divise-t-on l'Abyssinie ?

**R.** On la divise en quatre parties, savoir : les royaumes de Dambéa, de Tigré, de Doncali et le pays des Gallas ?

**D.** Quelles provinces et villes renferme le royaume de Dambéa ?

**R.** Il renferme le Bégemder, le Damot, le Gogam et le Kuara ; ses villes les plus remarquables sont : Gondar, capitale de tout l'empire, située au nord-est du lac Tzana ; Emfras, Técharchin, et Ankober.

**D.** Quelles sont les provinces du Tigré ?

**R.** Ces provinces sont : le Samen, le Lasta, l'Enderta, l'Amazen et le pays des Hurtous. Les principales villes sont : Antalo, capitale ; Siré, Axume, Dixan, Abha, Sigonet, Zingilla, Socota et Bizan.

*D.* Que comprend le Doncali ?

*R.* Ce royaume, qui s'étend entre la mer Rouge et des montagnes situées à l'ouest, comprend les tribus des Damhorta et des Hazortas ; ses villes remarquables sont : Arkiko, Zécla, Massouah, port de mer ; Ayth, et Assab.

*D.* Par qui le pays des Gallas est-il habité, et quelles en sont les contrées et les villes principales ?

*R.* Ce pays, le plus méridional de l'Abyssinie, est habité par un peuple féroce qui adore les arbres, la lune et certaines étoiles. Il renferme plusieurs contrées peu connues, avec quelques tribus, telles que celles des Algauws et des Sangallas. Ses principales villes, ou plutôt ses principaux villages, sont : Mocan, Sdasse, Zeyla, et Hurrur.

*D.* Quelles sont les principales rivières de l'Abyssinie ?

*R.* Ces rivières sont, à peu de chose près, les mêmes que celles de la Nubie, qui presque toutes y prennent leur source.

*D.* Quel est le climat de l'Abyssinie ?

*R.* L'élévation de ce pays qui a des montagnes couvertes de neige, comme les Alpes, et les pluies d'hiver qui commencent en juin et ne finissent qu'en septembre, en rendent la température moins chaude que celle de l'Égypte. Quelques-unes de ses parties sont même plus tempérées que l'Espagne. On éprouve dans

les vallées des chaleurs étouffantes et malsaines.

*D.* Quelles sont les principales productions de l'Abyssinie ?

*R.* Cet empire produit du froment , de l'orge , de l'avoine , du riz , des cannes à sucre , du tabac , du coton , des oranges , des mines d'or ; mais un fléau redoutable pour les campagnes , ce sont des nuées de sauterelles qui s'y précipitent , et qui souvent en ravagent des provinces entières. On y trouve des éléphans , des lions , des tigres , et autres bêtes féroces.

*D.* Quelles sont la figure et les mœurs des Abyssins ?

*R.* Les Abyssins ont le teint olive foncée ; ils sont vêtus d'une légère robe de coton , nouée avec une ceinture ; et se coiffent d'une espèce de turban. Les enfans des deux sexes vont nus jusqu'à l'âge de douze à quatorze ans. Les maisons sont de forme conique et bâties d'argile. Ces peuples se nourrissent de viande crue et d'un pain excellent. L'hydromel et une espèce de bière composent leur boisson. Ils ont en général assez de douceur dans le caractère.

*D.* Quel est le gouvernement et la religion dominante de l'Abyssinie ?

*R.* Ce gouvernement est impérial et despotique. L'empereur se nomme le Grand Négus. La religion est un christianisme mêlé de beaucoup d'erreurs et de superstitions. Nul pays ne ren-

ferme autant de moines et d'églises ou chapelles.

---

## LEÇON XVIII.

### *Le Sahara ou Grand-Désert.*

*D.* QUELLE est l'étendue du Sahara ?

*R.* La véritable position de ce vaste désert n'est pas bien connue. On peut dire cependant qu'il est borné au nord par les états barbaresques ; au sud par la Nigritie et la Sénégambie ; à l'est par le Fezzan , le désert de Bilma et l'Ha-besch ; à l'ouest par l'Océan atlantique.

*D.* Quel est le climat du Sahara ?

*R.* Comme ce désert paraît être un plateau peu élevé, le soleil dardant avec force ses rayons sur un sable rougeâtre, y entretient une chaleur insupportable. La sécheresse y est telle, que le voyageur y fait quelquefois cent lieues, sans pouvoir s'y procurer une goutte d'eau. On y trouve néanmoins de distance en distance quelques collines rocailleuses et des vallons au fond desquels croissent des arbrisseaux, des buissons épineux et de l'herbe. Des monticules d'un sable mouvant, que les vents transportent çà et là, lui donnent de la ressemblance avec les flots de la mer ; et des Oasis, répandus çà et là, parais-



sent comme autant d'îles, semées sur cet océan de sable.

*D.* Quelles nations habitent le Sahara ?

*R.* Les principaux habitans de ce désert sont Arabes, ou descendans d'Arabes, les Mousselmines, issus d'anciens Portugais. Les Vadelims, les Labdessebars et les Trassarts habitent aux environs du cap Blanc. Ces peuples sont plus ou moins féroces; ils pillent les vaisseaux échoués sur leurs côtes et réduisent les navigateurs en esclavage. Les Touariks, qui habitent dans l'intérieur, descendent de la nation Berbère. Ils sont partagés en plusieurs tribus répandues dans l'Oasis. Les nomades habitent, à l'est, les villes ou villages de Tabou et de Ganat. Ceux qui descendent des nègres se nomment Maures. Ils sont pasteurs et marchands; mais sans bonne foi.

*D.* Quelles sont les productions du Sahara ?

*R.* Elles se réduisent à un sel gemme du plus beau blanc, qu'on trouve aux environs d'Aroan et de Chingarin; à de la gomme que l'on recueille dans la partie sud-ouest, et particulièrement des trois forêts de Sahel, Libbar et Alfa-tak, au nord de la Sénégambie et près du lac Cayor. Le Sahara produit aussi quelques dattiers, et nourrit des chevaux, des chèvres, des moutons, des lions, des panthères, quelques singes, d'énormes serpens et des autruches.

*D.* Comment traverse-t-on le Sahara ?

*R.* On ne peut le traverser qu'avec les cara-

vanes , ordinairement composées de deux mille hommes et de dix-huit cents chevaux. Celles qui partent de Maroc , pour se rendre à Tombouctou , sur le Niger , marchent la nuit à cause de la grande chaleur. Elles se dirigent par l'étoile polaire. Après l'espace de cent vingt-neuf jours dont cinquante-quatre de marche et soixante-quinze de repos , elles ont parcouru les quatre cent vingt-cinq lieues qui séparent ces deux villes. Elles passent par Tata , Tarassa , Tandeny et Aroan. D'autres caravanes , partant de Tunis ou y allant , se dirigent dans le sud-est.

## LEÇON XIX.

### *La Nigritie ou le Soudan.*

**D.** QUELLE est la situation de la Nigritie ?

**R.** Les limites de cette contrée , qui occupe le centre de l'Afrique , et qui appartenait à l'ancienne Ethiopie , ne sont pas encore connues. On peut néanmoins présumer qu'elle est bornée au nord par le grand désert de Sahara et par celui de Berdoa ; au sud par les montagnes de Kong et par les monts Al-qhamar ou de la Lune ; à l'est par la Nubie et l'Abyssinie ; à l'ouest par la Sénégambie.

**D.** Quels sont les états ou royaumes compris dans le bassin de la Nigritie ?

*R.* La Nigritie occidentale comprend le royaume de Kaarta dont la capitale est Kemmon ; le royaume de Ludamar avec Bénoun sa capitale ; le royaume de Manding , capitale Kamalia ; le royaume de Bérou , capitale Walet ; le royaume de Bambara dont les principales villes sont : Tombouctou , centre d'un grand commerce ; Ségo , Ginnie et Kabra ; le royaume de Houssa , qui a les villes de Houssa capitale , Sola et Tocrure ; le royaume de Kachnah avec sa capitale du même nom , et la ville de Ganah ; l'état d'Asben , habité par les Touariks ; le Koutouvi qui a les villes d'Agadés sur le torrent de Massérout ; et Acouda ; le royaume de Melhy ou de Lamlem , avec la ville de Malel pour capitale , et Dombea ; enfin les royaumes ou provinces de Baédou , de Maicana , de Kong , de Kafaba et de Gage , situés entre le Niger et la Guinée.

*D.* Quels sont les états compris dans la Nigritie orientale ?

*R.* Ces états sont : le Bournou , le Gangara , le Béghermeh , dont les principales villes sont : Bournou ou Akumbo , Zanfara , Sémégonda , Ragbil , Darkonda , Karna , etc. ; le royaume de Bergou dont la principale ville est Ouârâ ; le Darfour que traverse une chaîne de montagnes du nord au sud , et dont les principales villes sont : Gobbeh , Ril , Dar-mara , et Zagaoua ; le Kordofan qui dépend du Darfour , à l'est du-

quel il est situé , et dont la capitale se nomme Ibeit ; enfin le pays des Shilloucks au sud-ouest de l'Abyssinie.

*D.* Quels peuples habitent la Nigritie ?

*R.* La plupart des habitans de cette région sont des nègres mahométans dont quelques-uns apprennent à lire l'arabe. Dans le Béghermeh on trouve des chrétiens nazaréens ; le royaume de Melhy ou de Lamlem est peuplé de Juifs, et le Bournou de Foulahs, sortis des environs du Sénégal. On en trouve aussi sur les bords du Niger, dans les environs de Tombouctou.

*D.* Quels fleuves arrosent la Nigritie ?

*R.* Le plus remarquable est le Niger, ou Joliba, ou Nil des nègres ; qui prend sa source à trente-cinq lieues à l'est du Sénégal et à la même latitude, dans les montagnes de Kong. Il court au nord-est, puis à l'est-quart-sud. Il verse dans le lac Vangara une énorme quantité d'eau qui s'évapore dans la saison des chaleurs ; ou bien il se rend à l'Océan atlantique par l'affinité qu'on lui suppose avec d'autres rivières. Les autres rivières de la Nigritie sont : la Gazelle, la Misselade, la Dar-koula, le Bournou, le Kouhoù, et le Bel-Adda.

*D.* Quelles sont les productions de la Nigritie ?

*R.* Elle produit du blé, du riz, du maïs, du millet, des ignames, du manioc, de l'indigo, du café et du coton qui y croissent sans culture ;

du  
ce  
le t  
des  
des  
mar  
des  
d'ab

*D.*  
*R.*  
tion  
au 2  
du r  
*D.*  
*R.*  
gran  
par l  
tie.  
*D.*  
bie ?  
*R.*  
tude  
ties e  
nent

du musc , du natron , etc. Parmi les arbres dont ce pays est couvert on remarque le sycomore , le tamarin , le palmier. On y trouve des poules , des pigeons , des oies sauvages , des autruches , des scorpions , des sauterelles que les nègres mangent ; des chiens , des chats , des buffles , des gazelles , des girafes. Le Gangara renferme d'abondantes mines d'or.

## LEÇON XX.

*La Sénégambie.*

**D.** QUELLE est l'étendue de la Sénégambie ?

**R.** Cette région , qui tire son nom de sa position sur le Sénégal et la Gambie , s'étend du 18°. au 25°. de latitude N. , et du 7°. au 20°. à l'est du méridien de Paris.

**D.** Quelles en sont les limites ?

**R.** Au nord , elle est limitée par le Sahara , ou grand désert ; au midi , par la Guinée ; à l'ouest , par l'Océan atlantique ; et à l'est , par la Nigritie.

**D.** Quelle est la température de la Sénégambie ?

**R.** Cette région étant située à la même latitude que la Nigritie , l'air y est frais sur les parties élevées ; mais les vents brûlans de l'est amènent des chaleurs insupportables dans les plai-

nes et sur les côtes où le thermomètre de Réaumur s'élève de 36 à 44 degrés. On n'y compte que deux saisons, l'hiver et l'été. Pendant l'hiver les pluies tombent depuis juin jusqu'en septembre. Pendant les autres mois qui sont ceux d'été, il tombe chaque nuit d'abondantes rosées.

*D.* Quelles sont les rivières de la Sénégambie ?

*R.* La Sénégambie est arrosée par le Sénégal qui prend sa source dans les montagnes de Kong sur le 11°. de latitude N. , et le 9°. de longit. E. Il court au nord et au nord-ouest jusqu'auprès de la mer. Trouvant un obstacle, il retourne brusquement au sud-ouest. Après un cours de trois cent soixante - cinq lieues, il se décharge dans la mer, à cinq lieues au sud-ouest du fort Saint-Louis. A sa droite il reçoit les rivières de Kokoro, Blanche, et celle de Sacam qui sort du lac Cayor; à gauche la rivière Félébé. Une branche se détache à Bilbas, et coule parallèlement jusqu'à l'Escale du désert. En s'y réunissant, elle forme l'île à Morfil, longue de soixante lieues. Le Sénégal est navigable jusqu'au rocher Felou, à 260 lieues de son embouchure.

*D.* Quelles sont les autres rivières de la Sénégambie ?

*R.* Ces rivières sont : la Gambie, qui prend sa source sur la même latitude que le Sénégal et à onze lieues à l'ouest de ce fleuve. Elle coule dans la direction du nord - ouest, et ensuite à l'ouest, et se rend à la mer par une large em-

bouchure après un cours de deux cent cinquante lieues. Elle est navigable jusqu'à Pisania. Elle reçoit à sa droite les rivières de Nérico, de Saint-Domingue , de Cuzamasa et de Malapagne qui , avec celle de Sainte Catherine , forme les îles basses de Jattes , de Busis et de Bissao. Les autres rivières sont celles de Rio-grandé , de Numez , de Sierra-Leoné et de Mesurado.

*D.* Quelles sont les productions de la Sénégambie ?

*R.* Cette contrée produit du blé d'Iude et de Turquie , du riz , des patates , des ignames , du manioc , des pistaches , des citrouilles , du coton , de l'indigo , des ananas , des cannes à sucre , plusieurs espèces de gommes , l'arbre énorme appelé *Boabat* , dont le fruit , nommé *pain du singe* , sert à la nourriture des nègres : il est commun à la Nigritie et à la Guinée ; l'arbre à beaume , le grenadier , l'oranger , le bananier , l'acajou , etc.

*D.* Quel est le caractère des habitans de la Sénégambie ?

*R.* Ceux qu'on nomme Foulahs sont doux et d'un commerce facile , mais présomptueux , et s'estiment plus que les autres nègres. Les Iolofs sont actifs et belliqueux ; les Mandingues sont sociables , grands , bien faits et laborieux ; les Feloups sont tristes et l'ivresse les rend querelleurs.

## LEÇON XXI.

*Suite de la précédente.*

**D.** QUELS sont les principaux états ou royaumes compris dans le bassin du Sénégal ?

**R.** On trouve à l'embouchure de ce fleuve le royaume d'Arval, dont le roi prend le titre de *Brak* : il renferme les îles de Béquis, de Bisèche et de Bouxar ; les villes ou villages de Guré, capitale, et de Najurbel ; Resid, royaume sur le lac Panier - Foulis ; l'Etablissement français de Saint-Louis, et l'Escale du désert, lieu où se tient le marché auquel se rendent les nègres qui ont de la gomme à vendre ; le royaume des Foulahs qui comprend l'île à Morfil, les villes ou villages de Cahidé, capitale ; de Barobé, de Donguel, de Bilbas, de Sadel, de Dolol et de Guildé, avec les Etablissements français de Podor, les Escales du Coq et du terrier Rouge ; le royaume de Galian, situé à l'embouchure de la rivière Féléme, qui est habité par les Saracolets, et qui renferme les villes de Ganada, Lunel, Cagneux près la cataracte du Felou, et le fort St.-Joseph, habité par les Français ; le royaume de Bambouk, qui possède de riches mines d'or, et comprend le Satadou et le Koukadou avec les villes de Bambouck, capitale sur la rivière d'Or ;



Saisondia et le fort de Saint-Pierre, bâtis par les Français; le royaume de Dentilla sur la rive occidentale de la Félémé, avec la ville de Farbana sur cette rivière; le Jâlonkadou situé vers les sources du Sénégal; enfin le royaume de Fouladou sur le Kokoro, avec la ville de Bangassi.

*D.* Quels sont les états situés sur la mer, et entre le Sénégal et la Gambie ?

*R.* On trouve sur la côte, en face du cap Vert, le royaume de Cayor dont le roi prend le titre de *Damel*. Il renferme les villes de Condamel, de Mascaye et de Biurt, avec les Etablissemens français de Baol, où est la ville de Joal dont le port est excellent; le royaume de Barbisin dont la ville capitale, nommée Fétik, est située dans une île; l'empire des Iolofes ou Jolofs, au centre, à égale distance du Sénégal et de la Gambie, et dont la capitale se nomme Hikarkor; le royaume de Fonta-Terra; enfin celui de Bondou, avec la ville de Coursan, sa capitale.

*D.* Quels sont les royaumes situés au nord dans le bassin de la Gambie ?

*R.* On trouve sur la côte, à l'embouchure de ce fleuve, le royaume de Barra avec l'Etablissement français d'Albréda et ceux des Anglais qui sont Tjillifri et le fort Saint-James, situé au sud dans une île de la rivière; le royaume de Kolar avec la ville de même nom; le royaume de

Badibou , avec sa capitale du même nom ; celui de Salum avec les villages de Cohone et de Kia-wer ; les royaumes du Haut et du Bas-Yani , avec les établissemens anglais d'Yanimareu , de Jundokonda et de Pisania ; le royaume de Voulli dont la capitale se nomme Médina , avec la cataracte de Baraconda ; le royaume de Tenda avec Koumbo , sa capitale ; enfin le royaume de Néola , avec la rade Sibikillen.

*D.* Quels sont les pays situés au sud dans le bassin de la Gambie ?

*R.* Ce bassin contient les royaumes de Combo , de Foini , de Jéréja , de Kaen et de Jagra , habités par les Féloufs , avec l'établissement français et anglais de Bintam , sur la rivière de Sanguedegou ; les royaumes de Jamina , d'Eropina , de Jémarou , de Tomani , de Canter et de Foula-jallo , dont la ville capitale se nomme Labay.

*D.* Quels sont les pays situés sur la mer entre le bassin de la Gambie et le Rio-grandé ?

*R.* Ces pays sont : 1°. ceux qu'habitent les Papels et les Bulantes , savoir : les bords des rivières Cazamansa et de Saint-Domingue ; les îles de Jattes , de Busis , et de Bissao , avec les établissemens portugais de Cachéo , du cap Rouge et de Ziughincher ; 2°. la rive septentrionale de Rio-grandé et l'île de Bulama , occupées par les Biafares ; les royaumes de Géba , où sont situés les établissemens portugais de Farim , de Malapagne et de Mal'ormose.

**D.** Quelles nations habitent les côtes de l'Océan, entre Rio-grandé et la rivière de Mésurado ?

**R.** On trouve les Nalòès et les Vagres, qui occupent les bords méridionaux du Rio-grandé, et de la Numez jusqu'à la rivière de Pungo ; les Bagoès sur la rivière Dambia ; les Soussos, qui habitent la ville de Bareira, sur la rivière de même nom, les Foulahs, qui sont en grand nombre, possèdent les villes de Teembou et de Coursan ; les Warsulow, qui habitent au midi des sources de la Gambie ; les Jattes, placés au nord de la rivière de Sierra-Léoné ; enfin l'établissement anglais de Sierra-Léoné, situé au sud de cette rivière, près du cap Tagrin, et qui a pour capitale la ville de Freetown.

---

## LEÇON XXII.

### *La Guinée.*

**D.** QUELLES sont les bornes de la Guinée ?

**R.** Elle est bornée, au nord, par la Nigritie et les montagnes de Kong ; au sud, par le golfe de son nom ; à l'ouest, par la rivière Mésurado ; à l'est, ses limites ne sont pas connues. On peut ranger sa position en latitude entre l'équateur et le 8° de latitude N.

*D.* Quelle est l'étendue de la côte de Guinée ?

*R.* Les navigateurs appellent *Côte de Guinée* l'espace de sept cent vingt lieues , compris entre la rivière Mésurado, et le cap Lopo - Gonzalèz , situé sur le 2°. de latitude S. Cet espace est divisé en quatre parties , qui tirent leurs noms de leurs différentes productions. L'intervalle entre la rivière Mésuardo et le cap des Palmes est appelé côte des Graines , Malaguettes ou du Poivre ; celui qui est compris entre le cap des Palmes et le cap des Trois Pointes , est nommé côte d'Ivoire ou des Dents ; la Côte-d'Or s'étend depuis le cap des Trois Pointes jusqu'à la rivière Voltas ; et l'espace qui s'étend depuis cette rivière jusqu'au cap Lopo-Gonzalèz se nomme côte des Esclaves.

*D.* Quel est le climat de la Guinée ?

*R.* De toutes les parties de l'Afrique occidentale , la Côte-d'Or est celle où l'on éprouve les plus grandes chaleurs. On y a vu le thermomètre de Fahrenheit monter jusqu'à 95°. dans l'intérieur des habitations, et jusqu'à 134°. à l'air libre. On ne connaît en Guinée que deux saisons. L'été commence au mois de septembre et finit en mars ; l'hiver , qui est la saison des pluies , dure pendant les six autres mois. Les ouragans sont terribles dans cette région , surtout entre les caps Verga et des Palmes ; et les vents , qui soufflent ordinairement du sud-ouest ,

rendent la navigation extrêmement dangereuse dans le golfe.

*D.* Que renferme la côte des Graines ou de Poivre, et quelles en sont les productions ?

*R.* Cette côte, ainsi nommée pour la grande quantité de poivre qu'elle produit, renferme plusieurs établissemens européens, tels que Bassa, Sanguin, le grand Sestre et le petit Sestre, ou Paris; les pays de Quiga et de Honda.

Les productions de cette côte sont : le riz, le manioc, les ignames, le coton, l'indigo, le poivre, du bois rouge et de l'ivoire.

*D.* Quels sont les mœurs et le culte des habitans de cette côte.

*R.* Leurs mœurs sont très-corrompues; mais ils sont humains et hospitaliers. Leur culte est le fétichisme.

*D.* Quels établissemens renferme la côte d'Ivoire, quels en sont les habitans et les productions ?

*R.* Cette côte, ainsi nommé des dents d'éléphans que ses habitans vendent aux Européens, renferme les établissemens de Katron, de la rivière Saint-André, du cap-la Hou, et du grand Bossam. Elle est habitée par les Quaguas, nation fort laide, dont les mœurs sont cependant douces et sociables. Il y a aux environs du cap-la Hou un peuple belliqueux, qui passe pour

être antropophage , et que les Portugais appellent *Malas Gentes*.

Les productions de cette contrée sont : l'ivoire , le riz , le maïs , les cocos , les bananes , l'indigo. Les éléphants y sont nombreux.

*D.* Que dites-vous de la Côte-d'Or?

*R.* Cette côte , qui tire son nom de l'or qu'elle produit , et de la poudre de ce métal que les Nègres vendent aux Européens , renferme plusieurs établissemens , dont les principaux sont : ceux du cap Corse , de la ville d'Anamakou , qui était le principal marché où les Anglais faisaient la traite des Nègres , avant que le parlement eût prohibé cet infâme commerce ; ceux de Ningo , et d'Adda sur la rivière Voltas.

Cette côte est habitée par les Ashantées et les Aminas , dont le fétichisme est aussi la religion.

Ses principales productions sont : l'or en lingots ou en poudre. On y trouve beaucoup d'éléphants , de lions et d'autres animaux féroces. Les singes , dont on compte plus de cinquante espèces différentes , y sont très-nombreux.

*D.* Quels états renferme la côte des Esclaves?

*R.* Cette côte , qui a pris son nom du commerce des esclaves , que les Européens y achetaient autrefois , renferme sur et vers l'Océan les petits états d'Acra , d'Acabou , d'Adom , de Juïda , d'Adra et le royaume de Bénin , le plus puissant de la Guinée , qui a pour capitale la ville de même nom. On trouve encore sur la même

côte le royaume d'Oudry avec la ville de ce nom, au nord-est du cap Formose ; le Calabar , le Biafra ; et dans les terres , au nord-ouest du Bénin , le royaume de Dahomey , qui a pour capitale la ville d'Abomey.

*D.* Quels sont les autres lieux remarquables de la côte des Esclaves ?

*R.* Ces lieux sont : Popo , Cradou , Lagos , Malamba et Montong. Ce dernier pays , dont la capitale porte le même nom , est situé près du cap Lopo-Gonzaléz. Il produit beaucoup de coton , de poivre et de miel.

*D.* Quelles sont les mœurs et la religion des habitans de cette côte ?

*R.* Leurs mœurs et leur religion sont les mêmes , à peu de différence près , que les mœurs et la religion des nègres des autres côtes. On distingue néanmoins ceux du royaume de Juida ; ils sont un peu moins grossiers que les autres.

*D.* Le commerce des Esclaves était-il ancien , et à quelle occasion avait-il commencé ?

*R.* Il datait de l'époque où les Européens commencèrent à former des établissemens dans les Indes occidentales. Comme les bras leur manquaient pour faire valoir leurs colonies , ils profitèrent des guerres que les princes nègres de la côte de Guinée se faisaient les uns aux autres , pour les engager à leur vendre leurs prisonniers. La religion et l'humanité gémissent long-temps de ce commerce barbare. Enfin les

puissances maritimes de l'Europe, excitées par l'exemple de l'Angleterre, l'ont décidément prohibé dans ces derniers temps.

### LEÇON XXIII.

*Côte occidentale de l'Afrique depuis le cap Lapo-Gonzalèz, jusqu'au cap de Bonne-Espérance.*

*D.* QUELLE est l'étendue de cette côte ?

*R.* Elle s'étend depuis le 2°. jusqu'au 35°. de latitude S. Sa longitude moyenne peut-être marquée depuis le 10°. jusqu'au 14°. à l'est du méridien de Paris.

*D.* Quels pays comprend cette côte ?

*R.* Elle comprend le Congo, quelques pays peu connus au sud, le pays des Hottentots et le territoire de la colonie du cap de Bonne-Espérance.

*D.* Quelles sont les bornes du Congo ?

*R.* Cette grande région, que l'on appelle aussi la Basse-Guinée, est bornée au nord par la Guinée et la Nigritie, au sud par le 12°. de latitude S. : à l'est ses limites sont inconnues ; à l'ouest elle a l'Océan atlantique.

*D.* Quels états renferme le Congo ?

*R.* Il renferme au nord et à l'est ceux d'Anzico



ou Micoco, dont Monsol est le lieu le plus remarquable ; de Dumbo, où l'on trouve Concabella, sur le Zaïre ; et ceux de Fungéno, et de Mélemba : au reste, ces pays sont peu connus.

Au nord - ouest, sont : les états de Gobbi, de Loango et de Cacongo. Le premier a pour chefs - lieux Sette, et Montong sur la mer. Le Loango a Cilongo aussi sur la mer : le Cacongo, situé le long du Zaïre, a pour chef-lieu Angoy, sur l'embouchure du même fleuve.

*D.* Quels autres états renferme le Congo ?

*R.* Il renferme : 1°. le Congo propre, situé au sud de ceux que nous venons de nommer, et dont les principales villes sont : Saint-Salvador, capitale où les Portugais ont un établissement ; au milieu Bomba, Congobatta au nord, et Bombi à l'ouest ; 2°. le royaume d'Angola, au sud, qui a Saint-Paul de Loanda, capitale sur un golfe, et Maopongo sur le Coanza ; 3°. le royaume de Matamba, qui a pour principaux lieux Matamba et Sainte-Marie ; 4°. le Benguéla, dont la capitale est Saint Philippe de Benguéla, située sur la mer ; et dont les autres lieux sont : Redondo et Tomba ?

*D.* Quels sont les principaux fleuves du Congo ?

*R.* Ces fleuves sont : le Coanza au sud, et le Zaïre, qui court du nord-est au sud-ouest.

*D.* Quelles sont les principales productions de cette région ?

*R.* Ce sont : le millet , le maïs , les cannes à sucre , la casse , les dattes , etc. On y trouve des mines d'argent , de fer , de cuivre , etc. Elle nourrit un grand nombre d'éléphants , de lions , de tigres , de léopards , des singes de toute espèce , et des serpens monstrueux. Le Zaïre est rempli de crocodiles et d'hippopotames.

*D.* Quel est le climat du Congo ?

*R.* Il est très-chaud. Il n'y règne que deux saisons , celle de l'été où la chaleur est insupportable , et celle de l'hiver où les pluies ne cessent de tomber par torrens.

*D.* Quels sont les gouvernemens des différens états de cette région , et quelles sont les mœurs et la religion de ses habitans ?

*R.* Ces gouvernemens sont autant de monarchies absolues , mal imitées de celles de l'Europe. Les habitans ont à peu de chose près les mêmes mœurs et la même religion que les nègres de la Haute-Guinée. Les missionnaires portugais ont fait de vains efforts pour les convertir au christianisme.

*D.* Les Européens n'ont-ils pas des établissemens dans cette partie de l'Afrique ?

*R.* Les Portugais en ont plusieurs dont Saint-Paul de Loanda est le chef-lieu.

## LEÇON XXIV.

*Suite de la précédente.*

**D.** QUELS pays remarquez-vous au sud du Benguéla ?

**R.** Ce sont : les pays peu connus de Bembé , des Cimbéras , des Macasse , et d'Ohila , qui s'étendent jusqu'au cap Voltas. Les peuples qui les habitent , sont des nègres encore plus grossiers dans leurs mœurs et leur culte , s'il est possible , que ceux qui les avoisinent au nord.

**D.** Quelle est la situation du pays des Hottentots ?

**R.** Cette région , autrement Cafrérie , qui est d'une immense étendue et dont l'intérieur est peu connu , est bornée au nord par la rivière Fisch , à l'est par la mer des Indes , à l'ouest par l'Océan atlantique , et au sud par ce même Océan et par la colonie du cap de Bonne-Espérance.

**D.** Par quelles nations ce pays est-il habité ?

**R.** Il est habité par plusieurs nations hottentotes , savoir : les Boushouanas , les Karaquois , les Damaras , les Karahottentots , les Namaquois , les Boushismens , les Tamboukis , etc.

**D.** Quelles sont les principales rivières du pays des Hottentots ?

*R.* Ces rivières sont : le Fisch, l'Orange, la Gamana, la Kouroumana et la rivière des Eléphants.

*D.* Quels sont les principaux lieux de cette région ?

*R.* Ces lieux sont : Litakou et Patani.

*D.* Tracez le portrait des Hottentots ?

*R.* Ces peuples sont pasteurs et nomades, et en général d'un caractère assez doux. Leur couleur est un jaune terne. Les os de leurs joues sont très-saillans, et le bas de leur menton est fort étroit. Ils ont le nez aplati, les narines très-ouvertes, la bouche très-grande, et des dents fort blanches. Leur nourriture se compose du lait de leurs vaches et de celui de leurs brebis. L'idolâtrie est leur religion.

*D.* Que dites-vous des Boushismens ?

*R.* C'est une nation hottentote, vagabonde et féroce, qui ne subsiste que de meurtres et de pillages, comme les voleurs de grands chemins : quand ces deux moyens de subsistance leur manquent, ils ont recours aux racines, aux lézards, aux souris, et même aux crapauds. Dans leurs attaques, ils ne se servent que de flèches empoisonnées dont la blessure est mortelle. Les colons du cap de Bonne-Espérance ont tout à craindre de leurs incursions.

## LEÇON XXV.

*La Colonie du Cap de Bonne-Espérance.*

*D.* QUAND et par qui le cap de Bonne-Espérance a-t-il été découvert ?

*R.* Ce cap, situé à l'extrémité S. O. S. de l'Afrique, fut découvert en 1493, par les Portugais, qui, effrayés des orages qu'ils essuyèrent près de cette côte, le nommèrent *Cabo dos tormentos*. Les avantages qu'ils y trouvèrent dans la suite, ou qu'ils s'en promirent pour la navigation de l'Inde, leur firent changer ce nom en celui de *Cabo de Buena-Esperanza*.

*D.* Quelles nations européennes se sont établies successivement au cap de Bonne-Espérance ?

*R.* Les Portugais, après l'avoir découvert, essayèrent d'y fonder une colonie; mais ce fut sans succès par l'opposition qu'ils éprouvèrent de la part des Hottentots. En 1650, les Hollandais commencèrent à s'y établir, et la colonie qu'ils y formèrent, devint, en peu de temps, très-florissante. Dans ces derniers temps, elle leur a été enlevée par les Anglais, auxquels les derniers traités en ont assuré la possession.

*D.* Quelles montagnes s'élèvent au cap de Bonne-Espérance ?

*R.* On y remarque la montagne de la Table et celle du Lion. La première, qui domine la baie de ce nom, est ainsi appelée de la forme plate et unie de son sommet. La seconde, située au nord de celle-ci, a pris son nom de la forme qu'elle paraît avoir avec la tête d'un lion, ou du grand nombre de ces animaux, qui s'y retiraient autrefois.

*D.* Quelle est la capitale de la colonie du cap de Bonne-Espérance ?

*R.* C'est la ville du même nom, bâtie sur le bord de la mer, dans une vallée, qui s'étend au pied de la montagne de la Table. Une forteresse la commande, ainsi que toute la baie. Sa population est d'environ soixante-dix mille individus, et celle de toute la colonie d'environ cent mille.

*D.* Quelles sont les divisions de la colonie du cap de Bonne-Espérance ?

*R.* Cette colonie est divisée en quatre arrondissemens qui sont : le Tulbach au nord, le Stellenbosch, le Zwellendam, et le Graf-Reynet.

*D.* Quelles sont les productions de cette colonie ?

*R.* Elle est peu fertile vers le nord ; mais à l'est, elle produit plusieurs sortes d'excellens fruits, du blé, un excellent vin, connu sous le nom de vin de Constance ; de bons légumes,

des mûriers , des caffeyers , et l'arbuste qui produit le thé. Outre un grand nombre d'animaux féroces et de bêtes fauves , cette colonie nourrit quantité de volailles et de bestiaux. Elle renferme aussi des mines de fer , de cuivre , et des sources d'eaux minérales.

---

## LEÇON XXVI.

*Les terres de Natal et de Fumo. — Le Monomotapa.*

*D.* QUELLE est la terre la plus voisine du cap de Bonne-Espérance au nord-est ?

*R.* C'est la terre de Natal , partie de la Cafrérie , située vers la côte orientale.

*D* Quels en sont les habitans ?

*R.* Un certain nombre de familles hollandaises , attirées par la beauté du pays , s'y sont établies. Elle est aussi habitée par les Tamboukiss et les Hambouanas , nations hottentotes.

*D.* Quelle terre est située immédiatement au nord de celle de Natal ?

*R.* C'est celle de Fumo située sur la mer des Indes. Elle s'étend jusqu'à la baie de Lorenzo-Marquez , dans laquelle se jettent les rivières du Saint-Esprit et de Maffumo. Elle est habitée par plusieurs nations hottentotes , connues sous le nom générique de Cafres.

*D.* Quel pays est situé au nord de la terre de Fumo ?

*R.* C'est le Monomotapa, vaste région qui est bornée au nord et à l'ouest par les monts Lupata, au sud et à l'est par le canal de Mozambique et l'Océan Indien.

*D.* Quels états renferme cette région ?

*R.* Elle renferme le Monomotapa propre, au nord ; le Sofala, le Sabia, l'Inhambane, et le Kalonga, au sud. Ses limites à l'ouest sont inconnues.

*D.* Quelles sont les principales villes de ces royaumes ?

*R.* On remarque dans le Monomotapa propre Zimbaoé, résidence du souverain ; Chicova, Tét, Gornbé, et Quilimane à l'embouchure du Zambèze. Ces deux dernières villes sont commandées, chacune, par un fort portugais.

Le Sofala a pour capitale une ville de son nom, sur un golfe du canal de Mozambique.

Le Sabia a pour capitale Mambone, sur le même canal.

Et l'Inhambane a pour chef-lieu Tongué à l'embouchure de la rivière de son nom, dans le même canal.

*D.* Quelles sont les principales rivières du Monomotapa ?

*R.* Ces rivières sont : le Zambèze ou Cuama, la Sofala, la Sabia et l'Inhambane qui se jettent dans le canal de Mozambique.



*D.* Quelles sont les productions du Monomotapa ?

*R.* Il produit du riz , des cannes à sucre , et des fruits de différentes espèces. On y trouve des mines d'or. Il nourrit un grand nombre de bestiaux ; des bêtes féroces , des singes , des autruches , des oiseaux de proie et des perroquets.

*D.* Quel est le gouvernement et quelle est la religion de ce pays ?

*R.* Ce gouvernement est monarchique , et le roi du Monomotapa propre tient les autres princes dans sa dépendance. Les habitans , qui sont noirs , professent l'idolâtrie.

---

## LEÇON XXVII.

*Le Mozambique , le Zanguebar , et la côte d'Ajan.*

*D.* QU'EST-CE que le Mozambique , et quels pays renferme-t-il ?

*R.* On nomme ainsi la côte qui s'étend depuis l'embouchure du Zambèze , jusqu'au cap Delgado. Cette côte comprend le pays des Quérimbas , et ceux des Macuas et des Bororos. Ses principaux lieux sont : Mozambique dans la petite île de ce même nom , peu éloignée du continent ; et Pangano.

*D.* Quelle est la situation du Zanguebar ?

*R.* Cette côte est située à l'est sur la mer des Indes. Elle est bornée au nord par la côte d'Ajan , au sud par le canal de Mozambique , à l'ouest par les monts Lupata.

*D.* Quels états sont compris dans cette région ?

*R.* Ces états sont : le royaume de Mélinde dont la capitale du même nom , est située sur la mer des Indes ; celui de Mombaça dont la capitale de même nom est située dans une île, au sud de Mélinde ; le royaume de Quiloa dont la capitale est dans l'île de ce nom ; et le pays des Mosséquéjos dont les principaux lieux sont : Paté et Tubo , vers la ligne. Les Portugais ont plusieurs établissemens sur cette côte et dans les îles qui l'avoisinent.

*D.* Quelles sont les productions du Zanguebar , et quelle est la religion de ses habitans ?

*R.* Il produit différentes espèces de fruits ; il nourrit des bestiaux , des zèbres , des girafes , des bêtes féroces , et d'autres animaux sauvages. Il abonde en or et en ivoire.

Parmi les nations qui l'habitent, les unes sont mahométanes et les autres idolâtres. On trouve des chrétiens dans les endroits où les Portugais se sont établis.

*D.* Quelle est la situation de la côte d'Ajan ?

*R.* Cette région s'étend depuis l'équateur jus-

qu'au 12°. de latitude N. et du 42°. au 48°. de longitude E.

*D.* Quels états comprend-elle ?

*R.* Elle comprend les royaumes d'Adel et de Magadoxo et la république de Brava.

*D.* Quelle est la situation de ces états , et quelles en sont les principales villes ?

*R.* Le royaume d'Adel est situé au midi du pays des Gallas ; sa capitale a le même nom : le Magadoxo , au sud d'Adel , a pour capitale la ville de son nom , sur la mer des Indes ; Brava est au sud du Magadoxo , et a pour chef-lieu la ville de son nom sur la même mer. Cette république paye tribut aux Portugais.

*D.* Quelles sont les productions de la côte d'Ajan ?

*R.* Elle produit des grains , des fruits , des pâturages ; elle nourrit des bestiaux , des animaux féroces , et l'on y trouve beaucoup d'or , d'ivoire et d'ambre gris. Il s'y fait un grand commerce d'échange de ces objets avec les marchandises de l'Arabie et des Indes.

*D.* Quelle est la religion des peuples de la côte d'Ajan ?

*R.* Les uns sont mahométans , et les autres idolâtres.

*D.* Que trouvez-vous sur le vaste plateau situé à l'ouest des monts Lupata et au sud de l'Abyssinie ?

*R.* Ce plateau est une immense région qu'on

nomme le Monoémugi , et qui renferme le royaume de ce nom , avec ceux de Gingiro, de Ruengas , et de Massi. La ville principale qu'on y remarque est au sud du lac Maravi. Au reste , leur position est inconnue , comme celle de plusieurs autres contrées de l'intérieur de l'Afrique.

TIN DE L'AFRIQUE.

---

## QUATRIÈME PARTIE.

### L'AMÉRIQUE.

#### DEUXIÈME CONTINENT.

---

#### LEÇON I<sup>re</sup>.

##### *Notions générales.*

**D.** En quelle année et par qui l'Amérique a-t-elle été découverte ?

**R.** Elle fut découverte en 1492 par Christophe Colomb, navigateur génois, sous le règne de Ferdinand, roi d'Aragon, et d'Isabelle, sa femme, reine de Castille, qui lui fournirent tous les secours nécessaires pour le succès de son expédition.

**D.** D'où l'Amérique tire-t-elle son nom ?

**R.** Elle l'a pris de celui d'Améric Vespuce, navigateur florentin, qui, après la découverte faite par Colomb, y fit, en 1499, un voyage, pendant lequel il découvrit quelques côtes de la terre ferme. Une ordonnance du roi Ferdinand

donna ensuite, au nouveau Continent, le prénom de ce navigateur.

*D.* Quelle est la situation de l'Amérique ?

*R.* Elle est située à l'ouest de l'Europe, et à l'est de l'Asie et de l'Océanique. Elle est bornée, au nord, par les terres ou mers arctiques ; à l'est par l'Océan atlantique ; à l'ouest par le grand Océan et ses îles ; au sud par l'Océan méridional. Elle s'étend en latitude depuis le 80°. au nord, jusqu'au 56°. au sud. Sa longitude, sans y comprendre la côte E. du Groënland, est entre les 40°. et 172°. à l'ouest de Paris.

*D.* Quelle est la figure de l'Amérique ?

*R.* Elle représente, dans chacune de ses parties, un triangle irrégulier, dont la base est vers le nord et la pointe vers le sud.

*D.* Quelle est la température de l'Amérique ?

*R.* Cette température varie selon les zones sous lesquelles elles est placée. Le froid est très-rigoureux dans les pays situés sous la zone glaciale ; la chaleur, sous la zone torride, est tempérée par de grands fleuves et de hautes montagnes ; et sous la zone tempérée on éprouve souvent des hivers beaucoup plus froids et des étés beaucoup plus chauds qu'en Europe sous les mêmes latitudes.

*D.* Quelles sont les productions de l'Amérique ?

*R.* Elle produit toutes sortes de grains, une grande variété de fruits, du sucre, du café, de

l'indigo , de la canelle , du girofle du coton , des bois de marine et de teinture , d'abondans pâturages , d'innombrables bestiaux , des chevaux , des singes , peu d'animaux féroces , des serpens monstrueux , des oiseaux de toutes les formes et de toutes les couleurs : elle renferme d'abondantes mines d'or , d'argent , de cuivre , de fer , d'étain , de plomb , de vif-argent , de diamans et autres pierres précieuses ; elle produit peu de vin , et celui qu'on y boit vient de l'Europe et de l'Asie.

---

## LEÇON II.

### *Suite de la précédente.*

**D.** QUELLE est la population de l'Amérique ?

**R.** Cette population s'élève à environ trente millions d'habitans , y compris celle des îles et du Groënland.

**D.** De quels peuples se compose cette population ?

**R.** Elle se compose de Sauvages indépendans , d'Anglais , de Français , de Hollandais , de Danois , de Suédois , d'Allemands , de Suisses , d'Espagnols , de Portugais , de Russes , de Créoles , de Mulâtres et de Nègres libres ou esclaves. Les Etats-Unis de l'Amérique septen-

trionale ont une population mêlée, dont les anciens colons anglais forment la majeure partie.

*D.* Quelles sont les mœurs des Américains?

*R.* Les Sauvages sont, en général, braves, intrépides, humains envers les étrangers, équitables; cruels envers leurs prisonniers; et ne s'adonnent, en général, qu'à la guerre et à la chasse.

Pour ce qui est des autres habitans de l'Amérique, l'agriculture et le commerce sont leurs principales occupations; leurs mœurs et leurs usages sont les mêmes que ceux de l'Europe, avec les différences néanmoins qui résultent du climat.

*D.* Quelles sont les principales langues de l'Amérique?

*R.* Ces langues sont : la hurone, qui est la plus répandue parmi les Sauvages de la partie septentrionale; l'anglaise, la française, l'espagnole, la portugaise et la hollandaise; et le galibis, langue d'un grand nombre de Sauvages de la partie méridionale.

*D.* Quelles sont les religions de l'Amérique?

*R.* L'idolâtrie est celle des Sauvages; le catholicisme et le protestantisme se partagent le reste de la population.

*D.* Quels sont les gouvernemens de l'Amérique?

*R.* Les sauvages vivent indépendans sous des chefs dont ils reconnaissent l'autorité. Le gou-



vernement des Etats-Unis est républicain. Les habitans du Mexique et ceux de l'Amérique méridionale sont soumis, ainsi que ceux des îles, à différentes monarchies d'Europe. (1)

### LEÇON III.

#### *Divisions de l'Amérique.*

**D.** COMMENT se divise l'Amérique ?

**R.** Elle se divise en Amérique septentrionale et en Amérique méridionale.

**D.** Où commence et se termine l'Amérique septentrionale ?

**R.** Au nord, ses limites sont peu connues. Au sud, elle se termine à l'isthme de Panama qui la joint à la méridionale par le 10°. de latitude N., et les 83°. à 84°. de longitude O.

**D.** Où se termine l'Amérique méridionale ?

**R.** Elle se termine à la Terre de Feu, sur le 56°. de latitude S.

#### *Mers et Golfes de l'Amérique septentrionale.*

**D.** Quelles sont les mers qui baignent l'Amérique septentrionale ?

(1) Les révolutions qui ont eu lieu à Saint-Domingue, et dans les possessions de l'Espagne et du Portugal, n'ayant pas encore été sanctionnées dans leurs résultats, par notre droit public, nous avons cru devoir laisser les choses dans leur ancien état.

*R.* Ces mers sont extérieures ou intérieures. Les mers extérieures sont : l'Océan glacial , au nord ; l'Océan atlantique à l'est, et le grand Océan au sud et à l'ouest.

Les mers intérieures, qui ne sont que de vastes golfes, sont : la mer Polaire entre les 74°. et 76°. de latitude, et entre les 100°. et 120°. de longitude O., reconnue par le capitaine anglais Parri ; la mer ou baie de Baffin, qui s'étend du nord à l'est entre les Terres arctiques et le Groënland, par les 60°. à 77°. de latitude N. ; la baie ou la mer d'Hudson, située, quant à ce que l'on en connaît, entre les 52°. et 65°. de latitude N. ; la mer des Antilles entre les 9°. et 21°. de latitude N., et les 65°. et 91°. de longitude O. ; la mer ou golfe du Mexique, qui s'étend par les 18°. à 30°. de latitude N., et les 83°. à 101°. de longitude O. ; enfin, la mer des Cortez ou Vermeille, grand golfe du grand Océan, située par les 23°. et 32°. de latitude N., et les 110°. à 117°. de longitude O.

*D.* Quels sont les principaux golfes et baies de l'Amérique septentrionale ?

*R.* On y remarque les baies de Répulse, de Wager et de James dans la mer d'Hudson ; la baie de Sandwich à l'est dans l'Océan atlantique ; la grande baie de Jacob, dans le Groënland et sur la mer de Baffin ; le golfe Saint-Laurent, à l'embouchure du fleuve de ce nom, dans l'Océan atlantique ; la baie de Fundi, entre le nouveau

Brunswick et la Nouvelle-Ecosse ; celle de Delaware, à l'embouchure de la rivière de ce nom ; celle de Chésapéack, au sud de cette dernière ; celle d'Apalache, dans la mer du Mexique, à la côte occidentale de la Floride ; les golfes de Honduras et de Blewfield, dans la mer des Antilles, à la côte orientale de la Nouvelle-Espagne ; la baie de Campêche ; et celles de Samana dans l'île de Saint-Domingue.

---

#### LEÇON IV.

*Suite des Golfes et Baies de l'Amérique septentrionale. — Détroits de la même Division.*

**D.** QUELS sont les principaux golfes et baies de la côte O. de l'Amérique septentrionale ?

**R.** On y remarque le golfe de Kamischatzkaia dans la mer de Béring, de Kanaiskaia ou rivière de Cook, et de Tschugatskaia sur le grand Océan, au N. O. ; celui de Georges, vers le 50°. de latitude N. et le 125°. de longitude O. Le port St.-François, les baies de Monterey et de Tous-les-Saints ; le golfe de Tehuantepée au sud de la Nouvelle-Espagne, celui de Fonséca au S. E. de ce dernier, et ceux de Papagayo et de Nicoya.

**D.** Quels sont les principaux détroits de l'Amérique septentrionale ?

**R.** Ces détroits sont : ceux de Lancaster et de Barrow qui communiquent de la mer de Baffin à la mer Polaire ; de Davis entre la côte occidentale du Groënland et la côte orientale de l'Amérique ; de Cumberland entre les terres de Baffin et les îles de la Résolution ; de Frobisher au S. E. , entre ces dernières îles ; d'Hudson , entre ces mêmes îles et le pays des Esquimaux ; de Welcombbe entre le pays de Chesterfield et l'île de Southampton ; de Belle-Ile entre le pays des Esquimaux et l'île de Terre-Neuve ; enfin le détroit des Florides entre la Floride orientale et l'île de Bahama.

---

## LEÇON V.

### *Principales Îles de l'Amérique septentrionale.*

**D.** QUELLES sont les îles les plus remarquables de l'Amérique septentrionale ?

**R.** Du côté de l'E. et en commençant par le nord , on remarque l'île de Disco , située près de la côte O. du Groënland , à l'entrée de la mer de Baffin ; l'île de la Résolution , entre le détroit de Davis et la mer d'Hudson ; l'île de Southampton au nord de cette dernière mer ; de Belle-Ile à l'entrée du détroit de ce nom ; de Terre-Neuve en face du golfe Saint-Laurent.

*D.* Que savez-vous relativement à l'île de Terre-Neuve ?

*R.* Cette grande île fut découverte en 1496 par un Français, nommé Sébastien Cabot. Indépendamment du grand banc qui l'avoisine à l'est et au sud-est, elle a environ cent cinquante lieues de long sur environ quatre-vingt-dix de large. Le climat y est très-rigoureux. Sa population est entre quarante et cinquante mille individus. On y remarque la rivière Blanche qui coule du sud au nord, et le cap Frèele au N. E. elle est traversée au S. O. par de hautes montagnes. Elle appartient aux Anglais. Sa principale ville est Saint-Jean, située sur la côte S. E.

On va pêcher la morue sur le grand banc qui est le vaste plateau d'une montagne sous-marine, depuis le mois de mai jusqu'à la fin de septembre.

*D.* Quelles sont les autres îles à l'est de l'Amérique septentrionale, et sur l'Océan atlantique ?

*R.* Dans le golfe de Saint - Laurent, on remarque celle d'Anticosti qui a environ cinquante lieues de long sur dix de large; celles de Saint-Pierre et de Miquelon au S. de Terre - Neuve, et qui appartiennent à la France; l'île Royale au S. O. de ces dernières, et dont Louisbourg est le chef-lieu; celle de Saint-Jean à l'ouest de l'île Royale, et dont Charles - Town est le principal lieu; l'île de Sables, ainsi nommée des bancs

de sables qui l'environnent, au S. de l'île Royale; celle de Long-Island sur le 41°. de latitude N. et le 75°. de longitude O. ; les Bermudes , groupe nombreux de petites îles : elles sont situées par le 32°. 20'. de latitude N. et le 67°. de longitude O. La plus grande n'a pas plus de quinze lieues de long sur une de large.

*D.* Qu'est-ce que les Lucayes , et quelle en est la position ?

*R.* C'est un groupe très - considérable d'îles , qui s'étend entre les 21°. et 26°. de latitude N. et les 72° et 81°. de longitude O. : les principales sont : Bahama , Abacu , Saint-André , la Providence , Hatéras , Saint-Salvador , Watelin , l'île-Longue , Clooked , Mogane , les Ignames , et les Caïques.

Ces îles, dont la population est peu considérable , appartiennent aux Anglais.

## LEÇON VI.]

*Suite de la précédente.*

### *Les Antilles.*

*D.* QU'EST-CE que les Antilles ?

*R.* Ce sont des groupes d'îles , plus ou moins considérables , situées dans la mer de ce nom.

*D.* Comment les divise-t-on ?

*R.* On les divise en grandes Antilles et en petites Antilles.

*Les Grandes Antilles.*

*D.* Quelle est la situation des grandes Antilles ?

*R.* Elles sont situées par les 18°. et 23°. de latitude N. et les 68°. à 87°. de longitude O.

*D.* Quelles sont les principales de ces îles ?

*R.* Ce sont : Cuba , au S. O. des Lucayes ; la Jamaïque au S. de Cuba ; Saint-Domingue , au S. E. de cette dernière , et au N. E. de la Jamaïque , et Porto-Rico à l'est de Saint-Domingue.

Le Grand-Cayman, au N. O. de la Jamaïque, et Pinos au S. de Cuba sont de moindres îles de ce groupe.

*D.* Entrez dans quelques détails sur l'île de Cuba ?

*R.* Cette île qui appartient à l'Espagne a conservé le nom qu'elle portait , lorsqu'elle fut découverte , en 1492 , par Christophe Colomb. Elle a deux cent trente lieues de longueur , sur une largeur moyenne de quarante.

Elle est traversée de l'est à l'ouest par une chaîne de montagnes. Ses villes principales sont : la Havane , capitale , ville très-commerçante , avec un beau port , au nord ; et San - Yago , au midi. Sa population s'élève à environ trois

cent cinquante mille individus, dont les nègres esclaves composent la majeure partie.

*D.* Que dites-vous de la Jamaïque ?

*R.* Cette île, qui appartient aux Anglais, fut découverte en 1494 par Christophe Colomb. Elle a cinquante lieues de long, sur quinze à dix-huit de large. Une chaîne de montagnes la partage de l'est à l'ouest. Elle a pour capitale Kingston, jolie ville avec un bon port, situé sur un petit golfe au S. O. Sa population, dont la majeure partie se compose de nègres esclaves, s'élève à deux cent quatre-vingt mille individus.

*D.* Entrez dans quelques détails sur l'île de Saint-Domingue ?

*R.* Cette île, nommée Haïti par ses anciens habitans, et Hispaniola par Christophe Colomb, qui la découvrit en 1492, a cent cinquante lieues de long sur soixante de large. Entre le nord et le midi s'élèvent de hautes montagnes qui rendent les communications difficiles entre les territoires qui y sont situés. Au centre, s'élève un groupe de montagnes, nommé Cibao. Elle est divisée en partie française, située à l'ouest, et en partie espagnole, située à l'est : celle-ci est la moins considérable.

Les villes principales de la partie française sont : le cap Français, capitale, située au N. O. avec un bon port ; le Port-au-Prince, ville considérable et beau port, à l'O. ; et les Cayes au S. sur la mer.



La partie espagnole a pour chef-lieu San-Domingo , grande ville dont le port est situé à l'embouchure de la rivière d'Ozanca.

La France perdit cette île en 1792 , par la révolte des nègres esclaves qui , après avoir massacré les blancs , se rendirent indépendans. Elle est gouvernée aujourd'hui par un président, et suivant les formes républicaines.

Au nord-est, est la superbe baie de Samana, et au nord la petite île de la Tortue.

*D.* Que savez-vous touchant Porto-Rico ?

*R.* Cette île , qui appartient à l'Espagne , fut découverte par Christophe Colomb , en 1493. Elle a trente-trois lieues de long sur quinze de large. Elle est fertile et bien cultivée. Saint-Jean, ville , située au nord , dans une presqu'île , en est la capitale. Sa population est de quarante mille individus.

## LEÇON VII.

### *Les petites Antilles ou Iles du Vent.*

*D.* QUELLE est la situation des petites Antilles ?

*R.* Ces îles , qui forment un demi-cercle du nord au sud , sont situées à l'est des grandes Antilles par les 12°. et 19°. de latitude N. , et par les 63°. et 68°. de longitude O.

*D.* Comment divise-t-on ces îles ?

*R.* On les divise en trois groupes , savoir : les îles des Vierges , les îles du Vent et les îles sous le vent. Le premier de ces groupes est au nord , le second au centre , et le troisième au sud , près des côtes de l'Amérique méridionale.

*D.* Quelles sont les plus considérables de ces îles ?

*R.* Ce sont : celles de l'Anégada , de Saint-Barthélemi , de Sainte-Croix , de la Barboude , de Saint-Christophe , d'Antigoa , de la Guadeloupe , de la Dominique , de Sainte-Lucie , de Saint-Vincent , de la Barbade , de la Grenade , de Tabago , de la Marguerite , de la Trinité , d'Orchila , de Curaçao , et de Buen-Aire.

*D.* A qui appartiennent ces îles ?

*R.* Le plus grand nombre appartient aux Anglais ; les autres aux Français , aux Espagnols , aux Hollandais et aux Danois.

*D.* Quelles sont les îles qui appartiennent aux Français ?

*R.* Ce sont : celles de la Martinique et de la Guadeloupe , et quelques autres d'une moindre importance.

*D.* Donnez quelques détails sur la Martinique et la Guadeloupe ?

*R.* La Martinique a vingt lieues de long sur dix de large. Elle est couverte de montagnes escarpées. Elle produit du maïs , du manioc , d'excellens fruits , de bon café , des cannes à sucre ,

du gingembre , du coton et de l'indigo. Port-Royal en est le chef-lieu. Saint - Pierre en est une autre ville très - commerçante. La population est de cent mille individus , blancs ou nègres esclaves.

La Guadeloupe consiste en deux îles , séparées l'une de l'autre par un bras de mer fort étroit. L'une , qui s'appelle Grande-Terre , est longue de quatorze lieues et large de six ; l'autre , nommée la Basse-Terre , a quinze lieues de long sur sept de large. Cette île produit des fruits , des cannes à sucre , du café , du gingembre , du coton et de l'indigo. Basse-Terre , chef-lieu , est une ville bien bâtie , avec un bon port. Pointe-à-Pitre , capitale de la Grande-Terre , est régulièrement bâtie , et possède un port , l'un des meilleurs de l'Amérique. La population de la Guadeloupe est d'environ cent soixante mille individus , blancs , ou nègres esclaves.

*D.* Quel est le gouvernement des colonies françaises de l'Amérique septentrionale ?

*R.* Ces colonies ont été régies jusqu'à ce jour par des lois particulières et des ordonnances du Roi ; mais il est question de leur donner un régime qui s'accorde avec le gouvernement constitutionnel du royaume.

---

 LEÇON VIII.

*Suite des Iles de l'Amérique septentrionale.*

**D.** QUELLES sont les principales îles de l'Amérique septentrionale du côté de l'ouest ?

**R.** Ces îles sont : dans la mer de Béring, celles de Sindow, groupe à l'entrée du détroit du nom de cette mer ; celles de la Transfiguration, de Saint-Georges, de Saint-Paul, et la chaîne des îles Aleutiennes qui séparent la mer de Béring du grand Océan boréal ; et parmi lesquelles on distingue celles d'Amilia, d'Atchka, d'Adakh, de Kanaga, d'Amgatha, et de Kiska : d'autres îles se font remarquer au N. E. de cette chaîne, ce sont : les îles d'Ooneanah, d'Ounalaschka, et d'Omnah.

**D.** Quelles autres îles remarque-t-on après celles que vous venez de nommer ?

**R.** On remarque les îles Kikhtak près et au sud-est du détroit de Kanaiskaia, vers la côte S. de l'Amérique russe ; les îles du roi Georges, de l'Amirauté, du duc d'Yorck, du prince de Galles, de la reine Charlotte, de la Princesse royale, de Fleurieu, de Quadra et Vancouver, situées le long des côtes ouest de l'Amérique, auxquelles Vancouver a donné différens noms, tirés des provinces d'Angleterre.

*D.* Quelles îles distingue-t-on sur les mêmes côtes , en tirant vers le sud-est ?

*R* On distingue les îles Sainte - Catherine , groupe assez considérable ; Guadalupe au sud ; Cédros et Margarita près de la côte de la Vieille-Californie ; les îles Marias , et le groupe de îles Revillagigedo , qui comprend , entre autres celles de Saint-Benedito et de Soccoro , à peu de distance des côtes de la Nouvelle-Espagne.

Au large , on trouve les îles de Santa-Rosa , et de Saint - Thomas sur le 19°. de latitude N. ; Nuéblada et Rocapartida , très - petites îles sur le 18°.

## LEÇON IX.

### *Presqu'îles , Caps et Isthmes de l'Amérique septentrionale.*

*D.* QUELLES sont les presqu'îles de l'Amérique septentrionale ?

*R.* Sur la côte orientale et sur l'Océan atlantique , on remarque celle de la Nouvelle-Ecosse ; celle des Florides entre l'Océan atlantique et le golfe du Mexique ; et entre ce même golfe et la mer des Antilles , celle de Mérida ou d'Yucatan , qui s'étend du S. O. au N. E.

*D.* Quelles sont les principales presqu'îles si-

tuées à la côte ouest de l'Amérique septentrionale ?

*R.* Ces presqu'îles sont : celles d'Aljaka , entre la mer de Béring et le grand Océan ; de la Vieille Californie , entre la mer de Cortez et ce même Océan.

*D.* Quels sont les principaux caps de l'Amérique septentrionale ?

*R.* On remarque , sur la côte orientale du Groënland , les caps Charn et Nord ; sur la côte sud le cap Farewell ; et sur la côte occidentale les caps Dudley-digges, Sckagen et Chidleiss.

Sur la côte orientale de l'Amérique proprement dite , on trouve le cap Résolution , au S.E. de l'île de ce nom ; le cap Chidley , au N. de la terre des Esquimaux ; le cap Charles , à l'E. de cette même terre ; le cap Frèele , au N. E. de l'île de Terre-Neuve ; le cap Breton , dans l'île Royale ; le cap Cod , sur les côtes des Etats-Unis , à l'est de Boston ; les caps Charles , Hattéras , Lookou et Féar sur ces mêmes côtes ; le promontoire des Florides , à l'extrémité S. de cette presqu'île , sur le golfe du Mexique ; le cap Catoche à l'extrémité N. E. de la presqu'île de Mérida ; les caps Saint-Antoine et de Cruz , sur les côtes de l'île de Cuba et de Sainte-Marie , dans l'île de Saint-Domingue.

*D.* Quels sont les principaux caps de la côte ouest de l'Amérique septentrionale ?

*R.* Ces caps sont : sur la côte S. O. de l'Amé-

rique russe, le cap du Parent, et celui de Newenham au S. E. de ce dernier ; tous deux sur la mer de Béring ; le cap Saint-Elie , sur le grand Océan au S. E. du golfe de Tschugatskaia ; les caps Taukoï , Ommancy , Saint-James , Flattery , Blanc et Mendocin sur les côtes de la Nouvelle-Bretagne ; le cap San-Lucar , à l'extrémité S. de la Vieille-Californie , et le cap Corrientes , sur les côtes de la Nouvelle-Espagne.

*D.* Quels sont les isthmes de l'Amérique septentrionale ?

*R.* On distingue celui qui se trouve entre le New-Brunswick et la Nouvelle-Ecosse.

## LEÇON X.

### *Principaux Lacs de l'Amérique septentrionale.*

*D.* QUELLES sont les principaux lacs de l'Amérique septentrionale ?

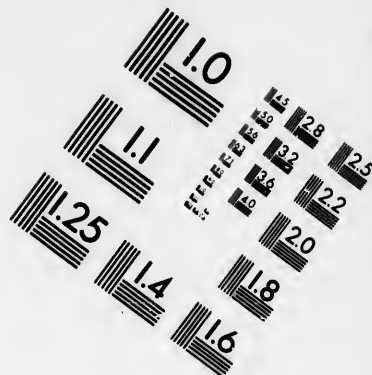
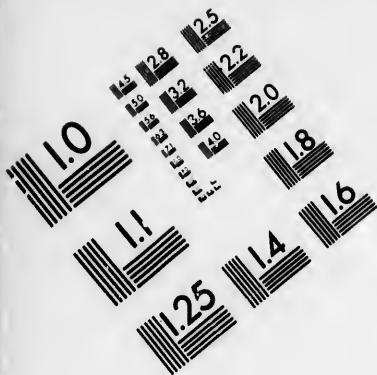
*R.* Sur le haut bassin de la Nouvelle-Bretagne ces lacs sont : Cogéade , Grand-Ours , Doubann , Martin , Esclave , Northlined , des Montagnes , Wollaston , des Rernes , du Genou , du Chat , Winipeg , Winipégous , Mamtoubok , Saint-Joseph , et des Bois.

*D.* Quels lacs remarquez - vous dans le Canada ?

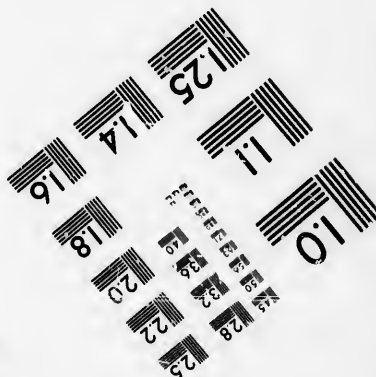



*R.* On y remarque les lacs Mistissini au S.







**IMAGE EVALUATION  
TEST TARGET (MT-3)**



**Photographic  
Sciences  
Corporation**

23 WEST MAIN STREET  
WEBSTER, N.Y. 14580  
(716) 872-4503

1.5 2.8  
2.5 3.2  
3.6 4.0  
4.5 5.0  
5.6 6.3  
7.1 8.0

10  
11  
12  
13  
14  
15

du pays des Esquimaux ; Saint Jean au S. E. de ce dernier ; Pendant-d'Oreille et Arc-Plat, à l'O., l'un et l'autre près la rivière Colombia ; les grands lacs supérieurs, Ontario, Huron, et Erié : ces trois derniers sont partagés entre le Canada et les Etats-Unis.

*D.* Quels lacs remarque-t-on dans les Etats-Unis ?

*R.* On y remarque les lacs Michigan et Champlain.

*D.* Quels sont les lacs de la Nouvelle - Espagne ?

*R.* Ces lacs sont : les lacs Timpanogos, Téguyo, Caïman, Chapata, et Nicaragua.

## LEÇON XI.

### *Montagnes de l'Amérique septentrionale (1).*

*D.* QUELLES chaînes de montagnes remarque-t-on dans l'Amérique septentrionale ?

*R.* On remarque la continuation de la longue chaîne des Cordillères, qui, partant de l'isthme de Panama, suit la direction du N. O. jusqu'au détroit de Béring, depuis le point appelé *Sierra-*

(1) Nous plaçons ici les montagnes avant les rivières, parce que, en nommant celles-ci, nous devons dire dans quelles montagnes elles prennent leurs sources.

*Verde*, situé au centre de cette continuation. Vers le 61°. de latitude N. s'élève, comme un pic isolé, le mont Saint-Elie, près de la mer.

De cette chaîne, par le 42°. de latitude N. et le 112°. de longitude O., paraissent s'en détacher plusieurs autres, dont une court se réunir aux monts Apalaches, et former avec eux le bassin du Mississipi et du Missouri. Une autre chaîne, qui s'en détache, près le lac des Bois, se dirige vers l'est et forme le haut bassin des lacs Supérieur, Michigan, Ontario, etc. D'autres chaînes forment plusieurs bassins, autour des grands lacs, situés au nord.

Au N.-O. de Sierra-Verde s'étendent les montagnes Rocheuses, et au sud les monts Chéqui, Carcay, et de Sierra-Madré.

*D.* Qu'est-ce que les monts Apalaches et quelle est leur direction ?

*R.* C'est une chaîne de montagnes, qui se divise en deux branches, l'une occidentale, qui se nomme monts Alleghanis, et l'autre orientale montagnes Bleues. Cette chaîne s'étend à travers les Etats-Unis du N. E. au S. O.

*D.* Quels bassins sont circonscrits par les montagnes que vous avez nommés ?

*R.* Les bassins des principales rivières, comme ceux du Saint-Laurent et du Mississipi, sont formés au nord par les montagnes du Haut-Canada, les Apalaches, et par une branche des montagnes Rocheuses, qui va au sud des lacs, se réunir

aux Apalaches. Cette branche avec l'occidentale de ces derniers monts forme le bassin du Mississipi.

*D.* Quelle est la hauteur des montagnes de l'Amérique septentrionale ?

*R.* Il s'en faut bien quelles soient aussi élevées que celles de l'Amérique méridionale. La plus haute n'a guère plus de six mille pieds au-dessus du niveau de la mer, si l'on en excepte le mont Saint-Elie.

Quant à ce qui regarde le Groënland, une chaîne de montagnes traverse cette région du nord au sud, jusqu'au cap Farewell.

## LEÇON XII.

### *Principales Rivières de l'Amérique septentrionale.*

*D.* QUELLES sont les principales rivières de l'Amérique septentrionale ?

*R.* Ces rivières sont : celle de Baal, dans le Groënland ; le fleuve Saint-Laurent, la rivière de Saint-Jean, l'Hudson, la Delaware, la Susquéhanah, la Potowmak, la rivière de James, la Staunton, la Santé, la Savannah, l'Alatamaha et une autre rivière de Saint-Jean.

Ces rivières versent leurs eaux dans l'Océan atlantique, excepté celle de Baal qui a son em-

embouchure dans le détroit de Davis, et l'Apalache forme en partie leurs bassins.

*D.* Quelle est la source et quel est le cours du fleuve Saint-Laurent ?

*R.* Ce fleuve, qui ne prend son nom qu'à sa sortie du lac Ontario, coule vers le N. E. à travers le Canada, et va se jeter, après un cours d'environ sept cents lieues, dans le golfe de l'Océan atlantique qui porte son nom. Entre les lacs Erie et Ontario, il forme le fameux saut de Niagara.

*D.* Quelles rivières se jettent dans ce fleuve ?

*R.* La plus grande de celles qu'il reçoit sur sa gauche est l'Ollawa, qui prend sa source dans les montagnes du Haut-Canada, et court de l'O. à l'E. entre le pays des sauvages Algonquins et Iroquois.

*D.* Où les autres rivières prennent-elles leur source, et quel est leur cours ?

*R.* La première rivière de Saint-Jean prend sa source dans les Apalaches, coule du S. O. au N. E. ensuite au S. E., et se jette dans le golfe de Fundi ;

L'Hudson sort des mêmes montagnes, traverse la Nouvelle-York, et a son embouchure dans l'Océan atlantique ;

La Delaware prend sa source dans la Nouvelle-York, court du N. au S., et forme, à son embouchure dans l'Océan, la baie qui porte son nom ;

La Susquéhanah prend sa source dans les montagnes Bleues , passe à Harrisbourg , et se rend au nord dans la baie de Chésapeake ;

La Potowmak sort des mêmes montagnes , court au S. E. , et se jette dans la même baie ;

La rivière de James sort des monts Alléghanis , court de l'O. à l'E. , et se rend au sud dans la même baie ;

La Staunton sort des mêmes montagnes , et après avoir couru de l'O. à l'E. , elle se perd dans la baie d'Albemarle , près du cap Hattéras ;

La Santé prend aussi sa source dans les monts Alléghanis. Elle court au S. E. , sépare les deux Carolines , et va se jeter dans l'Océan atlantique ;

La Savanah sort des mêmes montagnes , court au S. E. , et se jette dans le même Océan , au dessous de la ville de son nom ?

L'Alatamaha prend sa source dans les mêmes montagnes , court au S. E. à travers la Georgie ; et a son embouchure à trente lieues au-dessous de la Savanah ;

La seconde rivière de Saint-Jean prend sa source dans la presqu'île des Florides , court du S. au N. , ensuite à l'E. , et se perd dans l'Océan atlantique sur le 31°. de latitude N.

D. Quelles rivières versent leurs eaux dans les mers intérieures ou dans les lacs de l'Amérique septentrionale ?

**R.** La mer d'Hudson reçoit au S. la rivière de Nelson, et la Severn qui, toutes deux, sortent du lac Winipeg, où se perd la Sashashavon à laquelle donnent naissance les montagnes Rocheuses; et la rivière Rouge qui coule de l'E. à l'O., ensuite au N.

La baie de James reçoit l'Albani qui coule du lac Saint-Joseph, à l'E.; l'Abittibe qui court du S. au N.; l'Haricanow qui court du S. E. au N. O., et la Ruperts qui sort du lac Mistissini, et court de l'E. à l'O.

Le lac des Montagnes, reçoit l'Atapescow ou l'Elan, qui sort des montagnes Rocheuses et court du N. E. au N.

Le lac Esclave reçoit la Péace qui coule des mêmes Montagnes dans la direction de l'O. à l'E. ensuite au N. et au N. E., enfin au N.

Du lac Esclave sort la rivière Mackensie qui, après avoir reçu celle des Montagnes, se rend dans l'Océan glacial, ou peut-être dans un lac, vers le N. O.

### LEÇON XIII.

*Suite de la précédente.*

**D.** QUELLES rivières ont leur embouchure dans la mer du Mexique ?

**R.** Ces rivières sont : le Mississipi ; à la gau-



che de ce fleuve, l'Apachikola, la rivière des Perles, la Mobile, qui reçoit l'Alabama; à la droite du Mississippi, la Sabine, le Texas, le Nuévez, et le Rio-del-Norte, grossi du Puerco, et dont le cours égale presque celui du Mississippi. Ces rivières se dirigent du N. au S.; enfin la rivière de Saint-Louis dont le cours est de l'O. à l'E.

*D.* Quelles rivières ont leur embouchure dans la mer des Antilles?

*R.* Ces rivières sont : les rivières d'Or et d'Escondias, qui sortent des montagnes de la Nouvelle-Espagne. La première court de l'O. au N. E. et la seconde du N. O. au S. E. : celle-ci se perd dans la baie de Blewfield.

*D.* Quelle est la source du Mississippi et quel en est le cours?

*R.* Ce grand fleuve prend sa source vers le petit lac du Cèdre rouge, par le 47°. de latitude N. et le 98°. de longitude O., il court au S. S. E., se dirige ensuite au S., et après avoir traversé la Louisiane, il verse ses eaux dans le golfe du Mexique, par plusieurs bouches, après un cours de plus de six cents lieues.

*D.* Quelles rivières vont se réunir à ce fleuve?

*R.* A sa droite, il reçoit la rivière de Saint-Pierre, le Racoon, le Missouri dont le cours est plus considérable que le sien, et qui se grossit d'un grand nombre d'autres rivières, telles que celles de la Pierre-Jaune, de Quicourre, de Sioux, de la Platte, la rivière Blanche, et

celle des Osages. De plus, le Mississipi reçoit à sa droite l'Arkansas et la rivière Rouge, deux rivières considérables qui sortent de la Sierra-Verde.

A sa gauche, le Mississipi reçoit plusieurs rivières dont les principales sont : l'Oniscousin, la rivière des Illinois, l'Ohio grossi du Sioto, de la Loara ou rivière de Cumberland et du Tennessee. Ces trois dernières sortent des Apalaches et courent à l'ouest.

*D.* Quelles sont les rivières de l'Amérique septentrionale qui versent leurs eaux à l'ouest dans le grand Océan ?

*R.* En allant du N. au S. on trouve la Columbia qui prend sa source dans les montagnes Rocheuses : elle court du S. au N. O., ensuite au S., et du S. à l'O. jusqu'au grand Océan, où elle verse ses eaux après s'être grossie des rivières Clarke, Saint-Louis, et Mult-nomah. A environ deux cent cinquante lieues au S. est la rivière Saint-Félix, qui paraît sortir du lac Téguyo. Plus bas au S. E. est le Colorado qui se jette dans la mer de Cortez, après avoir reçu la Jaquisita et la Gila ; l'Hiaqui qui court du N. au S. O., et se jette dans la même mer ; enfin le Rio-grande, qui sort des montagnes du Mexique, court du S. E. au N. O., et se perd dans un golfe, près du groupe des îles Marias.

## LEÇON XIV.

*Divisions de l'Amérique septentrionale.*

**D.** QUELLES sont les divisions de l'Amérique septentrionale ?

**R.** On la divise en Groënland, en Nouvelle-Ecosse, en Canada, en Nouvelle-Bretagne, en Amérique russe, en Etats-Unis, et en Nouvelle-Espagne.

*Le Groënland.*

**D.** Pourquoi placez-vous le Groënland parmi les divisions de l'Amérique septentrionale ?

**R.** Parce que cette terre est beaucoup plus rapprochée de ce continent que de l'Europe, et qu'il n'est pas encore reconnu qu'il en soit séparé au nord-ouest.

**D.** Quelle est la situation du Groënland ?

**R.** Les limites de cette grande Terre sont inconnues au nord et au nord-est. Au sud-est et au sud, elle est bornée par l'Océan atlantique ; et à l'ouest par la baie de Baffin et le détroit de Davis. Ce que l'on en connaît du nord au sud, s'étend dans une longueur de plus de quatre cent cinquante lieues.

**D.** Par qui le Groënland a-t-il été découvert, et d'où tire-t-il son nom ?

*R.* Il a été découvert par des Norvégiens , qui lui donnèrent son nom , qui signifie *Pays vert* , de la verdure qui en tapissait les côtes.

*D.* Quelle est la population du Groënland ?

*R.* Il est habité sur les côtes par des sauvages grossiers , que l'on nomme Esquimaux , et dont le nombre ne s'élève guère à plus de six mille.

*D.* Quels sont les principaux lieux du Groënland ?

*R.* Ce sont des Factoreries danoises , répandues principalement au S. et sur la côte O. Ces factoreries sont : Lichtenfield et Serraésok au S. ; Frédéric-Shaal , Gothaobé , Musquitto - Cow , Christian - Shaal , sur le détroit de Davis , et Upernawik sur la mer de Baffin.

*D.* Quel est le climat du Groënland ?

*R.* L'été y est très-court , mais très-chaud ; l'hiver y est très-long et rigoureux.

### *La Nouvelle-Écosse.*

*D.* Quelle est la situation de la Nouvelle-Ecosse , et quelles en sont les divisions ?

*R.* Cette province , qui fait aujourd'hui partie des possessions anglaises dans l'Amérique septentrionale , et qui autrefois , appartenait aux Français , sous le nom d'Acadie , est limitée au N. par le fleuve Saint-Laurent , à l'E. par le golfe de ce nom , à l'O. par le Canada et les États-Unis , et au S. par l'Océan atlantique.

On la divise en Nouvelle-Ecosse propre et en Nouveau-Brunswick.

*D.* Quelles sont les principales villes de ces deux divisions, et quelle en est la population ?

*R.* La Nouvelle-Ecosse propre a pour capitale Halifax, qui l'est aussi de toute la province, avec un bon port et une forteresse. Le Nouveau-Brunswick a pour chef-lieu Saint-Jean à l'embouchure de la rivière de ce nom.

La population des deux divisions est d'environ cent cinquante mille individus.

### LEÇON. XV.

*Le Canada avec la Nouvelle-Bretagne.*

*D.* QUELLES sont les limites du Canada ?

*R.* Cette grande région, qui se nommait aussi Nouvelle-France, avant la paix de 1763, époque de la cession que le gouvernement français en fit à l'Angleterre, est bornée au N. par la Nouvelle-Bretagne et le pays des Esquimaux ; à l'ouest par des pays remplis de lacs, peu connus, et habités par des nations sauvages ; à l'est par le fleuve Saint-Laurent, le Nouveau-Brunswick et la Nouvelle-Ecosse, et au sud par les Etats-Unis. On la divise en Haut et en Bas-Canada.

**D.** Quelles sont les principales villes du Canada ?

**R.** Ces villes sont : dans le Haut-Canada , Kingston , située près du lac Ontario ; et York , près du même lac , où siège le gouvernement de cette province ; dans le Bas-Canada , Québec , ville grande , bien bâtie , peuplée , sur le fleuve Saint-Laurent , avec un bon port et une citadelle ; et Montréal , au S. de Québec , dans une île du même fleuve .

**D.** Quelle est la population du Canada ?

**R.** Elle s'élève à environ trois cent mille individus , parmi lesquels il se trouve un nombre considérable de Français , établis sur les bords du fleuve Saint-Laurent , entre Québec et Montréal . Les Algonquins et les Iroquois en sont des peuplades sauvages dont le nombre diminue de jour en jour .

**D.** Quelles sont les productions du Canada ?

**R.** Il produit du maïs , du riz , plusieurs espèces de fruits , beaucoup de melons , du tabac , etc. ; un nombre prodigieux de beaux et grands arbres , parmi lesquels on trouve des cèdres , des mines d'argent , de fer , de plomb , de cuivre , et de charbon ; il nourrit des bœufs , des porcs , des cerfs , des daims , des castors , animaux amphibies , des loups , des ours énormes , des serpents à sonnettes , et une grande quantité d'oiseaux de différentes espèces .

*D.* Quelles sont les limites de la Nouvelle-Bretagne ?

*R.* Cette immense région, qui comprend le pays des Esquimaux, et qui appartient à l'Angleterre, est bornée au N. par la mer Polaire et l'Océan glacial; au sud par le Canada et les Etats-Unis; à l'est par le détroit de Davis et l'Océan atlantique, et à l'ouest par les montagnes Rocheuses, ou même par le grand Océan, en y comprenant la grande lisière qui s'étend depuis les limites de l'Amérique russe jusqu'à la rivière Colombia.

*D.* Quels sont les principaux lieux de la Nouvelle-Bretagne ?

*R.* On n'y trouve qu'un certain nombre de factoreries anglaises, protégées par des forts, tels que ceux de Kurchill et de Severn, sur la mer d'Hudson; de Moos sur la baie de James, et quelques autres sur les côtes du pays des Esquimaux.

*D.* Quelles nations habitent la Nouvelle-Bretagne ?

*R.* Ce sont des peuplades sauvages qui vivent du produit de la chasse et qui vendent leurs pelleteries aux Anglais. Les plus considérables sont: au nord et à l'ouest les Indiens cuivrés, les Indiens querelleurs, les Indiens castors; au sud les Knistinaux et les Assinipoils; à l'est les Esquimaux qui vivent du produit de leur pêche.

## LEÇON XVI.

*Autres Possessions Anglaises dans l'Amérique septentrionale. — Amérique Russe.*

**D.** QUELLES sont les autres possessions anglaises dans l'Amérique septentrionale ?

**R.** Ce sont des îles dans l'Océan atlantique, dans la mer des Antilles et dans le grand Océan.

**D.** Nommez les principales îles de l'Océan atlantique et de la mer des Antilles ?

**R.** Les Anglais possèdent dans l'Océan atlantique, les îles de Terre-Neuve, Royale ou Cap Breton, de Saint-Jean, et les Lucayes ; dans la mer des Antilles, la Jamaïque, les Vierges, l'Anguille, la Barboude, Saint-Christophe, Antigua, la Dominique, la Barbade, la Grenade, Tabago, la Trinité, et plusieurs autres îles, moins considérables.

**D.** Quelles îles les Anglais possèdent-ils dans le grand Océan ?

**R.** Les principales sont : celles du roi Georges, du prince de Galles, de la reine Charlotte, de Quadra et de Vancouver. Cependant ils n'y ont encore établi aucune colonie.



*L'Amérique Russe.*

*D.* Qu'est-ce que l'Amérique russe ?

*R.* C'est cette portion du continent américain, qui s'étend entre les 56°. et 70°. de latitude N. vers le grand Océan boréal, la mer et le détroit de Bering. On y voit le mont Saint-Elie, un des plus élevés de l'Amérique septentrionale. Les îles Aleutiennes en dépendent, ainsi que quelques autres au sud et au S. O. de la presqu'île d'Aljaka. Les côtes et les îles sont habitées par des peuplades grossières et peu nombreuses, dont la figure et les habitudes sont peu différentes de celles des habitans du Kamschatka. Une compagnie de marchands russes s'est chargée du commerce qui ne consiste qu'en pelleteries. On remarque sur la côte du détroit de Bering, Agoumachk et Kiitamit, deux endroits où sont situées leurs factoreries.

## LEÇON XVII.

*Les États-Unis.*

*D.* QU'ENTEND-ON par les États-Unis ?

*R.* On entend par les États-Unis, la confédération qui se forma, vers l'an 1776, entre plusieurs colonies anglaises de l'Amérique septentrionale, dans le dessein de se soustraire à la

domination de la mère-patrie , et dont l'indépendance fut , après une guerre longue et sanglante , reconnue à la paix de 1783.

*D.* Quelle est la situation des Etats-Unis ?

*R.* Ils sont bornés au N. par le Canada , la Nouvelle - Bretagne , et la rivière Colombia ; à l'O. par le grand Océan ; à l'E. par l'Océan atlantique ; au S. par le golfe du Mexique et par le nouveau Mexique. Leur latitude est entre les 25°. et 49°. du N. , et leur longitude entre les 70°. et 125° à l'O. du méridien de Paris.

*D.* Quel est le gouvernement des Etats-Unis ?

*R.* C'est un gouvernement républicain , qui se compose d'un congrès ou corps législatif , formé des députés de ces états , d'un sénat , d'un président et d'un vice-président , élus pour un temps.

*D.* Quelle est la religion des Etats-Unis ?

*R.* Le calvinisme est celle de la majorité de la nation , mais tous les autres cultes y sont permis , et même protégés par les lois.

*D.* Quelle est la langue des Etats-Unis ?

*R.* La langue anglaise y est la plus répandue , et l'on y parle presque toutes les autres langues de l'Europe , entre autres la langue française.

*D.* Faites l'énumération des Etats-Unis ?

*R.* Ces états sont : le Maine , le New-Hampshire , le Vermont , le Massachusetts , le Rhode-Island , le Connecticut , le New-York , le New-Jersey , la Pensylvanie , l'Ohio , l'Indiana , les

Illinois, le Delaware, le Maryland, la Virginie, le Kentuki, le Tennessee, la Caroline du nord, la Caroline du sud, la Georgie, l'Alabama, le Mississipi et la Basse-Louisiane.

Ces états sont divisés en un certain nombre de comtés et de districts.

Les derniers qui ont été reçus dans l'Union sont : l'Ohio, l'Indiana, les Illinois, le Mississipi, la Basse-Louisiane et l'Alabama.

## LEÇON XVIII.

*Suite de la précédente.*

**D.** QUELLES sont les principales villes des Etats-Unis ?

**R.** Le Maine a pour capitale Portland, dans une presqu'île, avec un bon port sur une baie.

Le New-Hampshire a Concorde et Portsmouth sur une rivière.

Le Vermont a Montpellier, près du lac Champlain.

Le Massachusetz a Boston, ville belle, très-peuplée et très-commerçante, avec un bon port sur la baie de son nom.

Le Rhode-Island a Providence, à la tête d'une baie.

Le Connecticut a pour capitale Hartford, sur la rivière de Connecticut, et New-Haven.

Le New-York a pour capitale la ville de ce nom, située à l'embouchure de la rivière d'Hudson : cette ville est très-peuplée et très-commerçante.

*D.* Quelle est la situation des états que vous venez de nommer ?

*R.* Ils sont situés au N. E. et au N. relativement à ceux qui suivent et que l'on peut considérer comme compris dans le centre de l'Union.

*D.* Quelles sont les principaux de ces états du centre ?

*R.* Le New-Jersey a pour capitale Trenton, sur la rive gauche de la Delaware.

La Pensylvanie a Philadelphie, belle ville et la plus peuplée des Etats-Unis, sur la Delaware, et Harrington sur la Susquéhanah.

Le Delaware a Dowres, ville située près de la baie du nom de cette rivière.

L'Ohio a Colombus sur le Soto.

L'Indiana, au S. de celui-ci, a Corydon, et Vevey, établissement Suisse, sur l'Ohio.

L'état des Illinois a pour chef-lieu Kaskaia, sur le Mississippi.

Le Maryland a pour capitale Annapolis, sur la baie de Chésapéak ; et Baltimore, ville peuplée, riche et commerçante, sur le Patapsco. Cet état renferme le petit district de Columbia, où est

située la ville de Washington, capitale des Etats-Unis, sur la Potomack.

La Virginie a pour capitale Richmont, ville opulente et commerçante, sur la rivière Janas; et Norfolk, bon port et chantier de vaisseaux, à l'embouchure de la rivière Elisabeth, dans la baie de Chésapéak.

Le Kentuki, ainsi appelé de la rivière de ce nom, a pour capitale Francfort sur la même rivière.

*D.* Quels sont ceux des Etats-Unis qui sont situés au S. des précédens, et quelles en sont les principales villes ?

*R.* Ces états sont : la Caroline du nord, qui a Raleig, capitale, sur le Roanok; et Fayetteville sur le Clarendon.

La Caroline du sud, dont les principaux lieux sont : Colombia et Charles-Town, avec un bon port sur deux rivières.

Le Tennessee, au N. O. des monts Alleghanis, ainsi nommé d'une grande rivière qui se jette dans l'Ohio, dont la capitale est Nashville, sur la rivière de Cumberland.

La Georgie, qui a Miledgeville sur une branche de l'Alatamaha, et Savanah, près de l'embouchure de la rivière de ce nom.

L'Alabama, état créé en 1819, qui a pour chef-lieu Saint-Etienne.

L'état de Mississipi, qui a pour chef-lieu Monticello sur la rivière des Perles.

La Louisiane , partie méridionale , qui a pour capitale la Nouvelle-Orléans , située sur le Mississipi , à trente lieues de son embouchure dans le golfe du Mexique.

---

## LEÇON XIX.

*Suite de la précédente.*

**D.** LES Etats-Unis ne comprennent-ils pas d'autres territoires ?

**R.** Ils possèdent d'autres pays d'une grande étendue , mais qui ne sont point encore assez peuplés pour envoyer des députés au Congrès et participer à la législation.

**D.** Nommez ces territoires ?

**R.** Ce sont : le Michigan , la Haute-Louisiane ou territoire du Missouri et la Floride.

**D.** Décrivez le Michigan ?

**R.** C'est une contrée qui embrasse toute l'étendue de la péninsule , formée par les lacs Erié , Saint-Clair , Huron et Michigan , et la superficie comprise entre ce dernier , le lac supérieur et le Mississipi. La population civilisée y est encore peu nombreuse , et l'on ne connaît point d'une manière précise celle des nations sauvages , dont les principales sont : les Chipaways et les Sioux. Détroit , située à peu de

distance du lac Saint-Clair , gros bourg , dont la moitié de la population est d'origine française , en est le chef-lieu.

*D.* Donnez quelques détails sur le territoire de la Haute-Louisiane ou du Missouri ?

*R.* Ce territoire s'avance jusques vers le 42° de latitude N. ; il est borné au sud par l'état de la Basse-Louisiane et par la Nouvelle-Espagne ; à l'ouest , par le grand Océan ; à l'est , par le Mississipi. Il renferme aujourd'hui celui d'Arkansas. Il est divisé en six districts. Il renferme la ville de Saint-Louis , située sur la rive occidentale du Mississipi , à quelques lieues au-dessous de l'embouchure du Missouri ; la Nouvelle-Madrid sur le Mississipi , Saint-Charles sur le Missouri , et quelques autres établissemens.

*D.* Que savez-vous touchant la Floride ?

*R.* Cette presqu'île , que le gouvernement espagnol a cédée aux Etats-Unis , est bornée au N. par les états de Georgie et d'Alabama. On la divise en orientale et occidentale. Ses principales villes sont : dans la partie E. , Saint-Augustin , ville forte , avec un port sur l'Océan atlantique ; et dans la partie O. , Pensacola , aussi ville forte , sur une baie de la mer du Mexique.

*D.* Quelle est la population des Etats-Unis et des territoires qu'ils renferment ?

*R.* Elle s'élève à environ dix millions cinq cent mille individus , non compris celle des nations sauvages.

## LEÇON XX.

*Possessions espagnoles dans l'Amérique septentrionale.*

**D.** QUELLES sont les possessions de l'Espagne dans l'Amérique septentrionale?

**R.** Ces possessions consistent dans le Mexique, autrement la Nouvelle-Espagne, vaste région, divisée en plusieurs intendances, sous le gouvernement d'un vice-roi.

**D.** Quelles sont les bornes de la Nouvelle-Espagne?

**R.** Elle est bornée au nord et à l'ouest par la Haute-Louisiane, la mer du Mexique et celle des Antilles; à l'ouest et au sud par le grand Océan. Elle s'étend depuis le 6°. jusqu'au 42°. de latitude nord, et depuis le 83°. jusqu'au 126°. 30'. de longitude ouest.

**D.** Quelles en sont les divisions?

**R.** Elle se divise en vingt et une provinces ou intendances, qui sont: le Nouveau-Mexique, le Texas, Sonora, Urango, Zacatécas, Saint-Louis du Potosi, la Californie, Guadalajara, Valladolid, Mexico, Puebla, Yucatan ou Mérida, Vera-Cruz, Oaxaca, Chiapa, Vera-Paz, Guatimala, Honduras, Nicaragua, Costarica et Veragua.



*D.* Quelles sont les principales villes de ces provinces ?

*R.* Le Nouveau-Mexique , province la plus septentrionale , a pour cap. Santa-Fé , sur la rive gauche du Rio-Norte.

Le Texas a pour ch. l. San Antonio de Béjar , près de la rivière de son nom.

La province de Sonora a pour villes principales , Arispe , Sonora et Sinaloa.

La province de Durango a pour ch. l. la ville de ce nom.

Le Zacatécas a pour ch. l. la ville du même nom.

Saint-Louis de Potosi , province célèbre par ses mines d'or et d'argent , a pour cap. la ville de son nom ; ses autres villes sont : Monterey et Sant-Ander.

La Californie qui se divise en vieille et nouvelle , a San-Carlos de Monterey , et d'autres lieux remarquables comme San-José et San-Diégo.

La province de Guadalaxara , l'une des plus fertiles et des plus riches de la Nouvelle-Espagne , a pour cap. une belle ville de son nom sur le Rio-Grande.

La province de Valladolid a pour cap. Valladolid , ville jolie et commerçante.

La province de Mexico a pour cap. Mexico , qui l'est aussi de toute la Nouvelle-Espagne. Cette ville située au milieu d'un lac , est le centre d'un grand commerce. Elle est peuplée d'en-

viron 150,000 individus. Les autres villes remarquables, sont : Quéretaro, Acapulco, dont le port sur le grand Océan est aussi vaste que commode.

La province de Puebla a pour cap. Puebla de Los-Angelès, ville manufacturière et commerçante.

La province de Vera-Cruz a pour cap. la ville de ce nom, avec un port très-fréquenté sur la mer du Mexique.

L'Oaxaca a pour cap. Oaxaca, sur une rivière qui se jette dans le grand Océan.

Le Chiapa a pour cap. la ville de son nom.

L'Yucatan ou Mérida a pour cap. Mérida ; les autres villes sont : Valladolid, et Campêche, sur la rivière de ce nom.

Verapaz, province qui abonde en fruits et en troupeaux, a pour cap. la ville de son nom.

Guatimala, au sud-ouest de Verapaz, a pour cap. la ville de ce nom, à peu de distance du grand Océan.

La province d'Honduras a pour cap. Truxillo, sur le golfe de son nom.

Nicaragua a pour cap. Léon, ville située à l'extrémité du lac de ce nom.

Costarica a pour ch.-l. Carthago.

Véragua a pour cap. San-Iago.

## LEÇON XXI.

*Suite de la précédente.*

**D.** QUELLES sont les îles de l'Amérique septentrionale qui appartiennent à l'Espagne ?

**R.** Dans la mer des Antilles, ces îles sont : celles de Cuba dont la Havane, avec un beau port, est la capitale ; de Porto-Rico dont Saint-Jean de Porto Rico est le chef-lieu ; dans le grand Océan celles de Guadalupe, de Cédros, Margarita, Marias, San-Beneditto, Soccoro et Quibo.

**D.** Quelle est la population de la Nouvelle-Espagne ?

**R.** On la porte à plus de sept millions d'individus, indigènes, espagnols blancs, créoles, métis et nègres esclaves.

**D.** Quel est le caractère de ces peuples ?

**R.** Les indigènes ou descendants des anciens Mexicains, sont lents, assez doux, industriels, patients, désintéressés, mais adonnés aux liqueurs fortes. Les Espagnols blancs ont à-peu-près le même caractère que ceux de l'Europe.

**D.** Quelle est la langue de la Nouvelle-Espagne ?

**R.** L'espagnole et la mexicaine y sont les plus répandues.

*D.* Quel est le gouvernement de ces pays?

*R.* Le gouvernement est entre les mains d'un vice-roi qui, aujourd'hui, est obligé de conformer son administration aux nouvelles lois de la monarchie espagnole en Europe.

*D.* Quelle est la religion de la Nouvelle-Espagne?

*R.* La religion catholique y domine; mais l'idolâtrie est celle de plusieurs nations sauvages établies au nord et à l'est.

*D.* Par qui le Mexique a-t-il été découvert?

*R.* Il fut découvert en 1522, par Fernand Cortez, qui, quelque temps, après en fit la conquête.

---

## LEÇON XXII.

### *Amérique méridionale.*

*Situation. — Mers. — Golfses, Baies et Détroits de cette partie de l'Amérique.*

*D.* QUELLE est la situation de l'Amérique méridionale?

*R.* Elle est séparée de la septentrionale par l'isthme de Panama, vers le 10°. de latitude N.; elle s'étend jusqu'au 56°. de latitude S., et du 37°. au 84°. de longitude O. Ainsi elle a plus

de seize cent cinquante lieues de longueur, sur plus de mille dans sa plus grande largeur.

*D.* Quelles sont les mers extérieures et intérieures de cette division ?

*R.* Les mers extérieures sont : à l'est l'Océan atlantique ; à l'ouest et au sud le grand Océan. Au nord ses côtes sont baignées par la mer du Mexique et la mer des Antilles.

*D.* Quels sont les principaux golfes de l'Amérique méridionale dans la mer des Antilles ?

*R.* On y distingue les golfes Paria à l'ouest de l'île de la Trinité, Triste à la côte de Caracas, de Maracaïbo, de Darien, et celui de Mandinga au nord-est de l'isthme de Panama.

*D.* Quels sont les golfes et baies sur l'Océan atlantique ?

*R.* En allant du nord au sud, on trouve successivement le golfe de Bahia, ou baie de Tousles-Saints, sur la côte du Brésil ; la baie de Rio-Janéiro, sur la même côte : sur la côte de Patagonie, les baies de l'Assomption et de Tousles-Saints ; les golfes Saint-Mathias, Vera, Saint-Georges ; et les ports Désiré et Saint-Julien.

*D.* Quels sont les principaux golfes et baies de l'Amérique méridionale dans le grand Océan.

*R.* En allant du nord au sud, on trouve le grand golfe de Panama, au sud de l'isthme de ce nom ; la baie de Choco, le golfe de Guayaquil sur la côte de la province de Quito ; les baies

Maxillonès et Playa Brava, l'une en-deçà, l'autre au delà du Tropique du Capricorne; celle de Coquimbo sur la côte de l'ancien Chili, et le golfe de Pénas, au sud est de la presqu'île des Trois-Montagnes.

*D.* Quels sont les principaux détroits de la même Amérique?

*R.* Ces détroits sont : ceux de Magellan et de le Maire, dans l'Océan atlantique. Le premier, qui fut découvert en 1520 par le navigateur espagnol qui lui a donné son nom, sépare l'extrémité sud de l'Amérique méridionale de la Terre de Feu, et communique de l'Océan atlantique au grand Océan. Le second, découvert en 1615 par le Maire, navigateur hollandais, dont il a pris le nom, est situé à l'est de la Terre de Feu qu'il sépare de l'île des Etats.

*D.* Les côtes ouest de l'Amérique méridionale offrent-elles quelques détroits?

*R.* On n'y trouve que des passages assez étroits entre les îles et les côtes qu'elles avoisinent.

## LEÇON XXIII.

### *Iles de l'Amérique méridionale.*

*D.* QUELLES sont les principales îles de l'Amérique méridionale, situées dans l'Océan atlantique?

*R.* Ces îles sont : celle de Cayenne, située près de la côte de la Guyane française et à l'embouchure de la rivière de son nom, avec un bon port et une citadelle ; celle de Joannès, formée par les bouches de la rivière des Amazones, l'Océan, et le contour de quelques autres rivières ; celles des Abrolhos, groupe situé à l'est et à peu de distance des côtes du Brésil ; de Giéga à l'entrée du golfe et au sud-ouest de Rio-Janéiro ; de Saint-Sébastien au sud-ouest de celle-ci ; de Caxoens à l'entrée d'une baie, et celle de Sainte-Catherine, sur la côte du Brésil.

*D.* Quelles îles remarquez-vous au sud de la Terre-Ferme de l'Amérique méridionale ?

*R.* Les principales sont : la Terre de Feu, située par les 53°. et 56°. de latitude S. et entre les 67°. et 77°. de longitude O. ; l'île des Etats à l'est de la précédente, l'île de l'Hermite au sud de la Terre de Feu, et le groupe des îles Ramirez au sud-ouest du cap de Horn.

*D.* Quelles sont les îles de l'Amérique méridionale situées au large dans l'Océan atlantique ?

*R.* En allant du N. au S. ce sont : l'île Grande, selon Dalrimphe, située sur le 45°. de latit. S., et vers le 54°. de long. O. ; les îles Malouines, à l'est des terres Magellaniques, entre les 52°. et 53°. de lat. S., et entre les 60°. et 64°. de long. O. : on en compte deux principales, séparées par un petit détroit, l'une orientale et l'autre

occidentale. Elles appartenait autrefois à la France ; elles ont ensuite appartenu aux Anglais , qui leur ont donné le nom d'îles Fakland : Aujourd'hui les Espagnols en sont les maîtres.

Au loin , au S. E. des îles Malouines , et à l'E. de celle des États , est située la Nouvelle-Georgie , ou Terre de la Roche , entre le 54°. et le 55°. de latitude S. , et sur le 45°. de longitude O. Cette Terre , qui est considérable , est inhabitée , et l'on n'y trouve que des montagnes gelées , avec des vallées dépourvues d'arbres et d'arbustes ; enfin la Terre de Sandwich , entre le 58°. et le 60°. de latitude S. , et sur le 30°. de longitude O.

*D.* Quelles sont les principales îles de l'Amérique méridionale situées dans le grand Océan ?

*R.* Ce sont : les îles de Gallégo et de Gallapagos ; la première près de la ligne et la seconde sur la ligne même , depuis le 94°. jusqu'au 104°. de longitude O. ; au large celles de Saint-Félix , sur le 26°. de latitude S. , et de Juan Fernandez , sur le 34°. ; celles de Santa-Maria et de la Mocha , près de la côte du Chili ; la grande île de Chiloé , qui s'étend le long de la même côte , depuis le 42°. de latitude S. jusque sur le 44°. , et renferme les lieux et ports de San-Carlos au N. et de Castro à l'O.

En allant toujours au S. , le long des côtes du Chili , jusqu'auprès du 52°. de latitude , on trouve successivement l'île d'Huaso , l'archipel



de Los-Chonos, les îles de Campana, de la Mère de Dieu et de Roca Partida.

## LEÇON XXIV.

*Caps, Presqu'îles, Isthmes et Lacs de l'Amérique méridionale.*

**D.** QUELS sont les principaux Caps de l'Amérique méridionale ?

**R.** Ces caps sont : les caps Véla et Codéra, sur la mer des Antilles ; Saint-Roch, à la côte N. E. de la province brésilienne de Fernambouc ; Saint-Augustin, sur la côte S. E. ; les caps Buxio et Crio, près de Rio-Janciro ; de Sainte-Marie et de Saint Antoine, l'un au N. et l'autre au S. de l'embouchure de la Plata ; au S. O. de ce dernier, le cap Corrientès ; le cap Bahias, sur la côte des Patagons, au N. du golfe Saint-Georges ; le cap Blanc, au S. du même nom ; celui des Vierges, à l'entrée du détroit de Magellan ; le cap Froward, sur le même détroit ; enfin, le fameux cap de Horn, au S. de la Terre de Feu, que doublent les navigateurs qui veulent passer de l'Océan atlantique dans le grand Océan.

Tous ces caps, depuis celui de Saint-Roch inclusivement, sont situés sur l'Océan atlantique.

*D.* Quels sont les caps de l'Amérique méridionale situés sur le grand Océan?

*R.* Ces caps sont : les caps Corrientès, San-Francisco, San - Lorenzo, Jorgo, San Iago, de la Victoire, Pilarès et Gloucester : les deux derniers sont sur les côtes de la Terre-de Feu.

*D.* Quelles sont les principales presqu'îles de l'Amérique méridionale ?

*R.* On remarque sur la mer des Antilles celle de Paraguana ; celle de Saint Joseph, sur l'Océan atlantique ; et celle des Trois Montagnes, sur le grand Océan et sur les côtes du Nouveau-Chili.

*D.* Quels sont les principaux isthmes de la même Amérique ?

*R.* Ces isthmes sont : celui de Panama, que l'on peut attribuer aussi à la partie septentrionale ; celui qui joint la presqu'île de Paraguana à la Terre Ferme ; et celui d'Ofui, qui joint la presqu'île des Trois Montagnes au Nouveau-Chili.

*D.* Quels sont les principaux lacs de l'Amérique méridionale ?

*R.* Ces lacs sont : ceux de Maracaïbo et de Zapatosa, dans la capitainerie de Caracas ; le premier est considérable ; ceux de Los-Patos et de Mimi, sur la côte S. E. du Brésil ; celui de Loricocha, d'où sort le Maranon ; ceux de Cajubabas, de Roguaguado et de Titicaca, dans le Pérou ; le lac Xarayès, au Paraguay ; celui

d'Ybéra, dans la province de Buénos-Ayres ; ceux d'Andalga, Grandé, Nahuel-Huapi, dans le Tucuman, et celui de Coluguapé, dans la Patagonie.

---

## LEÇON XXV.

### *Montagnes de l'Amérique méridionale,*

*D.* QUELLES sont les grandes chaînes de montagnes dans l'Amérique méridionale ?

*R.* On y remarque d'abord celle des Cordilières, qui se prolonge depuis le détroit de Magellan jusqu'à l'isthme de Panama ; cette chaîne a plusieurs branches.

*D.* Quelle est la direction de ces branches ?

*R.* Depuis le Popayan une de ces branches se dirige dans le N. E. et forme avec les monts Ibirinoc, le bassin de l'Orénoque.

Une autre branche se dirige au N. O. vers Panama et forme avec la précédente le bassin de la rivière Magdeleine et affluens.

*D.* Que savez-vous encore touchant les Cordilières ?

*R.* Ces montagnes sont les plus élevées du globe, particulièrement celles qui sont situées entre l'équateur et le tropique du Capricorne. Le Chimborazo, qui en est la plus haute, a plus de dix-neuf mille pieds d'élévation au-dessus

du niveau de l'Océan; une neige éternelle en couvre le sommet. Les autres montagnes les plus élevées sont : le Cayambé, l'Antizana, le Coto-paxi, volcan redoutable; le Tunguragua, le Pichincha, volcan; l'Autel et le Sangay. Ces montagnes recèlent d'abondantes mines d'or, d'argent et d'autres métaux.

*D.* Qu'est-ce que le Matto-grosso ?

*R.* C'est un vaste plateau qui se prolonge dans le N. E. par la Sierra-Secada, la Sierra - Santa-Martha et la Sierra de Pauhi. Ces deux dernières branches s'étendent à l'O. du Rio-San-Francisco. Une autre chaîne, courant d'abord au S. E., va ensuite se réunir à la Mangvira, à l'E. du Rio-San-Francisco dont elle concourt à former le bassin.

Une autre branche court dans le S. O. le long de la mer, et concourt avec la Cordillère des Andes à former le bassin de la Plata.

## LEÇON XXVI.

### *Principaux Fleuves ou Rivières de l'Amérique méridionale.*

*D.* Quels sont les fleuves ou rivières de l'Amérique méridionale qui versent leurs eaux dans la mer des Antilles et dans l'Océan atlantique ?

*R.* Ce sont, en commençant par le nord :

l'Atrato et la Magdeleine, unie à la Cauca, qui se jettent dans la mer des Antilles; au nord-est l'Orénoque, l'Essquiibo, le Surinam, le Maroni, le Sinamari, l'Oyapok, qui ont leur embouchure dans l'Océan atlantique; sur la côte S. E. le fleuve des Amazones, le Para, le Maranham, le Parnayba, le Rio-Jaquaribe, le Rio-Grande, le Parayba, le Rio-San-Francisco, le Rio dos-Itheos, un autre Rio-Grande, la Dore; au sud-ouest le Rio-de-la-Plata, le Saladillo, le Colorado, le Sanguel, Los Maronès et le Tabajos.

*D.* Quelles rivières de l'Amérique méridionale versent leurs eaux dans le grand Océan.

*R.* Les plus remarquables sont: celles de Saint-Jean de Barba-Coa et de Ruéna.

*D.* Quelles sont les plus considérables entre les rivières que vous venez de nommer?

*R.* Les plus considérables sont: la Magdeleine, l'Orénoque, l'Essquiibo, les Amazones, le Para, le Rio-San-Francisco et le Rio-de-la-Plata.

*D.* Quelle est la source et quel est le cours de l'Orénoque?

*R.* On prétend qu'il sort des monts Ibírinoc, dans la Guyane espagnole. Il coule d'abord de l'ouest à l'est, ensuite du nord au sud, au nord-ouest, et du sud au nord jusqu'au confluent de l'Apure; là il court de l'ouest à l'est jusqu'à l'Océan atlantique, où il se décharge par plu-

sieurs bouches, après un cours extrêmement sinueux de plus de quatre cent cinquante lieues.

*D* Quelles rivières ce fleuve reçoit-il dans son cours ?

*R.* Il reçoit un grand nombre de rivières dont les plus considérables de celles qui s'y jettent à droite, sont : le Ventuario, la Coura et le Caroni grossi de la Paragua; et de celles qui s'y jettent à gauche, sont : le Casiquiare qui communique par le Rio Negro avec les Amazones; le Guaviare, rivière considérable qui coule du sud-ouest au nord-est, la Méta et l'Apure. Les trois dernières prennent leur source dans la Cordillère du nord-est.

*D.* Quelle est la source et quel est le cours de l'Essquibo, et quelle rivière reçoit-il ?

*R.* Ce fleuve prend sa source au sud-ouest de la Guyane hollandaise. Son cours qui est du sud-est au nord-est, est d'environ cent cinquante lieues. Sur sa gauche, il reçoit le Gayani.

## LEÇON XXVII.

*Suite de la précédente.*

*D.* QUELLE est la source et quel est le cours de la rivière des Amazones ?

*R.* Ce grand fleuve qui tire son nom des femmes guerrières qui, autrefois, habitaient sur ses

bords , prend sa source dans le lac Loricocha , au pied de la grande Cordillère des Andes. Il coule d'abord du sud au nord ouest , ensuite au nord est , et à l'est sous le nom de Marañon , jusqu'au pays des Amazones qu'il traverse , et dont il prend le nom. Il verse ses eaux dans l'Océan atlantique par une large embouchure , et après un cours de plus de mille lieues.

*D.* Quelles rivières se jettent à droite dans celle des Amazones ?

*R.* Les principales sont : l'Huallaya , le Paro ou Béni , grossi de l'Apurimac , le Jutay , l'Iacua , la Tête , la Parana ou Madéra , grossie du Rio-Branco , de la Guapare et de la Mamore ; le Rio-Tapajos , le Changa ou Xingu , dont le cours du sud au nord est d'environ quatre cents lieues.

*D.* Quelles rivières se jettent à gauche dans le même fleuve ?

*R.* Ces rivières sont en grand nombre. Les plus considérables sont : celles de la Postaca , des Tigres , de Napo , de Putumayo , de la Caqueta ou Japura , grossie de l'Apapuris , du Rio-Uaupes ; le Rio - Negro , grossi de plusieurs rivières , telles que le Rio-Blanco , uni au Rio-Mao , et dont le cours est d'environ trois cents lieues ; l'Unatuma , la Gurupatuba , enfin le Rio-Paru.

*D.* Quelle est la source et quel est le cours de la Para ?

*R.* Cette rivière qui se jette dans l'Océan atlantique

tique , au sud-est de celle des Amazones , ne prend son nom qu'à l'embouchure de la grande rivière des Tocantins. Celle-ci prend sa source dans le Matto-Grosso , et se grossit à gauche des eaux de l'Araguay.

*D.* Que dites-vous du Rio-San-Francisco ?

*R.* Ce fleuve prend sa source dans une chaîne du Matto-Grosso. Il coule d'abord au nord , se détourne ensuite au nord-est , et se décharge au sud-est , vers le 11°. de latitude S.

*D.* Quelle est la source et quel est le cours du Rio-la Plata ?

*R.* Ce fleuve qui ne prend son nom qu'à son embouchure , est formé des eaux du Paraguay , et de plusieurs autres rivières.

*D.* Quelle est la source du Paraguay et quelles rivières reçoit-il ?

*R.* Ce fleuve prend sa source dans le Matto-Grosso , et court au sud. A sa droite il reçoit le Pisco-Mayo , la Tarija et la Tessera ; à sa gauche la Guyaba , le Porudon , le Taguari , la Parana , grossie de la Parnaiba , de la Tiète , du Pijabo , de l'Ignaeu ; et l'Uruguay , qui y verse ses eaux presque vis-à-vis Buénos-Ayres.



---

**LEÇON XXVIII.***Etats renfermés dans l'Amérique méridionale.*

*D.* QUELS états renferme l'Amérique méridionale ?

*R.* Elle renferme les possessions espagnoles, la Guyane, partagée entre plusieurs puissances de l'Europe, et le royaume du Brésil.

*Possessions espagnoles (1).*

*D.* Quelles sont les possessions de l'Espagne dans l'Amérique méridionale ?

*R.* Ces possessions comprennent le royaume de la Nouvelle-Grenade, le Caracas, le Pérou, la Plata et le Chili.

*D.* Quelle est la situation de la Nouvelle-Grenade ?

*R.* Elle est bornée au N. par la mer des Antilles, à l'O. par le grand Océan, au S. par le Pérou et le Brésil, à l'E. par le Caracas et le

---

(1) Nous répétons ici ce que nous avons déjà dit dans une note précédente, savoir, que n'ayant égard qu'aux traités qui subsistent, nous continuons de regarder les provinces espagnoles de l'Amérique méridionale, comme soumises à l'autorité de la mère-patrie.

**Brésil.** L'isthme de Panama la joint au N. O. à la Nouvelle-Espagne.

*D.* Quelles sont les principales villes de la Nouvelle-Grenade ?

*R.* Ces villes, qui presque toutes sont les capitales et portent le nom d'intendances ou de gouvernemens particuliers, qui forment les divisions de ce royaume, sont: Santa-Fé de Bogota, résidence du vice-roi, près de la rivière Paliti ;

Santa - Martha et Carthagène, sur la mer des Antilles ;

Panama dans l'isthme, et port de mer sur la baie de son nom ;

Santa-Fé d'Antiochia près de la Cauca ;

San-Fernando, sur l'Apure ;

Maypures, sur la rive gauche de l'Orénoque ;

Saint-Jean de Los-Uanos ;

Popayan aux sources de la Cauca ;

Pasto sur les Cordilières ;

Barbacoas sur le Télémbi ;

Quito sur le mont Pichincha, à neuf mille pieds environ au-dessus du niveau de la mer, sur la rive gauche de la Guailabamba, et à sept lieues au N. du Chimborazo ;

Esméraldas sur la rivière de ce nom ;

Guayaquil, au confluent de la Daule, dans la baie de Guayaquil ;

Et Saint-Jean de Bracomoros, à peu de distance de la rive gauche du Maranon.

*D.* Quelles sont les autres villes remarquables de la Nouvelle-Grenade ?

*R.* Ces villes sont: Porto-Bello sur la mer des Antilles; Zitara sur l'Atrato et dans le Darien; San-Gil dans la province de Santa-Fé, et Caguan entre le Guaviare et l'Uaupes.

## LEÇON XXIX.

*Suite de la précédente.*

### *Le Caracas.*

*D.* QUELLE est la situation du Caracas ?

*R.* Cette grande province, qui a le titre de capitainerie, est bornée au N. par la mer des Antilles; à l'E. par les bouches de l'Orénoque et la Guyane anglaise; à l'O. par la Nouvelle-Grenade, et au S. par le Brésil.

*D.* Quelles en sont les principales villes ?

*R.* Ces villes, qui sont les capitales d'autant d'intendances ou gouvernemens de leurs noms, sont: Caracas, grande, belle, et très-peuplée avant le tremblement de terre qui la renversa en 1812. Son port, situé sur la mer des Antilles, se nomme Guayra. Elle est la capitale de la capitainerie et celle du Vénézuéla;

Maracaïbo sur le détroit qui communique du lac au golfe du même nom;

Varinas sur le San-Domingo ;  
 Barcelona et Cumana à l'embouchure du Man-  
 ganarez dans le golfe de ce nom ;

Et Mérida sur la Chanca.

*D.* Quelles sont les autres villes les plus re-  
 marquables de la capitainerie de Caracas ?

*R.* Ces villes sont : San-Thomé, capitale de  
 la Guyane espagnole, belle et commerçante sur  
 la rive droite de l'Orénoque ;

Caroni sur la rive droite de la rivière de son  
 nom ;

San-Fernando-de-Atabapo au confluent du  
 Rio-Guaviare, dans l'Orénoque ;

San-Carlos, sur le Rio-Negro près du con-  
 fluent du Casiguiare ;

Esméraldo sur l'Orénoque ;

San-Faustino sur la Sulia, etc.

### LEÇON XXX.

*Suite des deux précédentes.*

#### *Le Pérou.*

*D.* QUELLE est la situation du Pérou ?

*R.* Cette vaste région est bornée au N. par le  
 fleuve Marañon, à l'O. par le grand Océan, au

S. par le gouvernement de la Plata, et à l'E. par le Brésil.

*D.* Quelles sont les principales villes du Pérou ?

*R.* Ces villes sont : Lima, grande et belle, capitale de tout le Pérou, sur le Rimac, avec un port sur le grand Océan, nommé Callao, qui en est peu éloigné ;

Truxillo, ville peuplée, près de la mer ;

Piura, Sana, Santa, Canète, Ica, Camana, le long des côtes ;

Caxamarca, située au pied oriental de la Cordillère ;

Chachapoyas, Caxamarchilla, entre le Marañon et l'Huallaga ;

Cusco, ville grande, belle et industrielle, où l'on voit des vestiges de l'ancienne capitale du Pérou, sous les Incas, près d'une rivière, qui, jointe à une autre, se jette dans l'Apurimac ;

Aréquipa au S. O. de Cusco, dont elle est éloignée de plus de cent lieues.

Ces villes sont les capitales d'autant d'intendances de leurs noms.

*D.* Quelles sont les autres villes les plus remarquables du Pérou ?

*R.* Ces villes sont : Payata, Tarma, Jauja dans la vallée de son nom, laquelle est le canton le plus peuplé du Pérou ;

Guama-Bellica au S. de Jauja ;

Ilo, près de la mer ; et Arica , ancien port très-fréquenté sur le grand Océan : dans les environs de cette ville sont des vignobles qui produisent un excellent vin.

---

## LEÇON XXXI.

*La Plata.*

*D.* QUELLE est la situation de la Plata ?

*R.* Ce grand gouvernement qui , ainsi que le Pérou , est entre les mains d'un vice-roi , est borné au N. par le Pérou ; à l'O. par le grand Océan et le Chili ; au S. par la Patagonie , et à l'E. par le Brésil et l'Océan atlantique.

*D.* Quelles provinces renferme le gouvernement de la Plata ?

*R.* Il renferme la Plata propre , le Tucuman , le Paraguay , et la province de Buénos-Ayres.

*D.* Quelles sont les principales villes de la Plata propre ?

*R.* Ces villes sont : la Plata , sur une rivière qui se jette dans le Pilco-Mayo , et dans les environs de laquelle on exploite des mines d'argent ;

La Paz , près la rivière Béni , au S. E. et à quinze lieues du lac Titicaca ;

Potosi, près d'une montagne qui renferme d'abondantes mines d'argent ;

Chycuyto, à l'O. et près du lac Titicaca ;

Tarija sur la rivière de son nom ;

Santa-Cruz de la Sierra, à peu de distance de la Mamore ;

Talavéra de Puna, au N. et près des sources du Pilcomayo ;

Jujuy sur la rivière de son nom ; et San-Miguel sur la Dulce, etc.

*D.* Quelles sont les principales villes du Tucuman ?

*R.* Ces villes sont : San-Phélip de Salta, sur une rivière qui se jette dans la Tarija ; San Yago-de-Estero ; Cordoue sur la rivière Segundo ; Saint-Jean de la Cordillère ; San-Miguel du Tucuman sur la Dulce.

*D.* Quelles sont les principales villes du Paraguay et du Buénos-Ayres ?

*R.* Ces villes sont : l'Assomption sur la rive droite du Paraguay ; Montevideo, place forte, à l'embouchure du Rio de la Plata ; et Buénos-Ayres, capitale de tout le gouvernement, sur la rive droite et à environ soixante lieues de l'embouchure de la même rivière.

## LEÇON XXXII.

*Le Chili.*

*D.* Quelles sont la situation et l'étendue du Chili, et comment le divise-t-on ?

*R.* Cette région, qui est traversée du N. au S. par la grande chaîne des Cordilières, est bornée au N. et à l'E. par le gouvernement de la Plata ; à l'O. par le grand Océan ; au S. par le détroit de Magellan, et à l'E. par la Patagonie. On la divise en ancien Chili, et en nouveau Chili.

*D.* De quelles provinces se compose l'ancien Chili, et quelles en sont les principales villes ?

*R.* Il renferme celles de S. Yago, de la Conception, de Valdivia, et l'île de Chiloé.

S. Yago a pour capitale la ville de ce nom, qui l'est aussi de tout le Chili ; les autres villes sont : Valparaiso, avec un port très-fréquenté sur le grand Océan ; Mendoza, sur la pente orientale des Andes ; et Coquimbo, à l'embouchure d'une petite rivière dans le grand Océan. Il y a dans ses environs d'abondantes mines de cuivre.

La Conception a pour capitale la ville de ce nom, avec un bon port, sur le grand Océan.

Valdivia a pour capitale la ville de ce nom, avec un port à l'embouchure de la Valdivia ;



L'île de Chiloé, la principale d'un groupe, a pour capitale S. Yago de Castro; et un bon port, nommé S. Carlos au N. O. de Castro. Cette île fait avec le Pérou un commerce assez considérable.

*D.* Qu'est-ce que le nouveau *S. O.*, et quels en sont les principaux endroits.

*R.* Cette région renferme l'étendue de côtes, comprise entre le 41°. de latitude et le détroit de Magellan. Les habitans, qui sont des sauvages errans, sont à peu près indépendans des Espagnols, dont quelques familles habitent parmi eux. Les îles de Campana, de la Mère de Dieu et de Rocapartida, qui avoisinent ces côtes ne sont utiles qu'aux navigateurs qui y trouvent quelques points de relâche.

### LEÇON XXXIII.

*Suite des précédentes.*

*D.* QUELLES sont les productions des provinces espagnoles de l'Amérique méridionale ?

*R.* Elles produisent toutes sortes de grains, d'excellens fruits, et un grand nombre de bestiaux; mais la principale source de leurs richesses consiste dans des mines nombreuses et inépuisables d'or et d'argent, que renferment leurs montagnes, entre autres celles de Gual-gayos et

de Loricocha, l'une dans l'intendance de Truxillo, et l'autre dans le Popayan.

*D.* Quelle est la population des provinces espagnoles dans l'Amérique méridionale ?

*R.* On peut l'évaluer, au plus, à six millions d'individus, indigènes, espagnols, blancs et créoles. On ne connaît que très-imparfaitement le nombre des sauvages qui habitent l'intérieur et le Chili.

*D.* Quel est le gouvernement de ces provinces ?

*R.* Elles sont gouvernées par des vice-rois dont dépendent des gouverneurs particuliers. Il y a trois vice-royautés, qui sont : la Nouvelle-Grenade, le Pérou et La Plata, de laquelle dépend le Chili ; et une capitainerie qui est celle de Caracas.

*D.* Quelle est la religion de ces provinces ?

*R.* La religion catholique est la seule dominante parmi les habitans civilisés. L'idolâtrie est celle des nations sauvages qui en habitent quelques parties. Cependant quelques-unes de ces nations qui habitent les bords du Paraguay et de l'Uragay, tout en menant un genre de vie peu conforme à la civilisation, professent les principes du christianisme que les missionnaires leur ont enseignés.

*D.* L'Amérique espagnole n'est-elle pas désolée depuis quelques années par la guerre.

*R.* Depuis 1809, les Espagnols indigènes y

ont pris les armes contre le gouvernement de la mère-patrie, dans le dessein de s'en rendre indépendans. Ils ont envahi à l'est la province de Buénos Ayres, le Chili au sud; et au nord, Ils ont fait de la capitainerie de Caracas le théâtre d'un grand nombre de combats sanglans.

### LEÇON XXXIV.

#### *La Guyane.*

*D.* QUELLE est la situation de la Guyane?

*R.* Cette région qui a trois cents lieues de longueur et deux cents de largeur, est bornée au nord et à l'est par l'Océan atlantique, à l'ouest par la Nouvelle-Grenade, au sud par la rivière Para et par l'embouchure de l'Amazone: elle s'étend du 8°. de latitude N., au 3°. de latitude S. et du 52°. 30'. au 70°. de longitude O.

*D.* Quel est le climat de la Guyane?

*R.* Il est excessivement chaud, et en plusieurs endroits très-malsain, par les marais qui s'y trouvent.

*D.* Quelles en sont les principales rivières?

*R.* Ces rivières sont: celles d'Essquibo, de Surinam, de Maroni, de Sinamary et d'Oyapok.

*D.* Quelles sont les productions de la Guyane?

*R.* Elle produit des grains, d'excellens pâturages, du café, des cannes à sucre, du cacao,

de l'indigo, du coton, du riz, du tabac, de la vanille, de l'ipécacuana, du cachou, de la canelle, du girofle, du vin, des figues, des grenades, etc. Ses forêts renferment des bois propres à la construction des vaisseaux, et un grand nombre d'arbres précieux, tels que celui qui donne le baume de copahu, et celui qui produit la gomme élastique.

Parmi les nombreux animaux de la Guyane, on distingue de grands cerfs, des singes de toutes formes et de toutes grandeurs, de gros serpens à sonnettes, d'énormes tortues, et de charmans oiseaux, tels que les perroquets, les colibris, les oiseaux mouches, etc.

*D.* Quels sont les habitans de la Guyane?

*R.* Elle est habitée par des Français, des Hollandais, des Anglais, des Portugais, des Espagnols et des sauvages. Des nègres esclaves qui se sont enfuis de chez leurs maîtres, se sont établis loin des côtes, et vivent dans l'indépendance.

#### *Divisions de la Guyane:*

*D.* Comment la Guyane est-elle divisée?

*R.* Elle se divise en Guyane espagnole, Guyane anglaise, Guyane hollandaise, Guyane française et Guyane portugaise.

*D.* Quelle est la situation de ces divisions?

*R.* La Guyane espagnole touche au nord et à

l'ouest à l'Orénoque; à l'est à la Guyane anglaise, et au sud à la Guyane portugaise.

La Guyane anglaise est située au nord ouest de la Guyane hollandaise, dont elle a été démembrée dans ces derniers temps : elle renferme les trois grands établissemens de Berbice, de Démérari et d'Essquibo.

La Guyane hollandaise a l'Océan atlantique au nord, la Guyane française à l'est, l'Essquibo à l'ouest, et la Guyane portugaise au sud. Paramaribo en est le chef-lieu. Son grand établissement de plantations est entre le Surinam et le Maroni.

La Guyane française est située à l'est de la précédente, et au nord de la Guyane portugaise, dont elle est séparée par l'Oyapok. Sa longueur est de cent lieues et sa largeur de quatre-vingt-trois. Son chef-lieu est Cayenne, petite ville fortifiée, dans la petite île de son nom. Plusieurs forts, dont le plus connu est celui de Sinamary, en défendent les côtes.

La Guyane portugaise est bornée au nord par l'espagnole, la hollandaise et la française; à l'est par la mer; au sud par l'Amazone et le Rio-Négro.

## LEÇON XXXV.

*Le Brésil.*

*D.* QU'EST-CE que le Brésil ?

*R.* C'est une grande région de l'Amérique méridionale, située depuis le 1°. de latitude S. jusqu'au 33°. de la même latitude, et depuis le 37°. 30'. jusqu'au 75°. de longitude O. Elle est bornée, au nord, par la rivière des Amazones; à l'ouest et au sud, par les possessions espagnoles; à l'est par l'Océan atlantique.

*D.* Par qui le Brésil a-t-il été découvert, et à qui appartient-il ?

*R.* Il fut découvert en 1500 par le navigateur Cabral. Il appartient à la couronne du Portugal.

*D.* Quelles sont les montagnes de cette région ?

*R.* Une double branche du Matto-Grosso, qui forme à l'ouest le bassin du Rio-San-Francisco, se dirige du S. O. au N. E. Une autre, qui court de l'E. à l'O., donne naissance aux rivières d'Araguay et des Tocantins.

*D.* Quels sont les principaux fleuves et lacs du Brésil ?

*R.* Les fleuves sont : le Rio-Négre, l'Amazone, le Rio-Blanco, la Gurupatuba, le Paru, la Madeira, le Tapajos, le Xingu, l'Araguay; les

Tocantins , le Maranham , la Parnayba , le Jaguaribe , le Rio-Saa-Francisco , le Paraguay et l'Uruguay.

Les lacs sont : le Xarayès , l'Ybéra et Los-Patos Ce dernier , au sud et près de la mer , est le plus considérable.

*D.* Quelles sont les productions du Brésil ?

*R.* Cette région produit du maïs , du blé , du café , des cannes à sucre , du poivre , du tabac , du coton , de l'indigo , et plusieurs plantes médicinales , entre autres l'ipécacuana ; d'excellens fruits , tels que melons , oranges , citrons , bananes , etc. Les forêts sont remplies d'arbres , dont le bois est d'une grande utilité , tels que le bois du Brésil , qui sert à la teinture , et dont l'écorce s'emploie pour la guérison de la fièvre ; l'acajou , l'ébène , les bois de campêche , de rose , et beaucoup d'autres. Parmi les animaux on compte de nombreux bestiaux , beaucoup de singes , et une grande variété d'oiseaux. Les montagnes renferment des mines d'or , de cuivre et de fer , et d'autres mines renferment des diamans , des topazes , et autres pierres précieuses.

*D.* Quelle est la population du Brésil ?

*R.* Elle s'élève à plus de trois millions d'individus. Un million environ se compose de Portugais , et le reste d'indigènes civilisés et chrétiens , de nègres esclaves , et de sauvages , dont il est inutile de rapporter les noms.

**D.** Quelles sont les langues et les religions du Brésil ?

**R.** Les langues sont : le portugais et celles des nations sauvages, dont la plus répandue est celle des guaranis.

La religion catholique est celle des Portugais et des indigènes civilisés. Les sauvages sont idolâtres.

## LEÇON XXXVI.

### *Divisions et Gouvernement du Brésil.*

**D.** QUELLES sont les divisions du Brésil ?

**R.** Il se divise en douze provinces ou gouvernemens qui sont : le Rio Négro, le Grampara, le Maranham, le Piauhis, le Fernambouc, le Bahia, le Guayas, le Matto Grosso, le Minas-Géraës, le Saint Paul, le Rio-Janéiro et le Del-Roy.

**D.** Quelle est la situation des six premiers gouvernemens, et quelles en sont les principales villes ?

**R.** Le Rio - Négro, situé sur les bords de l'Amazoné, est borné, au nord, par la Nouvelle - Grenade ; au nord et l'est par la Guyanne et le Grampara ; à l'ouest par la Nouvelle-Grenade et le Pérou, et au sud par le Pérou et le Matto Grosso. On ne connaît guères, de cette vaste contrée, que quelques habitations



et de petits forts, comme Pínhal, sur le Tapajos ; Fortaleza au confluent du Rio Négro et de l'Amazone ; et Obidos au confluent du Gurupatuba et du dernier fleuve.

Le Grampara est situé à l'est du Rio Négro. C'est un pays marécageux et couvert d'épaisses forêts. Ses principaux lieux sont : Para, à l'embouchure de la rivière Capin, dans celle des Tocantins ; Bain et Caméla, sur cette dernière rivière, et Santaren, sur la rive droite de l'Amazone.

Le Maranham est situé à l'est du Grampara. Il a pour capitale la ville de son nom, dans une île à l'embouchure du fleuve Maranham.

Le Piauhis, pays montagneux, est à l'est du Maranham. Il a pour chef-lieu Oeiras, à peu de distance de la rivière de son nom. Parnayba en est une autre ville, à l'embouchure du Parnayba.

Le Fernambouc, ou Pernambouc, est situé au sud-est du Piauhis. Il a pour capitale Olinda, ville belle, opulente et très-peuplée, avec un port sur l'Océan atlantique. A soixante lieues environ au nord d'Olinda, est située, à l'embouchure du Rio-Grande, la ville de Natal-los-Reys. Cette province renferme quatre capitaineries.

Le gouvernement de Bahia est au sud et au sud-ouest du Fernambouc, dont il est séparé par le Rio-San-Francisco. Sa capitale est San-

Sal  
de  
son  
tain  
et  
la l  
au  
au  
gou  
vill  
pri  
dan  
des  
Cu  
l  
l'ou  
esp  
Da  
leu  
ten  
au  
sur  
Vil  
del

Salvador ou Bahia, avec un bon port sur la baie de Tous-les-Saints. Les autres lieux principaux sont : Sergippe-del-Rey, chef-lieu d'une capitainerie, au nord-est sur la mer; Purification et San-Francisco, à peu de distance au nord de la baie; Cachoéra sur une petite rivière; Camamu au fond d'une baie au sud, et Saint-Georges, au sud de celle-ci.

*D.* Quelle est la situation des six derniers gouvernemens et quelles en sont les principales villes?

*R.* Le Guayas est situé à l'ouest du Bahia. Ses principaux lieux sont : Villa-Boa, capitale, située dans les montagnes; Agoaquente, sur la rivière des Tocantins, et Santa-Luzia, près de la rivière Curumba.

Le gouvernement de Matto Grosso est situé à l'ouest du Guayas, à l'est de la vice-royauté espagnole de la Plata et au nord du Paraguay. Dans les montagnes qu'il renferme, prennent leurs sources les principales rivières qui se jettent dans l'Amazone au nord, et dans le Parana au sud. Ses principales villes sont : Villa-Cuyaba, sur le bord oriental de la rivière de même nom; Villa-Maria sur le Paraguay, et au sud. Pedro-del-Rey, entre ce fleuve et la Cuyaba.

## LEÇON XXXVII.

*Suite de la précédente.**La Patagonie.*

**D.** QUELLE est la situation du Minas-Géraës et quelles en sont les principales villes ?

**R.** Ce gouvernement est situé au sud de celui de Bahia. Ses principales villes sont : Villa bon-Sussecco, Villa de Principe, San-Joa del-Rey, Villa Ricca, Villa-de-Porto-Seguro, sur la mer, Téjuco, près du Rio-Grande ; Sabara, près de la Dolce et Villa-Pitangui.

**D.** Quelle est la situation des gouvernemens de Rio-Janéiro, de Saint-Paul et de Del-Rey, et quelles en sont les principales villes ?

**R.** Le Rio-Janéiro est situé au sud et à l'est du Minas Géraës, le long des côtes de l'Océan atlantique. Il a pour capitale Rio-Janéiro, qui l'est aussi de tout le Brésil ; elle est bâtie sur la baie de son nom, avec un beau port fortifié sur la même baie. Les autres villes remarquables sont : l'Assomption, à l'est sur le cap Crio ; et plus au nord-est Villa-do-Espiritu-Santo et Aldea-dos-Heys.

Le gouvernement de Saint Paul est situé au sud-ouest du Minas-Géraës. Il a pour capitale

Sain  
Tièr  
baie  
de s  
L  
cédé  
au s  
San  
du l  
dans  
ges l  
vern  
D  
R  
pau  
nait  
l'au  
coup  
rend  
prin  
roi d  
le ge  
roun  
deve

D  
R  
Terr

Saint-Paul, sur une éminence et près du Rio-Tiète. Les autres villes sont : Paranagua, sur la baie de ce nom ; et Santos, aussi sur une baie de son nom.

Le gouvernement Del-Rey est au sud du précédent. On y remarque les villes de Rio-Grande, au sud du lac Los-Patos ; de San-Miguel et de San-Rosario sur la côte ; de Viamao, au nord du lac Los-Patos, et celle de Sainte-Catherine, dans l'île de ce nom. Plusieurs nations sauvages habitent les parties ouest et sud de ce gouvernement, entr'autres les Guaranis et les Boanès.

*D.* Quel est le gouvernement du Brésil ?

*R.* C'était, il y a peu de temps, une principauté dont le fils aîné du roi de Portugal prenait le titre, et qui n'était gouvernée que par l'autorité arbitraire d'un vice-roi. En 1807, la cour de Lisbonne abandonna l'Europe pour s'y rendre, et s'établit à Rio-Janéiro en 1819. Cette principauté fut érigée en royaume. En 1821, le roi de Portugal revint en Europe, et en laissa le gouvernement au prince héréditaire de la couronne. Ce gouvernement, qui était absolu, est devenu représentatif.

### *La Patagonie.*

*D.* Qu'est-ce que la Patagonie ?

*R.* Cette grande région, appelée autrement Terre Magellanique, termine l'Amérique méridionale.

dionale. Elle est bornée au nord par les possessions espagnoles ; à l'ouest par le nouveau Chili et le grand Océan ; à l'est par l'Océan atlantique ; au sud par le détroit de Magellan. Sa longueur, si l'on y comprend la Terre de Feu, est d'environ quatre cent cinquante lieues.

*D.* Quelles sont les productions de la Patagonie ?

*R.* Quoiqu'elle soit en général stérile, elle nourrit de nombreux troupeaux de bœufs et de chevaux sauvages, dont les habitans vendent les cuirs aux Espagnols et aux Portugais.

*D.* Quelles sont les montagnes de cette région ?

*R.* Elle est traversée du nord au sud par un prolongement de la grande chaîne des Cordillères, appelée les Nouvelles Cordillères.

*D.* Quels sont les habitans de la Patagonie ?

*R.* Ce sont des sauvages idolâtres, dont les plus nombreux sont les Patagons, hommes d'une taille très-élevée. Les autres habitent sur le revers oriental des Nouvelles Cordillères, et entre les rivières Colorado et Sanguel.

*D.* Qu'est-ce que le pays du Diable ?

*R.* Ce pays, qui est situé entre les rivières Saladillo et Colorado, le long de l'Océan atlantique, depuis le cap Saint-Antoine jusqu'à la baie de l'Assomption, est un vaste désert, qui fait partie de la Patagonie.

FIN DE L'AMÉRIQUE.

---

## CINQUIÈME PARTIE.

### L'OCÉANIQUE.

#### TROISIÈME CONTINENT.

---

#### LEÇON I<sup>re</sup>.

##### *Notions générales sur l'Océanique.*

**D.** QUEST-CE que l'Océanique ?

**R.** On nomme ainsi cette multitude d'îles, plus ou moins considérables ; répandues dans le grand Océan ou la mer du Sud.

**D.** L'Océanique doit-elle être regardée comme une cinquième partie de la terre et un troisième continent ?

**R.** La plupart des géographes modernes, considérant son immense étendue, la situation de ses îles entre l'Asie et l'Amérique, et surtout les mœurs et les usages de ses habitans qui n'ont que des rapports plus ou moins éloignés avec ces deux parties du globe, pensent qu'elle doit être considérée comme une cinquième partie de la terre et un troisième continent,

**D.** Quel est le climat de l'Océanique ?

**R.** Les îles qui composent ce continent étant situées en grande partie entre les deux tropiques, les grandes terres qui ne sont pas découpées par la mer éprouvent des chaleurs considérables, mais celles d'une petite étendue n'éprouvent qu'une chaleur supportable même pour les Européens.

**D.** Quelles sont les principales productions de ce continent ?

**R.** On recueille, dans la plupart de ses îles, du riz, du maïs, des haricots de différentes espèces, des oranges, des grenades, des pommes de pin, du cachou, des noix de cocos, des bananes, du tamarin, du camphre, des épiceries, telles que la noix muscade, la canelle, le girofle, les cannes à sucre. Elle produit encore le bambou, les bois de sandal, de cutambac, et des palmiers. Elle a des mines de diamans, d'or, d'argent, de fer, etc. Elle nourrit des bêtes féroces dans plusieurs de ses îles, des serpens monstrueux, des singes de la plus grande espèce, et une grande quantité d'oiseaux de diverses espèces, entr'autres ceux dont les nids sont recherchés à la Chine comme un aliment très-délicat.

**D.** Quelle est la population de l'Océanique ?

**R.** Les géographes n'en ont aucune notion certaine, parce que celle de la Nouvelle-Hol-

lande , la plus grande de ses îles , est encore inconnue.

*D.* Quels sont les principaux détroits de l'Océanique ?

*R.* On remarque ceux de Malaca entre la presqu'île de ce nom et l'île de Sumatra , de la Sonde entre Sumatra et l'île de Java , de Macassar entre les îles de Bornéo et de Célèbes , le passage des Moluques entre Célèbes et Gilolo ; les détroits de Torrès entre la Nouvelle-Hollande et la Nouvelle-Guinée , de Bass entre la Nouvelle-Hollande et l'île de Van-diémen , de Bougainville entre l'île de ce nom et l'Archipel de Salomon , de Dampier entre la Nouvelle-Bretagne et la Nouvelle-Guinée , de Cook entre les deux îles qui composent la Nouvelle-Zélande.

*D.* Quelles sont les montagnes les plus remarquables de l'Océanique ?

*R.* Ces montagnes sont : le mont Ophir dans l'île de Sumatra , les montagnes Bleues dans la Nouvelle-Hollande , et les monts Cristallins dans l'île de Bornéo. D'autres chaînes de montagnes considérables , traversent sous les eaux toutes les chaînes d'îles , et les lient ensemble dans plusieurs directions.



## LEÇON II.

*Suite de la précédente.*

*Divisions de l'Océanique.*

*D.* QUELLES sont les grandes divisions de l'Océanique ?

*R.* L'Océanique est divisée en trois parties , savoir : La grande Océanique , la Polynésie boréale et la Polynésie australe.

*D.* Quelles îles comprend la grande Océanique ?

*R.* Elle comprend la Nouvelle-Hollande , les îles de Diémen , de la Sonde , les Philippines , les Moluques , Bornéo , Célèbes , la Nouvelle-Guinée , la Nouvelle-Calédonie , la Nouvelle-Zélande , les Archipels de la Nouvelle-Bretagne , de la Louisiade , de Salomon et du Saint Esprit.

*D.* Décrivez la première division , et en particulier la Nouvelle-Hollande ?

*R.* Cette île qui , par sa grandeur , mériterait le nom de continent , fut découverte en 1616 par les Hollandais. Elle s'étend depuis le 10°. jusqu'au 40°. de latitude S. , et depuis le 110°. jusqu'au 151°. de long. E. On n'en connaît encore que les côtes. Le capitaine Cook prit possession , dans son premier voyage , au nom du roi

d'Angleterre , de la côte Or. , et lui donna le nom de Nouvelle-Galles du sud. On forma d'abord un établissement colonial à Botany-Bay ; mais cet endroit ayant été reconnu mal-sain , on le transporta au port Jackson , situé à trois lieues au nord. C'est là que le gouvernement Anglais envoie les criminels condamnés à la déportation. Les navigateurs français ont découvert une bonne partie des côtes du sud , de l'ouest et du nord-ouest.

*D.* Que remarque-t-on sur la côte septentrionale ?

*R.* On remarque les terres de Diémen , celles d'Arnheim et de Carpentarie autour du golfe de ce dernier nom ; sur ce même golfe le cap d'Arnheim ; et sur le détroit de Torrès le cap York ; à l'O. est le cap Diémen , à l'extrémité de la terre de ce nom ; dans ses eaux , les îles Wellesley , de Groo'-Eyland , et celle de Wessel à l'ouest de la baie d'Arnheim.

*D.* Quels pays , quelles îles et quels caps sont situés sur la côte nord-ouest de la Nouvelle-Hollande.

*R.* Cette côte n'est pas encore bien connue ; cependant on a donné le nom de terre de Witt à un espace contenu entre les 14°. et 21°. de latitude. Les îles de cette côte forment de petits groupes , ce sont : les îles de Montébello , de Dampier , d'Adèle , de Gauthaume , et de l'Institut. Les caps sont : ceux de Fourcroy , de Châ-

teau-Renaud, de l'Évêque, de Bertholet et de Dupuy.

*D.* De quelles parties se compose la côte de l'ouest ?

*R.* Elle comprend les terres d'Endracht, d'Edels et de Leuwin, qui s'étendent du 21°. au 35°. de latitude australe; les îles de Dick Hartog, d'Abrolhos, et de Rotnest. On y trouve la presqu'île de Piron, les baies des Chiens marins et du Géographe; les caps Nord-ouest, du Naturaliste, de Hamelin et de Nuytz. Entre les 12°. et 13°. de latitude S, et sur le 95°. de longitude E. on trouve les îles des Cocos; sur le 21°. de la même latitude et sur le 96°. de la même longitude, l'île Cloates; sur les 21°. et 22°. de la même latitude et par les 102°. et 103°. de la même longitude, les îles Trials.

*D.* Quelles terres, quelles îles, etc. comprend la côte du sud ?

*R.* Elle comprend les terres de Nuytz, de Flinders, de Freycinet, et de Grant; les îles d'Entrecasteaux, d'Eugène, de l'Investigator, de Laplace, des Kangaroos, de King-Western, et les presqu'îles d'Yorck et de Fleurieu; les golfes de Spencer et de Saint-Vincent; le port Philippe; les caps de Bouflers, Jervis, Bernouilli, des Adieux, Volney et Wilson.

*D.* Que contient la côte orientale de la Nouvelle-Hollande ?

*R.* Cette côte est nommée Nouvelle-Galles du

sud  
Ble  
dep  
On  
thur  
les l  
de C  
les p  
téry  
Hov

*D.*  
quel

*R.*  
les r  
kesk

*D.*  
land  
cette

*R.*  
rieu  
terre  
qu'il  
ble.

sauv

*D.*

de l'

*R.*  
latit  
elle  
de l'

sud par les Anglais. La chaîne des montagnes Bleues la longe en amphithéâtre du nord au sud, depuis le 11°. jusques sur le 30°. de latitude S. On y trouve les îles de Cumberland, de Northumberland par les 21°. et 23°. de latitude S. ; les baies d'Edgécumb, de Répulse, de Hervey, de Glasshouse, de Brokens, et de Botanique ; les ports Stéphens et Jackson ; les caps Flat-téry, Grafton, du Capricorne, Sandy, Hawke, Howe, et Georges.

*D.* Quelles villes sont situées sur cette côte et quelles rivières y remarquez-vous ?

*R.* Les villes sont : Sydney-Cow, et Bathurst ; les rivières sont : celles de l'Endéavour et d'Awkesbury ; cette dernière se rend au port Jackson.

*D.* Quel est l'intérieur de la Nouvelle-Hollande, et quel est le caractère des habitans de cette île ?

*R.* On n'a aucune notion certaine de l'intérieur de ce continent ; mais on suppose que les terres en sont peu fertiles et peu peuplées, et qu'il s'y trouve une mer ou un lac considérable. Les habitans qu'on a vus près des côtes sont sauvages et même féroces.

*D.* Qu'y a-t-il de plus remarquable au sujet de l'île de Diémen ?

*R.* Cette île est placée entre les 40°. et 45°. de latitude S., au midi de la Nouvelle-Hollande ; elle est partagée par le 145°. à l'est du méridien de Paris. Sa longueur est de soixante-quinze

lieues sur cinquante de largeur. Les îles de Furneau , de Maria et de Bruni la bordent à l'est et au sud-est. L'île de King est sur le 40°. de latitude S. , elle renferme la presqu'île de Tasman à l'est ; les caps Portland et Berthoud au nord , le cap du Sud ; le port Dalrymple au nord ; la baie des Tempêtes au sud et celle de Fleurieu à l'est.

---

### LEÇON III.

*Suite des deux précédentes.*

---

*Les Iles de la Sonde , partie de la Grande-Océanique.*

*D.* QU'ENTENDEZ-VOUS par les îles de la Sonde ?

*R.* Ce sont les îles situées au sud-est de l'Asie , dont deux ne sont séparées l'une de l'autre que par le détroit de la Sonde , et dont la troisième , au nord-est du détroit , forme avec la première un autre passage pour entrer dans la mer de la Chine. On nomme ces trois îles , Bornéo , Sumatra et Java.

*D.* Décrivez l'île de Bornéo ?

*R.* Cette île est traversée par l'équateur , et du N. au S. par une grande chaîne de montagnes ,

nommées les monts Cristallins. C'est la plus grande du monde après la Nouvelle - Hollande , car elle a trois cents lieues de long sur deux cent vingt-cinq de large. Elle est divisée en plusieurs petits royaumes dont celui de Bender - Massin est le plus connu , et où les Hollandais possèdent un fort.

*D.* Quelles îles trouve-t-on aux environs de celle de Bornéo ?

*R.* On trouve celles de Natuna au nord-ouest ; de Carémata à l'ouest ; de Maratua , de Soulou au nord ; et celle de Laut au sud.

*D.* Quelles sont les villes principales de Bornéo ?

*R.* Ces villes sont : Bornéo, capitale, au nord-ouest ; Sédang , Sambas à l'ouest ; Passir au sud-est ; et Bender-Massin au sud , sur la rivière de ce nom.

*D.* Décrivez l'île de Sumatra ?

*R.* Cette île a du nord-ouest au sud-est trois cent soixante-quinze lieues de long sur soixante-quinze à cent de large. Elle est traversée dans la première direction par une haute chaîne de montagnes , parmi lesquelles le mont Ophir se fait remarquer au centre de l'île. Elle est divisée en plusieurs petits royaumes dont les plus connus sont ceux de Bancoulen et d'Achem.

*D.* Quelles sont les principales villes de cette île ?

*R.* Ces villes sont : Achem , Indrapour , Padang , et Bancoulen , sur la côte de l'ouest ; les

Anglais ont un fort près de cette dernière ville. L'île de Sumatra appartient aux Hollandais.

*D.* Quelles îles remarquez-vous autour de Sumatra ?

*R.* Je remarque les îles des Cochons, de Nyas, de Mintou, de Fortune, de Nassau, et d'Engano à l'ouest ; de Pantjour, de Linggen, de Banca, et de Billiton à l'est. Celle de Banca sur un détroit du même nom a été enlevée aux Hollandais par les Anglais, dans la dernière guerre.

*D.* Nommez le détroit qui sépare l'île de Sumatra de la presqu'île de Malaca ?

*R.* Il se nomme le détroit de Malaca.

*D.* Décrivez l'île de Java ?

*R.* Cette île située au sud-est de celle de Sumatra, dont elle est séparée par le détroit de la Sonde, a de l'est à l'ouest deux cent cinquante lieues ; et sa largeur varie de trente à cinquante. Elle est traversée par la même chaîne de montagnes que renferme Sumatra. Elle est presque entièrement soumise aux Hollandais, quoique les naturels s'efforcent de temps en temps de se soustraire à leur domination. On évalue sa population à environ deux millions d'individus.

*D.* Quelles sont les principales villes de cette île ?

*R.* Ces villes sont : Shérison, Palimban, Mataran, Japara, et Batavia, ville considérable, bien bâtie, mais mal saine : elle est le siège des possessions hollandaises dans l'Inde.

*D.* Quelles sont les îles voisines de Java ?

*R.* Ce sont : celles de Maduré , du Prince et de Baly à l'est , sur un détroit du même nom.

*D.* Quelle est la langue des îles de la Sonde , et quelle en est la religion ?

*R.* On y parle généralement le Malay ; on y trouve un grand nombre de mahométans , et le reste de la population est idolâtre.

#### LEÇON IV.

##### *Suite de la Grande-Océanique.*

##### *Les Philippines.*

*D.* DÉCRIEZ les îles Philippines ?

*R.* Ces îles qui appartiennent aux Espagnols, furent découvertes par Magellan en 1521 , sous le règne de Philippe II , roi d'Espagne , dont elles ont pris le nom. Elles forment plusieurs groupes , entre la mer de la Chine et le grand Océan , et depuis le 8°. jusqu'au 20°. de latitude N. Elles sont généralement fertiles , à cause des pluies qui y tombent en abondance , et de la grande chaleur à laquelle elles sont exposées.

*D.* Quelles sont les plus remarquables de ces îles ?

*R.* Ce sont : celle de Luçon , la plus septentrionale, et qui s'étend du 13°. au 19°. de latitude



N. : sa capitale est Manille , grande et belle ville de trente-huit mille habitans , placée à l'ouest sur la baie du même nom ; celle de Mindanao , au sud , et dont la capitale qui porte le même nom , est située sur la baie d'Illano ; Mindoro , au sud et près de Luçon ; Calamiane , au sud-ouest de celle-ci , et Palawan. Le groupe d'îles qui se trouve entre Luçon et Mindanao porte le nom général de Bissayes ; on y remarque les îles de Panai , de Negros , de Zébu , de Leyte , de Samar , et de Catanduanes ; Pollo , Surigao , au N. E. ; et Bassilian au S. O. de Mindanao ; au nord de Luçon , on remarque le groupe des îles Babuyanes.

*D.* Par quels peuples sont habitées les îles Philippines ?

*R.* Elles sont habitées par des Malays , qu'on nomme Tagales ; par les Bissayas ou Pintados ; par les naturels qui mènent une vie sauvage , et par des Espagnols.

*D.* Quelles sont les principales productions des Philippines ?

*R.* Ce sont : le girofle , la cannelle , le tabac , l'indigo , des aromates , la casse , le gingembre , les cannes à sucre , etc. ; les campagnes et les forêts nourrissent une prodigieuse quantité d'animaux , tels que chèvres , bœufs , porcs , chevaux , sangliers , cerfs , civettes , lapins et singes.

*D.* Quelles sont les religions des Philippines ?

*R.* Le mahométisme et l'idolâtrie : il s'y trouve aussi un bon nombre de chrétiens que les Espagnols ont convertis.

---

## LEÇON V.

### *Les Moluques.*

*D.* FAITES connaître les îles Moluques ?

*R.* Ces îles sont situées au sud des Philippines, depuis le 10°. de latitude S. jusqu'au 5°. de latitude N. Les plus considérables de ces îles sont : Célèbes, Gilolo, Ternate, Céram, Amboine, les Banda, Timor, Laot, Bourou, Motyr, Xulla, Obi, Wessel et Arrou.

*D.* Décrivez l'île de Célèbes ?

*R.* Cette île s'étend du 5°. de latitude S. jusqu'au 2°. de latitude N. ; dans sa partie méridionale, elle est sous les 116°. et 117°. de longitude E. ; et sa partie septentrionale s'étend du 117°. au 122°. de la même longitude ; du nord au sud elle a environ cent soixante lieues, et de l'est à l'ouest un peu plus de cinquante. Elle est séparée de l'île de Bornéo par le détroit de Macassar. Elle fut découverte par les Portugais en 1511. Elle appartient aux Hollandais. Elle est découpée en quatre presque îles par les grandes baies de Tomin, de Boni et de Tolo. Quoiqu'elle soit placée sous la ligne, elle n'é-

prouve que des chaleurs tempérées par de fortes pluies et des vents frais.

*D.* Quelles sont les principales villes de Célèbes ?

*R.* Ces villes sont : Macassar , capitale de l'île , située au S. S. O. , et Bonthain , à l'extrémité méridionale.

*D.* Quelles îles avoisinent Célèbes ?

*R.* Ce sont les îles de Sanguy , de Salibabo , de Pélang , de Bouton , de Calaur et de Salayar . La plupart sont situées à l'est , celle de Salayar est au sud.

*D.* Quels sont les caps de Célèbes ?

*R.* On trouve le principal à la côte de l'est : il se nomme Talabo.

*D.* Faites la description de l'île de Gilolo ?

*R.* Cette île , avec celle de Morly qui l'avoisine , est au N. O. de Célèbes . Sa longueur du nord au midi est de soixante-quinze lieues , et sa largeur commune de l'est à l'ouest , de quinze . Sa principale ville porte son nom.

*D.* Que dites-vous de l'île de Céram ?

*R.* Elle est située sur le 4°. de latitude S. , et s'étend depuis le 125°. jusqu'au 129°. de long. E.

*D.* Quelle est la situation des îles d'Amboine et de Banda ?

*R.* La première est une petite île au sud de Céram . Les îles de Banda ne sont qu'à trente lieues de la précédente , vers le S. E. C'est d'Am-

boine et des îles de Banda que les Hollandais tirent le girofle et la muscade.

*D.* Quelle est la situation de Timor , et quelles en sont les productions ?

*R.* Cette île est située du 8°. au 11°. de lat. S. Elle produit de la cire , du miel , du bois de sandal , des cocos , du tamarin , des palmiers ; elle abonde en bestiaux , en gibier , en fruits , et en légumes de toute espèce.

*D.* Quelles îles avoisinent Timor ?

*R.* Ce sont : les îles de Lombosk. de Sumbava, de Florès , de Sumba , de Sandelbok , de Solor, de Lamblen , d'Ombay , de Moa et de Rothy. Cette chaîne d'îles est le prolongement des montagnes qui passent par Sumatra et Java. Les Portugais occupent la ville de Coupang dans l'île de Timor.

*D.* Quelle est la langue et la religion des Moluques ?

*R.* On y parle généralement la langue malaye. Le christianisme domine dans les endroits occupés par les Hollandais et les Portugais. Le mahométisme est la religion des peuples qui ont un gouvernement , et l'idolâtrie celle des sauvages qui habitent les montagnes de ces îles.

## LEÇON VI.

*La Nouvelle Guinée. — La Nouvelle-Bretagne.  
— La Louisiade, etc.*

**D.** DÉCRIVEZ la Nouvelle-Guinée?

**R.** Cette grande île est traversée par le 5°. de lat. S., et s'étend depuis le 128°. jusqu'au 149°. de long. E. Elle fut découverte par Saavédra, en 1528. L'intérieur n'en est pas connu. Elle renferme des montagnes très-élevées.

**D.** Quelle baie et quel cap y remarquez-vous?

**R.** On y remarque la grande baie de Geelvink au nord, et le cap Walsche au sud-ouest.

**D.** Quelles îles environnent la Nouvelle-Guinée?

**R.** Ce sont : les îles de Schouten et de Jobie, dans la baie de Geelvink ; de Vadgion et de Myso, à l'ouest d'Arrou ; de Wessel, au sud.

**D.** Que dites-vous des îles de la Nouvelle-Bretagne ?

**R.** Cet archipel est situé au nord de la Nouvelle-Guinée, entre l'équateur et le 10° de lat. S. Ces îles avaient été vues par les navigateurs Le-maire et Abel Tasman ; mais elles n'ont été bien connues que par Dampier, qui a donné son nom au détroit qui sépare la plus grande de la Nouvelle-Guinée.

*D.* Quelles sont les principales îles de cet archipel ?

*R.* Ces îles sont : la Nouvelle-Bretagne , au sud ; la Nouvelle-Irlande , au nord-est de la précédente ; la Nouvelle-Hanovre , au nord-ouest de celle-ci ; les îles de l'Amirauté , encore plus au nord-ouest , et celle de Saint-Mathias , au nord. Ces îles , encore inconnues dans leur intérieur , sont habitées , sur les côtes , par des peuples sauvages.

*D.* Décrivez l'archipel de la Louisiade ?

*R.* Cet archipel est traversé par le 10°. de lat. S. , et s'étend jusqu'au 12°. Il est aussi traversé par le 150°. de long. E. Il a été découvert par M. de Bougainville. Ce navigateur a donné les noms de Trioband , d'Entrecasteaux , et de Rossel , à différens groupes qui le composent.

*D.* Quelle est la situation de l'archipel de Salomon , et quelles îles le composent ?

*R.* Cet archipel , qui fut découvert par Mandana , en 1567 , est situé par les 5°. et 12°. de lat. S. , et entre les 154°. et 164°. de long. E. Ses principales îles sont : celles de Bougainville , d'Isabel , de Simpson , de San-Christoval et de Pitt. On trouve , à l'est , les îles de Sainte-Croix qui semblent en faire partie.

## LEÇON VII.

*Archipel du Saint-Esprit. — La Nouvelle-Calédonie. — La Nouvelle-Zélande.*

**D. DÉCRIVEZ** l'archipel du Saint-Esprit ?

**R.** Cet archipel est situé entre les 14°. et 20°. de lat. S., et par les 165°. et 167°. de long. E. Il fut découvert par Quiros, en 1567. Bougainville le visita en 1768. Ses îles les plus remarquables sont : Mallicollo, Aurore, Sandwich, Erromango, et Tanna. On y peut joindre les îles de Bank et de Bligh.

**D.** Faites la description de la Nouvelle-Calédonie ?

**R.** Cette grande île est située entre le 20°. de lat. S. et le tropique du Capricorne, et s'étend transversalement du 161°. au 165°. de long. E. Elle a quatre-vingts lieues de long et douze de large. Elle a, sur le 19°. au nord, l'île d'Huon; à l'est, les petites îles de Beaupré; et au sud-est l'île des Pins.

**D.** Quelle est la situation de la Nouvelle-Zélande, et comment est-elle divisée ?

**R.** Cette grande terre est située dans le Grand-Océan austral, depuis le 35°. jusqu'au 46°. de lat. S., et sa longitude s'étend depuis le 163°. jusqu'au 176°. à l'E. du méridien de Paris. Elle

fut découverte par Tasman , en 1642. Elle est divisée en deux parties , par le détroit de Cook , du nom de ce grand navigateur qui le découvrit. La partie du nord , qui se nomme Fahiéno-Mauwes , a cent quatre-vingts lieues de long , sur dix à soixante-dix de large ; et celle du midi , qu'on nomme Tavai - Poénamnoo , environ cent trente de long , sur vingt cinq à cinquante de large. Une chaîne de montagnes est commune aux deux îles.

*D.* Quel est le climat de la Nouvelle-Zélande , et quel est le caractère de ses habitans ?

*R.* Quoi qu'elle soit à la latitude de l'Espagne , sa température est à peu près celle de la France et de l'Ecosse. Ses habitans sont antropophages avec leurs ennemis.

*D.* Quelles sont les principales baies de ces deux îles ?

*R.* On remarque celle de Lauriston , au nord de la plus grande ; celles de Mercury , de Planty , de Pauvreté et de Hawke à l'est de la même.

*D.* Quels caps remarque-t-on dans ces îles ?

*R.* Dans celle du nord , on remarque le Cap-Nord , le Cap-Est , le Cap-Pallisser au midi ; de Van Diémen et d'Egmont à l'ouest. Dans l'île du midi , on remarque le Cap-Farewell au nord-ouest , le Cap-de l'Ouest , et le Cap-Sud.

*D.* Quelles îles environnent la Nouvelle-Zélande ?

*R.* On trouve au nord les îles de Norfolk et



de Rosavetta , au sud celles de Snarès et d'Aukland , à l'est celles de Banks , de Chatam et de Bounly. A trente lieues au sud de Chatam est un groupe de petites îles , vues en 1807 par le capitaine Cornwallis ; et plus au S. sur le 180°. de longitude E. , et sur le 49°. 50'. de latitude S. sont les antipodes de la ville de Paris.

*D.* Qu'entendez-vous par les antipodes ?

*R.* Les antipodes sont des lieux opposés l'un à l'autre de tout le diamètre de la terre , et dont chacun est placé dans l'hémisphère opposé au sien , sous le même nombre de degrés de latitude et de longitude. Ainsi les antipodes de Paris sont , dans l'hémisphère austral au même nombre de degrés que cette capitale , soit en latitude , soit en longitude (1).

## LEÇON VIII.

### *Polynésie boréale.*

*D.* QUELLES îles comprend la Polynésie boréale ?

*R.* Elle comprend les chaînes des îles Pelew ou Palos , des Marie-Annes ou des Larrons , des

(1) Nous n'avons point parlé des antipodes dans l'Introduction , parce que notre dessein était de donner cette explication après la Leçon précédente.

Carolines, des Mulgraves, des Sandwich, et toutes les îles éparses au nord de l'équateur.

*D.* Décrivez les îles Pelew ou Palos ?

*R.* Ce groupe d'îles est situé par les 8°. et 9°. de latitude N. et les 132°. et 134°. de longitude E. Il fut découvert en 1783 par le capitaine Wilson. La plus considérable de ces îles est Baubelthouap. Elles ont au nord les îles des Martyrs, traversées par le 10°. de latitude N.

*D.* Faites la description des îles Marie-Annes ou des Larrons ?

*R.* Cet archipel s'étend par les 12°. et 20°. de latitude N. et du 129°. au 134°. de longitude E. Il fut découvert par Magellan en 1521. Ce navigateur leur donna le nom d'Îles des Larrons, parce que les insulaires lui dérobèrent beaucoup d'objets sur son escadre. Les plus remarquables sont : Grigan, Pagon, Gugnán, Anatajan, Saypan, Tinian, Aquiján, et Guam.

*D.* Quelles sont les îles situées au nord des Marie-Annes ?

*R.* Ce sont : les groupes des Volcans, de l'Archevêque, de Malabriga et de Grampus, qui en sont à une distance considérable.

*D.* Que nous apprenez-vous des îles Carolines ?

*R.* Elles sont situées au sud des Marie-Annes, entre les 5°. et 10°. de latitude N., et s'étendent depuis le 35°. de longitude E. jusqu'au 166°. Les Espagnols les découvrirent en 1686. On en

compte plus de quatre-vingts. Les plus connues sont : celles d'Yap et d'Egoy sur le 140°. de longitude E., d'Haweis, de Lamurée, d'Hogolin, de Brownes, Piscadorès, et Muskitto. Elles ont au nord San-Bartolomé, et Gaspard-Rico sur le 16°. de latitude N.

*D.* Quelle est la situation des îles Mulgraves, et quelles en sont les principales ?

*R.* Ces îles, qui furent découvertes, en 1788, par les navigateurs anglais Marshall et Gilbert, s'étendent depuis le 10°. de latitude N., jusqu'au 2°. de latitude S., et par les 169°. et 174°. de longitude E. On y remarque les groupes de Daniels, de Mathew, de Pitt, de Simpson, et de Kings-Mill. Elles ont à l'est les îles Saint - Pierre, Barbados et Villa-Labos.

*D.* Faites connaître les îles Sandwich ?

*R.* Ces îles, qui furent découvertes par le capitaine Cook en 1779, sont placées entre les 19°. et 23°. de latitude N., et sont traversées par le 160°. de longitude O. Les plus considérables sont : Owihée qui a cinquante lieues de tour, Mowée, Morotoï, Waaho, et Atooï on trouve à l'est dans l'île d'Owihée la baie de Karakakooa, où fut tué le capitaine Cook par les habitans qui, d'abord l'avaient bien accueilli. Au sud, mais à une très-grande distance, on trouve les îles Palmires et Christmas, distance qui est de quatre à cinq cents lieues.

*D.* Quel est le caractère, la religion, etc. des

habitans des Archipels que vous venez de décrire ?

*R.* D'après le témoignage des navigateurs, elles sont habitées par des sauvages d'un caractère timide et hospitalier à l'égard des étrangers, mais féroce envers leurs ennemis. Leur religion est une idolâtrie grossière comme leurs usages. Les magiciens ont beaucoup de crédit parmi eux. Ils vont presque nus et la plupart vivent de poissons et de chair de porcs.

---

## LEÇON IX.

### *Polynésie australe.*

*D.* QUELLES îles comprend la Polynésie australe ?

*R.* Elle se compose de neufs archipels qui sont : ceux de Fidji, des Amis, des Navigateurs, de Roggewcin, de la Société, de la Mer-Mauvaise, Dangereux, et des Marquises.

*D.* Quelle est la situation de l'archipel Fidji ?

*R.* Il est situé depuis le 175°. jusqu'au 180°. à l'est du méridien de Paris, et s'étend entre les 16°. et 20°. de latitude S.

*D.* Quelles îles principales comprend cet archipel ?

*R.* Ces îles qui furent découvertes en 1796, sont fort nombreuses. Les plus considérables

sont : Wostooorea à l'ouest, Tackanowée au nord, Ambow et Mowoulla au sud. On trouve au nord et au nord-est, à une assez grande distance, les îles de Horn, de Rotumah, de Solitary et de Wallis.

*D.* Quelle est la situation de l'archipel des Amis ?

*R.* Il est placé au sud-est de Fidji, par les 16°. et 23° de latitude S., et il s'étend par les 176°. et 177°. de longitude O.

*D.* Quelles îles principales sont comprises dans cet archipel ?

*R.* Les plus considérables sont : Tongatabou au sud-ouest, Eoaa au sud, Anamoka au centre, Vavaoo au N., et Pilslaart au S. On peut y comprendre les îles de Vasquez et de Kermadec au S., l'une sur le 24°, et l'autre sur le 31°. de latitude S.

*D.* Pourquoi nomme-t-on ces îles l'archipel des Amis ?

*R.* Parce que les insulaires ont bien accueilli les navigateurs qui les ont visités.

*D.* Faites connaître l'archipel des Navigateurs ?

*R.* Cet archipel est situé sur les 14°. et 15°. de latitude S., et entre les 169°. et 175°. de longitude O.

*D.* Quelles en sont les principales îles ?

*R.* Ces îles sont : Pola à l'ouest, Ouhtouah au sud-est de la précédente, Opoun à l'est, et

Maouna au sud. Les autres îles , éparées à une distance plus ou moins considérable de celles-ci , sont : celle d'York au nord à plus de cent cinquante lieues ; celle de Clarence au sud d'York , celles de Jésus , de Quiras , du Danger et de Coutance au nord-est.

*D.* Quelle est la situation de l'archipel de Roggewein ?

*R.* Cet archipel , qui tire son nom du navigateur qui l'a découvert , est situé par les 8°. et 13°. de latitude S. , et par les 159°. et 161°. de longitude O.

*D.* Quelles îles comprend cet archipel ?

*R.* Il comprend les groupes d'îles de Bauman , de Roggewein , de Groningue , de Tienhowsen , et de Penryns. Les îles de Bauman sont les plus méridionales , et celles de Penryns les plus au nord. On trouve à l'est l'île Caroline , et à l'ouest Saint-Bernardo.

*D.* Faites connaître les îles de la Société ?

*R.* Cet archipel est situé entre les 16°. et 18°. de latitude S. ; et entre les 150°. et 156°. de longitude O.

*D.* Quelles îles comprend cet archipel ?

*R.* Ces îles sont en grand nombre. Les plus remarquables sont : Otaïti au S. E. qui a trente-neuf lieues de circonférence ; Eiméo au N. O. de la précédente ; Huaheine , Uliétéa , la Récréation , la Fugitive à l'ouest , et Moitéa. On trouve au sud ouest les îles de Palmerston , d'Hervey ,

de Watéoo et de Mangéaa ; au sud, Ohétiroa, Toobonai, High et Oparos.

*D.* Où est situé l'archipel de la mer Mauvaise ?

*R.* Il est situé au nord-est des îles de la Société, entre le 14°. et le 16°. de latitude S., et par les 134°. et 151°. de longitude O.

*D.* Quelles îles comprend cet archipel ?

*R.* Il est formé de groupes d'îles dont les principales sont : celles du Labyrinthe, du prince de Galles, de Tiookéa, des îles Pernicieuses et Aurore. À l'est, on trouve les îles de Dissapointement et de Sonder-Grondt.

*D.* Faites connaître l'archipel Dangereux ?

*R.* Cet archipel est situé au S. de celui de la mer Mauvaise, et au S. E. de celui des îles de la Société. Sa latitude S. s'étend du 18°. au 24°, et sa longitude O. du 135°. au 149°. Il comprend les îles de l'Aventure à l'ouest ; les groupes de Facardin à l'est ; de Gloucester, d'Egmont et de Wittsunday au sud ; on trouve au sud-est les îles de Lagon, d'Osnabruck, de Gambier, de Cressent, de Pitcairn et de Saint-Jean-Baptiste. Les îles Ducies placées sur le 122°. de longitude O. et sur le 25°. 45'. de latitude S., et l'île de Pâque placée par le 112°. de longitude O. et sur le 27°. de latitude S. ; ces deux îles sont les dernières de cette longue chaîne d'îles de la Polynésie australe ( Voyez la mappemonde pour la position de ces deux îles. )

*D.* D'où ces deux archipels tirent-ils leurs noms ?

*R.* Des dangers qu'ils présentent aux navigateurs et du caractère de leurs habitans.

*D.* Quelle est la situation des îles Marquises ?

*R.* Ces îles qui furent découvertes par le navigateur Mendana en 1595, sont situées par le 9°. de latitude S. et sur le 142°. de longitude O. Les plus remarquables sont : Madalena au S., Dominica à l'E., celle de Baux au N., et celle de Marchand à l'O.

*D.* Quel est le climat de la Polynésie australe ?

*R.* Ce climat varie selon les latitudes. En général, il est fort chaud, et la chaleur serait insupportable en plusieurs endroits, si l'air n'étais rafraîchi par les pluies qui tombent sous les tropiques, et par les vents de mer.

*D.* Quelles sont les productions des îles que vous avez nommées ?

*R.* Elles sont presque toutes très-fertiles, elles produisent d'excellens fruits, des légumes, des cannes à sucre ; plusieurs renferment des forêts où croissent des arbres fort utiles, entre autres l'arbre à pain. On y trouve du gibier, et une grande quantité de porcs.

*D.* Quel est le caractère des insulaires ?

*R.* Ils sont presque tous sauvages et féroces ; à l'exception de ceux des îles de la Société et des Amis qui ont des mœurs douces, et auxquels on



ne peut guère reprocher qu'un extrême penchant au plaisir.

*D.* Quelle est la langue et quelle est la religion des habitans des deux Polynésies ?

*R.* Dans ce nombre immense d'îles, on parle différentes langues, qui ont entre elles plus ou moins d'affinité, et paraissent toutes dérivées de celle qu'on nomme Malaye. L'idolâtrie est la religion de tous les habitans de ces îles. Cependant les Anglais sont parvenus à introduire leur christianisme dans quelques-unes des îles de la Société, notamment dans celle d'Otaïti.

FIN DE L'OCÉANIQUE.

TABLE  
DES LEÇONS

CONTENUES DANS CE VOLUME.

INTRODUCTION

A LA GÉOGRAPHIE DES CINQ PARTIES DE LA TERRE.

|                                                                                                                              |        |
|------------------------------------------------------------------------------------------------------------------------------|--------|
| LEÇON I <sup>re</sup> . <i>Notions géométriques.</i>                                                                         | Page 1 |
| LEÇON II. <i>Notions astronomiques et mathématiques. — Du mot Géographie. — Rapport de la Terre avec les corps célestes.</i> | 3      |
| LEÇON III. <i>Satellites des Planètes. — Phases de la Lune. — Eclipses. — Rondeur de la Terre. — Comètes.</i>                | 6      |
| LEÇON IV. <i>Des Etoiles fixes.</i>                                                                                          | 10     |
| LEÇON V. <i>Du Soleil. — Mouvements des Astres. — Pôles et Axe du Monde.</i>                                                 | 15     |
| LEÇON VI. <i>Des Sphères et du Globe.</i>                                                                                    | 16     |
| LEÇON VII. <i>Cercles de la Sphère. — Signes du Zodiaque.</i>                                                                | 18     |
| LEÇON VIII. <i>Les Equinoxes. — Les Saisons. — Les Jours et les Nuits. — Les Solstices.</i>                                  | 21     |
| LEÇON IX. <i>L'Horizon. — Points cardinaux.</i>                                                                              | 25     |
| LEÇON X. <i>Durée du jour et de la nuit. — Crépuscule.</i>                                                                   | 28     |
| LEÇON XI. <i>Le Méridien. — Les Cotures, etc.</i>                                                                            | 31     |
| LEÇON XII. <i>Globe artificiel. — Latitude et longitude. — Premier méridien.</i>                                             | 33     |

|                                                                                                    |         |
|----------------------------------------------------------------------------------------------------|---------|
| LEÇON XIII. <i>Suite de la précédente.—Du Globe terrestre.</i>                                     | Page 37 |
| LEÇON XIV. <i>Notions physiques.—De la Mappemonde, ou Description générale du Globe terrestre.</i> | 40      |
| LEÇON XV. <i>Suite de la précédente.—Termes employés dans la Géographie.</i>                       | 42      |
| LEÇON XVI. <i>Suite de la précédente.</i>                                                          | 45      |
| LEÇON XVII. <i>Des Mers et de leurs divisions.</i>                                                 | 47      |
| LEÇON XVIII. <i>De l'usage des Cartes géographiques, etc.</i>                                      | 49      |

## DESCRIPTION DES CINQ PARTIES DE LA TERRE.

## PREMIÈRE PARTIE. — DE L'EUROPE.

|                                                                                                                 |       |
|-----------------------------------------------------------------------------------------------------------------|-------|
| LEÇON I <sup>re</sup> . <i>Importance, limites, étendue, population, religions et Gouvernemens de l'Europe.</i> | 52    |
| LEÇON II. <i>Des Mers et des Rivières de l'Europe.</i>                                                          | 55    |
| LEÇON III. <i>Suite des Fleuves et Rivières de l'Europe.</i>                                                    | 57    |
| LEÇON IV. <i>Suite des deux précédentes.</i>                                                                    | 60    |
| LEÇON V. <i>Principaux Lacs de l'Europe.</i>                                                                    | 62    |
| LEÇON VI. <i>Principaux Golfes de l'Europe.</i>                                                                 | 64    |
| LEÇON VII. <i>Principaux Détroits de l'Europe.</i>                                                              | 66    |
| LEÇON VIII. <i>Principaux Caps de l'Europe.</i>                                                                 | 68    |
| LEÇON IX. <i>Des grandes Chaines de Montagnes de l'Europe, etc.</i>                                             | 71    |
| LEÇON X. <i>Grandes divisions de l'Europe.</i>                                                                  | 75    |
| <i>Empire d'Autriche.</i>                                                                                       | 74    |
| <i>Royaume de Bohême.</i>                                                                                       | ibid. |
| <i>La Moravie.</i>                                                                                              | 75    |
| <i>La Silésie autrichienne.</i>                                                                                 | 76    |

|     |                                                                                                                                        |         |
|-----|----------------------------------------------------------------------------------------------------------------------------------------|---------|
|     | <i>La Galicie et la Bukowine.</i>                                                                                                      | Page 76 |
| 37  | LEÇON XI. <i>Suite de l'Empire d'Autriche. — Le royaume de Hongrie, la Transylvanie et l'Esclavonie.</i>                               | 78      |
| 40  | <i>La Transylvanie.</i>                                                                                                                | 79      |
|     | <i>L'Esclavonie.</i>                                                                                                                   | 80      |
| 42  | LEÇON XII. <i>Suite de l'Empire d'Autriche. —</i>                                                                                      |         |
| 45  | <i>Royaumes Lombardo-Vénitien et d'Illyrie.</i>                                                                                        | ibid.   |
| 47  | <i>Royaume d'Illyrie.</i>                                                                                                              | 82      |
| 49  | LEÇON XIII. <i>Suite de l'Empire d'Autriche. — Le comté de Tyrol. — Le duché de Styrie. — L'archiduché d'Autriche et le Salzbourg.</i> | 83      |
| RE. | <i>Le duché de Styrie.</i>                                                                                                             | 84      |
|     | <i>L'archiduché d'Autriche avec Salzbourg.</i>                                                                                         | 85      |
|     | LEÇON XIV. <i>Suite de l'Empire d'Autriche.</i>                                                                                        | ibid.   |
| 52  | LEÇON XV. <i>Empire de Russie, partie européenne.</i>                                                                                  | 87      |
| 55  | LEÇON XVI. <i>Divisions de la Russie d'Europe.</i>                                                                                     | 89      |
| 57  | LEÇON XVII. <i>Suite de l'Empire de Russie.</i>                                                                                        | 93      |
| 60  | LEÇON XVIII. <i>Le royaume de Pologne.</i>                                                                                             | 95      |
| 62  | LEÇON XIX. <i>L'Empire Ottoman, partie d'Europe.</i>                                                                                   | 97      |
| 64  | LEÇON XX. <i>Suite de l'Empire Ottoman, partie européenne.</i>                                                                         | 100     |
| 66  | LEÇON XXI. <i>De la France. — Sa situation, ses limites et ses divisions.</i>                                                          | 103     |
| 68  | LEÇON XXII. <i>Départemens répandus sur le bassin de la Seine.</i>                                                                     | 105     |
| 71  | <i>Bassin de la Seine.</i>                                                                                                             | 104     |
| 73  | LEÇON XXIII. <i>Le Bassin de la Loire.</i>                                                                                             | 108     |
| 74  | LEÇON XXIV. <i>Le bassin de la Garonne, au midi.</i>                                                                                   | 112     |
| id. |                                                                                                                                        |         |
| 75  |                                                                                                                                        |         |
| 76  |                                                                                                                                        |         |

|                                                                                                                                            |          |
|--------------------------------------------------------------------------------------------------------------------------------------------|----------|
| LEÇON XXV. Bassin de la Somme au nord, et celui de la Manche. — Bassin de la Somme.                                                        | Page 115 |
| Bassin de la Manche.                                                                                                                       | 117      |
| LEÇON XXVI. Bassin de la Vitraine et de la Charente. — Bassin de la Vitraine.                                                              | 118      |
| Bassin de la Charente.                                                                                                                     | 119      |
| LEÇON XXVII. Bassins de l'Adour et de l'Aude. — Bassin de l'Adour.                                                                         | 121      |
| Bassin de l'Aude à l'est.                                                                                                                  | 122      |
| LEÇON XXVIII. Bassin du Rhône.                                                                                                             | 125      |
| LEÇON XXIX. Bassins du Rhin et de la Meuse. — Bassin du Rhin.                                                                              | 127      |
| Bassin de la Meuse.                                                                                                                        | 129      |
| LEÇON XXX. Anciennes divisions de la France.                                                                                               | 131      |
| LEÇON XXXI. Suite de la France.                                                                                                            | 133      |
| LEÇON XXXII. La Confédération Germanique.                                                                                                  | 136      |
| Le royaume de Bavière.                                                                                                                     | ibid.    |
| Le royaume de Saxe.                                                                                                                        | 137      |
| Le royaume de Wirtemberg.                                                                                                                  | 138      |
| Le royaume de Hanovre.                                                                                                                     | 139      |
| LEÇON XXXIII. Suite de la Confédération Germanique. — La Hesse électorale. — Les Grands-Duchés de Hesse-Darmstadt, de Bade et de Nassau.   | 141      |
| Grand-Duché de Hesse-Darmstadt.                                                                                                            | 142      |
| Grand-Duché de Bade.                                                                                                                       | 145      |
| Grand-Duché de Nassau.                                                                                                                     | 144      |
| LEÇON XXXIV. Suite de la Confédération Germanique. — Grands-Duchés de Saxe-Weimar, de Mecklembourg, d'Oldembourg, et principauté d'Anhalt. | 145      |
| Grand-Duché de Mecklembourg.                                                                                                               | ibid.    |

|      |                                                                                                                                                                                                            |          |
|------|------------------------------------------------------------------------------------------------------------------------------------------------------------------------------------------------------------|----------|
|      | <i>Grand-Duché d'Oldembourg.</i>                                                                                                                                                                           | Page 143 |
| 118  | LEÇON XXXV. <i>Suite de la Confédération Germanique. — Principautés de Schwartzbourg, de Waldeck, de Brunswick et de Hohenzollern; Comtés de Reuss et de la Lippe; autres Etats et Villes libres, etc.</i> | 147      |
| 119  | LEÇON XXXVI. <i>Le Royaume de Prusse.</i>                                                                                                                                                                  | 151      |
| 121  | <i>Le Brandebourg.</i>                                                                                                                                                                                     | 152      |
| 122  | <i>Prusse orientale.</i>                                                                                                                                                                                   | 153      |
| 123  | <i>Prusse occidentale.</i>                                                                                                                                                                                 | 154      |
|      | <i>Prusse méridionale.</i>                                                                                                                                                                                 | ibid.    |
| 127  | LEÇON XXXVII. <i>Suite du royaume de Prusse. —</i>                                                                                                                                                         |          |
| 129  | <i>La Poméranie.</i>                                                                                                                                                                                       | 155      |
| 131  | <i>Duché de Mag'bourg.</i>                                                                                                                                                                                 | 156      |
| 133  | <i>Duché de Silésie.</i>                                                                                                                                                                                   | ibid.    |
| 136  | <i>Duché de Saxe.</i>                                                                                                                                                                                      | 157      |
| bid. | LEÇON XXXVIII. <i>Suite du royaume de Prusse. —</i>                                                                                                                                                        |          |
| 137  | <i>Grand-Duché du Bas-Rhin.</i>                                                                                                                                                                            | 158      |
| 138  | LEÇON XXXIX. <i>Suite du royaume de Prusse.</i>                                                                                                                                                            | 160      |
| 139  | LEÇON XL. <i>Le royaume de Danemarck.</i>                                                                                                                                                                  | 162      |
|      | <i>Iles du Danemarck.</i>                                                                                                                                                                                  | 163      |
|      | LEÇON XL. (Bis.) <i>Suite du Danemarck.</i>                                                                                                                                                                | 163      |
|      | LEÇON XLI. <i>Royaume uni de Suède et de Norwège.</i>                                                                                                                                                      | 167      |
| 141  | <i>La Suède propre.</i>                                                                                                                                                                                    | ibid.    |
| 142  | <i>La Gothie.</i>                                                                                                                                                                                          | 168      |
| 143  | <i>La Bothnie occidentale, et la Laponie.</i>                                                                                                                                                              | 169      |
| 144  | LEÇON XLII. <i>Suite du royaume de Suède et de Norwège. — La Norwège.</i>                                                                                                                                  | 170      |
|      | <i>Iles du royaume de Suède.</i>                                                                                                                                                                           | 171      |
| 145  | LEÇON XLIII. <i>Le royaume uni de la Grande-Bretagne.</i>                                                                                                                                                  | 173      |
| id.  | <i>L'Angleterre propre.</i>                                                                                                                                                                                | 174      |

|                                                                                                                                                    |          |
|----------------------------------------------------------------------------------------------------------------------------------------------------|----------|
| LEÇON XLIV. <i>Suite de la Grande-Bretagne. —</i><br><i>L'Écosse.</i>                                                                              | Page 176 |
| <i>L'Irlande.</i>                                                                                                                                  | 177      |
| LEÇON XLV. <i>Suite du royaume uni de la Grande-</i><br><i>Bretagne.</i>                                                                           | 179      |
| LEÇON XLVI. <i>Royaume des Pays-Bas.</i>                                                                                                           | 181      |
| LEÇON XLVII. <i>Suite du royaume des Pays-Bas.</i>                                                                                                 | 184      |
| LEÇON XLVIII. <i>Confédération Suisse.</i>                                                                                                         | 193      |
| LEÇON XLIX. <i>L'Italie.</i>                                                                                                                       | 188      |
| LEÇON L. <i>Le royaume de Sardaigne.</i>                                                                                                           | 190      |
| <i>La Sardaigne.</i>                                                                                                                               | 192      |
| LEÇON LI. <i>Le royaume de Naples ou des Deux-</i><br><i>Siciles.</i>                                                                              | 193      |
| <i>La Sicile.</i>                                                                                                                                  | 195      |
| LEÇON LII. <i>Suite de l'Italie. — Le Grand-Duché</i><br><i>de Toscane, les Duchés de Parme et de Modène,</i><br><i>la Principauté de Lucques.</i> | 197      |
| <i>Le Duché de Parme.</i>                                                                                                                          | 198      |
| <i>Le Duché de Modène.</i>                                                                                                                         | ibid.    |
| <i>La principauté de Lucques.</i>                                                                                                                  | 199      |
| LEÇON LIII. <i>Suite de l'Italie. — Etats du Pape.</i><br><i>— République de Saint-Marin.</i>                                                      | ibid.    |
| LEÇON LIV. <i>L'Espagne.</i>                                                                                                                       | 202      |
| LEÇON LV. <i>Suite de l'Espagne.</i>                                                                                                               | 204      |
| LEÇON LVI. <i>Suite de l'Espagne.</i>                                                                                                              | 207      |
| LEÇON LVII. <i>Le Portugal.</i>                                                                                                                    | 209      |

## DEUXIÈME PARTIE. — L'ASIE.

|                                                                                        |     |
|----------------------------------------------------------------------------------------|-----|
| LEÇON I <sup>re</sup> . <i>Etendue, Mers, Golfses et Détroits</i><br><i>de l'Asie.</i> | 213 |
| LEÇON. II. <i>Îles, Presqu'îles et Caps de l'Asie.</i>                                 | 216 |
| LEÇON III. <i>Principaux Lacs et Fleuves de l'Asie.</i>                                | 218 |

|     |                                                       |          |
|-----|-------------------------------------------------------|----------|
| 176 | LEÇON IV. <i>Continuation de la précédente.</i>       | Page 222 |
| 177 | LEÇON V. <i>Principales Montagnes de l'Asie.</i>      | 224      |
| 179 | LEÇON VI. <i>Température. — Population. — Pro-</i>    |          |
| 181 | <i>ductions. — Langues de l'Asie. — Mœurs et</i>      |          |
| 184 | <i>religion de ses habitans.</i>                      | 227      |
| 193 | LEÇON VII. <i>Grandes divisions de l'Asie.</i>        | 250      |
| 188 | <i>Turquie d'Asie.</i>                                | ibid.    |
| 190 | <i>L'Arabie.</i>                                      | 252      |
| 192 | LEÇON VIII. <i>Le Royaume de Perse.</i>               | 254      |
| 193 | LEÇON IX. <i>Le Royaume de Caboul.</i>                | 257      |
| 195 | LEÇON X. <i>L'Indoustan, ou presque'tte occi-</i>     |          |
|     | <i>dentale de l'Inde.</i>                             | 259      |
|     | LEÇON XI. <i>Suite de la précédente.</i>              | 245      |
|     | LEÇON XII. <i>Presqu'île Orientale de l'Inde. —</i>   |          |
|     | <i>Etats qu'elle renferme.</i>                        | 245      |
|     | LEÇON XIII. <i>Suite de la précédente.</i>            | 248      |
|     | LEÇON XIV. <i>Empire du Japon.</i>                    | 250      |
|     | LEÇON XV. <i>Le Royaume de Corée.</i>                 | 253      |
|     | LEÇON XVI. <i>Empire de la Chine, avec la Ta-</i>     |          |
|     | <i>tarie chinoise.</i>                                | 255      |
|     | LEÇON XVII. <i>La Tatarie chinoise.</i>               | 258      |
|     | LEÇON XVIII. <i>Autres détails sur la Chine et la</i> |          |
|     | <i>Tatarie chinoise.</i>                              | 261      |
|     | LEÇON XIX. <i>Le grand et le petit Thibet, le</i>     |          |
|     | <i>Boutan et le Népaul.</i>                           | 265      |
|     | LEÇON XX. <i>La Tatarie indépendante.</i>             | 266      |
|     | LEÇON XXI. <i>La Sibérie ou Russie d'Asie.</i>        | 269      |

## TROISIÈME PARTIE. — L'AFRIQUE.

|   |                                                   |     |
|---|---------------------------------------------------|-----|
| 3 | LEÇON I <sup>re</sup> . <i>Notions générales.</i> | 275 |
| 6 | LEÇON II. <i>Des Iles de l'Afrique.</i>           | 276 |
| 8 | LEÇON III. <i>Suite des Iles d'Afrique.</i>       | 279 |







15  
16  
17  
18  
19  
20  
22  
25  
28  
32  
36  
40

10  
11  
12  
13  
14  
15  
16  
17  
18  
19  
20

|                                                                                                                 |          |
|-----------------------------------------------------------------------------------------------------------------|----------|
| LEÇON IV. <i>Continuation des Iles d'Afrique dans l'Océan atlantique.</i>                                       | Page 281 |
| LEÇON V. <i>Golfes, Baies et Détroits de l'Afrique.</i>                                                         | 284      |
| LEÇON VI. <i>Caps de l'Afrique.</i>                                                                             | 285      |
| LEÇON VII. <i>Lacs et Rivières de l'Afrique.</i>                                                                | 287      |
| LEÇON VIII. <i>Rivières de l'Afrique.</i>                                                                       | 288      |
| LEÇON VIII. (Bis.) <i>Suite des Rivières de l'Afrique.</i>                                                      | 290      |
| LEÇON IX. <i>Principales Rivières de l'intérieur de l'Afrique.</i>                                              | 295      |
| LEÇON X. <i>Montagnes de l'Afrique.</i>                                                                         | 295      |
| LEÇON XI. <i>Divisions de l'Afrique. — Côte de Barbarie.</i>                                                    | 296      |
| <i>De la Barbarie.</i>                                                                                          | 297      |
| LEÇON XII. <i>Description des Etats Barbaresques.</i>                                                           | 300      |
| LEÇON XIII. <i>Description de l'Empire de Maroc.</i>                                                            | 303      |
| LEÇON XIV. <i>Le Bilédu-tgéridou pays des Dattes, le Fezzan, le désert de Berdoa, etc.</i>                      | 305      |
| LEÇON XV. <i>L'Egypte.</i>                                                                                      | 308      |
| LEÇON XVI. <i>La Nubie et le Sennaar.</i>                                                                       | 312      |
| LEÇON XVII. <i>L'Abyssinie.</i>                                                                                 | 315      |
| LEÇON XVIII. <i>Le Sahara ou Grand-Désert.</i>                                                                  | 318      |
| LEÇON XIX. <i>La Nigritie ou le Soudan.</i>                                                                     | 320      |
| LEÇON XX. <i>La Sénégambie.</i>                                                                                 | 323      |
| LEÇON XXI. <i>Suite de la précédente.</i>                                                                       | 326      |
| LEÇON XXII. <i>La Guinée.</i>                                                                                   | 329      |
| LEÇON XXIII. <i>Côte occidentale de l'Afrique depuis le cap Lopo-Gonzalèz, jusqu'au cap de Bonne-Espérance.</i> | 334      |
| LEÇON XXIV. <i>Suite de la précédente.</i>                                                                      | 337      |
| LEÇON XXV. <i>La Colonie du cap de Bonne-Espérance.</i>                                                         | 339      |
| LEÇON XXVI. <i>Les terres de Natal et de Fumo. —</i>                                                            |          |

*Le Monomotapa.*

Page 341

LEÇON XXVII. *Le Mozambique, le Zanguebar,  
et la côté d'Ajan.*

345

## QUATRIÈME PARTIE. — L'AMÉRIQUE.

## DEUXIÈME CONTINENT.

|                                                                                                           |       |
|-----------------------------------------------------------------------------------------------------------|-------|
| LEÇON I <sup>re</sup> . <i>Notions générales.</i>                                                         | 347   |
| LEÇON. II. <i>Suite de la précédente.</i>                                                                 | 349   |
| LEÇON III. <i>Divisions de l'Amérique.</i>                                                                | 351   |
| <i>Mers et Golfses de l'Amérique septentrionale</i>                                                       | ibid. |
| LEÇON IV. <i>Suite des Golfses et Baies de l'Amérique septentrionale. — Détroits de la même Division.</i> | 353   |
| LEÇON V. <i>Principales Iles de l'Amérique septentrionale.</i>                                            | 354   |
| LEÇON VI. <i>Suite de la précédente. — Les Antilles.</i>                                                  | 356   |
| <i>Les Grandes Antilles.</i>                                                                              | 357   |
| LEÇON VII. <i>Les Petites Antilles ou Iles du Vent.</i>                                                   | 359   |
| LEÇON VIII. <i>Suite des Iles de l'Amérique septentrionale.</i>                                           | 362   |
| LEÇON IX. <i>Presqu'îles, Caps et Isthmes de l'Amérique septentrionale.</i>                               | 363   |
| LEÇON X. <i>Principaux Lacs de l'Amérique septentrionale.</i>                                             | 365   |
| LEÇON XI. <i>Montagnes de l'Amérique septentrionale.</i>                                                  | 366   |
| LEÇON XII. <i>Principales Rivières de l'Amérique septentrionale.</i>                                      | 368   |
| LEÇON XIII. <i>Suite de la précédente.</i>                                                                | 371   |
| LEÇON XIV. <i>Divisions de l'Amérique septentrionale.</i>                                                 | 374   |
| <i>Le Groëntland.</i>                                                                                     | ibid  |

|               |                                                                                                               |       |
|---------------|---------------------------------------------------------------------------------------------------------------|-------|
|               | <i>La Nouvelle-Ecosse.</i>                                                                                    | 37    |
| LEÇON XV.     | <i>Le Canada avec la Nouvelle-Bretagne.</i>                                                                   | 376   |
| LEÇON XVI     | <i>Autres Possessions anglaises dans l'Amérique septentrionale. — Amérique Russe.</i>                         | 379   |
|               | <i>L'Amérique Russe.</i>                                                                                      | 380   |
| LEÇON XVII.   | <i>Les Etats-Unis.</i>                                                                                        | ibid. |
| LEÇON XVIII.  | <i>Suite de la précédente.</i>                                                                                | 382   |
| LEÇON XIX.    | <i>Suite de la précédente.</i>                                                                                | 385   |
| LEÇON XX.     | <i>Possessions espagnoles dans l'Amérique septentrionale.</i>                                                 | 387   |
| LEÇON XXI.    | <i>Suite de la précédente.</i>                                                                                | 390   |
| LEÇON XXII.   | <i>Amérique méridionale. — Situation. — Mers. — Golfs. — Baies et Détroits de cette partie de l'Amérique.</i> | 391   |
| LEÇON XXIII.  | <i>Iles de l'Amérique méridionale.</i>                                                                        | 393   |
| LEÇON XXIV.   | <i>Caps, Presqu'îles, Isthmes et Lacs de l'Amérique méridionale.</i>                                          | 396   |
| LEÇON XXV.    | <i>Montagnes de l'Amérique méridionale.</i>                                                                   | 398   |
| LEÇON XXVI.   | <i>Principaux Fleuves ou Rivières de l'Amérique méridionale.</i>                                              | 399   |
| LEÇON XXVII.  | <i>Suite de la précédente.</i>                                                                                | 401   |
| LEÇON XXVIII. | <i>Etats renfermés dans l'Amérique méridionale.</i>                                                           | 404   |
|               | <i>Possessions espagnoles.</i>                                                                                | ibid. |
| LEÇON XXIX.   | <i>Suite de la précédente. — Le Caracas.</i>                                                                  | 406   |
| LEÇON XXX.    | <i>Suite des deux précédentes. — Le Pérou.</i>                                                                | 407   |
| LEÇON XXXI.   | <i>La Plata.</i>                                                                                              | 409   |

## DES LEÇONS.

463

|       |                                                   |          |
|-------|---------------------------------------------------|----------|
|       | LEÇON XXXII. <i>Le Chili.</i>                     | Page 411 |
|       | LEÇON XXXIII. <i>Suite des précédentes.</i>       | 412      |
| 379   | LEÇON XXXIV. <i>La Guyane.</i>                    | 414      |
|       | <i>Divisions de la Guyane.</i>                    | 415      |
| 380   | LEÇON XXXV. <i>Le Brésil.</i>                     | 417      |
| ibid. | LEÇON XXXVI. <i>Divisions et Gouvernement du</i>  |          |
|       | <i>Brésil.</i>                                    | 419      |
| 382   | LEÇON XXXVII. <i>Suite de la précédente. — La</i> |          |
|       | <i>Patagonie.</i>                                 | 422      |
| 385   | <i>La Patagonie.</i>                              | 423      |

## CINQUIÈME PARTIE. — L'Océanique.

## TROISIÈME CONTINENT.

|       |                                                                   |     |
|-------|-------------------------------------------------------------------|-----|
|       | LEÇON I <sup>re</sup> . <i>Notions générales sur l'Océanique.</i> | 425 |
|       | LEÇON II. <i>Suite de la précédente. — Divisions</i>              |     |
|       | <i>de l'Océanique.</i>                                            | 428 |
| 391   | LEÇON III. <i>Suite des deux précédentes. — Les</i>               |     |
|       | <i>Iles de la Sonde, partie de la Grande-Océa-</i>                |     |
| 393   | <i>nique.</i>                                                     | 432 |
| 396   | LEÇON IV. <i>Suite de la Grande-Océanique — Les</i>               |     |
|       | <i>Philippines.</i>                                               | 435 |
| 398   | LEÇON V. <i>Les Motuques.</i>                                     | 437 |
| 399   | LEÇON VI. <i>La Nouvelle-Guinée. — La Nou-</i>                    |     |
| 401   | <i>velle-Bretagne. — La Louisiade, etc.</i>                       | 440 |
| 404   | LEÇON VII. <i>Archipel du Saint-Esprit. — La</i>                  |     |
| ibid. | <i>Nouvelle-Calédonie. — La Nouvelle-Zélande.</i>                 | 442 |
|       | LEÇON VIII. <i>Potynésie boréale.</i>                             | 444 |
| 406   | LEÇON IX. <i>Potynésie australe.</i>                              | 447 |

FIN DE LA TABLE.

ON TROUVE CHEZ LE MÊME LIBRAIRE :

**GLOBE TERRESTRE**, par J.-B. Poirson, géographe.

Cet ouvrage, adopté pour les divers établissemens d'instruction publique, est réduit d'après le grand Globe de MM. Mentelle et Poirson, exécuté par ordre du Gouvernement et placé aux Tuileries, dans la galerie de Diane.

Ce nouveau Globe, d'une sphéricité parfaite, a un pied quatre lignes (pied métrique) de diamètre; il est supporté par un pied formant une colonne tronquée d'ordre toscan, qui soutient quatre quarts de cercle portant l'horizon et un méridien en cuivre, exécutés avec tant de soin, que leurs divisions se projettent parfaitement sur celles du Globe, dont ils sont extrêmement rapprochés. L'ensemble est d'un effet on ne peut plus agréable à l'œil.

Quant à la partie géographique, rien n'a été négligé pour lui mériter tous les suffrages. Les matériaux employés sont ceux que le Gouvernement avait fournis pour le Globe des Tuileries. On s'est servi, en outre, pour l'Amérique méridionale et le Mexique, de Cartes inédites du célèbre voyageur baron de Humboldt; pour la Nouvelle-Hollande et les îles du Grand-Océan (Océanie), de celles de MM. Freycinet et Flinders; pour les îles du Japon, des découvertes de Kreusenstern; et pour l'Afrique septentrionale, des ingénieuses observations du savant Malte-Brun.

La gravure, tant pour le trait que pour les montagnes et la lettre, a été exécutée par d'habiles artistes.

L'élégance de ce Globe, et les nouvelles découvertes géographiques qu'il présente, le rendent le complément nécessaire de toute belle bibliothèque. Il peut également orner un salon, une galerie, ou un cabinet d'étude.

Quoique le pied soit d'une forme très-agrable, et peint avec le plus grand soin, l'Auteur se charge d'en faire exécuter d'une forme différente et d'une plus grande richesse, pour les personnes qui le désireront ainsi. On peut aussi apporter au mécanisme diverses modifications.

Le Globe et son pied doré et verni sont du prix de 210 fr., et de 240 fr. quand la colonne est en bois d'acajou.

La boule couverte de la gravure, et propre à être placée sur un pied quelconque, se vend séparément 60 fr.

**GLOBE CÉLESTE**, exécuté d'après le Catalogue de BODE, publié en 1801, et la Connaissance des Temps, donnant la position de près de 7000 étoiles, calculées pour 1821, dédié au Bureau des longitudes, par le même auteur, de la même forme et avec la même monture que le Globe Terrestre.

Prix, avec le pied en bois peint et verni, 170 fr.  
— Avec pied en bois d'acajou, 210 fr.

Les Globes montés avec des cercles en cuivre, avec pieds en acajou, et un mouvement horizontal, la paire, 450 fr.

— Les mêmes, montés avec des cercles en cuivre, colonnes peintes en brèche, et un mouvement horizontal, la paire, 360 fr.

N. B. Ces deux Globes, qui faisaient partie de la dernière exposition des produits de l'industrie française, ont obtenu les suffrages du jury, et il a été décerné une médaille à leur auteur.



OUVRAGES NOUVELLEMENT PUBLIÉS.

*Cours d'Etudes à l'usage des jeunes gens.* Par Condillac, renfermant *la Grammaire, la Logique, l'Art de penser, l'Art d'écrire, l'Art de raisonner, la Langue des calculs et l'Etude de l'Histoire*, nouvelle édition, ornée de figures et d'un joli portrait. 10 vol. in-18. Prix, broché, 15 fr.

*Traité d'Education publique et privée dans une monarchie constitutionnelle*, ou principes de philosophie, de sciences, de littérature et de législation, appliqués au développement des facultés de l'homme, à l'amélioration des mœurs et au perfectionnement de l'ordre sociale. Par P. H. Suzanne, professeur de mathématiques au Collège royal de Charlemagne, membre correspondant de l'Académie de Lyon et de celle de Marseille. Paris, 1821. 2 vol. in-8°. Prix, 12 fr.

*Collection historique des Ordres de Chevalerie civils et militaires* existant chez les différens peuples du monde, suivie d'un tableau chronologique de tous les Ordres éteints. Par A. M. Perrot. 1 vol. in-4°. orné de 40 planches gravées en taille-douce et coloriées avec le plus grand soin, représentant les plaques, croix, médailles, rubans, et généralement toutes les marques distinctives des Ordres anciens et nouveaux, au nombre de plus de 500. Paris, 1820. Prix, broché, 36 fr.

Papier vélin, cartonné à la Bradel, 72 fr.

*Vies des Pères des Martyrs et des autres principaux Saints*, tirées des actes originaux et des monumens les plus authentiques, avec des notes historiques et critiques. Ouvrage traduit librement de l'anglais d'Alban Butler, par l'abbé Godescard, chanoine de Saint-Honoré. Nouvelle édition, revue, corrigée et augmentée par M. Nagot, ancien directeur du séminaire de Saint-Sulpice. 14 vol. in-8°. Paris, 1820. Prix. 54 fr.

*Lettres de quelques Juifs portugais, allemands et polonais, à M. de Voltaire; avec un petit commentaire, extrait d'un plus grand, à l'usage de ceux qui lisent ses œuvres; et Mémoires sur la Fertilité de la Judée, par M. l'abbé Guénée. Huitième édition, revue, corrigée avec soin, augmentée de notes qui mettent les Lettres de quelques Juifs en rapport avec les éditions de Kell, ou leurs réimpressions, et d'une table alphabétique et raisonnée des matières. Versailles, 1817. 1 vol. in-8°. Prix, broché, 7 fr. 50 c.*

*Œuvres complètes de J. Racine, avec le commentaire de Geoffroy, dans lequel se trouvent rapportés celui de M. Luneau de Boisgermain, et les observations de Louis Racine. 7 vol. in-8°, avec 15 gravures, dont 7 refaites à neuf sur de nouveaux dessins, 7 culs-de-lampes et un fac simile de l'écriture de Racine. 60 fr.*

*Guide (le) de la Conversation anglaise, à l'usage des Français, suivi de la prononciation, par J. L. Mabire; troisième édit., 1 vol. in-16., br. 2 fr. 50 c.*

*Guide (le) de la Conversation française, à l'usage des Anglais; troisième édit., 1 vol. in-16., br., 2 fr.*

*Dictionnaire français-anglais et anglais-français, abrégé de Boyer, avec la prononciation, à l'usage des Français. Vingt-sixième édition, revue, corrigée et augmentée par Fain. Paris, 1821. 2 vol. in-8°. broché, 18 fr.*

*Cours élémentaire de Dessin linéaire, appliqué à l'enseignement individuel, à l'enseignement simultané et à l'enseignement mutuel, d'après les principes de Pestalozzi; par A. BONIFACE, avec un Traité élémentaire de Perspective linéaire, par CHOQUET. Paris, 1821. 1 vol. in-4° oblong, orné de 48 planches. 12 fr.*

nds et  
com-  
e ceux  
rtilité  
e. édi-  
notes  
apport  
ns, et  
tières.  
50 c.

men-  
portés  
serva-  
gra-  
des-  
'écri-  
60 fr.

ge des  
bire ;  
50 c.

usage  
2 fr.

ais,  
usage  
rigée  
n-8°.  
8 fr.

ué à  
tané  
s de  
en-  
ris,  
2 fr.

