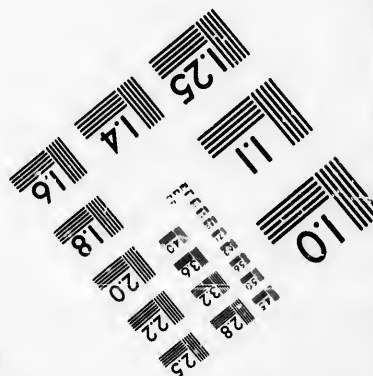





**IMAGE EVALUATION
TEST TARGET (MT-3)**



**Photographic
Sciences
Corporation**

23 WEST MAIN STREET
WEBSTER, N.Y. 14580
(716) 872-4503

**CIHM/ICMH
Microfiche
Series.**

**CIHM/ICMH
Collection de
microfiches.**



Canadian Institute for Historical Microreproductions / Institut canadien de microreproductions historiques

© 1986

Technical and Bibliographic Notes/Notes techniques et bibliographiques

The Institute has attempted to obtain the best original copy available for filming. Features of this copy which may be bibliographically unique, which may alter any of the images in the reproduction, or which may significantly change the usual method of filming, are checked below.

L'Institut a microfilmé le meilleur exemplaire qu'il lui a été possible de se procurer. Les détails de cet exemplaire qui sont peut-être uniques du point de vue bibliographique, qui peuvent modifier une image reproduite, ou qui peuvent exiger une modification dans la méthode normale de filmage sont indiqués ci-dessous.

- Coloured covers/
Couverture de couleur
- Covers damaged/
Couverture endommagée
- Covers restored and/or laminated/
Couverture restaurée et/ou pelliculée
- Cover title missing/
Le titre de couverture manque
- Coloured maps/
Cartes géographiques en couleur
- Coloured ink (i.e. other than blue or black)/
Encre de couleur (i.e. autre que bleue ou noire)
- Coloured plates and/or illustrations/
Planches et/ou illustrations en couleur
- Bound with other material/
Relié avec d'autres documents
- Tight binding may cause shadows or distortion
along interior margin/
La reliure serrée peut causer de l'ombre ou de la
distorsion le long de la marge intérieure
- Blank leaves added during restoration may
appear within the text. Whenever possible, these
have been omitted from filming/
Il se peut que certaines pages blanches ajoutées
lors d'une restauration apparaissent dans le texte,
mais, lorsque cela était possible, ces pages n'ont
pas été filmées.
- Additional comments:/
Commentaires supplémentaires:

- Coloured pages/
Pages de couleur
- Pages damaged/
Pages endommagées
- Pages restored and/or laminated/
Pages restaurées et/ou pelliculées
- Pages discoloured, stained or foxed/
Pages décolorées, tachetées ou piquées
- Pages detached/
Pages détachées
- Showthrough/
Transparence
- Quality of print varies/
Qualité inégale de l'impression
- Includes supplementary material/
Comprend du matériel supplémentaire
- Only edition available/
Seule édition disponible
- Pages wholly or partially obscured by errata
slips, tissues, etc., have been refilmed to
ensure the best possible image/
Les pages totalement ou partiellement
obscurcies par un feuillet d'errata, une pelure,
etc., ont été filmées à nouveau de façon à
obtenir la meilleure image possible.

This item is filmed at the reduction ratio checked below/
Ce document est filmé au taux de réduction indiqué ci-dessous.

10X	14X	18X	22X	26X	30X
<input type="checkbox"/>	<input type="checkbox"/>	<input checked="" type="checkbox"/>	<input type="checkbox"/>	<input type="checkbox"/>	<input type="checkbox"/>
12X	16X	20X	24X	28X	32X

The copy filmed here has been reproduced thanks to the generosity of:

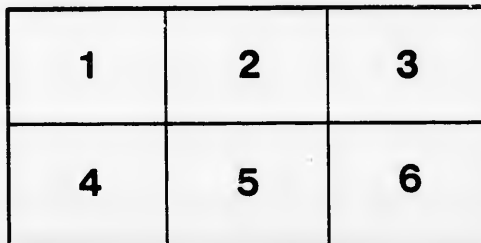
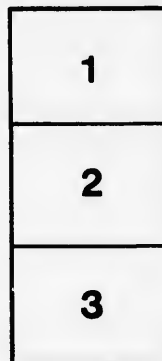
Seminary of Quebec
Library

The images appearing here are the best quality possible considering the condition and legibility of the original copy and in keeping with the filming contract specifications.

Original copies in printed paper covers are filmed beginning with the front cover and ending on the last page with a printed or illustrated impression, or the back cover when appropriate. All other original copies are filmed beginning on the first page with a printed or illustrated impression, and ending on the last page with a printed or illustrated impression.

The last recorded frame on each microfiche shall contain the symbol \rightarrow (meaning "CONTINUED"), or the symbol ∇ (meaning "END"), whichever applies.

Maps, plates, charts, etc., may be filmed at different reduction ratios. Those too large to be entirely included in one exposure are filmed beginning in the upper left hand corner, left to right and top to bottom, as many frames as required. The following diagrams illustrate the method:



L'exemplaire filmé fut reproduit grâce à la générosité de:

Séminaire de Québec
Bibliothèque

Les images suivantes ont été reproduites avec le plus grand soin, compte tenu de la condition et de la netteté de l'exemplaire filmé, et en conformité avec les conditions du contrat de filmage.

Les exemplaires originaux dont la couverture en papier est imprimée sont filmés en commençant par le premier plat et en terminant soit par la dernière page qui comporte une empreinte d'impression ou d'illustration, soit par le second plat, selon le cas. Tous les autres exemplaires originaux sont filmés en commençant par la première page qui comporte une empreinte d'impression ou d'illustration et en terminant par la dernière page qui comporte une telle empreinte.

Un des symboles suivants apparaîtra sur la dernière image de chaque microfiche, selon le cas: le symbole \rightarrow signifie "A SUIVRE", le symbole ∇ signifie "FIN".

Les cartes, planches, tableaux, etc., peuvent être filmés à des taux de réduction différents. Lorsque le document est trop grand pour être reproduit en un seul cliché, il est filmé à partir de l'angle supérieur gauche, de gauche à droite, et de haut en bas, en prenant le nombre d'images nécessaire. Les diagrammes suivants illustrent la méthode.

ails
du
odifier
une
mage

rrata
o

elure,
n à



32X

G

216 Géographie N° 2

NOUVELLE
GEOGRAPHIE PRIMAIRE

ILLUSTRÉE

A L'USAGE

DES ÉCOLES CHRÉTIENNES

DE LA

PUISSANCE DU CANADA.



PAR LES FRÈRES DES ÉCOLES CHRÉTIENNES,
MONTREAL,
50, RUE COTTÉ, 50.

J. CHAPLEAU & FILS, Imprimeurs & Relieurs, 31 rue Cotté.

PRÉFACE.

En préparant ce *Cours Élémentaire de Géographie*, qui n'est qu'une introduction à nos deux autres volumes déjà publiés, nous n'avons point perdu de vue que nous travaillions pour de très-jeunes enfants; dans cette pensée, nous l'avons simplifié autant qu'il nous a été possible, sans rien négliger toutefois de ce qui est essentiel pour en faire un cours complet.

Pour atteindre ce but, nous en avons distrait les grands détails, les longues nomenclatures, et, généralement, tout ce qui offre quelque difficulté, ne nous attachant qu'au facile, à l'utile et même à l'agréable.

Ainsi combiné, cet abrégé présente aux élèves trois leçons distinctes : le Texte, les Illustrations et les Cartes.


Le *Texte*, qui n'est qu'une légère esquisse sur chaque contrée, est divisé en courts paragraphes, afin d'en faciliter l'étude.

Les *Illustrations*, de nos jours fort recommandées, peuvent donner un enseignement d'intuition aussi instructif qu'intéressant.

Les *Cartes*, gravées spécialement pour cet ouvrage, font saisir sans efforts et même avec goût, au moyen des *Exercices* mis en regard, les divers accidents physiques de la surface du globe.

Puissent ces éléments de notre *Série Géographique*, être utiles à la jeunesse pour laquelle nous les avons coordonnés !

NOUVELLE
GEOGRAPHIE PRIMAIRE
ILLUSTREE.



DÉFINITIONS.

LEÇON I.

1.

Qu'est-ce que la Géographie ?

La **Géographie** est la description de la terre.

Quelle est la forme de la terre ?

La terre est à peu près ronde, comme une boule.

Quelle partie de la terre la Géographie décrit-elle ?

La Géographie décrit la **surface** de la terre.

De quoi est composée la surface du globe ?

Elle est composée de **terre** et d'**eau**.

2.

Quelle partie de la surface du globe a le plus d'étendue, la terre ou l'eau ?

C'est l'eau.

Quelle est la différence entre la surface de l'eau et celle de la terre ?

La surface de l'eau est environ trois fois celle de la terre.

Comment représente-t-on la terre ?

On représente la terre par le moyen de **Cartes** et de **Globes**.

Qu'est-ce qu'une Carte ?

Une **Carte** est un plan qui représente la terre, en entier ou en partie.

3.

Qu'est-ce qu'un Globe ou une Sphère ?

C'est une boule qui sert à représenter la terre.

Comment s'appelle la moitié d'une Sphère ?

La moitié d'une Sphère s'appelle **Hémisphère**.

Combien y a-t-il d'Hémisphères ?

Il y en a deux : l'**Hémisphère oriental** et l'**Hémisphère occidental**.

LEÇON II.

1.—Orientation.

Comment appelle-t-on le côté où le soleil se lève ?

On l'appelle **Est**.

Comment appelle-t-on le côté où le soleil se couche ?

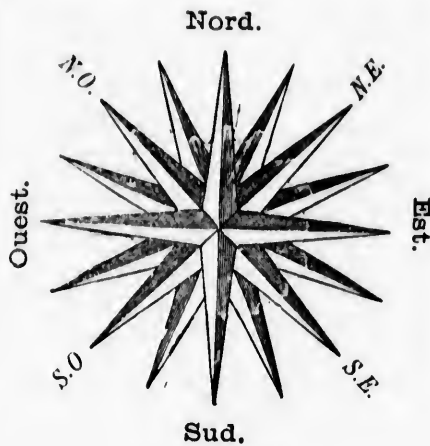
On l'appelle **Ouest**.

Quand vous avez à votre droite le soleil levant, quel point se trouve devant vous ?

Le **Nord**.

Et quel point est alors derrière vous ?

Le **Sud**.



ROSE DES VENTS.

2.

Où se trouve le Nord sur une carte géographique ?

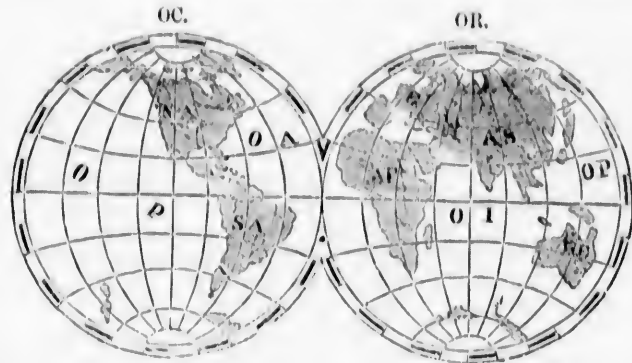
Il se trouve en haut de la carte.

Où se trouve le Sud ?

Le Sud se trouve en bas.

Où se trouve l'Est ?

L'Est se trouve à droite.



Le blanc désigne l'eau. Le noir désigne la terre. OC., Hémisphère Occidental. OR., Hémisphère Oriental. E., Europe. AS., Asie. NA., Amérique du Nord. SA., Amérique du Sud. AF., Afrique. AE., Australie. OP., Océan Pacifique. OA., Océan Atlantique. OI., Océan Indien.

Où se trouve l'Ouest sur la carte ?
L'Ouest sur la carte se trouve à gauche.

3.

Comment nomme-t-on le point entre le Nord et l'Est ?
On le nomme le **Nord-Est**.

Comment se nomme celui qui se trouve entre le Sud et l'Est ?
Il se nomme le **Sud-Est**.

Celui qui est entre le Nord et l'Ouest ?
Il s'appelle le **Nord-Ouest**.

Et celui qui est entre le Sud et l'Ouest ?
Il se nomme le **Sud-Ouest**.

LEÇON III.

Divisions naturelles des Terres.

1.

Quelles sont les divisions naturelles des terres ?

Ce sont les Continents, les Iles, les Presqu'îles, les Isthmes, les Caps, les Montagnes, les Plainnes, les Vallées, etc.

Qu'est-ce qu'un Continent ?

Un **Continent** est une grande étendue de terre non interrompue par les mers.

Combien y a-t-il de Continents ?

Il y a deux Continents, l'**Ancien** et le **Nouveau**.

Quelles sont les grandes régions de l'Ancien Continent ?

L'Europe, l'Asie et l'Afrique.



Iles, Péninsules, Montagnes, Mers, Golfs, etc.—1, 2. Frontières.—3. Isthme.
—4. Plaine.—5. Ville.—6. Source d'une Rivière.—7. Chemin de Fer.

Quelles sont les grandes régions du Nouveau Continent ?
L'Amérique Septentrionale et l'Amérique Méridionale.

2.

Quelle autre grande partie de la terre prend aussi le nom de Continent ?
L'Australie.

Dans quel Hémisphère se trouve l'Australie ?

Dans l'Hémisphère oriental.

Dans quel Hémisphère trouve-t-on l'Asie ?

Dans l'Hémisphère oriental.
Dans quel Hémisphère se trouve l'Amérique ?
Dans l'Hémisphère occidental.

LEÇON IV.

1.

Qu'est-ce qu'une Ile ?

Une **Ile** est une étendue de terre entièrement entourée d'eau.

Qu'est-ce qu'une Presqu'île ?

Une **Presqu'île** est une étendue de terre que les eaux n'entourent pas entièrement.

Qu'est-ce qu'un Isthme ?

Un **Isthme** est une langue de terre qui unit une presqu'île à une autre terre.

Qu'est-ce qu'un Cap ?

Un **Cap** est une pointe de terre élevée qui s'avance dans les eaux.

2.

Qu'est-ce qu'une Montagne ?

Une **Montagne** est une grande masse de terre qui s'élève au-dessus de la surface du globe.

Qu'est-ce qu'une Colline ?

Une **Colline** est une petite montagne.

Qu'est-ce qu'un Volcan ?

Un **Volcan** est une montagne qui vomit des matières enflammées.

Qu'est-ce qu'une Plaine ?

Une **Plaine** est un grand espace de terrain à peu près d'égal niveau.

3.

Qu'est-ce qu'un Plateau ?

Un **Plateau** est une plaine élevée.

Qu'est-ce qu'une Vallée ?

Une **Vallée** est une plaine étroite où coule ordinairement un cours d'eau.

Qu'est-ce qu'un Désert ?

Un **Désert** est une région aride et stérile.

Qu'est-ce qu'une Oasis ?

Une **Oasis** est un terrain fertile situé dans un désert.

Qu'est-ce qu'une Côte ?

Une **Côte**, c'est le rivage de la mer.

LEÇON V.

Divisions naturelles des Eaux.

1.

Quelles sont les divisions naturelles des eaux ?

Ce sont les Océans, les Mers, les Golfes, les Baies, les Détroits, les Laes, les Rivières, etc.

Qu'est-ce que l'Océan ?

L'**Océan** est l'ensemble des eaux salées qui entourent les continents.

Combien y a-t-il d'Océans ?

Il y a cinq Océans : l'Océan Pacifique, l'Océan Atlantique, l'Océan Indien, l'Océan Arctique et l'Océan Antarctique.

2.

Qu'est-ce qu'une Mer Intérieure ?

Une **Mer Intérieure** est celle qui est au milieu des terres.

Qu'est-ce qu'une Mer Extérieure ?

Une **Mer Extérieure** est une portion de l'océan entourée en partie par des terres.

Qu'est-ce qu'un Golfe ou une Baie ?

Un **Golfe** ou une **Baie** est une partie de la mer s'avancant dans les terres.



L'Océan.

2.

Qu'est-ce qu'un Lac ?

Un **Lac** est une grande étendue d'eau au milieu des terres.

Qu'est-ce qu'un Déroit ?

Un **Déroit** est un bras de mer qui a peu de largeur et qui unit deux mers.

Qu'est-ce qu'un Port ?

Un **Port** est le lieu où les bateaux chargent et déchargent les marchandises.

LEÇON VI.

1.

Qu'est-ce qu'un Fleuve ?

Un **Fleuve** est un cours d'eau considérable qui se jette dans la mer.

Qu'est-ce qu'une Rivière ?

Une **Rivière** est un cours d'eau qui se jette dans un fleuve ou dans une autre rivière.

Qu'est-ce que la Source d'une rivière ?

C'est l'endroit où la rivière commence à couler.

Qu'est-ce que l'Embouchure d'une rivière ?

C'est l'endroit où la rivière finit.

2.

Qu'est-ce qu'un Affluent ?

Un **Affluent** est une rivière qui se jette dans une autre.

Qu'appelle-t-on Rive droite d'une rivière ?

Le côté de la rivière qui est à la droite d'une personne qui la descend.

Qu'appelle-t-on Rive gauche ?

Le côté opposé à la rive droite.

3.

Qu'est-ce que le Haut d'une rivière ?

C'est la partie de la rivière qui est vers sa source.

Qu'est-ce que le Bas d'une rivière ?

C'est la partie qui est vers son embouchure.

Qu'est-ce qu'une Cataracte ?

C'est le saut que font les eaux en tombant d'une hauteur considérable.

Qu'est-ce qu'un Confluent ?

Un **Confluent** est l'endroit où deux rivières se rencontrent.

Qu'est-ce qu'un Canal ?

Un **Canal** est une espèce de fossé construit pour faciliter le transport des marchandises.

LEÇON VII.

Divisions politiques.

1.

Quelles sont les principales divisions politiques du globe ?

Ce sont les Empires, les Royaumes, les Républiques, les Confédérations, les Provinces, etc.

Qu'est-ce qu'un Empire ?

Un **Empire** est un état renfermant plusieurs contrées, et gouverné par un empereur.

Qu'est-ce qu'un Royaume ?

Un **Royaume** est un état gouverné par un roi ou une reine.

2.

Qu'est-ce qu'une République ?

Une **République** est un état qui n'a qu'un chef temporaire, nommé président.

Qu'est-ce qu'une Confédération ?

Une **Confédération** est une alliance entre plusieurs états ou provinces.

Qu'est-ce qu'une Province ?

Une **Province** est une subdivision d'un état.

Qu'est-ce qu'un Comté ?

Un **Comté** est une des subdivisions d'une province.



1. Blanc.—2. Jaune.—3. Brun.—4. Rouge.—5. Noir.

3.

Qu'est-ce qu'un Diocèse ?

Un **Diocèse** est une étendue de pays sous la juridiction d'un évêque.

Qu'est-ce qu'une Paroisse ?

Une **Paroisse** est une portion de diocèse, sous la juridiction d'un curé.

Qu'est-ce qu'une Ville ?

Une **Ville** est l'assemblage d'un grand nombre de maisons disposées par rues.

Comment appelle-t-on la ville où le Gouvernement réside ?

On l'appelle **Capitale**.

4.—Races humaines.

La *race blanche* comprend les nations de l'Europe, de l'Asie occidentale, du nord de l'Afrique et celles de l'Amérique.

La *race jaune* comprend les nations de l'Asie orientale, les Lapons et les Esquimaux.

La *race brune* comprend les peuples de la Malaisie.

La *race rouge* comprend les Indiens ou Sauvages de l'Amérique.

La *race noire* comprend la plus grande partie de l'Afrique et de l'Australasie.

Ces *racés*, eu égard à leurs habitudes, peuvent encore se diviser en quatre classes : les Sauvages, les Barbares, les peuples demi-civilisés et les peuples civilisés.

AMÉRIQUE SEPTENTRIONALE.



ANIMAUX DE L'AMÉRIQUE SEPTENTRIONALE.

LEÇON VIII.

1.

1. L'Amérique Septentrionale est bornée au Nord par l'Océan Arctique; à l'Est, par l'Atlantique; au Sud et à l'Ouest, par le Pacifique.

2. Les principales divisions de l'Amérique Septentrionale sont la Puissance du Canada, les Etats-Unis, le Mexique et l'Amérique Centrale.


3. Les principales *Iles* de l'Amé-

rique Septentrionale sont celles de Terre-Neuve, du Prince-Edouard, Cuba, la Jamaïque, Porto-Rico et Vancouver.

2.

1. Les *Presqu'îles* les plus remarquables sont la Nouvelle-Ecosse, la Floride et la Basse-Californie.

2. Les principaux *Caps* sont Farewell, Hatteras, Sable, St-Lucas et Mandacino.



PONT SUSPENDU DE NIAGARA.

3. Les principales *Montagnes* sont les Alleghans et les *Montagnes Rocheuses*.

4. Les principaux *Golfes* sont : le golfe St-Laurent, le golfe du Mexique et la baie d'Hudson.

3.

1. Les *Détroits* les plus remarquables sont : le détroit de Belle-Isle et celui de Behring.

2. Les principaux *Lacs* sont ceux de la Grande-Ourse, de l'Esclave, les lacs Supérieur, Michigan, Huron, Érié et Ontario.

3. Les principaux *Fleuves* sont le Mackenzie, le St-Laurent, le Mississippi et le Rio Grande.

1.—QUESTIONNAIRE.—1. Quelles sont les bornes de l'Amérique Septentrionale ?

2. Comment se divise l'Amérique Septentrionale ?

3. Quelles sont les principales îles de l'Amérique Septentrionale ?

2.—1. Quelles sont les principales *presqu'îles* ?

2. Quels sont les principaux caps ?

3. Quelles sont les principales *montagnes* ?

4. Quels sont les principaux *golfs* ?

—Les principales *baies* ?

3.—1. Quels sont les *détroits* les plus remarquables ?

2. Quels sont les principaux *lacs* ?

3. Quelles sont les principales *rivières* ?

LEÇON IX.

PUISSANCE DU CANADA.

1.

1. La *Puissance du Canada* est une vaste région qui occupe une grande partie du nord de l'Amérique Septentrionale.

2. Elle comprend sept Provinces, savoir : Québec, Ontario, la Nou-

vell
wic
nito
y a
Que
O
men
l'Ou
leme
men
près
qual

1.
anci
les
Laur
tario
2.
très-
en é
3.
blé,
des
abon
4.
le Ca
le St-
C'est
merc
glete
Mo
ville
d'un

velle-Ecosse, le Nouveau-Brunswick, l'Île du Prince-Edouard, Manitoba et la Colombie Anglaise; il y a en outre le Territoire du Nord-Ouest et le District de Kiwatin.

Ottawa, capitale, est agréablement située sur la rive droite de l'Outaouais. Les bâties du Parlement en sont le principal ornement. La chute de la Chaudière, près de la ville, est très-remarquable.

2.—Québec.

1. La *Province de Québec*, la plus ancienne des sept, est située sur les deux versants du fleuve St-Laurent, entre la province d'Ontario et l'Atlantique.

2. Le *climat* de cette Province est très-froid en hiver, mais agréable en été et en automne.

3. Le *sol* est fertile; il produit le blé, le maïs et les autres graminées, des fruits et des légumes en abondance.

4. *Québec*, capitale, est assise sur le Cap-Diamant, d'où elle domine le St-Laurent et tous les environs. C'est le grand entrepôt du commerce de la Puissance avec l'Angleterre.

Montréal est la plus importante ville de la Puissance et le siège d'un grand commerce.

1.—QUESTIONNAIRE.—1. Qu'est-ce que la Puissance du Canada?—Quelle partie de l'Amérique occupe-t-elle?

2. Quelle est la capitale de la Puissance?—Sur quelle rivière est-elle située?—Quels en sont les principaux édifices?—Quelle chute remarquable est située près d'Ottawa?

2.—Où la province de Québec est-elle située?—Quelle espèce de climat a-t-elle?

2. Quelle espèce de sol?—Que produit-elle?

3. Quelle est la capitale de cette Province?—Où est-elle située?—Quelle est la ville la plus importante du Canada?

3.—Ontario.

1. Cette Province est située à l'ouest de celle de Québec et au N. des Etats-Unis; elle est la première province pour la population.

2. Son *climat* est plus doux que celui de la province de Québec, parce qu'elle est plus au sud.

3. Le *sol* est généralement fertile; les produits sont à peu près les mêmes que ceux de la province de Québec. L'huile de pétrole surtout y abonde.

Le commerce est très-actif.

4. *Toronto*, capitale, ville très-prospère, est située sur une jolie baie du lac Ontario. Son havre est sûr et spacieux. L'Université en est le principal édifice.



SUCRE D'ERABLE.

LEÇON X.

1.—Nouvelle-Ecosse.

1. La *Nouvelle-Ecosse* est une presqu'île située au sud du golfe St-Laurent.

2. Ses côtes sont échanquées par un grand nombre de bons havres, qui favorisent singulièrement le commerce.

3. Son *climat* est plus doux que celui de Québec. Ses principaux produits sont ceux qui proviennent de l'agriculture, des pêcheries et des mines.

4. *Halifax*, capitale, est la principale station navale de l'Angleterre en Amérique. Son havre est un des plus beaux du monde.

2.—Nouveau-Brunswick.

1. Le *Nouveau-Brunswick* est compris entre la province de Québec et la Nouvelle-Ecosse, à laquelle il est réuni par l'isthme de Chignectou.

2. Sa surface, en général, est onduleuse ; les montagnes sont peu élevées.

3. ...
la pr
4. L
habit
forêt
seaux
Fro
blenn
du fle
St-
l'emb
est la
Prov

1.-

1.
situé
c'est
Puiss
propo
2. L
celui
3. S
provi
l'expl
4.
bâti
de la

1.
vière-

3. Son *climat* ressemble à celui de la province de Québec.

4. Les principales occupations des habitants sont : l'exploitation des forêts et la construction de vaisseaux.

Frédéricton, capitale, est agréablement située sur la rive droite du fleuve St-Jean.

St-Jean, sur la rive nord, à l'embouchure du fleuve St-Jean, est la ville la plus importante de la Province.

LEÇON XI.

1.—Ile du Prince-Edouard.

1. *L'Ile du Prince-Edouard* est située dans le golfe St-Laurent; c'est la plus petite province de la Puissance, mais la plus peuplée proportionnellement.

2. Le *climat* est plus doux que celui des provinces voisines.

3. Ses produits sont ceux qui proviennent de l'agriculture et de l'exploitation des forêts.

4. *Charlottetown*, capitale, est bâtie sur une petite élévation, près de la rivière Hillsborough.

2.—Manitoba.

1. *Manitoba*, traversé par la Rivière-Rouge, était autrefois connu

sous le nom d'*Etablissement* de la Rivière Rouge.

2. Le *climat* est très-froid en hiver.

3. Sa surface est unie et couverte de prairies; le *sol* est très-propre à la culture et très-productif.

4. *Winnipeg*, capitale, est assise à la jonction de la rivière Assiniboine et de la Rivière-Rouge. C'est la métropole du commerce pour le Nord-Ouest.

LEÇON XII.

1.—Colombie Anglaise.

1. *La Colombie Anglaise*, appelée autrefois Nouvelle-Calédonie, est la province la plus occidentale de la Puissance. Elle est comprise entre les Montagnes-Rocheuses et le Pacifique, au N. des Etats-Unis, dont elle est séparée par le 49^e degré de latitude.

2. Sa surface est montagneuse; le *climat*, généralement doux, est agréable et salubre.

3. Cette Province est particulièrement remarquable pour ses mines d'or, qui sont très-abondantes.

4. *Victoria*, capitale, est située dans la partie sud de l'île Vancouver; les environs en sont remarquablement beaux.

2.—Territoire du Nord-Ouest.

1. Ce *Territoire* est une vaste contrée qui occupe le N. de la Puissance du Canada et s'étend jusqu'à l'Océan Arctique.

2. Le *climat* est extrêmement froid et se refuse à toute culture, excepté la partie du Sud-Ouest, nommée *prairies*.

3. Le *sol*, dans le S. consiste en prairies et dans le N., en forêts qui fournissent des fourrures en abondance.

4. La principale place est *Battleford*, située à la jonction des rivières Battle et Saskatchewan.

3.—Kiwatin.

1. Le *District* de *Kiwatin* est compris entre la province d'Ontario, le territoire du Nord-Ouest et Manitoba.

2. Le *climat* est extrêmement froid.

3. Le N. de ce *District*, comme le N. du Nord-Ouest, n'est utile que pour la chasse des animaux à fourrures.

4. Ce *District* est gouverné par les autorités de Manitoba.

4.—Terreneuve.

1. L'île de *Terreneuve* est située dans le golfe St-Laurent; elle est

découpée par un grand nombre de baies.

2. Le *climat* est un peu humide, mais salubre; les brouillards y sont fréquents.

3. Le câble transatlantique y a son *terminus*. Le grand Banc de Terreneuve est très-renommé pour la pêche de la morue.

4. *St-Jean*, située dans la péninsule Avalon, en est la capitale.

LEÇON XIII.**1.—Etats-Unis.**

1. Les *Etats-Unis* occupent le centre de l'Amérique Septentrionale et s'étendent de la Puissance du Canada au golfe du Mexique, et de l'Atlantique au Pacifique.

2. *Washington*, capitale, est une belle ville et bien bâtie, sur la rivière Potomac; le Capitole en est le principal ornement.

3. Les *Etats-Unis* se divisent en *Etats* de l'Est, *Etats* du Milieu, *Etats* du Sud et *Etats* de l'Ouest; ils comptent en outre onze territoires, y compris Alaska.

2.—Etats de l'Est.

1. Les *Etats* de l'Est sont au nombre de six, et forment ce qu'on appelle la Nouvelle-Angleterre; ils

sont

et s'

2.

sévè

3.

du l

nées

4.

ton o

1.

bre d

et à l


tende

lacs

2.

plus

Angl



CONVOI DE CHEMIN DE FER.

sont situés au nord-est de l'Union et s'étendent le long de l'Atlantique.

2. Le *climat* est doux en été et sévère en hiver.

3. Le sol est excellent : il produit du blé, du maïs et autres graminées.

4. Les principales villes sont *Boston* et *Providence*.

3.—Etats du Milieu.

1. *Les Etats du Milieu*, au nombre de quatre, sont situés au sud et à l'ouest des précédents, et s'étendent de l'Atlantique aux grands lacs Canadiens.

2. Le *climat* est généralement plus doux que dans la Nouvelle-Angleterre.

3. Une grande partie du sol de ces Etats est fertile et produit du blé, du maïs, du seigle, etc., et aussi des fruits.

4. Les principales villes sont *New-York*, la plus grande ville de toute l'Amérique ; *Philadelphie* et *Brocklyn*.

LEÇON XIV.

1.—Etats du Sud.

1. *Les Etats du Sud*, au nombre de douze, s'étendent de la rivière Susquehanna à la Rio Grande, et sont baignés par l'Atlantique et le golfe du Mexique.

2. Le *climat* est généralement chaud ; la neige et la glace y sont rares.



COTON.

3. Presque tout le coton, le sucre, le tabac et le riz des Etats-Unis, sont produits par les Etats du Sud.

4. Les principales villes de ces Etats sont *Baltimore*, *Nouvelle-Orléans* et *Washington*.

2.—Etats de l'Ouest.

1. *Les Etats de l'Ouest* comprennent quinze états et dix territoires; ils s'étendent des monts Alleghany au Pacifique, et du Mexique à la Puissance du Canada.

2. Le *climat* varie selon la latitude; mais en général, il est plus doux que dans les Etats de l'Est.

3. Dans toute la vallée du Mississippi, le sol est généralement riche et fertile.

4. Les principales villes sont *St-Louis*, *Chicago* et *San Francisco*.

5. Le chemin du Pacifique traverse toute cette contrée, de Omaha à San Francisco, en Californie, faisant un parcours de 1907 miles.

LEÇON XV.

1.—Mexique.

1. *Le Mexique* est une république très-étendue située au sud des Etats-Unis, desquels elle est en partie séparée par la Rio Grande.

2. Le *climat* de cette contrée est très-chaud.

3. Le *sol* produit une grande variété de fruits tropicaux. Il possède aussi plusieurs riches mines d'or et d'argent.

4. *Mexico*, capitale, est située dans une délicieuse vallée, à 8,000 pieds d'élévation au-dessus du niveau de la mer.

2.—Amérique Centrale.

1. *L'Amérique Centrale* est une confédération située entre le Mexique et l'isthme de Panama. Elle est divisée en plusieurs Etats indépendants.



CANNES A SUCRE.

2. Cette contrée est particulièrement remarquable par la chaleur de son *climat*, ses nombreux volcans et ses riches mines d'argent.

3. Les productions sont semblables à celles du Mexique ; elle exporte l'acajou et le *bois des Indes* en grande quantité.

4. Les principales villes de ces Etats sont *Guatemala*, *San José* et *San Salvador*.


3.—Antilles.

1. *Les Antilles*, ou Indes Occidentales, sont des îles situées entre l'Amérique Septentrionale et l'Amérique Méridionale.

2. Elles se divisent en Grandes et en Petites Antilles.

3. Le *climat* est chaud et malsain sur les côtes, mais sain et agréable dans l'intérieur. Le *sol* est généralement fertile.

AMÉRIQUE MÉRIDIONALE.



ANIMAUX DE L'AMÉRIQUE MÉRIDIONALE.

LEÇON XVI.

1.

1. L'Amérique Méridionale est bornée au N. par la mer des Antilles ; à l'E., par l'Atlantique ; au S., par l'Océan Antarctique ; et à l'O., par l'Océan Pacifique.

2. Les principales divisions sont les États-Unis de la Colombie, le Vénézuéla, les Guyanes, le Brésil, l'Uruguay, la Confédération Argentine, la Patagonie, le Chili, la Bolivie, le Pérou, l'Équateur et le Paraguay.

3. Les principales *Iles* sont celles de Joannes et la Terre-de-Feu.

4. Les *Caps* les plus importants sont Gallinas, St-Roque, Horn et Blanco.

2.

1. Les principales *Montagnes* sont les Andes et les monts Bréziliens.

2. Les *Baies* sont celles de Tousles-Saints et de Panama ; les *Golfes*, ceux de St-Georges et de Guayaquil.

3. Le principal *Détroit* est celui de Magellan, et le principal *Lac*, celui de Maracaybo.

4. Parmi les principaux *Fleuves*, on remarque l'Amazone, le plus grand du globe ; le Rio de la Plata, formé par les rivières Parana et Paraguay.

LEÇON XVII.

1.—Etats-Unis de la Colombie.

1. Cette contrée occupe la partie N.-O. de l'Amérique Méridionale, y compris l'isthme de Panama.

2. Le *climat* est très-chaud et malsain, excepté sur les plateaux élevés.

3. On y trouve de l'or et des pierres précieuses en grande quantité.

4. *Bogota*, située au centre du pays, en est la capitale.

2.—Vénézuéla.

1. Le *Vénézuéla* est situé dans le N. de l'Amérique Méridionale, et à l'E. des Etats-Unis de la Colombie.

2. Le *climat* est à peu près le même que celui de la Colombie.

3. La plus grande partie de cet Etat consiste en une vaste plaine

convertie d'herbes qui permet l'élevage de nombreux troupeaux.

4. *Caracas*, située non loin de la mer, en est la capitale.

3.—Guyanes.

1. Les *Guyanes* sont des colonies, aussi situées dans le N. de l'Amérique Méridionale, à l'E. du Vénézuéla.

2. Le *climat* est chaud et assez malsain.

3. Le *sol* produit une grande variété de fruits ; on y récolte aussi la canne à sucre, du café, et des épices.

4. Les principales villes sont *Georgetown*, *Paramaribo* et *Cayenne*.

LEÇON XVIII.

1.—Brésil.

1. Le *Brésil* est la plus grande contrée de l'Amérique Méridionale ; il en occupe presque toute la partie orientale.

2. Le *climat* est chaud, mais assez agréable.

3. Parmi ses productions, on cite particulièrement les bois précieux et les bois à peinture. Les diamants et les pierres précieuses s'y trouvent en grande quantité. La moitié du café consommé sur le globe est produit par le Brésil.



CHASSE AUX BOUEFS SAVAGES.

4. *Rio Janeiro*, capitale, est la ville la plus considérable de l'Amérique Méridionale.

1.—Uruguay.

1. Cette petite contrée est située au S. du Brésil, et à l'E. de la Confédération Argentine.

2. Le *climat* est sain et délicieux.

3. Une grande partie du pays consiste en prairies, appelées *pampas*.

4. *Monté-Video*, sur le Rio de la Plata, en est la capitale.

3.—Confédération Argentine.

1. Ce pays, appelé aussi la Plata, est formé d'une grande con-

trée de l'Amérique Méridionale ; il est situé au S.-O. du Brésil.

2. Le *climat*, en général, est sain et tempéré.

3. La Plata est particulièrement remarquable par le grand nombre de bestiaux qui errent en liberté dans ses vastes plaines ou *Pampas*.

4. *Buenos-Ayres*, sur le Rio de la Plata, est la capitale.

LECON XIX.

1.—Patagonie.

1. La *Patagonie* est la partie la plus méridionale de l'Amérique.

2. C'est un pays froid, aride et

sans
des
3.
ville

1.
étro
Paci
tion

2.
3.
tile ;
et d
par
men

4.
Valp
mer.

1.
Brés

faisa
2.
chau

3.
rema
d'arg

4.

Sucre

1. B
Brési

sans culture ; ses habitants sont des sauvages très-peu connus.

3. La Patagonie n'a point de villes.

2.—Chili.

1. Le *Chili* est un pays long et étroit situé entre les Andes et le Pacifique, à l'O. de la Confédération Argentine.

2. Le *climat* est sain et agréable.

3. Le *sol* est généralement fertile ; il contient des mines d'or et d'argent. Il est remarquable par ses volcans et ses tremblements de terre.

4. *Santiago* est la capitale, et *Valparaiso*, le principal port de mer.

3.—Bolivie.

1. La *Bolivie* est située à l'E. du Brésil et au N. de La Plata. Elle faisait autrefois partie du Pérou.

2. Le *climat* est extrêmement chaud.

3. Ce pays est particulièrement remarquable par ses riches mines d'argent.

4. *Chuquisaca*, appelée aussi *Sucre*, est la capitale.

LECON XX.

1.—Pérou.

1. Le *Pérou* est située entre le Brésil et l'Océan Pacifique.

2. Le *climat* est chaud, et le pays souvent visité par de violents tremblements de terre.

3. Le *Pérou* est renommée à cause de l'abondance de ses métaux précieux.

4. *Lima*, capitale, est la plus belle ville de l'Amérique Méridionale

2.—Equateur.

1. L'*Equateur* est situé entre le Brésil et l'Océan Pacifique, et entre la Colombie et le Pérou.

2. Le *climat* est chaud et malsain, excepté sur les plateaux où il est doux et salubre.

3. Le *sol* est très-fertile, excepté dans le N. où il ne pleut que rarement.

4. *Quito*, située à 8,000 pieds d'altitude, est la capitale.

3.—Paraguay.


1. Le *Paraguay*, petit état intérieur, est situé entre le Brésil, La Plata et la Bolivie.

2. Le *climat* est doux et salubre.

3. Une des plus remarquables productions du Paraguay est le *Yerba maté*, dont on se sert au lieu de thé dans une grande partie de l'Amérique Méridionale.

4. *l'Assomption* est la capitale du Paraguay.

EUROPE.



ANIMAUX DE L'EUROPE.

LESSON XXI.

1.

1. L'Europe est bornée au N. par la mer Glaciale ; à l'E., par l'Asie et la mer Caspienne ; au S., par la mer Noire et la Méditerranée ; et, à l'O., par l'Océan Atlantique.

2. Les principaux *Etats* de l'Europe sont les Iles Britanniques, le Danemark, la Norvège, la Suède, la Russie, la France, la Hollande, l'Empire Germanique, l'Autriche, la Suisse, l'Espagne, le Portugal, l'Italie, la Turquie et la Grèce-

2.

1. Les principales *Iles* sont : les Iles Britanniques, dans l'Atlantique ; la Corse, la Sardaigne et la Sicile, dans la Méditerranée.

2. Les *Presqu'îles* sont la Suède et la Norvège, la Grèce, l'Italie, l'Espagne et le Portugal, et la Hollande.

3. Les *Caps* les plus remarquables sont : les caps Nord, Matapau, et Finistère.

Les principales *Montagnes* sont

les I
Alp

1.
bles
land

2.

le P
ceux


3.
d'On

4.

quab
Dnié
Rhine

1

1.



VUE DE LONDRES.

les Dovrefields, les Carpathes, les Alpes et les Pyrénées.

3.

1. Les *Golfes* les plus remarquables sont ceux de Bothnie, de Finlande et de Gascogne.

2. Les principaux *Détroits* sont le Pas de Calais, le Skager Rack, ceux de Messine et de Gibraltar.

3. Les principaux *Lacs* sont ceux d'Onéga et de Ladoga, en Russie.

4. Les *Fleuves* les plus remarquables sont le Volga, le Don, le Dniéper, le Danube, le Rhône et le Rhin.

LEÇON XXII.

1.—Les Iles Britanniques.

1. Les *Iles Britanniques* sont si-

tuées au N.-O. de l'Europe et forment le Royaume de la Grande-Bretagne. Elles se composent de l'Angleterre, de l'Ecosse et de l'Irlande.

2. Le *climat* est très-doux et généralement humide.

3. Le *sol* de ces îles est fertile ; l'agriculture est portée à un très-haut degré de perfection. L'Angleterre est la contrée la plus commerciale du monde.

4. *Londres*, capitale de l'Angleterre, est la ville la plus grande et la plus riche du globe. Elle est très-sujette aux brouillards.

Edimbourg, capitale de l'Ecosse et *Dublin*, capitale de l'Irlande, sont remarquables par leurs rues élé-

gantes et leurs beaux édifices publics.

2.—Scandinavie.

1. La *Scandinavie*, située au N.-E. de l'Europe, comprend la presqu'île de Suède et de Norwége, et celle de Danemark.

2. Le *climat* est très-froid, la plus grande partie de l'année, dans la Norwége et le N. de la Suède; il est plus tempéré dans le Danemark et le S. de la Suède.

3. La Norwége a un *sol* âpre et montagneux; celui de la Suède et du Danemark est uni et couvert de lacs et de rivières.

4. *Christiania* est la capitale de la Norwége; *Stockholm*, de la Suède et *Copenhague*, du Danemark.

LEÇON XXIII.

1.—Russie.

1. La *Russie*, située dans le N.-E. de l'Europe, est l'état le plus étendu du continent.

2. Le *climat* est très-froid dans le N., mais tempéré dans le S., et salubre partout.

3. Le *sol* produit une grande variété de grains et de fruits.

4. *St-Petersbourg*, la capitale, est une très-belle ville.

2.—France.

1. La *France* est une contrée de l'Europe, très-grande et très importante.

2. Son *climat* est tempéré et délicieux.

3. La France est célèbre pour ses manufactures de soie et de draps, et ses productions de vins et de graminées.

4. *Paris*, capitale, est la plus belle ville de l'Europe, et aussi la plus peuplée après Londres.

3.—Belgique.

1. La *Belgique* est un petit état de l'Europe Centrale situé au N. de la France.

2. Son *climat* est un peu froid et humide.

3. C'est un très-beau pays, possédant un *sol* fertile, et très-bien cultivé.

4. Bruxelles est la capitale de la Belgique.

LEÇON XXIV.

1.—Hollande.

1. La Hollande est une petite contrée de l'Europe située au N. de la Belgique.

2. Le *climat* est humide et désagréable.



3. I
les ha
force

4. L
la côte

2.

1. C
de l'E
et plus
cun a

2. I
froid, s

3. L
tivité, p
sortes
prospèr

4. B
l'Empi



CULTURE DE LA VIGNE.

3. Le *sol* est bas et stérile, mais les habitants l'ont rendu fertile à force de travail et d'industrie.

4. *La Haye*, capitale, est située sur la côte de la Mer du Nord.

2.—Empire Germanique.

1. Cet *Empire* occupe le centre de l'Europe. Il embrasse la Prusse et plusieurs petits états, dont chacun a sa capitale.

2. Le *climat* est généralement froid, surtout dans le nord.

3. Le *sol*, qui est très-bien cultivé, produit abondamment toutes sortes de graminées. La vigne prospère dans le sud.

4. *Berlin* est la capitale de tout l'Empire.

3.—Autriche.

1. *L'Autriche* est un des plus grands états de l'Europe ; elle est située au S.-E. de l'Allemagne.

2. Le *climat* est froid dans les régions montagneuses et doux dans les plaines.

3. Les *productions* minérales, telles que le sel, le charbon, le cuivre et le fer sont abondantes.

4. *Vienne*, capitale de l'Autriche, est une belle et grande ville ; elle est située sur le Danube.

LEÇON XXV.

1.—Suisse.

1. *La Suisse* est une petite répu-

blique située à l'E. de la France.

2. Le *climat* varie avec l'altitude.

3. C'est la contrée la plus montagneuse de l'Europe ; elle possède un grand nombre de scènes romantiques.

4. *Berne*, capitale, est située sur la rivière Aar.

2.—Espagne.

1. *L'Espagne* et le *Portugal* forment la presqu'île *Hispanique*, au S. de la France, dont elle est séparée par les Pyrénées.

2. Le *climat* de l'Espagne est tempéré sur les côtes, mais sujet aux extrêmes sur les plateaux.

3. L'Espagne est le pays le plus montagneux de l'Europe après la Suisse. Son *sol* est bon et productif.

4. *Madrid*, capitale, possède des places et des édifices splendides.

3.—Portugal.

1. Le *Portugal* est un royaume qui occupe la partie ouest de la péninsule Hispanique.

2. Son *climat* ressemble beaucoup à celui de l'Espagne.

3. Ce pays est renommé par ses productions de vins, et principalement pour son vin de Porto.

4. *Lisbonne*, sur le Tage, est la capitale du Portugal.

LEÇON XXVI

1.—Italie.

1. *L'Italie* est une presqu'île importante située au S. de l'Europe, dans la Mer Méditerranée.

2. Elle est remarquable pour la douceur de son *climat* et la beauté de ses sites.

3. Son *sol* produit une grande variété de fruits délicieux, tels que figes, oranges, dattes, etc.

4. *Rome* est la capitale de l'Italie et de tout le monde Catholique, étant la résidence de N.S.P. le Pape.

2.—Turquie d'Europe.

1. Cette contrée est située au S. de la Russie et à l'E. de l'Italie.

2. Son *climat* est tempéré et salubre.

3. Le *sol* produit particulièrement le maïs, le coton, le riz, la soie, les olives etc.

4. *Constantinople*, sur le Bosphore, en est la capitale.

3.—Grèce.


1. La *Grèce* est une petite presqu'île située au S. de la Turquie d'Europe.

2. Son *climat* et ses productions ressemblent beaucoup à ceux de la Turquie.

3. La Grèce fut rendue fameuse autrefois par ses philosophes et sa littérature.

4. *Athènes*, capitale, est située sur le golfe d'Égine.

ASIE.



ANIMAUX DE L'ASIE.

LEÇON XXVII.

1.

1. *L'Asie* est la plus étendue des cinq parties du monde ; elle est remarquable surtout par ses hautes montagnes. Elle est bornée au N. par l'Océan Arctique ; à l'E., par le Pacifique ; au S., par l'Océan Indien ; et, à l'O., par la mer Rouge, la Méditerranée et l'Europe.

2. Les principales divisions politiques sont la Sibérie, la Chine,

l'Inde ou Hindoustan, le Turkestan, l'Afghanistan, le Beloutchistan, la Perse, la Turquie d'Asie, l'Arabie et le Japon.

2.

1. Les principales *Iles* sont le Japon, Formose et Ceylan.

2. Les *Presqu'îles* sont Kamtchatka, la Corée, Malacca, le Decan et l'Arabie.

3. Les principaux *Caps* sont :

le cap Oriental et le cap Comorin.

4. Les *Chaines de Montagnes* les plus remarquables sont : les monts Altaï, Himalaya et Ourals.

3.

1. Les *Mers* sont celles d'Okhotsk, du Japon, de la Chine; la mer Jaune, la mer Arabique, la mer Rouge, la mer Noire et la mer Caspienne.

2. Les principaux *Golfes* sont : le golfe de Siam, le golfe Persique et celui de Bengale.

3. Les principaux *Détroits* sont ceux de Behring, de Malacca, d'Ormuz, et de Bab-el-Mandeb.

4. Les *Fleuves* sont l'Obi, la Léna, le Hoang-Ho, le Yang-tse-Kiang, le Gange et l'Indus.

LEÇON XXVIII.

1.—Sibérie.

1. La *Sibérie* est une vaste contrée russe qui occupe le N. de l'Asie

2. Le *climat* est extrêmement froid, surtout dans le nord.

3. Ses ressources proviennent des animaux à fourrure.

4. *Irkoutsk* est la principale ville.

2.—Empire Chinois.

1. *L'Empire Chinois* occupe le centre de l'Asie et comprend la Chine propre, la Mongolie, la Mantchourie, le Tibet et la Tartarie.

2. Le *climat* est très-froid dans le N., tempéré dans le centre, et très-chaud dans le sud.

4. *Pékin*, capitale, est une des plus grandes villes du monde.

3.—Indes.

1. Les *Indes* comprennent deux grandes presqu'îles du S. de l'Asie et renferment Annam, Siam, le Birman, et l'Hindoustan.

2. Le *climat*, en général, est extrêmement chaud.

3. Les principaux *produits* sont le riz et le thé.

4. Les principales *villes* sont *Huè*, *Bangkok* et *Calcutta*.

LEÇON XXIX.

1.—Perse.

1. La *Perse* est située à l'O. des Indes. Sa surface est diversifiée par des montagnes et des déserts.

2. Le *climat* est froid dans le N., chaud et malsain dans le sud.

3. La Perse est renommée pour ses beaux châles et ses beaux tapis.

4. *Téhéran* est la capitale.

2.—Turquie d'Asie.

1. La *Turquie d'Asie*, ou *Asie Mineure*, est située dans l'O. de l'Asie; elle comprend la Palestine, appelée aussi la Terre-Sainte.

2. Cette contrée offre diverses sortes de *climats*.



LES CÈDRES DU LIBAN.

3. Le sol est productif mais généralement mal cultivé. Les grenades, les olives, les figes figurent parmi les principales productions.

4. *Constantinople*, située dans la Turquie d'Europe, est la capitale.

3.—Arabie.

1. *L'Arabie* est une grande presqu'île située dans le S.-O. de l'Asie. Elle est remarquable par ses vastes déserts.

2. Le climat est chaud et sec.

3. Ses habitants, appelés Bé-

douins, sont errants et vivent sous des tentes.

4. La *Mecque* est sa princ. ville.

4.—Japon.

1. Le royaume du *Japon* est formé d'un groupe d'îles situées à l'E. de la Chine.

2. Le climat, en général, est variable, mais extrêmement froid dans le nord.

3. Le sol est peu fertile, mais soigneusement cultivé ; les arbres produisant le camphre et le vernis, sont indigènes du Japon.

4. *Yeddo*, cap., est la ville la plus peuplée du monde, après Londres.

AFRIQUE.



ANIMAUX DE L'AFRIQUE.

LEÇON XXX.

1. *L'Afrique* est bornée au N. par la Méditerranée ; à l'E., par la mer Rouge et l'Océan Indien ; et, au S. et à l'O., par l'Atlantique.

2. Ses principales *divisions* politiques sont les États Barbaresques, l'Égypte, la Nubie, l'Abyssinie, l'Afrique Orientale, l'Afrique Méridionale, l'Afrique Occidentale, et l'Afrique Centrale.

3. Les principales *Iles* sont Madagascar, les Iles du Cap-Vert, et les Canaries.

4. Les principaux *Caps* sont

Gardafui, Bonne-Espérance, et le Cap-Vert.

2.

1. Les *Montagnes* les plus remarquables sont l'Atlas, les monts Kong, et les monts Neigeux.


2. Les principaux *Golfes* sont ceux d'Aden et de Guinée.

3. Les *Détroits* sont ceux de Bab-el-Mandeb, de Gibraltar, et le canal de Mozambique.

4. Les *Lacs* les plus remarquables sont Tchad, Victoria, Albert, Tanganyica et Niassa.

5.
le Ni

1. C
l'Afri
Médit
prenn
et Tri
2. L
tout d
3. L



PYRAMIDES D'EGYPTE.

5. Les principales *Rivières* sont le Nil, le Niger et le Congo.

LEÇON XXXI.

1.—Etats Barbaresques.

1. Ces *Etats* occupent le N. de l'Afrique, et sont bornés par la Méditerranée, au Nord. Ils comprennent le Maroc, l'Algérie, Tunis et Tripoli.

2. Le *climat* est excellent, surtout dans le nord.

3. Le *sol* est très-fertile, il pro-

duit tous les grains et les fruits de l'Europe méridionale.

4. Les principales villes sont *Alger* et *Maroc*.

2.—Egypte.

1. *L'Egypte* occupe la vallée du Nil. Elle est célèbre pour ses antiquités : temples, pyramides, etc., et ses souvenirs historiques.

2. Le *climat* de l'Egypte est extrêmement chaud.

3. Son *sol* est très-fertile, surtout en blé ; il produit aussi le sucre, le coton, etc.

4. Le *Caire*, capitale, est située sur la rive droite du Nil.

3.—Nubie et Abyssinie.

1. Ces contrées sont situées au sud de l'Égypte.

2. Le *climat* de la Nubie est chaud et sec, celui de l'Abyssinie est doux et agréable.

3. La Nubie présente surtout des déserts sablonneux ; l'Abyssinie est montagneuse, mais fertile.

4. *Khartoum* et *Gondar* sont les principales villes.

LEÇON XXXII.

1.—Afrique Orientale.

1. L'*Afrique Orientale* comprend Natal, la Cafrérie, et la Colonie du Cap.

2. Le *climat* de cette partie de l'Afrique est tempéré et agréable.

4. Le *sol* est fertile ; il produit le coton, le sucre, le café, etc.

4. *Cape-Town* est la principale ville. Presque toute cette contrée appartient à la Grande-Bretagne.

2.—Afrique Méridionale.

1. L'*Afrique Méridionale* comprend Natal, la Cafrérie et la Colonie du Cap.

2. Le *climat* est tempéré et agréable. Le *sol* est fertile ; il produit le coton, le sucre, le café, etc.

3. Près de la moitié de la population de la Colonie du Cap est d'origine anglaise.

4. *Cape-Town* est la capitale.

3.—Afrique Occidentale.

1. L'*Afrique Occidentale* embrasse plusieurs Etats, dont les principaux sont la Guinée Supérieure, la Guinée Inférieure et la Sénégambie.

2. Le *climat* sur les côtes est chaud et malsain.

3. Ces contrées sont habitées particulièrement par des nègres. Les Européens ont des établissements sur les côtes.

4. Les principaux objets de commerce sont la poudre d'or, l'ivoire, l'huile de palmier, et les plumes de fantaisie.

4.—Afrique Centrale.

1. L'*Afrique Centrale* comprend le Sahara, le Soudan, et l'Éthiopie.

2. Le *Sahara* ou *Grand Désert* est un vaste plateau couvert de rochers, de sable et de sel. On y trouve des points fertiles, qu'on appelle oasis.

3. Le *Soudan* se divise en un grand nombre de petits états, très-peu connus.

4. L'*Éthiopie* actuelle est une vaste région inconnue située au S. du Soudan.

de la popu-
Cap est d'o.

pitale.

ontale.

embrasse
les princi-
supérieure,
et la Séné-

côtes est

et habitées
es nègres.
établisse-

ets de com-
d'or, l'i-
er, et les

rale.

comprend
l'Éthiopie.
l' Désert est
ert de ro-
sel. On y
les, qu'on

ise en un
tits états,

e est une
ituée au S.

OCEANIE.



ANIMAUX DE L'OCEANIE

LEÇON XXXIII.

1. On divise généralement l'*Océanie* en trois grandes parties : la Malaisie, l'Australasie, et la Polynésie.

1.—Malaisie.

2. La *Malaisie* est toute entière dans le zone torride ; elle comprend plusieurs îles importantes, dont les principales sont Bornéo, Sumatra, Java, et Célèbes.

3. Le *climat* est chaud et salubre, excepté sur les côtes.

4. Les principales productions

sont le camphre, le poivre et autres épices.

2.—Australasie.

1. L'*Australasie* comprend l'Australie, Papua ou Nouvelle-Guinée, la Nouvelle-Zélande, et plusieurs autres îles moins importantes.

2. Le *climat*, en général, est chaud et salubre.

3. Dans le S. et l'E., il y a de fertiles plaines, produisant tous les grains et les fruits de l'Europe ;

L'Australie possède des mines d'or considérables.

4. La capitale de l'Australie est *Sydney*, et *Melbourne* en est la principale ville.

3.—Polynésie.

1. La *Polynésie* comprend toutes les îles de l'Océan Pacifique qui ne sont pas incluses dans les deux divisions précédentes.

2. Les principaux groupes sont les îles Sandwich, les îles de la Société, les Carolines, les îles des Amis-et des Marquises.

3. Un grand nombre de ces îles sont l'ouvrage de petits insectes appelés madrépores.

4. Les habitants de la Polynésie sont une variété de la race Malaise et de colons Européens.

Carte de l'Hémisphère Oriental.

Divisions.—Montrez l'Europe.—Montrez l'Asie.—Montrez l'Afrique.—Montrez l'Australie.

Quel Océan occupe la partie septentrionale? *Ar.*

Océans et Mers.—Quel Océan est situé à l'est de l'Hémis. Oriental? *Pc.*

—Au sud de l'Asie? *In.*

Quel Océan est situé à l'O. de l'Afrique? *At.*
Quelle Mer trouve-t-on au nord-ouest de l'Europe? *Nt.*

—Entre l'Afrique et l'Asie? *M.R.*

—Entre l'Europe et l'Afrique? *Me.*

Quelles Mers sont situées entre l'Europe et l'Asie? *Ne., Ce.*

Îles.—Quels sont les deux groupes d'îles situés au N. de l'Europe? *Sn., N.-Z.*

—A l'est de l'Asie? *Sn., Ju.*

Quel groupe est situé au sud-est de l'Asie? *Ps.*

Quelles sont les trois grandes îles situées sous l'équateur? *Sz., Bo., Cs.*

Quelle île trouve-t-on au nord de l'Australie? *N.-G.*

Quelle grande île se trouve à l'est de l'Afrique? *Mr.*

Quelles îles sont situées à l'ouest de l'Europe? *Bs.*

Quelle île trouve-t-on au sud de l'Australie? *Te.*

Caps.—Quel Cap se trouve sur la côte nord de l'Asie? *C.-E.*

Quel Cap est situé au sud? *Cn.*

Quel Cap est situé au sud de l'Afrique? *B.-E.*—A l'ouest? *Vl.*

Montagnes.—Quelles Montagnes sont situées entre l'Europe et l'Asie? *Ol.*

—Dans le centre de l'Asie? *At.*

Montrez les monts Himalaya.—Les monts Caucase.—Les monts Atlas.

Golfes et Baies.—Quel Golfe trouve-t-on au nord de l'Asie? *Oi.*

—Au sud? *Be.*—Au S.-O. de l'Afrique? *Ge.*

—A l'ouest de l'Europe? *Ge.*

Détroits.—Quel Détroit est situé au sud de l'Asie? *Ma.*

Quel Détroit y a-t-il entre l'Afrique et l'Asie? *B.-M.*

—Entre l'Afrique et l'Europe? *Gr.*

Quel Canal est à l'est de l'Afrique? *Me.*

Rivières.—Nommez trois Fleuves de l'Asie se déchargeant dans l'Océan Arctique? *Oi., Yi., La.*


Quel est le Fleuve qui prend sa source dans la chaîne Altaï et se jette dans la mer d'Okhotsk? *Ar.*

Quel est le Fleuve qui se jette dans la mer Jaune? *Y.-K.*

Quel est le Fleuve, en Afrique, qui se jette dans la Méditerranée? *Nl.*

Quels sont les Fleuves qui se jettent dans la mer Caspienne? *Pa., Ol.*

Par quel Isthme l'Afrique est-elle unie à l'Asie? *Sz.*



roupes sont
lles de la
es lles des

de ces lles
nsectes ap-

Polynésie
ce Malaise

n.
l de l'Afri-

tagnes sont
Asie? Ol.

l. Les mouts
olfe trouve-

Afrique? Ge.

st situé au

Afrique et

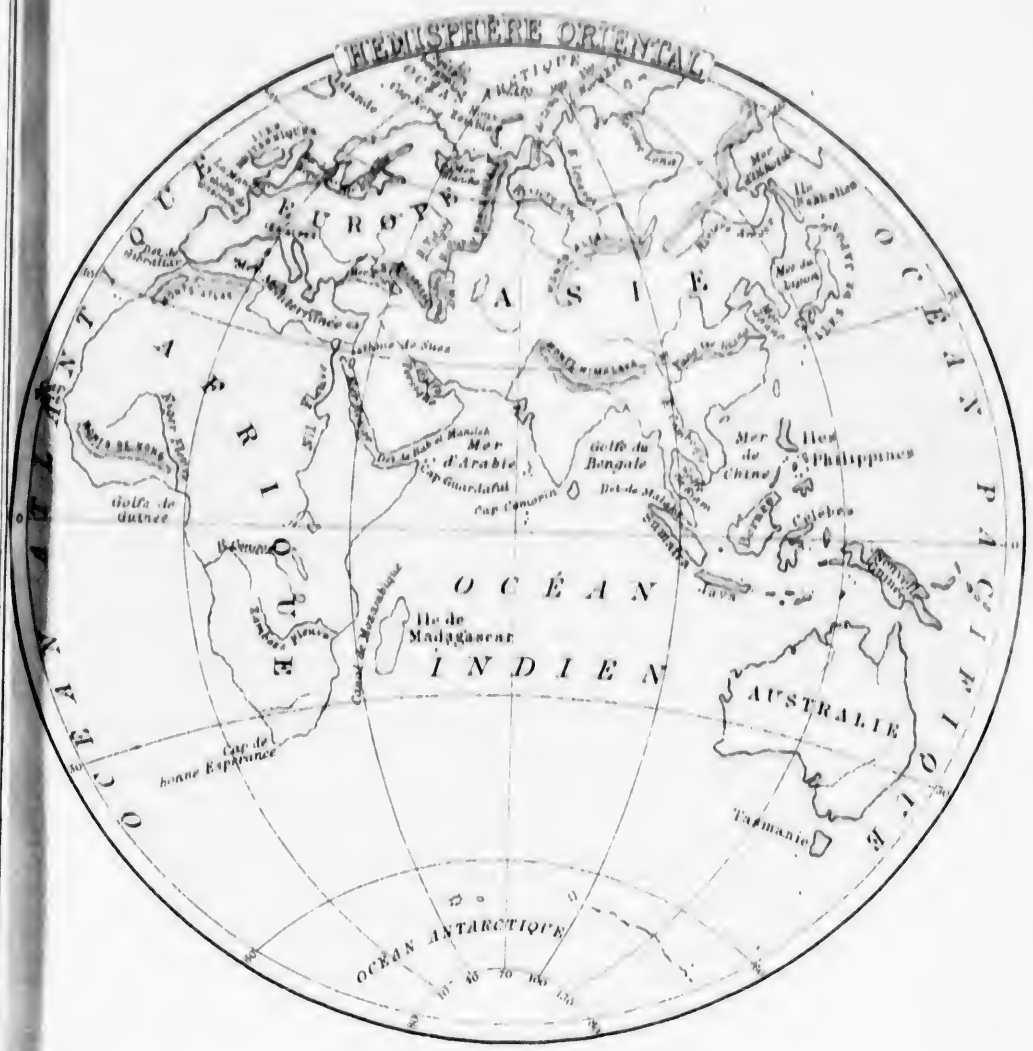
? Gr.
rique? Me.

Fleuves de
as l'Océan

sa source
tte dans la

tte dans la

ue, qui se
N.
se jettent
Ol.
est-elle



Superficie et Population des Différents Etats du Globe.

I.—GRANDES DIVISIONS.			IV.—Europe.		
DIVISIONS.	Superficie. mil. car.	Population.	CONTRÉES.	Superficie mil. car.	Population.
Amér. Sept....	7,857,191	58,582,611	Iles Britanniques	122,550	31,817,000
Amér. Mérid...	6,552,000	26,880,000	Danemark.....	15,900	1,900,000
Europe.....	3,765,938	297,358,000	Suède.....	170,000	4,159,000
Asie.....	15,196,000	629,329,000	Norwége.....	133,000	1,712,000
Afrique.....	11,008,000	96,244,000	Russie.....	2,095,000	68,390,000
Océanie.....	4,586,800	32,275,000	France.....	198,000	36,592,000
Total.....	48,965,929	1,140,668,611	Belgique.....	11,313	5,000,000
II.—Amérique Septentrionale.			Hollande.....	13,890	3,700,000
CONTRÉES.	Superficie.	Population.	Allemagne.....	74,785	16,070,000
Puiss. du Canada.	3,039,161	3,744,915	Prusse.....	136,000	24,040,000
Terreneuve.....	42,000	130,000	Autriche.....	240,000	36,000,000
Iles Bermudes....	30	14,796	Suisse.....	15,250	2,669,000
Amérique Danoise	790,006	74,600	Espagne ..	177,000	16,732,000
Etats-Unis.....	3,010,000	38,549,000	Portugal.....	34,500	3,995,000
Mexique.....	668,600	9,176,000	Italie.....	111,109	26,104,000
Amér. Centrale....	213,000	2,691,500	Etats de l'Eglise..	4,891	692,000
Antilles.....	95,000	4,202,400	Turquie.....	203,500	16,437,000
Total.....	7,857,191	58,582,611	Grèce.....	19,250	1,349,000
III.—Amérique Méridionale.			Total.....	3,765,938	297,358,000
Colombie.....	457,000	2,795,000	V.—Asie.		
Vénézuéla.....	410,000	1,565,000	Sibérie.....	5,249,000	8,329,000
Equateur.....	208,000	1,040,000	Chine.....	4,088,000	369,000,000
Guyanes.....	169,000	221,000	Japon.....	260,000	35,000,000
Brésil.....	2,724,000	10,045,000	Hindoustan.....	1,250,000	130,000,000
Pérou.....	540,000	3,500,000	Indo-Chine.....	920,000	42,000,000
Bolivie.....	480,000	1,987,000	Turkestan.....	640,000	6,500,000
Chili.....	260,000	2,146,000	Afghanistan.....	300,000	4,000,000
La Plata.....	880,000	1,337,000	Beloutchistan.....	150,000	1,500,000
Paraguay.....	74,000	1,737,000	Perse.....	470,000	9,000,000
Uruguay.....	70,000	387,000	Turquie d'Asie....	669,000	16,000,000
Patagonie.....	280,000	120,000	Arabie.....	1,200,000	8,000,000
Total.....	6,552,000	26,880,000	Total.....	15,196,000	629,329,000
VI.—Afrique.			Sahara.....	2,400,000	2,000,000
			Maroc.....	222,000	8,500,000
			Alger.....	190,000	3,000,000

Tripoli...
Tunis...
Egypte...
Nubie...
Abyssin...
Libérie...
Afrique...
Sierra-L...
Kord'far...
Colonie...
Hottento...
Basse G...
Haute G...
Sénégam...
Soudan...
Afrique...
Madagas...
Autres I...

Total

Altitude

Mont Eve...
Dhawala...
Aconcagu...
Tupurgat...
Sorata, B...
Chuquiba...
Hindou-K...
Kilimanj...
Kenia, M...

Superficie et Population des Différents Etats du Globe.
(Suite.)

Globe.

e.

Population.
31,817,000
1,900,000
4,159,000
1,712,000
68,390,000
36,592,000
5,000,000
3,700,000
16,070,000
24,040,000
36,000,000
2,669,000
16,732,000
3,995,000
26,104,000
692,000
16,437,000
1,349,000
297,358,000

8,329,000
369,000,000
35,000,000
130,000,000
42,000,000
6,500,000
4,000,000
1,500,000
9,000,000
16,000,000
8,000,000
629,329,000

e.

2,000,000
8,500,000
3,000,000

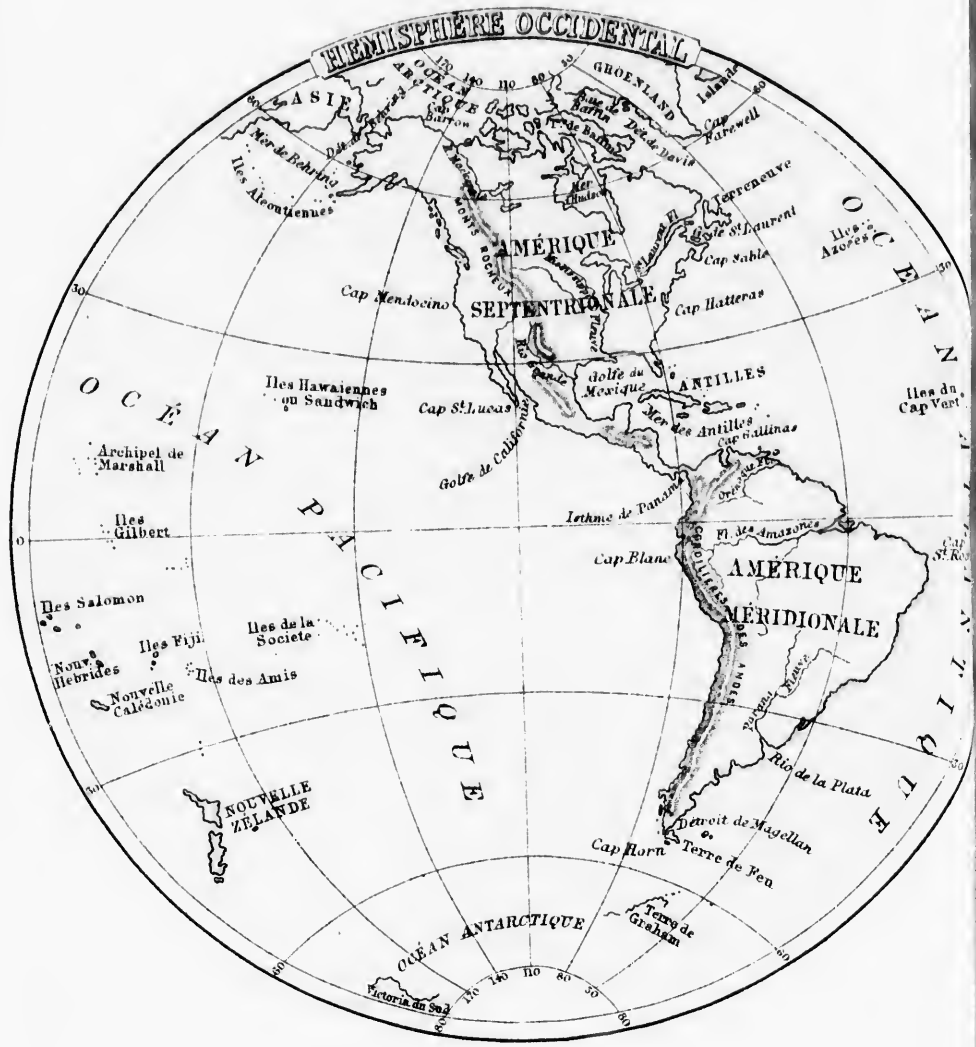
Afrique. — (Suite.)			VII.—Océanie.		
CONTRÉES.	Superficie mil. car.	Population.	CONTRÉES.	Superficie mil. car.	Population.
Tripoli.....	131,000	700,000	<i>Malaisie.</i>		
Tunis	69,000	3,300,000	Sumatra	140,000	4,500,000
Egypte.....	180,000	5,214,000	Flores, Timor.....	49,000	600,000
Nubie	320,000	500,000	Java	50,000	12,000,000
Abyssinie.....	280,000	3,000,000	Bornéo	300,000	3,000,000
Libérie.....	40,000	80,000	Célèbes	71,000	2,000,000
Afrique Orientale	642,000	4,900,000	Moluques.....	33,800	2,750,000
Sierra-Leone...[&c.	44,000	50,000	Philippines	120,000	4,000,000
Kord'fan, Sennaar	100,000	1,000,000	<i>Australasie.</i>		
Colonie du Cap ...	230,000	200,000	Australie.....	3,120,000	1,505,000
Hottentotie.....	350,000	1,000,000	Tasmanie	28,000	100,000
Basse Guinée.....	370,000	7,000,000	Nouvelle-Zélande.	106,000	265,000
Haute Guinée....	250,000	5,000,000	Nouvelle-Guinée ..	270,000	700,000
Sénégal.....	380,000	8,900,000	<i>Polynésie.</i>		
Soudan	1,400,000	20,000,000	Iles Sandwich....	7,000	63,000
Afrique Australe.	2,904,000	12,200,000	Le reste de la Po-		
Madagascar	194,000	4,700,000	lynésie.....	144,000	392,000
Autres Iles.....	312,000	5,000,000	Autres Iles.....	148,000	400,000
Total.....	11,008,000	96,244,000	Total.....	4,586,800	32,275,000

Altitude des Principales Montagnes du Globe.

	Pieds.
Mont Everest, Himalaya, Asie.....	29,000
Dhawalahiri, Himalaya, Asie.....	28,000
Aconcagua, Chili, Amérique MÉR.....	23,000
Tupurgato, Chili, Amérique MÉR.....	22,000
Sorata, Bolivie, Amérique MÉR.....	21,300
Chuquibamba, Pérou, Amérique MÉR.....	21,000
Hindou-Kout'h, Caboul, Asie.....	20,000
Kilimanjaro, M. de la Lune, Afrique.....	20,000
Kenia, M. de la Lune, Afrique.....	20,000

Longueur des Principales Rivières du Globe.

	Miles.
Mississippi-Missouri, Amér. Sept.....	4,100
Amazones, Amérique Méridionale.....	3,600
Nil, Afrique.....	3,600
Mackenzie, Amérique Septentrionale.....	2,600
Lena, Asie.....	2,600
Niger, Afrique.....	2,600
Rio de la Plata.....	2,250
St Laurent, Amérique Sept.....	2,200
Parana, Amérique Méridionale.....	2,000



Divisi
 des
 dent
Océan
 Quel O
 Quel O
 Quelle
 rique
Iles.—
 N.-E.
 Quelle
 land
 Quelle
 rique
 Quel gr
 deux
 Quelle
 rique
 Quels g
 l'Amé
 Quels g
 mériq
 Quelle ?
 tarcti
 diona
 Quelle
 Océan
Caps.
 l'Amé
 Par que
 sud ?
 Quels
 orient
 —Sur la
 Quel O
 mériq
 Quel Ca

Carte de l'Hémisphère Occidental.

Divisions.—Quelles sont les deux grandes Divisions de l'Hémisphère occidental? *Am. S. et Am. N.*

Océans.—Quel Océan est situé au N.-E.

Quel Océan est situé à l'est? *At.*

Quel Océan est situé au sud? *An.*

Quel Océan est situé à l'ouest? *Pe.*

Quelle Mer est située au nord de l'Amérique Méridionale? *As.*

Iles.—Quelle grande Ile est située au

N.-E. de l'Amérique Septentrionale? *Gd.*

Quelle Ile est située à l'E. du Groënland? *le.*

Quelle Ile se trouve à l'E. de l'Amérique Septentrionale? *Te.*

Quel groupe d'Iles trouve-t-on entre les deux Amériques? *As.*

Quelle Ile est située au S. de l'Amérique Méridionale? *T. F.*

Quels groupes d'Iles se trouvent à l'O. de l'Amérique Septentrionale? *As., Sh.*

Quels groupes sont situés à l'O. de l'Amérique Méridionale? *As., Sc., N.-Z.*

Quelle Terre est située dans l'Océan Antarctique au sud de l'Amérique Méridionale? *Gm.*

Quelle Terre se trouve dans le même Océan, au sud de la Nouvelle-Zélande.

Caps.—Quel Cap est situé au N. de l'Amérique Septentrionale? *Bw.*

Par quel Cap se termine le Groënland au sud? *Fl.*

Quels Caps trouve-t-on sur la côte orientale? *Se., Hs.*

—Sur la côte occidentale? *Mo., S.-L.*

Quel Cap trouve-t-on au N. de l'Amérique Méridionale? *Gs.*

Quel Cap trouve-t-on à l'est? *S.-R.*

Quel Cap trouve-t-on au sud? *Hn.*

Quel Cap est situé à l'ouest? *Bc.*

Quel Cap trouve-t-on à l'ouest de l'Amérique Septentrionale? *Mo.*

Montagnes.—Montrez les Montagnes Rocheuses.

Quelle chaîne de Montagnes trouve-t-on dans l'O. de l'Amérique Méridionale? *As.*

Baie et Golfes.—Quelle grande Baie est située dans le nord de l'Amérique Septentrionale? *Hn.*

Quel Golfe est situé dans le sud de l'Amérique Septentrionale? *Me.*

Quel Golfe est situé à l'est? *S.-L.*

Quel Golfe trouve-t-on à l'ouest? *Ce.*

Montrez la partie de l'Asie qui se trouve dans le nord de cet hémisphère.

Détroits.—Quel Détroit sépare l'Amérique de l'Asie? *Bj.*

Quel Détroit y a-t-il entre la mer de Baffin et le Groënland? *Ds.*

Quel Détroit sépare l'île de Terre de Feu de la terre ferme? *Mn.*

Quel est l'Isthme qui sépare les deux Amériques? *Pa.*

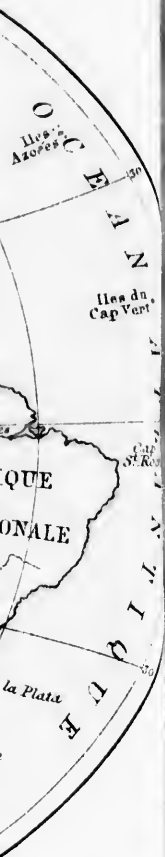
Rivières.—Quel est le Fleuve qui se décharge dans l'Océan Arctique? *Me.*

Quel Fleuve trouve-t-on dans l'Amérique Septentrionale, se jetant dans l'Atlantique? *S.-L.*

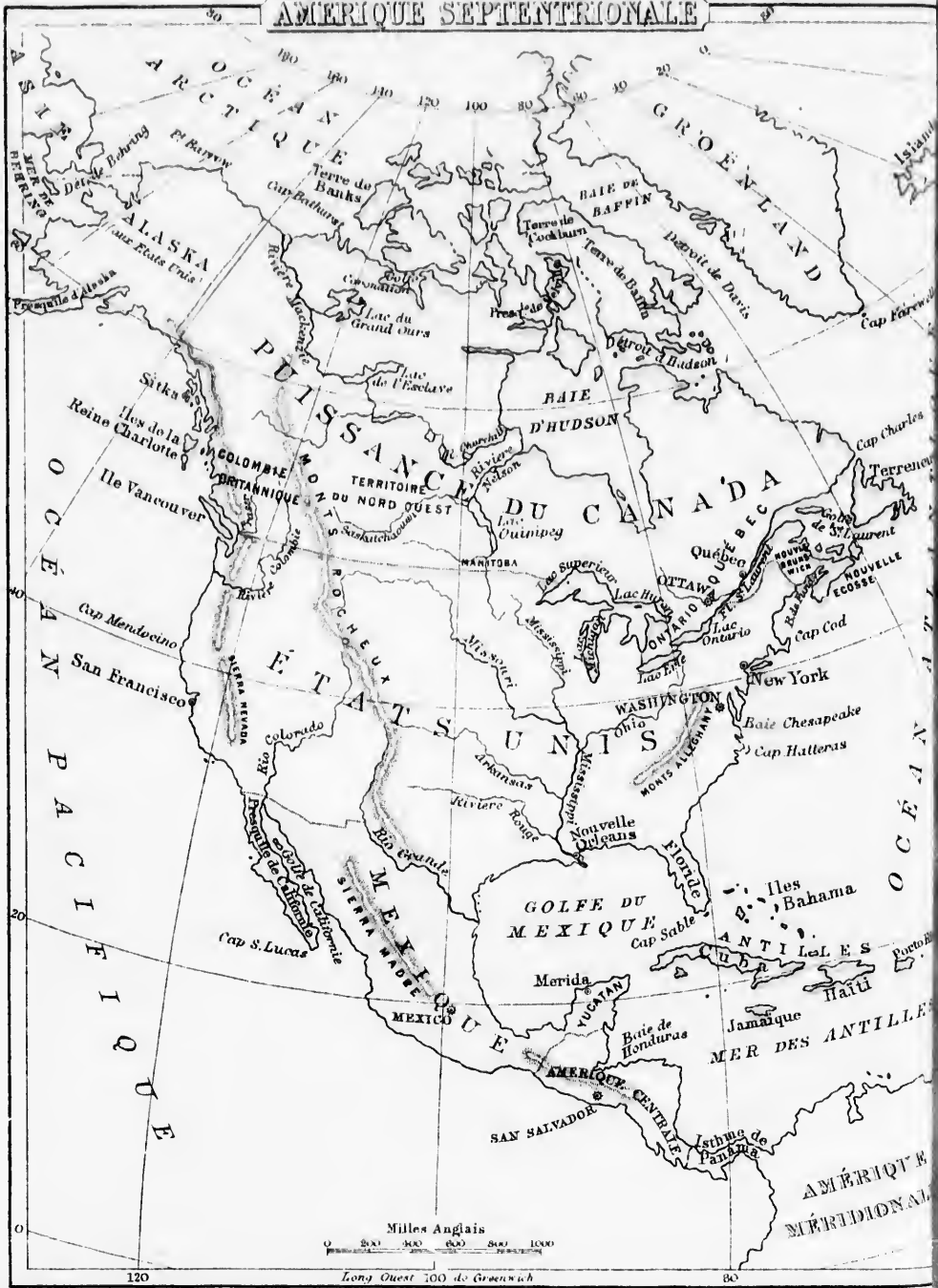
Quels sont les deux Fleuves qui se jettent dans le Golfe du Mexique? *Mi., R. G.*

Quels sont les deux Fleuves du nord de l'Amérique Méridionale qui se jettent dans l'Atlantique? *Oe., As.*

Dans quelle direction l'Amérique Méridionale est-elle de l'Amér. Septentrionale?



AMÉRIQUE SEPTENTRIONALE



Bo
tr
Par
Par
M
Div
oc
tr
Que
Pr
Que
Que
ce
Que
Que
Et
Que
Que
du
Iles
no
Que
lar
Que
Ca
Nom
An
Nom
de
Mon
tag
S.
Nom
Cap
du
Que
Un

Carte de l'Amérique Septentrionale.

Bornes.—Par quoi l'Amérique Septentrionale est-elle bornée au nord?

Par quel Océan est-elle bornée à l'est?

Par quelles eaux est-elle bornée au sud?

M.A., G.M.—A l'ouest? *O.P.*

Divisions.—Quelle grande Contrée occupe le nord de l'Amérique Septentrionale? *P.C.*

Quel Territoire est situé à l'ouest de la Puissance du Canada? *Aa.*

Quelle est la Capitale du Canada? *Oa.*

Quelle grande République occupe le centre de l'Amérique Septentrionale?

Quelle est la Capitale des Etats-Unis? *Wn.*

Quelle Contrée est située au sud des Etats-Unis? *Me.*

Quelle est la Capitale du Mexique? *Mo.*

Quelle Contrée trouve-t-on au sud-est du Mexique? *A.-C.*

Iles.—Quelle grande Ile se trouve au nord-est de la carte? *Gd.*

Quelle Ile est située à l'est du Groënland? *Ie.*

Quelle grande Ile trouve-t-on à l'est du Canada? *Te.*

Nommez les quatre principaux Iles des Antilles. *Ca., Hi., P.-R., Je.*

Nommez les deux grandes Iles situées à l'O. de la Puissance du Canada. *Vr., Q.-C.*

Montagnes.—Quelles chaînes de Montagnes sont situées dans l'ouest? *Rs., S.N., S.M.*

Nommez celle qui est à l'est. *Ay.*

Caps.—Quel Cap trouve-t-on au sud du Groënland? *Fl.*

Quels Caps sont situés à l'est des Etats-Unis? *Cd., Hs.*

Quel Cap est situé au sud-est? *Se.*

Montrez les caps Mandocino et S.-Lucas.

Mer, Golfes, etc.—Quelle Mer trouve-t-on au sud-est des Etats-Unis? *As.*

Quel Golfe est situé à l'E. du Canada? *S.-L.*

Quelle grande Baie se trouve dans le nord de la Puissance du Canada? *Hn.*

Quel Golfe est situé au sud des Etats-Unis? *Me.*

Montrez le golfe de Californie.

Quelle Baie est située à l'ouest du Groënland? *Bn.*

Détroits.—Quel Détroit unit la baie d'Hudson à l'Atlantique? *Hn.*

Quel Détroit sépare l'Amérique Septentrionale de l'Asie? *Bg.*

Par quel Détroit la baie de Baffin est-elle unie à l'Atlantique? *Ds.*

Lacs.—Montrez le lac Supérieur.

Nommez les quatre Lacs qui forment une chaîne avec le lac Supérieur. *Mn., Hn., Eé., Oo.*

Quels sont les trois principaux Lacs situés dans l'ouest de la Puissance du Canada? *G.-O., Es., Wg.*

Rivières.—Quel Fleuve, coulant du sud au nord, se jette dans l'Océan Arctique? *Me.*

Quels sont les deux Fleuves qui se jettent dans l'ouest de la baie d'Hudson? *Cl., Nn.*

Quel est le Fleuve qui, coulant à l'est, se décharge dans l'Atlantique? *S.-L.*

Quels sont les principaux Tributaires du Mississippi. *Mi., As., R.-R., Oo.*

Quels sont les deux Fleuves qui se jettent dans le Pacifique? *Co., Ce.*

Carte de l'Amérique Méridionale.

Bornes. — Comment l'Amérique Méridionale est-elle bornée au nord ?

Quels sont ses bornes à l'est ?

Comment est-elle bornée au sud et à l'ouest ?

Divisions. — Quelles sont les deux Contrées les plus au nord ? *Ce., Va.*

Quelles sont leurs Capitales ? *Ba., Cs.*

Quelle Contrée est située à l'est du Vénézuéla ? *Ge.*

Quelle Contrée occupe la plus grande partie de l'est de l'Amérique Méridionale ? *Bl.*

Quelle est la Capitale du Brésil ? *R.-J.*

Quels sont les deux petits Etats situés au sud du Brésil ? *Py., Uy.*

Quelle est la Contrée la plus méridionale de l'Amérique ? *Pe.*

Quels Pays trouve-t-on au nord de la Patagonie ? *C.A., Ci.*

Quels sont les Capitales de ces deux pays ? *B.-A., So.*

Nommez les trois Etats situés à l'ouest du Brésil. *Be., Pu., Er.*

Quelles sont leurs Capitales ? *Ca., La., Qo.*

Iles. — Quelle Ile trouve-t-on à l'embouchure de l'Amazone ? *Js.*

Quel groupe d'Iles est situé à l'est de la Patagonie ? *M.*

Quelle Ile se trouve au sud de la Patagonie ? *T. F.*

Quelles sont les Iles situées à l'ouest du Chili ? *J.-F.*

Montagnes et Caps. — Quelle chaîne de Montagnes voit-on dans l'ouest ? *As.*

Quelle chaîne trouve-t-on à l'est ? *Be.*

Quel Cap est situé au Nord de l'Amérique Méridionale ? *Gs.*

Quel est le Cap situé à l'est ? *S.-R.*

Quel est celui qui est au sud ? *Ilh.*

Nommez celui qui est le plus à l'ouest. *Bo.*

Mers, golfes, etc. — Quelle Mer est située au nord ? *As.*

Quelle Baie trouve-t-on à l'est du Brésil ? *T.-S.*

Quel Golfe se trouve à l'est de la Patagonie ? *S.-G.*

Quel Golfe trouve-t-on à l'ouest de l'Equateur ? *Gl.*

Quel Détroit sépare l'Ile de Terre de Feu de la Patagonie ? *Mn.*

Quel Lac est situé dans le Vénézuéla ? *Mo.*

— Dans le Pérou ? *Ta.*

Rivières. — Quel est le plus grand Fleuve de l'Amérique Méridionale ? *As.*

Dans quelle contrée est situé le fleuve des Amazones ? *Bl.*

Quels sont ses principaux Tributaires ? *Ma., Au., et Negro.*

Quel Fleuve est situé au nord de l'Amazone, et lui est parallèle ? *Oe.*

Quel autre Fleuve, coulant du sud au nord, se jette dans le fleuve *Para* ? *Ts.*

Dans quelle direction la *Madeira* coule-t-elle ?

Quel Fleuve, situé dans le sud-est, se jette dans l'Atlantique ? *Pa.*

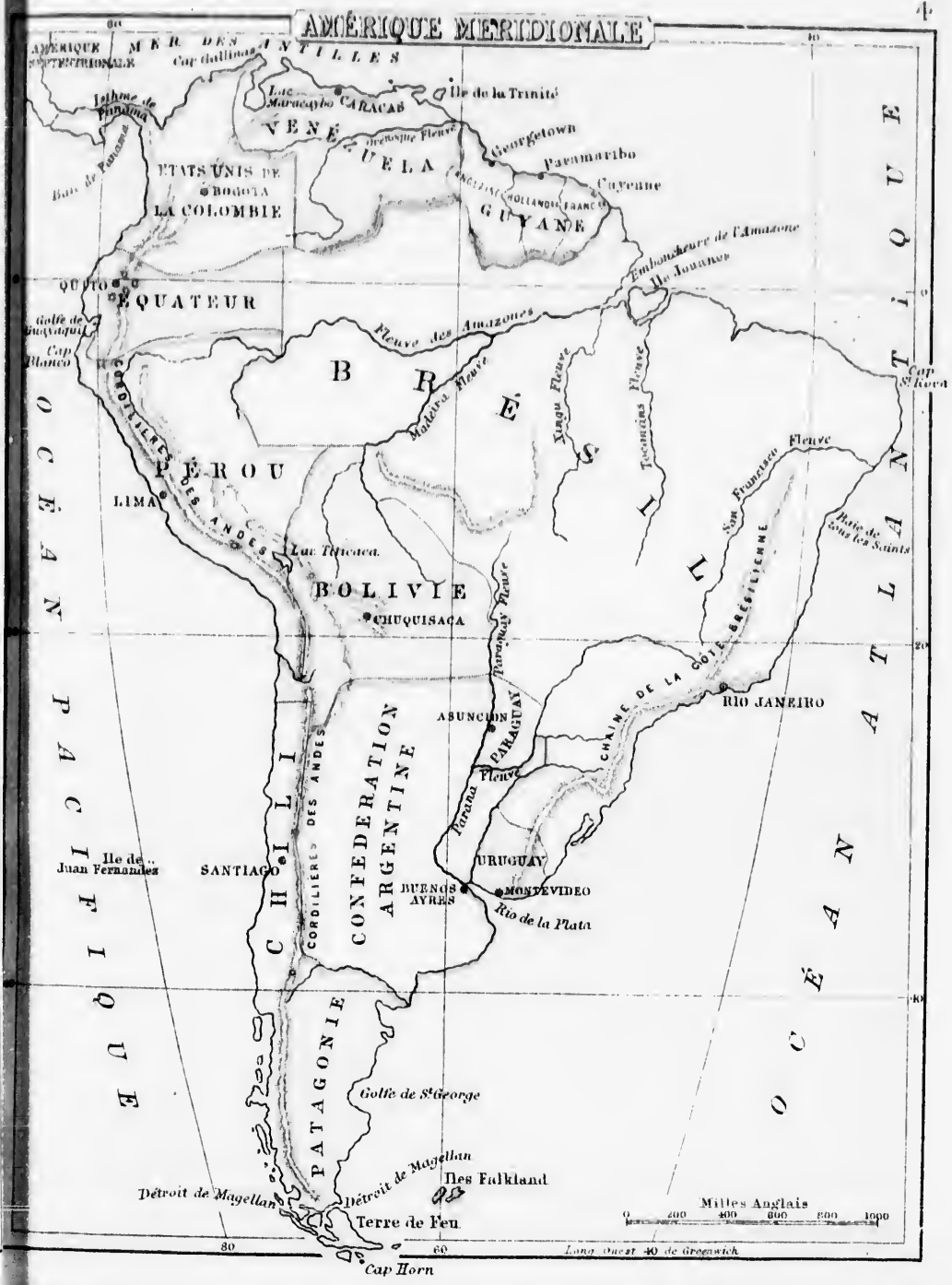
Comment se nomme la partie supérieure du Rio de la Plata ? *Pa.*

Quel est le Tributaire du Parana ? *Py.*

Dans quelle direction le fleuve *Paraguay* coule-t-il ?

Quelles Villes sont situées sur les bords du Rio de la Plata ? *B.-A., Mo.*

e l'Amérique
 S.-R.
 l'In.
 l'ouest. Bo.
 lle Mer est
 est du Bré-
 e la Patago-
 est de l'Equa-
 erre de Feu
 nézuéla? Mo.
 grand Fleuve
 ? As.
 le fleuve des
 Tributaires?
 rd de l'Ama-
 Oe.
 du sud au
 ve Para? Ts.
 leira coule-t-
 d-est, se jette
 ie supérieure
 rana? Py.
 ve Paragcay
 sur les bords
 Mo.



Carte de la Province d'Ontario.

Rivières et Lacs.—Par quelle Rivière la Province d'Ontario est-elle bornée au nord-ouest ? *Os.*

—Au sud-ouest ? *S.-L.*

Par quels Lacs est-elle bornée au sud ? *Ob., Eé.*

—Par quels Lacs à l'ouest ? *Hu., Sr.*

Quel Lac est situé entre les lacs Huron et Érié ? *S.-C.*

Quelles Rivières unissent ces trois Lacs ? *S.-C., M.*

Quel Lac est situé vers le centre de la Province ? *Sc.*

Quel Lac est uni à la baie Georgienne par la rivière Française (French) ? *Né.*

Quels sont les principaux Tributaires de la rive droite de l'Outaouais ? *Pa., Mz.*

Quelle Rivière se jette dans le lac Ontario par la baie de Quinté ? *Trent.*

Quelle Rivière se jette dans le lac Érié ? *Gc.* [*Tp.*

Quelle est la Rivière qui débouche dans le lac Ste.-Claire ?

Quelle Rivière porte les eaux du lac Simcoe à la baie Georgienne ? *Sh.*

Quelle Rivière unit les lacs Érié et Ontario ? *Na.*

Quelle Chute remarquable est formée par cette Rivière ?

Quel Canal unit Kingston à Ottawa ? *Rideau.*

Villes.—Quelle est la Capitale d'Ontario ? *Tb.*

Sur quel Lac est-elle située ? *Ob.*

Quelle Ville est située à l'extrémité O. du lac Ontario ? *Hu.*

Quelle Ville trouve-t-on à l'extrémité nord-est de ce lac ? *Ku.*

Quelle Ville est située sur la Tamise, dans le comté de Middlesex ? *Ls.*

—Dans les comtés de Leeds, Grenville, Stormont ? *Ec., Pl., Cl.*—Montrez la rivière Gatineau.

Quelle ville est située vis-à-vis l'embouchure de la rivière Gatineau ? *Oa.*

De quel Etat la ville d'Ottawa est-elle la Capitale ? *P.-C.*

Dans quel Comté est située la ville de Toronto ? *Yk.*

Dans quel Comté est située la ville de Kingston ? *Fc.*

Dans quel Comté est située la ville de Londres ? *Mz.*

—de Hamilton ? *Wh.*—de Brantford ? *Bt.*

Sur quel Lac se trouve Goderich ? *Hu.*

Dans quel Comté trouve-t-on Guelph ? *Wa.*

Comtés.—Quels sont les comtés situés sur le S.-Laurer ? *Gy., St., Ds., Gc., Ls., Fc.*

Quels sont les Comtés qui sont situés sur l'Outaouais ? *Pl., Rl., Ch., Kw*

—Sur le lac Huron ? *Ec., Hu., Ln.*

Quels sont les Comtés qui sont baignés par le lac Ontario ? *An., Lr., P.-E., Ml., Dm., Ob., Yk., Pl., Hu., Wh., Ln.*

Quels sont ceux qui sont baignés par le lac Érié ? *Wd., Mh., Hl., Nk., En., Bl., Ki., Er.*

Montrez les quatre Districts qui se trouvent au nord. *Ma., P. S., Né., Ad.*

Quels sont les Comtés baignés par la rivière Trent et ses tributaires ? *Va., Ph., Md., Hs.*


—Par la rivière Grande ? *Wa., Wo., Bl., Hl.*

—Par la Tamise ? *Er., Kt., Bl., En., Mr., Ph.*

Iles, Presqu'île, etc.—Quelle Ile est située au-dessus de la chute de Niagara ? *Grande.*

Quelle grande Ile est située dans le lac Huron ? *Mn.*

Quelle Presqu'île est formée par la baie de Quinté ? *P.-E.*



Quelle ville est située à l'extrémité O. du lac Ontario? *Ind.*
 Quelle ville trouve-t-on à l'extrémité nord-est de ce lac? *Am.*
 Quelle ville est située sur la Tamise, dans le comté de Middlesex? *Es.*
 — Dans les comtés de Leeds, Grenville, Stormont? *Be., Pt., Cl.* — Montrez la rivière Gatineau.

— Par la Tamise? *Es., Kl., Bl., Et., Mr., Ph.*
 Iles, Presqu'île, etc. — Quelle Ile est située au-dessus de la chute de Niagara? *Grande.*
 Quelle grande Ile est située dans le lac Huron? *Mn.*
 Quelle Presqu'île est formée par la baie de Quinté? *P.-E.*

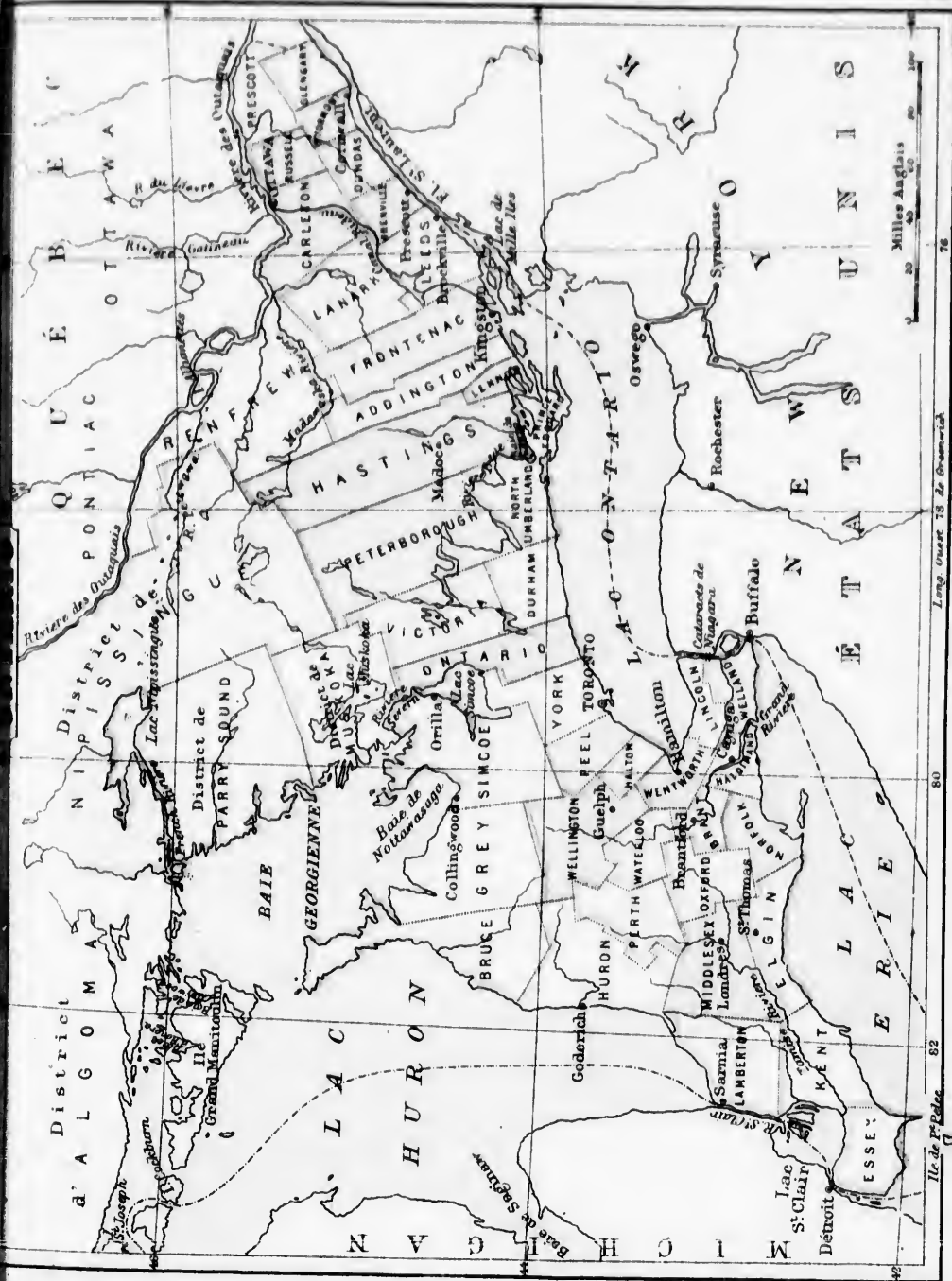


TABLEAU I.—Comtés de la Province de Québec.

Comtés.	Popula- tion.	Comtés.	Popula- tion.	Comtés.	Popula- tion.
Pontiac.....	15810	Berthier.....	19804	Mégantic.....	18879
Ontarouais	38629	Maskinongé	15079	Arthabaska.....	17611
Argenteuil.....	12806	St-Maurice.....	19449	Lotbinière.....	20606
Deux-Montagnes.....	15615	Champlain.....	22032	Lévis.....	24831
Vaudrenil.....	11003	Nicotet.....	23262	Dorchester.....	17779
Sonlanges.....	10808	Yamaska.....	16317	Bellechasse.....	17637
Huntingdon.....	16301	Richelieu.....	20048	Montmagny.....	13555
Beauharnois.....	14757	St-Hyacinthe.....	18310	Portneuf.....	22569
Châteauguay.....	16166	Bagot.....	19491	Québec.....	79306
Napierville.....	11688	Rouville.....	17631	Montmorency.....	12085
St-Jean.....	12122	Iberville.....	15413	Charlevoix.....	15611
Laprairie.....	11861	Missisquoi.....	16922	L'Islet.....	13517
Chambly.....	10498	Brome.....	13757	Kamouraska.....	21254
Verchères.....	12717	Stanstead.....	13138	Témiscouata.....	22491
Hochelega.....	132865	Shefford.....	19077	Chicoutimi.....	17493
Laval.....	9472	Sherbrooke.....	8516	Saguenay.....	1788
Jacques-Cartier.....	11179	Richmond.....	11213	Rimouski.....	27418
L'Assomption.....	15473	Drummond.....	14281	Gaspé.....	15557
Terrebonne.....	19591	Wolfe.....	8823	Bonaventure.....	15923
Montcalm.....	12742	Compton.....	13665	Labrador.....	3699
Joliette.....	23075	Beauce.....	27253	Iles de la Madeleine(1)	3172

TABLEAU II.—Comtés de la Province D'Ontario.

Comtés.	Popula- tion.	Comtés.	Popula- tion.	Comtés.	Popula- tion.
Addington.....	21312	Halton.....	22606	Peel.....	16369
Bothwell.....	20701	Hastings.....	48364	Perth.....	46536
Brant.....	32259	Huron.....	66165	Peterborough.....	30473
Bruce.....	48515	Kent.....	26836	Prescott.....	17647
Cardwell.....	16500	Lambton.....	31994	Prince-Edward.....	20336
Carleton.....	43284	Lanark.....	33020	Renfrew.....	29977
Dundas.....	18777	Leeds.....	35302	Russell.....	18344
Durham.....	37380	Lennox.....	16396	Simcoe.....	57389
Elgin.....	33666	Lincoln.....	20672	Stormont.....	11873
Essex.....	32697	Middlesex.....	82595	Victoria.....	30200
Frontenac.....	28717	Monck.....	15130	Waterloo.....	40251
Glengary.....	20524	Norfolk.....	30760	Welland.....	20572
Grenville.....	23116	Northumberland.....	39086	Wellington.....	63289
Grey.....	59395	Ontario.....	45890	Wentworth.....	57599
Haldimand.....	20091	Oxford.....	48237	York.....	115974

(1) Les Iles de la Madeleine font partie de la division électorale de Gaspé et le Labrador, de celle du Saguenay.

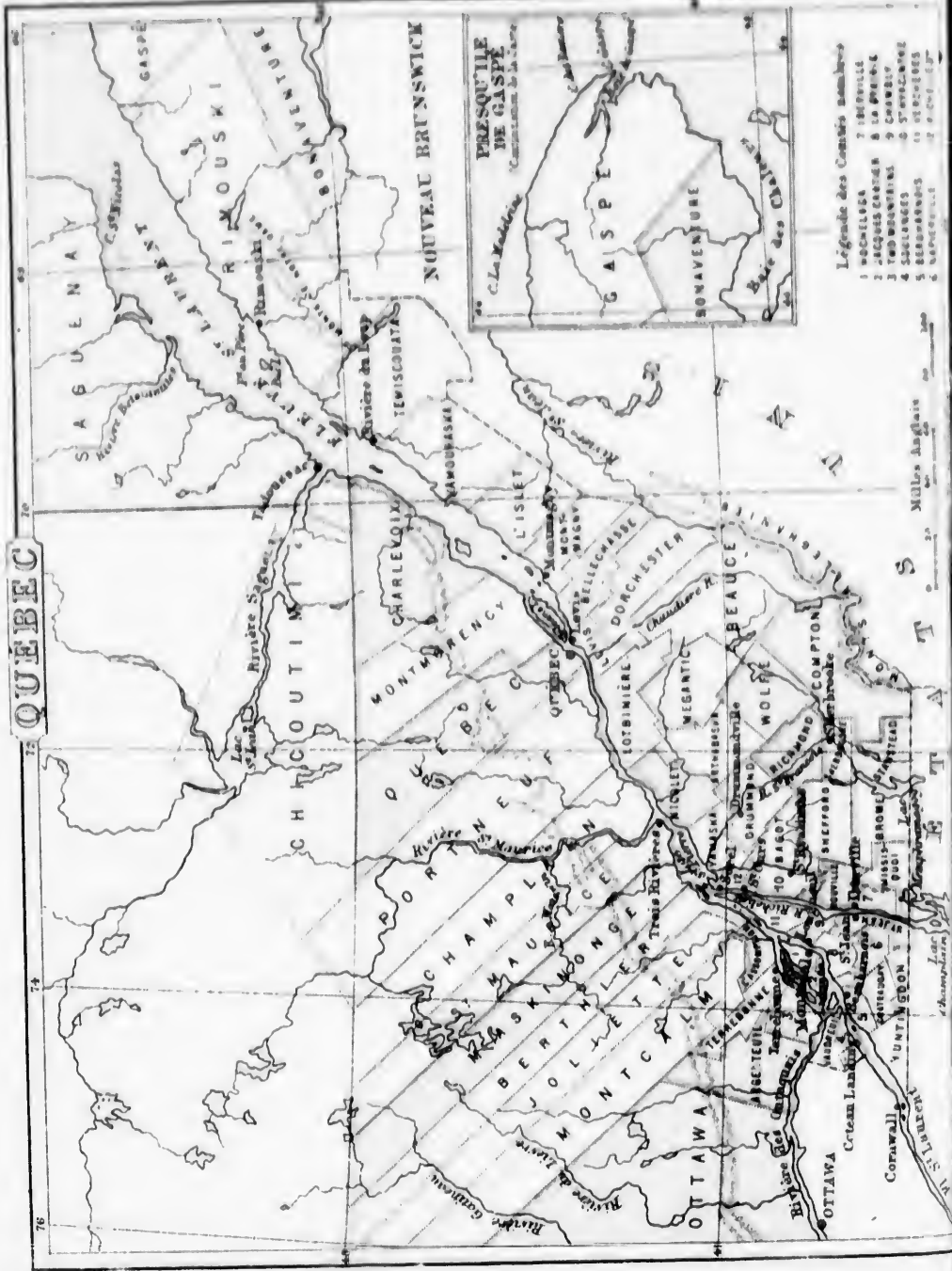
TABLEAU III.—Comtés du Nouveau-Brunswick, de la Nouvelle-Ecosse et de l'Île du Prince-Edouard.

Popula- tion.	Comtés.	Popula- tion.	Comtés.	Popula- tion.	Comtés.	Popula- tion.
18879	NOUVEAU BRUNSWICK.		Kent	19101	Cumberland	23518
17611	St. John.....	52120	Westmoreland.....	29335	Golchester.....	23331
20606	Charlotte	25882	Albert.....	10672	Pictou.....	32114
24831	King's	24593	NOUVELLE-ECOSSE.		Antigonish	16512
17779	Queen's.....	13847	Hants	21301	Guysborough	16555
17637	Sunbury.....	6824	King's.....	21510	Inverness.....	23415
13555	York	27140	Annapolis.....	18121	Victoria.....	11346
22569	Carleton	19938	Digby.....	17037	Cap Breton.....	26454
79306	Victoria	4407	Yarmouth.....	18550	Richmond	14268
12085	Madawaska.....	7234	Shelburne	12417	ILE DU P. EDOUARD.	
15611	Restigouche.....	5575	Queen's	10554	King's.....	27200
13517	Gloucester.....	18810	Littonburg	23834	Queen's	50000
21254	Northumberland	20216	Halifax	66963	Prince's	16821


Population des principales Cités de la Puissance du Canada et des Etats-Unis.

AMERIQUE du NORD		Etats-Unis.		
	Brockville, Ont.....	5,102	New-York, N. Y.....	943,000
	Hull, Qc.....	5,000	Philadelphie, Pa.....	674,000
	Winnipeg, Ma.....	5,000	Brooklyn, N. Y.....	396,000
	St-Cunegonde, Qc.....	5,000	St-Louis, Mo.....	311,000
	Woodstock, Ont.....	5,000	Chicago, Ill.....	299,000
	Moncton, N. B.....	4,810	Baltimore, Md.....	267,000
	Peterborough, Ont.....	4,611	Boston, Mass.....	251,000
	Ingersoll, Ont.....	4,022	Cincinnati, Oo.....	216,000
	Halifax, N. S.....	29,582	Nouvelle-Orléans, La.	191,000
	St-Jean, (et Port-land) N. B.....	41,000	San Francisco, Cal.....	149,000
	Hamilton, Ont.....	26,716	Buffalo, N. Y.....	118,000
	Ottawa, Ont.....	21,545	Washington, D.C.....	109,000
	London, Ont.....	15,826	Newark, N.J.....	105,000
	Portland, N. B.....	12,500	Louisville, Ky.....	101,000
	Kingston, Ont.....	12,407	Cleveland, Oo.....	93,000
	Brantford, Ont.....	8,107	Pittsburg, Pa.....	86,000
	St Henri, Qc.....	8,000	Jersey City, N.J.....	83,000
	St-Catherine, Ont.....	7,864	Détroit, Mich.....	80,000
	Trois-Rivières, Qc.....	7,570	Albany, N.Y.....	77,000
	Pelleville, Ont.....	7,305	Milwaukee, Wis.....	71,000
	Charlottetown, I.P.E.	7,000	Providence, R.I.....	69,000
	Guelph, Ont.....	6,878	Rochester, N.Y.....	62,000
	Lévis, Qc.....	6,691	Alleghany, Pa.....	53,000
	Fredericton, N. B.....	6,006	Richmond, Va.....	51,000
	Chatham, Ont.....	5,873	Troy, N.Y.....	46,000
	Sorel, Qc.....	5,636	Portland, Me.....	31,000
	Port Hope, Ont.....	5,114		
	Windsor, Ont.....	3,000		

e Gaspé et le



Carte de la Province de Quebec.



Carte de la Province de Quebec.

Rivières et Lacs.—Quel Fleuve traverse la Province de Québec du S.-O. au nord-est? *St-L.*

Montrez les trois principaux Affluents de la rive droite du St-Laurent. *Ra., S.-E., G.* [*Sq.*]

Nommez les trois principaux de la rive gauche. *Ox., S.-M.*

Quel Lac le Richelien décharge-t-il? *Ch.*

Dans quel Lac se jette le Richelien? *St-P.*

Quel Lac se décharge dans le St-François? *Mg.*

Dans quel Comte le St-François prend-il sa source? *Re.*

De quel Lac reçoit-il ses eaux? *Mégantic.*

Dans quelle rivière se décharge-t-il? *St-L.*

Dans quelles Montagnes prend-il sa source? *Mg.*

Dans quelle direction le St-Maurice coule-t-il?

De quel Lac le Saguenay reçoit-il les eaux? *St-J.*

Montrez la rivière du Lièvre.—Matawin.—Betsiamites.

Iles et Presqu'île.—Quelle grande Ile trouve-t-on au confluent de l'Ontariois et du St-Laurent? *M.*

Quelle Ile se trouve au nord de celle de Montréal? *Is.*

Quelle grande Ile est située près de Québec? *Orléans.*

Quelle Presqu'île est située dans l'est de la Province? *Gé.*

Montagnes et Caps.—Quelle chaîne de Montagnes forme une partie des limites entre la Province de Québec et les États-Unis? *Mg.*

Quelle autre chaîne se trouve au nord du fleuve St-Laurent? *Ls.*

Nommez les trois Caps situés dans la Gaspésie. *Cé., Rv., M.*

Villes.—Dans quelle Ile est la ville de Montréal? *M.*

Quelle est la Capitale de la Province de Québec? *Qc.*

Sur quelle Rivière est-elle située? *St-L.*

Quelle Ville est située à l'embouchure du St-Maurice? *T.-R.*

Quel Village est situé à l'embouchure du Saguenay? *Lc.*

Quelle Ville se trouve à l'embouchure du Richelien? *St.*

Sur quelle Rivière est située la ville de St-Hyacinthe? *Yz.*

Quelle Ville est située vis-à-vis de Québec? *Ls.*

Montrez Rimouski.—Rivière du Loup.—Montmagny.—Sherbrooke.—Lachapelle.—Bathurstois.

Comtés.—Quels sont les Comtés qui forment la Gaspésie?

Quels sont les Comtés baignés par la Chaudière? *Ls., Br., Be., Ch.*

Quels sont les Comtés qui se trouvent entre la Chaudière et la Gaspésie? *Br., Be., Mg., Lt., Ka., Ya.*

Quels sont les Comtés arrosés par le St-François? *Be., Br., Rd., St., Wt.*

Quels sont les autres Comtés situés entre la Chaudière et le St-François? *Lc., Wt., M., Ma.*

Quels sont les Comtés baignés par le Richelien? *Ro., St-R., R., M.; Ys., G., St-J.*

Nommez les Comtés au-dessus du St-François qui n'ont pas encore été nommés. *Et., St., Be., Rv., G., Ys., Ba.*

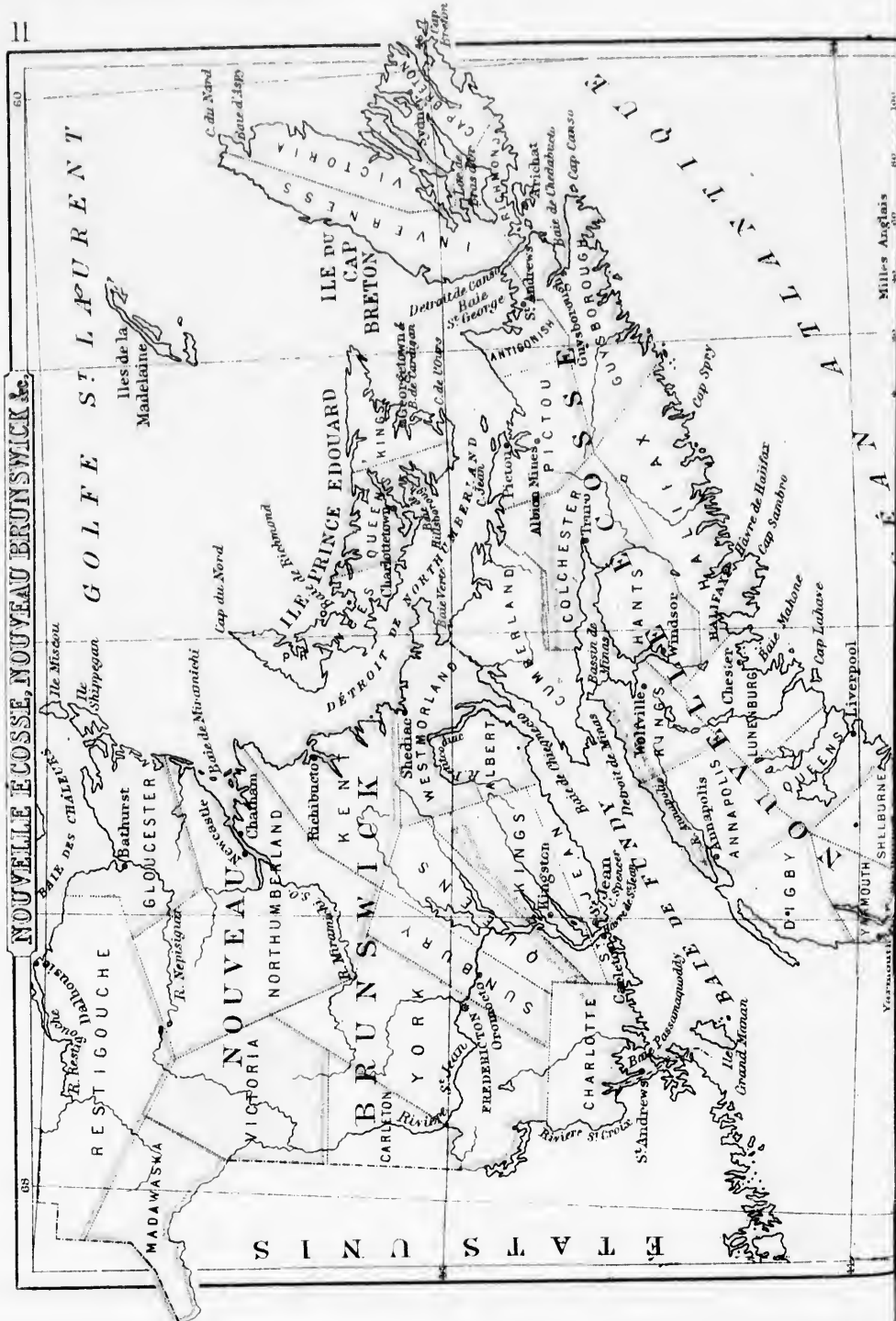
Quels sont les Comtés arrosés par le Saguenay? *Sy., G.*

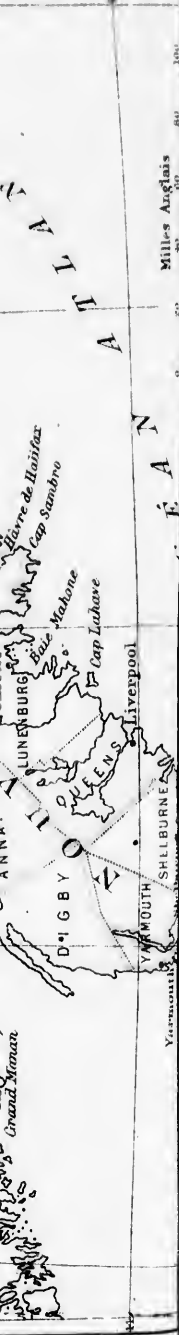
Nommez les Comtés situés entre le Saguenay et le St-Maurice. *Cr., Mg., Qc., Cf., Ch.*

Nommez les Comtés baignés par le St-Laurent, depuis le St-Maurice, jus-qu'à l'Île de Montréal. *S.-M., Wt., Be., L.-A.*

Nommez les Comtés à l'ouest du centre de Joliette. *St., Tr., D.-M., M., Or.*

- Légende des Comtés nommés
- 1 NOUVELLA
 - 2 BEGONVILLE
 - 3 ST-ROCH
 - 4 ST-CHARLES
 - 5 ST-JACQUES
 - 6 ST-LOUIS
 - 7 ST-PIERRE
 - 8 ST-PAUL
 - 9 ST-JEAN
 - 10 ST-ANTOINE
 - 11 ST-BASILE
 - 12 ST-ROCH
 - 13 ST-LOUIS
 - 14 ST-PIERRE
 - 15 ST-PAUL
 - 16 ST-JEAN
 - 17 ST-ANTOINE
 - 18 ST-BASILE
 - 19 ST-ROCH
 - 20 ST-LOUIS
 - 21 ST-PIERRE
 - 22 ST-PAUL
 - 23 ST-JEAN
 - 24 ST-ANTOINE
 - 25 ST-BASILE
 - 26 ST-ROCH
 - 27 ST-LOUIS
 - 28 ST-PIERRE
 - 29 ST-PAUL
 - 30 ST-JEAN
 - 31 ST-ANTOINE
 - 32 ST-BASILE
 - 33 ST-ROCH
 - 34 ST-LOUIS
 - 35 ST-PIERRE
 - 36 ST-PAUL
 - 37 ST-JEAN
 - 38 ST-ANTOINE
 - 39 ST-BASILE
 - 40 ST-ROCH
 - 41 ST-LOUIS
 - 42 ST-PIERRE
 - 43 ST-PAUL
 - 44 ST-JEAN
 - 45 ST-ANTOINE
 - 46 ST-BASILE
 - 47 ST-ROCH
 - 48 ST-LOUIS
 - 49 ST-PIERRE
 - 50 ST-PAUL





Nouveau-Brunswick, Nouvelle-Ecosse et Ile du Prince Edouard. 51

Nouveau-Brunswick.—Par quelle Rivière et quelle

Baie le N.-Brunswick est-il borné au nord ? *Re., Cr.*

Par quel Golfe et quel Détroit est-il borné à l'est ? *S.-L., Md.*

Par quelle Baie est-il borné au sud ? *Fy.*

Quel Pays le borne-t-il à l'ouest ? *E.-U.*

Quelles Rivières débouchent dans la baie des Chaleurs ?
Re., M.

Quelle Rivière se jette dans la baie Miramichi ? *Mi.*

Quelle est la plus grande Rivière du N.-Brunswick ? *S.-J.*

Quel est le cours général du fleuve S.-Jean ?

Dans quelles eaux se décharge-t-il ? *B. Fy.*

Quelle grande Ville est située à l'embouchure du fleuve
Saint-Jean ? *S.-J.*

Quelle est la Capitale du Nouveau-Brunswick ? *Fh.*

Sur quelle Rivière est-elle située ? *S.-J.*

Quel Comté est borné par la rivière Restigouche ? *Re.*

Quels Comtés touchent au comté Restigouche ? *Ma., Va.,
N.L., Gr.*

Montrez la baie Passamaquoddy.

Quel Comté est borné par cette baie ? *Cé.*

Quels Comtés sont limitrophes au comté Charlotte ? *Yk.,
Sy., Qs., Ks., S.-J.*

Quels sont les deux Comtés qui sont situés sur le détroit
Northumberland ? *Kl., Wd.*

Nouvelle-Ecosse.—Quel Isthme joint la Nouvelle-
Ecosse au Nouveau-Brunswick ? *Co.*

Quelle Baie sépare ces deux Provinces ? *Fy.*
Par quelles eaux la Nouvelle-Ecosse est-elle bornée au
sud et à l'est ? *M.*

Montrez la baie Chignectou.

Montrez le détroit de Minas.—Le bassin de Minas.

Quelle grande Ile trouve-t-on au N.-E. de la N.-Ecosse ? *C.B.*

Quelle Ile est située au sud du Cap-Breton ? *Me.*

Nommez les Comtés qui forment l'île du Cap-Breton. *Is.,
Va., C.-B., Rd.*

Quel grand Lac se trouve vers le centre de cette île ? *B.-d'O.*
Nommez les trois Comtés situés dans l'est de la Presqu'île.

Pu., Ah., Gh.

—Les trois de l'ouest. *Dy., Yh., Sz.*

Quels sont les deux Comtés qu'arrose la rivière Annapo-
lis ? *Ks., As.*

Quels sont les deux Comtés situés au sud-est du comté
d'Annapolis ? *Qs., Lq.*

Quelle est la Capitale de la Nouvelle-Ecosse ? *It.*

Ile du Prince Edouard.—Dans quel Golfe est située
l'île du Prince Edouard ? *St.-L.*

Quel Détroit sépare cette île du Nouveau-Brunswick et
de la Nouvelle-Ecosse ? *Md.*

Quel Cap est situé au nord-est ? *Md.*

Quels sont les trois Comtés formés par cette Province ?
Ps., Qn., Ks.

Quelle est la Capitale de cette île ? *Gn.*

Sur quelle Baie est-elle située ? *Hy.*

Quelles sont les trois principales Baies ? *Rd., Cn., Hy.*

Par quel Détroit le Cap-Breton est-il séparé de la Nouvelle-
Ecosse ? *Co.*

Quelles Baies sont situées aux extrémités de ce détroit ?
S.-G., Co.

Carte des Etats-Unis.

52

Bornes.—Quels sont les bornes des Etats-Unis au nord ? *P. C.*

Quel Océan est situé à l'est ? *Al.*

Quelle Contrée et quel Golfe les bornent au sud ? *Me.*

Quel Océan se trouve à l'ouest ? *Pc.*

Quels sont les Lacs qui séparent le Canada des Etats-Unis ? *Sp., In., Ec., Oo.*

Quel Lac est situé en entier dans les Etats-Unis ? *Mn.*

Rivières.—Montrez le fleuve Mississippi

Dans quelles eaux se décharge-t-il ? *G. M.*

Quels sont les trois principaux Affluents situés sur la rive droite ? *Mi., As., R. R.*

Les deux principaux de la rive gauche ? *Oo., Tc.*

Quelle Rivière sépare le Mexique des Etats-Unis ? *Ge.*

Quel Fleuve arrose l'ouest des Etats-Unis ? *Co.*

Où débouche-t-il ? *G. Ce.*

Quelle grande Rivière arrose le nord-ouest ? *Ce.*

Dans quelles eaux se jette-t-elle ? *Pc.*

Montagnes.—Montrez les Montagnes Rocheuses.

Quels Territoires traversent-elles ? *Ma., Io., Wg., Uh., Co., N.-M.*

Quelle chaîne de Montagnes se trouve dans l'est des Etats-Unis ? *Ay.*

Dans quel Océan les rivières situées à l'ouest des Montagnes Rocheuses se dirigent-elles ? *Pc.*

Dans quelles eaux se dirigent les rivières situées entre les Alleghanics et les Montagnes Rocheuses ? *G. Me.*

—Les Rivières à l'est des Alleghanics ? *Al.*

Etats.—De combien d'Etats se composent les Etats-Unis ? *37.*

Quel est le plus grand ? *Ts.*

Quel est le plus au sud ? *Fe.*

Quel est le plus à l'ouest ? *Ce.*

Montrez l'état de New-York ?

Quels sont les Etats au nord et à l'est de celui de New-York ? *R. J., Ct., Md., Vl., N. H., Me.*

Quels sont les Etats, au-dessous de New-York, bornés par l'Atlantique ? *N.-J., De., Md., Va., C. N., C. S., Ge. Fe.*

Quels sont les Etats baignés par le golfe du Mexique ? *Fl., Ala., Mi., Le., Tc.*

Quels sont les Etats baignés par la rive gauche du Mississippi ? *Wn., Is., Ky., Tc., Mi.*

—Par la rive droite ? *Ma., Ia., Mi., As., Le.*

Quels sont les Etats ou Territoires baignés par le Missouri ? *Ma., Da., Na., Ia., Ks., Mi.*

—Ceux qui sont baignés par le Pacifique ? *Wn., On., Ca.*

Villes.—Quelle est la Capitale des Etats-Unis ? *Wn.*

Montrez New-York.—Boston.—Ottawa.—St-Louis.—La Nouvelle-Orléans.—Philadelphie.—Baltimore.—San Francisco.

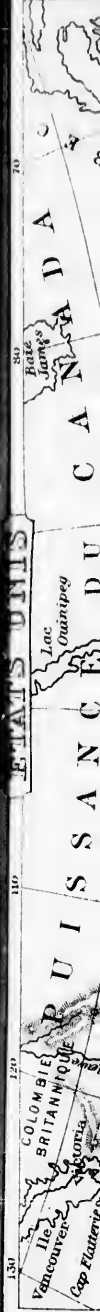
Caps.—Quel Cap trouve-t-on à l'est de la Caroline ? *Is.*

—Au sud de la Floride ? *Se.*

—A l'ouest de la Californie ? *Mo.*

Montrez le Territoire Utah.

Quel Lac est situé dans ce Territoire ? *L. Sé.*



Etats-Unis ? *Aij.*

Dans quel Océan les rivières situées à l'ouest des Montagnes Rocheuses se dirigent-elles ? *Pc.*

Dans quelles eaux se dirigent les rivières situées entre les Alléghannies et les Montagnes Rocheuses ? *G.Me.*

— Les Rivières à l'est des Alléghannies ? *Al.*

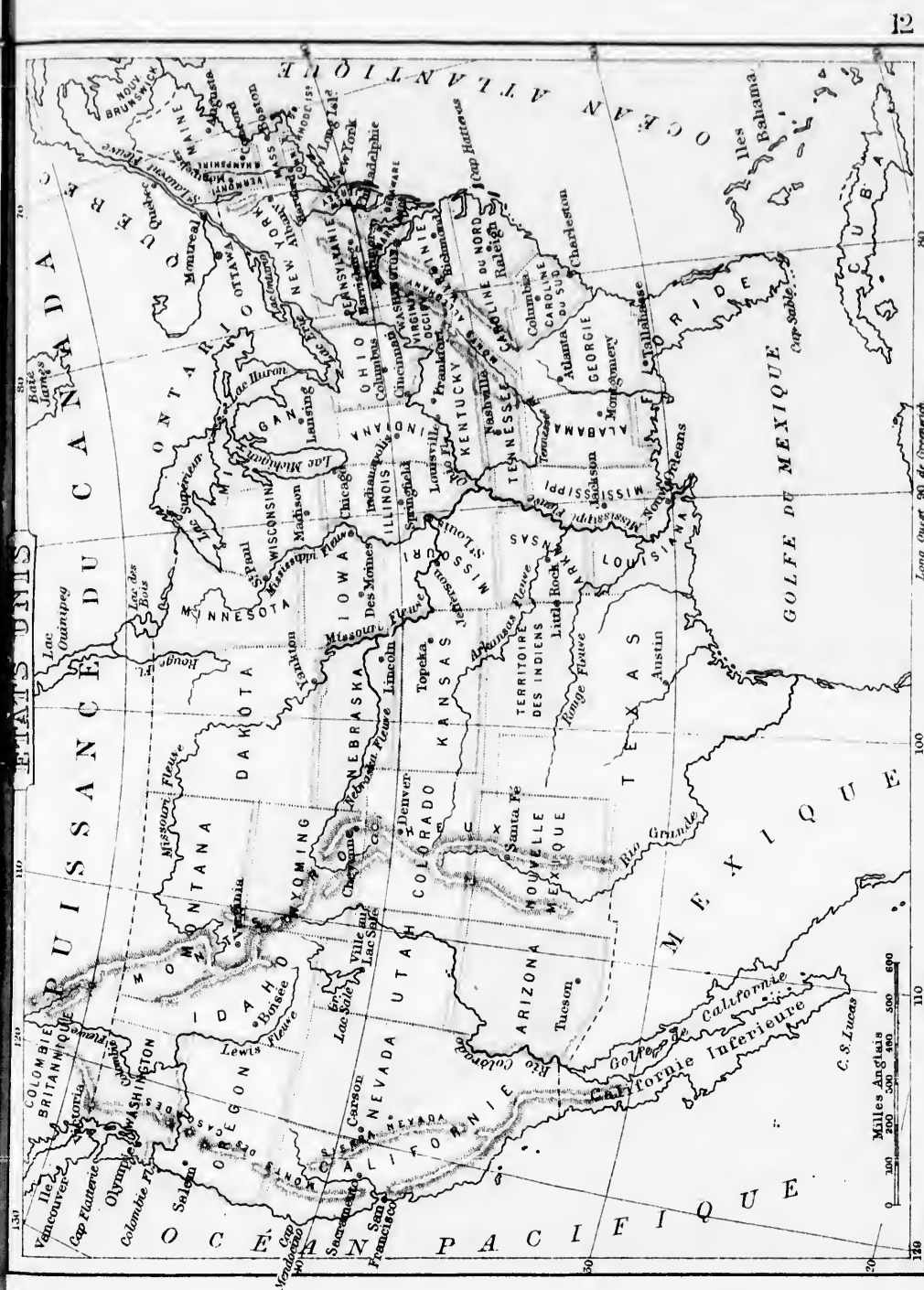
Caps.— Quel Cap trouve-t-on à l'est de la Caroline ? *Is.*

— Au sud de la Floride ? *Se.*

— A l'ouest de la Californie ? *Mo.*

Montrez le Territoire Utah.

Quel Lac est situé dans ce Territoire ? *L.Sé.*




Carte de l'Asie.

51

Bornes et Mers.—Quelle Mer borne l'Asie au nord? *Ge.*
 Quelles sont les Mers qui la bornent à l'est? *Bg., Ok., Ja., Je.*
 Par quelles Mers est-elle bornée au sud? *Ce., Ae.*
 —Par quel Golfe? *Be.*
 Quelles sont les Mers qui la bornent à l'ouest? *Re., Me., Ce.*
 —Quels Monts? *Os.*
Contrées.—Quelle Contrée occupe le nord de l'Asie? *Se.*
 Quel Empire trouve-t-on au sud de la Sibérie? *Us.*
 Quelle est la Capitale de la Chine? *Pn.*
 Montrez le Tibet et nommez sa Capitale. *La.*
 Quelles sont les trois Contrées situées au sud de la Chine?
Am., Sm., Bn.
 Quelles en sont les principales Villes? *Hs., Bk., Mj.*
 Quelle Contrée trouve-t-on au sud-ouest de la Chine? *Je.*
 ou *Hindoustan.*
 Quelle en est la principale Ville? *Ca.*
 Montrez l'Arabie et nommez en la principale Ville. *Me.*
 Par quelles Contrées est-elle bornée? *Tc., Pe.*
 Quelle est la Capitale de la Perse? *Th.*
 Quelles sont les trois Contrées situées à l'est de la Perse?
Th., An., Bn.
Iles.—Quel groupe d'Iles trouve-t-on à l'est de la
 Chine? *Ju.*
 Quel groupe est situé au nord du Japon? *Ks.*
 Quelle Ile se trouve au sud de l'Hindoustan? *Un.*
Presqu'îles.—Quelles Presqu'îles trouve-on à l'ouest
 de l'Asie? *Te., Ae.*
 Quelle Presqu'île est située à l'est de la Sibérie? *Ka.*
 —A l'est de la Chine? *Ce.*—Au sud de Siam? *Ma.*

Quel Isthme unit l'Asie à l'Afrique? *Sz.*
Montagnes et Caps.—Quelle chaîne de Montagnes y
 a-t-il entre la Chine et la Sibérie? *Al.*
 Quelle chaîne sépare l'Hindoustan de la Chine? *Et.*
 Quelle chaîne sépare la Sibérie de l'Europe? *Os.*
 Quel Cap est situé au nord de la Sibérie? *N.-E.*
 Quel Cap se trouve au sud de l'Inde? *Un.*
Golfes et Détroits.—Quel Golfe trouve-t-on au sud-est
 de l'Inde? *Be.*
 Quel Golfe se trouve entre l'Arabie et la Perse? *Pe.*
 Quel Détroit unit la mer Rouge et la mer Arabique? *B.-M.*
 Quel Détroit sépare le Japon de la Corée? *Ce.*
 Quel Détroit se trouve entre la presqu'île de Malacca et
 l'île de Sumatra? *Ma.*
Lac.—Quel Lac est situé dans le sud de la Sibérie? *Bl.*
Rivières.—Nommez les trois Fleuves qui arrosent la
 Sibérie. *Ol., Yi., La.*
 Dans quelle direction coulent-ils généralement?
 Dans quelles Montagnes prennent-ils leurs sources? *Al.*
 Quelles Contrées sont arrosées par le Mekon ou Cambodje?
Th., Sm., An.
 Par quel Fleuve le Birman est-il traversé? *Iy.*
 Quels sont les deux Fleuves qui prennent leurs sources
 dans les versants des monts Himalaya, l'un au nord et
 l'autre au sud? *Be., Ge.*
 Quel Fleuve arrose le nord-ouest de l'Hindoustan? *Is.*
 Par quel Fleuve la Turquie d'Asie est-elle arrosée? *Es.*
 Quelle est la Rivière qui prend sa source dans le lac
 Baïkal? *Aa.*



Quelle Ile se trouve au sud de l'Hindoustan? *Un.*

Presqu'iles.—Quelles Presqu'iles trouve-t-on à l'ouest de l'Asie? *De., Ae.*

Quelle Presqu'ile est située à l'est de la Sibirie? *Ka.*

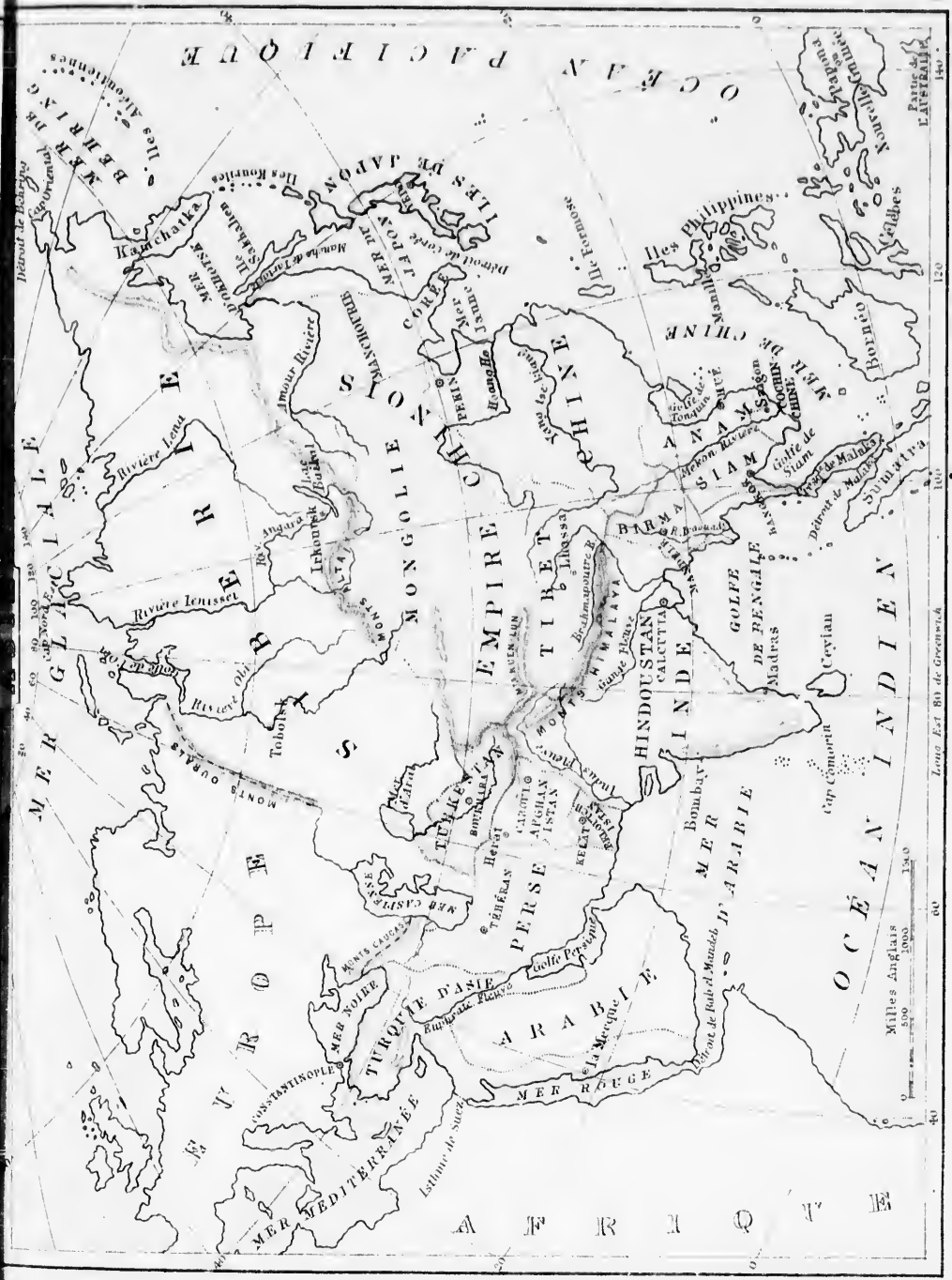
—A l'est de la Chine? *Ce.*—Au sud de Siam? *Ma.*

l'autre au sud? *Be., Gc.*

Quel Fleuve arrose le nord-ouest de l'Hindoustan? *Is.*

Par quel Fleuve la Turquie d'Asie est-elle arrosée? *Es.*

Quelle est la Rivière qui prend sa source dans le lac Baikal? *Aa.*



Mexique.		Chili.		Barcelone.....250,000
Mexico.....205,000		Santiago.....115,000		Séville.....152,000
Puebla.....75,000		Valparaiso.....70,000		Valence.....146,000
Guadalajara.....70,000		Confédération Argentine.		Malaga.....113,000
Guanajuato.....63,000		Buenos Ayres.....200,000		Murcia.....110,000
Queretaro.....40,000		Cordova.....29,000		Grenade.....101,000
Amérique Centrale.		Rosario.....20,000		Saragosse.....83,000
Nouveau Guatemala.....40,000		Paraguay:		Cadix.....72,000
Leon.....35,000		Concepcion.....16,000		Portugal.
San José.....30,000		Asuncion.....15,000		Lisbone.....225,000
San Salvador.....18,000		Uruguay.		Oporto.....89,000
Managua.....10,000		Montevideo.....126,000		Braga.....20,000
Antilles.				Columbre.....18,000
La Havane.....206,000		EUROPE.		Hollande:
Santiago de Cuba.....96,000		Norwège et Suède.		Amsterdam.....282,000
Puerto Principe.....45,000		Stockholm.....138,000		Rotterdam.....123,000
Matanzas.....45,000		Christiania.....70,000		La Haye.....93,000
Kingston.....36,000		Gottenburg.....57,000		Utrecht.....61,000
Port-au-Prince.....21,000		Bergen.....30,000		Belgique:
AMER. MERIDIONALE.		Malmö.....26,000		Bruxelles.....314,000
Brésil.		Russie.		Anvers.....127,000
Rio Janeiro.....420,000		St Petersbourg.....667,000		Gand.....121,000
Bahia.....180,000		Moscou.....368,000		Liège.....106,000
Pernambouc.....60,000		Varsovie.....255,000		Bruges.....48,000
Maranhão.....30,000		Odessa.....119,000		Malines.....36,000
Vénézuéla.		Riga.....102,000		Verviers.....34,000
Caracas.....47,000		Kichineff.....95,000		Angleterre.
Valencia.....25,000		Saratov.....86,000		Londres.....3,883,000
Maracaybo.....25,000		Wilna.....79,000		Liverpool.....500,000
Barcelona.....15,000		Suisse.		Manchester.....356,000
Colombie.		Genève.....49,000		Birmingham.....344,000
Bogota.....45,000		Bâle.....38,000		Leeds.....259,000
Popayan.....20,000		Berne.....29,000		Sheffield.....240,000
Panama.....20,000		Lausanne.....21,000		Bristol.....183,000
Equateur.		France.		Bradford.....146,000
Quito.....76,000		Paris.....1,225,000		Stoke-upon-Trent.....131,000
Guayaquil.....25,000		Lyon.....342,800		New Castle.....128,000
Cuenca.....20,000		Marseille.....318,000		Salford.....125,000
Perou.		Bordeaux.....215,000		Pull.....122,000
Lima.....121,000		Lille.....162,000		Portsmouth.....113,000
Cuzco.....46,000		Toulouse.....131,000		Ecosse.
Arequipa.....35,000		St Etienne.....120,000		Glasgow.....477,000
Bolivie.		Nantes.....122,000		Edimbourg.....197,000
La Paz.....76,000		Rouen.....106,920		Dundee.....119,000
Cochabamba.....41,000		Espagne.		Aberdeen.....88,000
Chuquisaca.....24,000		Madrid.....317,000		Greenock.....57,000
				Irlande.
				Dublin.....246,000
				Belfast.....174,000

(1) Pour les villes de la Puissance du Canada et des États-Unis, voyez page 47.

.....	250,000
.....	152,000
.....	146,000
.....	113,000
.....	110,000
.....	101,000
.....	83,000
.....	72,000
ugal.	
.....	225,000
.....	89,000
.....	20,000
.....	18,000
ande:	
.....	282,000
.....	123,000
.....	93,000
.....	61,000
ique:	
.....	314,000
.....	127,000
.....	121,000
.....	106,000
.....	48,000
.....	36,000
.....	34,000
eterre.	
.....	3,883,000
.....	500,000
.....	356,000
.....	344,000
.....	259,000
.....	240,000
.....	183,000
.....	146,000
.....	131,000
.....	128,000
.....	125,000
.....	122,000
.....	113,000
esse.	
.....	477,000
.....	197,000
.....	119,000
.....	83,000
.....	57,000
nde.	
.....	246,000
.....	174,000

Cork.....	79,000
Limerick.....	40,000
Waterford.....	23,000
Londonderry.....	20,000

Danemark.

Copenhague.....	180,000
Odensée.....	14,000

Autriche.

Vienne.....	825,000
Pestli.....	292,000
Prague.....	170,000
Trieste.....	120,000
Lemberg.....	87,000
Grätz.....	80,000
Brunn.....	73,000
Szegedin.....	69,000
Theresienstadt.....	56,000
Bude.....	55,000
Cracovie.....	50,000

Empire d'Allemagne.

Berlin.....	825,000
Breslau.....	208,000
Dresde.....	177,000
Munich.....	171,000
Cologne.....	129,000
Königsberg.....	112,000
Leipsick.....	106,000
Hanovre.....	104,000
Francfort-sur-le-Mein.....	91,000
Stuttgard.....	91,000
Dantzig.....	89,000
Magdebourg.....	84,000

Villes Libres.

Hambourg.....	240,000
Brème.....	83,000
Lubeck.....	46,000

Italie.

Naples.....	419,000
Rome.....	240,000
Milan.....	196,000
Turin.....	181,000
Palerme.....	168,000
Gènes.....	128,000
Venise.....	114,000
Florence.....	114,000
Bologne.....	90,000
Livourne.....	84,000
Catane.....	65,000
Messine.....	62,000
Verone.....	56,000

Padoue.....	52,000
Parme.....	47,000
Brescia.....	40,000

Turquie d'Europe.

Constantinople.....	1,075,000
Bucharest.....	142,000
Andrinople.....	100,000
Salonique.....	100,000
Jassy.....	90,000
Bosnia-Serai.....	60,000

Grèce.

Athènes.....	48,000
Patras.....	26,000
Corfon.....	24,000
Syra.....	21,000
Zante.....	20,000

Turquie d'Asie.

Smyrne.....	150,000
Damas.....	120,000
Alep.....	100,000
Beyrouth.....	100,000
Brousse.....	100,000
Erzeroum.....	109,000
Bagdad.....	40,000
Jérusalem.....	20,000

Arabie.

Mecque.....	60,000
Mascate.....	50,000
Adeu.....	50,000
Médine.....	15,000

Perse.

Tébriz.....	140,000
Téhéran.....	85,000
Mesched.....	70,000

Afghanistan.

Candahar.....	100,000
Hérat.....	60,000
Caboul.....	60,000

Belouchistan.

Kélat.....	15,000
------------	--------

Turkestan.

Boukhara.....	100,000
Khokand.....	60,000

Hindoustan.

Bombay.....	817,000
Calcutta.....	616,000
Madras.....	428,000
Lucknow.....	300,000

Patna.....	284,000
Arracan.....	250,000

Indo-Chine.

Mandelay.....	500,000
Saïgon.....	100,000
Bangkok.....	100,000
Huè.....	100,000
Singapour.....	70,000

Empire Chinois.

Pekin.....	1,800,000
Canton.....	1,000,000
Changehufu.....	1,000,000
Tientsin.....	700,000
Nauchang.....	700,000
Sou-Chow.....	700,000
Hang-Chow.....	500,000
Nankin.....	500,000
Foo-Chow.....	500,000

Japon.

Yeddo.....	2,000,000
Miaco.....	500,000
Osaca.....	150,000
Nangasaki.....	75,000

Siberie.

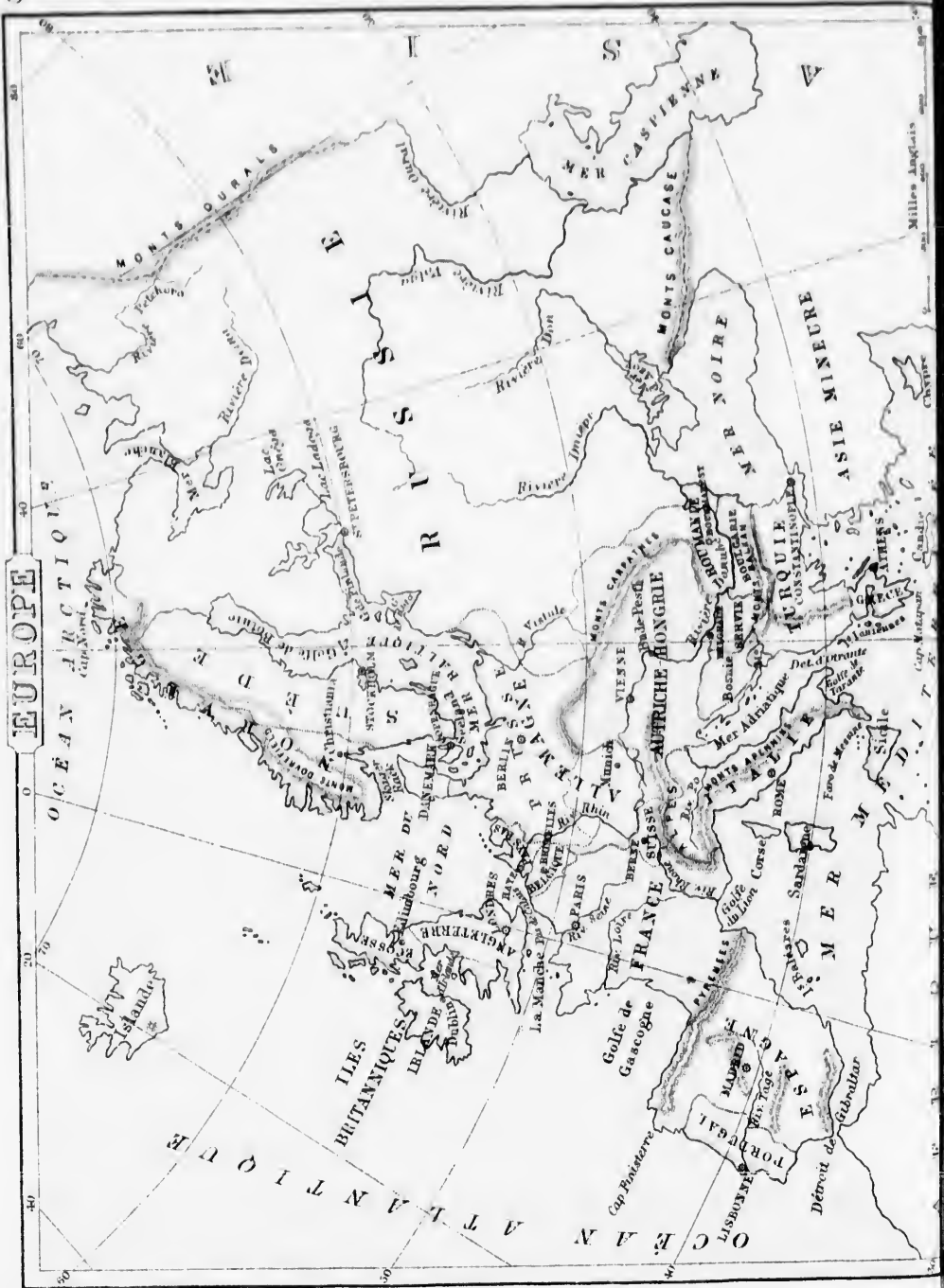
Tiflis.....	71,000
Tashkend.....	64,000
Irkoutsk.....	28,000

AFRIQUE.

Caire.....	282,000
Alexandrie.....	181,000
Tunis.....	130,000
Fez.....	100,000
Abeokuta.....	100,000
Coumassie.....	100,000
Mequinez.....	60,000
Damiette.....	57,000
Alger.....	53,000
Moroc.....	50,000
El-Obeid.....	30,000

OCEANIE.

Melbourne, Australie.....	194,000
Manille, Philippines.....	140,000
Sydney, Australie.....	135,000
Djokjokarta, Java.....	90,000
Ballarat, Australie.....	74,000
Batavia, Java.....	70,000
Surabaya, Java.....	60,000
Samarang, Java.....	50,000



EUROPE

Carte de l'Europe.

Bornes — Par quoi l'Europe est-elle bornée au nord ? Quelle Descom'île se trouve au S.O. de la France ? Et et P/

Carte de l'Europe.

Bornes.—Par quoi l'Europe est-elle bornée au nord ?
 Par quoi est-elle bornée à l'est ?
 Quelles sont ses bornes au sud ?
 Comment est-elle bornée à l'ouest ?

Divisions.—Quelles Contrées occupent le nord de l'Europe ? *Ne., Sc., Re.*
 Quelles sont leurs Capitales ? *Ca., Sm., S.-P.*
 Quels sont les trois Etats situés au sud-ouest de la Russie ? *Pe., Ac., Tè.*
 Quelles en sont les Capitales ? *Bn., Vè., Cè.*
 Quelle Contrée trouve-t-on au sud de la Turquie ? *Ge.*
 Quelle est la Capitale de la Grèce ? *As.*
 Montrez l'Italie et dites quelle est sa Capitale. *Re.*
 Montrez la France et nommez sa Capitale. *Ps.*
 Quelles sont les trois petites Contrées qui sont situées à l'est et au nord-est de la France ? *Se., Ilc., Be.*
 Montrez l'Espagne et nommez sa Capitale ? *Md.*
 Quel Etat borne l'Espagne à l'ouest ? *Pl.*

Iles.—Quelles Iles sont situées à l'ouest de l'Europe ? *I. B.*
 Quelle est la Capitale de l'Angleterre ? *LS.*
 Quelle est la Capitale de l'Irlande ? *Dn.*
 Quelles sont les principales Iles de la Méditerranée ? *Cc., Se., Sc.*
 Quel groupe d'Iles est situé à l'est de l'Espagne ? *Bs.*

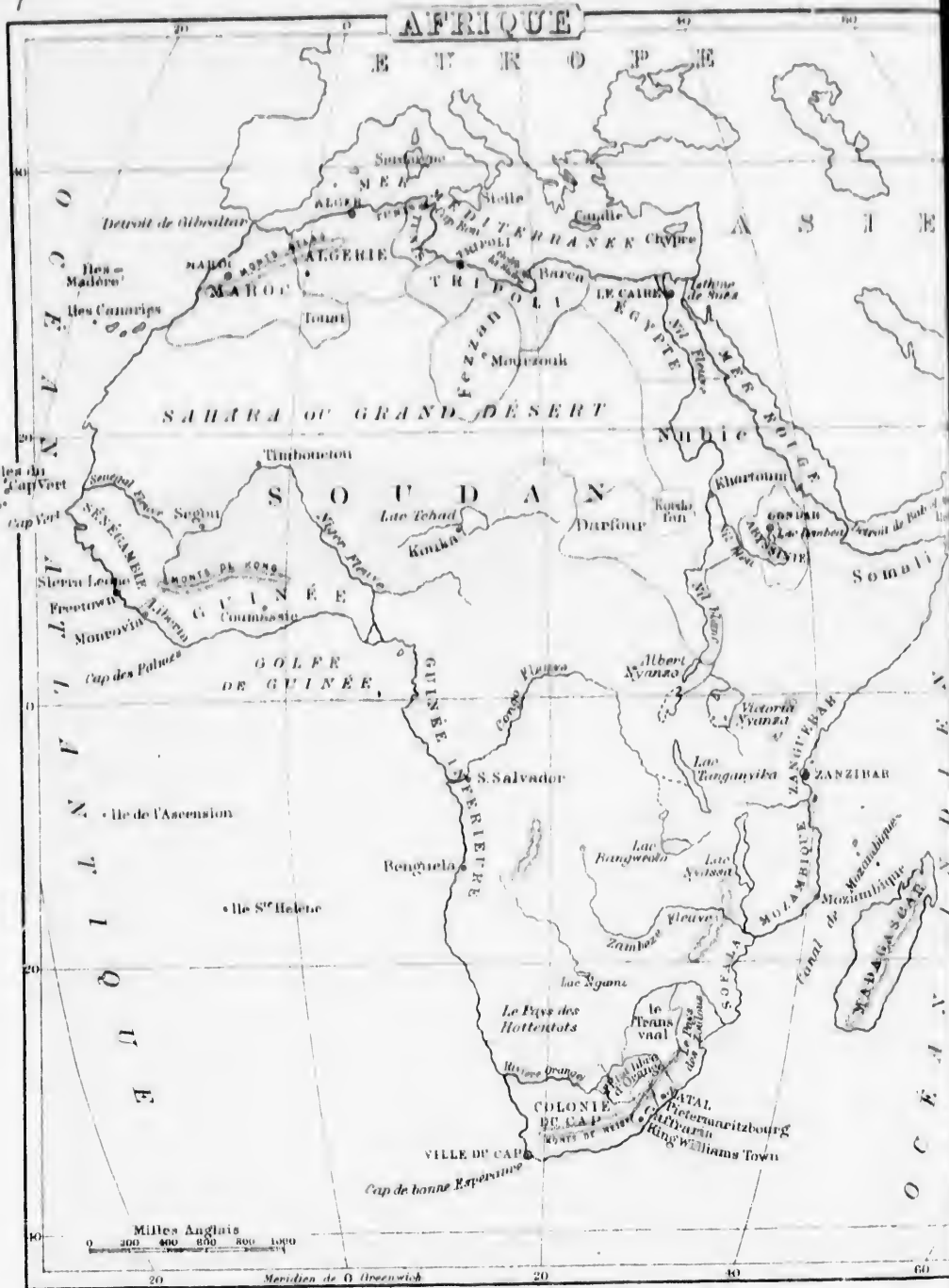
Presqu'îles.—Quelles sont les deux Contrées qui forment une presqu'île au nord de l'Europe ? *Me., Sc.*
 Comment s'appelle la Presqu'île située au sud de la Turquie ? *Ge.*

Quelle Presqu'île se trouve au S.-O. de la France ? *Ee. et Pl.*
 Quelle Presqu'île trouve-t-on dans la Méditerranée ? *le.*
Montagnes.—Quelle chaîne de Montagnes se trouve entre la Norvège et la Suède ? *Did.*
 Quelle chaîne trouve-t-on au sud de la Russie ? *Ce.*
 —Au nord de l'Italie ? *As.*
 —Entre la France et l'Espagne ? *Ps.*
Caps.—Quel Cap se trouve au nord de l'Europe ? *Md.*
 Quel Cap est situé au sud de la Grèce ? *Mn.*
 Quel Cap se trouve au nord-ouest de l'Espagne ? *Fè.*

Mers et Golfes.—Quelle Mer est située au sud de l'Europe ? *Me.*
 Quelle Mer est située à l'est de l'Italie ? *Ac.*
 Quelle Mer se trouve entre l'Angleterre et le Danemark ? *Md.*—Entre l'Angleterre et l'Irlande ? *le.*
 —Entre la Russie et la Suède ? *Be.*
 Quel Golfe est situé au sud de l'Italie ? *Tc.*
 Quel Golfe trouve-t-on au sud de la France ? *Ln.*
 Quel Golfe se trouve au nord de l'Espagne ? *Gr.*
 Nommez les Golfes formés par la mer Baltique. *Be., Fè., Ra.*

Rivières.—Nommez les deux Fleuves qui se déchargent dans la mer Caspienne. *Ol., Va.*
 —Les trois qui se jettent dans la mer Noire. *Dn., Dr., De.*
 Quelles sont les trois principales Rivières de la France ? *Re., Le., Sc.*
 Sur quelle rivière Lisbonne est-elle située ? *Tz.*—Paris ? *Sc.*
 —Vienne ? *De.*
 Quel Fleuve trouve-t-on dans le nord de l'Italie ? *Pd.*





Born
 au n
 Par c
 l'est
 Coman
 l'ou
Cont
 le n
 Quelle
 Quelle
 —De
 Montr
 Montr
 Par q
 né
 Quelle
 Par q
 née
 Quel
 sin
 Montr
 Cap
 Nonn
 nal
 Montr
 Quell
 Cap
 Montr
 Quell
Iles
 su
 Par c
 fer
 Quel
 la
 Quel
 du

Carte de l'Afrique.

Bornes.—Quelle Mer borne l'Afrique au nord? *Me.*

Par quelles eaux est-elle bornée à l'est? *M.R., O.I.*

Comment est-elle bornée au sud et à l'ouest? *O.A.*

Contrées.—Quelles Contrées occupent le nord de l'Afrique? *Me., Ae., Ts., Ti.*

Quelle est la Capitale du Maroc? *Me.*

Quelle est la Capitale de l'Algérie? *Ar.*

—De Tunis? *Ts.*—De Tripoli? *Ti.*

Montrez Fezzan.—Montrez Barca.

Montrez le Sahara ou Grand-Désert.

Par quelles Contrées le Sahara est-il borné à l'est? *Ee., Ne.*

Quelle est la Capitale de l'Egypte? *Ce.*

Par quelle Contrée la Nubie est-elle bornée au sud-est? *Ae.*

Quel Territoire est situé au sud de l'Abysinie? *Si.*

Montrez le Zanguébar, et nommez sa Capitale? *Zr.*

Nommez les Etats de l'Afrique Méridionale? *Zs., Tl., Oe., Nl., C.-C.*

Montrez le Mozambique.—Sofala.

Quelle est la Capitale de la Colonie du Cap? *Cp. (Cap-Town).*

Montrez la Guinée Supérieure.

Quelle est la Contrée la plus à l'ouest? *Sc.*

Iles.—Quelle grande Ile trouve-t-on au sud-est de l'Afrique? *Mr.*

Par quel Canal est-elle séparée de la terre ferme? *Me.*

Quel groupe d'Iles est situé à l'ouest de la Sénégambie? *C.-V.*

Quels groupes trouve-t-on au nord-ouest du Sahara? *Us., Me.*

Quelles sont les deux Iles situées au sud-ouest de l'Afrique? *An., S.-H.*

Montagnes et Caps.—Quels Monts se trouvent au nord-ouest de l'Afrique? *As.*

Quelle chaîne de Montagnes trouve-t-on au sud? *Ne.*—Au nord de la Guinée Supérieure? *Kg.*

Quel Cap est situé au nord de l'Afrique? *Ba.*—A l'est? *Gi.*—Au sud? *B.-E.*

Quel Cap trouve-t-on à l'ouest? *Vl.*

Mers et Golfs.—Quelle Mer sépare l'Afrique de l'Europe? *Me.*

Quelle Mer sépare l'Afrique de l'Asie? *Re.*

Quel Golfe est situé au nord de Tripoli? *Se.*

—Au sud de la Guinée Supérieure? *Ge.*

Détroits.—Quel Détroit y a-t-il entre l'Afrique et l'Europe? *Gr.*

Quel Détroit unit la mer Rouge à l'Océan Indien? *B.-M.*

Lacs.—Quel Lac se trouve au centre du Soudan? *Tl.*

Quels Lacs trouve-t-on dans le sud-est de l'Afrique? *At., Va., Na.*

Rivières.—Quel est le Fleuve qui, coulant du sud au nord, se jette dans la Méditerranée? *Nl.*

Quels sont ses deux principaux Tributaires? *N.-B. et N.-B.*

Quelle Rivière sépare le Mozambique de Sofala? *Zi.*

Quel est le Fleuve qui se jette dans le golfe de Guinée après avoir arrosé le Soudan et la Guinée? *Nr.*

Quel Fleuve traverse la Guinée Inférieure? *Co.*

Carte de l'Océanie.

62

Malaisie.—Quels sont les grandes Divisions de l'Océanie? *Mc., Pc., Ae.*
 Quelle Ile est située au sud de la presque Ile de Malacca? *Sa.*
 Quel Détroit sépare cette Ile de la terre ferme? *Ma.*
 Quelle grande Ile est située à l'est de Sumatra? *Bo.*
 Quelle Ile se trouve à l'est de Bornéo? *Cs.*
 Quel groupe d'Iles trouve-t-on à l'est de Célèbes? *Ms.*
 Quels groupes sont situés au sud de Bornéo? *Ja., Sa.*
 Quel autre groupe est situé à l'est de Sumbava? *Tr.*
 Quel groupe trouve-t-on dans le nord de la Malaisie? *Ps.*
 Quelle Ville remarquable est située dans les îles Philippines? *Mc.*

Australasie.—Montrez l'Australie.
 Dans quelle partie de l'Océanie est-elle située? *Ae.*
 Quelle grande Ile se trouve au nord de l'Australie? *Fa.*
 Par quel Détroit en est-elle séparée? *Ts.*
 Quelles sont les six principales divisions de l'Australie?
A. N., Qd., N.-G., Va., A. S., A. O.
 Quelle est la Capitale de l'Australie? *Sy.*
 Quelle en est la principale Ville? *Mc.*
 Quels sont les deux groupes d'Iles situés au nord-est de Papoua? *N. B., N. I.*—A l'est? *Sa.*
 Quels sont les deux groupes que l'on trouve à l'est de l'Australie? *N.-H., N.-C.*
 Quelle grande Ile est située au sud? *Te.*
 Par quel Détroit est-elle séparée de l'Australie? *Bs.*
 Quelles Iles trouve-t-on au sud-est de l'Australie? *N.-Z.*

Quel Golfe est situé au nord de l'Australie? *Ce.*

—Au sud? *Sr*

Quelle Rivière trouve-t-on dans le sud de l'Australie? *My.*
 Quel Lac se trouve dans la même région? *Ts.*

Quelles sont les deux Villes que l'on trouve au sud-ouest?

Ph., Ay.

Montrez l'île de Norfolk.

Polynésie.—Montrez la Polynésie.

Quel Archipel trouve-t-on dans le nord-ouest? *Ms.*

Quel autre Archipel est situé à l'est de Magelhaens? *An.*

Quel autre groupe trouve-t-on au nord du 30^{es} degré de latitude nord? *Sh.*

Quels sont les deux groupes que l'on trouve à l'ouest, entre l'équateur et le 10^{es} degré de lat. nord? *Ms., Cs.*

Quels sont les deux groupes situés à l'est des Carolines?

M., Gl.

Quelles sont les Iles situées au S. des Iles Sandwich? *P. C.*

Montrez les îles des Navigateurs.

Quel groupe trouve-t-on au nord-ouest des îles des Navigateurs? *Ee.*—Au sud-est? *Sé., Ti.*—Au sud? *As.*

—Au sud-ouest? *Fi.*

Montrez les îles de Cook.

Quelles Iles sont situées au S.-E. des îles de Cook? *Al., Pn.*

Montrez les îles Marquises.

Quels sont les deux groupes situés au sud des Marquises?

Tu., Pn.

Quel groupe de la Polynésie est le plus au sud? *Kc.*



1. Australie ? N.-N., A.-C.

Quelle grande Ile est située au sud ? Te.

Par quel Déroit est-elle séparée de l'Australie ? Bs.

Quelles Iles trouve-t-on au sud-est de l'Australie ? N.-Z.

Quels sont les deux groupes situés au sud des Marquises ? Tu., Pn.

Quel groupe de la Polynésie est le plus au sud ? Kc.

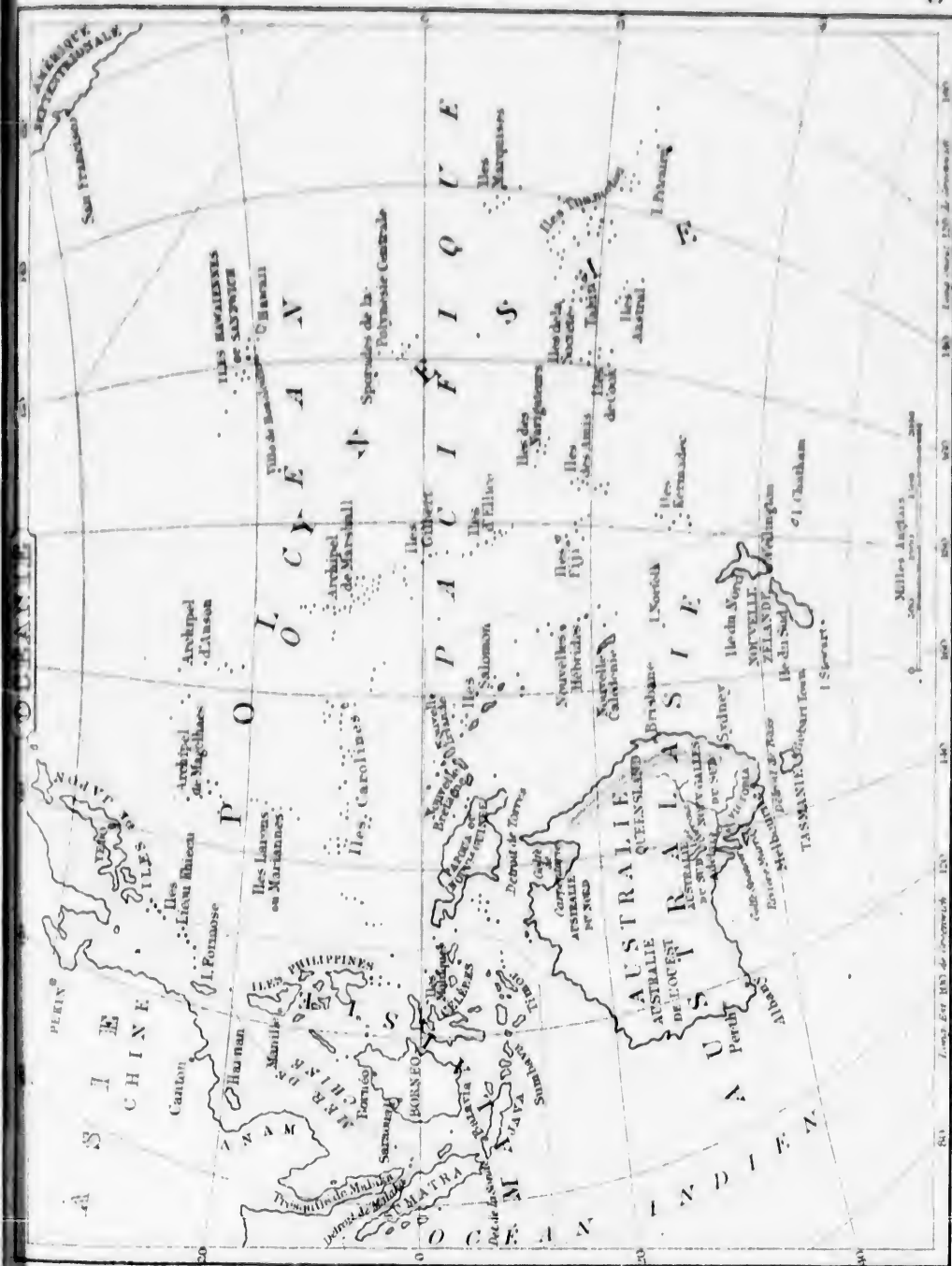


TABLE DES MATIÈRES.

Abyssinie	32	Divisions naturelles des	Nouveau-Brunswick.....	12
Afrique	30	Eaux	Nubie	32
Afrique Centrale.....	32	Divisions politiques	Océanie.....	33
Afrique Méridionale.....	32	Ecosse.....	Ontario	11
Afrique Occidentale.....	32	Egypte	Orientation	2
Afrique Orientale.....	32	Empire Germanique.....	Paraguay	21
Amérique Centrale.....	16	Espagne	Patagonie	20
Amérique Méridionale...	18	Equateur	Pérou	21
Amérique Septentrionale	9	Etats-Unis	Perse.....	28
Angleterre	23	Etats-Unis de la Colom-	Polynésie	34
Antilles	17	bie	Population des princi-	
Arabie.....	29	Europe	pales villes.....	56
Asie	27	France.....	Portugal	26
Australasie	33	Grèce.....	Prusse	25
Autriche	25	Guyanes.....	Puissance du Canada.....	10
Barbarie	31	Hindoustan	Québec	11
Belgique	24	Hollande	Races Humaines	8
Bolivie.....	21	Ile du Prince-Edouard...	Russie	24
Bésil.....	19	Iles Britanniques.....	Scandinavie	24
Canada	10	Indes	Sibérie.....	28
Chili	21	Irlande	Suède	24
Chine	28	Italie	Suisse.....	25
Colombie Anglaise.....	13	Japon	Superficie et Population.	36
Comtés du Canada.....	46	Kiwatin	Terreneuve	14
Confédération Argentine.	20	Malaisie.....	Territoire du Nord-Ouest	14
Danemark.....	24	Manitoba	Turquie d'Asie	28
Définitions	1	Mexique.....	Turquie d'Europe.....	26
Divisions naturelles des		Norwège	Uruguay	20
Terres	3	Nouvelle-Ecosse.....	Vénézuéla	19

CARTES.

Hémisphère Oriental.....	35	Province d'Ontario.....	45	Asie	55
Hémisphère Occidental..	38	Province de Québec.....	48	Europe	58
Amérique Septentrionale	40	Prov. du N.-Brunswick...	50	Afrique	60
Amérique Méridionale....	43	Etats-Unis	53	Océanie	63

swick.	12
.....	32
.....	33
.....	11
.....	2
.....	21
.....	20
.....	21
.....	28
.....	34
es princi-	
.....	56
.....	26
.....	25
Canada.....	10
.....	11
es	8
.....	24
.....	24
.....	28
.....	24
.....	25
Population.	36
.....	14
Nord-Ouest	14
e	28
rope.....	26
.....	20
.....	19

.....	55
.....	58
.....	60
.....	63

