



**IMAGE EVALUATION
TEST TARGET (MT-3)**



**Photographic
Sciences
Corporation**

23 WEST MAIN STREET
WEBSTER, N.Y. 14590
(716) 872-4503

**CIHM/ICMH
Microfiche
Series.**

**CIHM/ICMH
Collection de
microfiches.**



Canadian Institute for Historical Microreproductions / Institut canadien de microreproductions historiques

© 1984

Technical and Bibliographic Notes/Notes techniques et bibliographiques

The Institute has attempted to obtain the best original copy available for filming. Features of this copy which may be bibliographically unique, which may alter any of the images in the reproduction, or which may significantly change the usual method of filming, are checked below.

L'institut a microfilmé le meilleur exemplaire qu'il lui a été possible de se procurer. Les détails de cet exemplaire qui sont peut-être uniques du point de vue bibliographique, qui peuvent modifier une image reproduite, ou qui peuvent exiger une modification dans la méthode normale de filmage sont indiqués ci-dessous.

- Coloured covers/
Couverture de couleur
- Covers damaged/
Couverture endommagée
- Covers restored and/or laminated/
Couverture restaurée et/ou pelliculée
- Cover title missing/
La titre de couverture manque
- Coloured maps/
Cartes géographiques en couleur
- Coloured ink (i.e. other than blue or black)/
Encre de couleur (i.e. autre que bleue ou noire)
- Coloured plates and/or illustrations/
Planches et/ou illustrations en couleur
- Bound with other material/
Relié avec d'autres documents
- Tight binding may cause shadows or distortion along interior margin/
La reliure serrée peut causer de l'ombre ou de la distorsion le long de la marge intérieure
- Blank leaves added during restoration may appear within the text. Whenever possible, these have been omitted from filming/
Il se peut que certaines pages blanches ajoutées lors d'une restauration apparaissent dans le texte, mais, lorsque cela était possible, ces pages n'ont pas été filmées.
- Additional comments:/
Commentaires supplémentaires:

- Coloured pages/
Pages de couleur
- Pages damaged/
Pages endommagées
- Pages restored and/or laminated/
Pages restaurées et/ou pelliculées
- Pages discoloured, stained or foxed/
Pages décolorées, tachetées ou piquées
- Pages detached/
Pages détachées
- Showthrough/
Transparence
- Quality of print varies/
Qualité inégale de l'impression
- Includes supplementary material/
Comprend du matériel supplémentaire
- Only edition available/
Seule édition disponible
- Pages wholly or partially obscured by errata slips, tissues, etc., have been refilmed to ensure the best possible image/
Les pages totalement ou partiellement obscurcies par un feuillet d'errata, une pelure, etc., ont été filmées à nouveau de façon à obtenir la meilleure image possible.

This item is filmed at the reduction ratio checked below/
Ce document est filmé au taux de réduction indiqué ci-dessous.

| | | | | | |
|--------------------------|--------------------------|-------------------------------------|--------------------------|--------------------------|--------------------------|
| 10X | 14X | 18X | 22X | 26X | 30X |
| <input type="checkbox"/> | <input type="checkbox"/> | <input checked="" type="checkbox"/> | <input type="checkbox"/> | <input type="checkbox"/> | <input type="checkbox"/> |
| 12X | 16X | 20X | 24X | 28X | 32X |

The copy filmed here has been reproduced thanks to the generosity of:




Seminary of Quebec
Library

The images appearing here are the best quality possible considering the condition and legibility of the original copy and in keeping with the filming contract specifications.

Original copies in printed paper covers are filmed beginning with the front cover and ending on the last page with a printed or illustrated impression, or the back cover when appropriate. All other original copies are filmed beginning on the first page with a printed or illustrated impression, and ending on the last page with a printed or illustrated impression.

The last recorded frame on each microfiche shall contain the symbol \rightarrow (meaning "CONTINUED"), or the symbol ∇ (meaning "END"), whichever applies.

Maps, plates, charts, etc., may be filmed at different reduction ratios. Those too large to be entirely included in one exposure are filmed beginning in the upper left hand corner, left to right and top to bottom, as many frames as required. The following diagrams illustrate the method:



L'exemplaire filmé fut reproduit grâce à la générosité de:

Séminaire de Québec
Bibliothèque

Les images suivantes ont été reproduites avec le plus grand soin, compte tenu de la condition et de la netteté de l'exemplaire filmé, et en conformité avec les conditions du contrat de filmage.

Les exemplaires originaux dont la couverture en papier est imprimée sont filmés en commençant par le premier plat et en terminant soit par la dernière page qui comporte une empreinte d'impression ou d'illustration, soit par le second plat, selon le cas. Tous les autres exemplaires originaux sont filmés en commençant par la première page qui comporte une empreinte d'impression ou d'illustration et en terminant par la dernière page qui comporte une telle empreinte.


Un des symboles suivants apparaîtra sur la dernière image de chaque microfiche, selon le cas: le symbole \rightarrow signifie "A SUIVRE", le symbole ∇ signifie "FIN".

Les cartes, planches, tableaux, etc., peuvent être filmés à des taux de réduction différents. Lorsque le document est trop grand pour être reproduit en un seul cliché, il est filmé à partir de l'angle supérieur gauche, de gauche à droite, et de haut en bas, en prenant le nombre d'images nécessaire. Les diagrammes suivants illustrent la méthode.

errata
to

pelure,
on à





11
C

GÉOGRAPHIE

ABRÉGÉE,

POUR L'INSTRUCTION

DE LA JEUNESSE.

HUITIÈME ÉDITION.

THE COLLEGE OF

WYLLIE

WYLLIE

WYLLIE

P
G
P
lett

cl

215

GÉOGRAPHIE

ABRÉGÉE.

PAR DEMANDES ET RÉPONSES ;

DIVISÉE PAR S. M. E. C. O. N. S.

Pour l'Instruction de la Jeunesse

*Avec un Précis de l'antiquité Géographique,
& des Systèmes du Monde.*

Par M. l'Abbé LENGLET DU FRESNOY.

HUITIÈME ÉDITION,

*Revue, corrigée & augmentée d'un Abrégé
de la Sphere & du Globe ;*

Par M. DROUET, Bibliothécaire de MM.
les Avocats.

*Gravé par
1778.
l'imprimerie de M. P. Chan. Québec*

A PARIS,

Chez la Veuve TILLIARD, Libraire ; Quai des
Augustins, à Saint Benoît.

M. DCC. LXXIV.

Avec Approbation, & Privilège du Roi.

1118
P. 1118

n
g
p
l
A
le
éd
ju
C



P R É F A C E.

LORSQU'IL s'agit de donner aux jeunes gens les premiers élémens de la Géographie, on est presque toujours embarrassé sur le choix d'un ouvrage proportionné à leur intelligence; c'est-à-dire, d'un Abrégé de Géographie, qui, dégagé des détails inutiles pour une première instruction, leur présente, sans trop de sécheresse, les principales divisions qu'il faut absolument retenir, parce qu'elles sont comme les principes de cette science, & les seuls qui puissent conduire à une connoissance plus étendue.

On remarque que d'ordinaire les jeunes gens ont plus de mémoire que de jugement: il faut donc se servir de l'une pour former l'autre. C'est sur ce plan que l'Abbé LENGLET DU FRESNOY dressa son Abrégé de Géographie, auquel il donna le titre de *Géographie des Enfans*. Cinq éditions qu'il en publia de son vivant, justifient assez la justesse de ses vues. C'est effectivement l'ouvrage qui com-

vj *P R É F A C E.*

prend avec le plus d'étendue, ce qu'il ne faut point ignorer de la Géographie.

M. BARBEAU DE LA BRUYERE, qui revit la précédente édition, imprimée en 1756, y fit beaucoup de corrections, principalement dans la description de la France. L'Abbé Lenglet avoit adopté pour le détail de ses leçons sur ce royaume, le division par Généralités. Mais il n'est point de division moins géographique que celle-là. Indépendamment de ce qu'elle peut varier, suivant les circonstances, elle ne présente point le détail des provinces & des villes qu'elles renferment. Il a donc fallu revenir à l'usage ordinaire, & fondé dans la nature des choses, qui partage la France en provinces ou gouvernemens militaires. On n'a cependant pas négligé la division par généralités : elle est d'un grand usage dans la forme actuelle de notre gouvernement. Indépendamment du tableau général qu'on en a donné, on s'est appliqué, en décrivant chaque gouvernement, à indiquer de la manière la plus précise, le rapport des généralités avec les provinces ; c'est-à-dire, à désigner les parties des provinces qui dépendent

P R É F A C E. vij

de telle ou telle généralité, & les villes qui lui appartiennent.

En disposant cette nouvelle édition, qui est la huitième, on s'est proposé de donner à ce petit ouvrage, un plus grand degré de perfection, en rapprochant davantage du système actuel des affaires de l'Europe, les divisions des pays, relativement aux changemens que divers événemens y ont apportés. On l'a de plus augmenté d'un petit *Abrégé de la Sphere & du Globe*. Différentes personnes chargées d'éducation, l'ont demandé avec instance; & l'on s'est empressé de répondre à leurs desirs. Ce traité est fort court, parce qu'il est destiné pour de jeunes gens, à qui il ne faut présenter que des objets aisés à saisir. Mais, en se proportionnant à leur intelligence, on n'a rien omis de ce qu'il faut savoir, pour se former une idée précise de la Sphere, de ses principaux usages, & de l'application qu'on en fait au Globe terrestre.

On a placé de suite l'Abrégé des Systèmes que les Philosophes ont proposés sur la construction de l'Univers, pour expliquer le cours des Astres & les phénomènes de la nature. Il est

viii P R É F A C E.

bon que les jeunes gens en sachent quelque chose. Cette connoissance est une introduction à des études plus aprofondies. On expose ces systêmes de la maniere la plus simple, en écartant toute discussion; & pour les rendre plus sensibles, on en a fait graver le plan sur une même feuille, afin de pouvoir les comparer ensemble.

Quoique quelques personnes soient prévenues contre la méthode des *demandes* & des *réponses*, nous l'avons cependant adoptée, parce que l'expérience prouve que c'est celle qui est le plus à la portée des jeunes gens. Qu'on questione ceux qui ont déjà quelques notions de la Géographie & de l'Histoire; on se convaincra que leur mémoire est déterminée par une *demande* claire & succinte, qui, bien énoncée, leur fait souvent entrevoir la *réponse*. On a tâché d'atteindre cette précision. Les *demandes* sont courtes, & faciles à saisir. Trop de longueur auroit fait perdre de vue le point essentiel de la question. La *réponse* est énoncée avec simplicité, de maniere qu'elle est proportionnée à la mémoire la plus ingrate. Il a fallu tenir un milieu entre

P R É F A C E. ix

une sécheresse rebutante, & une abondance superflue.

Quoique destiné à la première instruction, & par conséquent resserré dans des bornes assez étroites, cet Abrégé de Géographie renferme tout ce qui est nécessaire; ce qu'il faut absolument retenir, pour avoir des notions suffisantes d'une science qu'il est toujours honteux d'ignorer, parce qu'elle est d'un grand usage dans le commerce de la vie, & qu'elle n'exige qu'une assez légère attention, aidée des yeux & de la mémoire.

Nous l'avons partagé en Leçons, disposées de manière, que la mémoire la moins heureuse, aidée de l'inspection des Cartes, peut les apprendre en assez peu de tems. Les différens objets de la Géographie y sont présentés dans l'ordre le plus méthodique. On ne doit passer à une nouvelle Leçon, que lorsqu'on aura bien compris ce qui est expliqué dans la précédente. Ce seroit même une fort bonne pratique à suivre, de faire répéter aux jeunes gens, par intervalles, ce qu'ils auront appris depuis quelque tems. Au moyen de cela, ils pourront, en moins d'une année, ap-

x P R É F A C E.

prendre ce qui est contenu dans l'ouvrage ; & se procurer ainsi une abondante provision de connoissances, qui leur seront très-utiles dans le cours de leurs études.

Quel qu'attention qu'on y ait apportée, il n'a pas été possible de faire les Leçons d'une égale étendue. La nécessité de terminer une description commencée, en a allongé quelques-unes : d'autres se trouvent plus courtes, parce qu'on a voulu éviter d'enjamber d'un pays à un autre dans la même Leçon. C'est aux maîtres à pourvoir à ce petit inconvénient, & à partager, suivant la capacité de leurs élèves, les leçons qui leur paroîtront trop longues.

Cet Abrégé n'est qu'un extrait de la *Méthode pour étudier la Géographie*, dont l'Abbé Lenglet donna la première édition en 1716, & qui a été réimprimée plusieurs fois depuis, avec des augmentations & des corrections. La dernière édition, donnée en 1767, en neuf volumes in-12, a été revue avec le plus grand soin, & contient des détails qui ne se trouvent point ailleurs. Elle se vend chez le même Libraire. C'est le commentaire de l'*Abrégé*. Les maîtres y

P R É F A C E. x)

trouveront de grands détails sur toutes les parties de la Géographie. Ils pourront même la mettre entre les mains de leurs élèves, lorsqu'ils auront bien compris l'*Abrégé*, & qu'ils auront acquis plus de goût & de disposition pour l'étude.

Nous donons ici deux Cartes; l'une est le Monde en deux Hémispheres; l'autre est une Carte de la France, prise sur celle que M. Delisle a dressée pour le livre intitulé : *la Connoissance des Temps*, publié par l'Académie royale des Sciences. Cette dernière est divisée par provinces; & pour l'accommoder à la division par généralités, on a marqué d'un astérisque, les villes où résident les Intendants, & qu'on peut regarder comme les capitales de chaque généralité.

Mais ces cartes ne peuvent donner que des idées très-générales. On ne peut apprendre la Géographie, sans en consulter de plus détaillées. Ainsi il faut donner aux jeunes gens qui étudieront notre *Abrégé de Géographie*, une *Mappe-monde*, l'*Europe*, l'*Asie*, l'*Afrique*, l'*Amérique*, la *France*, l'*Allemagne* & l'*Italie*, chacune en une feuille. Ces Cartes leur suffiront : mais ils doivent les

avoir sous les yeux, en étudiant & en rendant compte de chaque Leçon, afin de se fixer dans la mémoire la position précise des villes, leur situation réciproque, & les bornes des pays. Lorsqu'ils seront plus avancés, ils pourront consulter d'autres Cartes plus détaillées. Nous en avons donné un Catalogue très-ample, dans le premier volume de notre *Méthode pour étudier la Géographie*. Mais ils pourroient alors s'en tenir à l'*Atlas* publié par le sieur Lattré, Graveur de Monseigneur le Dauphin. C'est une collection de Cartes de choix, qui peut suffire, & dont le format est extrêmement commode pour l'étude.

Nous terminons notre ouvrage par un *Précis de la Géographie ancienne*, nécessaire aux jeunes gens qui commencent à étudier les Auteurs Grecs & Latins. Ce ne sont plus les mêmes divisions : c'est une Géographie toute différente, & qui a plus de difficultés. Aussi l'avons-nous traitée différemment, en ne présentant que les divisions les plus générales; celles principalement qui ont un rapport plus direct avec l'Histoire ancienne, & qui peuvent faciliter l'intelligence des Auteurs.

P R É F A C E. xiiij

La Carte qui l'accompagne n'est qu'un plan général du Monde connu des Anciens, trop resserré pour contenir tout ce que nous remarquons dans le discours. Ainsi elle ne peut dispenser de recourir à quelque Carte d'un plus grand volume, & qui contienne plus de développemens. On peut s'en tenir à l'*Imperium Romanum* de M. Delisle, ou à l'*Orbis Romanus* de M. Danville : à moins qu'on ne préférât la Carte que M. Robert a donnée en deux feuilles sous ce titre : *Anciennes Monarchies orientales & occidentales, pour servir à la lecture de l'Histoire ancienne de M. Rollin*. Cette Carte présente le nom françois joint au nom latin, & c'est une facilité, qui n'est point à négliger.

Lorsque les jeunes gens seront plus avancés dans leurs études, on pourra leur mettre entre les mains les deux derniers volumes de notre *Méthode pour étudier la Géographie*, qui regardent la Géographie ancienne. On les accompagnera des savantes Cartes que M. Delisle & M. Danville ont composées, & dont on trouvera la Notice dans le *Catologue* qui est joint à la *Mé-*

xiv **P R É F A C E.**

thode pour étudier la Géographie, comme dans celui qui accompagne la Méthode pour étudier l'Histoire, dont nous avons donné depuis peu une édition fort augmentée.





T A B L E

D E S L E Ç O N S .

P R E M I E R E P A R T I E .

A B R É G É D ' A S T R O N O M I E .

| | | |
|-----------------------------|---|---------|
| P R E M I E R E L E Ç O N . | <i>Description de la Sphere ,</i> | page 1. |
| II. L E Ç O N . | <i>De l'Equateur & de l'Ecliptique ,</i> | 4. |
| III. L E Ç O N . | <i>De l'Horison , du Méridien & des Colures ,</i> | 8 |
| IV. L E Ç O N . | <i>Des Tropiques & des Cercles Polaires ,</i> | 10. |
| V. L E Ç O N . | <i>Application des Cercles de la Sphere au Globe Terrestre ,</i> | 12. |
| VI. L E Ç O N . | <i>Division de la Terre par les Zones & par les Climats ,</i> | 15. |
| VII. L E Ç O N . | <i>Des Latitudes & des Longitudes ,</i> | 19. |
| | <i>Exposition des principaux Systèmes du Monde ,</i> | 22. |
| | <i>Système de Ptolémée ,</i> | 24. |
| | <i>Système de Copernic ,</i> | 26. |
| | <i>Système de Tycho-Brahé ,</i> | 30. |
| | <i>Système commun composé ,</i> | 31. |
| | <i>Système de Descartes ,</i> | ibid. |

SECONDE PARTIE.

ABRÉGÉ DE LA GÉOGRAPHIE MODERNE.

| | |
|--|-----|
| PREMIÈRE LEÇON. <i>Notions préliminaires,</i> | 36. |
| II. LEÇON. <i>Division générale du Globe terrestre,</i> | 39. |
| III. LEÇON. L'EUROPE, | 41. |
| IV. LEÇON. <i>Villes capitales des Etats de l'Europe,</i> | 43. |
| V. LEÇON. <i>Iles, Rivieres, Montagnes, &c. de l'Europe,</i> | 45. |
| VI. LEÇON. <i>Les Iles Britanniques, ou le Royaume de la Grande Bretagne,</i> | 48. |
| VII. LEÇON. <i>L'Ecosse & l'Irlande.</i> | 52. |
| VIII. LEÇON. <i>Les Etats du Roi de Danemarck,</i> | 55. |
| IX. LEÇON. <i>La Suède & la Laponie,</i> | 59. |
| X. LEÇON. <i>La Russie d'Europe,</i> | 61. |
| XI. LEÇON. <i>La France,</i> | 64. |
| XII. LEÇON. <i>La France divisée par Généralités, Provinces ecclésiastiques & Parlemens,</i> | 68. |
| XIII. LEÇON. <i>Rivieres & Montagnes de France,</i> | 72. |
| XIV. LEÇON. <i>Gouvernemens de Paris, de l'Île de France, de Normandie & du Havre,</i> | 75. |
| XV. LEÇON. <i>Gouvernemens de Picardie, de Boulonois, d'Artois & de Flandre,</i> | 78. |
| XVI. LEÇON. <i>Gouvernemens de Champagne, de Lorraine & d'Alsace,</i> | 81. |
| XVII. | |

DES LEÇONS. xvij

- XVII. LEÇON. *Gouvernemens de Bretagne, d'Anjou, de Saumur, du Maine, de Poitou & de Berri,* 84.
- XVIII. LEÇON. *Gouvernemens d'Orléanois, de Nivernois, de Bourbonnois, de Bourgogne & de Franche-Comté,* 88.
- XIX. LEÇON. *Gouvernemens d'Aunis, de Saintonge & Angoumois, de la Marche, de Limosin, d'Auvergne & de Lyonois,* 92.
- XX. LEÇON. *Gouvernemens de Guyenne & Gascogne, & de Navarre & Béarn,* 95.
- XXI. LEÇON. *Gouvernemens de Foix & Donezan, de Roussillon & de Languedoc,* 99.
- XXII. LEÇON. *Gouvernemens de Dauphiné & de Provence, le Comtat, &c.* 103.
- XXIII. LEÇON. *Les Pays-Bas,* 106.
- XXIV. LEÇON. *Les Provinces-Unies, ou la République de Hollande,* 108.
- XXV. LEÇON. *La Suisse,* 111.
- XXVI. LEÇON. *L'Allemagne,* 115.
- XXVII. LEÇON. *Suite de l'Allemagne.* 118.
- XXVIII. LEÇON. *Suite de l'Allemagne,* 120.
- XXIX. LEÇON. *Les Etats de la Maison d'Autriche, & en particulier, la Bohême & la Hongrie,* 124.
- XXX. LEÇON. *La Pologne,* 126.
- XXXI. LEÇON. *Les états du roi de Prusse,* 130.
- XXXII. LEÇON. *L'Espagne,* 132.
- XXXIII. LEÇON. *Suite de l'Espagne.* 134.
- XXXIV. LEÇON. *Le Portugal,* 137.

| | |
|--|------|
| XXXV. LEÇON. <i>L'Italie,</i> | 140. |
| XXXVI. LEÇON. <i>Les États du roi de Sardaigne,</i> | 143. |
| XXXVII. LEÇON. <i>Les Républiques de Gènes & de Lucques, les Duchés de Milan & de Mantoue,</i> | 146. |
| XXXVIII. LEÇON. <i>Etats de Parme & Plaisance, Duché de Modène, Etats de Venise,</i> | 148. |
| XXXIX. LEÇON. <i>Le Grand Duché de Toscane, & l'Etat Ecclésiastique,</i> | 151. |
| XL. LEÇON. <i>Le Royaume des Deux Siciles,</i> | 154. |
| XLI. LEÇON. <i>Les Iles de l'Italie,</i> | 157. |
| XLII. LEÇON. <i>La Turquie d'Europe.</i> | 158. |
| XLIII. LEÇON. <i>L'ASIE,</i> | 161. |
| XLIV. LEÇON. <i>La Turquie d'Asie, & la Georgie,</i> | 164. |
| XLV. LEÇON. <i>La Russie d'Asie,</i> | 168. |
| XLVI. LEÇON. <i>La Grande Tartarie,</i> | 170. |
| XLVII. LEÇON. <i>L'Arabie & la Perse,</i> | 173. |
| XLVIII. LEÇON. <i>Le Mogol ou l'Indostan, & les deux presqu'îles de l'Inde,</i> | 175. |
| XLIX. LEÇON. <i>La Chine,</i> | 178. |
| L. LEÇON. <i>Les Iles appartenantes à l'Asie,</i> | 180. |
| LI. LEÇON. <i>L'AFRIQUE,</i> | 183. |
| LII. LEÇON. <i>Suite de l'Afrique,</i> | 187. |
| LIII. LEÇON. <i>L'AMÉRIQUE,</i> | 190. |
| LIV. LEÇON. <i>Suite de l'Amérique,</i> | 193. |
| LV. LEÇON. <i>Les Iles de l'Amérique,</i> | 196. |
| LVI. LEÇON. <i>Les Terres Arctiques, Australes & Antarctiques,</i> | 199. |

TROISIEME PARTIE.


| | |
|--|-------|
| <i>PRINCIPES généraux de la Géographie ancienne,</i> | 202. |
| <i>ARTICLE I. Division générale de l'ancien Monde,</i> | 204. |
| <i>ART. II. Géographie du premier & du second âge,</i> | 206. |
| <i>ART. III. Géographie de la Terre-Sainte ou Palestine,</i> | 208. |
| <i>ART. IV. L'Ancienne Asie,</i> | 211. |
| <i>L'ASIE OCCIDENTALE,</i> | ibid. |
| <i>I. L'Assyrie,</i> | ibid. |
| <i>II. La Médie,</i> | 213. |
| <i>III. La Perse,</i> | ibid. |
| <i>IV. L'Arménie,</i> | 215. |
| <i>V. L'Asie Mineure,</i> | ibid. |
| <i>VI. La Syrie,</i> | 216. |
| <i>VII. L'Arabie,</i> | 217. |
| <i>L'ASIE SEPTENTRIONALE,</i> | 218. |
| <i>L'ASIE MÉRIDIONALE,</i> | 219. |
| <i>ART. V. L'AFRIQUE,</i> | 220. |
| <i>I. L'Égypte,</i> | 221. |
| <i>II. La Libye,</i> | 223. |
| <i>III. L'Afrique propre,</i> | 224. |
| <i>IV. La Mauritanie,</i> | ibid. |
| <i>V. L'Afrique intérieure,</i> | ibid. |
| <i>VI. L'Éthiopie,</i> | 225. |
| <i>VII. Les Iles de l'Afrique,</i> | ibid. |
| <i>ART. VI. L'EUROPE,</i> | 226. |
| <i>I. LA GRECE,</i> | ibid. |
| <i>La Macédoine,</i> | ibid. |

XX TABLE DES LEÇONS.

| | |
|--|-------|
| <i>La Grèce propre ,</i> | 228. |
| II. L'ITALIE , | 232. |
| <i>Partie septentrionale de l'Italie ,</i> | ibid. |
| <i>Partie méridionale de l'Italie ,</i> | 234. |
| <i>Iles d'Italie ,</i> | 236. |
| <i>Observations sur l'Empire Romain ,</i> | 237. |
| III. L'ILLYRIE , | 239. |
| IV. LA DACE , | 241. |
| V. L'ESPAGNE , | 242. |
| VI. LA GAULE , | 244. |
| VII. LES ILES BRITANNIQUES , | 247. |
| VIII. LA GERMANIE , | 249. |
| IX. LA SARMATIE. | 251. |

Fin de la Table.

228.
232.
ibid.
234.
236.
237.
239.
241.
242.
244.
247.
249.
251.



GÉOGRAPHIE

ABRÉGÉE,

POUR L'INSTRUCTION

DE LA JEUNESSE.

PREMIERE PARTIE.

ABRÉGÉ D'ASTRONOMIE.

PREMIERE LEÇON.

Description de la Sphere.

D. **Q**U'EST-CE que la Sphere armillaire?

R. On nomme Sphere armillaire, une machine composée de plusieurs cercles, disposés d'une manière propre à représenter la trace ou le passage des astres qui roulent dans le ciel, & les bornes précises qui terminent leur cours.

A

D. Pourquoi la sphere est-elle ronde ?

R. Parce qu'elle représente la figure de l'Univers, que nous supposons d'une figure ronde.

D. De combien de cercles la sphere est-elle composée ?

R. Elle est composée de dix cercles, qui se croisent en différens sens. De ces dix cercles, il y en a six que l'on appelle *grands cercles*, & quatre, que l'on nomme *petits cercles*,

D. Quels sont les grands cercles ?

R. Les grands cercles de la sphere, sont, l'Equateur, l'Ecliptique, l'Horison, le Méridien, & les deux Colures,

D. Quels sont les petits cercles ?

R. Les petits cercles de la sphere, sont, le Tropicque du Cancer, le cercle Polaire Arctique ou Septentrional, le Tropicque du Capricorne, & le cercle Polaire Antarctique ou Méridional,

D. Quelle différence mettez-vous entre les grands & les petits cercles de la sphere ?

R. Les *grands cercles* ont le même centre que la sphere, & la partagent en deux parties égales, Les *petits cercles* ont leur centre particulier, & partagent la sphere en deux portions inégales, l'une beaucoup plus grande que l'autre,

D. En combien de parties se divise un cercle ?

R. Chaque cercle, soit grand, soit petit, se divise en 360 parties, qu'on nomme

degrés. Chaque degré se partage en 60 minutes; chaque minute en 60 secondes. On continue ainsi la soudiviſion, autant qu'on le juge néceſſaire ou poſſible.

D. Pourquoi a-t-on diviſé le cercle en 360 parties, plutôt qu'en tout autre nombre?

R. La diviſion du cercle en 360 degrés a été choiſie de préférence, en conſidération de l'avantage qu'on a d'y trouver beaucoup de ſous-diviſions exprimées par des nombres ronds, qu'il eſt facile de déſunir & de rasſembler. Le nombre 360 ſe partage en deux moitiés, de 180 chacune; ou en quatre quarts, chacun de 90. Le quart ſe peut diviſer, ſelon le beſoin, ou en trois fois 30, ou en neuf fois 10, ou en ſix fois 15, ou en dix-huit fois 5.

D. Tous les cercles ont leur axe & leurs poles. Dites-moi ce que c'eſt?

R. L'axe d'un cercle eſt la ligne qu'on conçoit paſſer par le centre de ce cercle, & dont les deux bouts, qu'on appelle *poles*, ſont également diſtans de tous les points qui terminent le cercle.

D. Montrez-moi dans la ſphere, l'axe & les poles du monde.

R. L'axe du monde eſt ce fil de fer qui traverse le petit globe terreſtre placé au milieu de la ſphere. Le bout ſupérieur de cet axe représente le *pole arctique* ou *ſeptentrional*. Le bout inférieur représente le *pole antarctique* ou *méridional*.

II. L E Ç O N.

De l'Equateur & de l'Ecliptique.

D. QU'EST-CE que l'Equateur ?

R. L'Equateur est un grand cercle, également éloigné des deux poles du monde, & qui par sa situation fixe & invariable, partage le monde en deux parties égales. L'une se nomme *Hémisphere septentrional*, & l'autre, *Hémisphere méridional*.

D. Ne donne-t-on pas un autre nom à ce cercle ?

R. On le nomme encore *Ligne équinoxiale*, parce que les jours sont égaux aux nuits par toute la terre, lorsque le soleil le décrit : ce qui arrive le 21 de mars & le 21 de septembre.

D. Qu'est-ce que l'Ecliptique ?

R. L'Ecliptique est un cercle qui coupe obliquement l'Equateur, & qui s'en éloigne de 23 degrés & demi du côté du nord, & de 23 degrés & demi du côté du midi.

D. Quel est son usage ?

R. Il représente la course annuelle du soleil, c'est-à-dire le chemin que le soleil fait chaque année par son mouvement particulier.

D. Pourquoi le nomme-t-on *écliptique* ?

R. C'est que les éclipses se forment lorsque le soleil & la lune se rencontrent sur cette ligne.

D. Qu'est-ce qu'une Eclipsé ?

R. C'est la conjoncture où nous cessons de voir dans un astre, la lumiere que nous avons coutume d'y appercevoir.

D. Quelles sont les éclipses les plus sensibles ?

R. Ce sont celles du soleil & celles de la lune.

D. Quand arrivent les éclipses du soleil ?

R. C'est quand la lune, rencontrant le soleil au même point de l'écliptique, se trouve directement entre cet astre & la terre. Alors le corps de la lune, qui est opaque, cache la lumiere du soleil à cette partie de la terre qui se trouve vis-à-vis de la lune; comme il arrive qu'un flambeau ne nous éclaire plus, quand on en intercepte la lumiere par quelque corps opaque.

D. Comment se forment les éclipses de lune ?

R. Quand le soleil & la lune se rencontrent dans l'écliptique, à des points diamétralement opposés, de maniere que le globe de la terre se trouve entre deux. Alors la lune ne recevant plus de lumiere du soleil, elle n'en fait plus paroître.

D. La lune n'est donc point un corps lumineux ?

R. Non. C'est un corps opaque, comme la terre, qui ne donne quelque lumiere, que parce qu'il réfléchit celle qu'il reçoit du soleil.

D. Quest-ce que cette large bande, dont l'Ecliptique occupe le juste milieu ?

R. C'est le Zodiaque. Il est partagé en douze portions, dont chacune est de trente degrés, & comprend un des douze signes célestes, sous lesquels le soleil se trouve placé successivement dans le cours des douze mois de l'année.

D. Dites les noms de ces douze Signes ?

R. Il y en a six au-dessus de l'Equateur, c'est-à-dire vers le nord, & six au-dessous, c'est-à-dire vers le midi. On a renfermé leurs noms dans ces deux vers latins :

*Sunt Aries, Taurus, Gemini, Cancer, Leo, Virgo,
Libraque, Scorpius, Arcitenens, Caper, Amphora, Pisces.*

D. Dites-les en François.

*R. Belier, Taureau, Gémeaux, Écrevisse, Lion,
Vierge : voilà les six pour le Septentrion.*

Nous en comptons aussi six pour l'autre hémisphère.

Balance, Scorpion, Chasseur ou Sagittaire,

Capricorne, Verséau, Poissons.

Etant pris trois à trois, ils marquent les Saisons.

D. Pourquoi a-t-on donné au Zodiaque une largeur de seize ou dix-huit degrés ?

R. C'est pour y renfermer tout l'espace du ciel, jusqu'où la lune & les planetes s'écartent de l'écliptique. Le soleil ne quitte point l'écliptique. La lune s'en éloigne jusqu'à la distance de cinq degrés; & quelques planetes jusqu'à celle de sept ou huit.

D. Nomméz les Planetes ?

R. Elles sont au nombre de sept, dont

voici les noms dans leur éloignement de la Terre. *Saturne, Jupiter, Mars, le Soleil, Vénus, Mercure, la Lune.*

D. *Que signifie le nom de Planetes ?*

R. Il signifie *Astres errans*. On leur a donné ce nom, parce que dans leurs révolutions, elles sont tantôt plus proches & tantôt plus éloignées les unes des autres. Au contraire, les Etoiles, qui nous paroissent attachées au firmament, se nomment *Etoiles fixes*, parce qu'elles gardent toujours entr'elles la même situation.

D. *Comment se nomment les deux points où l'Ecliptique coupe l'Equateur ?*

R. On les appelle les Points des équinoxes, ou d'égalité du jour & de la nuit. Il y a deux Equinoxes. Celui du printemps, qui arrive vers le 21 de mars, lorsque le soleil est arrivé au premier degré du Belier : & l'Equinoxe d'automne, qui arrive vers le 21 de septembre, lorsque le soleil est descendu au premier degré de la Balance.

D. *Les deux points où l'Ecliptique s'éloigne le plus de l'Equateur, comment se nomment-ils ?*

R. Ce sont les *Solstices*, ou les bornes de la course du soleil. Il y a le solstice d'été, & le solstice d'hiver. Le premier arrive vers le 21 de juin, lorsque le soleil est parvenu au premier degré de l'écrevisse. Le solstice d'hiver arrive vers le 21 de décembre, lorsque le soleil est descendu au premier degré du Capricorne.

III. L E Ç O N.

De l'Horifon, du Méridien, & des Colures.

D. QU'EST-CE que l'Horifon?

R. C'est un grand cercle qui a le même centre que la terre, & dont les deux poles répondent au *Zénith* & au *Nadir* du lieu dont il est l'Horifon.

D. Quels sont ses usages ?

R. 1. Il fépare la partie du ciel que nous voyons, de celle que nous ne voyons pas. La premiere se nomme *Hémisphere supérieur* : la seconde, *Hémisphere inférieur*.

2. Il détermine le lever & le coucher des astres ; c'est-à-dire le commencement du jour & de la nuit. On dit que les astres se lèvent, quand ils paroissent au-dessus de l'horifon ; & l'on dit qu'ils se couchent, quand ils s'abaissent sous l'horifon.

3. Il donne la longueur du jour & celle de la nuit. Le jour dure autant de tems que le soleil est au-dessus de l'horifon ; & la nuit autant de tems qu'il est au-dessous.

4. Il détermine le commencement & la fin du crépuscule & de l'aurore. Le soleil continue à donner sa lumiere, lorsqu'il baisse sous l'horifon, jusqu'à ce qu'il soit descendu jusqu'à 18 degrés. C'est ce qu'on appelle le *Crépuscule*. Le soleil commence à éclairer la terre, lorsqu'il est arrivé à 18 degrés de l'horifon en remontant. C'est ce

qu'on appelle l'*Aurore* : elle ne finit que lorsque le soleil est arrivé à l'horifon ; alors le jour commence.

D. *Qu'est-ce que le Méridien ?*

R. C'est un grand cercle , qui passe par les poles du monde , lequel il partage en deux hémispheres, l'un appellé *Hémisphere oriental* ; l'autre , *Hémisphere occidental*.

D. *Quel est son principal usage ?*

R. Il sert à marquer le milieu de la course des astres au-dessus de l'horifon ; c'est-à-dire la moitié de l'espace que les astres parcourent depuis leur lever , jusqu'à leur coucher : Il détermine par-là le milieu du jour , ou le midi , pour tous les peuples de la terre.

D. *L' Axe du méridien est-il le même que l' Axe du monde ?*

R. Il est fort différent. L' Axe du monde va d'un bord du méridien à l'autre , & se termine aux poles. Mais l' Axe qu'on donneroit au méridien , se termineroit dans l'Horifon : & cette ligne , conjointement avec le Méridien , couperoit l'Horifon en quatre quartiers.

D. *Que marquent ces différens points où l' Horifon se trouve coupé ?*

R. Les deux points où le méridien coupe l'Horifon , se nomment *Nord* & *Sud* : *Nord* du coté vers lequel incline le pole arctique ; *Sud* ou *Midi*, du côté sous lequel est abaissé le pole antarctique ou austral. Les deux autres points , dans lesquels l'axe qu'on sup-

pose au méridien iroit trancher l'horison; marquent l'*Orient* & l'*Occident*. L'*Est* ou *Orient*, est le côté où les astres se lèvent; l'*Ouest* ou *Occident*, est celui où ils se couchent.

D. *Qu'est-ce que les colures?*

R. Ce sont deux cercles posés dans le même sens que le Méridien, qu'on fait croiser & rouler sur l'axe du monde.

D. *Que signifie le nom de colure, & quel est l'usage de ces cercles?*

R. Le nom de *Colure* signifie *taillé, mutilé*. On les a appellés ainsi à cause des entailles qu'on a faites à ces deux cercles, pour soutenir tous les autres, qui y sont attachés transversalement; & ils n'ont point d'autre usage.

D. *Ne leur a-t-on pas donné des noms pour les distinguer?*

R. Celui qui coupe l'écliptique à ses deux points les plus éloignés de l'équateur, s'appelle, *Colure des Solstices*. Celui qui coupe l'écliptique aux points qui répondent à l'équateur, se nomme *Colure des Equinoxes*.

I V. L E Ç O N.

Des Tropiques & des Cercles Polaires.

D. *QU'EST-CE que les Tropiques?*

R. Ce sont deux cercles parallèles à l'équateur, dont ils sont éloignés de 23 degrés 29 minutes.



D. Expliquez ce nom *Paralleles*.

R. On dit que des lignes sont *paralleles*, lorsqu'elles sont également distantes l'une de l'autre dans tous leurs points. Deux rangées d'arbres, plantés sur deux lignes droites, sont *paralleles*. Les *Tropiques* sont *paralleles* à l'Equateur, parce qu'ils en sont également éloignés dans tous leurs points.

D. Dans quelle position sont-ils sur la *Sphere* ?

R. Ils touchent l'Ecliptique aux points des Solstices. L'un s'appelle *Tropique du Cancer* : c'est celui de la partie septentrionale ; l'autre s'appelle *Tropique du Capricorne* ; c'est celui de la partie méridionale.

D. Quel est l'usage de ces cercles ?

R. Ils renferment entr'eux l'Ecliptique, c'est-à-dire l'espace que le soleil parcourt pendant l'année. Ce sont comme deux barrières, au-delà desquelles cet astre ne passe jamais. Lorsqu'il est parvenu à l'un des deux, il retourne vers l'autre, & ainsi d'année en année. C'est ce qu'exprime le nom de *Tropique*, tiré du mot grec *tropè*, qui signifie *conversion* ou *retour*.

D. Qu'appellez-vous *Cercles Polaires* ?

R. Ce sont deux *Cercles* décrits par les Poles de l'Ecliptique. Celui qui est dans la partie septentrionale de la *Sphere*, s'appelle, *Cercle Polaire arctique* ; & celui qui est dans la partie méridionale, se nomme *Cercle Polaire antarctique*.

D. A quelle distance des Poles du Monde sont-ils situés ?

R. L'Ecliptique s'éloignant de l'Equateur de 23 degrés & demi, du côté du nord, & d'autant de degrés, du côté du midi, ses Poles s'éloignent d'autant des Poles du Monde, qui sont les mêmes que ceux de l'Equateur. Ainsi les Cercles Polaires sont distans de ceux du Monde, de 23 degrés & demi.

V. L E Ç O N.

Application des Cercles de la Sphere au Globe Terrestre.

D. QUE sont ces Cercles tracés sur le Globe qui représente la Terre ?

R. Ce sont plusieurs des Cercles de la Sphere, que les Géographes ont appliqués au Globe Terrestre, pour rendre raison de la variété des saisons, de la différence dans la longueur des jours, & de plusieurs autres phénomènes.

D. Quels sont ces Cercles ?

R. Ce sont, l'Equateur, l'Horison, le Méridien, les deux Tropiques & les Cercles Polaires.

D. Le Globe terrestre n'a-t-il pas aussi son Axe & ses Poles ?

R. Oui. L'Axe du Globe terrestre est cette ligne qu'on suppose en traverser le centre du nord au midi, & dont les ex-

trémities sont les *Poles*, qui répondent à ceux de la Sphere. Le supérieur se nomme *Pole Arctique* ou *Septentrional*, & l'inférieur se nomme *Pole Antarctique* ou *Méridional*.

D. *Qu'est-ce que l'Equateur ?*

R. C'est un grand Cercle, qui coupe le Globe terrestre en deux parties égales, l'une septentrionale & l'autre méridionale. Les gens de mer le nomment simplement *la Ligne*.

D. *Qu'est-ce que l'Horison ?*

R. C'est un grand Cercle, dont la circonférence est également éloignée, en toutes ses parties, du lieu dont ce cercle est l'Horison, & qui a pour Poles le *Zénith* & le *Nadir* de ce lieu. C'est ce qu'on appelle l'*Horison rationel*, qui partage le Globe en deux parties égales, l'une *supérieure* & l'autre *inférieure*.

D. *Qu'est-ce que le Zénith & le Nadir d'un lieu ?*

R. Le *Zénith* est le point du ciel qu'on suppose répondre au-dessus d'un lieu ; le *Nadir* est le point diamétralement opposé.

D. *Y a-t-il un Horison différent de celui dont vous venez de parler ?*

R. Il y en a un autre, qu'on appelle *Horison sensible*. C'est l'étendue du ciel & de la terre, qu'on peut appercevoir à la simple vue ; lorsqu'on est placé sur une hauteur, ou dans une plaine qui n'est point bornée.

D. *Qu'est-ce que le Méridien ?*

R. C'est un grand Cercle qui passe par les Poles du Globe terrestre, & qui coupe l'Horison au nord & au sud. Il divise le Globe en deux parties, l'une *Orientale*, & l'autre *Occidentale*.

D. *L'Horison & le Méridien partagent-ils le Globe d'une maniere fixe comme l'Equateur ?*

R. L'Horison & le Méridien ne partagent le ciel & la terre que d'une maniere relative : en sorte qu'il y a autant d'Horisons & de Méridiens, que de points différens qu'on peut supposer dans l'un & dans l'autre. Au lieu que l'Equateur divise le ciel & la terre d'une maniere invariable, relativement aux Poles du monde.

D. *L'Horison & le Méridien du Globe peuvent donc devenir l'Horison & le Méridien de chaque Peuple ?*

R. Oui : & c'est pour cela que ces deux Cercles ne sont ni attachés sur la Sphere, ni tracés sur le Globe. On les a placés en-dehors, afin de pouvoir y amener à volonté les différens points de la Sphere & du Globe. C'est ce qu'on appelle *monter horizontalement* le Globe ou la Sphere.

D. *Comment se fait cette opération ?*

R. En mettant le lieu sous le grand Méridien, & en élevant le Pole au-dessus de l'Horison, selon la hauteur du Pole du lieu proposé.

D. *Rendez cela sensible par un exemple : montez le Globe horizontalement pour Paris,*

R. J'amène sous le grand Méridien, le point du Globe où est située la ville de Paris : & remarquant que la latitude de cette ville est 48 degrés 50 minutes, j'abaisse le méridien jusqu'au point où l'Horison le coupe à ce degré. Ainsi le Pole se trouve élevé d'autant de degrés, pour l'Horison de Paris.

V I. L E Ç O N.

Division de la Terre par les Zones & par les Climats.

D. COMMENT les Tropiques & les Cercles Polaires partagent-ils le Globe terrestre?

R. Ils le partagent en cinq Bandes circulaires, que l'on appelle *Zones*, d'un mot grec qui signifie *ceinture*. Celle du milieu, comprise entre les deux Tropiques, & divisée par l'Equateur, se nomme la *Zone torride* ou *brulée*. Celle comprise entre le Tropique du Cancer & le Cercle Polaire arctique, se nomme *Zone tempérée septentrionale*; & l'on nomme *Zone tempérée méridionale*, la Bande comprise entre le Tropique du Capricorne & le Cercle Polaire antarctique.

D. Il vous reste à parler de deux autres Bandes ou Zones. Quelles sont-elles?

R. Ce sont les deux Zones glaciales : la première commençant au Cercle Polaire arctique, & finissant au Pole arctique ou septentrional : la seconde commençant au

Cercle Polaire antarctique, & finissant au Pole antarctique ou méridional.

D. *Que remarquez-vous sur la Zone torride ou brûlée.*

R. Comme les pays qu'elle occupe se trouvent directement sous la route que le Soleil parcourt en allant d'un Tropicque à l'autre, il y fait habituellement des chaleurs considérables. Les habitans de ces contrées voient deux jours dans l'année, le Soleil directement au dessus de leur tête : & ce jour-là ils n'ont point d'ombre. Les autres jours de l'année, leur ombre est tournée tantôt vers le nord, tantôt vers le midi, selon que, par rapport à eux, le Soleil s'avance vers l'un ou l'autre Tropicque. On les appelle *Amphisciens*.

D. *Dites quelque chose des Zones tempérées.*

R. Elles sont ainsi nommées, parce qu'on n'y ressent ni les chaleurs excessives de la Zone torride, ni les froids violens des Zones glaciales, sur-tout dans le milieu, comme en France. Les peuples qui habitent sous ces Zones, ont les quatre saisons, à-peu-près comme nous les éprouvons à Paris. Ceux qui sont sous la Zone *tempérée septentrionale*, ont à midi leur ombre tournée vers le nord, & ceux de la Zone méridionale, l'ont tournée vers le midi. On les appelle, à cause de cela, *Hétéroskiens*.

D. *Il vous reste à parler des Zones glaciales.*

R. On y éprouve habituellement un froid très-violent. La terre y est toujours couverte de neige & de glaces. Les habitans ne jouissent que pendant trois mois des douceurs d'un air tempéré. Ceux qui peuvent se trouver sous les Poles, voient leur ombre tourner autour d'eux pendant six mois. On les appelle, à cause de cela, *Périsciens*. Les autres ne sont *Périsciens* que quelques jours ou quelques mois, selon qu'ils sont plus éloignés ou plus voisins du Pole.

D. *Pourquoi divise-t-on le Globe en Climats ?*

R. On divise la surface du Globe terrestre en Climats, relativement à l'inégalité qu'on observe dans la longueur des jours, en allant de l'Equateur vers les Poles.

D. *Qu'est-ce qu'un Climat ?*

R. C'est un espace de terre compris entre deux Cercles parallèles à l'Equateur, à la fin duquel le plus grand jour de l'année est plus long d'une demi-heure, ou d'un mois, qu'au commencement.

D. *On distingue donc deux sortes de Climats ?*

R. Oui. Il y a des Climats d'heures & des Climats de mois.

D. *Combien compte-t-on de Climats d'heures ?*

R. Comme les jours augmentent de 24 demi heures, dans l'espace compris entre

l'Equateur & les Cercles Polaires ; on compte 24 Climats depuis l'Equateur jusqu'au Cercle Polaire arctique , & autant depuis l'Equateur jusqu'au Cercle Polaire antarctique. Ainsi il y a en tout 48 Climats d'heures , ou plutôt de demi-heures : 24 pour la partie septentrionale , & 24 pour la partie méridionale.

D. Combien compte-t-on de Climats de mois ?

R. Comme depuis les Cercles Polaires jusqu'aux Poles , les jours augmentent depuis un jusqu'à six mois , on compte six Climats de mois , dans l'espace qui est entre le Cercle Polaire arctique & le Pole arctique. On en compte autant entre le Cercle Polaire antarctique & le Pole antarctique. Ainsi il y a douze Climats de mois , six au nord , & six au midi.

D. Y a-t-il un moyen aisé de connaître en quel Climat est placée une ville ?

R. C'est de partager en demi-heures le nombre d'heures dont le plus long jour de l'année excède celui de douze. Le nombre de ces demi-heures indique exactement le Climat. Par exemple , le plus long jour de l'année à Paris étant de seize heures , il excède de quatre heures le jour ordinaire , qu'on suppose de douze heures. En réduisant ces quatre heures excédentes en demi-heures , il en résulte que Paris est au huitième Climat.

V I I. L E Ç O N

Des Latitudes & des Longitudes.

D. *QUEL est l'usage des Latitudes & des Longitudes ?*

R. C'est de déterminer la véritable position des villes & des pays sur la surface de la Terre.

D. *Qu'est-ce que la Latitude ?*

R. La Latitude d'un lieu est la distance de ce lieu à l'Equateur. Cette distance se compte par degrés. Ainsi une ville située au 40° degré de latitude, est distante de l'Equateur de 40 degrés.

D. *Combien compte-t-on de degrés de Latitude ?*

R. Comme ces degrés se comptent sur le Méridien, en allant de l'Equateur vers les Poles, on ne peut en avoir plus de 90, parce qu'il n'y a que ce nombre de degrés de l'Equateur aux Poles. Mais on distingue deux sortes de Latitude; l'une septentrionale, l'autre méridionale.

D. *Qu'est-ce que la Longitude ?*

R. C'est la distance où un pays se trouve du premier Méridien, en allant vers l'Orient, tout autour de la Sphere ou du Globe.

D. *Où plaçons-nous le premier Méridien ?*

R. Nous le plaçons à l'île de Fer, la plus occidentale des Canaries. D'autres Nations

le placent différemment, parce qu'il n'y a point de terme fixe qui puisse le déterminer.

D. Comment se comptent les degrés de Longitude, & combien y en a-t-il ?

R. Ils se comptent sur l'Equateur, ou sur les Cercles parallèles, depuis le premier Méridien, en avançant toujours vers l'Orient; & ils sont au nombre de 360.

D. Si les Méridiens formoient des Cercles entiers, il n'en faudroit compter que 180. Pourquoi en comptez-vous 360, qui sont le double ?

R. C'est que les Méridiens ne sont que des demi-cercles, qui se terminent aux Poles: ainsi tous les lieux qui sont sous un même Méridien ont la même Longitude.

D. Comment connoître sur le Globe, la Longitude & la Latitude d'une ville ?

R. Il faut remarquer à quel degré de l'Equateur répond le Méridien qui passe par cette ville, & à quel degré du Méridien répond le parallèle qui passe par cette même ville. Par exemple, le Méridien de Paris répond au 20° degré de l'Equateur, & son parallèle répond environ au 49° degré du Méridien. Ainsi Paris a 20 degrés de Longitude, & 48 degrés 50 minutes de Latitude.

D. Comment distingue-t-on les Habitans de la Terre, relativement à leur différence en Longitude & en Latitude ?

R. On les distingue en Péricéciens, Antécéciens & Antipodes.

D. *Qu'est-ce que les Périœciens ?*

R. Ce sont ceux qui habitent sous un même parallèle, c'est-à-dire à la même Latitude; mais sous des Méridiens opposés, c'est-à-dire, à une Longitude différente de 180 degrés, les uns se trouvant dans l'Hémisphère oriental, & les autres dans l'Hémisphère occidental. Ils ont les mêmes Saisons & le même Climat; mais les heures opposées. Les uns ont midi, quand les autres comptent minuit.

D. *Qu'est-ce que les Antœciens ?*

R. Ce sont ceux qui placés sous le même Méridien, c'est-à-dire, à la même Longitude, ont la Latitude opposée, c'est-à-dire se trouvent placés à une égale distance de l'Equateur, les uns dans la partie septentrionale, les autres dans la partie méridionale. Ils ont midi en même-tems; mais les Saisons opposées. Quand les uns sont en hiver, les autres sont en été.

D. *Qu'est-ce que les Antipodes ?*

R. Ce sont ceux qui ont la Latitude & la Longitude directement opposées: les uns se trouvant dans la partie septentrionale, & dans l'Hémisphère oriental, & les autres, dans la partie méridionale & dans l'Hémisphère occidental.



EXPOSITION

des principaux Systèmes du Monde.

ON appelle *Cosmographie*, c'est-à-dire *Description du Monde*, la science qui fait connoître la construction de l'Univers en général, sa figure, la disposition de toutes ses parties, & les rapports qu'elles ont entr'elles. Cette science se partage naturellement en deux branches : l'*Astronomie* & la *Géographie*.

L'*Astronomie* s'applique à considérer les Astres répandus dans l'immense étendue des cieux qui nous environne, & à rendre raison de leurs mouvemens, de leur situation, de leurs distances, de leurs grandeurs, de leurs apparences, & des causes de ces apparences,

La *Géographie* se renferme à donner la description du Globe de la Terre que nous habitons ; à faire connoître les bornes des pays, la situation des lieux, leurs distances, les Mers, les Fleuves, les Montagnes, &c.

L'*Astronomie*, comme les autres sciences, s'est formée par degrés. On prétend que les premiers qui s'y sont appliqués, ont été les Chaldéens. Ces peuples habitant de vastes plaines, & s'occupant de la vie pastorale, qui les obligeoit à veiller la nuit

po
vo
fir

N

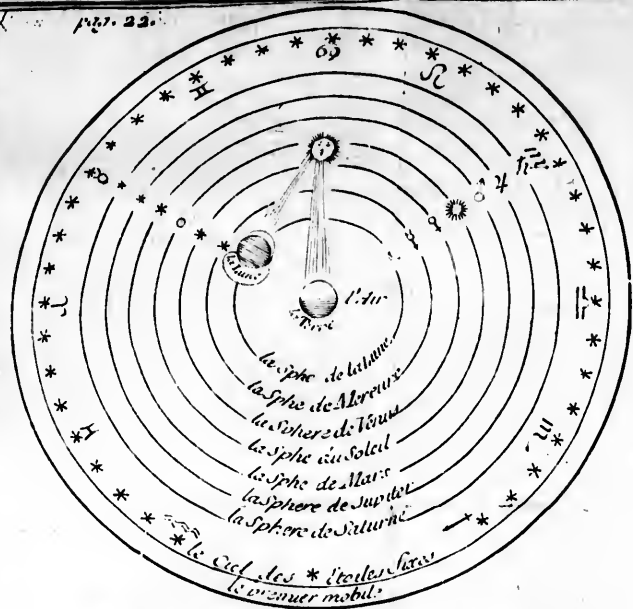
Monde.
est-à dire
qui fait
ivers en
le toutes
s ont en-
aturelle-
mie & la
dérer les
étendue
à rendre
eur situa-
rs gran-
es causes
donner
erre que
les bor-
x, leurs
es Mon-
es Scien-
prétend
pliqués,
habitans
e la vie
r la nuit



**A
ÈME COMPOSÉ**

*est un mélange de ceux de
Tichu, on le nomme aussi
nun parce qu'il est suivi de la
modernes.*

Composé par Desobaudin

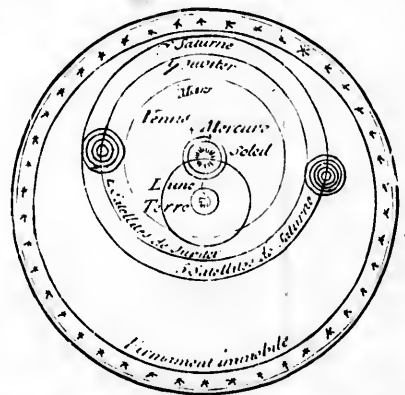


LES SYSTEMES DE
Le mot de Systeme signifie l'ordre de tout l'Univers. c'est à dire de ses parties. Selon que les hommes se les représentent les mouvemens Celeste et les mouvemens de la Nature.

5^o SYSTEME DES TOU
Ce Systeme a été imaginé par Copernic et perfectionné par d'autres Savants. On y suppose que chaque planète dans un tourbillon de matiere tourne autour de celui du Soleil occupe le centre et les autres Tourbillons


1^o SYSTEME DE PTOLOME

Ce Systeme met le globe de la Terre au centre de l'Univers. Autour de ce globe est la region de l'air et au dessus les Cercles des Planetes en cet ordre, sçavoir de la Lune de Mercure, de Venus du Soleil, de Mars, de Jupiter, et de Saturne. au dessus sont les Etoiles fixes, que l'on nomme Firmament quelques Astronomes ont ajoutés deux cristallins et le premier mobile.



3^o SYSTEME DE TICHO-BRAHE

Ticho-Brahe Seigneur Danois a formé ce Systeme sur celui de Copernic, il est ingénieux. et il place la Terre au centre du Monde.



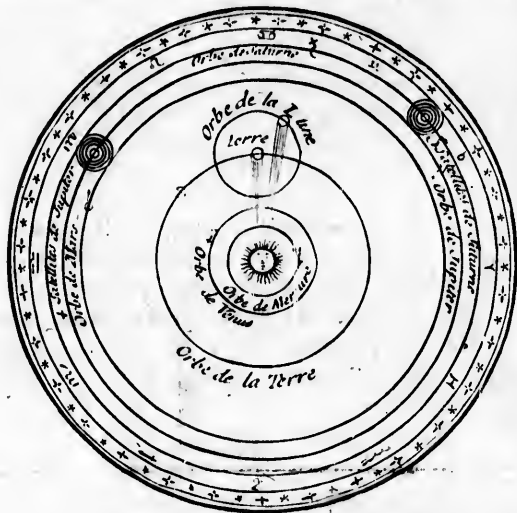

our
 bien
 cent:

A SYSTÈMES DU MONDE

Un système signifie l'ordre et la situation, vers, c'est à dire de ses parties principales, hommes se les représentent pour expliquer le Ciel et les différents Phénomènes de la Nature.

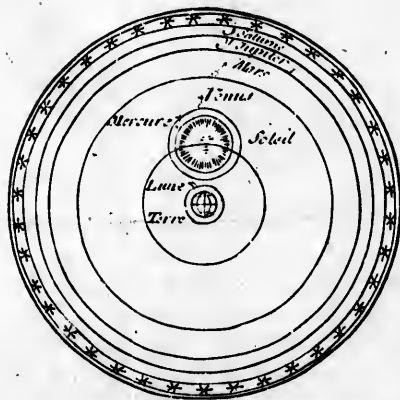
1.° SYSTÈME DES TOURBILLONS

Ce système a été imaginé par M. Descartes, et a été suivi par d'autres Sçavans. On suppose que chaque planète roule dans un tourbillon de matière fluide, et que le Soleil occupe le centre autour duquel se trouvent les autres Tourbillons.



2.° SYSTÈME DE COPERNIC

Copernic met le Soleil au centre de l'Univers, après quoi il place Mercure, Venus, puis la Terre, autour de laquelle la Lune tourne ensuite Mars, Jupiter, et Saturne. Aristarque de Samos et d'autres anciens avoient déjà produits ce système.



4.° SYSTÈME COMPOSÉ

Ce système est un mélange de ceux de Ptolémée et de Ticho, on le nomme aussi système commun parce qu'il est suivi de la plupart des Modernes.

Imprimé par D. Bouchard

pou
voie
fren
leur
rem
xanc
astro
ans
voisi
D
rent
de q
T
entr
ni e
conn
des
puye
C
qu'o
marc
Ptol
Syst
Tou
mais
teurs
les
& c
com
cour
men

pour la garde de leurs troupeaux, observoient la situation du ciel & des étoiles. Ils firent dans cette science des progrès qui leur furent utiles. L'on trouva même au tems de la conquête de Babylone par Alexandre le Grand, que leurs observations astronomiques remontoient alors à 1903 ans, & par conséquent aux tems les plus voisins du déluge.

Des Chaldéens, ces connoissances passèrent aux Egyptiens, & ensuite aux Grecs, de qui nous les tenons.

Tous les corps de ce vaste Univers ont entr'eux une disposition, qui ne nous est ni entièrement connue, ni absolument inconnue. Nous avons des probabilités & des vraisemblances qui se trouvent appuyées sur des expériences.

Cette disposition vraisemblable est ce qu'on appelle *Système du Monde*. On en remarque cinq principaux. Ce sont ceux de *Ptolémée*, de *Copernic*, de *Ticho-Brahé*, le *Système commun*, enfin celui de *Descartes*. Tous ont leur raison de vraisemblance: mais il faut bien remarquer que les Auteurs de ces Systèmes n'ont pas prétendu les donner comme un arrangement fixe & certain de l'Univers; mais seulement, comme un moyen propre à expliquer le cours des planetes, & les divers phénomènes qui paroissent dans la nature.



*Système de P T O L É M É E , qui vivoit
l'an 140 de Jesus - Christ.*

Ce Système représente le Globe de la Terre dans le centre de l'Univers. Autour du Globe terrestre, se trouve la région de l'air; ensuite viennent les cercles du mouvement des planetes, qui tournent autour de cette même Terre.

On balança long-tems sur le rang qu'on devoit leur donner; mais on se détermina à l'ordre suivant: la *Lune*, *Mercur*e, *Vénus*, le *Soleil*, *Mars*, *Jupiter* & *Saturne*. Audessus des Planetes est le cercle ou la sphere des Etoiles fixes, nommée autrement Firmament, ou la huitième sphere.

Après ces huit spheres ou cercles, quelques Astronomes en ont ajouté trois autres, dont deux ont été nommées *Cristalines*, parce qu'on a supposé qu'elles étoient aussi transparentes & aussi solides que le cristal; & la troisième est ce qu'ils ont appelé le premier mobile, qui enveloppe toutes les autres spheres, & les emporte autour de la Terre en vingt-quatre heures, par la rapidité de son mouvement.

Les Etoiles fixes & les Planetes sont toutes emportées par le mouvement du premier mobile, de même que les Cometes & les autres phénomènes extraordinaires. C'est-là le premier mouvement.

Outre ce premier mouvement commun

à tous les Astres, les Etoiles fixes & les Planetes ont, dans ce Systême, un mouvement qui leur est propre; savoir, d'occident en orient, en divers tems, selon qu'ils sont plus ou moins éloignés de la Terre: c'est-là ce qui fait le mouvement qui leur est propre.

Ainsi les Etoiles fixes étant très-éloignées de la Terre, font la période de leur mouvement en 25816 années; Saturne en trente ans, Jupiter en douze, Mars en deux, le Soleil en un an, Vénus en sept mois & demi, & Mercure en trois; la Lune acheve son cours en un mois ou environ.

Tel est, en peu de mots, le Systême de Ptolémée, qui a eu cours pendant un très-long tems; mais qui se trouve presque abandonné, à cause des observations que l'on a faites depuis environ deux siècles.

On a remarqué que Mars est quelquefois plus près de la Terre que le Soleil; que Vénus & Mercure paroissent de tems en tems au-dessus du Soleil, & tournent au-dessus de cet astre, ce qui ne sauroit s'expliquer dans le Systême de Ptolémée: enfin l'on a été obligé d'abandonner l'ancienne opinion de la solidité des cieus, & d'admettre un ciel ou une immensité de matiere liquide & fluide, qui donne un libre passage aux astres.

De cette maniere, Mars peut quelquefois se trouver sous la sphere du Soleil, & Vénus & Mercure aller au-dessus de cet

astre; ce qui ne pouroit arriver dans la supposition que les cieux fussent d'une maniere solide.

Ce qui a fait encore abandonner le Systême de Ptolémée, sont les mouvemens compliqués qu'il falloit admettre pour expliquer les diverses apparences des Planetes,

On ne doit point être surpris que depuis Ptolémée l'Astronomie se soit perfectionnée au point où elle est aujourd'hui : nous en avons principalement l'obligation à l'invention des lunettes de longue vûe, nommées aussi télescopes, par le moyen desquelles on pouroit dire qu'on lit dans les cieux, Peut-être que de nouvelles découvertes donneront de nouvelles lumieres,

Systême de COPERNIC, qui vivoit au seizième siècle.

LONG-TEMPS avant Ptolémée, l'on avoit imaginé un autre Systême, dans lequel le Soleil étoit immobile au centre de l'Univers, & toutes les autres Planetes, la Terre même, tournoient autour de cet astre. Aristarque, Philolaüs & d'autres Philosophes anciens avoient suivi ce Systême. Mais comme ils n'avoient donné aucun ouvrage qui l'établît solidement, il ne fit pas d'impression. Il fut renouvelé, étendu & perfectionné par Nicolas COPERNIC, chanoine de Warmie, né à Thorn, dans la Prusse Polonoise, le 19 février 1473, & mort le 24

mai 1543. Il a encore été perfectioné par Kepler, savant Mathématicien Allemand, qui mourut à Ratisbonne en 1630.

Dans ce Systême, le Soleil reste immobile au centre de l'Univers, qu'il éclaire par sa lumiere, & qu'il vivifie par sa chaleur. Autour du Soleil, Copernic place immédiatement Mercure, puis Vénus, & ensuite la Terre.

Autour de la Terre, il pose la Lune, qui fait son tour, non pas en cercle parfait, mais en ovale. Ensuite Mars, Jupiter & Saturne tournent tant autour du Soleil que de la Terre. Enfin il établit les Etoiles fixes en des lieux si éloignés du Soleil, que la distance de Saturne au Soleil n'est rien en comparaison,

Près des Planetes de Jupiter & de Saturne, on a découvert, dans le siècle dernier, de petites Planetes, qui tournent autour de ces deux grands corps; & c'est ce qui a fait ajouter à la représentation du Systême de Copernic, les cercles des mouvemens de ces *Satellites*, comme on les appelle: Jupiter en a quatre, & Saturne cinq. Ce fut *GALILÉE*, astronome Italien, qui découvrit les premiers, qu'il nomma les *Astres de Médicis*; & MM. Huyghens & Cassini, astronomes, découvrirent en France, ceux de Saturne,

Quoique dans ce Systême, il paroisse que le Soleil soit fixe au centre de l'Univers, cependant les derniers astronomes y ont re-

marqué une sorte de mouvement, que cet astre fait autour de lui-même, c'est-à-dire sur son axe.

On a remarqué ce mouvement par des taches fort irrégulieres & changeantes, qui paroissent se mouvoir toutes ensemble d'orient en occident, dans l'espace de vingt-sept jours, parce qu'au bout de ce terme, les taches reviennent au même point d'où elles sont parties.

Mercuré, qui est le plus près du Soleil, fait sa révolution en trois mois, & Vénus en sept & demi. La Terre fait la sienne en un an d'occident en orient, dans un orbe ou cercle excentrique, c'est-à-dire dont le Soleil n'est pas précisément le centre.

La Terre a de plus un autre mouvement, qui se fait sur son axe en vingt-quatre heures; & c'est ce mouvement qui fait la vicissitude continuelle du jour & de la nuit, & qui nous fait imaginer que le ciel tourne chaque jour d'orient en occident.

Le mouvement annuel de la Terre se fait de maniere, que son axe est toujours dans une même disposition, au regard d'une même partie du ciel, c'est-à-dire qu'il est toujours parallele à lui-même: de-là vient la diversité & l'inégalité des jours & des nuits.

Par le mouvement annuel de la Terre, on voit l'apparence du mouvement du Soleil dans l'Ecliptique, & son passage par les douze signes du Zodiaque en une année.

C'est même par-là que l'on explique les diversités apparentes du second mouvement des Planetes, plus simplement & plus facilement que dans le Systême de Ptolémée.

Le globe de la Lune tourne, en un mois ou environ, autour de la Terre, pendant que la Terre tourne elle-même autour du Soleil dans l'espace d'une année; ce qui fait que la Lune est aussi portée dans le même tems autour du Soleil.

Les quatre Satellites de Jupiter & les cinq de Saturne, tournent autour des globes de ces deux Planetes, chacun en tems différens, & proportionés à l'inégalité de leur distance.

Selon les observations de M. Cassini, les Planetes se meuvent autour de leur axe; savoir, Jupiter en près de dix heures; Mars en vingt-cinq, & Vénus en vingt-trois; mais on n'est pas assuré du tems de la durée de celle de Saturne. On ignore si Mercure se meut autour de son axe: pour la Lune, elle n'a qu'un mouvement de libration, ou une sorte de balancement sur elle-même.

Enfin le ciel des Etoiles fixes, qui termine le monde visible, est immobile à l'extrémité de l'Univers, & dans une distance immense du Soleil, que l'on suppose dans le centre.



*Système de TYCHO-BRAHÉ, qui vivoit
au seizième siècle.*

UN nouveau Système parut dans le seizième siècle; c'est celui de TYCHO-BRAHÉ, Gentilhomme Danois, né le 3 décembre 1546, & mort à Prague en Bohême, le 24 octobre 1601. Il s'étoit fort appliqué à l'Astronomie, & approuvoit tout le Système de Copernic, à l'exception du mouvement de la Terre.

Dans son Système, qui est ingénieux, il place la Terre au centre du monde, autour de laquelle il fait tourner la Lune: puis du même centre, il décrit le cercle annuel du mouvement du Soleil; & le Soleil fert lui-même de centre aux cinq autres Planetes.

Voici l'ordre qu'il y établit: la première est Mercure, qui est le plus proche du Soleil; ensuite Vénus, dans une distance un peu plus éloignée: mais dans un plus grand éloignement, il place Mars, puis Jupiter, & enfin Saturne.

Dans ce Système, on remarque deux centres différens; savoir, 1. la Terre, qui fert de centre à la Lune, au Soleil & aux Etoiles fixes: 2. le Soleil, qui fert de centre aux cinq autres Planetes, sans compter Jupiter & Saturne, qui sont chacun le centre de leurs Satellites ou petites Lunes, découvertes depuis.

On a prétendu devoir faire une cor-

rection au Systême de Tycho-Brahé. C'est de donner à la Terre un mouvement journalier d'occident en orient, pour éviter le mouvement journalier du Soleil, qui doit être si rapide, qu'à peine peut-il être conçu ou imaginé; de maniere que les Planetes n'ont que le mouvement annuel qui leur est propre.

Systême commun composé.

Ce Systême est composé de ceux de Ptolémée & de Tycho-Brahé. Il est suivi de la plupart des modernes; c'est ce qui lui a fait donner le nom de Systême commun.

Dans ce Systême, la Terre fait le centre du monde, autour de laquelle tournent la Lune, le Soleil, avec les trois Planetes supérieures, Mars, Jupiter & Saturne, & enfin les Etoiles fixes.

Quant aux deux autres Planetes, Mercure & Vénus, elles n'ont pas la Terre pour centre; mais le Soleil, autour duquel elles décrivent leur cercle. D'ailleurs, Jupiter & Saturne sont, comme dans les autres Systêmes, le centre des Satellites qui les accompagnent.

Systême de DESCARTES, qui vivoit au dix-septième siècle.

DESCARTES, né à la Haye en Touraine en 1596, & mort à Stockholm en Suède,

en 1650, a donné lieu, par ses expériences, à perfectionner la Philosophie. Il crut trouver un moyen vraisemblable d'expliquer le mouvement des astres, & les divers phénomènes de la nature, en imaginant des Tourbillons.

Ces Tourbillons sont une certaine quantité d'air ou de matiere fluide, qui environne quelque Planete, laquelle, en se mouvant elle-même, entraîne, par son mouvement, la matiere qui l'environne : & comme Descartes établit, avec Copernic, le Soleil comme le centre du monde, il suppose que tous les autres Tourbillons tournent autour de celui du Soleil.

Ainsi ces Tourbillons, selon Descartes, ont deux mouvemens ; savoir, un général, qui les entraîne tous autour de celui du Soleil ; & un mouvement particulier qui entraîne la matiere fluide de chaque Tourbillon autour de son propre centre ou de sa Planete principale :

C'est le centre ou la Planete principale de chaque Tourbillon, qui tournant sur elle-même, donne aussi le mouvement à la matiere fluide dont elle est environnée ; & si dans ce Tourbillon il se trouve quelque corps ou Planete moindre que la Planete principale, elle est emportée avec le reste de la matiere du Tourbillon.

C'est ainsi que Descartes établit le Tourbillon du Soleil, qui se mouvant sur lui-même, agit, non-seulement la matiere

subtile ou fluide qui l'environne; mais entraîne également les Planetes de Mercure & de Vénus, qui sont dans l'étendue de son Tourbillon; ce qui se fait en un tems proportioné à l'éloignement où ils sont de leur centre commun.

Dans ce même Systême, la Terre a son Tourbillon particulier, & par un mouvement qui lui est propre, elle tourne sur elle-même, & entraîne tant la matiere qui l'environne, que la Lune, qui se trouve dans le Tourbillon de la Terre même.

Il en est de même de Jupiter & de Saturne, qui sont les centres de leurs Tourbillons, & entraînent en même tems leurs Satellites, ou petites Planetes, qui sont comme attachés à leur globe.

Descartes ne se contente pas d'appliquer ces Tourbillons aux astres qui sont à la portée de notre vue; il les transporte encore jusqu'aux Etoiles fixes, dont l'éloignement est immense; & il regarde chacune comme autant de Soleils, qui sont au centre d'un Tourbillon, auquel elles donnent le mouvement.

Mais pour expliquer divers Phénomènes, comme les cometes, l'élasticité ou le ressort qui se trouve dans l'air, le flux & le reflux de la mer, un Philosophe a jugé depuis Descartes, que ce mouvement, qui devoit être circulaire, est contraint & comprimé dans son cours, & devient ovale, parce qu'il se trouve pressé & gêné dans sa course

par le mouvement des Tourbillons voisins;

Et c'est, dit-il, à proportion de la contrainte, ou de la facilité de ce mouvement, que l'air se trouve déterminé à repousser ou entraîner les corps qui se trouvent dans son fluide; qu'il reçoit quelquefois des Planetes errantes que nous appellons Cometes, qui s'échappent des Tourbillons voisins, & s'approchent de celui de la Terre, d'où après un certain tems, elles passent successivement à d'autres Tourbillons.

Quant au flux & reflux de la mer, il est attribué à la compression de la matiere fluide de notre Tourbillon, qui trouvant le corps de la Lune qui la gêne & la contraint dans son passage, est obligée de faire sur la mer, élément fluide, la même impression qu'elle reçoit de cette Planete, qui est un corps solide.

Et comme cette matiere passe deux fois chaque jour entre le globe de la Terre, & celui de la Lune; c'est ce qui produit le flux par sa compression entre ces deux corps, & le reflux par l'aisance & la facilité du mouvement, lorsque la compression finit, ou qu'elle est finie.

Mais d'où viennent tous ces divers mouvemens? Les astres ne se les font pas donner: ce sont des corps inanimés. Ils partent donc d'une main toute puissante, qui d'abord a imprimé le premier mouvement à tous les êtres de l'Univers, & qui l'y conserve par sa Providence, pour faire éclater sa

grandeur & sa gloire, & pour montrer que les ouvrages, quelque incompréhensibles qu'ils soient, n'en sont pas moins réguliers, ni moins utiles à l'homme, qui seul en tire tout l'avantage, & en doit par conséquent témoigner la plus parfaite reconnoissance.





GÉOGRAPHIE

ABRÉGÉE.

SECONDE PARTIE.

ABRÉGÉ

DE LA GÉOGRAPHIE MODERNE.

P R E M I E R E L E Ç O N.

Notions Préliminaires.

D. **Q** U E S T - C E que la Géographie ?

R. La Géographie est la description de la Terre.

D. *Quel est l'objet de cette science ?*

R. C'est de faire connoître la situation, les bornes & l'étendue des régions & des mers qui occupent la surface du globe terrestre ; de marquer le cours des rivières , & d'indiquer la position précise des villes , & leur situation entr'elles.

D. *De quels moyens se sert-on pour acquérir ces connoissances ?*

R. On se sert du Globe & des Cartes Géo-

RIE

TIE.

ERNE.

D N.

graphie?
tion de

ce?
uation,
& des
be ter-
eres, &
lles, &

our ac-

es Géo-



MAPPE - MONI

ou representation du

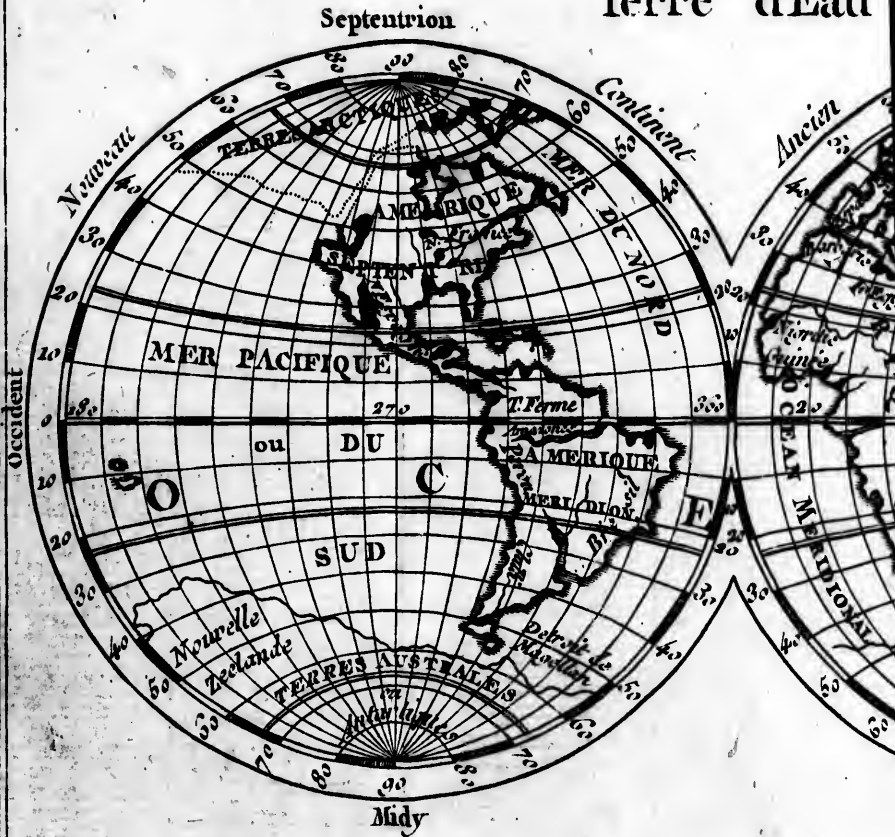
GLOBE TERRESTRE

en

DEUX PLANS HEMISPHE

compose de

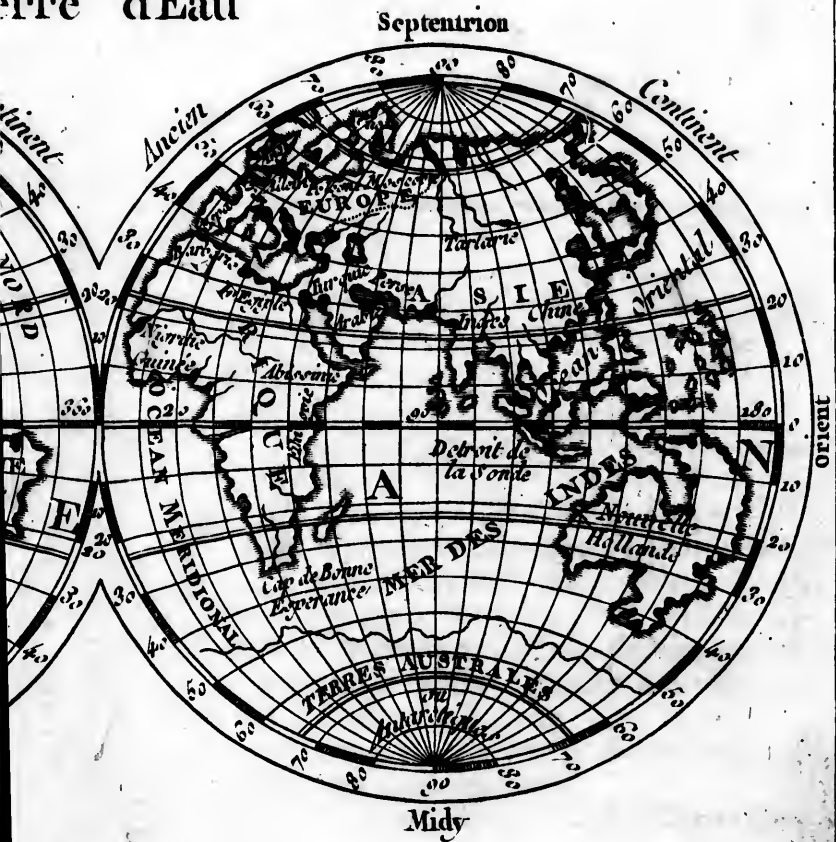
Terre d'Eau

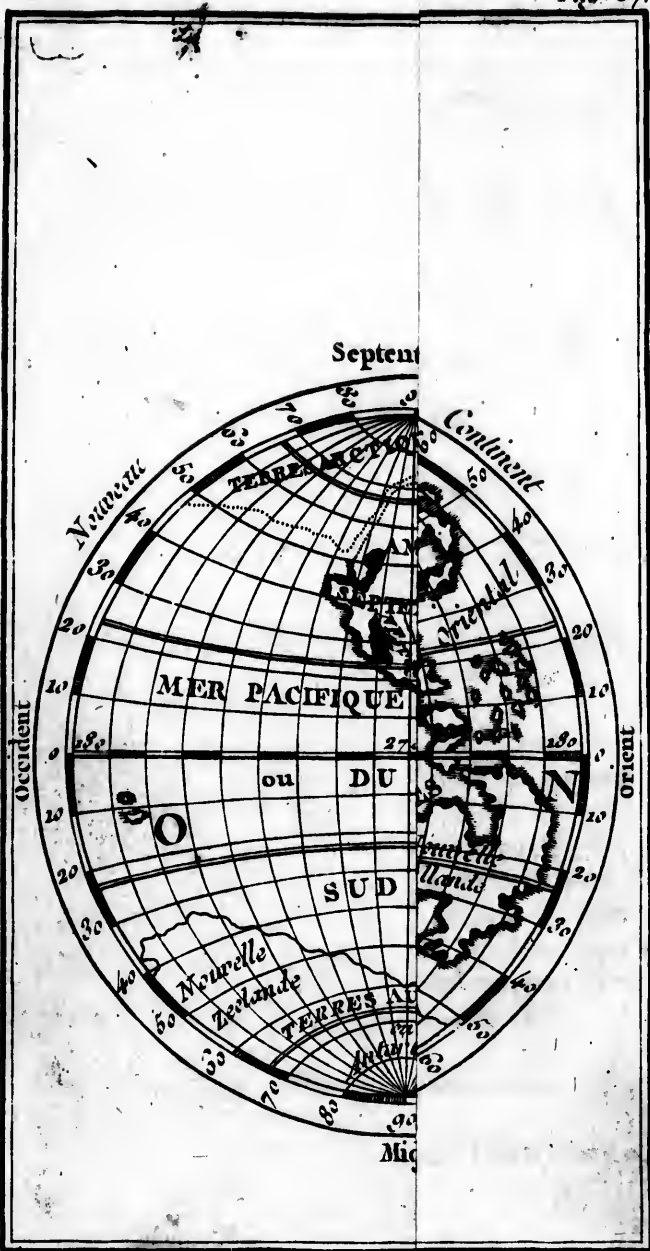


PE - MONDE

représentation du
E TERRESTRE

en
ANS HEMISPHERE
composé de
erre d'Eau





graphiques. Le Globe représente la terre avec sa rondeur ; & c'est le tableau le plus parfait , parce que les objets conservent sur cette convexité les mêmes rapports & les mêmes proportions qu'ils ont sur la terre. Mais n'étant pas possible de faire un globe assez gros , pour y placer tout ce que la Géographie doit remarquer , on y supplée par les Cartes Géographiques , qui sur une surface plate , peuvent représenter toutes les parties de la terre dans le plus grand détail.

D. *Combien y a-t-il de sortes de Cartes Géographiques ?*

R. Il y en a de générales & de particulières ; mais relativement à l'étendue de pays qu'elles représentent. Ainsi la Mappemonde est une carte générale , à l'égard des quatre cartes particulières , qui représentent chacune une des parties du monde. La carte de l'Europe , qui est une carte particulière à l'égard de la Mappemonde , est une carte générale , en la comparant à celles qui représentent en particulier la France , ou les autres parties de l'Europe. Les cartes qui ne contiennent que le plan d'une ville ou d'un canton peu étendu , se nomment *Cartes Topographiques*.

D. *Comment y sont marqués les points cardinaux ?*

R. Le Nord est marqué au haut de la carte ; le Sud l'est au bas ; l'Orient à la droite , & l'Occident à la gauche.



D. Qu'est-ce que ces lignes, dont les unes coupent la carte du Sud au Nord, & les autres la coupent de l'Occident à l'Orient?

R. Les premières sont les méridiens, qui marquent la longitude, & les autres sont les cercles parallèles qui indiquent la latitude. Le nombre des degrés est marqué à l'extrémité de ces lignes, sur les côtés de la carte; & chaque degré est divisé en minutes, de dix en dix, ou de cinq en cinq, suivant l'étendue de la carte.

D. Les degrés de latitude ne peuvent-ils pas servir à mesurer la distance des villes marquées sur la carte?

R. On place dans toutes les cartes particulières, des échelles divisées en lieues ou en milles, suivant l'usage des pays: & ces échelles qui ont servi à fixer la position des villes, peuvent être employées pour en connoître la distance. Mais chaque degré, pris sur le méridien, occupant l'espace de vingt-cinq lieues communes de France, ou de vingt grandes lieues, peut servir de mesure commune à toutes les cartes.

D. Qu'est-ce que ces lignes qui vont en serpentant, & dont plusieurs traversent un assez long espace?

R. Ces lignes serpentantes représentent le cours des rivières.

D. Et ces points, plus ou moins gros, qui forment différens contours, quel est leur usage?

R. Ils servent à marquer les bornes des

Pays & de leurs divisions particulieres. Mais pour rendre la chose plus sensible, on les trace par des lignes de différentes couleurs.

II. L E Ç O N :

Division générale du Globe terrestre.

D. DE quoi est composée la surface du globe terrestre ?

R. De terre & d'eau. La terre est cette masse qui sert à nous soutenir, nous entretenir & nous nourrir. Les eaux sont la mer, les lacs & les rivières, qui servent pareillement à notre subsistance.

D. Quelle différence mettez-vous entre ces eaux ?

R. La mer est un grand assemblage d'eaux salées qui environnent les terres. Les lacs sont de petits assemblages d'eaux douces ou salées, au milieu des terres. Les rivières sont des eaux douces, qui coulent depuis leur source, jusqu'à leur embouchure, c'est-à-dire, jusqu'à l'endroit où elles se jettent dans la mer, ou se joignent à quelque autre rivière.

D. En combien de parties se divise la terre ?

R. On la partage ordinairement en quatre parties ; savoir, l'Europe, l'Asie, l'Afrique & l'Amérique.

D. Cette division renferme-t-elle toutes les terres ?

R. Il y a encore les Terres arctiques, les Terres australes, & les Terres antarctiques, qui pouroient former trois autres parties de la terre; mais on en connoît à peine quelques côtes.

D. *Les quatre grandes parties de la terre ont-elles toujours été connues?*

R. Les anciens ne connoissoient que les trois premières; savoir, l'Europe, l'Asie & l'Afrique; ils n'en connoissoient même pas toute l'étendue.

D. *Ne donne-t-on pas un nom général à ces trois parties?*

R. On les nomme ordinairement l'Ancien Monde ou l'ancien Continent, parce qu'il étoit connu des Anciens, & que les trois parties tiennent ensemble.

D. *Comment nomme-t-on l'Amérique?*

R. On l'appelle le Nouveau Monde, parce qu'il a été découvert dans les derniers siècles, c'est-à-dire, depuis l'année 1492. On la nomme aussi les *Indes Occidentales*, pour les distinguer des véritables Indes, qui sont à l'orient dans l'Asie. Elle a été appelée *Amérique*, parce qu'Améric Vespuce étant abordé dans ce continent, après Christophe Colomb, en publia le premier une Relation.

D. *Quelle partie de la terre fut habitée la première?*

R. Ce fut l'Asie, où le premier homme a été créé: c'est aussi la plus étendue de l'ancien continent, & la plus illustre, parce

que le Sauveur du monde y est né, & qu'il y a opéré le mystère de la Rédemption du genre humain.

D. Quelle partie de la terre est aujourd'hui la plus considérable.

R. C'est l'Europe, tant par la multitude de ses habitans, & la douceur de ses mœurs, que par la police du gouvernement, & la sagesse de ses différentes loix, qu'elle cherche, par le moyen de ses colonies, à inspirer aux autres nations.

III. LEÇON.

L'EUROPE.

D. QUELLES sont les bornes de l'Europe ?

R. L'Europe est située à l'occident de l'Asie, baignée au nord par la Mer Glaciale, à l'occident par l'Océan, & au midi par la Mer Méditerranée, qui la sépare de l'Afrique.

D. En combien de parties divisez-vous l'Europe ?

R. Nous la divisons en treize grandes régions; quatre au nord, six dans le milieu, & trois au midi.

D. Nommez les quatre du nord ?

R. Ce sont les ISLES BRITANNIQUES ou Royaume de la Grande Bretagne; les États de DANEMARCK, la SUÈDE, & la Russie d'Europe.

D. *Quels sont les six pays du milieu.*

R. Ce sont la FRANCE, les PAYS-BAS ; la SUISSE, l'ALLEMAGNE, les ÉTATS DE LA MAISON D'AUTRICHE, c'est-à-dire principalement, la Bohême, l'Autriche & la Hongrie ; la POLOGNE, dans laquelle est renfermé le royaume de Prusse.

D. *Quels sont les trois pays du midi ?*

R. Ce sont, l'ESPAGNE, qui renfermé deux royaumes indépendans, celui d'Espagne & celui de Portugal ; l'ITALIE & la TURQUIE d'Europe. Dans l'ITALIE sont compris les états du roi de Sardaigne, la république de Venise ; les états de Parme & Plaisance, la République de Gènes, la Toscane, l'État de l'Église, & le royaume des Deux Siciles.

D. *Tous ces États se gouvernent-ils de la même manière ?*

R. Il s'en faut beaucoup. Les uns sont des états monarchiques, les autres sont des républiques, d'autres enfin ont un gouvernement mixte ou mélangé, c'est-à-dire, tempéré de la monarchie & de la forme républicaine.

D. *Qu'est-ce qu'un État monarchique ?*

R. La Monarchie est un état où l'autorité souveraine est entre les mains d'un seul, qui gouverne d'une manière indépendante, soit par lui-même, soit par ses ministres, comme en France, en Espagne, en Portugal, &c.

D. *Qu'est-ce qu'une République ?*

R. La République est un état où l'autorité souveraine est déposée entre les mains de plusieurs membres, choisis pour gouverner les autres, soit des nobles, comme à Venise & à Gènes en Italie; soit du Peuple, comme dans les Provinces-Unies des Pays-Bas.

D. *Qu'appelle-t-on Gouvernement mixte?*

R. C'est celui où l'autorité du souverain est limitée par le Corps des États ou de la Nation, comme l'Empire d'Allemagne, la Pologne & l'Angleterre.

D. *Combien l'Europe a-t-elle d'étendue?*

R. L'Europe, depuis le Nord-Cap, qui est la pointe la plus avancée dans la Mer Glaciale, jusqu'aux extrémités de l'Italie ou de l'Espagne, contient environ sept cens lieues; & mille cinquante de l'occident à l'orient, c'est-à-dire, depuis le Cap Finistère en Galice, province occidentale de l'Espagne, jusqu'à la courbure la plus orientale du Don.

IV. L E Ç O N.

Villes capitales des États de l'Europe.

D. *QUELLES sont les Villes capitales des États du Nord?*

R. LONDRES, sur la Tamise, est la capitale des îles Britanniques; COPENHAGUE, sur le Détroit du Sund, l'est du Danemarck; STOCKHOLM, de la Suède; MOSCOW,

étoit autrefois la seule capitale de la Russie ou Moscovie ; mais SAINT-PÉTERSBOURG, dans le fond du Golfe de Finlande, l'est aussi depuis le czar Pierre I, qui l'a fait bâtir en 1703.

D. *Nommez les villes capitales des États du milieu de l'Europe ?*

R. La France a pour capitale PARIS, l'une des plus grandes villes du monde. Les Pays-Bas se partagent en *Pays-Bas Hollandois*, qui forment la république des Provinces-Unies, & *Pays-Bas Autrichiens*. LA HAYE peut être regardée comme la capitale des Provinces-Unies, parce que c'est dans cette ville que résident les *États-Généraux* qui les gouvernent ; mais AMSTERDAM est beaucoup plus considérable, à cause de son commerce. BRUXELLES est la capitale des Pays-Bas Autrichiens. BERNE & GENÈVE sont les villes les plus considérables de la Suisse.

D. *Peut-on assigner la capitale de l'Allemagne ?*

R. L'Allemagne étant un empire composé de plusieurs grandes principautés indépendantes, chacune a sa capitale, & l'on ne sauroit dire précisément quelle est celle de toute l'Allemagne. Mais VIENNE, capitale de l'Autriche, étant depuis long-tems la résidence des Empereurs, peut être regardée comme la capitale de l'Empire.

D. *Continuez de nommer les capitales des États du milieu de l'Europe ?*

R. PRAGUE est la capitale de la Bohême; VIENNE, de l'Autriche, & PRESBOURG de la Hongrie. La Pologne a pour capitale CRACOVIE; mais le roi fait sa résidence à VARSOVIE, KONIGSBERG est la capitale de la Prusse; mais le roi de Prusse réside à BERLIN, dans les états de Brandebourg, en Allemagne,

D. *Quelles sont les capitales de l'Espagne & du Portugal?*

R. MADRID, au milieu de l'Espagne, est la capitale de ce royaume. LISBONE, à l'occident & à l'embouchure du Tage, l'est du Portugal.

D. *Nommex les capitales des États renfermés dans l'Italie?*

R. TURIN est la capitale des États du roi de Sardaigne; VENISE, l'est des États de la République de ce nom; PARME, des États de Parme & Plaisance; GÈNES, de la République de ce nom. FLORENCE est la capitale de la Toscane; ROME, de l'état de l'Église; NAPLES, du Royaume des Deux Siciles.

D. *Quelle est la capitale de la Turquie?*

R. C'est CONSTANTINOPLE.

V. L E Ç O N.

Iles, Rivieres, Montagnes, &c. de l'Europe.

D. *QUELLES sont les Iles les plus considérables de l'Europe?*

R. Ces îles sont la Grande-Bretagne;

l'Irlande & l'Islande, dans l'Océan. On trouve dans la Mer Méditerranée, près de l'Italie, la *Sardaigne*, qui appartient au roi de Sardaigne; la *Corse*, qui appartient aujourd'hui à la France; & la *Sicile*, qui appartient au roi des Deux Siciles; près de l'Espagne, *Majorque & Minorque*, qui dépendent de ce royaume. *Malthe*, au midi de la Sicile, est aux Chevaliers de Malthe, *Candie*, & les autres îles de l'Archipel, sont soumises à l'empereur des Turcs.

D. *Qu'est-ce qu'une île?*

R. C'est une portion de terre, moindre qu'un Continent, & environnée d'eau de tous côtés. Mais une *presqu'île* tient au continent ou à la terre ferme, par une langue de terre plus ou moins large, qui se nomme *Isthme*.

D. *Donnez-en quelqu'exemple en Europe?*

R. Dans la petite Tartarie, la *Crinée* est une *presqu'île*, unie à la terre ferme par l'*Isthme* de *Précop*, qui prend son nom d'une ville voisine: la *Morée*, qui est la partie la plus méridionale de la Turquie, est encore une *presqu'île*, attachée au continent par l'*Isthme* de *Corinthe*.

D. *Quelles sont les principales rivières ou fleuves de l'Europe?*

R. Ce sont la *Dvina*, le *Dniéper* & le *Don*, en Russie, où ils prennent leur source; la *Vistule*, en Pologne; le *Danube*, le *Rhin* & l'*Elbe*, en Allemagne; la *Seine*, la *Loire*, la *Garonne* & le *Rhône*, en France;

la Tamise, dans la Grande-Bretagne; le Douro, le Tage & l'Ebre, en Espagne; le Pô & le Tibre, en Italie.

D. Marquez les principales montagnes de l'Europe?

R. Ces montagnes sont, les Félices ou Daara-Field, entre la Norvège & la Suède; les Kaménoi-Poyas, qui séparent, du côté du nord, la Russie d'Europe de celle d'Asie; les monts Krapack, entre la Pologne & la Hongrie; les monts Pyrénées, qui séparent la France & l'Espagne; les Alpes, entre la France, l'Italie & l'Allemagne; l'Apennin, qui traverse l'Italie dans toute sa longueur.

D. N'y a-t-il pas en Europe des volcans ou montagnes qui jettent du feu?

R. Il s'en trouve plusieurs: tels sont le mont Hécla dans l'Islande; le Vésuve ou Soma, dans le royaume de Naples, en Italie; le Gibel ou l'Etna, dans la Sicile. Il se forme encore quelques autres volcans dans le royaume de Bohême.

D. Quels sont les principaux lacs de l'Europe?

R. Ces lacs sont ceux de Vèner & de Mèler, en Suède; de Ladoga & d'Onéga, en Russie; de Genève, entre la Suisse & la Savoie; de Constance, entre la Suisse & l'Allemagne; & ceux de Guardè, de Côme, avec le lac Majeur, dans l'extrémité septentrionale de l'Italie.

D. Qu'est-ce qu'un lac?

R. C'est un assemblage assez grand d'eau douce ou salée, qui n'a point de cours, mais qui souvent est traversé par une eau courante. Les lacs sont beaucoup plus grands que les étangs, dont les eaux n'ont de cours que celui qu'on leur donne.

D. *Quels détroits sont en Europe ?*

R. Ce sont le détroit du Sund, pour la Mer Baltique, entre le Danemarck & la Suède; le Pas de Calais, entre la France & l'Angleterre; le détroit de Gibraltar, qui sépare l'Espagne d'avec l'Afrique; le Fare de Messine, entre Naples & la Sicile; le détroit des Dardanelles ou de Gallipoli, & celui de Constantinople, entre l'Europe & l'Asie.

D. *Qu'appellez-vous un détroit ?*

R. C'est un canal formé par la mer, & qui se trouve entre deux terres peu éloignées: il sert à passer d'une partie de mer dans l'autre.

VI. L E Ç O N.

Les Iles Britanniques, ou le Royaume de la Grande Bretagne.

D. *QU'EST-CE que les Iles Britanniques ?*

R. Ces Iles, au nombre de deux grandes & de plusieurs petites, composoient autrefois différens royaumes. Elles n'en contiennent aujourd'hui que deux, qui sont réunis, & que l'on nomme le Royaume de

de la Grande Bretagne ou d'Angleterre.

D. Quelles sont les deux grandes Iles Britanniques ?

R. Ce sont, la Grande Bretagne & l'Irlande.

D. Nommez les principales des petites Iles ?

R. Ce sont celles d'*Anglesey* & de *Man*, dans la Mer d'Irlande, à l'occident de la Grande Bretagne. Celle de *Wight* est au sud, & les *Sorlingues* au sud-ouest. Les îles de *Jersey* & *Gernesey*, avec quelques autres de moindre étendue, sont près des côtes de France.

D. En combien de parties divise-t-on l'île de la Grande Bretagne ?

R. Elle se divise en deux parties principales; savoir, l'Angleterre & l'Écosse, qui faisoient autrefois deux royaumes; mais qui n'en font plus qu'un, depuis l'union que la reine Anne en a faite en 1707.

D. En combien de parties divise-t-on l'Angleterre ?

R. En deux parties; savoir l'Angleterre propre, & la principauté de Galles. Elles contiennent ensemble 52 comtés ou provinces, qui envoient leurs députés au Parlement.

D. Quelles sont les principales villes de l'Angleterre ?

R. LONDRES, qui en est la capitale, est aussi peuplée que Paris. Sa situation sur la Tamise, à vingt lieues de son embouchure,

l'a rendue l'une des plus marchandes & des plus florissantes de l'Europe. BRISTOL, ville très-riche & très-commerçante, est située à l'occident, vers l'embouchure de la Saverne. CANTORBERY, au midi de l'embouchure de la Tamise, est remarquable par son Archevêque, qui est le primat & le premier pair du royaume. YORCK, dans les provinces du nord, a le titre de duché, affecté à un prince de la famille royale. LANCASTRE, à l'ouest d'Yorck, est célèbre pour avoir donné son nom à la maison de Lancastre, de laquelle sont sortis quatre rois d'Angleterre. Il faut encore remarquer OXFORD & CAMBRIDGE, toutes deux célèbres par leurs universités. Oxford est sur la Tamise, au-dessus de Londres. Cambridge est à quinze lieues au nord de Londres.

D. *Quelle est la religion dominante en Angleterre ?*

R. C'est la religion réformée épiscopale, avec les dogmes des Prétendus Réformés de Genève, ou des Calvinistes. On a conservé quelques parties des cérémonies & de l'extérieur de la religion Catholique, & même quelque chose de sa discipline. Cela n'empêche pas qu'il ne se trouve en Angleterre un grand nombre de Réformés-Presbytériens, ou purs Calvinistes, qui s'appellent *Puritains* : on y voit aussi des Luthériens, des Juifs & d'autres sectes. Il y a encore nombre de Catholiques, sur-tout

en Irlande; mais ils n'y sont que tolérés, & sans aucun exercice public.

D. Combien y a-t-il d'Evêchés en Angleterre ?

R. On y compte deux archevêques : ce sont ceux de Cantorberi & d'Yorck, & vingt six évêques; qui tous, comme Pairs du royaume, ont entrée, séance & voix délibérative dans la Chambre haute du Parlement de la Grande Bretagne.

D. Quelles sont les principales rivières d'Angleterre ?

R. Ce sont la *Tamise*, qui se décharge dans la Mer d'Allemagne; la *Saverne*, qui va tomber dans le canal de Saint-Georges, ou la Mer d'Irlande; l'*Humber*, qui se forme de la jonction de la Trente & de l'Youre, & qui se décharge dans la Mer d'Allemagne.

D. Que pense-t-on du Gouvernement de la Grande Bretagne ?

R. On croit, avec raison, que c'est celui qui convient le mieux à la nation. Parce que les loix de la succession y appellent très-souvent sur le trône des princes étrangers, les Anglois ont appréhendé que cela ne fit tort à l'économie de leur état; ainsi ils ont limité le pouvoir de leur souverain par l'établissement d'un parlement, c'est-à-dire, du corps même de la Nation. La Chambre haute, composée de tous les pairs du royaume, a la manutention des loix fondamentales; & la Chambre basse a l'inspection sur

les finances, pour empêcher que le roi n'en abuse au préjudice des peuples.

D. Trouve-t-on quelque modèle de ce gouvernement ?

R. On en trouve un modèle dans le gouvernement de l'ancienne Lacédémone. L'autorité de ses rois trouvoit un frein dans les éphores, qui étoient proprement les défenseurs & les protecteurs de la liberté du peuple. Celui qui les établit dit fort sensément, que si leurs souverains ne vouloient faire que le bien, ils avoient toute l'autorité nécessaire; & que s'ils vouloient faire le mal, on ne pouvoit prendre trop de précautions pour la borner. C'est aussi le principe de la Nation Britannique.

VII. L E Ç O N.

L'Ecosse & l'Irlande.

D. COMMENT divisez-vous l'Ecosse ?

R. L'Ecosse, pays rempli de montagnes, se divise en septentrionale, au-delà de la riviere de Tay; & en méridionale, en-deçà de la même riviere. Ces deux parties contiennent en tout trente-cinq provinces ou comtés.

D. Dans quel état est l'Ecosse ?

R. Par rapport à la nature du terroir, l'Ecosse est beaucoup moins fertile que l'Angleterre, & déserte en quelques endroits. Quant à son gouvernement, il est

entièrement changé. Autrefois c'étoit un royaume, avec un gouvernement tempéré, comme celui d'Angleterre. La maison de Stuart qui y régnoit depuis 1370, étant montée sur le trône d'Angleterre en 1602, les deux royaumes se trouverent réunis. Le roi résidoit en Angleterre, & envoyoit un viceroi en Ecosse. Mais en 1707 le parlement d'Ecosse fut aboli; & ce royaume devint comme une province d'Angleterre, qui envoie au parlement un certain nombre de députés.

D. Quelles sont les rivières & les lacs de l'Ecosse ?

R. Le Tay, la Spey, la Clyde & le Nith, en sont les plus considérables rivières; mais les lacs, formés presque tous par ces rivières, s'y trouvent en bien plus grand nombre, & y sont très-poissons.

D. Nommez les principales villes de l'Ecosse.

R. EDIMBOURG, qui en est la capitale, avec une université : GLASGOW & SAINT-ANDRÉ, ont été autrefois les sièges des deux archevêques de ce pays; mais elles ont conservé leurs universités, & même les études se sont renouvelées depuis quelque temps à Glasgow.

D. Quelles sont les îles voisines de l'Ecosse ?

R. On les divise en trois classes; savoir, à l'occident les Hébrides ou Westernes, ou îles d'ouest; les Orcades ou d'Orek-ney,

qui sont au nord , & confinent à l'Ecosse : les îles Schetland encore plus au nord.

D. Comment divisez-vous l'Irlande ?

R. L'Irlande se divise en quatre parties, savoir : l'*Ultonie*, au nord ; la *Lagénie*, à l'orient ; la *Momonie*, au midi , & la *Connacie*, à l'occident. Ces quatre parties comprennent ensemble trente-deux provinces ou comtés, sous la direction spirituelle de quatre archevêques & de dix-neuf évêques, & sous le gouvernement d'un viceroi envoyé par le roi d'Angleterre, pour gouverner cette île suivant ses loix.

D. Marquez les villes d'Irlande les plus remarquables.

R. Ce sont DUBLIN, capitale, située dans la Lagénie, près de la mer, avec une université assez célèbre ; ARMACH dans l'Ultonie ; CASHEL dans la Momonie, & GALLOVAI dans la Connacie : toutes quatre ont le titre d'Archevêché. LIMMERICK & WATERFORD sont encore deux villes assez considérables, & qui font un bon commerce. Elles sont dans la Momonie.

D. Quelles sont les rivières de l'Irlande ?

R. La plus considérable est le Shannon, qui dans son cours forme trois lacs, & un grand golfe à son embouchure. Il vient du nord de l'Irlande, & va se décharger au sud, au-dessous de Limmerick.

D. Quelle est la religion de l'Ecosse & de l'Irlande ?

R. La religion y est la même qu'en An-

gleterre ; avec cette différence, qu'en Ecosse la prétendue réforme de Calvin ou des Puritains, est la religion dominante ; qu'il n'y a point d'évêques, peu d'épiscopaux, & presque point de Catholiques. Mais en Irlande il y a beaucoup plus de Catholiques que d'aucune autre religion ; cependant celle des épiscopaux Anglois y est la dominante.

D. Quel est le gouvernement de ces deux pays soumis à l'Angleterre ?

R. Lorsque l'Ecosse étoit royaume, elle avoit un parlement qui jouissoit sur ses membres de la même autorité que celui d'Angleterre sur les Anglois ; mais aujourd'hui elle n'a de juges, que pour régler les affaires des particuliers, & nullement pour décider de celles de l'état : au lieu que l'Irlande a conservé une espece de liberté, par le parlement qui s'y assemble pour son gouvernement.

VIII. L E Ç O N.

Les Etats du roi de Danemarck.

D. NOMMEZ les pays qui composent les états du roi de Danemarck ?

R. Ces états s'étendent le long de l'Océan & de la Mer Glaciale, jusqu'à la pointe la plus septentrionale de l'Europe. Ils renferment le Danemarck, la Norvège & l'Islande.

D. Comment se divise le Danemarck ?

R. Ce royaume, où l'air est froid, mais assez sain, se divise en terre ferme, à l'occident, & en îles, qui sont à l'orient.

D. Comment se nomme le pays de terre ferme ?

R. C'est une presqu'île qui se nomme Jutland, & qu'on divise en Nord-Jutland, & Sud-Jutland, qui est le duché de Sleswick.

D. Quelles sont les îles du Danemarck ?

R. Ces îles, situées à l'entrée de la Mer Baltique, sont celles de Séeland, Funen ou Fionie, Langeland, Laland, Falster & Bornholm.

D. Nommez les villes principales du Danemarck ?

R. COPENHAGUE, capitale du royaume, est sur la côte orientale de l'île Séeland; ROSKILD, à l'occident de Copenhague; ELSENEUR, sur le détroit du Sund: ODENZÉE, ville épiscopale, dans l'île de Funen. Dans le Jutland, sont AALBORG, WIBORG, AARHUS, RYPEN & SLESWICK.

D. Qu'est-ce que le détroit du Sund ?

R. C'est un passage de mer entre le Danemarck & la Suède, par où se fait la communication de l'Océan avec la Mer Baltique, qui se communiquent encore par deux autres détroits, nommés le grand & le petit Belt; mais le plus fréquenté pour la navigation est le Sund. Le tribut imposé à chaque vaisseau qui y passe, produit un re-

venu assez considérable au roi de Danemarck. CRONENBOURG est le château qui défend le passage, & où l'on paye les droits.

D. Qu'est-ce que la Norvège?

R. La Norvège, autrefois royaume particulier, est une longue côte, qui s'étend près de 400 lieues du sud au nord, le long de l'Océan. Dans sa plus grande largeur, de l'ouest à l'est, elle peut avoir 75 lieues; elle n'en a pas plus de 10 en quelques endroits. C'est depuis 1359 une dépendance du royaume de Danemarck. Elle se divise en quatre diocèses, qui sont ceux de Christiania, de Christiansand, de Berghen, & de Drontheim.

D. Nommez les principales villes de Norvège?

R. CHRISTIANIA, située au midi, sur le golfe d'Anslo; CHRISTIANSAND, au sud, vers le cap Lindesnes, est une ville bâtie en 1641, par le roi Christiern IV, qui y transféra l'évêché de Stavanger; BERGHEN, sur l'Océan, est la plus grande & la plus marchande ville du royaume: DRONTHEIM, plus au nord, sur un golfe de l'Océan, étoit le séjour des rois de Norvège. WARDHUS, bourg dans une île, sur la Mer Glaciale, au 71 degré de latitude: c'est le lieu principal de la Finmarck, ou Laponie Norvégienne.

D. Qu'est-ce que l'Islande?

R. C'est une grande île, située sous le cercle polaire, à environ 250 lieues à l'ouest

de la Norvège. Sa capitale est SKALHOLT, vers le milieu de l'île.

D. N'y a-t-il pas quelques îles qui dépendent de l'Islande ?

R. Entre l'Islande & l'Ecosse on trouve un corps de petites îles, nommées les *îles de Féro*, qui appartiennent au roi de Danemarck, & dépendent du gouverneur de l'Islande. Elles n'ont que des hameaux occupés par des pêcheurs, qui font commerce de poisson sec.

D. Quelle est la forme du gouvernement dans les états du roi de Danemarck ?

R. Avant l'année 1660, l'autorité du roi étoit tempérée par les états du pays; ainsi le roi y étoit moins le maître que le chef de la république, parce que la couronne étoit élective. Mais depuis 1660, que le trône est devenu héréditaire, l'autorité n'y a pas moins changé que la succession, & le roi y est absolu.

D. De quelle religion sont ces pays ?

R. La religion chrétienne & catholique fut prêchée & reçue en Danemarck au milieu du dixième siècle; mais la luthérienne, qui s'y est établie en 1539, en est, depuis plus de 200 ans, la religion dominante, ainsi qu'en Danemarck & en Islande.

D. Le roi de Danemarck ne possède-t-il pas d'autres états que ceux que nous venons de décrire ?

R. Il possède encore les comtés d'*Oldenbourg* & de *Delmenhorst*, avec une

grande partie du duché de *Holflein*, en Allemagne; *Christiansbourg*, en Afrique, sur la côte de Guinée; *Tranquebar*, en Asie, sur la côte de Coromandel; les îles de *Saint-Thomas* & de *Sainte-Croix*, parmi les Antilles, en Amérique, & le Groenland, à l'ouest de l'Islande.

I X. L E Ç O N.

La Suède & la Laponie.

D. COMMENT divisez-vous la Suède?

R. Relativement au golfe de Bothnie, qui se trouve au milieu de la Suède, on peut diviser ce royaume en trois parties principales : savoir, en occidentale, du côté de la Norvège; orientale, du côté de la Russie, & septentrionale, qui comprend la Laponie Suédoise.

D. Nommez les villes principales de la partie occidentale?

R. Ce sont STOCKHOLM, capitale du royaume, située à l'embouchure du lac Mèler; UPSAL, la plus ancienne ville du nord. Son archevêque a la qualité de primat, & le droit de couronner les rois. L'université d'Upsal est très-célèbre. GOTHEBOURG, port, au sud-ouest de Stockholm, & vis à vis la pointe du Jutland, est une ville qui s'agrandit de jour en jour. Son port est le meilleur du royaume. CALMAR, au sud-est de Gothebourg, est une ville célèbre, où

s'embarquent tous les couriers qui vont en Allemagne.

D. Quelles sont les autres villes considérables de la Suède ?

R. ABO, sur la Mer Baltique, est la capitale du duché de *Finlande*, qui occupe la partie orientale de la Suède. TORNO, à l'extrémité du golfe de *Bothnie*, est la seule ville remarquable de la Suède septentrionale. Il s'y fait un grand commerce de pelletteries, qu'on y apporte de la *Laponie* & des contrées voisines.

D. N'y a-t-il pas quelques îles qui dépendent de la Suède ?

R. Il y en a trois principales, qui sont, *Aland*, *Gothland* & *Oeland*. L'île de *Gothland* a une ville très-commerçante, nommée *VIÏBY*.

D. Dites quelque chose du gouvernement de la Suède ?

R. Le royaume, qui étoit autrefois électif, est aujourd'hui héréditaire, même aux filles. Mais le gouvernement n'est pas absolument monarchique. Il y a des états généraux, composés de quatre ordres, le Clergé, la Noblesse, le Tiers-État, & les Payfans : car en ce pays, les Payfans font un ordre à part.

D. Quelle est la religion ?

R. La religion catholique a subsisté en Suède, depuis le neuvième siècle, jusqu'en 1527, que le luthéranisme s'y introduisit, en même-tems qu'en *Danemark*

& en Norvége. Aucune autre religion n'y est permise aujourd'hui.

D. Qu'est-ce que la Laponie?

R. On appelle Laponie, la partie la plus septentrionale de l'Europe, comprise entre l'Océan, la Mer Glaciale & la Mer Blanche. On la divise en trois parties; Laponie Norvégienne ou Danoïse, Laponie Suédoïse, & Laponie Ruslienne.

D. Dites quelque chose des habitans de ce pays?

R. Les Lapons sont fort petits de taille; mais gros & trapus, avec un visage affreux; d'ailleurs grossiers, sauvages & méchans. Leur religion est celle des puissances auxquelles ils sont soumis: mais il y en a encore d'idolâtres. Leur occupation est la chasse & la pêche. Leurs maisons, de petites cabanes de bois, qu'ils transportent de côté & d'autre; leur nourriture ordinaire, du poisson sec, dont ils font une espece de pâte; enfin leurs vêtemens, des peaux d'animaux, dont ils se couvrent entierement.

X. L E Ç O N.

La Russie d'Europe.

D. QUELLE est l'étendue de l'Empire de Russie?

R. La Russie, connue long-tems sous le nom de *Moscovie*, est un grand empire, qui occupe une partie très-considérable de

l'Europe, & toute la partie septentrionale de l'Asie; mais il n'est pas peuplé à proportion de son étendue.

D. En combien de Provinces se partage la Russie d'Europe?

R. En douze gouvernemens, qui prennent tous le nom de leur capitale. Il y en a six au nord du Volga, & six au midi de cette grande riviere.

D. Quels sont ceux de la partie septentrionale?

R. Ce sont d'abord les gouvernemens de PETERSBOURG, de WIBOURG, de REVEL & de RIGA, tous quatre situés sur la Mer Baltique & le golfe de Finlande, & composés des provinces de Finlande & de Livonie, que la Suède a cédées à la Russie. A l'orient de ces gouvernemens est celui de NOVOGOROD. Celui d'ARCHANGEL comprend la partie la plus septentrionale de la Russie d'Europe. Archangel est une ville considérable, située sur la Mer Blanche, à l'embouchure de la Dwina.

D. Nommez les six gouvernemens de la partie méridionale?

R. Celui de MOSKOU, situé au milieu de la Russie, est un des plus peuplés & des plus fertiles. Celui de NISNEI-NOVOGOROD est sur les frontieres de l'Asie, entre le Volga & la Sura. Sur les frontieres de Pologne, on trouve celui de SMOLENSKO. Ceux de KIOWE, de BIELGOROD & de WORONEZ, joints à la partie méridionale de la

Pologne, forment ce qu'on appelle l'*Ukraine*, c'est-à-dire, la *Frontiere* : pays habité en grande partie par un peuple d'origine tartare nommé les *Cosaques*. Ces pays sont très-fertiles : mais ils sont ordinairement le théâtre des guerres qui s'élevent entre la Russie, la Turquie & la Pologne.

D. *Que remarque-t-on encore en Russie ?*

R. Il y a de grands lacs & de grandes rivières. Les lacs Ladoga, Onéga, &c. Les rivières de Dwina, Volga, Dnieper & Don.


D. *Quel en est le gouvernement ?*

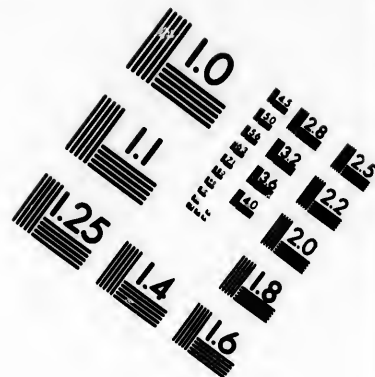
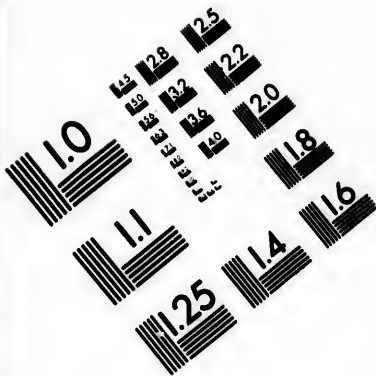
R. La monarchie, autrefois héréditaire, y est devenue élective. La princesse qui gouverne aujourd'hui la Russie, n'y avoit point droit par sa naissance : la Couronne lui a été donnée à la place de son mari, dont on étoit mécontent. On appelloit ci-devant Czar & Czarine, l'empereur & l'impératrice de Russie, dont le gouvernement est despotique, & exposé à des révolutions.

D. *Quelle est la religion en Russie ?*




R. La religion dominante est la Grecque Schismatique, sous la direction de plusieurs archevêques & évêques, avec un grand nombre de monasteres. Il y avoit autrefois un patriarche ; mais depuis environ cinquante ans, c'est un synode perpétuel qui gouverne l'Église de Russie. On trouve dans ce pays des idolâtres & des mahométans : on y tolere, pour les étrangers, la religion catholique & les protestantes.







**IMAGE EVALUATION
TEST TARGET (MT-3)**



**Photographic
Sciences
Corporation**

23 WEST MAIN STREET
WEBSTER, N.Y. 14580
(716) 872-4503

18
20
22
25
28
32
36
40

01
10

X I. L E Ç O N.

La France.

D. QUEL nom a porté autrefois la France, & d'où lui vient son nom actuel?

R. Ce pays s'appelloit anciennement la *Gaule*, du nom des Gaulois, ses premiers habitans. Il prit le nom de *France*, après que les Francs ou François y eurent établi solidement leur empire : ce qui arriva au cinquième siècle.

D. Le royaume de France n'est-il pas le plus ancien des royaumes de l'Europe?

R. Oui. On place son commencement vers l'an 420, & l'on compte soixante-six rois, depuis Faramond, qu'on regarde comme le premier, jusqu'à Louis XV, actuellement régnant.


D. Quelle est la forme du gouvernement?

R. Le gouvernement est monarchique. Le roi porte le titre de *Très-Christien* & de *Fils aîné de l'Église* : son successeur présomptif a le titre de *Dauphin*. La couronne est héréditaire, mais aux mâles seulement : les filles en sont exclues, par un usage aussi ancien que la monarchie.

D. La France est-elle un pays fertile?

R. On peut dire que la France est, par rapport à l'Europe, ce que l'Europe est par rapport aux autres parties de la terre, c'est-à-dire, le pays le plus riche, le plus

Frant
ent la
emiers
après
établi
va au
pas le
ement
nte-six
garde
, ac-
ment ?
nique.
& de
pré-
ronne
ment :
e aulli
par
e est
artes
plus







CARTE
DE FRANCE
 dressée sur les observations
 de M. de l'Académie
 Royale des sciences.
 Par Guil^d de l'Isle
 de la même Académie.
 1741.

ALLEMAGNE

SUISSES

ITALIE

PROVENCE

DAUPHINE

SAVOYE

LOIRAINNE

CHAMPAGNE

BAS PAYS

Golfe de Lyon

Golfe de Genes

MER MEDITERRANEE

Elbe

Carle

52

50

49

48

47

46

45

44

43

21

22

23

24

25

26

27

28

29

30

21

22

23

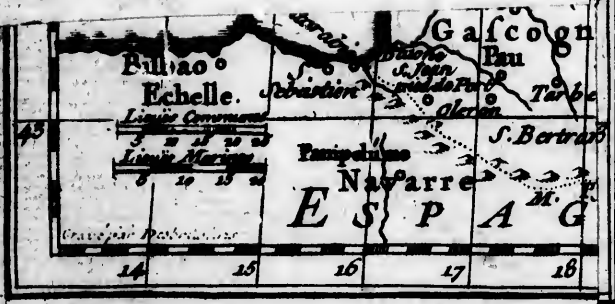
24

25

26

27

28



ag
L
pr
ce
co

ma
ou
te
ou
de

m

hu
tre
ne
m
pe
qu

ve

hu
ca
C

ti

ra
T

agréable & le plus célèbre en tout genre. L'air y est pur & très-sain: le terroir fertile, produit abondamment tout ce qui est nécessaire à la vie. Les sciences, les arts & le commerce y sont très-florissans.

D. Comment se divise la France?

R. La France peut se diviser de plusieurs manieres, soit par gouvernemens militaires ou provinces; soit par généralités ou intendances; soit par provinces ecclésiastiques ou archevêchés; soit enfin par juridictions des parlemens.

D. Divisez la France par gouvernemens militaires ou provinces?

R. On compte actuellement trente-huit gouvernemens militaires. Il y en a trente-deux, qu'on appelle grands gouvernemens, qui forment ce qu'on appelle communément *les provinces de France*, & six petits, qui, pour la plupart, ne renferment qu'une ville.

D. Marquez les trente-deux grands gouvernemens?

R. La partie septentrionale en renferme huit. L'île de France; la Normandie; la Picardie; l'Artois; la Flandre Française; la Champagne; la Lorraine, & l'Alsace.

D. Quels sont les gouvernemens de la partie du milieu?

R. Il y en a onze. Ce sont ceux de Bretagne: d'Anjou: du Maine & Perche: de Touraine: de Poitou: de Berri: d'Orléans:

nois : de Nivernois : de Bourbonnois : de Bourgogne ; de Franche-Comté.

D. Quels sont les gouvernemens de la partie méridionale ?

R. Il y en a treize. Ce sont le pays d'Aunis : la Saintonge avec l'Angoumois : la Marche : le Limosin : l'Auvergne : le Lyonnais : puis revenant à l'occident : la Guyenne & Gascogne : Navarre & Béarn : Foix & Donesan : Roussillon : Languedoc : Dauphiné : Provence.

D. Nommez les six petits gouvernemens.

R. Ce sont ceux de *Paris*, dans l'Île de France ; du *Havre de Grace*, en Normandie ; du *Boulonois*, en Picardie ; de *Metz & Verdun*, & de *Toul*, en Lorraine ; enfin de *Saumur*, sur les confins de l'Anjou & du Poitou.

D. Quelles sont les villes capitales de ces provinces ou gouvernemens ?

R. **PARIS**, capitale du royaume, sur la Seine, à cause de son importance, a été mise au rang des gouvernemens de provinces. En considérant à part l'Île de France, où Paris se trouve, cette province a pour capitale **SOISSONS** ; la Normandie, **ROUEN**, sur la Seine, à l'embouchure de laquelle est le **HAVRE DE GRACE**. Dans la Picardie, c'est **AMIENS** ; dans le Boulonois, **BOULOGNE**.

D. Continuez de nommer les capitales des provinces du nord ?

R. **ARRAS** est la capitale de l'Artois ;

LILLE, de la Flandre; TROYES, de la Champagne, quoique Reims & Châlons lui disputent ce rang: METZ, VERDUN & TOUL, qu'on appelle les *trois Evêchés*, sont enclavés dans la Lorraine, dont NANJI est la capitale; enfin STRASBOURG est la capitale de l'Alsace.

D. Nommez les capitales des provinces du milieu de la France?

R. La Bretagne a pour capitale RENNES; l'Anjou, ANGERS; le Saumurois, SAUMUR; le Maine, le MANS; la Touraine, TOURS; le Poitou, POITIERS; le Berry, BOURGES; l'Orléanois, ORLÉANS; le Nivernois, NEVERS; le Bourbonnois, MOULINS; la Bourgogne, DIJON; la Franche-Comté, BESANÇON.

D. Quelles sont les capitales des provinces au midi de la France?

R. Le pays d'Aunis a LA ROCHELLE; la Saintonge, SAINTES; la Marche, GUERET; le Limosin, LIMOGES; l'Auvergne, CLERMONT; le Lyonnais, LYON; la Guyenne, BOURDEAUX; la Navarre & le Béarn, PAU. Dans le pays de Foix, est la petite ville de FOIX; PERPIGNAN, dans le Roussillon; TOULOUSE, dans le Languedoc; GRENOBLE, dans le Dauphiné; AIX, en Provence.

XII. L E Ç O N.

La France divisée par généralités, provinces ecclésiastiques & parlemens.

D. DIVISEZ la France par généralités ?

R. Il y a trente-deux généralités & intendances, où le roi envoie des maîtres des requêtes, pour y maintenir l'ordre & la police, & y avoir soin de ses intérêts. On en trouve douze dans la partie septentrionale, huit dans la partie du milieu, & douze dans la partie méridionale. La plupart portent le nom de la ville où réside l'intendant.

D. Marquez les douze généralités de la partie septentrionale ?

R. Ce sont celles, 1. de Paris, qui est fort étendue, puisqu'outre la partie méridionale de l'île de France, elle a une partie de la Champagne, & va jusque dans le Nivernois : 2. de Soissons : 3. celles de Rouen : 4. de Caën & 5. d'Alençon, toutes trois en Normandie.

D. Quelles sont les autres généralités au nord ?

R. Ce sont, 6. Amiens : 7. Lille : 8. Maubeuge, en Hainaut : 9. Châlons, en Champagne : 10. Metz, pour les trois Evêchés : 11. Nanci, en Lorraine : 12. Strasbourg, en Alsace.

D. Quelles sont les huit généralités de la partie du milieu de la France ?

R. Ce sont celles, 1. de Nantes ou de Bretagne: 2. de Tours: 3. de Poitiers: 4. de Bourges: 5. d'Orléans: 6. de Moulins en Bourbonnois: 7. de Bourgogne: & 8. de Franche Comté.

D. *Quelles sont les douze généralités de la partie méridionale?*

R. Ce sont celles 1. de la Rochelle: 2. de Limoges: 3. de Riom, en Auvergne: 4. de Lyon: 5. de Bordeaux: 6. de Montauban, au midi du Quercy: 7. de Pau & Auch: 8. de Perpignan, pour le Roussillon & le pays de Foix: 9. de Toulouse & 10. de Montpellier, aussi en Languedoc, sous un seul intendant: 11. de Grenoble, ou de Dauphiné; & enfin 12. la généralité d'Aix ou de Provence.

D. *Combien y a-t-il en France de provinces ecclésiastiques?*

R. On trouve en France 18 provinces ecclésiastiques, c'est-à-dire, 18 archevêchés ou métropoles, qui ont sous elles 104 évêchés, outre quatre autres évêchés, dont les métropolitains ne sont pas aujourd'hui en France: ce qui forme en tout 126 diocèses; sans y comprendre ceux d'Avignon, de Vaison, Cavaillon & Carpentras, enclavés dans la Provence, mais qui sont du comtat & de la dépendance du pape.

D. *Quelles sont ces dix-huit provinces ecclésiastiques?*

R. Ce sont en commençant par le nord, celles de 1. Cambrai: 2. Reims, dont la

province ecclésiastique s'étend aussi en Picardie & dans une partie de l'Île de France : 3. Rouen : 4. Paris : 5. Sens, en Champagne.

D. N'y a-t-il pas quelques évêchés dépendans de métropoles étrangères, que l'on joint à la partie septentrionale?

R. Il y en a quatre, & ce sont d'abord les trois Évêchés de Lorraine, Metz, Toul & Verdun, qui sont sous l'archevêché de Trèves; & ensuite l'évêché de Strasbourg, qui dépend de l'archevêché de Mayence, lequel est en Allemagne, comme celui de Trèves.

D. Nommez les provinces ecclésiastiques du milieu du royaume?

R. Il y en a quatre, savoir : 1. Tours : 2. Bourges : 3. Lyon : 4. Besançon.

D. Marquez celles du midi?

R. On en compte neuf : 1. Bordeaux : 2. Auch : 3. Toulouse : 4. Albi & 5. Narbonne, qui sont tous trois en Languedoc : 6. Vienne & Embrun, en Dauphiné : 8. Arles, & 9. Aix, en Provence.

D. Quelle est la religion reçue en France?

R. La seule religion reçue en France, est la Catholique Romaine, qu'on y annonça communément dans le troisième siècle de l'Eglise. La Prétendue Réformée ou Calviniste, qui s'y étoit établie à main armée dans le seizième siècle, y a été heureusement proscrite dans le dix-septième, en 1685. Il se trouve encore quelques Juifs tolérés à

Metz , en Alsace , & aussi à Avignon , comme terre du pape , ainsi qu'ils le sont à Rome.

D. Combien compte-t-on en France de parlemens , pour administrer la justice ?

R. Il y en a douze , & deux conseils supérieurs , où l'on rend également la justice en dernier ressort. Ces parlemens sont , 1. celui de Paris , qui est le plus ancien , la cour des Pairs , & le plus étendu , puisqu'il contient lui seul presque le tiers du royaume , depuis l'Artois , la Picardie , la Champagne , jusqu'à Lyon , l'Auvergne , la Marche , l'Angoumois & l'Aunis , qui en dépendent. Les autres Parlemens sont bornés à leur province , à l'exception de celui de Toulouse.

D. Nommez-les ?

R. Au nord , 2. Rouen , pour la Normandie : 3. Douai , pour la Flandre & le Hainaut ; l'Artois n'ayant qu'un conseil provincial , qui ressortit pour les affaires civiles au parlement de Paris : 4. Metz , pour les trois Évêchés. Au milieu , 5. Rennes , pour la Bretagne : 6. Dijon , pour la Bourgogne : 7. Besançon , pour la Franche-Comté.

D. Quels sont les parlemens du midi de la France.

R. Ce sont ceux , 8. de Bordeaux : 9. de Pau : 10. de Toulouse , qui a dans son ressort , non-seulement le Languedoc , mais encore le Rouergue , le Querci , la Gasco-

gne orientale, & Foix : 11. Grenoble, pour le Dauphiné : & enfin 12. Aix pour la Provence.

D. Marquez les deux conseils supérieurs qui tiennent lieu de parlemens pour leurs provinces.

R. Ce sont Perpignan, pour le Roussillon; & Colmar, pour l'Alsace.

XIII. L E Ç O N.

Rivieres & montagnes de France.

D. NOMMEZ les principales rivieres de France ?

R. Les plus grandes rivieres sont, au nord, la Somme, qui arrose toute la Picardie, & va se perdre dans la mer : la Seine, qui prend sa source en Bourgogne, traverse la Champagne, l'île de France, la Normandie, & se rend dans cette partie de la mer appellée la Manche, qui sépare la France de l'Angleterre.

D. Quelles sont les principales rivieres que reçoit la Seine ?

R. L'Yonne, qui vient du Nivernois, & passe à Auxerre & à Sens ; la Marne, qui traverse la Champagne, passant par Châlons; & l'Oise, qui vient de Picardie.

D. Continuez de nommer les autres grandes rivieres ?

R. La Loire est la plus grande riviere de France : elle prend sa source en Vivarais, dans

dans le Languedoc, & va se rendre dans la mer à l'entrée de la Bretagne. Elle reçoit d'un côté l'Allier, le Cher, l'Indre, la Vienne; & d'un autre côté, le Loir, joint à la Sarthe & à la Mayenne.

D. *En suivant les côtes, quelles autres rivières considérables trouve-t-on?*

R. La Garonne, qui s'appelle à son embouchure Gironde: elle vient des monts Pyrénées, sur la frontière d'Espagne, & elle reçoit l'Aveirou & le Tarn, joints ensemble, le Lot, & enfin la Dordogne.

D. *Toutes ces rivières se jettent dans l'Océan; n'y en a-t-il pas quelque grande qui tombe dans la Mer Méditerranée?*

R. C'est le Rhône, qui venant du Valais en Suisse, traverse le lac de Genève, passe à Lyon, sépare le Languedoc d'avec le Dauphiné & la Provence, & tombe rapidement dans la Mer Méditerranée.

D. *Quelles sont les principales rivières qu'il reçoit?*

R. Le Rhône reçoit à Lyon la Saône, & ensuite l'Isère & la Durance.

D. *N'y a-t-il pas encore quelques autres rivières qui méritent d'être remarquées?*

R. Il y en a trois au nord-est, qui n'arrosent qu'une partie de la France: ce sont le Rhin, qui sépare l'Alsace de l'Allemagne, & qui a ses sources en Suisse, de l'autre côté des hautes montagnes des Alpes d'où sort le Rhône; la Moselle, sur laquelle sont Toul & Metz; enfin la Meuse, sur la-

D.

quelle est Verdun, & qui arrose un coin de la Champagne.

D. N'y a-t-il pas aussi en France des rivières artificielles ou canaux ?

R. Il y en a trois : au milieu ceux d'Orléans & de Briare, qui joignent la Loire à la Seine, par le moyen de la rivière de Loing. Mais le plus considérable de ces canaux, est celui de Languedoc, qui fait la communication des deux mers : il commence auprès de Toulouse, & va jusqu'à Agde & au port de Cette.

D. Quelles sont les montagnes de France les plus considérables ?

R. Ce sont au midi les Pyrénées, qui séparent la France de l'Espagne : au sud-est, les Alpes, dont une partie est entre l'Italie & la France. On trouve en Languedoc, la montagne Noire & les Cévennes, qui sont une branche des Pyrénées, & qui en poussent elles-mêmes une en Auvergne, & une autre vers la Bourgogne : cette dernière se joint aux monts Voïges.

D. Où sont les monts Vosges, & ces montagnes ont-elles quelque suite ?

R. Les monts Vosges sont entre la Lorraine, la Franche-Comté & l'Alsace : elles se joignent du côté de l'orient aux monts Joux ou Jura, qui séparent la Franche-Comté de la Suisse ; & du côté de l'occident, il y a une suite de hauteurs jusqu'au Pas de Calais : ce qui est prouvé par les sources des rivières, qui coulent les unes d'un côté, les autres de l'autre.

D. Qu'y a-t-il à observer par rapport à la grande chaîne de montagnes depuis les Pyrénées jusqu'à la Franche-Comté & la Suisse?

R. C'est qu'avec les Alpes elle forme une espèce de bassin, & les eaux de toutes les rivières qui arrosent les terrains qu'il comprend, en sortent par-dedans pour se rendre dans la Mer Méditerranée; au lieu que les rivières qui ont leurs sources de l'autre côté à l'occident de cette chaîne, vont se perdre dans l'Océan. Cela fait une division naturelle de la France par Chaînes de montagnes & par Terres de fleuves & de rivières, entre lesquels il y a des branches ou suites de montagnes moindres, qui partent de la grande chaîne.

XIV. LEÇON.

*Gouvernemens de Paris, de l'Île de France,
de Normandie & du Havre.*

D. ENTREZ dans le détail des Gouvernemens, & nommez les villes les plus remarquables que l'on y trouve?

R. Dans le Gouvernement de PARIS, il n'y a que cette ville; mais c'est l'une des plus peuplées du monde, & où l'on compte un million d'habitans. C'est aussi la plus magnifique par ses hôtels, ses palais & ses ponts. Sa situation est très-heureuse, à cause d'une grande rivière (la Seine) qui

l'arrose, & qui y porte l'abondance de toutes choses. Elle est aussi la plus agréable pour le caractère liant, bienfaisant & agréable de ses habitans.

D. Dites-en encore quelque chose ?

R. Paris est décorée d'un archevêché, d'un parlement, qui est le premier & le plus ancien du royaume, d'une chambre des comptes & de toutes les autres juridictions nécessaires, avec une université, la plus célèbre du monde, & qui est proprement la mère de toutes celles que l'on a établies dans les autres états.

D. Quelles sont les principales villes de l'Île de France ?

R. Ce gouvernement, où Paris est enclavé, est divisé par la Seine & la Marne en deux grandes parties. La partie septentrionale a SOISSONS, évêché & généralité; LAON, NOYON & BEAUVAIS, qui sont aussi des évêchés: l'évêque de Laon est l'un des anciens ducs & pairs ecclésiastiques, & ceux de Noyon & de Beauvais, sont comtes & pairs.

D. Continuez de nommer les autres villes ?

R. COMPIEGNE, qui a une ancienne maison royale, où le roi va dans la belle saison; CRESPI EN VALOIS; SENLIS, évêché; PONTOISE & MEULAN; SAINT-DENIS, où est une ancienne abbaye, qui, depuis plusieurs siècles, sert de sépulture aux rois de France,

D. Que remarquez-vous dans la partie méridionale de l'Ile de France ?

R. On y remarque sur-tout VET SAILLES, lieu de la résidence de nos rois, & qui a été bâti par Louis XIV, avec une magnificence qui surpasse tout ce qui se trouve en Europe de maisons royales. On y trouve ensuite SAINT-GERMAIN, POISSI, MANTE, DREUX, MONTFORT, DOURDAN, CORBEIL, sur la Seine.

D. Est-ce tout ce que vous avez à dire du gouvernement de l'Ile de France ?

R. Il y a encore dans le Gâtinois François, NEMOURS, & FONTAINEBLEAU, où le roi va en automne pour le plaisir de la chasse; & dans la Brie Françoisse, MELUN, MONTEREAU, BRIE-COMTE-ROBERT, RO-SOI & LAGNI.

D. Comment divise-t-on la Normandie ?

R. On la divise en haute & basse : la première à l'orient, & la seconde à l'occident.

D. Que remarquez-vous dans la haute ?

R. ROUEN, capitale de toute la province, grande ville, très marchande, avec archevêché, parlement & généralité; EU, comté-pairie; DIEPPE, port de mer; ARQUES, célèbre par la victoire d'Henri IV. Au midi de la Seine, on trouve PONT-AU-DEMER, PONT-DE-L'ARCHE; ÉVREUX, évêché, aussi-bien que LISIEUX.

D. Nommez les principales villes de la basse Normandie ?

R. CAEN en est la capitale, & est le siège d'une généralité : BAYEUX, évêché; COUTANCES, évêché, aussi bien qu'AVRANCHES. On y trouve ensuite VIRE, FALAISE, ARGENTAN; SEEZ, évêché; & ALENÇON, où est une généralité, qui occupe le milieu de la Normandie.

D. *Les îles qui sont près des côtes, telles que Gersei & Grenesei, appartiennent-elles à la France ?*

R. Non : elles appartiennent aux rois d'Angleterre, qui possédoient autrefois le duché de Normandie, l'une des douze anciennes grandes pairies de France; & qui en cette qualité en étoient vassaux.

D. *Qu'est-ce que le Havre de Grace ?*

R. C'est une ville de Normandie, forte & importante, à l'embouchure de la Seine : elle a été bâtie contre les Anglois il y a 250 ans, par les rois Louis XII & François I. On en a fait un gouvernement général, auquel on a joint une partie du pays de Caux, où sont MONTIVILLIERS & FÉCAMP.

XV. L E Ç O N.

Gouvernemens de Picardie, de Boulonois, d'Artois & de Flandre.

D. *QUE contient la Picardie ?*

R. Ce gouvernement a pour capitale AMIENS, ville commerçante, évêché & généralité. A l'orient, sont PÉRONNE, ville

forte, MONTDIDIER, SAINT-QUENTIN, GUISE & LA FERÉ. A l'occident, vers la mer, on trouve ABBEVILLE, qui est marchande, & où il y a des manufactures de laine, DOURLENS, SAINT-VALÉRY & MONTREUIL.

D. N'y a-t-il pas quelque chose de particulier à remarquer sur la Picardie ?

R. Il y a deux choses par rapport à l'administration des finances; c'est que la généralité d'Amiens s'étend dans le Boulonois; mais elle n'a point la Picardie orientale, où se trouve Guise, la Féré & le reste de la Thiérache, jusqu'à la Champagne: ceci dépend de la généralité de Soissons.

D. Qu'est-ce que le Boulonois ?

R. C'est un ancien comté, qui dépendoit en-devant du gouvernement de Picardie: sa capitale est BOULOGNE, évêché, avec un petit port. Au nord se trouve le pays qu'on appelle le *Pays reconquis*, parce qu'il a été repris sur les Anglois, qui l'ont possédé plus de 200 ans: on y voit CALAIS, grand passage de France en Angleterre, GUINES & ARDRES.

D. Que contient le gouvernement d'Artois ?

R. Le comté d'Artois a été jusqu'au commencement de 1765, uni au gouvernement de Picardie: c'est un ancien démembrement du comté de Flandre, que l'on a conservé sur le pied de pays d'états.

D. Qu'entend-on par pays d'états ?

R. C'est un pays où les impositions, qui sont réelles, & non arbitraires, se font par ordre des députés de la province, sous le bon plaisir du roi.

D. *Que contient l'Artois ?*

R. Il a une gouvernance & plusieurs bailliages, qui prennent le nom de leurs villes.

D. *Nommez-en les principales ?*

R. ARRAS, capitale, évêché, a ce qu'on y appelle une gouvernance : les principaux bailliages sont à SAINT-OMER, évêché ; à AIRE, BÉTHUNE, BAPAUME, HÉDIN, LENS, SAINT-POL, LILLERS. A l'exception de ces trois dernières petites villes, les autres sont distinguées par leurs fortifications, sur tout Arras.

D. *Que comprend le gouvernement de Flandre, ou des Pays-Bas François ?*

R. Il comprend la partie méridionale de l'ancien comté de Flandre, qui étoit une des grandes pairies du royaume ; le Cambresis, & une partie du Hainaut.

D. *Quelles sont les villes de la Flandre Françoisé ?*

R. LILLE, capitale, belle ville, très-forte, & siège d'une Généralité ; à l'occident, CASSEL, BERGUE, surnommé de *Saint-Vinoc*, GRAVELINES & DUNKERQUE, port fameux. Vers l'orient, on trouve SAINT-AMAND & DOUAI.

D. *Continuez de nommer les autres villes principales de Flandre.*

R. Dans le Cambresis est CAMBRAI, ville forte, avec un archevêché ; & dans le Hainaut François, VALENCIENNES, célèbre par ses belles dentelles, MAUBEUGE, où est un chapitre de chanoinesses nobles, & le siège d'une généralité. PHILIPPEVILLE & CHARLEMONT, sont plus à l'orient, au milieu de grandes forêts qu'on appelle les Ardennes.

XVI. L E Ç O N.

*Gouvernemens de Champagne, de Lorraine
& d'Alsace.*

D. EXPLIQUEZ ce qui concerne le gouvernement de Champagne ?

R. La Champagne, renommée par ses vins délicats, a eu autrefois des comtes célèbres, qui étoient du nombre des douze grands pairs de France. Elle se divise en trois parties : septentrionale, méridionale, & Brie Champenoise.

D. Quelles sont les principales villes de la Champagne septentrionale ?

R. REIMS, où se fait ordinairement la cérémonie du sacre des rois, est une ville marchande, dont l'archevêque est le premier duc & pair ecclésiastique : RÉTEL, qui se nomme aussi *Maxarin*, CHARLEVILLE ; & vers le midi, CHALONS, évêché, & le siège d'une généralité : son évêque est l'un des anciens pairs ecclésiastiques, avec la qualité de comte.

D. Nommez les villes de la partie méridionale ?

R. Ce sont à l'orient, **VITRI LE FRANÇOIS**, **JOINVILLE**, & **LANGRES**, dont l'évêque est duc & pair ecclésiastique; à l'occident, sont **TROYES**, évêché; **SENS**, archevêché; **SAINT-FLORENTIN** & **TONNERRE**. Les territoires des trois dernières villes sont de la généralité de Paris.

D. Quelles sont les principales villes de la Brie Champenoise ?

R. Ce sont **MEAUX**, évêché, **CHATEAU-THIERRI**, **PROVINS**, **COLOMIERS** & **SEZANNE**. Ces deux dernières sont de la généralité de Paris, aussi-bien que Meaux : Château-Thierry est de celle de Soissons.

D. Décrivez le gouvernement de Lorraine ?

R. Les états du duché de Lorraine, cédés en 1737 au roi de Pologne Stanislas I, pour être ensuite incorporés à la France, étoient séparés de cette couronne depuis la fin du neuvième siècle : ils ont eu depuis le dixième, des ducs qui ont figuré dans l'histoire. Ils comprenoient le duché de *Lorraine*, qui étoit une souveraineté indépendante, & le duché de *Bar*, qui étoit un fief mouvant de la couronne de France, & du ressort du parlement de Paris.

D. Quelles sont les principales villes de la Lorraine ?

R. Ce sont **NANCI**, qui en est la capitale, ville assez grande & assez belle; **LUNEVIL-**

NE , quatre lieues à l'est de Nanci , étoit le lieu de la résidence du souverain ; REMIREMONT , où est un célèbre chapitre de chanoinesses nobles. On appelloit *Pays annexés* , le comté de Vaudemont , & la seigneurie de Commerci.

D. Quelles sont les principales villes du duché de Bar ?

R. Ce sont , BAR-LE-DUC , qui étoit l'appanage des fils aînés des ducs de Lorraine ; SAINT-MIHEL , qui a une riche abbaye de Bénédictins ; PONT-A-MOUSSON , avec une université ; & CLERMONT en Argonne , qui appartient au prince de Condé.

D. Vous n'avez point nommé les trois évêchés de Metz , Toul & Verdun ?

R. Ces évêchés formoient autrefois chacun un gouvernement particulier ; aujourd'hui , ils n'en forment que deux : ce sont ceux de Toul , qui a peu d'étendue , & de Metz.

D. Nommez les villes du gouvernement de Metz ?

R. Ce sont METZ , ville très-forte , avec évêché , parlement & généralité ; THIONVILLE & SAAR-LOUIS , fortifiées ; MARSAL , vers le midi , dans un canton où il y a beaucoup de Salines ; au nord est SEDAN , qui étoit autrefois de Champagne ; enfin VERDUN , évêché.

D. Que comprend le gouvernement d'Alsace ?

R. Il comprend la basse Alsace , la haute

& le Sundgaw , en remontant le Rhin , qui cotoye cette province & la sépare de l'Allemagne , dont elle faisoit autrefois partie. C'est une acquisition de Louis XIV , qui acheva de s'en rendre maître en 1681.

D. Quelles sont les principales villes de la basse Alsace ?

R. Ce sont STRASBOURG , capitale de la province , belle & très-forte ville , avec évêché & généralité ; SAVERNE , où est un beau château appartenant à l'évêque de Strasbourg ; HAGUENAU , siège du grand bailli d'Alsace ; FORT-LOUIS , place forte dans une île du Rhin ; LANDAU , ville fortifiée.

D. Nommez celles de la haute Alsace ?

R. SCHLESTAT ; COLMAR , qui a un conseil supérieur , ou une espece de parlement ; NEU-BRISACH & ENISISHEIM.

D. Quelles sont enfin les villes principales du Sundgaw ?

R. Ce sont BÉFORT , FERETTE & HUNINGUE , ville forte.

XVII. L E Ç O N.

Gouvernemens de Bretagne , d'Anjou , de Saumur , du Maine , de Poitou & de Berri.

D. EXPLIQUEZ le gouvernement de Bretagne ?

R. La Bretagne est la province la plus occidentale , & l'une des plus riches du royaume

me. Elle a eu des ducs célèbres dans l'histoire, & est encore un pays d'états. Elle se divise en haute & basse, qui contiennent neuf évêchés.

D. Nommez les évêchés de la haute Bretagne, qui est à l'orient ?

R. Il y en a cinq; & ce sont ceux de RENNES, belle ville, capitale de la province, avec parlement; DOL; SAINT-MALO, ville très-marchande, avec port de mer; SAINT-BRIEU; & au midi, NANTES sur la Loire, ville très-riche, où est une généralité, & la chambre des comptes de la province.

D. Quels sont les quatre évêchés de la basse Bretagne, à l'occident ?

R. Ce sont VANNES, QUIMPER, SAINT-PAUL DE LÉON & TRÉGUIER.

D. Que remarquez-vous encore de considérable dans cette Province ?

R. La Bretagne doit ses richesses à l'avantage de sa situation sur la mer, qui lui procure un grand commerce. BREST, qui est à son extrémité occidentale, & dans le diocèse de Saint-Paul de Léon, est un des meilleurs ports, aussi-bien que PORT-LOUIS, au diocèse de Vannes. Près de ce dernier est celui de l'ORIENT, qui sert de retraite aux vaisseaux de la compagnie des Indes; & au midi l'île nommée *Bellisle*, qui est très-fortifiée.

D. Qu'est-ce que l'Anjou ?

R. C'est un ancien duché, dont quel-

ques princes ont été rois de Naples, en Italie.

D. Nommez-en les villes principales ?

R. ANGERS, capitale & évêché, au confluent de la Mayenne, de la Sarthe & du Loir; CHATEAU-GONTIER, LA FLECHE; BAUGÉ; & au midi de la Loire, MONTREUIL-BELLAI.

D. Qu'y a-t-il à remarquer sur le petit gouvernement de Saumur ?

R. Il a été tiré de l'Anjou, de la Touraine & du Poitou. On y trouve SAUMUR, passage important sur la Loire; FONTEVRAULD, fameuse abbaye, chef d'ordre, & où l'on élève les filles de France; RICHELIEU, jolie ville, bâtie par le cardinal de ce nom: elle a le titre de duché-pairie.

D. Que comprend le gouvernement du Maine ?

R. Il comprend le Maine, ancien duché, & le Perche, comté.

D. Quelles sont les villes du Maine ?

R. Ce sont LE MANS, évêché sur la Sarthe; MAYENNE & LAVAL, duchés, & CHATEAU DU LOIR.

D. Que remarquez-vous dans le Perche ?

R. MORTAGNE, près de laquelle est l'abbaye de la Trappe, fameuse par son austérité.

D. Quelles sont les principales villes du gouvernement de Touraine ?

R. TOURS, ville commerçante, sur la Loire, avec archevêché; AMBOISE, CHINON & LOCHES.

D. N'avez-vous rien autre chose à observer par rapport à Tours & à la Touraine ?

R. Cette ville est le siège d'une généralité, qui comprend non-seulement la Touraine; mais encore l'Anjou, le Maine, le Saumurois & la partie du Poitou où est Loudun. Quant au Perche, sa partie occidentale est de la généralité d'Alençon en Normandie; & sa partie orientale, de la généralité d'Orléans. La Touraine est si fertile en fruits, qu'on l'appelle le Jardin de la France.

D. Passez au Poitou?

R. Le Poitou a eu autrefois des comtes très-puissans : on le divise en haut & bas. Dans le haut est POITIERS, capitale de la province, avec évêché & généralité; au nord, MAULÉON; THOUARS, duché; LOUDUN & CHATELLERAUD, célèbre par ses coutelleries; au midi NIORT, ville marchande, & CONFOLENT, entre la Marche & l'Angoumois.

D. Quelles sont les villes du bas Poitou ?

R. FONTENAI-LE-COMTE; LUÇON, évêché, & les SABLES D'OLONNE, petite ville assez marchande, avec un port.

D. Que remarquez-vous sur le gouvernement de Berri ?

R. C'est un ancien comté, qui a été ensuite érigé en duché. On le divise en haut & bas. Dans le haut sont BOURGES, capitale, évêché & généralité; HENRICHEMONT, principauté érigée en faveur du fa-

meux duc de Sulli, par Henri IV, dont il étoit ministre. Dans le bas Berri, on trouve ISSOUDUN, CHATEAUROUX, LE BLANC, & LA CHATRE.

XVIII. L E Ç O N.

Gouvernemens d'Orléanois, de Nivernois, de Bourbonnois, de Bourgogne & de Franche-Comté.

D. QU'EST-CE que l'Orléanois ?

R. Il n'est pas ici question seulement du pays aux environs d'Orléans; mais de tout ce qui est compris aujourd'hui sous le nom de gouvernement Orléanois, qui étoit il y a 250 ans beaucoup plus étendu. Ce pays fait un grand commerce de bleds, de vins & d'eaux-de-vie.

D. Que comprend-il actuellement ?

R. Huit petits pays : l'Orléanois propre; le Vendômois, le Dunois, le Chartrain, la Beauce propre, le Gâtinois Orléanois; & au midi, le Blaisois & la Sologne.

D. Nommez-en les principales villes ?

R. ORLÉANS, ville très-commerçante; sur la Loire, avec évêché, généralité & titre de duché, qui est l'apanage du second fils de France; BEAUGENCI; VENDOSME; CHATEAUDUN; CHARTRES, évêché & duché; ETAMPES dans la Beauce propre; MONTARGIS, dans le Gâtinois. Au midi sont BLOIS, évêché; & ROMORENTIN dans la Sologne.

D. Qu'est-ce que le Nivernois ?

R. C'est une province que l'on trouve au-dessus de l'Orléanois, en remontant la Loire. Ses principales villes sont NEVERS, évêché & duché; SAINT-PIERRE LE MOU-TIER, CHATEAU-CHINON, VEZELAI, CLAMECI & LA CHARITÉ. Le pays est rempli de bois & de mines de fer.

D. De quelle généralité est-il ?

R. Quoique ce gouvernement ait peu d'étendue, il est de plusieurs généralités. Le territoire de Vézelai est de la généralité de Paris; celui de Clameci & de Cosne est de celle d'Orléans; celui de la Charité est de celle de Bourges; & tout le reste est de la généralité de Moulins en Bourbonnois.

D. Que remarquez-vous sur le gouvernement de Bourbonnois ?

R. C'est de-là que vient la famille royale de Bourbon, qui descend du sixième fils de Saint Louis, & qui est montée sur le trône en la personne d'Henri IV, en 1589.

D. Quelles en sont les principales villes ?

R. MOULINS, belle ville, sur l'Allier, est la capitale du Bourbonnois, & a une généralité qui s'étend dans le Nivernois, & dans des parties de la Marche, du Limosin & de l'Auvergne. Les autres villes sont BOURBON-L'ARCHAMBAUT, ancienne capitale; SAINT-AMAND, qui est de la généralité de Bourges; MONTLUÇON & GANNAT.

D. Qu'est-ce que la Bourgogne ?

R. C'est un ancien duché, qui étoit l'une

des grandes pairies du royaume, & qui a eu des princes très-puissans : il fut réuni à la couronne en 1477, & c'est un pays d'états, qui s'assemblent tous les trois ans. On a joint à ce gouvernement, la *Bresse*, que le duc de Savoye céda en 1601, à Henri IV, pour le marquisat de Saluces.

D. Comment divise-t-on la Bourgogne?

R. Cette province, qui est l'une des plus riches du royaume, tant par son étendue que par la bonté de ses vins, se divise en septentrionale & méridionale, qui contiennent neuf pays, sans compter la Bresse & ses dépendances.

D. Quels sont les pays de la Bourgogne septentrionale?

R. Il y en a cinq; savoir, 1. le Dijonnois, où sont DIJON, capitale du duché de Bourgogne, avec évêché, parlement & généralité; NUIZ & BEAUNE : 2. le comté d'Auxone : 3. le pays de la Montagne, où sont CHATILLON & BAR-SUR-SEINE : 4. l'Auxerrois, où est AUXERRE, évêché, 5. l'Auxois, où sont SÉMUR & AVALON.

D. Nommez les quatre pays de la Bourgogne méridionale.

R. 1. L'Autunois, qui a AUTUN, évêché, & SÉMUR en Briennes : 2. le Châlonnois, où est CHALONS sur Saone, qu'il ne faut pas confondre avec Châlons sur Marne, qui est en Champagne : 3. le Charollois, qui prend son nom de la ville de CHA-

ROLL
MAC

D.

R.

savois

en I

BELL

au-d

3. le

4. le

D.

Don

R.

mais

à for

tale.

D.

d'ou

R.

cc d

cert

dom

trein

cède

D.

R.

ges.

hav

mil

I

d'A

A

I

ROLLES : enfin, 4. le Mâconnois, où est
 MAÇON, évêché.

D. Comment divise-t-on la Bresse?

R. La Bresse se divise en quatre parties :
 savoir, 1. la Bresse propre, où est BOURG
en Bresse : 2. le Bugey, où l'on trouve
 BELLEY, évêché ; une partie de ce pays,
 au-delà du Rhône, appartient à la Savoye :
 3. le Valromey, où est SEISSEL : enfin,
 4. le pays de Gex, près du lac de Genève.

*D. Que remarquez-vous sur le pays de
 Dombes qui est enclavé dans la Bresse?*

R. C'étoit ci-devant une principauté ;
 mais le roi l'a acquise en 1763, & l'a unie
 à son domaine : TRÉVOUX en est la capi-
 tale.

*D. Qu'est-ce que la Franche-Comté, &
 d'où tire-t-elle ce nom?*

R. La Franche-Comté tire son nom de
 ce qu'elle étoit franche, ou exempte de
 certains impôts, lorsqu'elle étoit sous la
 domination des Espagnols : on l'appelle au-
 trement, le *Comté de Bourgogne* : elle fut
 cédée à la France en 1678.

D. Comment divise-t-on ce gouvernement?

R. On le divise en quatre grands baillia-
 ges. Ce sont ceux d'Amont, ou du Pays
 haut, au nord ; de Dol & de Befançon, au
 milieu, & d'Aval ou du Bas pays, au midi.

*D. Quelles sont les principales villes
 d'Amont?*

R. VESOUL & GRAI.

D. Nommez celles du milieu.

92 G É O G R A P H I E

R. DOLE, où est la chambre des comptes : BESANÇON, capitale, avec archevêché, parlement & généralité.

D. Quelles sont les villes du bailliage d'Aval ?

R. Ce sont SALINS, fameuse par ses puits salans ; ARBOIS, célèbre par ses vins : SAINT-CLAUDE, où est un évêché, avec un chapitre de chanoines nobles.

XIX. L E Ç O N.

Gouvernemens d'Aunis, de Saintonge & Angoumois, de la Marche, de Limosin, d'Auvergne & de Lyonnais.

D. QU'EST-CE que le gouvernement d'Aunis ?

R. L'Aunis est un pays fort peu étendu, mais important pour sa situation & les villes qu'il renferme. On a joint à ce gouvernement le *Brouageais*, tiré de la Saintonge.

D. Nommez les villes de l'Aunis.

R. Ce sont LA ROCHE-LE & ROCHFORT, places fortes; la première a un évêché, & un port très-marchand : la seconde est un port royal, à l'embouchure de la Charente, avec un grand arsenal, où l'on construit des vaisseaux.

D. Nommez les îles voisines de l'Aunis.

R. Il y en a deux importantes; savoir,

l'île de Ré & l'île d'Oléron, qui sont très-fortifiées.

D. Qu'est ce que le Brouageais ?

R. C'est la côte de la Saintonge, depuis l'Aunis, jusqu'à l'embouchure de la Garonne. BROUAGE n'est qu'un boutg, & MARENNES est le lieu le plus considérable: c'est dans ce petit pays que l'on prépare le sel.

D. Avant que de quitter l'Aunis, n'avez-vous pas quelque remarque à faire encore ?

R. Il y a une généralité à la Rochelle, qui s'étend beaucoup plus que le gouvernement; car outre l'Aunis & le Brouageais, elle a encore la Saintonge, & la partie occidentale de l'Angoumois.

D. Nommez les villes du gouvernement de Saintonge & Angoumois,

R. La Saintonge a SAINTES, évêché, sur la Charente, & SAINT-JEAN-D'ANGÉLI & COGNAC, dans l'Angoumois occidental, & ANGOULÊME, évêché, dans l'oriental, qui dépend de la généralité de Limoges.

D. Quelles sont les villes principales de la Marche ?

R. Les villes de la Marche, ancien comté, sont, GUERET, capitale, dont le territoire est de la généralité de Moulins; & à l'occident, BOURGANEUF & BELAC, qui sont de la généralité de Limoges.

D. Qu'est-ce que le Limosin ?

R. C'étoit autrefois un comté, que l'on divise en haut & bas. Dans le haut est LIMOGES, capitale de la province, avec évê-

ché, & généralité qui comprend presque tout le Limosin, avec la Marche occidentale, & l'Angoumois oriental.

D. Que remarquez-vous dans le bas Limosin ?

R. On y trouve TULLES, évêché; & TURENNE, principauté, acquise par le roi en 1738.

D. Passez à l'Auvergne ?

R. C'est une province où il y a beaucoup de montagnes; mais la contrée appelée la *Limagne*, le long de l'Allier, est l'un des meilleurs pays de la France.

D. Comment divise-t-on cette grande Province ?

R. On divise l'Auvergne en haute & basse: la première, vers le midi, au bas de l'Allier; & la seconde, vers le nord, aux environs des montagnes.

D. Nommez les villes de la basse Auvergne.

R. CLERMONT est la capitale de toute la province; & comme on y a joint la ville voisine de *Montferrand*, on l'appelle souvent CLERMONT-FERRAND: il y a un évêché; RIOM est le siège d'une généralité; MONTPENSIER, duché. En remontant l'Allier, on trouve ISSOIRE, puis BRIOUDE, qui a un Chapitre de chanoines nobles.

D. Quelles sont les villes de la haute Auvergne ?

R. SAINT-FLOUR, évêché; & AURILLIAC.

D. Qu'est-ce que le gouvernement de Lyonois ?

R. Il étoit autrefois beaucoup plus étendu qu'il n'est actuellement; car l'Auvergne, la Marche & le Bourbonnois en dépendoient: il ne comprend plus que le Lyonois propre, le Forez & le Beaujolois.

D. Nommez-en les villes principales.

R. LYON, l'une des plus grandes villes de France, très-marchande, avec un archevêché & une généralité: cette ville est encore célèbre pour ses manufactures de soie, & d'étoffes d'or & d'argent. FEURS & MONTRISON sont dans le Forez, aussi bien que ROANE, où la Loire commence à être navigable, VILLEFRANCHE est dans le Beaujolois.

XX, LEÇON,

*Gouvernemens de Guyenne & Gascogne,
& de Navarre & Béarn.*

D. QU'EST-CE que le gouvernement de Guyenne & Gascogne ?

R. C'est l'une des plus grandes provinces de France; mais elle n'est pas riche à proportion de son étendue,

D. Comment la divise-t-on ?

R. On peut la diviser d'abord en quatre grandes parties, relativement à ses différentes administrations; & ces quatre parties sont la Guyenne occidentale & l'orientale,

la Gascogne occidentale & l'orientale.

D. Que comprend la Guyenne occidentale?

R. La Guyenne occidentale comprend cinq pays ; savoir : le Bourdelois , le Périgord , l'Agenois , le Bazadois & le Condomois : tout cela forme la généralité de Bourdeaux.

D. Quelles en sont les villes ?

R. Ce sont BOURDEAUX , capitale de toute la province , & ville commerçante , avec archevêché , parlement & généralité : PÉRIGUEUX , évêché , ainsi que SABLAT ; l'une dans le haut Périgord , & l'autre dans le bas : AGEN , évêché , en Agenois : BAZAS & CONDOM , l'un & l'autre évêché , qui ont donné leurs noms au Bazadois & au Condomois.

D. En quoi consiste la partie orientale de la Guyenne ?

R. Elle contient les anciens comtés de Rouergue & de Querci , qui forment la généralité actuelle de Montauban , & qui dépendent du parlement de Toulouse , en Languedoc , province dont ils faisoient anciennement partie.

D. Quelles sont les villes principales du Rouergue & du Querci ?

R. Les villes les plus considérables du Rouergue , sont RHODEZ , capitale , avec évêché : MILHAUD ; VABRES , évêché ; & VILLEFRANCHE de Rouergue. Dans le Querci , CAHORS , évêché ; FIGEAC ; & MONTAUBAN , évêché & généralité.

D. Qu'est-ce

... D
zale
R
cont
gued
de T
D
R
la L
2. la
Bigo
D
R
géné
gne;
Bigo
& L
Lizi
D
Coul
R
qui
Coul
Bert
de C
D
occid
R
assez
Cha
est e
qui
ette

D. Qu'est-ce que la Gascogne orientale ?

R. Elle comprend tous les pays de cette contrée qui ont été autrefois joints au Languedoc, & qui sont encore du parlement de Toulouse.

D. Nommez ces pays.

R. Il y en a six ou sept : 1. l'Armagnac & la Lomagne, que l'on sépare quelquefois : 2. la Riviere-Verdun : 3. l'Estarac : 4. le Bigorre : 5. le Cominge : 6. le Couserans.

D. Quelles en sont les villes ?

R. AUCH, en Armagnac, archevêché & généralité : LEITOURE, évêché, en Lomagne; MIRANDE, en Estarac; TARBE, en Bigorre; SAINT-BÉRTRAND, en Cominge, & LOMBEZ, tous deux évêchés; & SAINT-LIZIER, dans le Couserans.

D. Est-ce qu'il n'y a point de villes de Couserans, ni de Cominge ?

R. Non : ce sont des pays, & l'évêque qui réside à Saint-Lizier porte le nom de Couserans, comme celui qui réside à Saint-Bertrand, est connu sous le nom d'évêque de Cominge.

D. Quels sont les pays de la Gascogne occidentale ?

R. On en compte cinq : 1. les Landes, assez mauvais pays : 2. le Marfan : 3. la Chalosse : 4. le Labour; & 5. le Soule, qui est entre la basse Navarre & le Béarn, & qui fait partie des Pays Basques. Toute cette Gascogne occidentale est du parle-

ment de Bourdeaux, comme la Guyenne occidentale.

D. Nommez les villes de ces petits pays.

R. DAX, sur l'Adour, évêché; & plus au nord, Albret, duché, dont le chef-lieu est NÉRAC, dans le Condomois; MONT DE MARSAN; AIRE, évêché; BAYONE, à l'embouchure de l'Adour, évêché & port de mer; MAULÉON, dans le pays de Soule.

D. De quelle généralité sont les pays des deux parties de la Gascogne?

R. Ils sont de la généralité d'Auth, qui est unie, sous un même intendant, à celle de Pau, que l'on nomme la première, à cause de la dignité du royaume de Navarre.

D. Expliquez ce qui regarde la Navarre & le Béarn.

R. Ces pays, qui faisoient le principal domaine d'Henri IV, avant qu'il montât sur le trône de France, ont été unis à la couronne sous Louis XIII. La France ne possède que la basse Navarre; la haute, qui est la plus considérable, & au-delà des Pyrénées, a été envahie par les Espagnols en 1512, sur Jean d'Albret, aïeul maternel d'Henri IV.

D. Quelles sont les villes de ces deux pays?

R. On trouve dans la basse Navarre, SAINT-JEAN-PIED-DE-PORT, à l'entrée des montagnes; & SAINT-PALAIS, qui sont peu de chose. Dans le Béarn, PAU, avec parlement & généralité unie à celle d'Auth; LASCAR & OLÉRON, toutes deux évêchés.

Gou

D.

Foix

R.

déral

bres

ment

resso

ajou

il fait

& est

D.

R.

ble;

qui e

villag

D.

R.

une

pays

separ

les E

1640

D.

R.

un é

conf

s'éte

XXI. LEÇON.

*Gouvernemens de Foix & Donezan, de
Roussillon & de Languedoc.*

D. QU'EST-CE que le gouvernement de Foix & Donezan ?

R. Le pays de Foix, qui est peu considérable, a eu autrefois des comtes célèbres dans l'histoire : il dépendoit anciennement du Languedoc, & il est encore du ressort du parlement de Toulouse. Il forme aujourd'hui un gouvernement à part; mais il fait partie de la généralité de Roussillon, & est pays d'états.

D. Quelles en sont les villes ?

R. Ce sont FOIX, qui est peu considérable; & PAMIERS, évêché. Le Donezan, qui est une très-petite contrée, n'a que des villages.

D. Que remarquez-vous sur le Roussillon ?

R. C'est un ancien comté, engagé dans une partie des monts Pyrénées, comme les pays précédens. Après avoir été long-tems séparé de la France, il fut reconquis sur les Espagnols par le roi Louis XIII, en 1640.

D. Nommez-en les villes ?

R. PERPIGNAN en est la capitale, & a un évêché qui étoit autrefois à Elne, un conseil souverain, & une généralité qui s'étend dans le pays de Foix. On y remar-

que encore SALCES , COLLIOURE & MONT-LOUIS, villes fortes : la dernière a été bâtie par Louis XIV.

D. Qu'est-ce que le Languedoc ?

R. C'est une des plus considérables, des plus belles & des plus riches provinces de France : elle a eu autrefois des princes célèbres, connus sous le nom de comtes de Toulouse, qui étoient du nombre des douze grands pairs de France,

D. Comment divise-t-on le Languedoc ?

R. Il se divise comme gouvernement militaire, en haut & bas, & en pays des Cévennes; & comme gouvernement civil & politique, en deux généralités, qui sont à l'occident celle de Toulouse, & à l'orient celle de Montpellier, qui n'ont qu'un même intendant, & composent en tout vingt-trois diocèses, ou vingt & un, avec parties de deux dont les villes principales ne sont pas en Languedoc.

D. Marquez les diocèses du haut Languedoc, qu de la généralité de Toulouse.

R. Cette généralité, qui occupe le haut Languedoc à l'occident, contient neuf diocèses, & parties de deux autres diocèses.

D. Quels sont les neuf diocèses qui sont dans le haut Languedoc ?

R. Ce sont ceux de TOULOUSE & D'ALBI, archevêchés; & les évêchés de LANAUR, de CASTRES, de SAINT-PAPOUL, de CARCASSONE, d'ALET, de MIREPOIX & de RIEUX,

D. Quels sont les diocèses dont les capitales sont hors du Languedoc ?

R. Ce sont ceux de COMINGE, au midi, près de Rieux; & de MONTAUBAN, vers le nord, sur les confins du Querci.

D. Expliquez la généralité de Montpellier.

R. Cette généralité, qui est à l'orient, occupe le bas Languedoc & le pays des Cévennes : elle contient douze diocèses, dont il y en a quatre dans les Cévennes.

D. Nommez les huit diocèses du bas Languedoc.

R. Ce sont NARBONNE, archevêché, dans une situation peu agréable; & les évêchés de SAINT-PONS, dont le pays est pauvre; de LODÈVE; de BEZIERS, dans un terrain fertile; d'AGDE & de MONTPELLIER, près de la mer; de NISME & d'UZÈS, le long du Rhône.

D. Quels sont les quatre diocèses des Cévennes ?

R. Ce sont ALAIS, dans le pays qui porte particulièrement le nom de Cévennes; MENDE en Gévaudan; VIVIERS dans le Vivarais; & LE PUY en Velay. Les vingt-trois diocèses du Languedoc forment un pays d'états fort considérable.

D. Nommez les villes les plus remarquables du Languedoc.

R. Quoique la présidence des états soit attachée à l'archevêché de Narbone, cependant la ville ne répond point à sa dignité. TOULOUSE, dont l'archevêque est vice-

président des états, est bien plus considérable : elle est la capitale de la province, & a un parlement & une université.

D. Comme Toulouse a aussi une généralité, l'intendant y réside-t-il ?

R. Non ; mais il réside à MONTPELLIER, autre généralité du Languedoc, & la plus belle ville de la province, où se tient ordinairement l'assemblée des états : elle est aussi célèbre par son université pour la médecine.

D. Continuez de nommer les villes les plus remarquables du Languedoc.

R. ALBI est le siège d'un archevêque depuis 1676. CARCASSONE a de belles manufactures de draps, qui s'envoient en Turquie : LIMOUX, près d'Alet, mais du diocèse de Narbone, est célèbre par ses bons vins : CASTELNAUDARI, au milieu du canal royal, est une assez belle ville, aussi bien que PÉZENAS, près d'Agde. Enfin, NISMES, qui est dans une plaine très-fertile, & peu éloignée du Rhône, est assez marchande, à cause de ses manufactures de laine.

D. Qu'y a-t-il encore de considérable dans cette province ?

R. C'est le canal royal de Languedoc, qui a été rendu navigable le 19 mai 1681. Il joint l'Océan à la Méditerranée, commençant à la Garonne, près de Toulouse, & finissant au port de Cette, près d'Agde. Il a fallu faire des ouvrages prodigieux, sur-

toit
droi

Gou

D

R

les

la F

ce t

nom

I

L

mic

le l

en

pre

L

J

Gr

me

ha

GA

ph

LE

TE

pe

toût pour que les eaux montassent les endroits les plus élevés, au moyen des écluses.

XXII. L E Ç O N.

*Gouvernemens de Dauphiné & de Provence,
le Comtat, &c.*

D. QU'EST-CE que le Dauphiné?

R. C'est une province entre le Rhône & les Alpes, qui a été long-tems séparée de la France, & lui fut réunie en 1349. Depuis ce tems, le premier fils de France porte le nom de Dauphin.

D. Comment divise-t-on le Dauphiné?

R. On le divise en haut & bas : le premier du côté des montagnes, & le second le long du Rhône. Il est ensuite subdivisé en plusieurs petits pays, qui la plupart prennent leurs noms des principales villes.

D. Nommez ces villes?

R. Les villes du haut Dauphiné sont, GRENOBLE, capitale, avec évêché, parlement & généralité : BRIANÇON, sur une haute montagne : EMBRUN, archevêché, & GAP, évêché.

D. Quelles sont les villes du bas Dauphiné?

R. Ce sont : VIENNE, archevêché ; VALENCE, DIE & SAINT-PAUL-TROIS-CHATEAUX, tous trois évêchés, auxquels on peut joindre MONTE LIMAR.

D. N'y a-t-il pas encore quelque pays.

séparé du Dauphiné, qui en dépende ?

R. C'est Orange, qui est enfermé dans le Comtat. C'étoit autrefois une principauté, qui fut cédée à la France en 1713. Une branche des princes de Nassau en porte encore le nom. La ville d'ORANGE a un évêché.

D. Expliquez ce qui regarde la Provence ?

R. C'est un ancien comté, qui après avoir été long-tems séparé de la France, lui fut réuni en 1481. L'air y est doux & agréable, le terroir fertile, & abondant sur-tout en huiles.

D. Comment divise-t-on cette province ?

R. On divise la Provence en haute & basse, qui contiennent douze sénéchaussées.

D. Quelles sont les sénéchaussées de la haute ?

R. Il y en a quatre; savoir, Forcalquier, Sisteron, Digne & Castellane, dont les villes principales sont, FORCALQUIER, ancien comté; APT, dans son voisinage, avec évêché; SISTERON & DIGNE, évêchés, ainsi que SENEZ, RIEZ & GLANDEVES. CASTELLANE n'est qu'une baronie, où réside l'évêque de Senez.

D. Combien y a-t-il de sénéchaussées dans la basse Provence ?

R. Il y en a huit, qui sont d'orient en occident, celles de Grasse, de Draguignan, de Brignole, d'Hieres, de Toulon, de Marieille, d'Aix & d'Arles, avec des villes de même nom.

D. Nommez les plus considérables de ces villes?

R. AIX est la capitale de la province, avec archevêché, parlement & généralité; ARLES, archevêché; MARSEILLE, ville très-riche & très-commerçante, avec un évêché, & un port où sont les galeres du roi; TOULON, place très-forte, avec un évêché, & l'un des plus beaux ports qui soient sur la Mer Méditerranée.

D. Qu'est-ce que le Comtat, qui est enfermé dans la Provence?

R. Le Comtat, surnommé Venaissin, a appartenu au pape, depuis la fin du treizième siècle, jusqu'en 1768, qu'il a été réuni à la Provence. On y trouve VAISON, CARPENTRAS & CAVAILLON, qui sont trois évêchés. Le Comté d'Avignon qui lui est uni, avoit été mal-à-propos vendu au pape en 1348, par Jeanne, reine de Naples & comtesse de Provence. La ville d'AVIGNON a un archevêché. Le pape y envoyoit un vice-légat pour gouverner le pays.

D. La France ne possède-t-elle pas d'autres terres?

R. La France possède encore, en Europe, l'île de Corse, qui lui a été cédée par la république de Gènes, en 1768. Elle a encore d'autres possessions en Asie, en Afrique & en Amérique.

D. Nommez celles de l'Asie?

R. PONDICHERI, sur la côte de Coromandel; MAHÉ, sur la côte de Malabar.

bar, & plusieurs comptoirs dans l'Inde.

D. *Que possède la France en Afrique ?*

R. Le BASTION DE FRANCE, sur la côte d'Alger ; l'île Gorée, & quelques autres comptoirs, situés entre le Cap Verd & la rivière de Gambie ; enfin les îles de Bourbon & de France, situées à l'orient de Madagascar.

D. *Quelles sont les possessions de la France en Amérique ?*

R. Ce sont la Guyane Française, où est Cayenne ; la partie occidentale de l'île Saint-Domingue ; plusieurs des petites Antilles, dont la principale est la Martinique ; enfin, au nord, près de Terre-Neuve, les petites îles de Saint-Pierre & de Miquelon, qui lui ont été cédées par la paix de 1763, pour servir de retraite à ses pêcheurs.

XXIII. L E Ç O N.

Les Pays-Bas.

D. *QU'EST-CE que les Pays-Bas ?*

R. On comprend sous le nom général de Pays-Bas, dix-sept provinces situées au nord de la France, & à l'occident de l'Allemagne, vis-à-vis de l'Angleterre, dont elles sont séparées par l'Océan.

D. *Quel est l'état actuel de ces provinces ?*

R. Au tems de l'empereur Charles-Quint, ces dix-sept provinces étoient toutes sous la domination de l'Espagne : au-

Jour'd'hui les sept provinces du nord forment une république, qu'on nomme *Provinces-Unies*, *Pays-Bas Protestans*, ou simplement *Hollande*. Les provinces du milieu, qui sont resté long-tems à l'Espagne, & qu'on nommoit à cause de cela *Pays-Bas Espagnols*, se nomment aujourd'hui *Pays-Bas Autrichiens* ou *Pays-Bas Catholiques*. Enfin, la partie la plus méridionale de ces provinces, qui appartient à la France, se nomme, *Pays-Bas François*.

D. *Nommez les provinces appelées Pays-Bas François ?*

R. Ce sont le comté d'Artois ; la partie méridionale de la Flandre ; une partie du Hainaut, & quelques villes démembrées du Luxembourg, & unies au gouvernement de Metz. Nous en avons parlé en décrivant la France.

D. *Quelles sont les provinces des Pays-Bas Autrichiens ?*

R. Ces provinces, cédées à la maison d'Autriche en 1713 & 1714, sont le duché de Brabant, pour la plus grande partie, le marquisat d'Anvers, nommé aussi *marquisat du Saint-Empire*, la seigneurie de Malines, le duché de Limbourg, celui de Luxembourg, une partie de la Gueldre, une partie des comtés de Flandre & de Hainaut, enfin le comté de Namur.

D. *Nommez les principales villes du duché de Brabant ?*

R. Ce sont, BRUXELLES, capitale des

Pays-Bas Autrichiens, & résidence du gouverneur général; **LOUVAIN**, célèbre par son université: **MALINES**, renommée pour ses dentelles, est la ville la plus propre des Pays-Bas, & le siège d'un archevêché & d'un parlement: **ANVERS**, sur l'Escaut, très-belle ville; mais presque déserte, depuis que son commerce est tombé. Elle est le siège d'un évêché.

D. Quelles sont les principales villes de la Flandre Autrichienne?

R. Ce sont, **GAND**, capitale, située entre l'Escaut & la Lys, qui s'y réunissent, ville très-peuplée & qui fait un grand commerce; **BRUGES**, aussi évêché; **OSTENDE**, ville très-forte, avec un port sur la mer: **NIEUPORT**: **YPRES** & **TOURNAL**.

D. Nommez les autres villes des Pays-Bas Autrichiens?

R. **RUREMONDE**, dans la haute Gueldre: **NAMUR**, **LIMBOURG** & **LUXEMBOURG**, dans les pays de ce nom. **MONS** est la capitale du Hainaut, où l'on remarque encore **ATH**, qui fait un grand commerce de toiles.

XXIV. L E Ç O N.

Des Provinces-Unies ou la République de Hollande.

D. Quelles sont les Provinces-Unies qui forment la république de Hollande?

R. Elles sont au nombre de sept: 1. le

duché de Gueldre, auquel est joint le comté de Zurphen : 2. le comté de Hollande : 3. la Zélande : 4. la province d'Utrecht : 5. la Frise : 6. l'Over-Iffel : & 7. la province de Groningue. Il faut joindre à ces pays, les conquêtes que les Hollandois ont faites au midi, qu'on appelle *Pays de la Généralité*, parce qu'elles sont possédées en commun.

D. Quelles sont ces conquêtes, qui composent le Pays de la Généralité ?

R. Ce sont, le Brabant Hollandois, la Flandre Hollandoise, une partie du Limbourg & de la haute Gueldre, avec la ville de Mastricht.

D. Les Hollandois n'ont-ils pas encore d'autres domaines ?

R. Ils ont de grands établissemens dans l'Asie méridionale, où leur Compagnie des Indes fait un très-grand commerce. Ils ont encore un établissement considérable au cap de Bonne-Espérance, à l'extrémité de l'Afrique. Ils possèdent aussi quelques îles en Amérique.

D. Nommez les principales villes des Provinces-Unies ?

R. Ce sont, LA HAYE, résidence des états-généraux : AMSTERDAM, la ville la plus commerçante de l'Europe : ROTTERDAM, aussi très-considérable par son commerce ; LEYDE, qui a une université très-célèbre : DORDRECHT, capitale du comté de Hollande ; DELFT. Toutes ces villes sont de la province de Hollande. MIDDELBOURG.

& FLESSINGUE, font dans la Zélande, & NIMÈGUE, dans la Gueldre.

D. Quelles sont les autres villes remarquables des Provinces-Unies ?

R. Ce sont, UTRECHT, grande ville dans la province de même nom, avec une université qui le dispute à celle de Leyde ; LEUWARDE & FRANEKER dans la Frise ; DÉVENTER dans l'Over-Iffel ; & GRONINGUE dans la province de même nom, où est aussi une université.

D. Quelles sont les villes des Conquêtes des Provinces-Unies ?

R. Les villes des Conquêtes, ou de la Généralité, sont BOSLEDUC, GRAVE & BRÉDA, dans le Brabant Hollandois ; MASTRICHT, dans le territoire de Liège, l'une des plus fortes places de l'Europe ; BERGOP-ZOOM, qui n'est pas moins forte, dans le Brabant Hollandois, est à l'embouchure de la petite rivière de Zoom dans l'Escaut oriental ; l'ECLUSE & HULST sont dans la Flandre Hollandoise, & WALKEMBOURG dans le duché de Limbourg.

D. Qu'y a-t-il à remarquer sur le gouvernement des Provinces-Unies ?

R. Ce gouvernement purement républicain, & formé par un soulèvement contre le roi d'Espagne, depuis l'an 1565, jusqu'en 1579, que s'est faite l'union d'Utrecht, qui sert de base à cette république, s'est depuis maintenu par la protection de la France ; mais à l'exemple des oiseaux qui

se séparent de leurs peres & meres lorsqu'ils sont en état de voler tout seuls , ils ont quitté la France lorsqu'ils ont cru pouvoir s'en passer.

D. Quelle est la forme du gouvernement ?

R. Le gouvernement de ces provinces dépend des nobles & des députés des villes. Chaque province forme une république particuliere : mais toutes ensemble n'en font qu'une , en vertu de leur union : & c'est pour cela qu'on les nomme *Provinces-Unies*. Elles ont un chef , qu'on appelle le *Stathouder* , qui est gouverneur , capitaine général & amiral de la république. Le prince de Nassau-Frise a été reconnu , en 1747 , stathouder héréditaire ; & l'hérédité a été assurée à ses descendans mâles & femelles. On appelle leurs *Hautes-Puissances* ou les *Etats-Généraux des Provinces-Unies* , l'assemblée des députés de toutes les provinces.

XXV. L E Ç O N .

La Suisse.

D. QU'EST-CE que la Suisse ?

R. La Suisse est un corps de différentes républiques , qui sont au nombre de treize , que l'on appelle Cantons. Ces petites républiques , qui ont leurs alliés & leurs sujets , sont quelquefois divisées entr'elles ; mais toujours fort unies pour la défense commune.

D. Comment divisez-vous la Suisse ?

R. En Suisse propre, qui contient les treize cantons qui se sont unis en différens tems; alliés des Suisses; sujets des Suisses, & sujets des alliés. Leur indépendance, projetée dès l'année 1332 & en d'autres années, n'a été généralement reconnue que par les traités de Westphalie, en 1648.

D. Marquez les treize cantons ?

R. Ce sont, Zurich, au nord-est de la Suisse; Berne, vers l'occident, arrosé par la rivière d'Aar; Lucerne, entre les cantons de Zurich & de Berne, ainsi au milieu de la Suisse; Zug, Ury, Schwitz, Underwald, Glaris, tous cinq au sud du canton de Zurich. Ceux de Basle & de Soleure, sont entre le Rhin & l'Aar. Fribourg est enclavé dans celui de Berne, & Schaffouse est au nord de Zurich, au-delà du Rhin; mais Appenzel est au midi du lac de Constance. Tous ont pour capitale une ville ou bourg de même nom, excepté Ury & Underwald, dont les bourgs principaux sont ALTORF & STANTZ.

D. Quels sont les alliés des cantons Suisses ?

R. Les alliés des Suisses sont l'abbé de Saint-Gal, avec sa ville; les Grisons, dans les Alpes, vers les sources du Rhin; le Valais, vers les sources du Rhône; l'évêque de Basle; la ville de Mulhausen en Alsace, les comtés de Neuf-Châtel & de Vallengin, aujourd'hui au roi de Prusse;

enfin la ville de Bienne, & celle de Genève.

D. Quels sont les sujets des Suisses ?

R. Ce sont les comtés de Baden, les bailliages de Bremgarten & de Mellingin, avec le Turgaw, le Rheinthal, les quatre bailliages d'Italie, & quelques autres seigneuries.

D. Quels sont les sujets des alliés ?

R. Les sujets des alliés de la Suisse sont, la Valteline, le comté de Chiavenna, le comté de Bormio, tous trois voisins de l'Italie, le bas Valais, & le Toggenbourg.

D. Quelles sont les villes les plus remarquables de la Suisse ?

R. Ces villes sont ZURICH, BASLE, BERNE, LUCERNE, FRIBOURG, SOLEURE, qui sont capitales de six cantons; GENÈVE, ville alliée des Suisses, & LAUSANNE, qui est dans le canton de Berne.

D. Que remarquez-vous encore dans la Suisse ?

R. On y remarque les lacs de Genève, de Neuf-Châtel, de Zurich & de Lucerne; aussi-bien que le Rhin, le Rhône, l'Inn, l'Adda & le Tesin, rivières considérables, qui y prennent leur source dans les hautes montagnes des Alpes, presque toutes occupées par les Suisses. Ces sources de tant de rivières ont fait croire avec raison, que la Suisse étoit une des parties les plus élevées de l'Europe.

D. Quelle est la religion dominante de la Suisse ?

R. Il y a en Suisse deux religions, favoit ; la catholique romaine , & la prétendue réformée ou calviniste. La première qui est l'ancienne , est suivie dans sept petits cantons ; la réformée , prêchée d'abord par Zuingle , & ensuite corrigée par Calvin , est reçue dans ceux de Zurich , Berne , Basse , & Schaffouse ; mais Glaris & Appenzel autorisent les deux communions.

D. *Quel est le gouvernement de la Suisse ?*

R. La Suisse n'a ni stathouder électif ou héréditaire comme la Hollande , ni doge perpétuel comme Venise , pas même d'annuels comme Gènes ; & cependant elle se gouverne très-sagement. L'amitié des souverains , les voisins qu'elle a soin de cultiver , & son peu d'ambition pour des conquêtes étrangères : voila ses barrières & ses forteresses. Quand on ne cherche pas le bien d'autrui , rarement cherche-t-on le nôtre , lorsqu'on nous fait en état de le défendre. Dans le besoin , les cantons s'assemblent , & traitent de leurs intérêts avec une franchise admirable.

D. *Quelles sont les forces de la Suisse ?*

R. Il n'y a guère de corps plus puissant que la république des Suisses , parce qu'ils sont tous soldats , & qu'ils combattent pour leur liberté. Ils sont en état de mettre sur pied & d'entretenir sans secours étranger une armée de cent mille hommes , pour défendre un pays inaccessible à tous autres qu'aux naturels du pays. Ils sont sobres

quar
forc
noit
nom
l'em

D
A
man
Cha
vell
étei
peu
Cha
I
ma
A
l'en
sido
des
col
pri
éle
pir
pa
reu
el

quand il le faut ; c'est une partie de leurs forces : ils ne laissent pas néanmoins de connoître un commerce modéré ; mais pour le nombre de troupes , les cantons protestans l'emportent sur les catholiques.

XXVI. L E Ç O N.

L'Allemagne.

D. QU'EST-CE que l'Allemagne ?

R. L'Allemagne , appelée autrefois Germanie , est un empire établi en 800 , par Charlemagne , roi de France , qui renouvela alors l'empire d'Occident , lequel étoit éteint depuis l'an 476. Cet empire resta un peu plus de cent ans dans la maison de Charlemagne.

D. Quel est maintenant l'état de l'Allemagne ?

R. C'est une espèce de république , dont l'empereur est le chef. La souveraineté réside dans les diètes ou assemblées générales des états : & ces états sont composés de trois collèges : celui des électeurs , celui des princes & celui des villes impériales.

D. Quels sont les princes qu'on nomme électeurs ?

R. Ce sont les premiers princes de l'empire , auxquels on donne le nom d'électeurs , parce qu'ils ont seul le droit d'élire l'empereur. Ils sont au nombre de neuf , trois ecclésiastiques & six laïcs. Les électeurs ec-

clésiastiques, sont les archevêques de Mayence, de Cologne & de Trèves : les six électeurs laïcs sont le roi de Bohême, le duc de Bavière, le duc de Saxe, le marquis de Brandebourg, le comte Palatin & le duc d'Hanovre.

D. Quels sont les princes qui composent le second collège ?

R. Ce sont tous les autres princes d'Allemagne, ducs, marquis, comtes, archevêques, évêques, & autres qui sont souverains dans leurs états. On en compte près de trois cens.

D. Qu'est-ce que les villes impériales ?

R. Ce sont des villes qui se gouvernent en forme de république, & ne dépendent immédiatement que de l'empire & de l'empereur. Elles sont au nombre de cinquante-deux.

D. Comment divise-t-on l'Allemagne ?

R. L'Allemagne se divise ordinairement en neuf cercles ou provinces, que l'on compte dans l'ordre suivant : d'Autriche, de Bavière, de Souabe, de Franconie, de haute Saxe, de basse Saxe, de Westphalie, du bas Rhin, nommé aussi *le cercle des quatre électeurs* ; enfin le cercle du haut Rhin.

D. En quel tems s'établit cette division ?

R. Ce fut vers l'an 1512, que l'empereur Maximilien I divisa ainsi les provinces de l'Allemagne.

D. Décrivez le cercle d'Autriche ?

R. Le cercle d'Autriche, qui est au sud,

est de l'Allemagne, est le plus étendu de ceux de l'empire. Il contient les pays héréditaires de la maison d'Autriche; savoir, l'archiduché d'Autriche, les duchés de Stirie, de Carinthie & de Carniole, le comté de Tirol, & quelques territoires en Souabe. Dans le Tirol sont renfermés les évêchés de Brixen & de Trente. C'est à TRENTE que s'est tenu, il y a 200 ans, le dernier concile général.

D. Quelles principautés contient le cercle de Baviere?

R. Ce cercle renferme le duché & électorat de Baviere; l'archevêché de Saltzbourg; les évêchés de Freysingue, de Ratisbonne, de Passau & de Chiemsee; la prévôté de Berchtolsgaden; le duché de Neubourg; la principauté de Sultzbach, & quelques autres états moins considérables.

D. Que comprend le cercle de Souabe?

R. Le cercle de Souabe, qui est au sud-ouest de l'Allemagne, comprend le duché de Wirtemberg, les marquisats de Bade-Baden & de Bade-Dourlac, les principautés de Hohenzolern & de Furstemberg, l'abbaye de Kempten, & plusieurs autres abbayes & états moins considérables. Il n'y a aucun électeur dans ce cercle; au lieu qu'on y trouve beaucoup de villes impériales, qui sont libres & sous la protection de l'empereur.

D. Que comprend le cercle de Franconie?

R. Ce cercle, qui n'a pas non plus de

dignité électorale, est au milieu de l'Allemagne, & contient les évêchés de Bamberg, de Wirtzbourg & d'Aichster; les états du grand-maître de l'ordre Teutonique; les marquisats de Culembach & d'Anspach; quelques comtés, avec la ville libre & le territoire de Nuremberg, l'une des plus célèbres villes de l'Empire, & quelques autres villes Impériales.

XXVII. L E Ç O N.

Suite de l'Allemagne.

D. *QUELS sont les états du cercle de haute Saxe ?*

R. Ce cercle, qui est au nord - est de l'Allemagne, comprend le duché & électorat de Saxe, le marquisat & électorat de Brandebourg, & la Poméranie. Dans le premier sont compris le marquisat de Misnie, le landgraviat de Thuringe, & la principauté d'Anhalt, & divers états appartenant à des branches de la maison de Saxe. Ce cercle n'a point de villes impériales, non plus que celui d'Autriche; mais en récompense ses princes sont des plus puissans du corps germanique. La plus grande partie de la Poméranie appartient à l'électeur de Brandebourg, roi de Prusse.

D. *Quels états contient le cercle de basse Saxe ?*

R. Ce cercle, qui est au nord de l'Alle-

magne
novre
Brun
Meck
Magd
bersta
& H
impé
presq
d'Alle
due d

D.

lie ?

R.

élect

gne,

d'Ol

(ce

les d

les p

autre

avec

d'Ol

bien

vell

Liég

Ch

ses

D

Rh

l

élect

&

Allemagne, contient le duché & électorat d'Hannovre & de Lunebourg, les duchés de Brunswick, de Heltstein, de Bremen, de Meckelbourg, de Saxe-Lavenbourg, de Magdebourg, avec la principauté d'Halberstat, & l'évêché d'Hildesheim, LUBECK & HAMBOURG en sont les principales villes impériales, La dernière sur-tout, qui est presqu'à l'embouchure de l'Elbe dans la Mer d'Allemagne, est très-distinguée par l'étendue de son commerce.

D. Que contient le cercle de Westphalie ?

R. Ce cercle, qui n'est décoré par aucun électorat, est au nord-ouest de l'Allemagne, & contient les évêchés de Munster, d'Osnabruck, de Paderborn & de Liège, (ce dernier est enclavé dans les Pays-Bas); les duchés de Juliers, de Clèves & de Berg; les principautés de Ferden & de Minden, autrefois évêchés, & celle d'Oost-Frise, avec les comtés de la Mark, de Nassaw, d'Oldenbourg, & quelques autres, aussi bien que les abbayes de Corwey, ou la nouvelle Corbie, & de Stablo, dans le pays de Liège. Les villes de COLOGNE & d'AIX-LA-CHAPELLE, sont les plus considérables de ses villes impériales.

D. Quels sont les états du cercle du bas-Rhin ?

R. Ce cercle, que l'on appelle le cercle électoral, est situé à l'ouest de l'Allemagne, & comprend les électorats & archevêchés

de Mayence, de Trèves, & de Cologne; de qui dépend le duché particulier de Westphalie; l'électorat & palatinat du Rhin, avec plusieurs autres petits états, qui continuent aux provinces des Pays-Bas, & à celles de France voisines du Rhin.

D. Marquez les principautés du cercle du haut Rhin?

R. Ces principautés, dont la situation est fort irrégulière, sont le landgraviat de Hesse, le duché de Deux-Ponts, qui est à la gauche du Rhin, & environné du Palatinat; la Vétéravie; les comtés de Hanau, de Waldek, & quelques autres, avec les évêchés de Worms & de Spire, ainsi que celui de Basle, qui est vers la Suisse. Les abbayes de Fulde & de Pruyem sont aussi de ce cercle. On y joint le comté de Montbelliard, qui n'est d'aucun cercle, mais plutôt une mouvance de la Franche-Comté, province de France.

XXVIII. L E Ç O N.

Suite de l'Allemagne.

D. QUELLES sont les rivières d'Allemagne?

R. Les rivières les plus considérables, sont, le *Danube*, qui prend sa source en Souabe, & traverse la plus grande partie de l'Allemagne, de l'occident à l'orient; le *Rhin*, qui lui sert de bornes du côté de la France;

France; le *Véser*, qui prend sa source au nord du cercle de Franconie, & sépare, à son embouchure, le cercle de Westphalie de celui de basse Saxe; l'*Elbe*, qui prend sa source dans la Bohême; l'*Oder*, sur les frontieres de la Moravie & de la Silésie; & à l'occident, la *Meuse*, qui passe à Liège, & la *Moselle* à Trèves.

D. *Quelles sont les principales villes de l'Allemagne?*

R. L'Allemagne n'a pas proprement de ville capitale; mais elle a beaucoup de villes très-considérables, & par leur étendue, & par les richesses que l'industrie & le commerce leur ont procurées.

D. *Marquez les plus considérables de ces villes.*

R. Ce sont, VIENNE, sur le Danube, dans la basse Autriche, résidence des empereurs, & qui pourroit passer pour la capitale de l'empire, à cause du long séjour qu'y ont fait les empereurs de la maison d'Autriche; MUNICK, capitale de la Baviere; DRESDE, de la Saxe; BERLIN, du Brandebourg; HANOVRE, dans l'électorat de ce nom; HEIDELBERG & MANHEIM, dans le Palatinat; MAYENCE, TRÈVES & COLOGNE, chefs-lieux des trois électors ecclésiastiques.

D. *L'Allemagne n'a-t-elle pas encore d'autres villes très-remarquables?*

R. Elle a des villes Libres & Impériales, qui sont autant de républiques, sous la pro-

rection de l'empereur & de l'empire. La liberté & l'indépendance y a depuis longtems attiré beaucoup d'habitans. Les principales sont, HAMBOURG, LUBECK, COLONGNE, qui n'est point soumise à son électeur, lequel réside à *Bonne*; FRANCFORT, sur le *Mein*; AUGSBOURG, NUREMBERG; RATISBONNE, sur le Danube; ULME & HAILBRON, en Souabe, & quelques autres.

D. *N'y a-t-il pas encore d'autres villes distinguées?*

R. On trouve encore en Allemagne, vers le nord, BRÊME & MAGDEBOURG, autrefois archevêchés, & STETIN, en Poméranie; LEIPSICK, en Saxe; WIRTZBOURG & BAMBERG, évêchés, en Franconie; SALTZBOURG, archevêché, en Bavière; STUTGARD, en Souabe; CASSEL, en Hesse; MUNSTER & LIÈGE, en Westphalie; DUSSELDORP, dans le duché de Berg, & beaucoup d'autres, qui sont soumises à divers princes de l'empire.

D. *Quelle est la religion dominante en Allemagne?*

R. Les trois religions, la catholique romaine, la protestante ou luthérienne, & la prétendue réformée ou calviniste, ont leur libre exercice dans l'empire d'Allemagne; mais la dernière n'y a été admise qu'en 1648. Les Juifs n'y sont que tolérés. La religion catholique est dominante dans les états héréditaires de la maison d'Autriche, dans la Bavière, le Palatinat, chez les trois

élec
évêc
imp

D
rien

R

Alle

cerc

part

& c

ou c

est p

Hell

Bran

Brên

D

d'A

R

rer q

don

étab

ques

tiere

qui

qui

pire

part

en e

mod

autr

tie;

imp

non

électeurs ecclésiastiques, chez les princes évêques ou abbés, & en quelques villes impériales.

D. Dans quels états la religion luthérienne & la réformée sont-elles dominantes ?

R. La communion luthérienne, née en Allemagne l'an 1517, est suivie dans les cercles de haute & basse Saxe, & dans une partie de ceux de Westphalie, de Souabe & du haut Rhin. La prétendue réformée ou calviniste, née en France vers l'an 1530, est professée dans les états du Landgrave de Hesse-Cassel, du comte de Hanau, dans le Brandebourg, dans la ville impériale de Brême, & en quelques autres endroits.

D. Quel est le gouvernement de l'empire d'Allemagne ?

R. Ce gouvernement ne se peut comparer qu'aux anciens gouvernemens des Grecs, dont les royaumes & les républiques avoient établi une assemblée générale pour juger les questions qui s'élevoient entr'eux en matière d'état. Telle est la diète de l'empire, qui répond au conseil général des Grecs. Ce qui néanmoins la distingue, est que l'empire d'Allemagne est une monarchie qui participe de l'aristo-démocratie : l'empereur en est le monarque; mais son autorité est modérée par le collège des électeurs & des autres princes qui représentent l'aristocratie; & la démocratie réside dans les villes impériales : ainsi l'empereur est le chef & non le maître de l'empire.

XXIX. L E Ç O N.

Les Etats de la Maison d'Autriche, & en particulier la Bohême & la Hongrie.

D. QUELS sont les Etats de la Maison d'Autriche ?

R. Ce sont les Pays-Bas Autrichiens; les états compris dans le cercle d'Autriche, & la Bohême en Allemagne; le royaume de Hongrie; & en Italie, une partie du Milanéz, le duché de Mantoue, & tout le grand duché de Toscane.

D. Nous avons parlé des Pays-Bas Autrichiens, & du cercle d'Autriche. En décrivant l'Italie, nous parlerons du Milanéz & de la Toscane. Parlons d'abord du royaume de Bohême.

R. On comprend sous le nom général de Bohême, quatre provinces, qui formoient l'ancien royaume de Bohême, lorsqu'il étoit indépendant. Ce sont le *Bohême propre*; le marquisat de *Moravie*; le duché de *Silésie*, au nord-est; & la *Lusace* au nord.

D. Tous ces pays appartiennent-ils aujourd'hui à la Maison d'Autriche ?

R. La Silésie presqu'entière appartient au roi de Prusse; à qui la reine de Bohême l'a cédée, après de longues & sanglantes guerres, par différens traités, en 1741 & 1745 & 1763. La Lusace appartient à l'Autriche.

lecteur de Saxe, & le roi de Prusse y possède encore quelques territoires. La Bohême propre & la Moravie sont restés à la maison d'Autriche.

D. Nommez les villes principales de ces pays.

R. PRAGUE est la capitale de la Bohême, & c'est une très-grande ville, avec un archevêché : BRESLAU, ville forte & évêché, est en Silésie : OLMUTZ, évêché, en Moravie; & GORLITZ en Lusace.

D. Quelle religion y est dominante ?

R. Les religions luthérienne & calviniste jouissent d'un libre exercice en Lusace & en Silésie : mais la religion catholique est dominante dans la Bohême & la Moravie. Le roi de Prusse est convenu de laisser la religion catholique dans l'état où elle se trouvoit en Silésie, lorsque cette province lui a été cédée. Il a même établi l'évêque de Breslau, vicaire général de tous les catholiques répandus dans les pays de sa domination.

D. Comment divisez-vous la Hongrie ?

R. Ce royaume se divise en quatre parties; haute & basse Hongrie, Esclavonie & Transylvanie. L'impératrice reine de Hongrie a rendu à la noblesse de ce royaume, tous les privilèges dont l'empereur Léopold l'avoit privée à cause de ses révoltes : ainsi son autorité y est tempérée par les états du pays, & elle en a tiré plus de secours que ses peres.

D. Quelles sont les villes principales de Hongrie ?

R. Ce sont, BUDE , ancienne capitale : PRESBOURG , qui en a aujourd'hui les honneurs : GRAN ou STRIGONIE , archevêché & primatie : ces trois villes sont situées sur le Danube , le plus grand fleuve de l'Europe. TOKAI , fameuse par ses vins , est sur la Teisse. ESSECK , sur la Drave , est dans l'Esclavonie , & HERMANSTAT dans la Transylvanie.

D. Que remarquez-vous encore sur la Hongrie ?

R. Ce pays est très-abondant en blés , en vins qui s'envoient en Pologne , en fruits , en gros bétail & en gibier. On y trouve des mines d'or , d'argent , & d'autres métaux & minéraux. La religion y a souffert quelques révolutions : mais aujourd'hui la catholique y est dominante , quoiqu'on y trouve beaucoup de Luthériens & de Calvinistes.

XXX. L E Ç O N.

La Pologne.

D. COMMENT divisez-vous la Pologne ?

R. Le royaume de Pologne , l'un des plus grands & des plus distingués de l'Europe , se divise en *Royaume de Pologne* , & grand *Duché de Lithuanie*. L'union de ces deux états , commencée en 1386 , ne fut en-

tièrement conclue & affermie, qu'en 1569.

D. Que remarquez-vous de considérable dans la Pologne ?

R. Bien des choses distinguent ce royaume. Le pays est très fertile en grains. La nation est une république militaire, jalouse de sa liberté, qu'elle a toujours défendue courageusement contre les insultes de ses ennemis. Le peuple des campagnes y est esclave de la noblesse. Le roi est plutôt le chef, que le maître du gouvernement.

D. Quelles sont les villes les plus remarquables de la Pologne ?

R. Ce sont, CRACOVIE, sur la Vistule, capitale du royaume. VARSOVIE, aussi sur la Vistule, est la résidence ordinaire du roi. DANTZICK, à l'embouchure de la Vistule dans la Mer Baltique, est une ville libre, très-commerçante, sous la protection de la Pologne. On remarque encore GNESNE, à l'occident de Varsovie, dont l'archevêque est Primat du royaume, le premier des sénateurs, & régent de l'état pendant l'interregne. LÉOPOLD, à l'orient de Cracovie, est le second archevêché du royaume. Il y a un archevêque pour les Arméniens, & un évêque pour les Grecs, qui sont en grand nombre dans cette ville, où il se fait un grand commerce. KAMINIECK, la plus forte place de la Pologne, est située au voisinage de la Moldavie.

D. Nommez les principales villes de la Lithuanie.

R. VILNA, sur la Vilia, est la capitale. Elle a un évêché & une université. GRODNO, au midi, sur le Niémen, est une ville considérable, où les diètes générales du royaume se tiennent de trois ans en trois ans.

D. *Quelle est la religion en Pologne ?*

R. La religion catholique est la dominante. Il y a cependant en Pologne, des Grecs Schismatiques, des Réformes ou Calvinistes, & des Luthériens.

D. *Quelle est la situation actuelle de la Pologne ?*

R. Ce royaume est, depuis plusieurs années, désolé par une guerre intestine, qui y a répandu la désolation, & qui l'a réduit à un tel état de foiblesse, que les puissances voisines en ont démembré de grandes provinces, dont elles se sont emparées.

D. *Quelles sont les provinces actuellement démembrées de la Pologne ?*

R. Par le traité de partage concerté le 5 août 1772 *, entre la reine de Hongrie, la

* On a remarqué que les malheurs qui affligent aujourd'hui la Pologne, ont été prédits avec toutes leurs circonstances, par le roi Jean-Casimir, dans le discours qu'il fit aux états assemblés en 1661, lorsqu'il leur annonça la résolution où il étoit d'abdiquer la couronne. Ce discours est imprimé dans le recueil que Jean-Christien LUNIG fit imprimer à Leipsick, en 1713, sous ce titre : *Orationes procerum Europæ.* » Je prévois, dit le roi Jean-Casimir, les malheurs qui menacent notre patrie, & plût à Dieu que je fusse un faux prophète ! Le Moscovite & le Cosaque se joindront au peuple qui parle la même langue

czarine & le roi de Prusse ; la Maison d'Autriche s'est emparée de tout ce qui est à la droite de la Vistule , depuis Biala jusqu'au confluent du Vieprz dans la Vistule , en y comprenant les salines de Wieliczka , de Bochnia & de Zambor , qui formoient le principal revenu de la couronne ; les palatinats de Lublin , de Belz , & de Russie ; une partie de celui de Volhinie , jusqu'à la riviere de Slucz , & une partie de la Podolie jusqu'à Kaminieck.

Le roi de Prusse a pour sa part , la Prusse Polonoise , le palatinat de Culm , excepté Dantzick & Thorn , qui doivent rester villes libres ; la Warmie , & cette partie du palatinat de Posnanie , qui se trouve entre la Poméranie Brandebourgeoise & la riviere de Nerze.

La Russie a toute la partie du grand duché de Lithuanie située au-delà de la Dwina , au dessous de Polocz & de la Perefczynna. Par cet arrangement , elle acquiert le palatinat de Livonie , dans sa totalité , la plus grande partie de celui de Polocz , les pala-

» qu'eux , & s'approprieront le duché de Lithuanie. Les
 » confins de la grande Pologne seront ouverts au Brande-
 » bourg ; & la Prusse elle-même fera valoir des traités , ou
 » le droit des armes , pour faire la guerre sur notre terré-
 » toir. Au milieu de ce démembrement de nos états , la
 » maison d'Autriche ne laissera pas échapper l'occasion de
 » porter ses vues sur Cracovie. Chacun de nos voisins
 » aimera mieux s'emparer à main armée d'une portion de
 » la Pologne , que d'attendre de posséder peut-être un
 » jour un royaume que ses anciens privilèges garantissent
 » des entreprises des puissances étrangères ».

tinats entiers de Witepsk & de Mscislaw ;
& une grande partie de celui de Minsk ;
enfin quelques territoires voisins de Kiovie,
au moyen desquels il ne reste plus rien du
palatinat de Kiovie.

XXXI. L E Ç O N.

Les états du roi de Prusse.

D. QU'EST-CE que la Prusse ?

R. C'est un pays situé au nord-ouest de
la Pologne , occupé anciennement par les
Borusses , peuple Sarmate , qui étoit encore
idolâtre au treizième siècle. Les chevaliers
de l'ordre Teutonique s'établirent dans ce
pays , qu'ils subjuguèrent en 1230 ; & ils
le posséderent jusqu'en 1525. Albert de
Brandebourg , alors grand-maître de l'or-
dre Teutonique , ayant embrassé les erreurs
de Luther , avec plusieurs de ses chevaliers ,
disposa du pays en maître souverain. Il en
céda la partie occidentale à la Pologne , &
il garda la partie orientale pour lui , sous le
titre de duché , & comme fief de la Po-
logne.

D. *La Prusse se trouva donc ainsi parta-
gée en deux parties ?*

R. Oui. On nomma *Prusse Royale* ou
Prusse Polonoise , celle qui demeura à la
Pologne , & *Prusse Ducale* , celle qui avoit
été érigée en duché , & qui est aujourd'hui
le royaume de Prusse.

D. Comment s'est formé ce royaume ?

R. Le duché de Prusse étant passé aux électeurs de Brandebourg, ils se rendirent en 1660, indépendans de la Pologne. Frédéric, troisième électeur de Brandebourg, prit en 1701, le titre de roi; mais il ne fut reconnu en cette qualité, par les puissances de l'Europe, qu'en 1713. Le prince aujourd'hui régnant, est le troisième roi de Prusse.

D. Quelles sont les plus considérables villes du royaume de Prusse ?

R. KONIGSBERG, sur le Prégel, est la capitale; mais le roi fait sa résidence ordinaire à Berlin, dans le marquisat de Brandebourg, en Allemagne. PILLAU, à l'embouchure du Prégel, est une place forte, dont les environs sont très-agréables. On y pêche beaucoup d'esturgeons.

D. Le roi de Prusse ne possède-t-il pas d'autres états ?

R. Ce prince est, après la Maison d'Autriche, le plus puissant prince de l'Allemagne, où il possède, indépendamment de son électorat, des terres très-considérables.

D. Faites connoître toutes les possessions du roi de Prusse en Allemagne.

R. Le roi de Prusse possède, dans le cercle de la haute Saxe, la Marche de Brandebourg, & la plus grande partie de la Poméranie; dans la Bohême, le comté de Glatz, une partie de la basse Lusace, & la Silésie presque entière; dans la Saxe, le territoire de Hall, & la moitié du comté de

Mansfeld : dans le cercle de basse Saxe ; le duché de Magdebourg & la principauté d'Halberstat ; dans le cercle de Westphalie , la principauté de Minden , le comté de Ravensberg , le comté de la Marck & le duché de Clèves ; enfin dans la Suisse , il possède le comté de Neuchâtel.

XXXII. L E Ç O N.

L'Espagne.

D. *DIVISEZ le royaume d'Espagne.*

R. L'Espagne, l'un des plus grands royaumes de l'Europe, se peut diviser de plusieurs manières : 1^o. en états de Castille & états d'Aragon : 2^o. en provinces ecclésiastiques : 3^o. en partie septentrionale, & partie méridionale. Nous suivrons cette dernière division, comme la plus commode pour l'usage de la géographie.

D. *Combien la partie septentrionale contient-elle de provinces ?*

R. La partie septentrionale de l'Espagne contient huit provinces ; savoir, la *Galice*, la principauté des *Asturies*, titre du fils aîné d'Espagne, & la *Biscaye*, toutes trois sur l'Océan : le royaume de *Léon*, la *Castille vieille*, la *Navarre* & l'*Aragon* ; enfin la *Catalogne*, qui est sur la Mer Méditerranée. La plupart de ces provinces ont formé autrefois des royaumes particuliers.

D. *Quelles sont les provinces de la partie méridionale de l'Espagne ?*

R. Ces provinces, au nombre de cinq, sont, la *Castille nouvelle* ou méridionale, l'*Andalousie*, *Grenade*, *Murcie* & *Valence*. Ces trois dernières ont eu titre de royaume, aussi-bien que les îles *Maïorque* & *Minorque*, qui sont dans la Méditerranée, à l'orient du royaume de Valence.

D. *Nommez les villes principales de l'Espagne septentrionale.*

R. *COMPOSTELLE*, est dans la Galice ; *OVIÉDO*, dans les Asturies ; *BILBAO*, dans la Biscaye ; *LÉON*, dans la province de ce nom, avec *SALAMANQUE*, où est une université célèbre ; *BURGOS*, dans la Castille vieille, avec *VALLADOLID* & *SÉGOVIE*.

D. *Quelles sont les autres villes de l'Espagne septentrionale ?*

R. Ce sont, *PAMPELUNE*, capitale de la haute Navarre, que les Espagnols ont enlevée sur l'aïeul maternel d'Henri IV. *SARAGOCE* est la capitale de l'Aragon, & *BARCELONE* de la Catalogne, où l'on trouve encore *TARRAGONE*, archevêché, *TORTOSE*, *LÉRIDA*, *URGEL* & *GIRONE*.

D. *Quelles sont les villes principales de la partie méridionale de l'Espagne ?*

R. Ces villes sont, pour la Castille nouvelle, *MADRID*, grande, bien bâtie, & maintenant la capitale de toute l'Espagne ; *TOLEDE*, autrefois capitale, avec un riche archevêché. *ALCALA*, avec une université,

fondée en 1517, par le cardinal Ximenès, est à cinq lieues à l'orient de Madrid ; l'ESCURIAL, la plus vaste des maisons royales de l'Espagne, à six lieues à l'occident de Madrid.

D. Marquez les autres villes de l'Espagne méridionale.

R. Dans l'Andalousie, sont, SEVILLE, avec archevêché; CORDOUE; CADIX, ville très-ancienne & très-commerçante; GIBRALTAR, occupée par les Anglois. VALENCE & ALICANTE sont dans le royaume de Valence; MURCIE, dans la province de même nom, avec CARTHAGÈNE. GRENADE & MALAGA, sont dans le royaume de Grenade. MAÏORQUE est la capitale de l'île de même nom; & PORT-MAHON, dans l'île Minorque, est occupé par les Anglois.

XXXIII. L E Ç O N.

Suite de l'Espagne.

D. QUELLES sont les provinces ecclésiastiques de l'Espagne ?

R. Il y en a huit, soumises à autant d'archevêchés. Ce sont ceux de *Toledo*, primat de toute l'Espagne; *Burgos*, dans la vieille Castille; *Compostelle*, dans la Galice; *Séville*, dans l'Andalousie; *Grenade*, au midi de l'Espagne, dans la province de son nom; *Valence*, à l'embouchure du Guadalaviar dans la Méditerranée; *Saragoce*,

sur l'Ebre, au centre de l'Aragon; *Tarragone*, ville maritime dans la Catalogne. Ces métropolitains ont sous eux quarante-quatre évêques. Les archevêchés & évêchés d'Espagne sont la plupart très-riches.

D. Quelle est la religion dominante en Espagne ?

R. La seule religion catholique, qu'on y prêcha dès les premiers siècles de l'église, est reçue en Espagne, à l'exclusion de toute autre; & quand il s'y est élevé des erreurs, elles n'ont guère tardé à être confondues & dissipées. Dans le commencement du huitième siècle, les Mahométans d'Afrique s'y introduisirent: les Juifs y entrèrent presque dans le même temps; mais Philippe III les en fit sortir en 1610.

D. La religion catholique s'y est-elle toujours bien maintenue ?

R. Les évêques sont fort zélés pour le maintien de la religion catholique; mais il y étoit toujours resté quelque levain du Judaïsme & du Mahométisme. On s'est cru obligé, pour en empêcher le progrès, d'établir dans ce royaume, divers tribunaux d'Inquisition, pour punir ceux qui, en professant à l'extérieur la religion catholique, ne laissoient pas de suivre les égaremens de leurs peres.

D. Quelles sont les mœurs & le gouvernement de l'Espagne ?

R. Les Espagnols sont graves, sérieux, fort prudents & grands politiques, patients

dans les travaux, fidèles à leurs rois, & sobres dans le boire & dans le manger. Leur langue est, en quelque sorte, proportionnée au caractère de ces peuples : elle est belle, la plus majestueuse de celles qui sont dérivées de la langue latine, & ne laisse pas d'être mêlée de quelques termes arabes, dont elle a retenu une partie de la prononciation. Le gouvernement de ce royaume est monarchique, & la couronne passe aux filles, au défaut d'héritiers mâles dans la ligne directe.

D. *Quelles sont les rivières de l'Espagne ?*

R. Les principales rivières de l'Espagne, qui toutes y ont leur source, sont le *Minho*, qui vient de la Galice : le *Douro*, qui prend sa source dans la vieille Castille, six lieues au sud de la ville de Calahorra : le *Tage*, qui naît vers les frontières de l'Aragon : la *Guadiana*, qui sort des montagnes de la nouvelle Castille : le *Guadalquivir* vient aussi des montagnes de la nouvelle Castille, vers la province de Murcie. Toutes ces rivières se déchargent dans l'Océan. L'*Ebre*, qui vient des frontières des Asturies, se décharge dans la Méditerranée, aussi-bien que le *Guadalaviar*, le *Xucar* & la *Ségura*.

D. *Nommez les montagnes de l'Espagne ?*

R. Ces montagnes sont les *Pyrénées*, qui séparent l'Espagne d'avec la France ; les *montagnes des Asturies*, au nord-ouest de ce royaume : il s'en trouve encore beaucoup d'autres dans le royaume de Léon,

l'Est
tout
mea
D
R
pagr
rané
glois
norc
plac
dern
la pa
D
hors
R
& q
dans
à-din
dans
dans
D
R
ranc
plus
roy
l'Es
fut
il e

l'Estrémadure & la Castille nouvelle, qui toutes sont très-considérables, & des rameaux des monts Pyrénées.

D. *Quelles sont les îles de l'Espagne?*

R. Les principales îles que possède l'Espagne en Europe, sont, dans la Méditerranée, les îles Maïorque & Iviça. Les Anglois, depuis 1708, sont maîtres de Minorque, où est PORT-MAHON, très-forte place, que les François ont prise dans la dernière guerre; mais qu'ils ont rendue à la paix, en 1763.

D. *L'Espagne n'a-t-elle pas des possessions hors de l'Europe?*

R. Elle possède encore plusieurs places & quelques îles en Afrique; plusieurs îles dans l'Asie, & de grands domaines, c'est-à-dire, plus de la moitié de l'Amérique, dans le continent & les îles. On en parlera dans la suite.

XXXIV. L E Ç O N .

Le Portugal.

D. *QUEST-CE que le Portugal?*

R. Le Portugal, qui peut avoir cent quarante lieues du nord au sud, en a tout au plus cinquante de l'ouest à l'est. C'est un royaume héréditaire, qui fut détaché de l'Espagne vers la fin du onzième siècle. Il y fut réuni par Philippe II, en 1580; mais il en a été séparé l'an 1640, que le trône en

fut occupé par la maison de Bragance , qui le possède encore aujourd'hui.

D. En combien de provinces le Portugal est-il partagé ?

R. Le Portugal contient six petites provinces ; savoir , l'*Entre-Douro & Minho* , *Tra-los-Montes* : toutes deux dans la partie septentrionale du royaume. Le *Beyra*, au sud du Douro , est une province assez grande , bornée par deux fleuves , le Douro au nord , & le Tage au sud. La province d'*Estrémadure* , dans laquelle se trouve Lisbonne , est la plus considérable du royaume. L'*Alentéjo* , qui est au-delà du Tage , se distingue par sa fertilité & par son étendue. La province d'*Algarve* , qui a eu le titre de royaume , est la plus méridionale de toutes ces provinces.

D. Quelles sont les principales villes de ces provinces ?

R. Ce sont , LISBONNE , archevêché & capitale de tout le royaume , ville riche & marchande sur le Tage , & à cinq ou six lieues de la pleine mer : on fait le désastre qu'elle a éprouvé en 1755 , par un tremblement de terre : BRAGA , ville archiépiscopale , dans la province entre Minho & Douro ; PORTO , presque à l'embouchure du Douro , la seconde ville du royaume pour l'importance ; CONIMBRE , où est une célèbre université.

D. N'y a-t-il pas encore quelques villes remarquables ?

R
GAN
régn
los-
fait
Cor
UBÈ
au l
de f
D
F
une
l'ex
lieu
sud
cap
de
cél
I
tre
Te
se
A
B
di
le
d
d
u
t

R. On trouve encore la ville de BRAGANCE, en titre de duché, dont la maison régnante portoit le nom, au nord de Trallos-Montes. AVEIRO, port de mer, où l'on fait commerce de sel, est situé entre Porto & Conimbre. SÉTUBAL, nommé aussi SAINT-UBÈS, est un bon port de mer, dix lieues au sud de Lisbonne; & l'on y fait beaucoup de sel, très-estimé.

D. *Que contient l'Algarve ?*

R. L'Algarve, autrefois royaume, est une province assez petite sur la mer, à l'extrémité méridionale : elle peut avoir 25 lieues de l'ouest à l'est, sur 10 du nord au sud. Ses principales villes sont, TAVIRA, capitale; FARO, ville épiscopale; le bourg de Saint-Vincent, à l'extrémité de ce cap célèbre.

D. *Le Portugal ne possède-t-il point d'autres domaines ?*

R. Il possède encore les îles Açores ou Terçeres, entre le Portugal & l'Amérique septentrionale. Il a aussi quelques places en Afrique, quelques villes en Asie, & le Brésil, vaste contrée de l'Amérique méridionale, d'où le roi & ses peuples tirent leurs principales richesses.

D. *Que remarque-t-on de considérable dans le Portugal ?*

R. Les peuples de ce royaume, quoique de mêmes mœurs que les Espagnols, ont une antipathie presque insurmontable contre ces derniers; ce qui en partie a procuré

la révolution de 1640 en faveur de la maison de Bragance, qui régné aujourd'hui en Portugal. L'air y est le même qu'en Espagne, & la religion catholique est la seule qu'on y souffre : c'est pour la maintenir qu'on a établi autrefois trois sièges d'Inquisition, à Lisbonne, à Conimbre & à Evora.

XXXV. L E Ç O N.

L'Italie.

D. QU'EST-CE que l'Italie ?

R. L'Italie est une des plus belles & des plus considérables régions de l'Europe, en forme de presqu'île, qui fait une espece de botte. Elle est bornée au nord par les montagnes des Alpes, & de tous les autres côtés elle est environnée par la Mer Méditerranée. Elle a environ 280 lieues, depuis la montagne du grand Saint-Bernard dans les Alpes, jusqu'au cap de Spartivento aux extrémités de la Calabre.

D. Comment divise-t-on l'Italie ?

R. Pour la facilité de la géographie, l'Italie se divise en trois parties ; savoir, en partie septentrionale ; partie du milieu, & partie méridionale.

D. Marquez les états de l'Italie septentrionale, ou Lombardie.

R. Ce sont les états du roi de Sardaigne ; la république de Gènes & celle de Lucques ; les duchés de Milan, de Parme & Plaifan-

ce , de Mantoue , de Modène & de la Mirandole ; enfin , les états de la république de Venise .

D. Quels états comprend la partie du milieu de l'Italie ?

R. Ce sont , le grand duché de Toscane , pays très-riche & très fertile , & les états de l'Eglise . Ces derniers se subdivisent en plusieurs principautés ou provinces , toutes soumises au pape , comme prince temporel , en même tems qu'il est le chef de la religion catholique .

D. Quels sont les états de la partie méridionale de l'Italie ?

R. Cette partie est occupée toute entière par les états du roi des Deux Siciles , c'est-à-dire , le royaume de Naples , & celui de Sicile .

D. Quelles sont les montagnes de l'Italie ?

R. Ce sont les *Alpes* , qui séparent l'Italie d'avec la France , la Suisse & l'Allemagne ; & l'*Apennin* , qui va du nord au sud , & coupe l'Italie en deux parties , dont l'une est à l'occident , & l'autre à l'orient de cette chaîne de montagnes . Il y a encore quelques autres montagnes particulières , dispersées de côté & d'autre .

D. Quels lacs trouve-t-on en Italie ?

R. Les plus considérables sont dans le Milanéz , le *Lac Majeur* , & celui de *Côme* ; le *lac de Guarda* , dans les états de Venise ;

le lac de Pérouse, dans le Pérugin. On peut y ajouter celui de Célano, dans l'Abruzze; & ceux de Lésina & de Varano, près du mont Gargan ou Saint-Ange, dans la Capitanate.

D. Quelles sont les rivières de l'Italie ?

R. Ces rivières sont le Pô, qui reçoit l'Adige, le Tésin & l'Adda; l'Adige, qui passe à Vérone; l'Arno, sur lequel sont Florence & Pise; le Tibre, qui passe à Rome. Le Gariglian, le Volturno, le Candelara, le Brandano & l'Agri, sont tous cinq dans le royaume de Naples. Il y a d'ailleurs en Italie, un grand nombre de moindres rivières, qui contribuent à la fertilité & à la beauté du pays.

D. Quel est le gouvernement de l'Italie ?

R. Le gouvernement ne peut être le même, en une région partagée en un si grand nombre d'états différens. Celui des états du roi de Sardaigne, de ceux appartenant à la maison d'Autriche, & du royaume des Deux Siciles, est monarchique. Venise, quoique république, a un gouvernement purement aristocratique; mais ferme, & tel qu'il le faut pour conduire un peuple sur lequel l'impression de l'autorité a plus de pouvoir que la sagesse des loix. Celui du pape & des autres souverains, tourne plus vers la douceur, & convient à des sujets dociles, qui savent se conformer aux règles d'une sage & respectueuse obéissance.

D.
ment

R.
cipa
ferra
Lac
gne.

D.

R.
de l
lustr
port
est d
le G
Sav
rien

D.

R.
de S
AN
de l
calv
que
taif
SAR
que

XXXVI. L E Ç O N.

Les États du roi de Sardaigne.

D. QUELLES sont les provinces qui forment les États du roi de Sardaigne ?

R. Ce sont le duché de Savoie, la principauté de Piémont, le marquisat de Montferrat, la partie du Milanéz en-deça du Lac Majeur & du Tésin, & l'île de Sardaigne.

D. Qu'est-ce que la Savoie ?

R. C'est un duché, l'ancien patrimoine de la maison de Savoie, l'une des plus illustres de l'Europe, & qui depuis 1720 porte le titre de Roi de Sardaigne. La Savoie est divisée en six petites provinces, qui sont le *Genevois*, le *Chablais*, le *Faucigny*, la *Savoie propre*, la *Tarentaise*, & la *Maurienne*.

D. Nommez les villes principales ?

R. CHAMBERRI est la capitale du duché de Savoie : elle est le siège du parlement. ANNECI, dans le Genevois, est la résidence de l'évêque de Genève, depuis 1535, que les calvinistes de Genève chasserent leur évêque. MOUSTIER, dans le comté de Tarentaise, est le siège d'un archevêque, & SAINT-JEAN DE MAURIENNE celui d'un évêque.

D. Qu'est-ce que le Piémont ?

R. Cette principauté prend son nom de sa situation au pied des Alpes, qui la séparent de la France & de la Savoye. Le fils aîné du roi de Sardaigne portoit ci-devant le titre de Prince de Piémont; maintenant il porte celui de Duc de Savoye.

D. *Comment se divise le Piémont ?*

R. Il comprend six petites provinces; le Piémont propre, dans le milieu; le duché d'Aouft, au nord; la seigneurie de Verceil, & le comté d'Ast, à l'orient; le marquisat de Saluces, à l'occident; le comté de Nice, au midi, vers la mer.

D. *Nommez les villes principales ?*

R. TURIN est la capitale du Piémont, & la résidence du roi de Sardaigne. Les autres provinces prennent le nom de leur capitale.

D. *Qu'est-ce que le Montferrat ?*

R. C'est un marquisat, qui a eu ses souverains particuliers jusqu'en 1533, que leur maison se trouvant éteinte, l'empereur Charles-Quint donna le Montferrat au duc de Mantoue. Les ducs de Savoye y avoient des prétentions bien fondées. Ils les firent valoir dans la suite; de sorte qu'en 1631, par le traité de Quierasque, la partie du Montferrat, où se trouvent les villes d'ALBE & de TRIN, fut cédée au duc de Savoye, & prit le nom de *Montferrat Savoyard*. L'autre partie, où se trouvent CASAL & ACQUI, demeura au duc de Mantoue, & prit le nom de *Montferrat Mantouan*.

D. *Le*

D
tout
R
ban
170
fans
duc
ferra
toute
D
daig
R
maif
en r
i. le
est V
terri
NA,
Cha
capi
est
VAI
est
Barb
drie
Tog
du l
abb

D. *Le Montferrat n'est-il pas aujourd'hui tout entier au roi de Sardaigne ?*

R. Le duc de Mantoue ayant été mis au ban de l'Empire & privé de ses états en 1708, & ce prince étant mort peu après sans enfans, l'empereur Joseph donna au duc de Savoie, toute la partie du Montferrat, qui étoit restée aux ducs de Mantoue.

D. *Quels sont les pays que le roi de Sardaigne possède dans le Milanéz ?*

R. Ces pays, qui lui ont été cédés par la maison d'Autriche, en 1708, en 1735 & en 1743, sont au nombre de huit; savoir, 1. les *Vallées de la Séfia*, dont la capitale est VARALLO. 2. La plus grande partie du territoire d'*Anghiéra*, où l'on trouve ARONA, qui est le lieu de la naissance de S. Charles Borromée. 3. Le *Novarois*, dont la capitale est NOVARE. 4. Le *Vigevanase*, où est VIGEVANO. 5. La *Laumelline*, où est VALENCE. 6. L'*Alexandrin*, dont la capitale est ALEXANDRIE, que l'empereur Frédéric Barberousse nomma par dérision, *Alexandrie de la Paille*. 7. Le *Tortonèse*, où est TORTONE. 8. La partie du Pavèse, au-delà du Pô. On y voit BOBBIO, qui a une célèbre abbaye, fondée par S. Colomban.



XXXVII. L E Ç O N.

*Les Républiques de Gènes & de Lucques ;
les Duchés de Milan & de Mantoue.*

D. COMMENT se divisent les États de la république de Gènes ?

R. Ces états, bornés d'un côté par la mer, & de l'autre par une chaîne de montagnes, qui sont les commencemens du mont Apennin, se divisent en partie occidentale & en partie orientale. GÈNES, ville magnifique & très-marchande, en est la capitale, avec un beau port sur la Méditerranée.

D. N'y a-t-il point d'autres villes dans l'état de Gènes ?

R. On y trouve encore SAVONE, qui avoit autrefois un bon port ; NOLI, ALBINGA & VINTIMIGLIA, villes épiscopales ; outre FINAL, que l'empereur a cédée aux Génois.

D. Que contient la république de Lucques ?

R. Cette république, dont le territoire a peu d'étendue, se trouve entre les états de Gènes & le grand duché de Toscane. Elle n'a de considérable que LUCQUES, ville épiscopale, bien peuplée, fort marchande, & riche par ses manufactures d'étoffes de soie.

D. Comment divisez-vous le duché de Milan ?

del
La
lan
tie
Le
terr
décr
Pô
tion
D
Mil
R
bon
de l'
tre c
CRÉ
dout
D
R
Man
fédé
Sabi
& d'
D
bles
R
forte
rema

R. Ce duché, l'un des plus considérables de l'Europe, se divise en plusieurs territoires. La maison d'Autriche possède ceux de *Milan*, de *Côme*, de *Lodi*, de *Crémone*, partie du *Pavèse* & du comté d'*Anghiéra*. Le roi de Sardaigne est maître des autres territoires, comme nous l'avons dit, en décrivant ses états. Le Lac Majeur, le Pô & le Tesin, séparent les deux dominations.

D. *Quelles sont les principales villes du Milanex ?*

R. Ce sont MILAN, défendue par un bon château; elle est une des plus grandes de l'Italie, riche, bien peuplée, & a le titre d'archevêché. PAVIE, COMÉ, LODI, CRÉMONE, sont les capitales des territoires dont elles portent le nom.

D. *Que comprend l'état de Mantoue ?*

R. Cet état comprend le duché de *Mantoue*, pays assez fertile, qui est possédé par la maison d'Autriche; le duché de *Sabionetta*, la principauté de *Castiglione*, & d'autres peu considérables.

D. *Quelles sont les villes remarquables ?*

R. MANTOUE, est une belle ville, très-forte par sa situation au milieu d'un lac. On remarque encore SABIONETTA.

—

XXXVIII, L E Ç O N.

États de Parme & Plaisance, Duché de Modène, Etats de Venise.

D. Comment les États de Parme & Plaisance sont-ils entrés dans la Maison d'Espagne ?

R. La maison Farnèse, qui possédoit ces états, s'étant éteinte en 1731, D. Carlos, infant d'Espagne, dont la mere étoit une Farnèse, en fut reconnu souverain. D. Carlos ayant ensuite conquis le royaume de Naples, il abandonna Parme à la Maison d'Autriche, en 1736. Mais par le traité d'Aix-la-Chapelle en 1748, D. Philippe, frere de D. Carlos, obtint le duché de Parme & ses dépendances. Son fils les possède aujourd'hui,

D. Comment se divisent ces états ?

R. Ils se divisent, en duché de *Parme*, à l'orient; duché de *Plaisance*, à l'occident; marquisat de *Buffeto*, au nord; & duché de *Guastalla*, au nord-est. Les villes capitales donnent le nom à ces pays.

D. Que comprenez-vous dans l'état de Modène ?

R. Cet état qui est assez fertile, appartient à une branche cadette de l'ancienne Maison d'Est, & se divise en Duché de *Modène* & Duché de *Reggio*, qui ont des villes épiscopales de même nom, assez belles & assez

marchandes. Le duc de Modène possède, depuis 1710, le duché de la Mirandole & celui de Massa. Ce sont deux états fort petits, qui n'ont de remarquables que leurs villes capitales, dont elles prennent le nom.

D. *Expliquez les Etats de Venise ?*

R. Cette république, établie dès le cinquième siècle, est la plus ancienne, la plus considérable & la plus noble de l'Europe. Ses états comprennent quatorze provinces, dont sept sont à l'occident, & les sept autres à l'orient.

D. *Quelles sont les provinces situées à l'occident ?*

R. Ce sont le *Bergamasc*, qui est voisin du Milanez; le *Cremafc*, très-petite province enclavée entre le Milanez & le Crémonefc; le *Bressan*, à l'est du Bergamasc; le *Véronèse*, près du duché de Mantoue; le *Vicentin*; enfin le *Padouan* & la *Polésine de Rovigo*, qui sont enfermés entre la Mer, la Brenta & le Pô.

D. *Nommez les villes principales de ces provinces ?*

R. Ce sont BERGAME, assez forte & assez marchande, quoique fort éloignée de la mer; CRÈME, passablement forte; BRESSE ou BRESCIA, assez peuplée; VÉRONE, sur l'Adige, assez grande, mais mal peuplée, est remplie de belles antiquités; VICENCE passe pour le Jardin de Venise; PADOUE, avec une célèbre université, & ROVIGO, petite ville: toutes ont le titre d'évêché.

D. *Marquez les provinces qui sont à l'orient ?*

R. Ces provinces, au nombre de sept, sont le *Dogado*, ou le territoire propre de Venise, gouverné par son doge; la *Marche Trévísane*, bornée au sud par l'extrémité du golfe: le *Feltrin*, le *Bellunese* & le *Cadorin*, sont au nord de la Marche, au lieu que le *Frioul* & l'*Istrie* Vénitienne sont à l'est; mais cette dernière est sur la partie orientale du golfe de Venise.

D. *Quelles en sont les villes les plus considérables ?*

R. VENISE, qui est la capitale de tous les états de cette république, est une merveille de l'industrie humaine, étant bâtie dans des lagunes, & formée d'un grand nombre de petites îles, réunies par une multitude de ponts. C'est la ville la plus belle & la plus peuplée de l'Italie, avec un archevêque, qui a le titre de patriarche. On doit encore remarquer TREVISE, belle & bien bâtie; FELTRI, BELLUNO, villes épiscopales; UDINE, dans le Frioul; CAPO D'ISTRIA, avec évêché, & POLA, dans l'Istrie.

D. *La république de Venise ne possède-t-elle pas d'autres terres ?*

R. Sur la côte orientale de la Mer Adriatique ou Golfe de Venise, elle possède encore la *Molarquie*, dont ZENG ou ZEGNA est la capitale; une partie de la *Dalmatie*, où sont ZARA & SPALATRO, villes archiepiscopales; quelques îles, entr'autres, Cor-

fou, Sainte-Maure, Céphalonie, Zante, & quelques autres à l'entrée du golfe de Venise.

XXXIX. L E Ç O N.

*Le grand Duché de Toscane & l'Etat
Ecclésiastique.*

D. A qui appartient aujourd'hui le grand duché de Toscane ?

R. Ce grand duché étoit autrefois possédé par la Maison de Médicis. Il appartient aujourd'hui à la maison d'Autriche, en conséquence de l'échange des duchés de Lorraine & de Bar, faite en 1737, avec le feu duc de Lorraine, époux de l'archiduchesse d'Autriche, reine de Hongrie & de Bohême.

D. Comment se divise cet état ?

R. Il se divise en trois provinces; savoir, le Florentin, au sud du mont Apennin; le Pisan & le Siennois, qui sont bornés par la Méditerranée.

D. Nommez les principales villes ?

R. FLORENCE, capitale, est une ville grande, belle & bien bâtie, avec archevêché & université. PISE, sur l'Arno, à deux lieues de la mer, est la capitale du Pisan. C'est une ville belle & bien bâtie, mais qui a peu d'habitans & de commerce. LIVOURNE avec un bon port sur la Méditerranée, mais qui est libre. SIENNE, archevêché & université, est la capitale du Siennois.

D. Qu'appellez-vous l'Etat Ecclésiastique ou de l'Eglise ?

R. Ce sont les principautés temporelles possédées par le pape. On en compte douze : six au nord , & six au midi.

D. Nommez les six du nord ?

R. Ce sont la *Légation de Ferrare*, pays très-fertile , possédé autrefois par une branche de la Maison d'Est , mais réuni à la chambre apostolique en 1597 ; le *Bolonois*, qui a été autrefois une république célèbre & qui est un bon pays ; la *Romagne*, entre l'Apennin & la Mer Adriatique , où est enclavée la petite république de *Saint-Marin* : le duché d'*Urbain*, réuni au saint siège en 1626 , est un pays mal-sain & peu fertile ; le *Pérujin* & la *Marche d'Ancone* sont assez fertiles.

D. Nommez les principales villes de ces six provinces ?

R. FERRARE , grande ville , mais déserte , & COMACHIO , bâtie dans des marais aussi-bien que Ferrare ; BOLOGNE , riche & fort commerçante , bien bâtie , où l'on compte plus de quatre-vingt mille habitans ; RAVENNE , ville très-ancienne ; RIMINI , dans la Romagne ; URBIN , avec archevêché , & PÉSARO , ANCONE & LORETTE. Ces trois dernières avec le titre d'évêchés , sont sur le Golfe de Venise ; mais PÉROUSE est dans les terres près du Tibre.

D. Quelles provinces sont au midi de l'Etat Ecclésiastique ?

R. Ce sont l'*Orviétan*, le duché de *Castro*, l'*Ombrie* ou duché de *Spolète*, le *Patrimoine de Saint Pierre*, la *Campagne de Rome* & la *Sabine*. On pouroit y joindre *Bénévent*, enclavé dans le royaume de *Naples*; mais cédé au *Saint Siège* en échange de la ville de *Bamberg* en *Allemagne*, qui lui appartenoit.

D. Quelles sont les principales villes de ces dernières provinces ?


R. Ce sont *ORVIETE*, *CASTRO*, *SPOLETTE*. *VITERBE* est dans le patrimoine de *S. Pierre*, aussi bien que *PORTO* & *CIVITAVECCHIA*; & *ROME*, ville célèbre, capitale de l'*État Ecclésiastique* & de la *Campagne de Rome*.

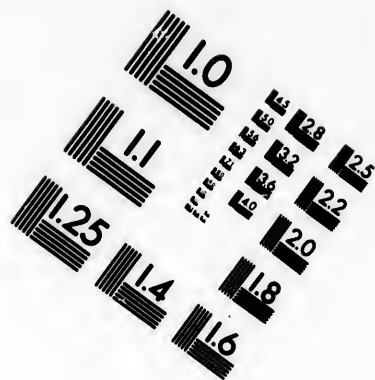
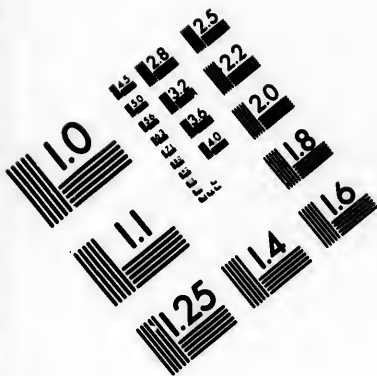
D. Que remarquez-vous encore au sujet de Rome ?

R. La grandeur & la beauté n'est pas seulement ce qui la distingue; la douceur de son gouvernement y attire des habitans de toutes les autres parties de l'*Italie*: il faut la regarder comme la patrie commune de tous les catholiques. Il ne lui manque qu'une chose pour lui rendre ce lustre qu'elle a eu sous les anciens Romains; c'est d'y faire prospérer le commerce, qui seul aujourd'hui donne du brillant & de l'éclat aux villes mêmes les plus médiocres: que ne feroit-il point à Rome ?











**IMAGE EVALUATION
TEST TARGET (MT-3)**



**Photographic
Sciences
Corporation**

23 WEST MAIN STREET
WEBSTER, N.Y. 14580
(716) 872-4503

28
25
22
20
18

10
11

X L. L E Ç O N.

Le Royaume des Deux Siciles.

D. *EXPLIQUEZ les parties méridionales de l'Italie ?*

R. Ces parties sont le royaume de Naples & de Sicile, qu'on nomme aujourd'hui *Royaume des Deux Siciles* : il est possédé par un infant d'Espagne.

D. *Divisez le royaume de Naples ?*

R. Ce royaume se divise en quatre grandes provinces ; savoir , l'*Abruzze* & la *Pouille*, à l'orient de l'*Apenin* ; la *Terre de Labour* & la *Calabre*, à l'occident de cette même chaîne de montagnes.

D. *Quelles sont les provinces & les villes de l'Abruzze ?*

R. L'*Abruzze* se partage en trois provinces ; l'*Abruzze ultérieure* & l'*Abruzze citérieure*, baignées toutes deux par le golfe de Venise ; & le comté de *Molise*, dans les terres. La première, a pour villes, *AQUILA*, *ATRI* & *TÉRAMO*. Dans la seconde, sont *CIVITA DI CHIËTI*, *LANCIANO* & *SULMONA*. Le comté de *Molise* a *MOLISE*, *TRIVENTO* & *ISERNIA*.

D. *Quelles villes & provinces contient la Terre de Labour ?*

R. La *Terre de Labour* contient la *Terre de Labour* propre, avec la *Principauté ultérieure*, & la *Principauté citérieure*. La pre-

miere & la dernière sont baignées par la Méditerranée. Les villes principales de la Terre de Labour, sont NAPLES, capitale de tout le royaume, grande & riche, avec un mouillage & un bassin pour les galeres, duquel on pouroit faire un bon port; CAPOUE, GAËTE, POZZOLES; & vers le nord l'abbaye du Mont-Cassin, qui est le berceau de l'ordre de S. Benoît.

D. *Quelles sont les autres villes de ces provinces ?*

R. Dans la Principauté ultérieure sont MONTE-MARANO & CONZA. On y trouve aussi BÉNÉVENT, duché & archevêché, qui appartient au Pape avec son territoire. Dans la Principauté citérieure, sont AMALFI & SALERNE, avec titre d'archevêchés.

D. *Quelles provinces & quelles villes comprend la Pouille ?*

R. Les provinces sont la *Capitanate*, la *Terre de Bari*, & la *Terre d'Otrante*, qui toutes trois sont baignées par le golfe de Venise. On y trouve les villes de MANFRÉDONIA, BARI, OTRANTE, archevêché, avec TRANI & TARENTE, qui sont des évêchés.

D. *Que contient la Calabre ?*

R. Elle contient la *Basilicate*, la *Calabre citérieure* & la *Calabre ultérieure*, toutes trois sur la mer. Les villes principales sont CIRENZA, COSENZA, SAN-SEVERINO, avec archevêché, & RÉGIO.

D. *Comment divisez-vous la Sicile ?*

R. La Sicile , qui est une île , avec titre de royaume , se divise en trois grandes vallées , qui sont celles de *Démona* , au nord-est , de *Mazara* , à l'ouest , & de *Noto* , au sud-est.

D. *Quelles sont les principales villes ?*

R. MESSINE , capitale , grande , riche & commerçante , sur le Fare ou détroit de Messine , du côté du royaume de Naples ; PALERME , grande ville , avec un port , a titre d'archevêché ; MAZARA , aussi avec un port & un évêché ; CATANA , ville maritime , à l'orient , presque ruinée par l'embrâsement du Mont - Gibel ou Etna ; enfin SIRACUSE , autrefois capitale de la Sicile.

D. *Quel est le gouvernement du royaume des Deux Siciles ?*

R. Ce royaume , sujet autrefois à beaucoup de révolutions , est aujourd'hui une monarchie , dont le gouvernement , qui est très-sage , a été formé sur le modèle de ceux de France & d'Espagne , depuis 1735 , que Don Carlos , infant d'Espagne , s'en rendit maître par la force des armes , & qu'il lui a été cédé par le traité de Vienne en 1738. Ce prince étant devenu roi d'Espagne en 1759 , a établi Naples l'un de ses fils en sa place.

XLI. L E Ç O N.

Les îles de l'Italie.

D. *QUELLES sont les îles de l'Italie ?*

R. Ces îles sont la *Sicile*, que nous venons de décrire, l'île de *Sardaigne*, qui a le titre de royaume; l'île de *Corse*; l'île de *Elbe*, près de la *Toscane*; celles de *Lipari*, au nord de la *Sicile*, & l'île de *Malthe*, à son midi. On y peut joindre *Corfou*, *Sainte-Maure*, *Céphalonie*, *Zante*, parce qu'elles appartiennent aux *Vénitiens*, & qu'elles se trouvent sur la carte d'Italie.

D. *Que contient l'île de Sardaigne ?*

R. Ce royaume, qui étoit autrefois à l'Espagne, appartient depuis 1720 au duc de *Savoye*, qui en conséquence a pris le titre de *Roi*. Le terrain est très fertile, quoiqu'on y trouve autant & plus de montagnes que de plaines. Il se divise en *Cap Lugodori* & en *Cap Cagliari*. Dans le premier est la ville de *SASSARI*, archevêché, au nord-ouest; & dans le second, *CAGLIARI*, capitale de l'île, avec un archevêché & un port. *ORISTAGNI*, qui est aussi un archevêché, est à l'ouest.

D. *Qu'est-ce que l'île de Corse ?*

R. Cette île, qui appartient aujourd'hui à la France, à qui les *Génois* l'ont cédée, est coupée en deux par une chaîne de montagnes. Dans la partie septentrionale on trouve

LA BASTIA , ville épiscopale , avec un bon port. BONIFACIO & ADJAZZO sont dans la partie méridionale. L'île *Capraia* , au nord-est , dépend de l'île de Corse.

D. *Quelles sont les autres îles de l'Italie ?*

R. L'île d'*Elbe* est partagée entre le duc de Toscane & le roi de Naples : celles de *Lipari* sont peu considérables , & dépendent de la Sicile. Il n'y a que Malthe qui mérite que l'on s'y arrête.

D. *Que doit-on remarquer par rapport à Malthe ?*

R. L'île de Malthe dépendoit de la Sicile. L'empereur Charles-Quint la donna , en 1530 , aux chevaliers de S. Jean de Jérusalem , qui venoient de perdre celle de Rhodes. Malthe a pour capitale LA VALETTE , la plus forte place de l'univers. Cette île , enviée depuis plus de 200 ans par les Turcs , n'est redevable de son salut , qu'à la Providence , qui l'a sauvée en 1749 , de la fatale conspiration tramée par le pacha de Rhodes , qui y étoit prisonnier , & renouvelée par le même pacha en 1750. Près de l'île de Malthe est la petite île de *Gozo* , qui appartient aussi aux chevaliers.

XLII. LEÇON.

La Turquie d'Europe.

D. *QU'EST-CE que la Turquie d'Europe ?*

R. Ce sont les états que le grand seigneur ou empereur des Turcs, possède en Europe depuis plus de 300 ans, par la ruine de l'empire de Constantinople. Ils se divisent en provinces septentrionales, & provinces méridionales.

D. *Nommez les provinces septentrionales?*

R. Il y en a dix; savoir, d'orient en occident, la *petite Tartarie*, la *Bessarabie* ou le *Boudziac*, la *Moldavie*, la *Valaquie*, la *Servie*, la *Bosnie*, la *Croatie*. La reine de Hongrie possède une partie de cette dernière province. Les autres sont la *Dalmatie*, partagée entre les Vénitiens & les Turcs; la *Bulgarie* & la *Romanie*. Les quatre premières sont plutôt tributaires ou protégées par le Turc, qu'elles ne sont dans son domaine, sur-tout la *petite Tartarie*.

D. *Quelles sont les villes principales de ces provinces?*

R. BACHASERAI, OR ou PERECOP, & CAFFA, sont dans la *petite Tartarie*; OSACOW & BENDER, dans la *Bessarabie*; JASSI, en *Moldavie*; TERGOWISK, en *Valaquie*; BELGRADE, en *Servie*, démolie par le dernier traité; BOSNA-SERAI, en *Bosnie*; BIHACZ ou WIHITZ, en *Croatie*; NAREN-TA, en *Dalmatie*; SOPHIE, en *Bulgarie*; CONSTANTINOPLE, capitale de tout l'empire Turc; ANDRINOPLE & GALLIPOLI, en *Romanie*.

D. *Quelles sont les provinces méridionales de la Turquie Européenne?*

R. Il y en a quatre; savoir, la *Macédoine*, & l'*Albanie*, au nord; la *Livadie* au milieu, & la *Morée* au midi. Il faut y joindre les îles de l'Archipel, nommé anciennement Mer Egée.

D. *Nommez les villes principales de ces quatre provinces?*

R. Les villes principales sont, SALONICHI, autrefois Thessalonique, sur un golfe de l'Archipel, qu'on nomme la Mer Blanche; & LARISSE, dans la Macédoine; SCUTARI & DURAZZO, en Albanie; ATINES ou SETINES, autrefois Athènes; LÉPANTE & STIVES ou Thèbes, en Livadie; CORINTHE, MODON & MISITRA, qui est l'ancienne Lacédémone, dans la Morée, autrefois connue sous le nom de Péloponnèse.

D. *Quelles sont les îles de la Turquie Européenne?*

R. Les plus considérables de ces îles, situées dans l'Archipel, sont *Stalimène*, vers le nord; *Négrepont*, voisine de la Livadie; *Skiro*, *Andro*, *Cérigo*, & *Candie*, autrefois Crète, qui est la plus grande de ces îles. Il y en a encore plusieurs autres petites, moins considérables.

D. *Le Turc ne protège-t-il pas quelque Etat en Europe?*

R. Il accorde sa protection à la petite république de Raguse, située dans la Dalmatie, dont les villes principales sont RAGUSE, capitale & archevêché, avec un bon

port; & STAGNO-GRANDE, avec quelques îles.

D. Que doit-on remarquer encore par rapport à la Turquie Européenne?

R. Ce qui doit étonner, est de voir cette monarchie se soutenir depuis trois cens ans, au milieu de toutes les puissances chrétiennes, dont elle est l'ennemie par sa religion, qui est celle de Mahomet. On peut dire que c'est la jalousie entre les autres souverains, qui fait aujourd'hui sa plus grande force.

D. Quel est le gouvernement de l'empire Turc, ou Ottoman?

R. Comme la nation est purement militaire, le gouvernement en est absolu, & même despotique, tel qu'on doit l'exercer au milieu du bruit des armes; autrement la moindre tolérance ne sauroit être que très-préjudiciable à l'obéissance des peuples & à la puissance du souverain; ce qui n'empêche pas néanmoins que la loi naturelle, & la police, n'y soient aussi exactement observées que par-tout ailleurs, & quelquefois même plus régulièrement en quelques-unes de ses parties.

XLIII. L E Ç O N.

L' A S I E.

D. QU'EST-CE que l'Asie?

R. L'Asie, située à l'orient de l'Europe,

est la plus grande des trois parties , qui forment l'ancien Continent. C'est celle qui a été habitée la première, & d'où les autres peuples sont partis après le déluge , pour aller habiter les différentes régions de la terre.

D. Comment se divise l'Asie ?

R. Elle se divise en dix parties, quatre dans l'Asie septentrionale, & six dans l'Asie méridionale.

D. Nommez les quatre parties de l'Asie septentrionale ?

R. Ce sont la Turquie d'Asie, la Géorgie, la Russie d'Asie & la Tartarie.

D. Quelles sont les six parties de l'Asie méridionale ?

R. Ce sont l'Arabie, la Perse, le Mogol, les deux presqu'îles de l'Inde, & la Chine. Nous y ajouterons les îles, qui sont en grand nombre, & forment plusieurs corps considérables.

D. Quelle forme de gouvernement est le plus en usage en Asie ?

R. Tous les souverains de l'Asie regnent avec une autorité absolue, & sont adorés de leurs sujets, à qui ils se montrent rarement, pour leur inspirer plus de respect. Il n'y a pas une seule république dans tout ce vaste continent.

D. Quelles sont les religions dominantes en Asie ?

R. Le mahométisme est la religion dominante dans tous les pays de l'intérieur de

l'Asie. Les autres pays, au midi & à l'orient, sont encore plongés dans les ténèbres de l'idolâtrie. Le christianisme n'est honoré que dans les endroits où les Européens ont des établissemens. Pour les Juifs, ils sont répandus en Asie, comme dans les autres parties de la terre, Dieu les destinant à renouveler son église dans les tems marqués par sa Providence.

D. *Quelles sont les montagnes de l'Asie ?*

R. Il faut remarquer deux chaînes principales de montagnes, qui traversent l'Asie d'occident en orient. La première, connue autrefois sous le nom de *Mont Taurus & Imaüs*, donne l'origine aux rivières de la partie méridionale. La seconde est composée des monts *Poyas & Nofs*, que les anciens appelloient *Monts Riphés & Hyperborés*. Les rivières de la partie septentrionale y prennent leur source.

D. *Quelles sont les principales rivières ?*

R. Il y en a dix; quatre au midi, trois à l'orient, & trois au nord.

D. *Nommez celles du midi ?*

R. Ce sont le *Tigre & l'Euphrate*, qui se réunissent dans le même lit, au-dessus de leur embouchure dans le golfe de Perse. L'*Inde & le Gange*, plus à l'orient, coulent du nord au sud, & se jettent dans la Mer des Indes.

D. *Nommez les trois rivières qui arrosent la partie orientale ?*

R. Ce sont le *Kiang* ou la rivière *Bleue*,

au midi, le *Hoàng* ou la *riviere Jaune*, au milieu, & l'*Amur* ou *Saghalien*, au nord. Ces trois rivières coulent d'occident en orient, & se rendent dans la grande Mer.

D. *Nommez les trois qui arrosent la partie septentrionale?*

R. Ce sont l'*Obi*, le *Léna* & le *Jeniféa*, qui coulent du sud au nord dans la Mer Glaciale. C'est de ces rivières, les plus grandes de l'Asie, que viennent ces amas de glaces, qui tombent dans la Mer du Nord.

D. *Ne remarquez - vous pas plusieurs grands Lacs en Asie?*

R. Les principaux, qu'on nomme *Mer*, à cause de leur étendue, & qu'ils reçoivent de grandes rivières, sont, la *Mer Caspienne*, le plus considérable de tous; la *Mer d'Aral*, à son orient; la *Mer Morte*, au midi de la Palestine; & le *Lac Baikal*, dans la Tartarie, entre les sources du *Léna* & de l'*Amur*.

XLIV. L E Ç O N.

La Turquie d'Asie & la Georgie.

D. *QUELLES sont les provinces de l'empire Turc en Asie?*

R. Ce sont la *Natolie*, autrefois l'Asie Mineure; la *Sourie*, qui comprend ce qu'on appelloit anciennement la Syrie, la Phénicie & la Palestine ou Terre-Sainte; la *Turcomanie* ou *Arménie Turque*, & le *Diar-*

beck, entre l'Euphrate & le Tigre : c'est l'ancienne Mésopotamie. Le Turc possède encore en Asie une partie de la Georgie, & plusieurs cantons en Arabie,

D. *Nommez les principales villes de la Natolie ?*

R. BURSE, au sud-est de Constantinople, est l'ancienne capitale de l'empire Ottoman. Il s'y fait un grand commerce de soie, SMYRNE, port sur un golphe de l'Archipel, vers le milieu de la côte, est la plus commerçante des échelles du levant. COGNY, qui est l'ancienne Icone, est presque au milieu de la presqu'île. CÉSARÉE, à l'orient de Cogny, est l'ancienne capitale de la Cappadoce ; son archevêque est le premier des prélats soumis au patriarche de Constantinople. TREPIZONDE, port sur la Mer Noire, a été le siège d'un empire fondé par une branche des empereurs Grecs,

D. *Qu'appellez-vous Échelles du Levant ?*

R. On donne ce nom à plusieurs villes situées le long des côtes de la Natolie & de la Syrie, où il se fait un commerce considérable. La plupart des nations de l'Europe y ont des consuls, pour veiller aux intérêts de leur commerce.

D. *Quelles sont les principales villes de la Sourie ?*

R. ALEP est la seconde ville de l'empire Turc, & le centre du commerce entre la Méditerranée & les Indes. ALEXANDRÉTTE est le port d'Alep, qui est à trente lieues

dans les terres. **ANTIOCHE**, sur l'Oronte, aujourd'hui ruinée, étoit la résidence des anciens rois de Syrie. **DAMAS**, au midi d'Alep, a été la capitale d'un royaume dont il est beaucoup parlé dans l'écriture sainte. **SEYDE**, autrefois Sidon, ville des Phéniciens, sur la mer. On trouve plus au midi, les ruines de l'ancienne **TYR**. **JÉRUSALEM**, cette ville si célèbre, seroit aujourd'hui peu connue, sans la dévotion qui y attire de toutes parts les chrétiens, pour visiter le saint sépulchre.

D. Qu'est-ce que les Druses, qui habitent les montagnes du Liban entre Seyde & Damas ?

R. C'est une nation gouvernée par un Emir, vassal du grand seigneur. Ces Druses se disent issus des Croisés, qui, chassés de la Palestine, se réfugièrent dans ces montagnes. Ils ne sont ni chrétiens, ni mahométans : mais ils forment une secte particulière, qui a le mahométisme en horreur. Les montagnes du Liban sont aussi occupées par d'anciens chrétiens, nommés *Maronites*, qui gémissent sous l'oppression des Turcs.

D. Quelles sont les villes de la Turcomanie ?

R. Ce sont **ERZERUM** & **KARS**,

D. Nommez les principales du Diarbeck ?

R. **DIARBEKIR** & **MOSUL**, toutes deux sur le Tigre, sont dans le Diarbeck propre. **BAGDAD**, sur le Tigre, au-dessous de Mo-

ful
réu
vill
LIS
Tig
I
A/
I
pre
ric.
à l'
pel
par
On
des
côte
not
de
Lesb
dern
l'Ev
lypl
D
R
cont
Caf
favo
& le
font
& d
les p
orie

ful, & BASSORA, sur le Tigre & l'Euphrate réunis près le golfe Perfique, sont deux villes considérables de l'*Irac-Arabi*. BETLIS, à l'orient de Diarbekir, au-delà du Tigre, est la capitale du *Kurdistan*.

D. *Quelles sont les îles de la Turquie Asiatique ?*

R. La plus considérable est l'île de *Chypre*, entre les côtes de Natolie & de Sourie. Sa capitale est NICOSIE. Près la Natolie, à l'extrémité des côtes voisines de l'Archipel, est l'île de *Rhodes*, autrefois occupée par les chevaliers de S. Jean de Jérusalem. On attribue encore à l'Asie, les *îles Sporades*, situées dans l'Archipel, le long des côtes de Natolie. Les principales, sont du nord au sud; *Ténédos*, vis-à-vis les ruines de l'ancienne Troye; *Mételin*, autrefois Lesbos; *Chio*; *Samos* & *Pathmos*. Cette dernière est célèbre par l'exil de S. Jean l'Evangéliste, qui y écrivit son Apocalypse.

D. *Qu'est-ce que la Georgie ?*

R. La Georgie ou Gurgistan, est cette contrée située entre la Mer Noire & la Mer Caspienne, Elle renferme plusieurs pays; savoir, la *Mingrèlie*, le *Guriel*, l'*Imiretta* & le *Carduel*, avec le *Caket*. Tous ces pays sont extrêmement coupés par des rivières & des montagnes: les Turcs en possèdent les parties occidentales, & les Persans les orientales.

XLV, L E Ç O N.

La Russie d'Asie,

D. *QUEST-CE que la Russie d'Asie?*

R. C'est une vaste étendue de pays qui occupe tout le nord de l'Asie, & qui fait partie de l'empire des Russes. Les monts *Kamenoi-Poyas* la séparent naturellement en deux parties; l'une *occidentale*, arrosée par le Volga & le Jaick, qui se rendent dans la Mer Caspienne; & l'autre *orientale*, qu'on nomme la Sibérie.

D. *Décrivez les pays de la partie occidentale?*

R. Elle comprend la portion de la Tartarie, qui appartient à l'empire de Russie: & elle est partagée en trois gouvernemens; savoir, d'*Astrakan*, d'*Orenbourg* & de *Kasan*, qui prennent leur nom de leurs capitales. La ville d'*ASTRAKAN* est située dans une île du Volga, près l'embouchure de ce fleuve dans la Mer Caspienne. *ORENBOURG* est une nouvelle ville, bâtie en 1738, sur le Jaïk. *KASAN* est sur le Volga, au-dessous de la sortie de la Russie d'Europe.

D. *Qu'est-ce que la Sibérie, qui forme la partie orientale de l'empire Russe en Asie?*

R. La Sibérie a plus de 1200 lieues de l'occident à l'orient, & environ 400 du septentrion au midi. On la divise en trois grandes provinces, dans lesquelles sont
aujourd'hui

aujourd'hui mêlés trois sortes de peuples.

D. Quelles sont ces provinces ?

R. Elles prennent le nom de leurs capitales ; savoir TOBOLSK , qui est la résidence du gouverneur de toute la Sibérie ; IENISEISK , & IRKOUTSK , près d'un grand lac nommé Baikal.

D. Marquez les noms des trois sortes de peuples de la Sibérie ?

R. Ce sont les Païens , Samoiédes , Ostiakes , Tongoufes , &c. que l'on regarde comme les plus anciens habitans : les Tartares Mahométans , sur lesquels les Russes ont conquis , il y a environ 150 ans , la Sibérie occidentale : les Russes , qui en sont les plus nouveaux habitans : ils y ont bâti nombre de villes , & y ont trouvé des mines de fer , de cuivre , d'argent & d'or , avec quantité de magnifiques fourures.

D. Qu'est-ce que le Kamtchatka , qui est à l'extrémité orientale de la Sibérie ?

R. C'est une presqu'île , d'où les Russes ont déjà navigué au Japon & en Amérique. On a découvert ainsi la configuration de la terre de ce côté , qu'on ne connoissoit point avant ce tems.

D. Ne seroit-ce pas par le détroit voisin du Kamtchatka , que l'Amérique a été peuplée ?

R. Cela paroît certain. Le détroit est souvent glacé : les bêtes féroces auront passé par-là en Amérique , & peut-être les hommes en les poursuivant , ou autrement.

Quoi qu'il en soit, on trouve de grands rapports entre les peuples du nord de l'Asie, & les Américains.

XLVI. L E Ç O N.

La grande Tartarie.

D. *QUE* comprenez-vous sous le nom de grande Tartarie ?

R. Une vaste étendue de pays, bornée au nord par la Sibérie, & au midi par la Chine, l'Indostan, la Perse, &c. On l'appelle grande Tartarie, pour la distinguer de la petite, qui est en Europe; & on la partage en trois, savoir, la *Tartarie Russe*, dont nous venons de parler; la *Tartarie indépendante*, & la *Tartarie Chinoise*.

D. *Que* contient la Tartarie indépendante ?

R. La partie renfermée entre la Mer Noire & la Mer Caspienne, est occupée par les Tartares Circasses, Kubans, Dagestans, & autres qui habitent le mont Caucase, On y remarque TERKI sur la Mer Caspienne. A l'orient de cette mer, est la plus grande partie de la Tartarie indépendante, qui contient diverses sortes de Tartares Mahométans, & les Kalmouks ou Eluts, qui sont païens.

D. *Quels* sont ces Tartares Mahométans ?

R. Ce sont les Karakalpaks, les Turks,

mens, les Casatchias, & les Usbeks, qui sont les plus puissans, & qui occupent les pays nommés Kharasm & grande Bukharie.

D. Ces Tartares Mahométans n'ont-ils pas des villes remarquables ?

R. Leurs villes principales sont OTRAR, URGHENS, SAMARKAND, fort déchue de ce qu'elle étoit autrefois, BUKHARA & BALK, toutes deux grandes & commerçantes.

D. Qu'est-ce que les Tartares Kalmouks ?

R. Ce sont ceux des Tartares païens, qui occupent le milieu de la Tartarie : ils se nomment aussi Eluths. A l'extrémité de leurs états, & dans ce qu'on appelle le Tibet, demeure le Dalai-Lama, ou souverain pontife des Tartares Kalmouks & Mogols, qui le regardent comme une es-
pece de divinité.

D. Quelles sont les villes de cette branche de Tartares ?

R. Comme leur khan ou prince, nommé Contaisch, habite sous des tentes, il y a peu de villes considérables, si ce n'est dans la petite Bukharie, où sont KASCHGAR, capitale, avec JERKEEN & KOTEN.

D. Décrivez la Tartarie Chinoise ?

R. On peut la diviser en partie occidentale, & partie orientale. Dans la première, sont les Mogols Jaunes, ou Kalkas, qui sont seulement vassaux de la Chine, & les Mogols Noirs, appelés Mongous par les

Tartares Chinois, auxquels ils se sont soumis. Les Mogols Jaunes sont séparés des Mogols Noirs par un grand désert appelé *Chamo* ou *Cobi*.

D. Que contient la seconde partie, qui est la plus orientale ?

R. Elle contient le pays des Tartares Mantchéous, qui ont fait, il y a cent vingt ans, la conquête de l'Empire de la Chine. Ce pays se divise en trois gouvernemens.

D. Nommez ces gouvernemens & leurs principales villes ?

R. Ils prennent leurs noms de leurs capitales, CHINYAN, KIRIN-OUA & TCITICAR.

D. Que remarque-t-on sur les Tartares en général ?

R. La plupart de ces peuples, à l'exception des Mantchéous, sont errans, comme l'étoient les premiers hommes : il y en a même quelques-uns, qui malgré les rigueurs de l'hiver, ne laissent pas d'occuper toujours les campagnes, & n'ont de retraites que leurs chariots. Mais une chose fort remarquable chez ces peuples, est que ceux qui sont restés dans les ténèbres du paganisme, ont plus d'équité & de droiture que ceux qui sont mahométans : en quoi les premiers tiennent encore quelque chose des anciens Scythes dont ils descendent.

XLVII. LEÇON.

L'Arabie & la Perse.

D. QU'EST-CE que l'Arabie?

R. L'Arabie est une grande presqu'île, qui se partage en trois parties; savoir, l'*Arabie Pétrée*, qui est d'une médiocre étendue, & confine à l'Égypte & à la Mer Rouge: l'*Arabie déserte*, à l'orient, qui est peu habitée; enfin l'*Arabie heureuse*, la plus fertile & la mieux cultivée des trois Arabies.

D. Qu'est-ce que l'Arabie Pétrée?

R. Elle est ainsi nommée de la ville de PÉTRA, autrefois sa capitale, & qui se nomme aujourd'hui KARAC, presque déserte & sur une montagne. On peut remarquer encore AILAH & KALAAT-AL-ACABA, qui sont les ports d'*Ailath* & *Asiongaber*, d'où partoient les flotes de Salomon pour Ophir & Tarsis.

D. Qu'est-ce que l'Arabie déserte?

R. L'Arabie déserte est ainsi appelée de ses vastes solitudes, que la sécheresse des sables brulans rend inhabitables. Ses principales villes sont, ANA, sur l'Euphrate, HAGIAR, sur une montagne, avec quelques autres moins considérables.

D. Que comprend l'Arabie heureuse?

R. Elle comprend plusieurs petits pays; savoir, au midi, les royaumes d'Aden ou

de Moca, près de l'entrée de la Mer Rouge, avec les pays d'Hagiaz ou d'Hijaz, de Mascate, d'Oman, de Bahrin. C'est dans le pays d'Hijaz, que se trouvent MÉDINE & LA MECQUE, qui sont chacune la capitale & la demeure d'un chérif de la race de Mahomet, & où les Mahométans vont en pèlerinage.

D. Nommez les autres villes principales de l'Arabie heureuse ?

R. Ces villes sont, FARTACH, ADEN, MOCA, d'où vient le bon café; & au nord, MASCATE, EL CATIF, où l'on pêche des perles; JEMAMA sur une montagne. Plusieurs de ces pays & villes sont ou tributaires de l'empereur des Turcs, ou du moins sous sa protection.

D. Faites la description de la Perse ?

R. La Perse est un royaume autrefois héréditaire; mais qui, depuis le commencement de ce siècle, a été sujet à beaucoup de révolutions, par l'avidité de plusieurs usurpateurs, qui se sont ou chassés ou détruits successivement. Il est d'une assez grande étendue, ayant 500 lieues du couchant au levant, & 370 du nord au sud: il se divise communément en quatorze provinces.

D. Quelles sont les provinces de la Perse ?

R. Sept sont au nord du mont Taurus, & sept à son midi. Les sept premières sont, le *Chirvan*, sur la Mer Caspienne; l'*Iran*

ou l'Arménie Perfane, l'*Aderbijan*, le *Gulian* ou *Kilan*, le *Masandéran*, ces deux sur la Mer Caspienne; le *Chorasán* & le *Candahar*, à l'orient. Les sept du midi sont, l'*Irac-Agémi*, le *Chusistan*, le *Farsistan*, le *Kerman*, le *Ségestan*, le *Sablestan* & le *Mécran*.

D. *Quelles sont les principales villes de la Perse?*

R. Ce sont, ERIVAN, en Arménie; DERBENT, sur la Mer Caspienne; TAURIS, près du lac Van; AMADAN, ISPAHAN, capitale de toute la Perse; SUSTER, CHIRAS, KERMAN, BANDER-ABASSI, MÉCRAN, CANDAHAR, sur les frontières du Mogol. La ville & l'île d'*Ormuz*, à l'entrée du golfe Persique, a eu des rois particuliers, & fut ensuite occupée par les Portugais, qui l'ont perdue par la jalousie des Anglois, lesquels ont aidé le roi de Perse à s'en rendre maître.

XLVIII. L E Ç O N.

Le Mogol ou l'Indostan, & les deux presqu'îles de l'Inde.

D. *COMMENT divisez-vous l'empire du Mogol?*

R. L'empire du Mogol, autrement nommé, *Indostan*, l'un des plus grands & des plus riches pays de l'Asie, se divisoit autrefois en 37 royaumes; mais aujourd'hui on y compte seulement vingt gouvernemens:

douze sont au couchant de la montagne de Gate, & huit au levaut de cette montagne.

D. Quels gouvernemens sont à l'occident du mont Gate?

R. Ce sont ceux de Cachemire, de Cabul, de Lahor ou Pengab, de Moultan, de Tata ou Sinde, de Dély, d'Agra, d'Asinere, de Guzurate, de Candisch, de Décan & de Bagnala, qui presque tous portent le nom de leurs capitales.

D. Quels gouvernemens sont à l'orient de la montagne de Gate?

R. Ce sont ceux de Bacar, d'Ellabas ou Halabas sur le Gange, de Malva, d'Ugen, de Bahar sur le Gange, de Berar, d'Orixa, entre la côte de Coromandel & la riviere de Ganga; enfin celui de Bengale, qui occupe l'embouchure du Gange.

D. Nommez les villes principales du Mogol?

R. Ces villes sont, CACHEMIRE, CABUL & LAHOR, capitale de leurs gouvernemens; DELY, capitale de tout le royaume; AGRA, où l'empereur du Mogol réside quelquefois; CAMBAYE & SURATE, villes très-commerçantes dans le Guzurate.

D. Qu'entend-on par les presqu'îles de l'Inde?

R. On entend ces deux grandes avances de terre, qui sont des deux côtés du golfe de Bengale, l'une en-deçà du Gange, & l'autre au-delà. La première contient cinq

parties, qui sont les royaumes de Visapour, de Golconde, de Bisnagar ou Carnate, & les côtes de Malabar & de Coromandel.

D. Quelles sont les villes principales de cette presqu'île en-deçà du Gange ?

R. VISAPOUR, grande & peuplée, capitale d'un royaume de même nom; GOA, qui appartient aux Portugais; GOLCONDE, capitale d'un royaume, & MASULIPATAN, très-commerçante; BISNAGAR, au roi de ce nom; GINGI, MADURÉ, COCHIN & CALICUT, dans le Malabar.

D. Les Européens ne possèdent-ils pas plusieurs villes dans cette partie de l'Inde ?

R. L'utilité du commerce a engagé les nations de l'Europe à s'y établir. Les Portugais y ont les premiers fondé des établissemens, dont le principal est GOA. Les François ont sur la côte de Coromandel, PONTICHERI; les Hollandois, PALIACATE, NÉGAPATAN, &c. les Anglois, MADRAS; les Portugais, SAINT-THOMÉ; la Maison d'Autriche, SADRAPATAN ou le fort COBLON; les Danois, TRANGOBAR.

D. Que comprenez-vous dans la presqu'île de l'Inde au-delà du Gange ?

R. Cette partie de l'Inde se divise en plusieurs royaumes; savoir, ceux d'Assem, d'Aracan, d'Ava, de Pégu & de Siam, de Camboia, de la Cochinchine, de Laos & de Tonkin. Tous ces royaumes ont leurs villes principales, qui la plupart portent le

même nom. MALACA est dans une presqu'île de ce nom, & appartient aux Hollandois.

XLIX. L E Ç O N.

La Chine.

D. QU'EST-CE que l'empire de la Chine ?

R. Cet empire est l'un des plus anciens, & même l'un des plus grands & des mieux policés de toute l'Asie.

D. Comment divisez-vous cet empire ?

R. Il se divise en quinze grandes provinces; sept au nord, & huit au sud de la rivière de Kian, qui partage la Chine en deux parties presque égales.

D. Quelles sont les provinces du nord de la Chine ?

R. Ce sont le Chenfi ou Kenfi, le Chanfi & le Pékeli, qui sont bornées par la grande muraille de la Chine; le Chanton, le Suchuen, le Honan & le Kiangnan, ou province de Nankin.

D. Quelles sont les huit provinces du midi de la Chine ?

R. Ce sont les provinces de Yunan, Queichéou, Houquan, Kiansi, Chekian, Fokien, Canton ou Quangtung; ces trois sont sur la mer; enfin le Quanli.

D. Le nombre des villes est-il grand ?

R. Comme l'empire de la Chine est le

plus peuplé de l'Univers, c'est aussi celui où il y a plus de villes. On en compte 155 du premier ordre ; & plus de 1300 du second ordre. Il y a de plus, une infinité de bourgs & de villages.

D. Marquez les capitales des provinces du nord ?

R. SINGAN est la capitale du Chensi ; TAYVEN , du Chanfi ; PEKIN , du Pékeli , aussi-bien que de tout l'Empire , parce qu'il est la résidence de l'empereur ; TSINAN l'est de la province de Chanton ; CHINTOU , du Suchuen ; CAIFON , du Honan ; & NANKIN , la plus grande ville du monde , l'est de la province de son nom. Elle étoit autrefois la capitale de l'empire.

D. Quelles sont les capitales des huit autres provinces ?

R. Ce sont YUNAN , capitale de la province de son nom ; QUEYAN , du Queicheou ; VUCHAN , du Houquan ; NANCHAN , du Kiansi ; HANCHEOU , du Chékian ; FOCHEOU , du Fokien ; QUEILIN , du Quansî ; enfin , CANTON , grande ville maritime & commerçante , porte le nom de sa province.

D. Quelles sont les îles appartenantes à la Chine ?

R. Les plus considérables sont , l'île d'*Hainan* & l'île *Formose* ; la première au sud-ouest de la province de Canton , est très-fertile ; & l'autre du côté de la province de Fokien , est très-riche & très-abondante.

MACAO est une ville remarquable , dans une petite île , peu éloignée de Canton. C'est où abordent tous les étrangers qui viennent par mer à la Chine.

D. *Qu'est-ce que la presqu'île de Corée ?*

R. C'est un royaume au nord-est de la Chine , qui est presque tout environé de la mer : il est assez grand & assez considérable ; il paye tribut à la Chine , & il a quelques villes , mais peu distinguées. Sa capitale se nomme KINKITAO.

D. *L'Empire de la Chine n'a-t-il rien de remarquable ?*

R. L'étendue de cet empire n'est pas ce qui le distingue le plus , quoiqu'il soit très-grand. Il est aussi le plus peuplé de l'Univers , & l'on compte qu'il contient environ soixante millions d'ames ; ce qui n'est pas étonnant dans un peuple pacifique , & qui ne voyage point hors de son pays. Le gouvernement qui en est fort doux , est conforme à l'humeur tranquille de ses habitans , qui préfèrent une paix moins avantageuse , à des guerres toujours ruineuses pour les peuples.

L. L E Ç O N.

Les Iles appartenantes à l'Asie.

D. *QUELLES sont les îles de l'Asie ?*

R. Les plus considérables se trouvent dans la Mer des Indes. En décrivant la Tur-

quie , nous avons parlé de celles qui se rencontrent dans la Mer Méditerranée.

D. Quelles sont les îles de l'Asie situées dans la Mer des Indes ?

R. En allant de l'ouest à l'est , on rencontre d'abord les *Maldives* , au sud-ouest de la presqu'île de l'Inde en-deçà du Gange. Le nombre en est très-grand. Quelques auteurs en comptent jusqu'à onze ou douze mille. On trouve ensuite l'île de *Ceylan* , au sud de la côte de *Coromandel* ; c'est une île extrêmement riche & fertile , qui produit la meilleure canelle.

D. Continuez à marquer ces îles ?

R. Outre quelques îles peu considérables dans le golfe de *Bengale* , on trouve ensuite celles de *la Sonde* , où est *Sumatra* , l'une des plus considérables de l'Asie , au sud-ouest de la presqu'île de *Malaca* ; elle a plus de 600 lieues de circuit. Les *Hollandois* y ont fait bâtir plusieurs forteresses , quoiqu'elle soit possédée par plusieurs petits rois.

D. Nommez les autres îles de la Sonde ?

R. Outre *Banca* , on trouve encore celles de *Java* & de *Bornéo* , au sud , & à l'est de *Sumatra*. C'est dans celle de *Java* que son *BANTAM* & *BATAVIA* , qui appartient aux *Hollandois* , Cette dernière ville sert d'entrepôt à la compagnie *Hollandoise des Indes* , & doit être regardée comme le centre de son commerce. Le gouverneur de *Batavia* jouit d'une autorité presque souve

raïne. *Bornéo* est une île fort grande & assez riche.

D. *Quelles sont les autres îles de l'Asie ?*

R. Ce sont les *Moluques*, au nombre de cinq principales, d'où vient le gérofle; les *Philippines* ou *Manilles* en plus grand nombre, & les îles *Marianes* ou *des Larçons*; ces dernières sont peu considérables. Les Hollandois tirent beaucoup d'épiceries des premières, aussi-bien que de *Céram*, de *Banda*, où vient la muscade, d'*Amboine*, & de l'île *Célebes*. Les autres îles, dont nous avons parlé, appartiennent aux Espagnols, qui par-là font le commerce de la Chine.

D. *Les îles du Japon ne sont-elles pas aussi parmi celles de l'Asie ?*

R. Les îles du Japon, dont le souverain prend le titre d'Empereur, sont très-considérables par leurs richesses & par leur commerce. Celle de *Niphon*, qui est la plus grande, a pour capitale *YÉDO*, à l'orient de cette île, & sur la mer. *MÉACO*, ville riche & commerçante, en étoit autrefois la capitale. *Sikokj* ou *Tonsa*, & *Ku.siu* ou *Xikoko*, sont les autres principales du Japon, toutes très-fertiles. Dans la dernière est la ville de *NANGASAKI*, où les Hollandois vont commercer.

D. *Quelles singularités présente le Japon ?*

R. Les Japonois sont un peuple singulier, qui par leur caractère sont les antipodes des autres nations. Le fond d'une

qu
ser
est
bla
ne
on
me
Da
à M
reu
po
ent

par
la r
cin
de
sé
rab
gra
son
par
au
ger
gri

qu'ils ont pour eux seuls, leur fait mépriser tous les autres peuples. La couleur noire est pour eux une couleur de joie, & le blanc une couleur lugubre. Leur gouvernement n'est pas moins remarquable : ils ont deux souverains ou empereurs, comme il leur plaît de les nommer. L'un est le Dairi ou empereur ecclésiastique, qui réside à Méaco, & l'autre est le Kubo ou empereur séculier, qui demeure à Yédo ; mais pour le pouvoir & l'autorité, ce dernier l'a enfin emporté sur le premier.

L I. L E Ç O N.

L' A F R I Q U E.

D. *EXPLIQUEZ maintenant l'Afrique ?*

R. L'Afrique est une des plus grandes parties du monde, bornée de tous côtés par la mer, excepté dans un espace d'environ cinquante lieues, que l'on nomme l'Isthme de Suez, qui joint l'Afrique à l'Asie, & sépare la Mer Rouge de la Méditerranée.

D. *Quels sont les fleuves les plus considérables de l'Afrique ?*

R. L'Afrique est arrosée de plusieurs grands fleuves. Les trois plus considérables sont le Nil, le Niger & le Sénégal. Le Nil partage l'Égypte en deux parties, & coule au nord dans la Mer Méditerranée. Le Niger coule d'occident en orient dans la Nigritie, & va se perdre dans le lac de Bour-

nou. Le *Sénégal*, que quelques cartes représentent encore comme ne faisant qu'un avec le Niger, prend sa source de l'autre côté des montagnes, où le Niger a la sienne, coule à l'occident, & vient se jeter dans l'Océan, du côté des îles du Cap Verd. Les autres fleuves de l'Afrique sont à l'occident, le *Zaire* & le *Coanza*; à l'orient, le *Manica* ou *rivière du Saint-Esprit*, le *Zambeze* & le *Zébee*.

D. *Quelles sont les montagnes les plus remarquables de l'Afrique ?*

R. Ce sont le mont *Atlas*, qui fait plusieurs branches dans la partie septentrionale de l'Afrique; le mont *Amédée* & le *Lupata*, ou l'*Epine du Monde*. Il y a encore plusieurs montagnes dans l'Égypte, & dans les parties orientales & méridionales de l'Afrique.

D. *Comment divise-t-on l'Afrique ?*

R. L'Afrique se divise en neuf grandes régions. Sept sont au nord & deux au midi de l'Équateur; mais il s'en faut beaucoup qu'on les connoisse dans toute leur étendue. Les îles font une dixième partie.

D. *Nommez les pays au nord de l'Équateur ?*

R. Ce sont, l'Égypte, la Barbarie, avec son Désert ou Sahara, la Guinée, la Nigritie, la Nubie, l'Abyssinie, & la côte d'Anjan.

D. *Nommez les pays au midi de l'Équateur ?*

R
née
moc
D
R
jour
de g
& b
le N
prin
Egy
gypte
dans
D
rie ?
R
seule
tend
Gib
midi
le S
plus
laqu
tion
D
R
font
de A
non
qui
roy
Ma
L'E

R. Ce sont le Congo ou la basse Guinée, & la Cafrerie, qui renferme le Monomotapa, le Monoémugi, & le Zanguébar.

D. Décrivez l'Egypte?

R. L'Egypte, autrefois si célèbre, est aujourd'hui possédée par le Turc, qui en tire de grandes richesses. Elle se divise en haute & basse Egypte, arrosées toutes deux par le Nil, qui coule du sud au nord. Les villes principales sont, GIRGÉ, pour la haute Egypte. Le CAIRE, capitale de toute l'Egypte; ALEXANDRIE & DAMIETTE, sont dans la basse Egypte.

D. Que comprenez-vous dans la Barbarie?

R. On comprend dans la Barbarie, non-seulement toute la côte d'Afrique, qui s'étend depuis l'Egypte jusqu'au détroit de Gibraltar; mais encore les pays qu'elle a au midi, & qui en dépendent, aussi-bien que le Sahara ou Désert. C'est une des parties les plus étendues de ce continent, & celle avec laquelle les Européens ont le plus de relation, ainsi qu'avec l'Egypte.

D. Quels royaumes contient la Barbarie?

R. En allant d'orient en occident, ce sont ceux de Tripoli, de Tunis, d'Alger, de Fez & de Maroc, qui portent tous les noms de leurs villes capitales. Ces états, qui sont des républiques plutôt que des royaumes, sont vassaux du Turc, excepté Maroc, de qui dépendent Fez, Tafilet, &c. L'Espagne cependant, y possède quelques

places, entr'autres CEUTA & ORAN, qui n'ont presque aucun territoire; mais qui ne laissent pas de tenir les Infidèles en respect.

D. Que contient le Sahra ou Désert de Barbarie?

R. Cette partie, qui est au sud, est occupée par divers peuples qui habitent sous des tentes en plusieurs endroits; & ce sont, d'orient en occident, les Berdoa & Levata, les Touargues & Lemtans, les Zuenziga, & les Zenhaga. Les Européens font quelque commerce chez ces derniers.

D. Qu'est-ce que la Guinée?

R. C'est un grand pays, divisé en plusieurs petits royaumes, où il se fait un grand commerce en poudre d'or, en dents d'éléphants & en esclaves ou Nègres. Les François, les Anglois, les Danois & les Hollandois y ont quelques forts, & des habitations nécessaires pour la sûreté de leur commerce. L'île *Gorée* est à la France, & LA MINE aux Hollandois.

D. Qu'est-ce que la Nigritie?

R. La Nigritie ou pays des Nègres de l'intérieur de l'Afrique, est assez étendue, & se divise en plusieurs petits états ou royaumes, dont les villes principales sont, TANBOUCTOU ou TOMBUT, & BOURNOU. Cette partie est arrosée par le Niger, que les nouvelles relations nous apprennent couler à l'orient, & se perdre dans le lac de Bournou; au lieu que le Sénégal, avec lequel on le confondoit, coule à l'occident jusqu'à la mer.

LII. LEÇON.

Suite de l'Afrique.

D. DÉCRIVEZ la Nubie?

R. La Nubie, qui est au midi de l'Égypte, & traversée également par le Nil, est habitée par un peuple grossier & barbare. On y remarque deux villes principales : SENNAR, où demeure le roi, & DONGOLA.

D. Qu'est-ce que l'Abyssinie?

R. C'est un grand pays, dont le souverain prend le nom d'Empereur. Nous l'avons connu par les Portugais, qui autrefois y faisoient commerce. Les Abyssins sont Chrétiens, mais schismatiques. Leur état étoit anciennement bien plus considérable qu'il n'est aujourd'hui : divers peuples Barbares, entr'autres les Galles, leur ont enlevé plusieurs provinces.

D. Les Turcs n'y possèdent-ils pas aussi quelques places?

R. Ils y possèdent, sur la côte d'Abech, trois places, dont la principale est SUAQUEM.

D. Que faut-il remarquer sur la Côte d'Ajan?

R. Le royaume d'Adel, dont la capitale est AUÇAGURELE, & celui de Magadoxo; tous deux Mahométans.

D. Expliquez les parties de l'Afrique, qui sont au-delà de l'Équateur?

R. Le Congo, qui est à l'occident, le long de la mer, est divisé en plusieurs petits états ou royaumes. On y fait un assez grand commerce de Nègres, que l'on transporte en Amérique. Les Portugais y sont très-puissans. Les principales villes sont, **SAN-SALVADOR & LOANDA.**

D. *Qu'est-ce que la Cafrérie ?*

R. On donne communément ce nom à une très-grande étendue de pays, qui occupe tout le midi de l'Afrique, & dont on ne connoît guères que les côtes. Vers la pointe est le *Cap de Bonne-Espérance*, où les Hollandois ont un établissement considérable.

D. *Qu'est-ce que le Monomotapa ?*

R. Ce pays, qui est renfermé dans la Cafrérie, a le titre d'Empire, & se divise, selon quelques-uns, en lix, & selon d'autres en vingt cinq royaumes, dont la capitale est **SIMBAOÉ.** Les Portugais y possèdent **SOFALA**, sur la côte. On y doit remarquer le mont *Fura*, qui est très-abondant en or.

D. *Quels sont les autres états de cette partie de l'Afrique ?*

R. Le *Monoemugi*, dans l'intérieur de l'Afrique, est très-peu connu. La Côte de Zanguébar ou de Mosambique, sur la mer, l'est davantage; & l'on y trouve la ville de **MOSAMBIQUE**, où les Portugais sont établis, & celles de **MONBAZE & de MÉLINDE.**

D. *Quelles sont les îles de l'Afrique ?*

R. Ces îles sont, ou dans l'Océan Atlan-

rique
la M
font
aux
aux

D.
Cana

R.
où es
tes m
Holla
dien
passer
de M
celler
Verd
rable

D.
reman

R.
appan
ques
Saint
par le

D.
la M

R.
qui a
gne c
meill
des p
aussi
cote
Rou

rique, à l'occident de l'Afrique, ou dans la Mer des Indes, à l'orient. Les premières sont les îles *Canaries*, qui appartiennent aux Espagnols, & celles du *Cap-Verd*, aux Portugais.

D. *Quelles sont les plus considérables des Canaries ?*

R. Ce sont la grande *Canarie*; *Ténérife*, où est le *Pic de Teyde*, l'une des plus hautes montagnes du monde, sur laquelle les Hollandois font passer leur premier méridien; l'*Ile de Fer*, où les François font passer le leur. Au nord de ces îles est celle de *Madere*, fertile, sur-tout en vins excellens; & au sud, sont les îles du *Cap-Verd*, dont il n'y en a que dix de considérables. *Sant-Iago* est la principale.

D. *Y a-t-il encore de ce côté quelques îles remarquables ?*

R. L'*île Saint-Thomas*, sous la ligne, appartient aussi aux Portugais, avec quelques autres dans son voisinage; & l'*île Sainte-Hélène*, au sud-ouest, est occupée par les Anglois.

D. *Quelles sont les îles de l'Afrique dans la Mer des Indes, à l'orient ?*

R. Les principales sont, *Madagascar*, qui a environ 800 lieues de tour; *Mascaregne* ou *Bourbon*, qui est à présent un des meilleurs établissemens de notre Compagnie des Indes, aussi-bien que *Maurice*, nommée aussi l'*île de France*. On peut remarquer encore *Socotora*, près de l'entrée de la Mer Rouge.

LIII. L E Ç O N.

L' A M É R I Q U E.

D. QU'EST-CE que l'Amérique?

R. L'Amérique est un grand continent, que l'on nomme aussi le Nouveau Monde, & les Indes Occidentales. Elle fut découverte en 1493, par Christophe Colomb, pour les Espagnols; & Améric Vespuce y étant venu ensuite, publia la relation de ses voyages en ce nouveau pays: ce qui lui fit donner le nom d'Amérique. L'Amérique se divise en septentrionale & en méridionale.

D. Marquez les principales rivières & montagnes de l'Amérique?

R. Les rivières ou fleuves sont, dans la septentrionale, ceux de Saint-Laurent & de Mississipi; dans la méridionale, l'Orénoque, la rivière des Amazones, la plus grande qu'il y ait au monde; celle de Paraguai ou de la Plata, le Parana & l'Uraguai ou Urvaig. Les montagnes les plus remarquables sont dans l'Amérique méridionale, à l'occident, & près des côtes de la Grande Mer; on les nomme les Andes, ou la Cordeillere.

D. Divisez l'Amérique septentrionale.

R. Cette partie du nouveau Monde se divise en six; savoir, le Mexique, ou la nouvelle Espagne, le nouveau Mexique, l'un & l'autre aux Espagnols; le Canada;

la nou
grand
dent.

D.

Nouv

R.

vise e

Mexi

la plus

rique

de Gu

même

D.

R.

peu co

partic

varre

bitées

pitale

veau

qu'on

D.

R.

vert p

aux A

de 17

dans

le fle

D.

pays,

R.

les A

les Il

la nouvelle Angleterre; la Louisiane, & un grand pays à découvrir au nord & à l'occident.

D. Comment se divise le Mexique ou Nouvelle Espagne?

R. Le Mexique, pays très-riche, se divise en trois audiences; savoir, celle de *Mexique*, dont la capitale est *MEXICO*, la plus grande & la plus belle ville de l'Amérique; l'audience de *Guadalajara*, & celle de *Guatemala*, avec des villes capitales de même nom.

D. Que contient le nouveau Mexique?

R. Le nouveau Mexique, qui est assez peu connu, se divise en plusieurs provinces particulières, telles que la nouvelle Navarre & le Sonora, qui sont la plupart habitées par les naturels du pays. La ville capitale est *SANTA-FÉ*. A l'occident du nouveau Mexique, est une grande presqu'île, qu'on nomme *Californie*.

D. Qu'est-ce que le Canada?

R. C'est un grand pays qui a été découvert par les François; mais qu'ils ont cédé aux Anglois, par le dernier traité de paix de 1763. *QUÉBEC* en est la capitale. Il y a dans ce pays, beaucoup de lacs, d'où sort le fleuve Saint-Laurent.

D. Quels sont les peuples qui habitent ce pays,

R. Les principaux sont, les Esquimaux; les Algonkins, les Hurons, les Iroquois, les Illinois, les Sioux, les Cristinaux, chez

qui l'on fait commerce de peaux de castor , & autres pelleteries.

D. Qu'appellez-vous Nouvelle Angleterre ?

R. Tous ces pays situés au midi du Canada , & que les Anglois possèdent depuis environ 150 ans ; c'est-à-dire, la nouvelle Angleterre propre, la nouvelle Yorck, la Pensilvanie, le Mariland, la Virginie, la Caroline, la Géorgie, pays très-cultivés par les Anglois. BOSTON & CHARLESTOWN en sont les principales villes.

D. Les Anglois ont-ils encore quelque chose en Amérique ?

R. Ils possèdent encore, en suivant la côte, la Floride, où sont SAINT-AUGUSTIN & PENSACOLA, que les Espagnols leur ont cédés par le dernier traité de paix, & toute la partie de la Louisiane qui est à l'orient du grand fleuve Mississipi, outre quelques îles dont nous parlerons.

D. Qui est-ce qui possède le reste de la Louisiane, & d'où vient ce nom ?

R. La Louisiane fut découverte à la fin du siècle dernier, par les François, qui lui donnerent ce nom à cause de Louis-le-Grand. Ils en ont cédé aux Anglois, la partie à l'orient du Mississipi, & ils se sont conservé l'autre, avec la ville de la NOUVELLE-ORLÉANS, qui a été bâtie vers 1720, sous la régence de M. le duc d'Orléans.

D. Quels sont ces pays à découvrir au nord & à l'occident ?

R. Ce

par
son
ver
cou
rela

D
riq

R

gran

Guy

le Br

de la

niq

D

R

Espa

diend

l'Auc

de S

pays

PAN

SANT

D

R

viere

Les

çois

R. Ce sont de vastes contrées habitées par des Sauvages, autour de la baye d'Hudson; autour de la Mer de l'Ouest, & jusque vers le détroit qu'on a nouvellement découvert entre l'Amérique & l'Asie. Plusieurs relations en ont donné des indices.

LIV. LEÇON.

Suite de l'Amérique.

D. QUELLES sont les parties de l'Amérique méridionale?

R. L'Amérique méridionale contient huit grandes parties; savoir, la Terre-Ferme, la Guyane, le Pérou, le Pays des Amazones, le Brésil, le Paraguay, ou Province de Rio de la Plata, le Chili, & la Terre Magellanique.

D. *Décrivez la Terre-Ferme.*

R. La Terre-Ferme, qui appartient aux Espagnols, se divise en quatre, qui sont l'Audience de Panama, l'Audience de Santa-Fé, l'Audience de Saint-Domingue, qui dépend de Saint-Domingue, île vis-à-vis, & le pays de Paria. Les villes principales sont, PANAMA, PORTOBELLO, CARTHAGÈNE, SANTA-FÉ DE BOGOTA, & POPAYAN.

D. *Qu'est ce que la Guyane?*

R. C'est un grand pays situé entre la rivière des Amazones & celle de l'Orénoque. Les Espagnols, les Hollandois, les François & les Portugais y ont formé des éta-

blissemens: Ainsi on divise ce pays en quatre parties : 1. *Guyane Espagnole*, dont SAINT-THOMAS sur l'Orénoque, est la capitale; 2. *Guyane Hollandoise*, où l'on remarque SURINAM & BERBICE, deux colonies fort riches, situées sur la mer, à l'embouchure des rivières de même nom; 3. *Guyane Françoisse*, ou *France Equinoctiale*, dont la capitale est CAYENNE, dans l'île de même nom; 4. *Guyane Portugaise*, aux environs de la rivière des Amazones.

D. *Expliquez maintenant le Pérou.*

R. Le Pérou, situé le long de la Mer du Sud, appartient tout entier aux Espagnols. C'est le plus riche pays de l'Amérique. Il se divise en trois audiences; savoir, celles de *Lima*, de *Quito*, & de *la Plata*. Ses villes principales sont, LIMA, capitale de tout le Pérou; QUITO, au nord; LA PLATA, au midi, & POTOSI, près de laquelle sont des mines d'argent très-abondantes.

D. *Décrivez le pays des Amazones.*

R. Ce pays, qui est extrêmement grand, n'est pas encore fort connu. Il contient plus de 150 nations différentes de sauvages, & est arrosé par la rivière des Amazones, la plus grande de l'univers. Les Espagnols & les Portugais sont convenus de partager ce grand pays. Les derniers y ont des colonies depuis Rio-Négre jusqu'à l'embouchure de la rivière des Amazones.

D. *Qu'est-ce que le Brésil?*

R. Le Brésil est un pays fort étendu, en

tre l'équateur & le tropique du Capricorne. Il appartient au roi de Portugal, qui en tire de grandes richesses; & l'on y fait continuellement des découvertes, l'intérieur du pays étant habité par des sauvages.

D. Comment divise-t-on ce qui est connu du Brésil?

R. Il se partage en quatorze capitaineries, qui sont toutes le long des côtes, & dont les villes principales sont SAN-SALVADOR, dans la baye de Tous les Saints, & la capitale du Brésil; au midi, SAINT-VINCENT; & au nord, OLINDE ou PERNAMBOUC.

D. Marquez ce que c'est que la province de Paraguai.

R. Cette partie, qui est très-étendue, se nomme aussi la Province de Rio de la Plata, ou de la Riviere d'Argent, & elle appartient à l'Espagne. Quoique peu connue, elle se divise en six provinces; savoir, la Plata, le long de cette riviere; le Chaco, le Tucuman, l'Urvaig ou Uraguaï, le Guaira & le Paraguai, dont les villes principales sont, BUENOS-AYRES, & L'ASSOMPTION.

D. Qu'est-ce que le Chili?

R. Le Chili, pays rempli de montagnes, & qui est en grande partie aux Espagnols, s'étend le long de la Mer du Sud, & se divise en trois provinces; savoir, de Chili, d'Impériale & de Chiquito, où l'on trouve pour villes principales, SAN-JAGO, capitale; LA CONCEPTION, & IMPÉRIALE.

D. Où sont les Terres Magellaniques ?

R. Ces Terres, situées à l'extrémité de l'Amérique méridionale, ne sont connues que le long des côtes, & sont ingrates & stériles. Elles tirent leur nom de Magellan, fameux navigateur Espagnol, qui découvrit le détroit qui est au midi, & dont le vaisseau fit le premier le tour du Monde; car pour lui, il mourut à moitié chemin, aux Moluques.

L V. L E Ç O N.

Les îles de l'Amérique.

D. QUELLES sont les îles de l'Amérique?

R. Ces îles sont en très-grand nombre, & se trouvent presque toutes dans l'Amérique septentrionale. Car celles qui sont au midi, sont peu considérables;

D. Quelles sont les îles de l'Amérique dans la Mer du Nord ?

R. Ce sont les Açores, aux Portugais; près du Canada, *Terre-Neuve*, *Anticosti*, *Cap-Breton*, ou *l'île Royale*, & *Saint-Jean*, toutes quatre aujourd'hui aux Anglois. Le grand Banc de *Terre-Neuve* n'est pas loin de l'île de même nom, & c'est là que se fait la plus grande pêche de la morue.

D. Quelles sont les autres îles principales de l'Amérique septentrionale ?

R. Ce sont, à l'entrée du Golfe du Me-

xiq
Au
me
gue
der
est
min
les
D
sur
K
tile
célé
qui
Mex
D
a de
R
se di
occid
les B
qui y
qui y
SAIN
gnol
Fran
D
caye
R
font
guée
Pro
autr

xique, les grandes & les petites *Antilles*. Au rang des premières, sont principalement *Cuba*, la *Jamaïque*, *Saint-Domingue*, & *Porto-Ricco*. La première & la dernière sont aux Espagnols; la seconde est aux Anglois; & la troisième, *Saint-Domingue*, est partagée entre les François & les Espagnols.

D. *Marquez quelque chose de particulier sur celle de Cuba.*

R. L'île de Cuba, très-riche & très-fer- tile, a pour capitale, LA HAVANE, port célèbre où abordent les flotes Espagnoles, qui portent en Espagne les richesses du Mexique & du Pérou.

D. *Qu'est-ce que l'île de Saint-Domingue a de particulier?*

R. Cette île, nommée aussi *Hispaniola*, se divise en partie orientale, & en partie occidentale. La première est occupée par les Espagnols, & l'autre par les François, qui y font travailler beaucoup de sucre, & qui y recueillent du café, de l'indigo, &c. SAINT-DOMINGUE, capitale, est aux Espagnols; & LE CAP, avec LÉOGANE, aux François.

D. *Expliquez ce qui regarde les îles Lucayes.*

R. Ces îles, au nord de celle de Cuba, sont en assez grand nombre. Les plus distinguées sont celles de *Lucayoneque*, de la *Providence*, de *Guanahani*, & quelques autres moins considérables.

D. *Qu'est-ce que les petites Antilles ?*

R. Elles se divisent en îles Barlovento, ou au-dessus du vent ; & en îles Sottovento, ou sous le vent. Les premières, qui sont nommées aussi les *Caribes*, sont possédées par diverses nations Européennes. Les François tiennent la Martinique, la Guadeloupe, la Désirade, Marie-Galante, & quelques autres. Les Anglois ont les Barbades, Tabago, Saint-Christophe, & plusieurs autres. Les Espagnols sont maîtres de la Trinité.

D. *Quelles sont les îles de Sottovento ?*

R. Ces îles, moins considérables que les îles de Barlovento, sont presque toutes désertes. Quelques-unes sont habitées par les Espagnols : mais les Hollandois y possèdent Curaçou, Bonayres & Oruba, par le moyen desquelles ils font un grand commerce avec les Espagnols de l'Amérique, & même avec les sauvages ou naturels du pays.

D. *Quelles sont les îles de l'Amérique méridionale ?*

R. Il y en a beaucoup moins que dans l'Amérique septentrionale. L'île *Castro* ou *Chiloé*, à l'extrémité du Chili, est une des plus considérables. On trouve encore au sud, les îles *Magellaniques*, nommées aussi *Terre de Feu*, qui sont très peu connues, si ce n'est le long du détroit de Magellan, & de celui de le Maire, qui servent de passage pour entrer dans la Grande Mer, ou Mer du Sud, & aller par-là en Asie. Enfin

On a découvert depuis peu, à l'orient de la Terre Magellanique, les îles Malouines, dont les Anglois se sont emparés, & qu'ils appellent les îles *Falkland*.

LVI. LEÇON.

Les Terres Arctiques, Australes & Antarctiques.

D. QU'APPELLEZ-VOUS *Terres Arctiques* ?

R. Ce sont les Terres situées vers le Pole septentrional ou arctique du Globe terrestre, entre le 72° & le 90° degré de latitude septentrionale. Ces Terres, pour la plupart inconnues, sont, le *Spitzberg*, le *Groenland*, la *Nouvelle Zemle*.

D. Marquez ce que l'on connoît de ces pays.

R. Le *Spitzberg*, au nord de la Norvège, est extrêmement froid, & l'on y pêche des baleines; le *Groenland* est un pays aussi froid, & on le croit attaché à l'Amérique septentrionale; la *Nouvelle Zemle* n'est séparée de la Russie que par le détroit de *Weygatz*. Quelques auteurs parlent encore d'une grande Terre au nord-est de la Sibérie.

D. Quelles sont les *Terres Australes* ?

R. Ce sont, la *Nouvelle Guinée*, ou *Terre des Papous*, la *Nouvelle Hollande*, la *Nouvelle Zélande*, & autres Terres si-

tuées au sud-est de l'Asie. Elles forment un continent plus étendu que l'Europe; mais on n'en connoît que les côtes.

D. *Quelle est la plus considérable de ces Terres?*

R. La plus considérable est la Nouvelle Hollande, qui forme proprement le Continent Austral, situé au sud-est des îles Moluques. On y remarque au nord, la *Terre d'Arnheim* & la *Carpentarie*. A l'occident, sur la côte qui regarde l'Afrique, est la *Terre de Wit*, puis *Terre de Nuyts*, & ensuite la *Terre de Diémen*, qui forme la pointe la plus méridionale du Continent Austral. En tournant à l'orient, & remontant au nord, dans la Mer du Sud, on trouve une longue côte, qui se termine à la *Carpentarie*. Cette côte a été reconnue en 1770, par les Anglois, qui l'ont appelée *New-South-Walles*.

D. *Nommez les autres Terres Australes.*

R. Ces autres Terres sont, plusieurs îles situées aux environs du Continent dont nous venons de parler. Les plus grandes sont, la *Nouvelle Guinée* ou *Terre des Papous*, & la *Nouvelle Bretagne*, toutes deux situées au nord de la *Terre d'Arnheim* & de la *Carpentarie*; & la *Nouvelle Zélande*. Cette dernière, située vers le midi, à l'orient de la *Terre de Diémen*, se trouve dans l'Hémisphère occidental. Elle est composée de deux grandes îles, dont l'une, qui a beaucoup d'étendue du nord au sud,

s'ava
ridio

D.

R.

mon

gnols

la fe

du S

& pr

gran

D.

situé

R.

dent

Terr

loin

sphe

déco

Bon

quet

en N

cens

D.

part

R.

en e

glac

ject

fleu

d'ou

con

s'avance jusqu'au 47^e degré de latitude méridionale.

D. Sont-ce là toutes les Terres Australes?

R. On y joint encore les îles de Salomon, dont les premiers découvreurs Espagnols ont beaucoup vanté les richesses & la fertilité. Elles sont situées dans la Mer du Sud, à l'orient de la Terre des Papous, & presque sous le même parallèle. La plus grande de ces îles se nomme *Isabelle*.

D. Quelles sont les Terres Antarctiques, situées vers le Pole méridional?

R. Ce sont, 1. dans l'Hémisphère occidental, le port de Drack, au sud de la Terre de Feu, une longue côte vue de loin par Améric Vespuce : 2. dans l'Hémisphère oriental, la Terre de la Circoncision, découverte en 1739, au sud du cap de Bonne-Espérance : la Terre des Perroquets, & celle où Gonneville de Honfleur, en Normandie, aborda il y a plus de deux cens ans.

D. N'a-t-on pas fait quelques remarques particulieres sur les Terres Antarctiques?

R. En observant que les vaisseaux qui en ont le plus approché, y ont trouvé des glaces très-considérables, M. Buache a conjecturé qu'il y a dans ces Terres, de grands fleuves, & une mer glaciale au milieu, d'où viennent ces glaces dans nos mers, comme il arrive du côté du Pole arctique.





GÉOGRAPHIE

ABRÉGÉE.

TROISIÈME PARTIE.

PRINCIPES GÉNÉRAUX

DE LA

GÉOGRAPHIE ANCIENNE.

LA figure de la Terre étoit un problème chez les Anciens. Les uns la représentoient comme une surface plane; d'autres remarquant que les fleuves & les rivières coulent des lieux élevés, où ils prennent leur source, pour se jeter dans les mers, qu'ils croyoient occuper les parties les plus basses, en fluoient que la Terre étoit concave. Il faut convenir cependant, que le plus grand nombre lui donnoit, comme elle l'a effectivement, la figure d'un Globe. Quelques-uns même en ont inféré, que la partie du Globe opposée à l'hémisphère qu'ils connoissoient, pouvoit être habitée. C'étoit une conséquence natu-

relle de la rondeur de la terre, & non pas
 une allusion à l'île Arléside.


HE


TIE.

RAUX

ENNE.

un problème
 présentoient
 autres remar-
 vieres cou-
 s prennent
 s les mers,
 parties les
 ue la Terre
 cependant,
 i donnoit,
 , la figure
 ème en ont
 e opposée à
 t, pouvoit
 uence natu-





relle d
 uné a
 parlé.
 l'Amér
 Sanfon
 monde
 lantide
 L'H
 le seul
 conno
 d'idée
 conno
 l'Asie
 que le
 plus d
 rient à
 plus g
 tendue
 au sud
 la terre
 le qua
 qu'ils
 beauc
 l'ont
 comm
 nord,
 situées
 cès du

relle de la rondeur de la terre , & non pas une allusion à l'île Atlantide dont Platon a parlé. Les Anciens ne connoissoient point l'Amérique ; & c'est fort gratuitement que Sanson l'a représentée dans sa Mappemonde ancienne , sous le nom d'*Île Atlantide*.

L'Hémisphère que nous habitons , étoit le seul dont les anciens eussent quelques connoissances : mais ils n'avoient pas même d'idée des terres situées vers les Pôles , & connoissoient peu celles situées à l'orient de l'Asie & au midi de l'Afrique. De là vient que les uns donnoient à la terre habitée plus d'étendue du nord au sud , que de l'orient à l'occident ; & que d'autres , mais en plus grand nombre , lui donnoient plus d'étendue de l'orient à l'occident , que du nord au sud. En général , les anciens croyoient que la terre habitée ou habitable , ne formoit pas le quart de la superficie du globe , parce qu'ils donnoient aux mers une étendue beaucoup plus considérable qu'elles ne l'ont effectivement , & qu'ils regardoient comme inhabitables , les terres situées au nord , à cause de l'excès du froid , & celles situées sous la zone torride , à cause de l'excès du chaud.

ARTICLE I.

Division générale de l'ancien Monde.

DANS l'ancienne Géographie, comme dans la nouvelle, il faut considérer deux choses : les *Mers* & les *Terres*.

Les Mers connues des anciens, se partagent en *Mers extérieures* & *Mers intérieures*.

Les Mers extérieures, ainsi appellées, parce qu'elles étoient au-delà des Terres connues, sont ce que nous nommons aujourd'hui le grand Océan, dans quelque situation qu'il soit considéré. Mais ces Mers prenoient divers noms, suivant les pays & les côtes qu'elles baignoient ; c'est ce qui s'observe encore aujourd'hui. Elles étoient alors peu connues, parce que de tous les Anciens, il n'y avoit guère que les Phéniciens & les Carthaginois qui les pratiquassent ; & ils s'en réservoient la connoissance à eux seuls, tant ils étoient jaloux de la navigation, qui faisoit la base de leur commerce, qu'ils ne vouloient communiquer à aucun autre peuple.

Les *Mers intérieures* étoient plus connues. C'est ce que nous appellons aujourd'hui la *Mer Méditerranée*, qui n'avoit pas moins de différens noms que les Mers extérieures ; mais toujours relatifs aux côtes qu'elle

baign
Mer
appel
ne ex

On
qui e
doit
comm
mer.

Le
mêm
d'hui
en c
îles a
tinen
quer
qui f
l'*Afr*

L'
Tana
Suès
l'*Afr*

Pe
avan
me c
étud
préte
tems
par
tems
tres.
Sac
van

baignoit. Le *Pont-Euxin*, aujourd'hui la Mer Noire, & les *Palus Méotides*, que nous appellons Mer de Zabache, n'étoient qu'une extension de ces Mers intérieures.

On peut y joindre la Mer Caspienne, qui en est entièrement séparée, & qu'on doit regarder comme un grand lac, sans communication visible avec aucune autre mer.

Les terres de l'ancien Monde étoient les mêmes que celles qui composent aujourd'hui notre hémisphère. Elles se divisoient en continens & en îles. Mais comme les îles appartiennent toujours aux grands continens dont elles sont voisines, je les marquerai, en parlant des différentes parties, qui se réduisent à trois; savoir, l'*Europe*, l'*Asie* & l'*Afrique*.

L'Europe étoit séparée de l'Asie par le Tanaïs, aujourd'hui le Don; & l'isthme de Suès ou d'Egypte, séparoit l'Asie d'avec l'Afrique.

Pour étudier avec quelque succès, il faut avancer dans la Géographie ancienne, comme on avance dans l'Histoire: l'une de ces études doit être la règle de l'autre. Elles se prêtent un secours mutuel dans les anciens tems. On commence les études historiques par le peuple de Dieu, dont les premiers tems servent de principe à toutes les autres. Ainsi c'est par la Géographie Sainte ou Sacrée, que l'on doit commencer, & n'avancer dans cette connoissance de l'ancien

Monde, qu'à proportion de ce que l'on avance dans l'Histoire ancienne.

ARTICLE II.

Géographie du premier & du second âge.

L'ÉCRITURE Sainte nous marque qu'Adam, au moment de sa création, fut placé dans un lieu ou paradis de délices : mais où étoit précisément ce Paradis ? Il est certain qu'il étoit situé près de l'Euphrate & du Tigre ; les Livres sacrés le marquent expressément. C'est donc dans l'étendue de leur cours, qu'il faut en chercher la place.

Quelques favans, entr'autres, Bochart & M. Huet, le mettent au-dessous du lieu où fut bâtie l'ancienne Babylone, vers la jonction du Tigre & de l'Euphrate, à l'endroit où ces fleuves unis en un seul, se partagent ensuite en deux canaux, qui vont tomber dans le golfe Persique. De cette manière, on trouve les quatre fleuves qui arrosoient le Paradis terrestre : deux qui y entroient : c'étoit le Tigre & l'Euphrate : & deux qui sortoient : ces deux fleuves réunis se partageant de nouveau en deux branches, dont l'une se nommoit le Phison, & l'autre le Gehon.

D'autres auteurs se croient mieux fondés à placer le Paradis terrestre dans l'Arménie majeure, vers les sources de

l'Euphrate
ture
lieu
vies
capita
donne
de de
qu'on
res du
on y
qu'on
Gého

Qu
c'étoit
trouv
rence
un fu
foutie
l'on a
c'hist
Ju
cun c
nir a
sur la
la di
entr'
arriv

Le
les d
en d
tion
gran
eut l

l'Euphrate & du Tigre, parce que l'écriture Sainte marque qu'il y avoit dans ce lieu les *chefs* ou les *têtes* de ces quatre rivières, c'est-à-dire, leurs sources, *quatuor capita fluminum*; nom qui ne sauroit se donner ni à la jonction, ni à la séparation de deux fleuves. Outre la source du Phasis, qu'on croit être le Phison, l'une des rivières du Paradis terrestre, selon l'écriture, on y trouve encore la source d'une autre, qu'on devoit dans ce sentiment nommer le Géhon.

Quoi qu'il en soit, il est certain que c'étoit vers l'Euphrate & le Tigre que se trouvoit ce lieu de délices. Ainsi la différence de quelque cinquantaine de lieues en un sujet si éloigné, ne mérite pas que l'on soutienne une grande dispute, sur-tout si l'on a égard aux changemens que le déluge a faits dans la surface de notre globe.

Jusqu'après le déluge nous n'avons aucun détail de Géographie. Il faut donc venir au second âge du monde, & marquer sur la carte générale de l'ancien continent, la division que les enfans de Noé firent entr'eux de la terre connue. Ce partage arriva plus de cent ans après le déluge.

Les parties occidentales & septentrionales de l'Asie, toute l'Europe & les îles qui en dépendent, échurent à *Japhet*; sa portion, comme celle de l'aîné, fut la plus grande des trois. *Sem*, qui étoit le second, eut les environs de l'Euphrate & du Tigre,

avec tout ce qui est à l'orient de ces fleuves, c'est-à-dire, la plus grande partie de l'Asie. *Cham*, qui étoit le dernier, eut la Phénicie, les trois Arabies & toute l'Afrique. Telle fut cette première division de la terre, qui est également la source de la Géographie & de l'Histoire des anciens peuples.

ARTICLE III.

Géographie de la Terre-Sainte ou Palestine.

LA Palestine, qui forme aujourd'hui la partie méridionale de la *Sourie*, a été différemment divisée, suivant les divers possesseurs qu'elle a eus. Avant l'entrée des Israélites, elle étoit occupée par les Cananéens, qui étoient partagés en républiques ou petits royaumes. Dans cet état, elle s'étendoit du nord au sud, depuis le mont Liban & Sidon, jusqu'à l'Egypte & l'Arabie Pétrée; & de l'est à l'ouest, depuis les environs du Jourdain jusqu'à la mer.

Mais on connoît peu la situation précise des cantons que ces peuples occupoient. Il faut prendre la Palestine au tems où elle a eu une division exacte & régulière. C'est celle des douze tribus, qui a subsisté le plus long-tems, malgré les révolutions qui lui ont fait changer de face. La Palestine ou Terre-Sainte, en commençant par le nord, comprenoit les tribus d'*Aser*, de *Nephtali*,

& la m
Joseph
noient
& l'autr
d'*Ephra*
Ruben;
Cette d
étoit au
Palestin
aussi-bie
la tribu
de Jud
RETH d

Il fau
la *Phén*
les mari
dépenda
marqua
habitan
tion.

A l'a
di, se t
compos
être so
raël. C
peuple
moins

La P
midi, p
que l'o
nord se
de *Tibe*
pellojt

& la moitié de celle de *Manassé*, fils de Joseph, avec celle de *Gad*; après quoi venoient les tribus de *Zabulon*, d'*Issachar*, & l'autre moitié de *Manassé*, avec celles d'*Ephraïm*, de *Dan*, de *Benjamin* & de *Ruben*; enfin celles de *Siméon* & de *Juda*. Cette dernière, la plus peuplée de toutes, étoit au midi. JÉRUSALEM, capitale de la Palestine, étoit dans la tribu de Benjamin, aussi-bien que JÉRICO. SAMARIE étoit de la tribu d'*Ephraïm*; BETHLÉEM dans celle de *Juda*, & NAZARETH avec GÉNEZARETH dans celle de *Zabulon*.

Il faut remarquer, au nord sur la côte, la *Phénicie*, où étoient TYR & SIDON, villes maritimes très-fameuses, qui ont été indépendantes de la Palestine. Elles sont remarquables par l'habileté de leurs anciens habitans dans le commerce & la navigation.

A l'autre extrémité, c'est-à-dire, au midi, se trouvoit le petit pays des *Philistins*, composé de cinq villes, qui n'ont jamais pû être soumises par les rois de *Juda* & d'*Israël*. C'étoit un frein que Dieu donnoit à son peuple, pour le tenir dans le devoir, du moins par la crainte.

La Palestine est traversée, du nord au midi, par le *Jourdain*, qui forme deux lacs, que l'on appelloit Mers. Celle qui est au nord se nommoit *Lac de Genezareth* ou *Mer de Tibériade*; & celle qui est au midi, s'appelloit la *Mer Salée* ou *Mer Morte*. Cette

derniere étoit dans les premiers tems une contrée très-fertile, qui comprenoit cinq villes, entr'autres SODOME & GOMORRHE. Le pays étoit rempli de puits de soufre & de bitume, & il s'en recueille encore très-souvent sur les bords de la mer qui l'a couvert. On fait que Dieu y fit descendre le feu du ciel, pour punir les crimes de ses habitans. Cette mer n'a aucune communication apparente avec les autres mers. Elle ne souffre rien de vivant, & c'est de-là que lui vient le nom de Mer Morte.

Après la mort de Salomon, les douze tribus furent partagées en deux royaumes. Celui de Juda, qui resta toujours attaché à la vraie religion, ne comprenoit que les tribus de Juda & de Benjamin, dont JÉRUSALEM étoit capitale. Celui d'Israël, où la religion fut altérée, renfermoit les dix autres tribus. SICHEM en fut d'abord la capitale : ce fut ensuite SAMARIE.

Au tems de Jesus-Christ, la Palestine étoit partagée en six grands pays; trois à l'occident du Jourdain; & trois à l'orient du même fleuve. Les trois premiers, du nord au sud, étoient, la *Galilée*, la *Samarie* & la *Judée*. Les trois autres étoient, la *Batanée*, la *Galaaditide* & la *Pérée*. Pour la *Trachonite*, l'*Iturée* & l'*Auranitide*, elles s'étendoient dans l'Arabie, au nord-est de la Galilée & de la Batanée.

M. Sanson a fait une carte qui décrit les voyages de Jesus-Christ & ceux des Apô-

tres. E.
Evang.

L'A
rope
& de
autres
Elle
ties; l
la mé
alors
la pa
moins

Les
partie
Médi
neure

Il
syrie
sente
prem
des f

tres. Elle est utile pour la lecture des saints
Evangiles & des Actes des Apôtres.

ARTICLE IV.

L' A S I E.

L'ANCIENNE Asie étoit séparée de l'Eu-
rope par le Tanais, aujourd'hui le Don;
& de l'Afrique, par l'Isthme de Suès. Des
autres côtés, elle est environée de la mer.

Elle se peut diviser en trois grandes par-
ties; l'Asie septentrionale, l'occidentale &
la méridionale. La partie occidentale étoit
alors la plus habitée & la mieux connue;
la partie septentrionale l'étoit beaucoup
moins, aussi-bien que la partie méridionale.

L' A S I E O C C I D E N T A L E.

Les portions les plus considérables de la
partie occidentale, étoient l'*Assyrie*, la
Médie, la *Perse*, l'*Arménie*, l'*Asie Mi-
neure*, la *Syrie* & l'*Arabie*.

I. L'Assyrie.

Il ne faut pas croire que l'empire d'As-
syrie fût d'abord aussi étendu que le repré-
sente la carte de M. Robert. Comme les
premiers royaumes n'étoient que de gran-
des familles, dont le pere étoit le chef &

le roi, celui d'Assyrie fut de ce nombre. Assur, fils de Sem, & par conséquent petit-fils de Noé, en fut le premier fondateur. Ce royaume s'accrut peu-à-peu, & enfin il est devenu assez étendu pour se pouvoir diviser en quatre grandes provinces; savoir, l'*Assyrie propre*, la *Mésopotamie*, la *Babylonie* & la *Chaldée*. Dans la suite, les Assyriens assujettirent d'autres peuples, & alors se forma leur grand empire.

L'*Assyrie propre*, comme l'Écriture Sainte nous l'assure, étoit sur le Tigre, qui la bornoit à l'occident; & elle s'étendoit le long de ce fleuve environ cent cinquante lieues du nord au sud: au lieu que de l'occident à l'orient, elle n'en avoit pas plus de cinquante dans sa plus grande largeur; c'est ce que nous appellons aujourd'hui le *Curdistan*. Sa capitale étoit NINIVE, ville très-célèbre du tems même de Moïse, qui la nomme *Ninive la grande*, parce qu'elle avoit plus de vingt lieues de circuit. Elle est à présent tellement détruite, qu'il ne s'en trouve plus de vestiges. On fait seulement qu'elle étoit sur la rive orientale du Tigre, vis-à-vis du lieu où est aujourd'hui *Mosul*.

La *Mésopotamie* étoit renfermée entre les fleuves du Tigre & de l'Euphrate; c'est ce que signifie son nom: elle avoit la même étendue que l'Assyrie propre. Ses villes principales étoient EDESSE, NISIBLE & CARRE ou CARAN, lieu de la demeure de Tharé,

pere
d'hui

La
trefois
que q
ce qu
Sa vi
très-c
sur l'
des I
tivité
petits
d'Ab

De
qui a
cédé
au m
borne
par le
voit
en ét
ECBA
RAG
capti

L'
étre
c'éto

pere d'Abraham. Ce pays s'appelle aujourd'hui le *Diarbeck*.

La *Babylonie* & la *Chaldée* ont été autrefois confondues, & n'ont été distinguées que quelques siècles avant Jésus-Christ; c'est ce que nous appellons aujourd'hui l'*Irack*. Sa ville principale étoit BABYLONE, ville très-célèbre dans l'Histoire ancienne, bâtie sur l'Euphrate : c'est le lieu où la plupart des Israélites furent transportés dans la captivité. UR étoit une autre ville de ces deux petits pays, où demeuroient les ancêtres d'Abraham.

II. *La Médie.*

Des Assyriens il faut passer aux *Médes*, qui après leur avoir été soumis, ont succédé à leur puissance. Leur pays, qui étoit au midi de la Mer Caspienne, se trouvoit borné d'un côté par l'Assyrie propre, & par le pays des Parthes. Le terrain se trouvoit rempli de montagnes, & le peuple en étoit assez belliqueux. La capitale étoit ECBATANÈ : une autre ville principale étoit RAGÈS, où Tobie fut transporté dans la captivité.

III. *La Perse.*

L'empire des Perses a été l'un des plus étendus de l'ancien monde. Avant Cyrus, c'étoit un royaume peu considérable; mais

ce prince étant maître de la Médie, qui lui vint du chef de sa mere & de sa femme, se trouva l'un des plus grands rois de l'Asie. Cyrus réunit sous sa domination tout ce que possédoient les Assyriens, les Médés, les Chaldéens, les Parthes, les Perses, les Lydiens, & même une partie des Grecs Asiatiques dans l'Asie mineure.

Mais pour ne parler présentement que de la Perse, elle portoit dans les plus anciens tems, le nom d'*Elam*, & avoit pour souverain, au tems d'Abraham, Codorlahomor, roi des Elamites, que ce patriarche vainquit, avec trois autres rois que ce prince avoit amenés dans la Palestine. La Perse comprit ensuite à-peu-près ce qui est encore aujourd'hui connu sous le même nom. Les villes principales étoient SUSE, PERSEPOLIS & PASARGADA, où fut inhumé le grand Cyrus.

La Perse étoit divisée en plusieurs petits peuples, moins connus dans l'Histoire que dans la Géographie, & qui prenoient toujours le nom général de la nation.

Les autres qui dépendoient de la Perse, & qui la plupart étoient à l'orient, sont les *Parthes*, les *Hyrcaïens*, les *Bactriens*, & quelques autres peu connus.

Sous Darius, fils d'Histaspes, l'empire des Perses étoit divisé en vingt satrapies ou gouvernemens généraux.

On comprenoit dans le nombre de ces gouvernemens l'Arménie, qui est entre la

Mer
gnoi
sont
té, l
parti
lestir
lons

L'
l'Asie
tami
endro
Cett
la m
Or
maje
étoit
l'Arm
de l'E
ART
Eri
du T
L'
entre
form
yan

L'
aujo
le p

Mer Noire & la Mer Caspienne; on y joignoit la Colchide, l'Ibérie & l'Albanie, qui sont au nord de l'Arménie. D'un autre côté, l'empire des Perses s'étendoit dans une partie de l'Arabie, dans la Syrie & la Palestine, enfin dans l'Asie mineure. Nous allons parler de ces provinces.

IV. *L'Arménie.*

L'Arménie, province considérable de l'Asie, étoit bornée au sud par la Mésopotamie & l'Assyrie, & coupée en quelques endroits par l'Euphrate, le Tigre & l'Araxe. Cette province est encore aujourd'hui dans la même position.

On distinguoit deux Arménies; l'*Arménie majeure*, & l'*Arménie mineure*. La première étoit entre l'Euphrate & la Mer Caspienne: l'*Arménie mineure* se trouvoit à l'occident de l'Euphrate. Ses villes principales étoient ARTAXATA, qu'on croit être aujourd'hui Erivan; & TIGRANOCERTA, vers la source du Tigre.

L'*Albanie*, l'*Ibérie* & la *Colchide*, situées entre la Mer Caspienne & la Mer Noire, forment aujourd'hui les provinces de Schirvan, de Georgie & de Mingrélie.

V. *L'Asie Mineure.*

L'Asie mineure est ce que nous appellons aujourd'hui la *Natolie*. Il paroît que ç'a été le premier séjour des Grecs, avant qu'ils

passassent dans les îles & dans le continent de l'Europe. Elle comprenoit un assez grand nombre de petites provinces ; savoir , 1. la Bythinie : 2. la Mysie : 3. la Troade : 4. l'Eolie : 5. l'Ionie : 6. la Carie : 7. la Lydie : 8. la Lycie : 9. la Phrygie : 10. la Galatie : 11. la Pisidie : 12. la Lycaonie : 13. la Pamphilie : 14. l'Isaurie : 15. la Cilicie : 16. la Cappadoce : 17. la Paphlagonie : 18. le Pont.

Les villes principales de ces dix-huit pays, étoient : CALCÉDOINE & NICÉE, en Bythinie ; CYZIQUE, dans la Mysie ; TROYE ou ILIUM, dans la Troade, célèbre par sa destruction, qui arriva environ douze cens ans avant Jesus-Christ ; EPHESE & SMYRNE, en Ionie ; MILET & HALICARNASSE, en Carie ; SARDES, en Lydie ; ANCYRE, en Galatie ; ICONIUM, en Lycaonie ; THARSE, en Cilicie ; SÉBASTE, dans la Cappadoce ; GANGARA, en Paphlagonie ; TRÉBISONDE, dans le Pont.

Les îles qui appartenotent à l'Asie mineure, étoient *Ténédos*, *Lesbos*, *Chio*, *Samos* & *Rhodes*. Celle de *Cypre*, que l'on rapporte communément à la Syrie, étoit célèbre par le culte qu'on y rendoit à *Vénus* ; & avoit pour villes principales, *SALAMINE*, *AMATHONTE* & *PAPHOS*.

VI. La Syrie.

La Syrie, que l'on appelle aujourd'hui
Sourie

Sourie
ciens
connu
mouru
MAS,
en fut
ANTIO
Cette
Antioch
l'Histo
maine.

La
parlé à
ridiona
retour
gouver
la dépe
fidèles
lere d'
cœur à
eurent
tiochus
valeur

L'Ar
l'Asie,
C'est un
par la
en trois
déserte
La ca

Sourie, a été assez fameuse dans les anciens tems; mais elle fut beaucoup plus connue depuis Alexandre le Grand, qui mourut 324 ans avant Jesus-Christ. DAMAS; qui subsiste encore avec splendeur, en fut d'abord la principale ville; & ensuite ANTIOCHE, qui est aujourd'hui en ruines. Cette dernière fut bâtie par le premier des Antiochus, rois de Syrie, si fameux dans l'Histoire Sacrée, & dans l'Histoire Romaine.

La *Phénicie* & la *Palestine*, dont on a parlé à l'article III, faisoient la partie méridionale de la Syrie. Les Juifs, depuis leur retour de la captivité de Babylone, quoique gouvernés par leurs pontifes, étoient sous la dépendance des Perses; & pour leur être fidèles, ils s'exposèrent aux suites de la colère d'Alexandre, dont Dieu changea le cœur à leur égard. On fait tout ce qu'ils eurent ensuite à souffrir de la part des Antiochus, dont ils secouerent le joug par la valeur des Macchabées.

VII. *L'Arabie.*

L'Arabie, l'une des grandes régions de l'Asie, conserve toujours son premier nom. C'est une presque île, qui tient au continent par la Palestine & la Syrie. Elle se divisoit en trois parties; l'*Arabie Pétrée*, l'*Arabie déserte* & l'*Arabie heureuse*.

La capitale de l'Arabie Pétrée, étoit Pé-

TRA. C'est dans cette partie qu'arriverent les Israélites après avoir passé miraculeusement la Mer Rouge, au sortir de l'Égypte; c'est-là que sont les montagnés d'*Oreb* & de *Sinai*. L'Arabie *déserte* est entre l'Arabie-Pétrée, l'Arabie heureuse, l'Euphrate & la Palestine; & ses villes anciennes sont peu connues. L'Arabie *heureuse*, au midi de la *déserte*, étoit un pays fertile & habité par treize peuples au moins, dont quelques-uns menotent une vie errante. La ville la plus distinguée étoit *SABA*, capitale d'un petit royaume, dès le tems même de Salomon, c'est-à-dire, dix siècles avant l'Ère Chrétienne.

L'ASIE SEPTENTRIONALE,

Si l'on jette les yeux sur la partie supérieure ou septentrionale de l'Asie, on trouve la *Sarmatie* Asiatique: il y en avoit aussi une en Europe; la *Scythie*, le Pays des *Seres*, & les *Terres inconnues*.

La *Sarmatie* comprenoit les *Sarmates*, qui étoient au nord du Pont-Euxin & de la Mer Caspienne. Ces peuples, alors réputés barbares, n'ont pas extrêmement figuré dans l'ancienne Histoire, Ils sont devenus très-célèbres dans la suite, par leurs incurSIONS sur les terres de l'empire Romain.

C'est dans la *Sarmatie*, vers la Mer Caspienne, qu'on place les *Amazones*, ces femmes illustres dans la guerre, si célèbres par les fables qu'on en raconte,

La *Scythie* étoit une des plus grandes portions de l'Asie; elle contenoit tout ce qui est à l'orient & au nord de la Mer Caspienne. Les peuples étoient nommés *Scythes*, soit qu'ils fussent en-deçà, ou au-delà du Mont *Imäüs*. C'est ce que nous appellons aujourd'hui les *Tartares Kalmoucks* & autres. Ces peuples étoient alors, comme ils sont encore, errans & vagabonds, vivant & habitant sous des tentes ou sur des chariots.

La région ou pays des *Seres*, *SERICA REGIO*, paroît avoir été vers le Thibet & la Chine septentrionale. Comme ses peuples apportoient la soie vers l'occident, cette précieuse marchandise se nommoit *Sericum*.

Enfin les *Terres inconnues*, sont ce qu'on nomme aujourd'hui la Sibérie.

L'ASIE MÉRIDIONALE.

Cette portion de l'Asie, moins connue des anciens que des modernes, comprenoit les *Indes*, le pays des *Sines*, & les *Iles*.

L'Inde en deçà du Gange, *intra Gangem*, contient ce qu'on appelle aujourd'hui l'empire du Mogol; & l'Inde au-delà du Gange, *extra Gangem*, comprend tous les royaumes de l'Asie, qui sont entre le Gange & la Chine. En-deçà du Gange, vivoient les *Brachmanes*, espece de philosophes qui

sont les peres des Brames , que l'on trouve aujourd'hui dans les Indes. Il y avoit aussi les *Malliens* , le royaume de *Taxile* & celui de *Porus* , célèbres dans l'histoire d'Alexandre. Au-delà du Gange étoient les *Gangarides* & la *Chersonese d'or* , où sont les royaumes de Pégû & de Siam.

La région des *Sines* étoit peu connue des Anciens , & l'est aujourd'hui beaucoup sous le nom d'Empire de la Chine.

Enfin les îles que l'on connoissoit , étoient la *Taprobane* , qu'on croit être l'île de Ceylan , les *Manioles* ou *Maldives* ; & *Sinde* , les îles de la Sonde.

A R T I C L E V.

L' A F R I Q U E.

L'ANCIENNE Afrique conserve aujourd'hui son même nom & les mêmes limites, Séparée des autres continens par la mer, elle ne tient à l'Asie que par l'isthme de Suez. Quoique quelques auteurs aient parlé de navigations faites autour de l'Afrique , sur-tout de celles que les Phéniciens envoyés par Nécao , roi d'Egypte , firent environ six cens ans avant Jesus-Christ , il est certain que les Anciens ne connoissoient distinctement que la partie septentrionale de ce continent. Ils divisoient l'Afrique en sept parties : l'*Egypte* , la *Libye* , l'*Afrique*

prop
l'Eth

L'
que
pece
la sa
l'ind
férie
périe

L'
com
ta,
ficiel
gouv
étoie
ALE
dre

L
lexa
men
des
que
der
por

Nil
dite
dér
tres
les

propre, la *Mauritanie*, l'*Afrique intérieure*,
l'*Ethiopie* & les *Iles*.

I. L'*Egypte*.

L'*Egypte* étoit si peuplée & si cultivée, que son peuple n'étoit pas moins une espèce de prodige par sa multitude, que par la sagesse de ses loix, le goût des sciences & l'industrie. On la divisoit en *Egypte inférieure*, ou *basse Egypte*, & en *Egypte supérieure*, ou *haute Egypte*.

L'*Egypte inférieure*, ou *basse Egypte*, comprenoit tout ce qu'on nommoit le *Delta*, arrosé par les canaux naturels ou artificiels du Nil. On y remarquoit plusieurs gouvernemens, dont les villes principales étoient PELUSIUM, SAIS, TANIS, & enfin ALEXANDRIE, qui tire son nom d'Alexandre le Grand son fondateur.

L'île de *Pharos* fut jointe à la ville d'Alexandrie, par une levée qui se fit dans la mer. C'est-là qu'étoit ce beau Phare, l'une des merveilles de l'ancien Monde, sur lequel on mettoit de nuit des feux, pour guider les vaisseaux qui entroient dans le port.

Comme c'étoit dans cette partie que le Nil tomboit dans la Mer Intérieure ou Méditerranée, il avoit sept canaux assez considérables, sans y comprendre quelques autres plus petits. Tous servoient à décharger les eaux de ce fleuve; ils étoient encore

nécessaires à la navigation & au commerce :

La haute Egypte commençoit précisément au-dessus du Delta ; c'est-à-dire , à l'endroit où le Nil se divisoit en plusieurs branches ou canaux , & remontoit au sud jusqu'à l'Ethiopie. MEMPHIS étoit la capitale de cette partie , aussi-bien que de toute l'Egypte. Assez près de-là , étoient les *Pyramides* , si célèbres , qui servoient de sépulture aux rois. Elles passoit pour des merveilles de l'ancien monde , moins par leur beauté & leur magnificence , que par la manière solide dont elles étoient bâties. A peine le tems les a-t-il endommagées , depuis plus de trois mille ans qu'elles subsistent.

Peu loin de-là , étoit ce fameux *Labyrinthe* , composé de douze palais , bâtis par autant de rois , qui régnoient en même-tems : palais qui contenoient trois mille appartemens , qui tous rentroient si bien les uns dans les autres , qu'il étoit comme impossible d'en sortir sans le secours d'un guide habile.

En remontant le Nil , on trouvoit la célèbre ville de THÈBES , qui avoit , dit-on , cent portes.

Ce fut dans les déserts de la haute Egypte ou de la *Thébaïde* , que se retirèrent , trois siècles après Jesus - Christ , tant de saints personnages qui se sont consacrés à la pénitence. Il en reste encore des vestiges dans quelques monastères , qui sont toujours vi-

sités p
tems

L'E
soit à
le lon
elle a
l'Aby

Il
tion
l'Ecr
nom
qui r
prof
dans
te ; q
bité
Egyt

L
situ
troi
la M
troi
& s
fer
Jup
éto
qu
dis
MA
2

sités par les voyageurs, & respectés de tout tems par les Turcs même.

L'Égypte avoit quelques dépendances, soit à l'occident, soit au midi. Elle régnoit le long des côtes de la Mer Rouge; au midi elle avoit la *Troglodite*, qui est la partie de l'Abyssinie sur la côte de cette Mer.

Il est difficile de faire une juste application des lieux de l'Égypte marqués dans l'Écriture; ce qui vient de la différence des noms désignés par les Historiens sacrés, & qui ne sont pas les mêmes dans les auteurs profanes. On fait seulement que *Mezraïm*, dans l'Écriture Sainte, signifie toute l'Égypte; que la terre de *Gessen* ou de *Gosen*, habitée par les Israélites, étoit dans la basse Égypte, entre le Nil & la Mer Rouge.

II. La Libye.

La Libye, deuxième partie de l'Afrique, située à l'occident de l'Égypte, contenoit trois provinces; savoir, la *Libye extérieure*, la *Marmarique* & la *Cyrénaïque*, qui toutes trois étoient bornées au nord par la mer, & s'étendoient au sud jusqu'à la Libye déserte. Dans la première étoit le Temple de Jupiter Hammon: la *grande Chersonèse* étoit une place maritime de la Marmarique. La Cyrénaïque avoit plusieurs villes distinguées, qui étoient CYRENE, PTOLEMAÏS, BARCÉ, ARSINOË & BÉRENICE. On prétendu que les fameux jardins des Mes-

pérides, étoient auprès de cette dernière ville; mais plusieurs Anciens les placent à l'extrémité occidentale, vers le détroit d'Hercule, aujourd'hui de Gibraltar.

III. *L'Afrique propre.*

L'Afrique propre avoit trois provinces particulières. La première étoit la *Région des Syrtes* ou de *Tripoli*, dont la ville la plus considérable se nommoit la grande LEPTIS, qui étoit sur la mer. L'*Afrique* particulière avoit CARTHAGE, ville bâtie par les Phéniciens, & qui a été long-temps la rivale de Rome. UTIQUE étoit à l'occident, & assez près de Carthage. La *Numidie*, troisième province, renfermoit les villes d'HIPPONE & de TAGASTE.

IV. *La Mauritanie.*

Cette quatrième région de l'Afrique s'étendoit depuis la Numidie jusqu'à l'Océan, & contenoit deux provinces: la *Mauritanie Césarienne*, dont JULIA CÉSAREA, aujourd'hui *Alger*, étoit la ville principale; & la *Mauritanie Tingitane*, qui avoit pour villes principales, TINGIS, *Tanger*, & SEPTA, aujourd'hui *Ceuta*, qui appartient au roi d'Espagne.

V. *L'Afrique intérieure.*

Cette région a été peu connue des an-

ciens,
nes;
conter
les G
& les

L'E
de l'
l'Egy
supé
de l'
que
fils d
men
Ethi
ples
dion

Mé
mi
cel
plu
né
an
ét
ti

ciens, & ne l'est pas beaucoup des modernes; elle est au-delà du mont Atlas. Elle contenoit plusieurs peuples: les *Gétules*, les *Garamantes*, les peuples de la Nigritie, & les *Ethiopiens occidentaux*.

V I. *L'Ethiopie.*

L'Ethiopie, qui faisoit la sixième région de l'Afrique ancienne, étoit au midi de l'Egypte. Elle occupoit les environs du Nil supérieur, & même du Niger, autre fleuve de l'Afrique. Il paroît par l'écriture-Sainte, que les Ethiopiens descendoient de Chus, fils de Cham, parce qu'ils sont indifféremment appelés *Chusai* & *Æthiopes*. Les Ethiopiens étoient divisés en plusieurs peuples, qui occupoient toute la partie méridionale de l'Afrique.

V II. *Les Iles de l'Afrique.*

Les îles de l'Afrique étoient dans la Mer Méditerranée, ou dans l'Océan. Les premières étoient peu considérables. Entre celles qui se trouvoient dans l'Océan, les plus remarquables étoient les îles *Fortunées*, aujourd'hui les Canaries. Mais les anciens ne connoissoient pas celles qui étoient au midi, ou au sud-est de ce continent.



ARTICLE VI.

L'EUROPE.

RELATIVEMENT à l'ordre dans lequel on doit étudier l'Histoire des peuples de l'Europe, nous la divisons en neuf parties; savoir, 1. la *Grèce*: 2. l'*Italie*: 3. l'*Illyrie*: 4. la *Dace*: 5. l'*Espagne*: 6. les *Gaules*: 7. les *Iles Britanniques*: 8. la *Germanie*: 9. la *Sarmatie*.

I. LA GRECE.

La Grèce est l'une des plus nobles portions de l'ancienne Europe. Elle fut habitée par la postérité de Japhet, peu de temps après l'Asie. De Javan, fils de Japhet, sont venus les Jaoniens, ou Ioniens, qui étoient les Grecs Asiatiques; & de ces peuples sont sorties les Colonies, qui ont passé dans le continent de l'Europe. On divise ces Colonies en deux portions, qui sont les États de *Macédoine*, & la *Grèce propre*.

La Macédoine.

Les états de Macédoine, dont une partie retient encore aujourd'hui le même nom, étoient divisés en quatre grandes provinces; savoir, la *Macédoine*, la *Theffalie*, l'*Epire* & la *Thrace*.

Le royaume de *Macédoine*, au nord de la Mer *Egée*, aujourd'hui l'Archipel, étoit d'abord extrêmement resserré; mais il fut étendu sous Philippe, pere d'Alexandre le Grand, & il se subdivisoit en plusieurs petites provinces. Les villes principales étoient, *PELLA*, capitale de tout le royaume; *THESSALONIQUE*, aujourd'hui Salonichi, sur le golfe de même nom; *PHILIPPE*, sur les frontieres de la Thrace, porte le nom de Philippe son restaurateur. Près de là étoient *Philippici Campi*, où furent défaits Brutus & Cassius, meurtriers de César. C'est dans ce royaume que se trouve le mont *ATHOS*, rempli maintenant d'un très-grand nombre de monasteres Grecs de l'ordre de *S. Basile*.

La *Thessalie*, au midi de la Macédoine, avoit des villes assez distinguées. Une des plus remarquables a été *PHARSALE*, près de laquelle Pompée fut défait par Jules César. C'est dans cette province qu'étoit *Tempé*, la plus agréable contrée de la Grece.

L'*Epire*, qui étoit au sud-ouest de la Macédoine, avoit pour ville principale *ACTIUM*, près de laquelle Marc-Antoine fut battu par Auguste.

Enfin la *Thrace*, aujourd'hui la *Romanie*, étoit à l'orient de la Macédoine; & c'est dans cette partie qu'étoit *BYZANCE*, appelée ensuite *Constantinople*, aujourd'hui capitale de l'empire Ottoman.

La Grece propre.

La Grece propre, environée de la Mer, étoit dans une heureuse position, qui la mettoit à portée de faire un grand commerce, & de communiquer avec les autres royaumes. Elle contenoit deux grandes parties, qui se partageoient en petites provinces. Ces parties étoient l'*Achaïe* & le *Péloponnèse*, avec un grand nombre d'îles.

L'*Achaïe*, quoique peu fertile, étoit néanmoins fort considérable, à cause d'*ATHÈNES*, sa principale ville, nommée encore aujourd'hui *Atines*, autrefois célèbre par les arts & les sciences que l'on y cultivoit avec succès, & par les grands hommes qu'elle a produits. Cette ville avoit trois ports sur la mer, le *Pyrée*, *Munichia* & *Phalerus*, preuve certaine de sa puissance, & de la noble industrie de ses habitans.

La province de *Mégare* portoit le nom de sa capitale, qui a disputé la supériorité à la ville d'*Athènes*; mais cette dernière enfin l'a emporté sur *Mégare*.

La *Béotie* avoit pour ville principale *THÈBES*, aujourd'hui *Tives*. Dans la *Phocide*, aujourd'hui *Livadie*, étoit le mont *Parnasse*. La *Doride*, la *Locride* & l'*Étolie* avoient quelques villes; mais qui sont peu connues.

Le *Péloponnèse*, maintenant la *Morée*, étoit, dans les anciens temps, partagé en

plusie
form
l'*Ach*
Messe
dans
garde
Grec
golfe
volu
& A
l'Arg
cour
ses p
TRES
ville
L'El
par
broi
fêtes
quit
rem
& d
L
rab
pre
fon
pha
cap
cou
M
be
la

plusieurs petits royaumes qui s'y étoient formés. Ses provinces principales étoient l'*Achaïe propre*, l'*Argolide*, la *Laconie*, la *Messénie*, l'*Elide* & l'*Arcadie*. On trouvoit dans l'*Achaïe propre*, SICION, qu'on regarde comme la plus ancienne ville de la Grece; & CORINTHE, située entre deux golfes, & l'une des plus polies & des plus voluptueuses villes de la Grèce. EPIDAURE & ARGOS étoient les plus remarquables de l'*Argolide*. La *Laconie*, si célèbre par le courage & la vie singuliere & austere de ses peuples, avoit LACÉDÉMONE & LEUCTRES. MESSÈNE & CORONE, étoient les villes les plus distinguées de la *Messénie*. L'*Elide* avoit PISE ou OLYMPIE, célèbre par les Jeux Olympiques, qui s'y célébroient tous les quatre ans. C'étoient les fêtes les plus renommées de toute l'antiquité profane. Enfin l'*Arcadie* n'avoit de remarquable que les villes de MÉGALOPOLIS & de MANTINÉE.

La Grece étoit environée d'îles considérables, tant à l'occident qu'à l'orient. Les premières, situées dans la Mer Ionienne, sont *Corcyra*, *Corfou*; *Céphalonie*, *Céphalonie*, *Zante* & *Itaque*, avec des villes capitales de même nom : il y en a beaucoup d'autres, mais moins considérables.

Celles qui étoient à l'orient, ou dans la Mer *Egée*, aujourd'hui l'Archipel, étoient beaucoup plus illustres, & appartennoient la plupart aux Etats de la Grece, dont

elles étoient voisines; quelques-unes cependant en étoient indépendantes. L'île d'*Eubée*, aujourd'hui Négrepont, qui tenoit presque au continent de la Grèce, avoit *CALCIS* pour ville principale. Les *Cyclades* étoient au midi de l'*Eubée*. Il y en avoit plusieurs; mais on distinguoit sur-tout celles de *Délos*, d'*Andros*, de *Naxos*, de *Syros* & de *Paros*. En remontant au nord, dans la même mer, on trouvoit *Lemnos*.

L'île de *Crete*, aujourd'hui Candie, est au midi du Péloponnèse: elle est grande, & d'autant plus distinguée dans l'Histoire ancienne, que l'on assure qu'elle a servi de berceau à Jupiter, le pere des divinités du paganisme. Ses villes principales étoient *GNOSSUS*, *GORTYNA* & *CYDONIA*. On y trouve aussi le mont *Ida*, & le Labyrinthe des Grecs, célèbre dans l'antiquité.

Trois événemens principaux de l'ancienne Histoire Grecque, méritent qu'on y fasse attention, & qu'on les examine par rapport à la Géographie.

Le premier est la célèbre Guerre de Troye, entreprise plus de douze cens ans avant l'ère chrétienne. Il faut avant de l'examiner, voir l'état géographique du royaume de Troye, tel que Guillaume Sanfon l'a donné en une feuille. On y verra que cette petite principauté de l'*Asie mineure*, dont les rois étoient vassaux de ceux d'*Assyrie*, faisoit partie de la petite Phry-

gie; &
provi
tation
moins

Ses
TRO
ceper
de so
d'ou
niens
reau
mon
me,
Sim
nu r
dre
don
que
mis
Géo

L
jeun
roi
de
qui
Gro
la
qui
pru
mi
du
les
de

gie ; qu'elle étoit renfermée entre d'autres provinces , qui avoient bien plus de réputation , & qui néanmoins ont fait beaucoup moins de bruit.

Ses villes principales étoient ILLIUM ou TROJA , qui n'est plus qu'un village , où cependant l'on trouve une infinité de restes de son ancienne splendeur : DARDANIUM , d'où les Troyens ont été nommés *Dardiens* : ABYDOS , où est aujourd'hui le château des Dardanelles du côté de l'Asie. Le mont *Ida* étoit au milieu de ce petit royaume , qui étoit arrosé par le *Scamandre* , le *Simois* & le *Granique*. Ce dernier est devenu remarquable par la victoire qu'Alexandre y remporta sur les Perses. Sanson a donné pareillement une Carte géographique des Etats des Princes confédérés , ennemis des Troyens ; mais elle rentre dans la Géographie des Grecs.

Le second événement est la Guerre du jeune Cyrus contre son frere Artaxerce , roi de Perse. Des Grecs entrèrent au service de Cyrus , qui fut battu & tué dans l'action qui se donna près de Babylone. Dix mille Grecs , échappés à cette défaite , firent , sous la conduite de Xénophon , une retraite qui passe , avec justice , pour un prodige de prudence & de valeur. Cette retraite a été mise en Carte géographique , pour l'usage du Roi , par M. *Delisle*. Il faut avoir sous les yeux cette excellente carte , en lisant la description que Xénophon a faite de cette

Marche admirable, sous le titre de *Retraite des Dix Milles*.

Enfin, le troisième événement est la conquête qu'Alexandre fit de l'empire des Perses. Le détail géographique en a été donné par M. Delisle, en une carte, qui n'a paru qu'après sa mort.

En suivant, sur les cartes, le récit de ces grandes expéditions, on verra les difficultés que la disposition & l'éloignement des lieux y appor-toient; & l'on sera en état de juger de la supériorité de courage & de génie qu'il fallut avoir pour les surmonter.

I I. L' I T A L I E.

L'Italie n'a pas été moins célèbre autrefois, qu'elle l'est aujourd'hui, quoique différemment. On peut la diviser en *partie septentrionale* & *partie méridionale*.

Partie septentrionale de l'Italie.

L'Italie septentrionale comprenoit la *Gaule Cisalpine*, l'*Etrurie*, l'*Ombrie*, les *Sabins* & le *Latium*.

La *Gaule Cisalpine*, ou en-deçà des Alpes, par rapport à Rome, étoit occupée par divers peuples, & les pays qu'elle renfermoit, répondoient à ce que nous connoissons sous le nom d'*Istrie*, de *Trentin*, des *Etats de Venise*, de *Ferrarois*, de *Mantouan*, de *Milanez*, de *Piémont*, de *Duché de*

Parme
princi
Mantu
cinum
norum
pluſie
ajou
L'E
dans
ché d
de la
de Ro
une
l'Itali
Pifa
ſerve
voit
Rom
L'
l'Etr
Adri
l'on
Duc
Ari
Hor
les
L
tie
ult
Me
pri
Po
Ve

Parme & de la côte de Gènes. Les villes principales étoient *Brixia*, *Cremona*, *Mantua*, *Mediolanum*, *Bergomum*, *Ticinum*, (Pave) *Vercella*, *Augusta-Taurinorum*, *Placentia*, *Parma*, *Ravenna*, & plusieurs autres, dont les noms subsistent aujourd'hui pour la plupart.

L'*Etrurie*, ou la Toscane, s'étendoit dans ce que nous appellons le grand Duché de Toscane, & même au-delà, puisque de la côte de Gènes, elle alloit jusqu'auprès de Rome, le long de la mer. C'étoit alors une des portions les plus considérables de l'Italie. Elle avoit pour villes principales, *Pisa*, *Luca*, *Florentia*, *Sena*, qui conservent leurs noms. C'est-là qu'on trouvoit le lac *Trafiméne*, où Annibal défit les Romains.

L'Ombrie, *Umbria*, étoit à l'orient de l'Etrurie, d'où elle alloit jusqu'à la Mer Adriatique; & ainsi elle occupoit ce que l'on nomme aujourd'hui la Romagne, le Duché d'Urbin & la Marche d'Ancone. *Ariminum*, *Rimini*, *Pisaurum*, *Urbium*, *Hortense*, *Spoletum*, en étoient les villes les plus distinguées.

Les *Sabins* occupoient la Sabine, & partie du duché de Spolette & de l'Abruzze ultérieure, à l'orient du Tibre, jusqu'à la Mer Adriatique. On y trouvoit pour villes principales, *Reate*, *Rieti*, *Palantium*, *Polegia*, & *Crustumium*, *Marcigliano*, *Vechio*.

Enfin , la dernière province de la partie septentrionale de l'Italie étoit le *Latium* ; la campagne de Rome , qui se divisoit en divers petits peuples. C'étoit-là que demeuroient les *Latins* ; les *Rutules*, les *Volsques*, les *Aurunques* & les *Eques*, dont il est fort parlé dans les premiers temps de l'Histoire Romaine : & ce pays s'étendoit depuis Rome jusqu'aux environs de Capoue.

C'est dans le *Latium* qu'étoit ROME , qui par la suite des temps, est devenue la capitale de l'Italie , & de tout l'empire Romain. Cette ville eut de très-foibles commencemens ; mais enfin elle vint à un si haut point de grandeur & de magnificence , qu'elle ne pouvoit être comparée qu'à elle-même. Elle renfermoit sept montagnes, se divisoit en quatorze quartiers , avoit huit ponts , dix-sept marchés , vingt aqueducs , quatorze portes , d'où partoient trente-cinq grands chemins , qui alloient dans toutes les provinces de l'Italie ; & de-là , jusqu'aux extrémités de l'empire romain.

Partie méridionale de l'Italie.

La partie méridionale de l'Italie , se divisoit en trois grandes provinces ; savoir , le *Samnium*, la *Campanie* & la *Grande Grèce*.

Le *Samnium* avoit peu d'étendue : il ne contenoit qu'une partie de ce qu'on ap-

pelle m
la cité
Il renf
villes
Firmu
Chieti
serve
La
d'éter
de la
nomm
& pa
villes
thenc
Baye
Saler
nem
d'hu
La
nale
que
non
Elle
vin
plu
jou
po
tur
Te
la
vi

pelle maintenant l'*Abruzze ultérieure*, avec la *citérieure*, & quelques autres quartiers. Il renfermoit quelques peuples, dont les villes les plus distinguées étoient *Ancona*, *Firmum*, *Fermo*; *Amiternum*, *Theate*, *Chieti*; *Sulmona* & *Beneventum*, qui conserve son nom.

La *Campanie*, qui avoit encore moins d'étendue que le *Samnium*, régnoit le long de la mer, & répondoit à ce que nous nommons aujourd'hui la *Terre de Labour*, & partie de la *Principauté citérieure*. Ses villes principales étoient *Neapolis* ou *Parthenope*, *Naples*; *Puteoli*, *Pouzzoles*; *Baye*, *Cuma*, *Capua*, *Nola*, *Nuceria* & *Salernum*. Toute cette contrée étoit anciennement, comme elle est encore aujourd'hui, un pays de délices.

La troisième province de l'Italie méridionale, qui seule étoit beaucoup plus grande que les deux autres prises ensemble, se nommoit la *Grande Grèce*, *Magna Græcia*. Elle se divisoit encore, soit en petites provinces, soit en peuples, & comprenoit la plus grande partie de ce qu'on appelle aujourd'hui *Royaume de Naples*. Elle avoit pour villes principales, *Larinum*, *Sipontum*, *Barium*, *Brundisium*, *Hidruntum*, *Tarentum*, *Regium*, *Consentia*, *Venusia*, la patrie d'*Horace*, & beaucoup d'autres villes.

Iles d'Italie.

Les îles qui environent l'Italie dépendoient de ce continent. Les plus distinguées, toutes situées dans la Mer d'Etrurie ou de Toscane, sont la *Sicile*, la plus grande de toutes, la *Sardaigne* & la *Corse*.

La première se partageoit en différens quartiers, suivant les divers aspects du nord & du sud, de l'est ou de l'ouest. Comme cette île est très-fertile, & a toujours été bien cultivée, elle étoit remplie d'un grand nombre de villes, dont les plus remarquables étoient *Mila*, *Milazzo*; *Drepanum*, *Trapani*; *Agrigentum*, *Gergenti*; *Syracusa*, *Syracuse*; *Catana*; *Panormus*, *Palerme*; *Messana* ou *Zancle*, *Messine*. Le mont *Etna*, aujourd'hui le *Gibel*, est un volcan qui jettoit & qui jette encore du feu.

La *Sardaigne*, moins grande que la *Sicile*, a aujourd'hui le titre de royaume. Ses principaux endroits étoient, en commençant par le nord, *Turris Libissonis*; *Olbia*, qui étoit à l'est; *Calaris* ou *Cagliari*, au sud; aussi-bien que *Sulci*, & *Ufellis*, ou *Oristagni*, à l'ouest.

La *Corse*, moins considérable, avoit pour villes, *Aleria* & *Nicaa*.

Observations sur l'Empire Romain.

Comme Rome & l'Italie ont commencé à former l'Empire Romain, il est bon, avant que d'aller plus avant, de jeter les yeux sur quatre objets différens, mais cependant relatifs ou subordonnés les uns aux autres. Ces objets sont : l'enfance de l'empire Romain : son adolescence : sa grandeur, ou son empire : enfin, sa décadence.

L'enfance de l'empire Romain est représentée dans la carte de l'*Italia media* de M. Delisle. On y voit Rome foible, dont la domination s'étend à peine sur quelques petits peuples qui étoient autour du Latium, La marche d'Annibal, dont on a fait une carte particuliere, pouroit encore entrer dans ce premier objet.

Ce qu'on appelle l'*Adolescence* de l'Empire Romain, est le tems où les Romains, perfectionnés dans l'art militaire, & animés par leurs premiers succès, sortirent du *Latium*, & se rendirent maîtres de toute l'Italie. Alors la carte de l'Italie ancienne de M. Delisle peut servir, & montrera l'état des conquêtes de la république Romaine dans ce continent.

Le troisieme objet est représenté par la carte de l'Empire Romain de M. Delisle, ou par les deux cartes de M. Robert, qui sont en françois. On voit, par l'histoire, que l'émulation de *Carthage* rendit les Ro-

maines conquérans. Ils commencerent d'abord par l'Espagne & l'Afrique, & poussèrent enfin jusqu'aux extrémités du monde connu. En continuant la lecture de l'histoire, on remarquera le progrès de cette monarchie, depuis la fondation de Rome, 753 ans avant l'ère chrétienne, jusqu'au cinquième siècle de Jésus Christ.

Alors un quatrième objet se présente. M. Delisle l'a représenté dans les deux cartes de l'Empire d'Orient, formées sur la description de l'empereur Constantin Porphyrogenète; ce qui peut aller du septième siècle jusqu'au douzième; car après ce tems, on voit cet empire languissant, & être à peine une ombre de ce qu'il étoit au commencement.

Mais c'est proprement au cinquième siècle, en 400 & quelques années, que commence la géographie du moyen âge, lorsque les peuples de la Germanie, du nord & de la Sarmatie, que l'on voit sur le *Théâtre Historique* de M. Delisle, divisèrent entr'eux l'empire Romain, & y formèrent des monarchies nouvelles. Les Vandales & les Visigoths entrèrent en Espagne & en Afrique; les Hérules & les Ostrogoths, en Italie; les Bourguignons & les Francs, dans les Gaules; les peuples Sarmatiques, ou Esclavons, s'emparèrent ensuite des provinces voisines du Danube; les Sarasins, ou Arabes, des provinces

de l'A
de ruin
Consta

- Au
Illyric
des co
min d
mune
alloit
la Sou
vie;
toutes
Rhin
Adria
Macé
doit
Rom
soit e
la N
Dal
subd

I.
Sou
cipa
jou
gen
Co
Tir
:
un

de l'Asie : enfin les Turs acheverent de ruiner l'empire d'Orient, en prenant Constantinople, en 1453.

III. L'ILLYRIE.

Au nord-est de l'Italie, étoit l'Illyrie ; *Illyricum*, où les Romains firent d'abord des conquêtes, qui leur ouvrirent le chemin de la Grèce. La notion la plus commune de l'étendue de l'Illyrie, est qu'elle alloit depuis ce qu'on appelle aujourd'hui la Souabe, jusqu'un peu au-delà de la Serbie ; & par conséquent, elle comprenoit toutes les provinces qui sont entre le haut Rhin, les Alpes, le Danube & la Mer Adriatique, d'où elle se terminoit à la Macédoine & à la Bulgarie, qui dépendoit en grande partie de la Thrace, ou Romanie. L'Illyrie, ainsi désignée, se divisoit en six provinces, qui étoient, la *Rhétie*, la *Norique*, la *Pannonie*, la *Liburnie*, la *Dalmatie* & la *Mæsie*, dont plusieurs se subdivisoient en petites provinces.

1. La *Rhétie* contenoit une partie de la Souabe & de la Baviere. Ses villes principales étoient *Augusta Vindelicorum*, aujourd'hui Augsbourg ; *Brigantium*, Bregents, près du lac nommé aujourd'hui de Constance ; & *Pons Oeni*, Inspruck, en Tirol.

2. La *Norique*, *Noricum*, comprenoit une partie de la Baviere & de l'Autriche,

la Stirie & la Carinthie. Ses villes étoient *Lauriacum*, Lorch; *Arlape*, Erlap; *Lentia*, Lintz; *Cilleia*, Cilley; & *Juvavum*, Saltzbourg.

3. La *Pannonie* étoit la troisiéme province de l'Illyrie, & s'étendoit depuis la Drave jusqu'au Danube. Ainsi elle comprenoit une partie de l'Autriche, de la Stirie, Carniole, Croatie; la basse Hongrie & Esclavonie. Elle avoit pour villes principales, *Juliobona* ou *Vindobona*, qui est Vienne, capitale de l'Autriche; *Flexum*, Presbourg; *Sabaria*, Sarwar; *Pœtavium*, Petau; *Æmona*, Laubach; *Arrabona*, Raab ou Javarin; *Aquincum*, Bude; *Mursia*, Effek; *Sirmium*, Sirmich.

4. La *Liburnie* étoit entre la Save & la Mer Adriatique, & contenoit la Croatie, partie de l'Istrie & de la Dalmatie, dont les villes principales étoient *Senia*, Segna ou Zeng; *Metulum*, Metding; *Jedera*, Zara.

5. La *Dalmatie*, qui conserve le même nom, avoit pour villes principales, *Delminium*, ancienne capitale; *Salona*, Spalatro; *Epidaurus*, l'ancienne Raguse; *Scodra*, Scutari, qui étoit la capitale de l'Illyrie propre, par où les Romains pénétrèrent peu-à-peu dans ces provinces.

6. Enfin, la *Mœsie* occupoit principalement la Servie & une partie de la Bulgarie. Elle avoit pour villes principales, *Taurunum* & *Singidunum*, qui répondent l'une ou l'autre à Belgrade; *Naissus*, Nissa; *Scupi*,
Uscup,

Uscup,
Dardan
renferm
On éto
sie jusq
entre l

Il fa
voisine
selon
véritab
étoit a
la hau
quie &
fit la c
de Je
vince
la rav
lien l
color
lieu d
& qu
à la
dépe
Ce
la D
d'app
Nou
son
lyrie
pire
reste

Uscup, dans le canton qu'on nommoit Dardanie; & *Sardica*, Sophie, que l'on renfermoit quelquefois dans la Thrace. On étendit pendant un temps la Mœsie jusqu'au Pont-Euxin ou Mer Noire, entre la Thrace & le Danube.

IV. L A D A C E.

Il faut observer que la *Dace*, province voisine du Danube, a deux significations selon les tems. L'ancienne Dacie, ou la véritable, *Dacia antiqua*, *Dacia vera*, étoit au-delà du Danube, & répondoit à la haute Hongrie, la Transilvanie, la Valachie & la Moldavie. L'empereur Trajan en fit la conquête sur les Daces, vers l'an 115 de Jesus-Christ, & il rendit ce pays Province Romaine; mais comme les Barbares la ravageoient souvent, l'empereur Aurélien l'abandonna en 274, & transporta les colonies romaines qui y étoient, au milieu de la Mœsie, dont on vient de parler, & que l'on appelloit la Haute, relativement à la partie basse vers le Pont-Euxin, qui dépendoit de la Thrace.

Ce transport des colonies romaines, de la Dace au-delà du Danube, donna lieu d'appeller une partie de la Mœsie, *Dace Nouvelle*; & dans la suite cette Dace donna son nom à l'une des deux parties de l'Illyrie orientale, qui fut attribuée à l'empire Romain d'Orient, pendant que le reste de l'Illyrie fut de l'empire d'Occident.

V. L' E S P A G N E.

L'Espagne fut d'abord occupée au nord par les Celtes ou Gaulois, qui y entrèrent par les Pyrénées, & donnerent le nom de *Galice* ou de *Celtibérie*, à la partie qu'ils occuperent. Les *Hespériens*, peuples d'Italie, s'y rendirent par la Ligurie, la Provence & la Gaule Narbonnoise, d'où cette partie eut le nom d'*Hesperia*. Les Phéniciens y vinrent par mer, & ils lui donnerent le nom d'Espagne, ou de *Spani-Iam*, ce qui signifie Pays rempli de lapins : il s'y en trouvoit alors en très-grande quantité. Enfin les Carthaginois, colonie des Phéniciens, y aborderent aussi.

L'Espagne a été diversément partagée dans les différens tems. Nous réunirons ces divisions sous un même point de vue. La première division partageoit ce país en Espagne *citérieure* & Espagne *ultérieure*. La *citérieure*, dont la principale ville étoit TARAGONE, contenoit vingt-huit peuples, & occupoit plus de la moitié de l'Espagne. L'*ultérieure*, moins étendue, ne contenoit que deux grands pays, la *Lusitanie* & la *Bétique*.

La seconde division est celle de Pline, qui partage l'Espagne en quatorze communautés, sous trois provinces, qui sont, la *Lusitanie*, la *Taragonoise* & la *Bétique*.

Enfin, la troisième division est celle de

la Not
des pro
la Gal
Cartha

1. L
core le
trefois
Portu
princi
Astur

2.
nensis
Castil
logne
Pam
ragoe
celon
ruine

3.
une
gal,
jour
bles
rita

4.
prov
teno
Cas
gran
Car
tum
Va

la Notice de l'Empire, qui met cinq grandes provinces dans ce continent : ce sont, la *Galice*, la *Taragonoise*, la *Lusitanie*, la *Carthaginoise* & la *Bétique*.

1. La *Galice*, *Gallacia*, conserve encore le même nom; mais elle s'étendoit autrefois dans ce qu'on appelle aujourd'hui Portugal, Asturies, & vieille Castille. Ses principales villes étoient *Braccara*, Brague; *Asturica*, Astorga.


2. La *Taragonoise*, *Provincia Taracensis*, occupoit une partie de la nouvelle Castille, la Navarre, l'Aragon & la Catalogne. Les villes les plus distinguées étoient *Pampelo*, Pampelune; *Casagusta*, Saragoce; *Taraco*, Taragone; *Barcino*, Barcelone; *Dertosa*, Tortose; *Numantia*, ruinée.

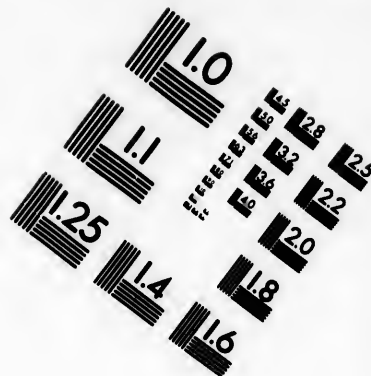
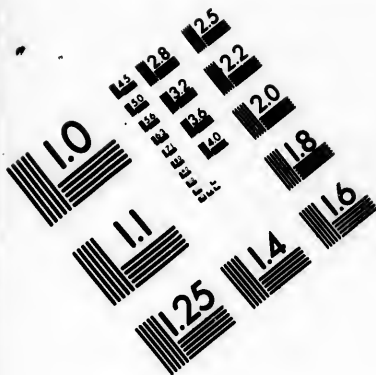
3. La *Lusitanie* ancienne comprenoit une grande partie du royaume de Portugal, & quelque chose de l'Espagne d'aujourd'hui : elle avoit pour villes remarquables *Olysippo*, Lisbonne; *Augusta Emerita*; Mérida.

4. La *Carthaginoise*, *Carthaginensis provincia*, étoit la plus étendue, & contenoit la Murcie, Valence & la nouvelle Castille. Ses villes étoient célèbres & en grand nombre; entr'autres, *Carthago nova*, Carthagène; *Toletum*, Tolède; *Complutum*, Alcalá; *Saguntus*, ruinée; *Valentia*, Valence.




5. La cinquième province, qui étoit la







**IMAGE EVALUATION
TEST TARGET (MT-3)**



**Photographic
Sciences
Corporation**

23 WEST MAIN STREET
WEBSTER, N.Y. 14580
(716) 872-4503

1.8
2.0
2.2
2.5
2.8
3.2
3.6
4.0

1.0
1.1
1.2
1.3
1.4
1.5
1.6
1.7

Bétique, renfermoit l'Andalousie, le royaume de Grenade & partie du Portugal. Ses principales villes étoient *Hispalis*, Séville; *Corduba*, Cordoue; *Carteia*, qu'on croit ruinée; & *Gades*, Cadis.

Cinq grands fleuves arrosent cette riche contrée; savoir, *Iberus*, l'Ebre, qui tombe dans la Méditerranée; *Durius*, le Douro; *Tagus*, le Tage; *Anas*, la Guadiana, & *Betis*, le Guadalquivir. Ces quatre derniers tombent dans le grand Océan.

On joignoit pour sixième partie de l'Espagne, les îles *Baléares*, qui sont *Palma*, Maïorque; & *Mago*, Minorque, où est Port-Mahon. *Ebusus*, Iviça, étoit la principale des *Pityuses*.

V I. L A G A U L E.

La Gaule, sixième partie de l'Europe ancienne, se divisoit de plusieurs manières. On ne considère ici que la Gaule Trans-Alpine, ou d'au-delà des Alpes, par rapport aux Romains, c'est-à-dire, celle qui répond, à quelque chose près, à la France, la Suisse, la Savoye & les Pays-Bas. A l'égard de la *Gaule Cis-Alpine*, conquête des Gaulois, elle faisoit partie de l'Italie, où il en a été parlé.

La *Gaule Trans-Alpine*, ou la véritable Patrie des Gaulois, fut regardée par les Romains, depuis qu'ils s'en furent rendus maîtres, comme une des plus illustres portions de leur empire. César la divise en

quatre
est ve
faisoit
mise a
gique

Au
Il les
savoir
ferme
se tro
noise
qui c
gique

La
sième
port
sieur
port
Belg
noise

I.

savo

La

ves

&

tou

s'ét

des

Tr

Ch

Ar

m

quatre parties. Ce sont la *Provincia*, d'où est venu le nom de la *Provence*, qui en faisoit partie, & qui fut la première soumise aux Romains; l'*Aquitaine*, la *Belgique* & la *Celtique*.

Auguste fit une autre division des Gaules. Il les partagea en quatre grandes provinces; savoir, 1. la *Gaule Narbonnoise*, qui renfermoit dix-sept peuples; 2. l'*Aquitaine*, où se trouvoient dix-huit peuples; 3. la *Lyonnoise*, ou Province de Lyon, très-étendue, qui contenoit vingt-neuf peuples; 4. la *Belgique*, où étoient vingt-un peuples.

La Notice de l'Empire fournit une troisième division des Gaules en cinq grandes portions, qui se partagent ensuite en plusieurs autres petites provinces. Ces grandes portions, ou parties générales, sont, 1. la *Belgique*; 2. la *Germanique*; 3. la *Lyonnoise*; 4. la *Viennoise*; 5. l'*Aquitaine*.

I. La *Belgique* comprenoit deux parties; savoir, la première & la seconde Belgique. La première contenoit tout le pays de Trèves, & les trois évêchés de Metz, Toul & Verdun. Sous la seconde Belgique, étoit toute l'ancienne Métropole de Reims, qui s'étendoit même dans une grande partie des Pays-Bas. Les villes principales étoient Trèves, Metz, Toul & Verdun; Reims, Châlons sur Marne, Soissons, Beauvais, Amiens, Arras, Cambrai.

II. La *Germanique* se divisoit pareillement en deux petites provinces, la première

& la *seconde* Germanique. Sous la *premiere*, étoient les territoires de Mayence, Strasbourg, Spire & Vormes. On trouvoit dans la *seconde*, les diocèses de Cologne & de Tongres, ou Liège, qui tous portoient les noms de leurs villes principales.

III. La province *Lyonnoise* étoit fort étendue, & se partageoit en quatre parties. La *premiere* Lyonnoise comprenoit les diocèses de Lyon, Autun, Langres, Mâcon, Châlons sur Saone. Sous la *seconde* étoit toute la Normandie. Sous la *troisième*, la Touraine, le Maine & toute la Bretagne. Dans la *quatrième*, se trouvoit toute l'ancienne province ecclésiastique de Sens, qui comprenoit celle de Paris. On y joignoit, pour *cinquième* partie, *Maxima Sequanorum*, qui renfermoit la Franche-Comté & presque toute la Suisse.

Dans cette grande portion de la Gaule, étoient alors pour villes principales, Lyon & les villes des diocèses qui en dépendent : Rouen, Avranches, Coutances, Tours, le Mans, Nantes, Vannes, Sens, Paris, Auxerre, Befançon, Augst, près Basle, & Constance.

IV. La *Viennoise*, dont la *premiere* comprenoit le Dauphiné, la principauté d'Orange & le Comtat *Venaisin* : la *seconde* renfermoit les métropoles de Narbonne & de Toulouse : la *troisième* occupoit une grande partie de la Provence : la *quatrième*, la province d'Embrun & le

marq
quién
voye

Le
port

lence

Nifr

Tara

V

rale

pro

moi

& d

la f

Enf

publ

cor

fiat

éto

no

ve

bo

M

ge

ge

R

marquisat de Saluces; enfin, dans la *cinquième* Viennoise étoit une partie de la Savoie, sous le nom d'*Alpes Graia*.

Les villes principales de cette grande portion des Gaules, étoient Vienne, Valence, Orange, Narbonne, Toulouse, Nîmes, Arles, Embrun, & Monstiers en Tarantaife.

V. L'*Aquitaine*, cinquième partie générale de la Gaule, se divisoit en trois autres provinces. La *première* Aquitaine renfermoit la province ecclésiastique de Bourges, & celle d'Albi, qui en a été détachée. Sous la seconde, étoit la province de Bordeaux. Enfin la *troisième*, nommée aussi *Novempopulania*, à cause des neuf peuples qu'elle contenoit, renfermoit la province ecclésiastique d'Ausch. Les villes principales étoient Bourges, Bordeaux, Eluse ou Eause, nommée ensuite Auch.

Les Gaules avoient plusieurs grands fleuves. Le Rhin, *Rhenus*, leur servoit de bornes à l'orient & au nord. La Meuse, *Mosa*; la Seine, *Sequana*; la Loire, *Ligeris*, & la Garonne, *Garumna*, se déchargent dans l'Océan; au lieu que le Rhône, *Rhodanus*, tombe dans la Méditerranée.

VII. LES ILES BRITANNIQUES.

Les Romains n'entrèrent dans les îles Britanniques qu'après avoir fait la conquête des Gaules; ils ne les ont même jamais pos-

féderées entièrement. Ils ignoroient d'abord si la Grande Bretagne étoit une île ou un continent.

Ces îles eurent communément le nom de *Britannia* ou *Britannica Insula* ; l'une *Britannia major*, répond à l'Angleterre & à l'Ecosse : *Britannia minor* ou *Hibernia*, étoit l'Irlande.

La Grande Bretagne, nommée aussi *Albion*, à cause des dunes ou élévations blanches de ses côtes, se divisoit en *Britannia Romana*, & en *Britannia Barbara*. Cette dernière, qui ne fut jamais entièrement conquise par les Romains, comprenoit la partie septentrionale de l'Ecosse.

Mais la division de la Grande Bretagne, suivant la Notice de l'empire Romain, étoit en cinq grandes provinces; savoir, 1. *Britannia prima*, qui comprenoit le pays de Cornouailles, & ce qui est au midi de la Tamise; 2. *Britannia secunda*, renfermoit le pays de Galles; 3. *Flavia Caesariensis*, s'étendoit depuis le nord de la Tamise jusqu'à la province d'Yorck; 4. *Maxima Caesariensis*, depuis la province d'Yorck jusqu'aux frontieres de l'Ecosse; 5. enfin *Valentia*, qui contenoit la partie méridionale de l'Ecosse.

Les villes principales de toutes ces provinces étoient *Londinium*, Londres; *Durovernum*, Cantorberi; *Dubris*, Douvres; *Eboracum*, Yorck.

L'île contigue à la Grande Bretagne est

l'Irlande
contenue
l'histoire
Romaine

La
rope
due
On
be,
les
noit
l'ina
Scar
la M
con
C
gran
Her
qui
bre
poi
ner

Ch
l'é
A
Iff
le
bi
B

l'Irlande, nommée *Britannia minor* : elle contenoit plusieurs peuples peu connus dans l'histoire; aussi ne paroît-il pas que les Romains y soient entrés.

VIII. LA GERMANIE.

La GERMANIE, huitième partie de l'Europe ancienne, étoit beaucoup plus étendue que l'Allemagne ne l'est aujourd'hui. On la renfermoit entre le Rhin, le Danube, l'Océan septentrional, la Vistule & les monts Crapacks : ainsi elle comprenoit, outre la plus grande partie de l'Allemagne, une portion de la Pologne, & la Scandinavie, c'est-à-dire, le Danemarck, la Norvège & la Suède, pays alors peu connus.

On partageoit la Germanie en quatre grands peuples; savoir, les *Istevons*, les *Hermions*, les *Vindiles* & les *Ingévons*, qui comprennoient sous eux un grand nombre de petits peuples. Mais ils n'avoient point d'habitations auxquelles on pût donner le nom de ville.

1. Ainsi les *Frisons*, les *Dulgini*, les *Chassuarii*, *Chamavi* & *Marfi*, qui sont l'évêché de Munster & de Paderborn; les *Angrivari* & les *Marsaci*, partie de l'Over-Iffel, d'Utrecht & de Gueldres; *Sicambri*, le long du Rhin, au-dessous du Mein, aussi bien que les *Tencteri* & *Bructeri*, la Marck, Berg, Westphalie, Vétéranie, ont pris le

nom de *Francs*. Les *Mattiaci* & *Sedufii*, tenoient la Hesse, & les environs du Mein & du Nekre. Ces douze peuples étoient compris sous le nom d'*Istevons*.

2. Les *Hermions* entroient davantage dans l'intérieur de la Germanie, & étoient aussi partagés en douze petits peuples; savoir, les Chérusques, les Chattes, les Hurmundures, les Allemans, les Armalaufi, les Marcomans, les Quades, les Gothins, les Osiens, les Marsingès, les Buriens & les Lugiens. Tous ces petits peuples s'étendoient dans la Saxe, la Franconie, la Souabe, la Bohême, la Silésie, la Moravie, & une partie de la Pologne.

3. Les *Vindiles* occupoient tout le nord de la Germanie, & comprenoient vingt-un petits peuples, dont les principaux étoient les Cimbres & les Anglois dans le Jutland, les Vandales, les *Heruli*, *Gothones*, *Longobardi*, *Burgundiones*, *Cauci*, *Saxones*, *Teutones*. Ces peuples changeant souvent de demeure, donnerent leurs noms aux provinces dont ils s'emparèrent; mais originellement il occupoient ce qui est entre le Weser & la Vistule, aux environs des parties septentrionales de l'Elbe & de l'Oder.

4. Enfin les *Ingévois* étoient encore plus au nord que les *Vindiles*, & occupoient la Scandinavie, fort étendue pour le terrain; mais où on ne remarquoit que trois peuples, *Sitones*, les Norvégiens; *Sueones*,

les Su
avoit
Mer
danus

La
forêt
rié,
fût alo

Les
le Rh
le Da
lui se
du pa
bis,

Qu
comr
mani
& de
tie de

L
fait
rop
de l
Cra
auje
peu
Scy
con
ble
me

les Suédois; *Feningia*, la Finlande. Il y avoit encore les îles renfermées dans la Mer Baltique, appelée alors *Sinus Codanus*.

La Germanie étoit remplie de bois: la forêt *Hercinie* en couvroit plus de la moitié, & empêchoit que ce grand pays ne fût alors aussi peuplé qu'il pouvoit l'être.

Les principaux fleuves étoient *Rhenus*, le Rhin; *Vistula*, la Vistule, & *Danubius*, le Danube, qui conservent leurs noms, & lui servoient de bornes. Dans l'intérieur du pays, le *Weser*, *Visurgis*; l'*Elbe*, *Albis*, & l'*Oder*, *Viader*.

Quelques savans modernes regardent comme une dépendance de l'ancienne Germanie une partie de la Suisse, de la Souabe & de l'Autriche: mais ces pays faisoient partie de l'Illyrie, dont on a parlé après l'Italie.

IX. LA SARMATIE.

La Sarmatie, à l'orient de la Germanie, fait la neuvième & dernière partie de l'Europe. Elle occupoit tout ce qui est au-delà de la Vistule, du Danube, & des Monts *Crapacks*, *Montes Carpati*, qui séparent aujourd'hui la Hongrie de la Pologne. Les peuples nommés *Sarmates*, sortoient des Scythes & de la Scythie. Leur valeur a été connue autrefois; & après avoir fait trembler l'empire Romain, ils ont ensuite commencé à le démembrer sous le nom de

252 GÉOGRAPHIE ABRÉGÉE.

Goths, de Visigoths & d'Ostrogoths, de Huns, &c.

C'étoient des peuples errans, divisés en plusieurs Nations ; savoir, les Estiens, *Estiai*, qui occupoient la Prusse & la Livonie ; *Veneda*, la Lithuanie ; *Bastarna*, la plus grande partie de la Pologne, jusqu'à l'embouchure du Danube, *Tyrangita*, ceux des environs du *Tyras*, aujourd'hui Dnieper ; *Riphaces*, ceux qui occupoient la Russie septentrionale ; & les *Roxolani*, qui étoient dans la méridionale & dans la petite Tartarie ; où l'on remarquoit le royaume du *Bosphore*, près de ce que nous appellons le Détroit de Caffa. On nommoit anciennement *Bosphore* un passage de mer qu'un bœuf peut traverser à la nage.

Ce que nous venons de marquer sur l'ancienne Géographie, n'est qu'un extrait fort succinct de ce que nous en avons dit dans les deux derniers volumes de notre Méthode pour étudier la Géographie. Ce ne sont, à la vérité, que de simples divisions ; mais elles suffisent aux Commençans, & même au plus grand nombre de ceux qui ne sont point appelés par goût ou par état, à de plus grandes recherches.

On

On tro
vrage su
sique &
âges de
démies d
& Profes
lement
plus gra
à la ma
premier
& dans
rograph
tre deux
septentr
feuilles
Cosmog
parois
graphie
compar
demme
vrage
Toutes
l'on v
nant le
à 18 j
ros de

J. A.
Vice
Mér.
glet

On trouve chez la veuve TILLIARD, l'Ouvrage suivant: *Cosmographie Universelle, Physique & Astronomique, pour l'étude de tous les âges de l'Histoire*, par M. PHILIPPE, des Académies d'Angers & de Rouen, Censeur Royal, & Professeur en Histoire. Cet Atlas est actuellement composé de *soixante-douze Cartes*, du plus grand format *in-4°*. lavées & enluminées, à la manière des Ingénieurs, dans toutes les premières divisions pour les Cartes générales, & dans toutes les sous-divisions pour les Chorographies particulières des grands Etats. Outre deux Cartes pour les Hémisphères célestes, septentrional & méridional, on trouvera deux feuilles pour les Notions élémentaires de la Cosmographie. La plupart des nouvelles qui paroissent, présentent les objets de la Géographie historique ancienne; ce qui facilite la comparaison des développemens donnés précédemment de la Géographie moderne. Cet ouvrage se vend, relié en basane, *60 livres*. Toutes les feuilles se vendent séparément, si l'on veut, au prix de *20 sols* chacune. En prenant les dix-sept Cartes de France, on les aura à *18 sols* pièce; & au même taux les *14* numéros de l'Allemagne, mais sans reliure.

A P P R O B A T I O N.

J'AI lu, par l'ordre de Monseigneur le Vice-Chancelier, la nouvelle Édition de la *Méthode de Géographie* de feu l'Abbé Lenglet du Fresnoy, avec l'Abrégé de ce même

M

Ouvrage, par demandes & par réponses; & il m'a paru qu'elle méritoit d'être reçue encore plus favorablement du public que toutes les Éditions précédentes. Donné à Paris, le onze Décembre mil sept cent soixante-cinq.

PHILIPPE DE PRÉTOT.

PRIVILEGE DU ROI.

LOUIS, par la grace de Dieu, Roi de France & de Navarre: A nos amés & feaux Conseillers les Gens tenans nos Cours de Parlement, Maîtres des Requêtes ordinaires de notre Hôtel, Grand-Conseil, Prevôt de Paris, Baillifs, Sénéchaux, leurs Lieutenans Civils, & autres nos Justiciers qu'il appartiendra: S A L U T. Notre amé le Sieur TELLARD, Libraire, Nous a fait exposer qu'il desireroit faire réimprimer, & donner au Public, un Ouvrage qui a pour titre: *Méthode de Géographie de feu l'Abbé Lenglet Dufresnoy, avec l'Abrégé de ce même Ouvrage, par demandes & par réponses*, s'il Nous plaisoit lui accorder nos Lettres de Privilège pour ce nécessaires. A ces CAUSES, voulant favorablement traiter l'Exposant, Nous lui avons permis & permettons par ces Présentes, de faire réimprimer ledit Ouvrage, autant de fois que bon lui semblera, & de le vendre, faire vendre & débiter partout notre Royaume, pendant le temps de douze années consécutives, à compter du jour de la date des Présentes. Faisons défenses à tous Imprimeurs, Libraires & autres personnes, de quelque qualité & condition qu'elles soient, d'en introduire de réimpression étrangere dans aucun lieu de notre obéissance, Comme aussi de faire réimprimer, vendre, faire vendre, débiter ni contrefaire ledit Ouvrage, ni d'en faire aucun extrait, sous quelque prétexte que ce puisse être, sans la permission expresse & par écrit dudit Exposant, ou de ceux qui auront droit de lui, à peine de confiscation des exemplaires contrefaits, de trois mille livres d'amende contre chacun des contrevenans, dont un tiers à Nous, un tiers à l'Hôtel-Dieu de Paris, & l'autre tiers audit Exposant, ou à celui qui aura droit de

lui
que
gilt
Par
imp
&
for
sou
for
tan
&
serv
mis
née
celi
ensu
publ
un c
de r
Gar
tout
quel
Exp
sans
men
prim
Ouv
copi
seille
Con
requ
quis
nonc
tres
Paris
de g
cinq

R
& S
N^o.
1723

lui, & de tous dépens, dommages & Intérêts. A la charge que ces présentes seront enregistrées tout au long sur le Registre de la Communauté des Imprimeurs & Libraires de Paris, dans trois mois de la date d'icelles; que la réimpression dudit Ouvrage sera faite dans notre Royaume, & non ailleurs, en bon papier & beaux caractères, conformément à la feuille imprimée attachée pour modèle sous le contrescel des Présentes; que l'Impétrant se conformera en tout aux Réglemens de la Librairie, & notamment à celui du dix Avril mil sept cent vingt-cinq; & qu'avant de l'exposer en vente, l'Imprimé qui aura servi de copie à la réimpression dudit Ouvrage, sera remis dans le même état où l'Approbation y aura été donnée, es-mains de notre très-cher & féal Chevalier, Chancelier de France, le Sieur DELAMOIGNON; & qu'il en sera ensuite remis deux exemplaires dans notre Bibliothèque publique, un dans celle de notre Château du Louvre, un dans celle dudit sieur DELAMOIGNON, & un dans celle de notre très-cher & féal Chevalier, Vice-Chancelier & Garde des Sceaux de France, le Sieur DE MAUPEOU; le tout à peine de nullité des Présentes: du contenu desquelles vous mandons & enjoignons de faire jouir ledit Exposant, & ses ayans cause, pleinement & paisiblement, sans souffrir qu'il leur soit fait aucun trouble ou empêchement. Voulons que la copie des Présentes, qui sera imprimée tout au long au commencement ou à la fin dudit Ouvrage, soit tenue pour dûment signifiée, & qu'aux copies collationnées par l'un de nos amés & féaux Conseillers & Secrétaires, foi soit ajoutée comme à l'original. Commandons au premier notre Huissier ou Sergent sur ce requis, de faire pour l'exécution d'icelles, tous actes requis & nécessaires, sans demander autre permission, & nonobstant clameur de Haro, Charte Normande, & Lettres à ce contraires: C A R tel est notre plaisir. DONNÉ à Paris, le vingt-neuvième jour du mois de Janvier, l'an de grace mil sept cent soixante-six, & de notre Règne le cinquante-unième. PAR LE ROI en son Conseil.

LE BEGUE.

Registré sur le Registre XVI. de la Chambre Royale & Syndicale des Libraires & Imprimeurs de Paris. N^o. 807, fol. 426. conformément aux Réglemens de 1713. A Paris, ce 7 Février 1766.

LE BRÉTON, Syndic.

AVIS AU RELIEUR.

*Les quatre planches gravées doivent être
placées aux pages indiquées.*

| | |
|--|-----|
| L es Systèmes du Monde, à la page | 23 |
| La Mappemonde, à la page | 37 |
| La France, vis-à-vis la page | 65 |
| L'Ancien Monde, vis-à-vis la page | 203 |

De l'Imprimerie de Cl. SIMON, Imprimeur-Libraire
de LL. AA. SS. Messieurs le Prince de CONDÉ,
le Duc de BOURBON, & de l'Archevêché,
rue des Mathurins, 1774

e. être

e. 23
37
65
203

Libraire
NDÉ,

