

Technical and Bibliographic Notes/Notes techniques et bibliographiques

The Institute has attempted to obtain the best original copy available for filming. Features of this copy which may be bibliographically unique, which may alter any of the images in the reproduction, or which may significantly change the usual method of filming, are checked below.

L'Institut a microfilmé le meilleur exemplaire qu'il lui a été possible de se procurer. Les détails de cet exemplaire qui sont peut-être uniques du point de vue bibliographique, qui peuvent modifier une image reproduite, ou qui peuvent exiger une modification dans la méthode normale de filmage sont indiqués ci-dessous.

- Coloured covers/
Couverture de couleur
- Covers damaged/
Couverture endommagée
- Covers restored and/or laminated/
Couverture restaurée et/ou pelliculée
- Cover title missing/
Le titre de couverture manque
- Coloured maps/
Cartes géographiques en couleur
- Coloured ink (i.e. other than blue or black)/
Encre de couleur (i.e. autre que bleue ou noire)
- Coloured plates and/or illustrations/
Planches et/ou illustrations en couleur
- Bound with other material/
Relié avec d'autres documents
- Tight binding may cause shadows or distortion along interior margin/
La reliure serrée peut causer de l'ombre ou de la distorsion le long de la marge intérieure
- Blank leaves added during restoration may appear within the text. Whenever possible, these have been omitted from filming/
Il se peut que certaines pages blanches ajoutées lors d'une restauration apparaissent dans le texte, mais, lorsque cela était possible, ces pages n'ont pas été filmées.
- Additional comments: /
Commentaires supplémentaires: Pages 67 et 68 manques.

- Coloured pages/
Pages de couleur
- Pages damaged/
Pages endommagées
- Pages restored and/or laminated/
Pages restaurées et/ou pelliculées
- Pages discoloured, stained or foxed/
Pages décolorées, tachetées ou piquées
- Pages detached/
Pages détachées
- Showthrough/
Transparence
- Quality of print varies/
Qualité inégale de l'impression
- Includes supplementary material/
Comprend du matériel supplémentaire
- Only edition available/
Seule édition disponible
- Pages wholly or partially obscured by errata slips, tissues, etc., have been refilmed to ensure the best possible image/
Les pages totalement ou partiellement obscurcies par un feuillet d'errata, une pelure, etc., ont été filmées à nouveau de façon à obtenir la meilleure image possible.

This item is filmed at the reduction ratio checked below/
Ce document est filmé au taux de réduction indiqué ci-dessous.

10X	12X	14X	16X	18X	20X	22X	24X	26X	28X	30X	32X
					✓						

GÉO

L.

GÉOGRAPHIE ILLUSTRÉE


Cours moyen

G.

PAR

LES FRÈRES DES ÉCOLES CHRÉTIENNES

Deuxième édition de la Géographie Intermédiaire Illustrée.



MONTREAL
50, RUE COTE, 50.



Enregistré conformément à l'Acte du Parlement du Canada, en l'année mil huit cent
soixante et seize, par P. L. LESAGE, au bureau du Ministre de l'Agriculture.

119510

PRÉFACE.

L'accueil favorable qu'ont obtenu nos précédentes publications géographiques, et le désir que nous ont manifesté plusieurs directeurs de maisons d'éducation de voir compléter notre œuvre, nous ont fait entreprendre la rédaction de ce nouvel ouvrage, destiné principalement aux élèves du cours moyen.

Il comprend deux parties bien distinctes, qui ont, chacune leur importance particulière : celle que les élèves doivent confier à leur mémoire, ou le *texte*, et les *exercices de démonstration sur les cartes*, qui peuvent aussi, en grande partie, faire l'objet de devoirs écrits.

Le *texte*, quoique peu étendu, renferme un *tout* complet et à peu près tout ce qu'il importe aux élèves de cette catégorie de savoir : situation des pays, accidents géographiques, populations, croyances, gouvernements, etc.

Comme c'est assez l'usage aujourd'hui pour tous les livres didactiques, nous ne joignons pas de questions à chaque leçon du texte, afin de ne pas trop augmenter l'étendue du volume et partant son prix : ce qui serait inévitable si l'on voulait faire un questionnaire complet ; mais pour jouir des avantages de la méthode sans en assumer les défauts, nous donnons, comme *types*, les questions relatives aux leçons XX^e, XXI^e et XXII^e. Il suffira de changer quelques mots à ces questions pour les adapter aux leçons suivantes.

De même que dans les autres ouvrages de ce genre, nous suivons partout dans celui-ci un même ordre systématique et rationnel, de sorte que l'élève possédant bien une leçon, éprouvera peu d'embarras pour les leçons subséquentes.

La *démonstration sur les cartes* offre un moyen facile et agréable de se graver dans l'esprit le contenu des cartes, sans fatiguer la mémoire par des nomenclatures aussi ennuyeuses à apprendre que faciles à oublier. L'expérience de tous les jours prouve l'excellence de cet exercice, tant par l'attrait que trouvent les élèves à ce genre d'étude, que par les progrès qui en résultent ; le succès accompagne presque toujours une étude qui plaît ; or le but auquel doit tendre tout ouvrage didactique n'est-il pas de donner les moyens d'apprendre avec célérité et plaisir ?

Il ne faut cependant pas oublier que les *exercices cartographiques* sont le moyen par excellence d'apprendre la géographie et constituent les devoirs les plus profitables. Des *cahiers de cartographie* ont été préparés dans le but de faciliter l'exécution de ces devoirs.

L'ouvrage se termine par quelques tableaux de nomenclatures et de statistiques. Ces tableaux donnent plusieurs renseignements qu'on ne trouve souvent qu'après beaucoup de recherches. Avec quelques explications du maître, l'élève apprendra facilement la manière de les utiliser.

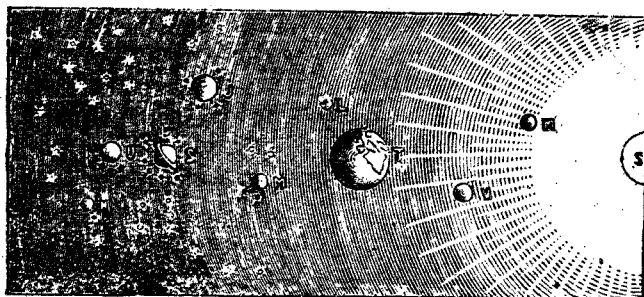
Inutile de faire l'éloge de nos cartes ; un simple coup d'œil suffira pour en faire connaître l'excellence. Celles des provinces de la Confédération ont été gravées spécialement pour ce livre.

TABLE DES MATIÈRES.

LEÇON I.	NOTIONS PRÉLIMINAIRES.	1		
— II.	La Terre ; sa forme	1	— LII.	Espagne.—Portugal 34, 35
— III.	Mouvements de la Terre.....	2	— LIII.	Italie..... 35
— IV.	Représentation de la Terre.....	2	— LIV.	Monténégro, Serbie, Roumanie et Bulgarie..... 35
— V.	Orientation.....	2	— LV.	Turquie.—Grèce..... 36
— VI.	Les cercles terrestres.....	3		ASIE.
— VII.	—.....	4	— LVI.	Géographie générale de l'Asie..... 36
— VIII.	Zones. Longitude et latitude.....	4	— LVII.	Turquie d'Asie..... 38
— IX.	Nomenc. géog.—Les terres.....	4	— LVIII.	Arabie et Perse..... 38
— X.	— — Relief du sol.....	5	— LIX.	Hindoustan.—Indo-Chine française, —Royaume de Siam..... 39
— XI.	— — Les eaux.....	5	— LX.	Empire chinois..... 39
— XII.	— — Les eaux continent.....	6	— LXI.	Japon..... 40
— XIII.	Les trois règnes.....	7	— LXII.	Sibérie.—Turkestan, Afghanistan et Beloutchistan..... 40
— XIV.	Races humaines. Religions.....	8		AFRIQUE.
— XV.	Géographie politique.....	8	— LXIII.	Géographie générale de l'Afrique... 40
— XVI.	Industrie et commerce.....	9	— LXIV.	Etats barbaresques..... 42
	LE GLOBE,		— LXV.	Egypte.—Abyssinie..... 42
— XVII.	Divisions générales.....	9	— LXVI.	Afrique orientale..... 42
— XVIII.	Climats et productions naturelles... 10		— LXVII.	Afrique australe..... 43
— XIX.	Superficies et populations.....	10	— LXVIII.	Afrique occidentale..... 43
	AMÉRIQUE septentrionale.		— LXIX.	Afrique centrale..... 43
— XX.	Géog. générale de l'Amérique du N. 11			Océanie.
— XXI.	Groënland et Islande. — Alaska.— Canada..... 13		— LXX.	Géographie générale de l'Océanie... 44
— XXII.	Canada..... 13		— LXXI.	Malaisie..... 45
— XXIII.	Province de Québec..... 15		— LXXII.	Australasie..... 45
— XXIV.	Ontario..... 17		— LXXIII.	Polynésie..... 45
— XXV.	Nouvelle-Ecosse..... 18			<i>CARTES avec EXERCICES en regard.</i>
— XXVI.	Nouveau-Brunswick..... 18		Mappemonde..... 47	
— XXVII.	Ile-du-Prince-Edouard..... 18		Amerique septentrionale..... 48	
— XXVIII.	Province de Manitoba..... 19		Canada..... 51	
— XXIX.	Colombie-Anglaise..... 19		Province de Québec..... 52	
— XXX.	Territoires du Nord-Ouest..... 19		Ontario..... 55	
— XXXI.	Terre-Neuve..... 20		Nouvelle-Ecosse, Nouveau-Brunswick et Ile-du-Prince- Edouard..... 56	
— XXXII.	Etats-Unis..... 20		Manitoba..... 59	
— XXXIII.	Mexique..... 21		Nord-Ouest..... 60	
— XXXIV.	Amérique centrale. — Antilles..... 22		Etats-Unis..... 63	
	AMÉRIQUE méridionale.		Antilles..... 64	
— XXXV.	Géog. générale de l'Amérique du S. 23		Amerique méridionale..... 67	
— XXXVI.	Colombie.—Vénézuéla.—Guyanes... 24		Europe..... 68	
— XXXVII.	Bésil..... 25		Iles Britanniques..... 71	
— XXXVIII.	Equateur.—Pérou..... 25		Irlande..... 72	
— XXXIX.	Bolivie.—Chili..... 26		France..... 75	
— XL.	La Plata.—Paraguay.—Uruguay... 26, 27		Europe centrale et méridionale..... 76	
	EUROPE.		Asie..... 79	
— XLI.	Géographie générale de l'Europe... 27		Afrique..... 80	
— XLII.	—..... 28		Océanie..... 83	
— XLIII.	Empire britannique.—Royaume-Uni de Grande-Bretagne et d'Irlande.— Angleterre..... 29, 30		Palestine..... 84	
— XLIV.	Ecosse.—Irlande..... 30			<i>COMTÉS, VILLES, etc.</i>
— XLV.	Danemark.—Suède et Norvège... 31		Province de Québec..... 86	
— XLVI.	Russie..... 31		Ontario..... 91	
— XLVII.	France..... 32		Nouveau-Brunswick..... 96	
— XLVIII.	Belgique.—Hollande..... 32, 33		Nouvelle-Ecosse et Ile-du-Prince-Edouard... 97	
— XLIX.	Allemagne..... 33		Colombie-Britannique, Manitoba et territoires du Nord- Ouest..... 99	
— L.	Autriche-Hongrie..... 33		Etats-Unis..... 100	
— LI.	Suisse..... 34			

GÉOGRAPHIE ILLUSTRÉE.

COURS MOYEN.



NOTIONS PRÉLIMINAIRES.

LEÇON I.

LA TERRE ; SA FORME.

1. *Qu'est-ce que la Géographie ?* — La **Géographie** est la description de la Terre et des peuples qui l'habitent.

2. *Qu'est-ce que la Terre ?* — La **Terre** est une *planète*, car elle tourne autour du Soleil, dont elle reçoit la lumière et la chaleur¹.

3. *Quelle est la forme de la Terre ?* — La **forme** de la Terre est celle d'une sphère légèrement aplatie aux pôles, et renflée à l'Équateur.

4. On sait que la Terre est ronde, 1° parce que plusieurs fois des vaisseaux en ont fait le tour ; 2° parce que la forme de l'ombre que la Terre fait sur la Lune, dans une éclipse de Lune, est toujours ronde ; 3° parce que, de loin sur terre ou sur mer, un observateur aperçoit d'abord le sommet des montagnes, des clochers, des mâts de navires. Lorsque un vais-



seau s'éloigne, sa coque disparaît la première, puis les voiles et le pavillon. Lorsqu'il s'approche le contraire a lieu.

5. *Quelle est la longueur de la circonférence de la Terre ?* — La **circonférence**¹ de la Terre est d'environ 25,000 milles.

6. *Quelle est la longueur du diamètre de la Terre ?* — Le **diamètre**² de la Terre a près de 8,000 milles.

¹ La *circonférence* de la Terre est la même chose qu'un *grand cercle* (voir no. 34 ci-après).

² *Diamètre*, ligne qui traverse la Terre en passant par le centre.

¹ Les planètes principales sont : *Mercury, Venus, la Terre, Mars, Jupiter, Saturne, Uranus et Neptune.*

LEÇON II.

MOUVEMENTS DE LA TERRE.

7. Combien la Terre a-t-elle de mouvements principaux? — La Terre a deux **mouvements** principaux: l'un de *rotation* sur elle-même, et l'autre de *révolution* autour du Soleil.

8. Dans quel sens la Terre tourne-t-elle sur elle-même? — La Terre tourne sur elle-même de l'ouest à l'est (voir nos 20 et 21).

9. En combien de temps la Terre tourne-t-elle sur elle-même? — La Terre tourne sur elle-même en 24 heures¹.

10. En combien de temps la Terre fait-elle sa révolution autour du Soleil? — La Terre fait sa révolution autour du Soleil en 365 $\frac{1}{4}$ jours environ, c'est ce qui constitue l'année solaire.

11. Que produit la rotation de la Terre sur elle-même? — La **rotation** de la Terre produit la succession du jour et de la nuit.

12. Que produit la révolution de la Terre autour du Soleil? — La **révolution** de la Terre autour du Soleil produit les *saisons*, qui sont: le printemps, l'été, l'automne et l'hiver.

LEÇON III.

REPRÉSENTATION DE LA TERRE.

13. Comment représente-t-on la Terre? — On **représente** la Terre par le *globe terrestre artificiel* et par les *cartes géographiques*.

14. Qu'est-ce qu'un globe terrestre artificiel? — Un **globe terrestre artificiel** est une boule qui représente la Terre, et sur laquelle sont dessinés les accidents géographiques: continents, mers, etc.

15. Qu'est-ce qu'une carte géographique? — Une **carte géographique** est un plan qui représente la Terre ou l'une de ses parties.

¹ On appelle ce mouvement *diurne* (du latin *dies*, jour), parce qu'il s'accomplit en un jour.

16. Qu'est-ce qu'une mappemonde? — Une **mappemonde** est une carte qui représente la Terre coupée en deux demi-boules ou *hémisphères*¹, l'un appelé *oriental*, l'autre *occidental*.

LEÇON IV.

ORIENTATION.

17. Comment détermine-t-on la position des différents lieux de la surface de la Terre? — On détermine la position des différents lieux de la surface de la terre au moyen des *points cardinaux* de l'horizon et des *cercles*.

18. Qu'est-ce que l'horizon sensible? — L'**horizon sensible** est un cercle qui borne notre vue au loin et semble réunir le ciel et la terre.

Chaque point du globe a son horizon particulier. — Voir *h*, fig. 4.

19. Quels sont les points cardinaux? — Les **points cardinaux** sont le *nord*², le *sud*, l'*est* et l'*ouest*.

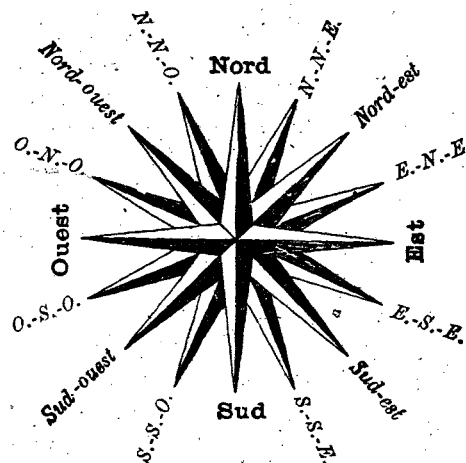


Fig. 3.—ROSE DES VENTS.

20. Quel côté est l'est? — L'**est**, *levant* ou *orient* est le côté où le Soleil paraît se lever.

¹ *Hémisphère* veut dire *demi-sphère*.

² *Nord* ou *septentrion*, à cause des sept étoiles de la Grande Ourse qu'on y observe la nuit.

21. De quel côté est l'ouest?—L'ouest, couchant ou occident, est du côté où le Soleil se couche.

22. Où est le sud?—Le sud, ou midi, est du côté où est le Soleil à l'heure de midi.

23. Où est le nord?—Le nord, ou septentrion, est du côté opposé au midi.

24. Qu'appelle-t-on points collatéraux?—On appelle **points collatéraux** quatre points situés entre les points cardinaux.

25. Quels noms les points collatéraux prennent-ils?—Les points collatéraux prennent les noms des deux points cardinaux entre lesquels ils se trouvent : nord-est, nord-ouest, sud-est, sud-ouest.

26. Qu'est-ce que s'orienter?—S'orienter, c'est reconnaître la direction de l'orient et des autres points cardinaux.

27. Que faut-il faire pour s'orienter?—Pour s'orienter il faut se placer le côté droit vers le lieu du Soleil levant (supposé connu); alors on a l'est à droite, l'ouest à gauche, le nord en face et le sud derrière soi.

On obtient ce résultat, le matin, en tournant le côté droit au Soleil; le soir, le côté gauche; à midi, en lui tournant le dos; en tout temps, en regardant la direction de l'aiguille de la boussole, laquelle tourne toujours une de ses extrémités vers le nord.

28. Où sont placés les quatre points cardinaux sur les cartes géographiques?—Sur les cartes géographiques, le nord est en haut, l'est à droite, le sud en bas, et l'ouest à gauche.

LEÇON V.

LES CERCLES TERRESTRES.

29. Qu'est-ce que l'axe de la Terre?—L'axe de la Terre est la ligne imaginaire autour de laquelle elle fait sa rotation.

30. Qu'est-ce que les pôles?—Les pôles sont les deux extrémités de l'axe de la terre.

31. Comment appelle-t-on les pôles?—L'un s'ap-

pelle le **pôle nord** ou arctique¹; l'autre, le **pôle sud** ou antarctique.

32.—Combien y a-t-il de sortes de cercles terrestres?—Il y a deux sortes de cercles terrestres : les **grands** et les **petits cercles**.

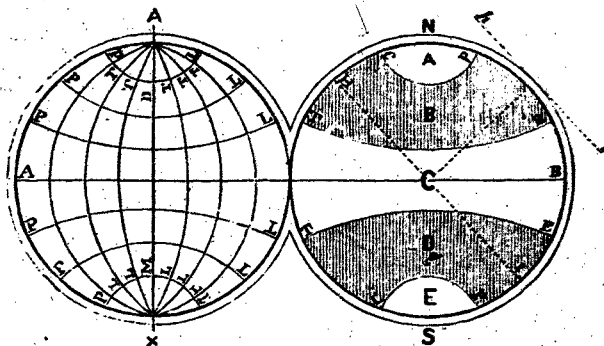


Fig. 4.—CERCLES ET ZONES.

- | | |
|-----------------------------|----------------------------|
| HI, horizon rationnel. | CP, cercles polaires. |
| hi, horizon sensible. | PL, parallèles. |
| AB, équateur. | N, pôle nord. |
| A, pôle nord. | S, pôle sud. |
| X, pôle sud. | C, zone torride. |
| AX, axe de la Terre. | B, zone tempérée septent. |
| MD, LT, méridiens. | D, zone tempérée méridion. |
| TR, tropique du Cancer. | A, zone glaciale septent. |
| TE, tropique du Capricorne. | E, zone glaciale méridion. |

33. Comment se divise chaque cercle?—Chaque cercle se divise en 360 degrés; le degré se divise en 60 minutes, et la minute, en 60 secondes.

Les degrés et leurs divisions s'indiquent au moyen de signes; ainsi, 20° 15' 30'' signifie 20 degrés, 15 minutes, 30 secondes.

34. Qu'appelle-t-on grands cercles terrestres?—On appelle **grands cercles terrestres** ceux qui partagent la Terre en deux parties égales, appelées **hémisphères**.

35. Quels sont les principaux grands cercles terrestres?—Les principaux grands cercles terrestres sont le **méridien** et l'**équateur**.

¹ Arctique, à cause de la Grande Ourse (*arctos*), qui est dans cette direction; antarctique, opposé à l'arctique.

LEÇON VI.

LES CERCLES TERRESTRES (suite).

36. *Qu'est-ce qu'un méridien?*—Un **méridien** est un grand cercle qui passe par les pôles et partage la Terre en deux hémisphères, l'un vers l'orient, appelé *hémisphère oriental*; l'autre vers l'occident, appelé *hémisphère occidental*.

Il y a une infinité de méridiens, autant qu'il y a de points sur l'équateur.—Le méridien (du latin *media*, milieu; *dies*, jour) est ainsi nommé parce que, pour un lieu quelconque, il est *midi* lorsque le Soleil est parvenu au méridien de ce lieu.

37. *Qu'appelle-t-on premier méridien?*—On appelle **premier méridien** celui qui sert de point de départ dans le calcul des longitudes (V. no 50).

Un méridien quelconque peut être pris comme *premier méridien*. Celui qui passe par *Greenwich*, près de Londres, est celui que la plupart des géographes adoptent comme premier méridien.

38. *Qu'est-ce que l'équateur?*—L'**équateur** est un grand cercle qui est partout également éloigné des pôles, et partage la Terre en deux hémisphères, l'un au nord, appelé *hémisphère boréal*; l'autre au sud, appelé *hémisphère austral*.

39. *Quels sont les petits cercles?*—Les **petits cercles** sont : les *tropiques*, les *cercles polaires* et les *parallèles*.

40. *Qu'est-ce que les tropiques?*—Les **tropiques** sont deux cercles parallèles à l'équateur et qui en sont éloignés de 23° 28'.

41. *Quel nom particulier donne-t-on à chaque tropique?*—Le tropique du nord s'appelle *tropique du Cancer*, et celui du sud, *tropique du Capricorne*.

42. *Qu'appelle-t-on cercles polaires?*—On appelle **cercles polaires** deux petits cercles parallèles à l'équateur, et éloignés des pôles, de 23° 28'. Celui du nord s'appelle *cercle polaire arctique*, et celui du sud, *cercle polaire antarctique*.

43. *Qu'appelle-t-on parallèles?*—On appelle **parallèles** des petits cercles tracés dans le même sens que l'équateur. Ils servent à déterminer les degrés de *latitude*, comme les méridiens servent à déterminer les degrés de *longitude*.

LEÇON VII.

ZONES. LONGITUDE ET LATITUDE.

44. *Qu'appelle-t-on zones?*—On appelle **zones** les bandes ou divisions circulaires faites sur le globe terrestre par les tropiques et les cercles polaires.

45. *Combien y a-t-il de zones?*—Il y a **cinq** zones, qui tirent leur nom de leur climat général : une *zone torride*, deux *zones tempérées* et deux *zones glaciales*.

46. *Où se trouve la zone torride?*—La **zone torride** se trouve entre les deux tropiques.

47. *Où les zones tempérées sont-elles situées?*—Les **zones tempérées** sont comprises entre les tropiques et les cercles polaires.

48. *Où les zones glaciales sont-elles situées?*—Les **zones glaciales** entourent les pôles et sont circonscrites par les cercles polaires.

49. *Qu'est-ce que la longitude d'un lieu?*—La **longitude** d'un lieu est la distance en degrés du méridien de ce lieu au premier méridien.

50. *Ces degrés se comptent-ils tous dans la même direction?*—On compte habituellement 180° de **longitude orientale**, à l'est du premier méridien, et 180° de **longitude occidentale**, à l'ouest.

51. *Qu'appelle-t-on latitude d'un lieu?*—On appelle **latitude** d'un lieu la distance en degrés de ce lieu à l'équateur.

52. *Comment compte-t-on les degrés de latitude?*—Les degrés de latitude se comptent sur le méridien. On en compte 90 *au nord*, et 90 *au sud*.

LEÇON VIII.

NOMENCLATURE GEOGRAPHIQUE.—
LES TERRES.

53. *La surface de la Terre est-elle uniforme?*—La **surface de la Terre** n'est pas uniforme; elle présente un grand nombre d'*accidents géographiques*.

54. *Qu'appelle-t-on accidents géographiques?*—On appelle **accidents géographiques**, des

parties de la surface terrestre de formes différentes et portant des noms particuliers, tels que : montagnes, rivières, etc.

55. *Comment s'appellent les différentes étendues de terre ?* — Les différentes **étendues de terre** s'appellent *continents, îles, archipels, presqu'îles, isthmes, caps, côtes, montagnes, volcans, plaines, plateaux, vallées, déserts, etc.*

56. *Qu'est-ce qu'un continent ?* — Un **continent** est une grande étendue de terre non interrompue par des mers. Ex. : l'Amérique.

57. *Qu'est-ce qu'une île ?* — Une **île** est une étendue de terre entièrement entourée d'eau et moins grande qu'un continent. Ex. : l'île d'Orléans.

58. *Qu'est-ce qu'un archipel ?* — Un **archipel** est une réunion d'îles plus ou moins nombreuses. Ex. : les Antilles.

59. *Qu'est-ce qu'une presqu'île ?* — Une **presqu'île**, ou **péninsule**, est une étendue de terre que les eaux n'entourent pas entièrement. Ex. : la Nouvelle-Ecosse.

60. *Qu'est-ce qu'un isthme ?* — Un **isthme** est une langue de terre réunissant deux terres plus étendues. Ex. : l'isthme de Panama.

61. *Qu'est-ce qu'un cap ?* — Un **cap** est une pointe de terre qui s'avance dans les eaux. Ex. : le cap Sable, au sud de la Nouvelle-Ecosse.

62. *Qu'appelle-t-on côte ?* — La **cote**, c'est le rivage de la mer.

63. Un **écueil**, ou **récif**, est un rocher à fleur d'eau, contre lequel les vaisseaux vont quelquefois se briser.

EXERCICES CARTOGRAPHIQUES.

L'élève dessinera les accidents géographiques qui ont fait l'objet de la leçon. Il en tirera les sujets de son manuel, de son imagination ou, mieux encore, de la géographie locale.

LEÇON IX.

RELIEF DU SOL.

64. *Qu'est-ce qu'une montagne ?* — Une **montagne** est une éminence considérable du sol, s'élevant au-dessus des parties environnantes.

65. *Qu'entend-on par l'altitude d'une montagne ?* — Par l'**altitude** d'une montagne, on entend sa

hauteur au-dessus du niveau de la mer ou d'un autre niveau déterminé.

66. *Qu'est-ce qu'une chaîne de montagnes ?* — Une **chaîne de montagnes** est un ensemble de montagnes qui se touchent par la base.

67. *Qu'est-ce qu'une colline ?* — Une **colline** est une petite montagne. Ex. : la partie ouest du mont Royal.

68. *Qu'est-ce qu'un volcan ?* — Un **volcan** est un gouffre, situé le plus souvent sur le haut d'une montagne, et qui, de temps en temps, lance des matières embrasées.

69. *Qu'est-ce qu'une plaine ?* — Une **plaine** est un grand espace de terrain d'égal niveau ou légèrement ondulé.

70. *Qu'est-ce qu'un plateau ?* — Un **plateau** est une plaine élevée, plus ou moins accidentée.

71. *Qu'est-ce qu'une vallée ?* — Une **vallée** est une dépression du sol, ou espace creux, entre deux lignes de hauteurs. Elle est ordinairement parcourue par un cours d'eau. Ex. : la vallée du St-Maurice.

72. *Qu'est-ce qu'un désert ?* — Un **désert** est une étendue de terre stérile et inhabitée.

EXERCICES. — Comme à la leçon VIII.

LEÇON X.

LES EAUX.

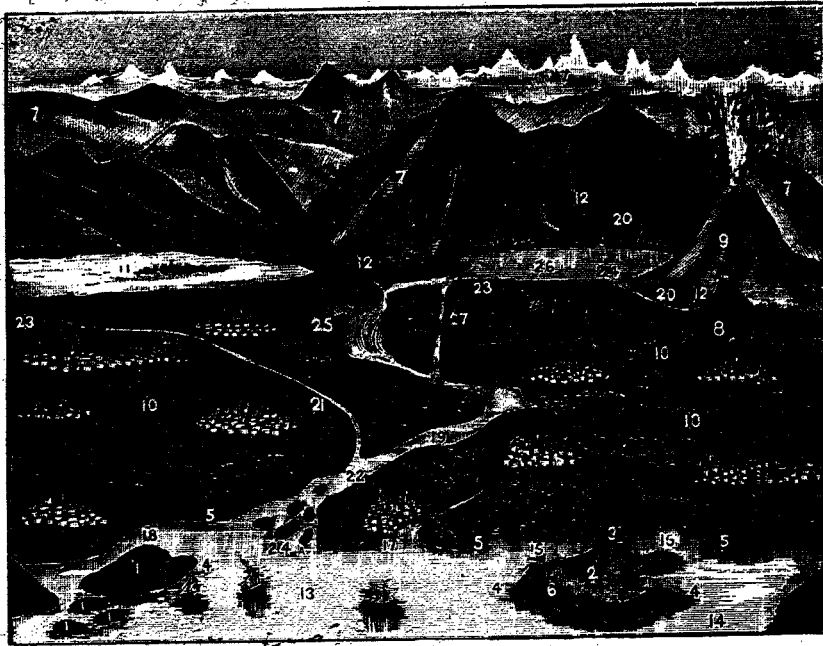
73. *Comment s'appellent les différentes étendues d'eau ?* — Les différentes **étendues d'eau** s'appellent *océans, mers, golfes, baies, détroits, rades, rivières, etc.*

74. *Qu'est-ce que l'Océan ?* — L'**Océan** est l'ensemble des eaux salées qui entourent les continents.

75. *Qu'est-ce qu'une mer ?* — Une **mer** est une partie de l'Océan située dans les terres. Ex. : la Méditerranée.

76. *Qu'appelle-t-on golfe ?* — On appelle **golfe** une partie de mer s'avancant dans les terres. Ex. : le golfe St-Laurent.

77. *Qu'est-ce qu'une baie ?* — Une **baie** est un petit golfe. Ex. : la baie de Fundy.



LES ACCIDENTS GÉOGRAPHIQUES.—VUE.

- | | | | | | | |
|---------------------|----------------|---------------|-------------|----------------|---------------------------|-------------|
| 1, Iles, archipel ; | 5, 6, Côte ; | 10, Plaine ; | 14, Mer ; | 18, Détroit ; | 22, Confluent ; | 25, Chute ; |
| 2, Presqu'île ; | 7, Montagnes ; | 11, Plateau ; | 15, Golfe ; | 19, Fleuve ; | 23, Sources de rivières ; | 26, Lac ; |
| 3, Isthme ; | 8, Colline ; | 12, Vallée ; | 16, Baie ; | 20, Rivières ; | 24, 24a, Embouchures | 27, Canal. |
| 4, Caps ; | 9, Volcan ; | 13, Océan ; | 17, Port ; | 21, Affluent ; | de rivières ; | |

78. *Qu'est-ce qu'une rade ?* — Une **rade** est une étendue de mer avancée dans les terres, et où les vaisseaux peuvent se mettre à l'abri des vents et tenir à l'ancre.

79. *Qu'est-ce qu'un port ?* — Un **port** est un endroit du rivage de la mer ou d'un fleuve propre à recevoir les vaisseaux.

80. *Qu'est-ce qu'un détroit ?* — Un **détroit** est un bras de mer qui a peu de largeur et qui unit deux parties de mer. Ex. : le détroit de Belle-Isle.

EXERCICES.—Comme à la leçon VIII.

LEÇON XI.

LES EAUX CONTINENTALES.

81. *Qu'est-ce que le bassin d'une mer ou d'un fleuve ?* — Le **bassin d'une mer ou d'un fleuve**

est l'ensemble des terres qui versent leurs eaux dans cette mer ou dans ce fleuve. Ex. : le bassin du fleuve St-Laurent.

82. *Qu'est-ce qu'un versant ?* — Un **versant** est une partie de bassin. Ex. : le fleuve St-Laurent a un versant au nord et un au sud.

83. *Qu'est-ce qu'une ligne de partage des eaux ?* — Une **ligne de partage des eaux** est la séparation de deux bassins. Ex. : les montagnes de la Gaspésie forment la *ligne de partage* entre le St-Laurent et la baie des Chaleurs.

84. *Qu'est-ce qu'un fleuve ?* — Un **fleuve** est un cours d'eau considérable qui se jette dans la mer. Ex. : le fleuve St-Laurent.

85. *Qu'est-ce qu'une rivière ?* — Une **rivière** est un cours d'eau généralement moins considérable qu'un fleuve.



LES ACCIDENTS GÉOGRAPHIQUES.—CARTE.

86. *Qu'est-ce qu'un affluent?*— Un **affluent** est un cours d'eau qui se jette dans un autre. Ex. : le Richelieu est un affluent du St-Laurent.

87. *Qu'appelle-t-on confluent?*—On appelle **confluent** l'endroit où deux cours d'eau se réunissent. Ex. : la ville de Sorel est située au confluent de la rivière Richelieu et du St-Laurent.

88. *Qu'appelle-t-on source et embouchure d'un cours d'eau?*— La **source** d'un cours d'eau est l'endroit où il commence; son **embouchure**, l'endroit où il se jette dans la mer ou dans un autre cours d'eau.

89. *Qu'appelle-t-on haut et bas d'un cours d'eau?*—Le **haut** ou l'**amont** d'un cours d'eau est la partie située vers sa source; le **bas** ou l'**aval** est la partie située vers son embouchure.

90. *Qu'entend-on par la rive droite et la rive gauche d'un cours d'eau?*— Par la **rive droite** et la **rive gauche** d'un cours d'eau, on entend les terrains placés à la droite ou à la gauche d'une per-

sonne qui se trouverait en bateau, le visage tourné dans le sens du courant.

91. *Qu'est-ce qu'une cataracte?*—Une **cataracte**, **chute** ou **cascade**, est le saut que font les eaux d'une rivière lorsqu'elles tombent d'une hauteur assez grande. Ex. : la cataracte de Niagara.

92. *Qu'est-ce qu'un lac?*— Un **lac** est une étendue d'eau dormante renfermée dans les terres. Ex. : le lac St-Jean.

93. *Qu'est-ce qu'un étang?*— Un **étang** est un petit lac.

94. *Qu'est-ce qu'un canal?*—Un **canal** est une espèce de rivière creusée par les hommes pour y faire passer les bateaux.

EXERCICES.— Voir à la fin de la leçon VIII.

LEÇON XII.

LES TROIS REGNES.

95. *Comment se divisent tous les corps qui constituent notre globe, et que l'on trouve à sa surface?*—

Tous les corps qui constituent notre globe, et que l'on trouve à sa surface se divisent en trois groupes, que l'on appelle *règnes* : le *règne animal*, le *règne végétal*, le *règne minéral*.

96. *Que comprend le règne animal ?*—Le **règne animal** comprend les *animaux*, c'est-à-dire les êtres qui ont la *vie* et la *sensibilité*.

97. *Qu'entend-on par animaux domestiques ?*—Les **animaux domestiques** sont ceux qui vivent avec l'homme : le cheval, le bœuf, l'âne, le mouton, le chien, le chat, etc.

98. *Que comprend le règne végétal ?*—Le **règne végétal** comprend les *plantes* ou *végétaux*, c'est-à-dire les êtres qui ont la *vie*, mais non la *sensibilité*.

99. *Quels êtres comprend le règne minéral ?*—Le **règne minéral** comprend les *minéraux*, c'est-à-dire les corps qui sont dépourvus de la *vie*.

100. Les principaux **métaux** sont : l'or, le plus précieux de tous ; le fer, le plus utile ; le platine, l'argent, le mercure, le cuivre, l'étain, le plomb, etc.

LEÇON XIII.

RACES HUMAINES. RELIGIONS.

101. *En combien de races peut-on diviser les hommes ?*—On peut diviser les hommes en cinq



RACES : 1, race blanche ; — 2, race jaune ; — 3, race brune ; — 4, race rouge ; — 5, race noire.

races : la *race blanche*, la *race jaune*, la *race brune*, la *race rouge*, la *race noire*.

102. *Dites quels sont les caractères qui distinguent la race blanche ?*—La **race blanche** a la peau blanche, le visage ovale, les cheveux longs et doux.

103. *Qu'est-ce qui distingue la race jaune ?*—La **race jaune** a la peau jaunâtre, le visage quadrangulaire, les cheveux raides. Ex. : les Chinois.

104. *Enumérez les principaux caractères de la race brune ?*—La **race brune** a la peau brune, le nez court, la bouche grande.

105. *Dites quels sont les caractères de la race rouge ?*—La **race rouge** a la peau rougeâtre ou cuivrée et le nez saillant. Elle comprend les *Indiens* de l'Amérique.

106. *Qu'est-ce qui distingue la race noire ?*—La **race noire** a la peau noire et les cheveux crépus. Ceux qui appartiennent à cette race sont appelés *négres*.

107. *Qu'est-ce que le christianisme ?*—Le **christianisme** est la religion qui reconnaît Notre-Seigneur Jésus-Christ comme son fondateur. Elle se divise en trois branches : 1° l'*Église catholique*, la seule véritable ; 2° l'*Église protestante* ; 3° l'*Église grecque schismatique*.

108. *Qu'est-ce que le judaïsme ?*—Le **judaïsme** est la religion des Juifs qui attendent encore le Messie.

109. *Qu'est-ce que le mahométisme ?*—Le **mahométisme** est une religion fondée par un faux prophète nommé *Mahomet*.

110. *En quoi consiste le paganisme ?*—Le **paganisme** consiste à rendre aux créatures l'hommage souverain qui n'est dû qu'à Dieu.

LEÇON XIV.

GEOGRAPHIE POLITIQUE.

111. *Qu'est-ce qu'un état ?*—Un **état** est un pays soumis à un même gouvernement et formant une individualité politique.

112. *Qu'est-ce qu'une province ?*—Une **province** est une subdivision d'un état.

113. *Qu'est-ce qu'un comté ?*—Un **comté** est une des subdivisions d'une province.

114. *Qu'appelle-t-on gouvernement?*—On appelle **gouvernement** l'autorité souveraine qui régit un état.

115. *Quand dit-on d'un gouvernement qu'il est une monarchie?*—On dit qu'un gouvernement est une **monarchie** lorsqu'il a pour chef un souverain, ordinairement héréditaire, appelé empereur, roi, etc.

116. *Qu'est-ce qu'une république?*—Une **république** est un état qui n'a qu'un chef temporaire et électif, nommé *président*.

117. *Qu'est-ce qu'une confédération?*—Une **confédération** est un ensemble d'états associés pour la défense de leurs intérêts communs.

118. *Qu'appelle-t-on capitale d'un pays?*—On appelle **capitale** d'un pays la ville où siège le gouvernement.

LEÇON XV.

INDUSTRIE ET COMMERCE.

119. L'**agriculture**, ou *industrie agricole*, est l'art de cultiver la terre, pour lui faire produire : 1° les *plantes alimentaires* pour l'homme et les animaux domestiques : céréales, vignes, betteraves, fourrages, etc.; 2° les *plantes industrielles* : lin, chanvre, coton, canne ou betterave à sucre, etc.

En outre, le cultivateur élève les *animaux domestiques* qui sont les plus utiles, soit par leur travail, soit par la viande, le lait, etc., qu'ils lui procurent.

120. L'**industrie** proprement dite est l'art par lequel l'homme approprie à ses besoins les matières premières que lui offre la nature.

121. Le **commerce** consiste dans l'échange des produits naturels ou industriels opéré dans le but de faire un bénéfice quelconque.

122. On distingue le commerce *intérieur*, qui se fait entre les parties d'un même pays ; — et le commerce *extérieur*, qui se fait avec l'étranger.

123. Le commerce extérieur comprend l'*exportation* ou la sortie des marchandises du pays, et l'*importation* ou l'entrée d'autres marchandises dans le pays.

LE GLOBE.

LEÇON XVI.

DIVISIONS GÉNÉRALES.

124. La surface du globe présente des **terres**, ou parties solides, et des **mers**, ou grandes masses d'eau salée.

125. Les terres se composent de *trois continents* et d'un grand nombre d'îles. Elles forment les *cinq parties du monde*.

126. Les **trois continents** sont : l'*ancien continent*, le *nouveau continent* et l'*Australie*.

127. Les **cinq parties du monde** sont : l'*Europe*, l'*Asie*, l'*Afrique*, qui forment l'ancien continent ;

l'*Amérique*, ou le nouveau continent ;

l'*Océanie*, formée de l'*Australie* et d'un grand nombre d'îles.

128. L'**Océan** est l'ensemble des eaux salées qui

couvrent les trois quarts du globe. On le divise en *cinq océans* particuliers, qui sont :

1° L'*Océan Atlantique*, situé entre l'Europe, l'Afrique et l'Amérique.

2° L'*Océan Pacifique* ou *Grand océan*, situé entre l'Asie et l'Amérique.

3° L'*Océan Indien*, situé entre l'Afrique, l'Asie et l'Australie.

4° L'*Océan Glacial arctique*, au N. de l'Europe, de l'Asie et de l'Amérique.

5° L'*Océan Glacial antarctique*, au S. de l'Afrique et de l'Amérique.

EXERCICES CARTOGRAPHIQUES.

Dessiner, sur le papier, sur l'ardoise ou au tableau noir, les deux hémisphères, et indiquer les trois continents, les cinq parties du monde et les cinq océans.

LEÇON XVII.

CLIMATS ET PRODUCTIONS NATURELLES.

129. Le climat d'une contrée est l'état habituel de son atmosphère¹ sous le rapport de la *chaleur* et de l'*humidité*.

130. La zone la plus chaude est la zone torride². Dans les zones glaciales, le froid est extrême.

Le climat des zones tempérées est plus doux et plus agréable que celui des autres zones. Cependant, près des limites, il se rapproche plus ou moins de celui de la zone avoisinante.

131. Le climat de la zone torride rend les hommes faibles, languissants et indolents.

Sous les zones tempérées, l'homme jouit d'une meilleure santé, est plus actif, plus heureux, plus civilisé que partout ailleurs.

Le climat des zones glaciales le rend stupide et inactif; il empêche ordinairement le développement de son corps et de son intelligence.

132. Les animaux de la zone torride sont nombreux, et, en général, très féroces; les serpents et les autres reptiles sont très venimeux. Les oiseaux y sont très beaux.

Les végétaux y ont une croissance luxuriante; les fruits y sont délicieux et rafraichissants, et les fleurs très belles.

Les principaux fruits des pays chauds sont: les oranges, les ananas, les bananes, la muscade, les figues, les olives, etc.

133. Les animaux des zones tempérées sont moins féroces et généralement plus utiles que ceux des autres zones.

Les végétaux sont plus utiles, les fruits plus substantiels et les grains pour la nourriture de l'homme et des animaux, plus abondants que sous les autres climats.

Les principaux fruits des zones tempérées sont: le raisin, les pommes, les poires, les pêches, les prunes, etc.

134. La zone glaciale du nord produit quantité d'animaux à fourrures, mais la végétation y est à peu près nulle.

135. Le café vient de l'Arabie et des régions tropicales de l'Amérique; — le thé vient principalement de la Chine et des Indes.

Le coton et le sucre de canne viennent principalement des régions tropicales, et du sud des Etats-Unis. — Le sucre de betterave est un produit des pays tempérés.

¹ *Atmosphère*, masse d'air qui entoure la Terre.

² *Torride* veut dire *brûlant*.

LEÇON XVIII.

SUPERFICIES ET POPULATIONS.

136. La superficie du Canada est de 3,400,000 milles carrés, ce qui égale presque la superficie de l'Europe.

Les terres réunies de l'Océanie égalent la superficie de l'Europe.

L'Afrique égale trois fois la superficie de l'Europe.

L'Amérique et l'Asie égalent chacune quatre fois la superficie de l'Europe.

137. La population totale du globe dépasse 1,400,000,000 d'habitants.

L'Asie compte environ	810,000,000	d'habitants.
L'Europe " " "	360,000,000	"
L'Afrique " " "	140,000,000	"
L'Amérique " " "	130,000,000	"
L'Océanie " " "	40,000,000	"

138. Les grands états. — Les états les plus importants du globe, comparés sous divers rapports, se rangent dans l'ordre suivant :

1° *Pour la superficie*, l'empire britannique et l'empire russe, l'un et l'autre deux fois plus vastes que l'Europe; — l'empire chinois, qui est plus étendu que l'Europe; — les Etats-Unis¹, le Canada et le Brésil, qui égalent presque l'Europe.

2° *Pour la population absolue*, l'empire chinois (400,000,000 d'habitants, près d'un tiers du monde), l'empire britannique (370,000,000), l'empire russe (110,000,000 d'habitants).

139. Villes. — Les villes les plus peuplées du monde sont: Londres, qui renferme plus de 4 millions d'habitants; Paris, plus de 2 millions; New-York et Canton (en Chine), plus de 1½ million.

140. Races. — La race blanche peuple surtout l'Europe, l'Amérique, l'Asie occidentale et l'Afrique septentrionale.

La race jaune peuple l'Asie orientale.

La race noire, ou nègre, peuple l'Afrique centrale et une partie de l'Océanie.

La race brune peuple les Indes et la Malaisie.

¹ Y compris le territoire d'Alaska.

La *race rouge* comprend les sauvages d'Amérique.

141. **Religion.** — Les peuples de *race blanche* connaissent généralement le vrai Dieu.

Le *christianisme* domine en Europe et en Amérique ; le *mahométisme*, dans l'Asie occidentale et l'Afrique septentrionale. — Le *judaisme* est professé par les Juifs. — Les autres races sont généralement *païennes*.

LEÇON XIX.

COMMERCE INTERCONTINENTAL.

142. **L'Europe**, renfermant les populations les plus actives et les plus intelligentes du globe, produit, malgré sa faible étendue relative, une somme de marchandises bien supérieure à celle des autres parties du monde, et elle provoque la presque totalité du mouvement commercial intercontinental.

143. **L'Amérique**, par ses nouvelles populations blanches d'origine européenne, riche d'ailleurs en produits naturels, se place au second rang.

144. **L'Asie**, au troisième rang, à cause de ses populations chinoises et indiennes, nombreuses et laborieuses.

145. **L'Océanie**, au quatrième rang, par ses colonies hollandaises et anglaises.

146. **L'Afrique** se place au dernier rang, tant à cause de ses conditions physiques défavorables, que par sa population clairsemée, barbare ou sauvage.

147. Les **échanges** s'établissent surtout entre l'Angleterre (pour plus des deux tiers), la France, l'Allemagne, la Belgique, la Hollande, d'une part ; — les Etats-Unis, le Canada, les Indes, la Chine et l'Australie anglaise, d'autre part.

148. **Ports de commerce.** — Les principaux ports de commerce du monde, par ordre d'importance, sont : *Londres*, *Liverpool* et *New-York*, qui font chacun pour plus de 600 millions d'affaires ; — *Hambourg*, en Allemagne ; — *Marseille*, le *Hâvre*, en France ; — *Anvers*, en Belgique.

AMÉRIQUE SEPTENTRIONALE.

LEÇON XX.

GEOGRAPHIE GÉNÉRALE DE L'AMÉRIQUE DU NORD.

Population, 90,000,000 d'habitants.
Superficie, 8,800,000 milles carrés.

149. **Bornes.** — L'Amérique septentrionale est bornée, au N., par l'Océan Glacial arctique ; — à l'est, par l'Atlantique ; — au sud, par la mer des Antilles et l'Océan Pacifique ; — à l'ouest, par l'Océan Pacifique.

150. **Iles.** — Dans l'Océan Glacial, le *Groënland* ; — dans l'Atlantique, l'*Islande*¹, *Terre-Neuve*, *Prince-Edouard*, les *Antilles*, dont les principales sont : *Cuba*, *Haïti*, *Porto-Rico* et la *Jamaïque*.

151. **Presqu'îles.** — La *Nouvelle-Ecosse*, dans le Canada ; — la *Floride*, dans les Etats-Unis ; — le *Yucatan* et la *Vieille-Californie*, dans le Mexique.

152. **Caps.** — Le cap *Farewell*, au sud du Groënland ; — le cap *Race*, à l'est de Terre-Neuve ; — les

caps *Cod*, *Hatteras* et *Sable*, sur la côte orientale des Etats-Unis ; — et les caps *San-Lucas* et *Mendocino*, sur leur côte occidentale.

153. **Montagnes.** — Les *Alléghanys*, dans l'est ; — les montagnes *Rocheuses*, dans l'ouest. — Dans le Mexique, se trouve le *Popocatepelt*, volcan actif.

154. Une grande *plaine* occupe le centre de l'Amérique du Nord, depuis l'Océan Glacial jusqu'au golfe du Mexique ; et depuis les monts Alléghanys, à l'est, jusqu'aux montagnes Rocheuses, à l'ouest.

155. **Mers.** — Les mers qui baignent l'Amérique septentrionale sont : au N., l'*Océan Glacial arctique*, formant la mer ou baie de *Baffin* ; — à l'E., l'*Atlantique*, formant la mer ou baie d'*Hudson* ; la mer, ou le golfe, du *Mexique*, et la mer des *Antilles* ; — à l'O., l'*Océan Pacifique*.

156. **Golfes.** — Le golfe du *Saint-Laurent*, dans l'Atlantique ; — celui de *Californie*, dans le Pacifique.

157. **Détroits.** — Le détroit de *Behring*, entre l'Alaska et la Sibérie ; — le détroit de *Belle-Isle*, entre Terre-Neuve et le Labrador ; — le détroit de la

¹ On considère souvent l'Islande comme appartenant à l'Europe.



ANIMAUX DE L'AMÉRIQUE SEPTENTRIONALE.

1, Élan (*original*); 2, ours blanc, ours noir; 3, bisons; 4, cerfs du Canada (*chevreuils*); 5, chevaux; 6, biche; 7, loups; 8, dindons; 9, raton laveur; 10, alligator; 11, tortue; 12, castors; 13, renard; 14, aigle; 15, hiboux.

Floride, entre la Floride et l'île de Cuba; — le détroit de *Yucatan*, entre le Yucatan et l'île de Cuba.

158. **Rivières.**—Les principaux fleuves sont :

1° Dans le versant de l'océan Glacial, le *Mac-kenzie*;

2° Dans le versant de l'Atlantique, le *Saint-Laurent*; —le *Mississipi* et ses affluents, l'*Arkansas*, l'*Ohio* et le *Missouri*, qui arrosent les États-Unis; —le *Rio Grande del Norte*, qui sépare le Mexique des États-Unis.

159. **Lacs.** — On remarque les lacs *des Ours* et *des Esclaves*, et les grands lacs *Supérieur*, *Michigan*, *Huron*, *Erié*, *Ontario*, les plus beaux du monde.

160. **Climat.** — Le climat américain est *varié*, généralement *plus humide* et *moins chaud* que celui des parties de l'Europe situées sous les mêmes latitudes.

161. **Productions.** — L'Amérique est riche en *minéraux*, dont les principaux sont : la houille, le pétrole, le fer, le cuivre, le plomb, le mercure, l'or, l'argent, etc. — Parmi les produits *végétaux*, on peut citer : le froment, l'avoine, la pomme de terre, les légumineuses, le tabac et les nombreuses essences de bois de ses immenses forêts. — Outre les *animaux domestiques*, bœufs, vaches laitières, chevaux, porcs, mou-

tons, etc., on y trouve encore l'élan, le bison¹, le castor, le caïman, etc.

162. **Note historique.** — Le continent américain fut découvert par *Christophe Colomb*, qui fit voile de Palos, en Espagne, et arriva, après une longue navigation, à San-Salvador, une des îles Lucayes, le 12 octobre 1492.

L'Amérique est ainsi nommée d'après *Améric Vespuce*, qui y vint peu après Colomb. Elle est aussi appelée le *nouveau monde*, à cause de sa récente découverte.

163. **Races humaines.** — La nouvelle population américaine est principalement formée de *blancs*, originaires d'Europe; on y rencontre aussi quelques milliers de *rouges*, ou Indiens indigènes, et des *négres*, originaires d'Afrique.

164. **Religion.** — La religion dominante est le *protestantisme*; mais il y a un grand nombre de *catholiques*.

165. **Divisions.** — Les contrées de l'Amérique du Nord sont : le Groënland et l'Islande, le territoire d'Alaska, le Canada, Terre-Neuve, les États-Unis, le Mexique, les états de l'Amérique centrale et les Antilles.

¹ Le bison a maintenant presque complètement disparu.

EXERCICES CARTOGRAPHIQUES.

Faire le croquis de la carte de l'Amérique du Nord, et y indiquer tels détails demandés : contrées, îles, fleuves, montagnes, etc.

QUESTIONNAIRE.

- a) Quelle est la *population* de l'Amérique du Nord ?
 b) Quelle est sa *superficie* ?
 149. Quelles sont ses *bornes* ?
 150, 151. Quelles sont les principales *îles* de l'Amérique septentrionale ?—Quelles sont ses principales *presqu'îles* ?
 152, 153. Quels sont ses *caps*, ses *montagnes* ?
 154. Quelle *plaine* remarquable y a-t-il dans l'Amérique du Nord ?
 155, 156, 157. Nommez les *océans*, les *mers*, les *golfs* et les *détroits* de l'Amérique du Nord.
 158, 159. Nommez ses *lacs* et ses *rivières*.
 160. Dites un mot de son *climat*.
 161. Quelles sont ses *productions* naturelles les plus importantes ?
 162. Par qui et quand l'Amérique a-t-elle été *découverte* ?—D'où lui vient son *nom* ?
 163. A quelles *racés* appartiennent les habitants de l'Amérique septentrionale ?
 164. Quelles *religions* professent-ils ?
 165. Quelles sont les *contrées* de l'Amérique du Nord ?

LEÇON XXI.

GROENLAND ET ISLANDE.

Population, 80,000 h.,—dont 70,000 pour l'Islande.
Superficie, environ 600,000 milles carrés.

166. Ces deux îles appartiennent aux Danois. Elles sont extrêmement froides et stériles ; elles ne servent guère qu'à la *pêche*.

ALASKA.

167. Le territoire d'Alaska, 30,000 habitants, appartient aux États-Unis, qui l'ont acheté de la Russie ; le froid y est excessif. On s'y livre surtout à la *pêche*.

CANADA.

Population, 4,833,000 habitants.
Superficie, 3,456,000 milles carrés.

168. *Bornes*.—Le *Canada*¹ est une vaste con-

¹ On dit souvent la *Puissance du Canada* ; le mot *Puissance* est ici un terme impropre.

trée comprise entre l'océan Glacial et les États-Unis, entre l'océan Atlantique et l'océan Pacifique.

169. *Îles*.—Les principales îles du Canada sont : les îles du *Cap-Breton*, du *Prince-Edouard*, et *Anticosti*, dans le golfe de Saint-Laurent ; — l'île *Vancouver*, dans le Pacifique.

170. *Presqu'île, Isthme*.—La presqu'île la plus remarquable est celle de la *Nouvelle-Ecosse* ; elle est reliée au continent par l'isthme de *Chignou*.

171. *Montagnes*.—Les principales chaînes de montagnes sont : les monts *Rocheux*, dans l'O. ; — les *Laurentides*, au N. de la vallée du Saint-Laurent, — et les monts *Notre-Dame*, au S. de cette vallée.

172. *Golfs et Baies*.—Les mers, ou baies, d'*Hudson* et de *Baffin*, le golfe de *Saint-Laurent* et la baie de *Fundy* sont les plus considérables.

173. *Détroits*.—Il faut citer ceux d'*Hudson*, de *Davis* et de *Belle-Isle*.

174. *Fleuves*.—Les principaux fleuves sont : le *Mackenzie*, dans le nord, le *Saint-Laurent*, dans l'est, et le *Fraser* dans l'ouest.

175. *Lacs*.—On doit citer surtout les lacs *des Ours* et *des Esclaves*, dans le Nord-Ouest ; — le lac *Winnipeg*, dans Manitoba, — et les lacs *Supérieur*, *Huron*, *Erié*, *Ontario*, qui s'écoulent par le Saint-Laurent.

176. *Aspect*.—L'aspect du Canada est très pittoresque et très intéressant. Deux chaînes de montagnes, de peu d'élévation, bordent, à une certaine distance, une partie du Saint-Laurent.


Presque toutes les rivières ont des *chutes* intéressantes, parmi lesquelles on distingue celle de *Niagara*, véritable merveille de la nature.

177. *Climat*.—Le climat du Canada est *excessif* ; les hivers sont rigoureux, et les chaleurs sont grandes en été. Il est *humide* sur les côtes ; ailleurs, il est *sec*. C'est un des plus salubres du monde.

LEÇON XXII.

CANADA (suite).

178. *Habitants*.—Les habitants du Canada peuvent être classés comme suit : *Canadiens-fran-*



CATARACTE DE NIAGARA.

çais, habitant particulièrement la province de Québec ; *Anglais, Irlandais, Ecossais*, quelques milliers de *nègres* et d'*Indiens*.

179. **Langues.** — Les Canadiens-français parlent le *français*, les autres parlent l'*anglais*.

180. **Religions.** — Plus de deux millions des habitants professent la religion *catholique*, les autres appartiennent à diverses sectes *protestantes*.

181. **Education.** — L'éducation au Canada ne le cède en rien à celle des autres pays du monde ; un grand nombre d'établissements soit religieux, soit laïques, répandent l'instruction dans tout le pays avec un zèle digne de louanges.

182. **Gouvernement.** — Le gouvernement du Canada est *monarchique constitutionnel*¹.

Il est formé : 1° d'un *gouverneur général*, nommé par le souverain d'Angleterre, qu'il représente, et assisté des *ministres*, qu'il choisit dans le parti politique le plus fort et qui constituent son *Conseil privé* ;

2° D'un *Sénat*, dont les membres sont nommés à vie par le gouverneur général ;

3° d'une *Chambre des communes*, dont les membres sont élus par le peuple tous les cinq ans.

Il y a 81 *sénateurs*, dont 24 sont de la province

¹ *Constitutionnel*, c'est-à-dire que le chef de l'État est soumis à certaines lois, dont l'ensemble s'appelle *constitution*.

de Québec, et 215 *députés*, dont 65 de la province de Québec.

Le gouvernement *fédéral* ne s'occupe que des intérêts généraux de la Confédération ; chaque province a son gouvernement propre.

183. **Divisions politiques.** — Le Canada est une *confédération* composée des sept *provinces* de Québec, Ontario, la Nouvelle-Ecosse, le Nouveau-Brunswick, la Colombie-Anglaise, Manitoba, l'Île-du-Prince-Edouard, et des *territoires* du Nord-Ouest.

184. **Villes.** — *Ottawa*, 44,000 habitants, capitale de la Confédération, est agréablement située sur la rive droite de l'Outaouais ; c'est une ville très prospère. Elle a un archevêché et une université catholique ; les édifices du gouvernement fédéral en sont le principal ornement. La chute de la Chaudière, près de la ville, est fort remarquable.

185. Les autres principales villes du Canada sont : *Montréal, Toronto, Québec, Hamilton*, etc. (voir aux *leçons* suivantes).

186. **Industrie.** — Le Canada est, après les États-Unis, le pays le plus actif du nouveau monde pour l'industrie, dont les branches principales sont :

L'*industrie agricole*, la production du froment et de l'avoine, etc., l'élevage du bétail et des porcs, la production du *beurre* et du *fromage* ;

La *chasse des animaux à fourrures* : castor, renard, martre, vison, ours noir, etc., dans le Nord-Ouest ; — la *pêche de la morue*, dans le bas du fleuve ;

L'exploitation des forêts et des mines de houille, de pétrole, d'or, de fer et de cuivre.

Les principaux produits de l'industrie manufacturière sont : la farine, le cuir, les chaussures, le papier, les tissus de coton, les machines agricoles et autres.

187. **Commerce.** — Les voies de communication intérieure sont surtout le fleuve Saint-Laurent, les grands lacs et les nombreux canaux qui font éviter les rapides du fleuve.

Les chemins de fer sont nombreux, surtout le long du fleuve. Le Pacifique-Canadien traverse le continent ; le Grand-Tronc et l'Intercolonial relient les provinces d'Ontario, de Québec, du Nouveau-Brunswick et de la Nouvelle-Ecosse.

188. **Commerce extérieur :** Importation de tissus de coton, lainages, thé, sucre, vins de France et articles de mode.

Exportation de bois, de grains et farines, de poisson, huiles et autres produits de pêche, de pelleterie, etc.

189. Les échanges se font avec l'Angleterre, les Etats-Unis, les Indes et l'Europe, presque entièrement par la marine anglaise et la marine canadienne.

190. **Ports :** Halifax, Québec, Montréal, Vancouver.

EXERCICES CARTOGRAPHIQUES.

Voir cartes 3, 4 et 5, cahier no 2 des Exercices cartographiques.

QUESTIONNAIRE.

- a) Quelle est la population du Canada ?
 b) Quelle est sa superficie ?
 168. Comment est-il borné ?
 169. Quelles sont ses principales îles ?
 170. Quelle presqu'île remarquable y trouve-t-on ? — Quel isthme la relie au continent ?
 171. Quelles sont les principales chaînes de montagnes que l'on trouve en Canada ?
 172, 173, 174, 175. Nommez les golfes, les baies, les détroits, les fleuves et les lacs du Canada.
 176, 177. Dites un mot de l'aspect du Canada et de son climat.
 178. A quelles nationalités appartiennent ses habitants ?
 179. Quelles langues parlent-ils ?
 180. Quelles religions professent-ils ?
 181. L'éducation y est-elle bien répandue ?
 182. Quel est son gouvernement ? — Comment ce gouvernement est-il constitué ? — De quoi s'occupe-t-il ?
 183. Quelles sont les divisions politiques du Canada ?
 184. Quelle est la capitale du Canada ? — Quelle est sa population ? — Où est-elle située ? — Que renferme-t-elle ?
 185. Quelles sont les autres principales villes du Canada ?
 186. L'industrie est-elle bien développée au Canada ? — A quelles industries s'y livre-t-on surtout ?

187. Quelles sont les principales voies de communication au Canada ?

188. Quelles marchandises le Canada importe-t-il ? — Lesquelles exporte-t-il ?

189. Avec quels pays et par quelles marines les échanges se font-ils ?

190. Quels sont les principaux ports du Canada ?

LEÇON XXIII.

PROVINCE DE QUÉBEC.

Population, 1,489,000 habitants.

Superficie, 228,900 milles carrés.

191. **Situation.** — La province de Québec occupe les deux versants du fleuve St-Laurent, depuis la province d'Ontario jusqu'à l'Atlantique. Son aspect présente un tableau des plus pittoresques.


192. **Îles.** — Les principales îles de cette province sont celles d'Anticosti, d'Orléans, de Montréal et de Jésus, dans le fleuve Saint-Laurent.

193. **Montagnes.** — Les Laurentides, au nord, et les Alléghanys, au sud, sont les principales chaînes de montagnes. Les Alléghanys contiennent les monts Notre-Dame, vers le bas du fleuve. — On trouve aussi quelques montagnes isolées, aux environs de Montréal ; notamment les monts Royal et Belœil.

194. **Rivières.** — La principale rivière de la province est le St-Laurent, qui la traverse dans toute sa longueur ; c'est un des plus beaux fleuves du globe ; ses principaux affluents, au nord, sont l'Outaouais, le St-Maurice et le Saguenay (ce dernier décharge le lac St-Jean) ; ceux du sud sont : le Richelieu, le Saint-François et la Chaudière.

195. **Lacs.** — Les principaux lacs sont : le lac Saint-Jean (le plus grand de la Province), dans le nord ; — les lacs Saint-Pierre, Saint-Louis et Saint-François, qui sont des élargissements du Saint-Laurent.

196. **Climat.** — Le climat est sévère pendant l'hiver, mais très agréable pendant l'été et l'automne, et salubre en tout temps.



MONTREAL.

197. **Productions.**—Le sol est très fertile; il produit le blé, le maïs, l'avoine, l'orge, etc. Les poiriers, les pommiers, les pruniers et les cerisiers viennent très bien dans le district de Montréal; les érables, dont on extrait un sucre très estimé, sont en grand nombre dans les forêts.

198. **Habitants.**—Les habitants sont, pour les cinq sixièmes, *Canadiens-français*; les autres sont Irlandais, Anglais, Ecossais; il y a, en outre, quelques milliers d'Indiens.

199. **Religion.**—La grande majorité de la population professe la religion *catholique*.

200. **Gouvernement.**—Le gouvernement de la province de Québec ressemble à celui de la Confédération; il se compose :

1° D'un *lieutenant-gouverneur*, nommé par le gouverneur général du Canada et assisté d'un *conseil de ministres*;

2° D'un *Conseil législatif*, dont les membres, au nombre de 24, sont nommés par le lieutenant-gouverneur;

3° D'une *Assemblée législative*, dont les membres, au nombre de 73, sont élus par le peuple tous les quatre ans.

Ce gouvernement s'occupe des intérêts particuliers de la Province.

201. **Divisions.**—Le territoire de la province de Québec est divisé en 63 *comtés* (voir p. 86).—On y compte dix *diocèses*.

La division territoriale en comtés sert de base pour les divisions électorale, judiciaire, etc.

202. **Villes.**—*Québec*, 64,000 hab., capitale, est bâtie en partie sur une éminence appelée le Cap-Diamant, d'où elle domine tous les environs. C'est un port de mer et un des principaux entrepôts du commerce du Canada avec l'Angleterre.

203. *Montréal*, 217,000 hab., la plus grande ville du Canada; c'est un port très fréquenté des vaisseaux océaniques et le centre principal du commerce et de l'industrie du pays.


204. *Saint-Henri*, 14,000 hab., et *Sainte-Cunégonde*, 10,000 hab., faubourgs de Montréal;
Hull, 11,000 hab., ville manufacturière;

Sherbrooke, *Trois-Rivières*, *Saint-Hyacinthe*, chacune au-dessus de 7,000 hab., évêchés;

Lévis et *Sorel*, 7,000 hab. chacune.

205. **Industrie.**—Outre la culture de la terre et la production du beurre et du fromage, on se livre à l'exploitation des forêts, à celle des mines de fer, près de Trois-Rivières et de Hull, d'or, dans la Beauce, de cuivre, dans le comté de Mégantic, etc., et à la pêche, surtout à celle de la morue et du hareng, dans le bas du fleuve.

206. **Voies de communication.**—Outre le *Saint-Laurent* et ses canaux, le *Pacifique-Canadien*, le *Grand-Tronc* et l'*Intercolonial*, il faut encore citer, parmi les principales voies de communication, le *Richelieu*, qui relie la province aux États-Unis, et les chemins de fer *Québec-Central*, qui va de Lévis à Sherbrooke, et *Québec-Lac-Saint-Jean*, qui va de Québec au lac Saint-Jean.



LES GRANDS LACS ET LE ST-LAURENT, JUSQU'À LA CATARACTE DE MONTMORENCY.

1, Lac Supérieur (profondeur, 1000 pieds) ; 2, lac Huron (prof., 900 pds) ; 3, lac Érié (prof., 200 pds) ; 4, lac Ontario (prof., 500 pds) ; 5, cataracte de Niagara (167 pds de haut) ; 6, rapides ; 7, Laurentides ; 8, Cap-Diamant (400 pds de haut) ; 9, cataracte de Montmorency (250 pds de haut) ; 10, niveau de l'Océan. — L'échelle des hauteurs est beaucoup exagérée.

LEÇON XXIV.

ONTARIO.

Population, 2,114,000 habitants.

Superficie, 220,000 milles carrés.

207. La province d'*Ontario* est située entre celles de Québec et de Manitoba ; elle s'étend des grands lacs jusqu'à la baie James. Sa *surface* est faiblement ondulée.

208. Les principales rivières d'*Ontario* sont : le *Saint-Laurent* supérieur, l'*Otaouais*, la *Grande* rivière et le *Thames*.

209. Les lacs *Supérieur*, *Huron*, *Erié* et *Ontario*, avec le fleuve *St-Laurent*, forment la plus grande étendue d'eau douce qu'il y ait sur le globe. Ces lacs sont surtout remarquables par la limpidité de leurs eaux et par les tempêtes auxquelles ils sont sujets. C'est entre les lacs *Erié* et *Ontario* que se trouve la fameuse chute de *Niagara*.

210. La province d'*Ontario* jouit d'un climat plus doux que celui de la province de Québec, parce qu'elle est plus au sud que cette dernière.

211. La population de la province est composée d'Anglais, d'Irlandais, d'Écossais, de Canadiens français et de quelques milliers d'Indiens.

212. La religion dominante est le protestantisme ; les catholiques forment un sixième de la population ; — la langue dominante est l'anglais.

213. Villes. — *Toronto*, 181,000 habitants, capitale de la province ; ville très florissante, située sur une jolie baie du lac *Ontario* ; son port est sûr et peut contenir un grand nombre de vaisseaux.

214. *Hamilton*, 49,000 hab. — *Ottawa*, 44,000 hab., capitale fédérale ; — *London*, 32,000 hab. ; — *Kingston*¹, 19,000 hab.

215. Industrie. — Les industries d'*Ontario* sont à peu près les mêmes que celles de la province de Québec. On y trouve du pétrole en abondance.

216. Voies de communication. — Les grands lacs, le *Saint-Laurent* et ses canaux, les chemins de fer *Pacifique-Canadien*, *Grand-Tronc* et plusieurs autres lui rendent faciles les communications avec les autres parties du Canada et avec les États-Unis.

¹ *Kingston*, ancien fort *Cataracoui*.

LEÇON XXV.

NOUVELLE-ÉCOSSE.

Population, 450,000 habitants.
Superficie, 20,600 milles carrés.

217. La *Nouvelle-Ecosse*, connue autrefois sous le nom d'*Acadie*, est une péninsule située au sud du golfe St-Laurent ; elle est unie au Nouveau-Brunswick par l'*isthme* de Chignectou.

218. Cette province a des côtes très découpées, ce qui fournit à la navigation les plus grands avantages. Ses *rièrres* sont peu considérables.

219. Son *climat* est humide, mais moins froid que celui de la province de Québec.

220. La *population* se compose d'Irlandais, d'Écossais, d'Anglais, d'Acadiens ou descendants des Français, etc. Les trois quarts de la population professent la *religion protestante* ; les autres sont catholiques.

221. *Villes*.—*Halifax*, 39,000 habitants, capitale ; son port est un des plus beaux et des plus commodes de l'Amérique ; elle est la première station américaine de la marine d'Angleterre, et le terminus du chemin de fer *Intercolonial*.

222. *Dartmouth* et *Yarmouth*, 6,000 hab. chacune, et *Truro* 5,000 hab., sont les villes les plus peuplées après Halifax.

223. L'*industrie* comprend l'*agriculture*, la *pêche*, la construction des *vaisseaux*, l'*exploitation des mines* d'or et de charbon. Ce dernier se trouve surtout près de Sydney, dans l'île du Cap-Breton, et près de Pictou, sur la côte N.

224. Le *commerce exporte* du poisson, du charbon, de l'or, du plâtre, des pommes de terre, etc. ; il *importe*, farines, liqueurs, soie, laine, coton et autres marchandises ouvrées.

LEÇON XXVI.

NOUVEAU-BRUNSWICK.

Population, 320,000 habitants.
Superficie, 28,000 milles carrés.

225. Le *Nouveau-Brunswick* est situé au sud-est de la province de Québec, et est uni à la Nouvelle-Ecosse par l'*isthme* de Chignectou ; il forme un carré irrégulier.

226. Sa surface est en général ondulée. Les plus hautes *montagnes* s'élèvent à peine à 2,000 pieds ; elles sont situées vers le nord-est.

227. La principale *rivière* du Nouveau-Brunswick est la rivière *St-Jean*, qui traverse la province du nord au sud ; excepté la partie moyenne, qui coule de l'ouest à l'est ; elle est navigable jusqu'à Frédéricton ; et se jette dans la baie de Fundy près de St-Jean.

228. Le *climat* du Nouveau-Brunswick est assez semblable à celui de la province de Québec, mais moins froid en hiver.

229. La *population* se compose à peu près comme celle de la Nouvelle-Ecosse. Les *Irlandais* sont les plus nombreux. Les *catholiques* forment plus du tiers de la population.

230. *Villes*.—*Frédéricton*, 6,000 habitants, capitale, est agréablement située sur la rivière St-Jean.

231. *St-Jean*, 39,000 habitants, la ville la plus importante de la province par sa population, sa position et son commerce.—*Moncton*, ville progressive. *Chatham*, évêché.

232. Les *productions* sont celles qui proviennent de l'*agriculture* et des *forêts* ; les pommes de terre sont réputées des meilleures.

233. L'*industrie* y est encore peu développée, mais le *commerce* est assez prospère.

LEÇON XXVII.

ILE-DU-PRINCE-ÉDOUARD.

Population, 109,000 habitants.
Superficie, 2,000 milles carrés.

234. L'*Ile-du-Prince-Édouard* est la plus petite province de la Confédération, mais la plus peuplée relativement. Elle est située dans le golfe St-Laurent, au nord de la Nouvelle-Ecosse, dont elle est séparée par le *détroit* de Northumberland.

235. Ses côtes présentent plusieurs *baies* profondes, entre autres celles de Hillsborough et de Richmond.

236. Son *climat* est plus tempéré que celui des provinces voisines ; l'*atmosphère* est généralement exempte de brouillards.

237. La **population** est composée à peu près comme celle de la Nouvelle-Ecosse. Elle est pour une moitié catholique et pour l'autre, protestante.

238. **Ville.** — *Charlottetown*, 11,000 habitants, capitale, bâtie sur la rivière Hillsborough.

239. L'**industrie** consiste dans l'*agriculture*, la *pêche*, la construction des *vaisseaux*. Le **commerce** comprend l'*exportation* des produits de l'île, l'*importation* de marchandises ouvrées et autres objets à l'usage de la vie domestique.

LEÇON XXVIII.

PROVINCE DE MANITOBA.

Population, 152,000 habitants.

Superficie, 74,000 milles carrés.

240. Le *Manitoba*, ainsi nommé à cause du lac du même nom, est situé entre la province d'Ontario et les territoires du Nord-Ouest.

241. La surface de cette province consiste principalement en plaines herbeuses, ou *prairies*, parfaitement unies, et diversifiées par quelques bosquets.

242. Cette province est arrosée par les **rivières Rouge, Assiniboine et Saskatchewan**. Elle renferme les **lacs Winnipeg, Winnipégois et Manitoba**.

243. Le **climat** y est très rigoureux pendant l'hiver, et la température est très variable.

244. Le **sol** du Manitoba passe pour un des plus propres à l'agriculture.

245. La **population** est composée en partie de *Canadiens-français* et de *métis*, parlant le *français*. La majorité parle l'*anglais* et professe la *religion protestante*.

246. **Villes.** — *Winnipeg*, 25,000 habitants, capitale, est située au confluent de la rivière Assiniboine avec la rivière Rouge; elle est la métropole du commerce du Nord-Ouest. — *Saint-Boniface*, sur le côté opposé de la rivière Rouge, est la demeure d'un archevêque.

LEÇON XXIX.

COLOMBIE-ANGLAISE.

Population, 98,000 habitants.

Superficie, 380,000 milles carrés.

247. La *Colombie* est située à l'extrémité ouest de la Confédération, entre les montagnes Rocheuses et l'océan Pacifique. L'île Vancouver, située au S.-O., fait partie de la province.

248. Cette province est très montagneuse : ses principales **chaines de montagnes** sont : les monts *Rocheux*, à l'est, et les *Cascades*, à l'ouest.

249. La *Colombie*, le *Fraser* et son affluent, le *Thompson*, en sont les principales **rivières**.

250. Le **climat**, en général, y est agréable et salubre ; les froids y sont beaucoup moins grands que dans les autres provinces de la Confédération. L'hiver y est très court, comparativement aux autres contrées situées aux mêmes latitudes.

251. On y trouve beaucoup d'Indiens et de Chinois. La *religion protestante* y domine.

252. **Villes.** — *Victoria*, 17,000 habitants, capitale, est située au sud de l'île Vancouver ; ses environs sont d'une beauté remarquable. — *Vancouver*, 13,600 hab., est la ville la plus considérable après *Victoria* ; elle est le terminus du *Pacifique-Canadien*.

253. Les *mines* d'or, dont l'exploitation a été jusqu'ici très satisfaisante, les *terres arables*, de très bonne qualité, les *forêts*, remplies de beaux bois de construction, constituent les principales **ressources** du pays.

LEÇON XXX.

TERRITOIRES DU NORD-OUEST.

Population, 99,000 habitants.

Superficie, 2,400,000 milles carrés.

254. Les *territoires du Nord-Ouest* sont une vaste contrée située dans le nord du Canada et s'étendant jusqu'aux limites des terres arctiques.

255. Ce pays est généralement sans montagnes bien remarquables ; mais il renferme une multitude

de lacs, dont les principaux sont : les lacs des Ours, des Esclaves, et d'Athabaska.

256. Les principales rivières sont : le Mackenzie et ses tributaires ; le Nelson et la Saskatchewan.

257. Le climat est excessivement froid et se refuse à toute culture, dans le nord. Il est moins froid dans les prairies du sud-ouest, lesquelles sont très propres à la culture. Les animaux à fourrures s'y trouvent en grand nombre ; les lacs et les rivières sont remplies de poissons excellents.

258. Les Indiens forment environ un tiers de la population.

259. Une partie de ces territoires est partagée en cinq districts, nommés Athabaska, Alberta, Assiniboia, Saskatchewan et Keewatin.

260. Le district de Keewatin est sous la juridiction du lieutenant-gouverneur du Manitoba. Le reste des territoires est administré, au nom du gouvernement fédéral, par un lieutenant-gouverneur, qui réside à Regina, dans le district d'Assiniboia.

LEÇON XXXI.

TERRE-NEUVE.

Pop., 200,000 hab. — Sup., 42,000 m. c.

261. L'île de Terre-Neuve est située dans le golfe Saint-Laurent. Ses côtes sont découpées par un grand nombre de baies.

262. On estime que les lacs couvrent un tiers de l'île, mais les rivières sont peu considérables.

263. Le climat y est moins sujet aux changements que sur le continent ; il est un peu humide, mais salubre.

264. On y trouve des mines d'argent, de cuivre, de fer, de plomb, de plâtre, de marbre et de charbon. Il y a une grande quantité de tourbe. L'intérieur de l'île est peu connu.

265. Le grand banc de Terre-Neuve est fort renommé ; il n'y a point de place qui lui soit comparable pour la pêche, surtout celle de la morue.

266. Sa population se compose en grande partie d'Irlandais. Près de la moitié sont catholiques.

267. Terre-Neuve est une colonie anglaise ; c'est la seule de l'Amérique du Nord qui ait refusé jusqu'ici d'entrer dans la confédération canadienne. Son gouvernement est composé comme celui des provinces canadiennes.

268. Plusieurs câbles télégraphiques transatlanti-

ques ont leur point d'attache à Heart's-Content, situé près de Saint-Jean.

269. Ville. — Saint-Jean, 35,000 hab., capitale, est située à l'est, dans la presqu'île d'Avalon ; son port est enfermé entre deux montagnes et d'une entrée difficile.

LEÇON XXXII.

ÉTATS-UNIS.

Pop., 65,000,000 hab. — Sup. 3,010,000 m. c.

270. Les États-Unis sont une grande contrée de l'Amérique septentrionale ; ils sont situés entre le Canada et le Mexique, et s'étendent de l'océan Atlantique au Pacifique.

271. Entre la chaîne des Alléghanys et celles de Sierra Madré, des Cascades et des monts Rocheux, coule le beau fleuve Mississippi-Missouri, qui traverse tout le pays du nord au sud. Ce fleuve a de nombreux tributaires, dont les principaux sont : la rivière Rouge, l'Arkansas et l'Ohio.

272. Les grands lacs canadiens (voir no 175) se trouvent en parties égales sur les États-Unis et sur le Canada ; le lac Michigan est compris tout entier dans les États-Unis.

273. Le climat y est naturellement varié : il est très chaud au sud, tempéré au milieu, et très froid au nord, pendant l'hiver.


274. La population des États-Unis est très variée. Elle se compose d'Anglais, d'Irlandais, d'Allemands, de Français, etc. Chacune de ces races a son caractère, ses aptitudes, sa langue et sa religion.

275. On compte, aux États-Unis, environ dix millions de catholiques ; le reste de la population appartient aux diverses sectes protestantes.

276. La langue anglaise y est la plus généralement parlée.

277. Le gouvernement des États-Unis est une république fédérative. — Outre le gouvernement fédéral, chaque état a son gouvernement local.

278. Le nombre des états, qui était de treize lors de la déclaration de leur indépendance, en 1776, est aujourd'hui de 44. Il y a de plus 6 territoires et 1 district fédéral (voir p.100).



LE CAPITOLE.

279. **Villes.**—*Washington*, 230,000 hab., sur le Potomac, capitale fédérale, est une belle et grande ville ; le Capitole en fait le principal ornement.

280. *New-York*, 1,800,000 hab. (1892), à l'embouchure de l'Hudson, est la plus grande ville américaine et l'une des premières villes du monde, par sa population et pour son commerce sur mer et sur terre.

281. *Chicago*, 1,400,000 d'hab. (1892), port sur le lac Michigan, fait un immense commerce de produits agricoles.

282. *Philadelphie*, 1,000,000 d'hab., au sud de New-York ;—*Brooklyn*, 800,000, tout à côté de New-York.

Saint-Louis, sur le Mississippi, *Boston*, au nord et *Baltimore*, au sud de New-York, ont chacune près d'un demi-million d'habitants ;—*San-Francisco*, en Californie, et *la Nouvelle-Orléans*, en Louisiane, en ont chacune environ un quart de million.

283. **Industrie.**— Les Etats-Unis rivalisent avec l'Europe pour l'activité et le progrès dans toutes les branches de l'industrie.

Agriculture. Grâce à une grande variété de climats, les Etats-Unis joignent tous les végétaux des régions tempérées à ceux des pays tropicaux. Il faut citer particulièrement : le

froment, le maïs, la canne à sucre, la vigne, l'oranger, le bananier, le pommier, le coton, etc.

Les mines. Ils sont riches en mines de houille, de pétrole, de fer et d'or.

Les fabriques. Ils possèdent beaucoup de fabriques, surtout de tissus de coton et de machines de tous genres.

284. **Commerce.**— *Voies de communication* intérieures : le Mississippi, l'Hudson et autres cours d'eau, de nombreux canaux et chemins de fer ; quelques-uns de ces derniers traversent le continent.

285. **Importation** de fourrures et de produits agricoles, du Canada ; de tissus, de sucre, de thé et de café, de l'Europe, des Antilles et de l'Amérique méridionale.

Exportation de coton, de grains et farines, de viandes, de pétrole, etc.

286. **Ports de mer.**—New-York, Boston, la Nouvelle-Orléans, Philadelphie, San-Francisco, Portland.

LEÇON XXXIII.

MEXIQUE.

Pop., 12,000,000 d'hab. — Sup., 700,000 m. c.

287. Le *Mexique* est situé au sud des Etats-Unis, entre l'océan Pacifique et le golfe du Mexique.

288. Il est traversé par la chaîne de *Sierra Madré*

(montagnes mères), qui forme au nord de Mexico un fort beau plateau, si uni qu'une voiture peut parcourir l'espace de 1,400 milles sans obstacles.

289. Le climat y est chaud et malsain sur les côtes, et tempéré sur les lieux élevés.

290. La population comprend des blancs, des nègres, des Indiens et des métis. Les blancs sont presque tous descendants d'Espagnols et se nomment *créoles*.

291. Le gouvernement est républicain, et la religion, catholique. Le pays a souvent été en révolution depuis son émancipation, en 1821.

292. Villes. — Mexico, 320,000 hab., capitale, est une ville belle et assez commerçante; elle est située à 8,000 pieds d'altitude, près du lac Tezucou.

Léon, 130,000 hab.;—Puebla, 70,000 habitants.

293. Les productions sont: le blé, l'orge, l'avoine, dans les régions tempérées, et tous les fruits tropicaux, dans les régions chaudes.

294. L'industrie et le commerce sont paralysés par l'anarchie, le brigandage, et aussi par le manque de voies de communication.

LEÇON XXXIV.

AMÉRIQUE CENTRALE.

Superficie, 200,000 milles carrés.

295. L'Amérique centrale est comprise entre le Mexique et l'isthme de Panama. Elle renferme cinq petits états républicains.

296. La population est formée, pour les deux tiers, d'Indiens et de métis, et pour un tiers, de blancs espagnols ou de nègres. La religion est le catholicisme.

297. États de l'Amérique centrale:

1° Le Guatemala, 1,400,000 hab.; capitale, Nouvelle-Guatemala, 60,000 habitants.

2° Le Honduras, 430,000 hab.; capitale, Tegucigalpa.

3° Le San-Salvador, 650,000 hab.; capitale, San-Salvador.

4° Le Nicaragua, 350,000 hab.; capitale, Nicaragua.

5° Le Costa-Rica, 240,000 hab.; capitale, San-José.

298. Les produits sont les mêmes que ceux du Mexique. L'acajou et le bois de campêche font une partie considérable de son commerce. L'isthme de Panama est traversé par un chemin de fer; c'est la voie de communication entre l'Atlantique et le Pacifique.

LES ANTILLES.

Population totale, 5,300,000 habitants.

Superficie totale, 95,000 milles carrés.

299. Les Antilles, ou Indes Occidentales, comprennent toutes les îles qui entourent la mer des Caraïbes ou des Antilles. On les divise en grandes et en petites Antilles.

300. Le climat y est chaud et malsain sur les côtes, mais délicieux à l'intérieur. Des ouragans et de violentes tempêtes renversent quelquefois tout sur leur passage et occasionnent de nombreux naufrages.

301. Les habitants sont des descendants d'Européens, des nègres, des Indiens et des races mixtes.

302. Divisions: 1° Ile d'Haiti, divisée en deux républiques indépendantes: la république d'Haiti; capitale, Port-au-Prince, 40,000 hab.;—et la république de Saint-Domingue; capitale, Saint-Domingue.

2° Îles appartenant à l'Espagne: Cuba, cap., la Havane, 240,000 hab.; Porto-Rico (ou Puerto-Rico) cap., San-Juan.

3° Îles appartenant à l'Angleterre: la Jamaïque, cap., Kingston; les îles Bahama ou Lucayes et la Barbade.

4° Îles appartenant à la France: la Martinique et la Guadeloupe.

303. Industrie et commerce.—L'industrie agricole, et particulièrement les denrées coloniales¹ à exporter: sucre, café, ananas, bananes, etc., sont la seule préoccupation de la population des Antilles. Les forêts fournissent l'acajou et des bois de teinture.

304. Importation de grains et farines, viande, beurre, fromage, etc.

¹ Par denrées coloniales, on entend généralement les produits végétaux exportés par les colonies.



ANIMAUX DE L'AMÉRIQUE MÉRIDIONALE.

1, Porc-épic ; 2, tamanoir (fourmilier) ; 3, lama ; 4, alligator ; 5, tapir ; 6, chinchilla ; 7, cabiai ; 8, cougar ; 9, pécarì ; 10, petit tamanoir ; 11, singes ; 12, jaguar ; 13, toucans ; 14, perroquets ; 15, condor ; 16, aigle ; 17, boa ; 18, ocelot ; 19, tatou.

AMÉRIQUE MÉRIDIONALE.

LEÇON XXXV.

GEOGRAPHIE GÉNÉRALE DE L'AMÉRIQUE DU SUD.

Population, 36,000,000 d'habitants
Superficie, 7,000,000 de milles carrés.

305. **Bornes.** — L'Amérique méridionale est bornée, au nord, par la mer des Antilles ; au nord-est et au sud-est, par l'Atlantique ; à l'ouest par le Pacifique.

306. **Iles.** — L'île *Marajo*, dans le delta de l'Amazone ; les îles *Falkland* ou Malouines et de la *Terre-de-Feu*, au sud ; l'*archipel patagonien*, sur les côtes du Chili.

307. **Isthme.** — L'isthme de *Panama*, qui réunit les deux Amériques.

308. **Caps.** — Les caps *Gallinas*, au N. de la Colombie ; *Saint-Roch*, à l'est du Brésil ; *Horn*, au sud ; *Blanco*, sur la côte occidentale.

309. **Montagnes.** — Les principales chaînes de montagnes sont celles des *Andes*, dans l'ouest ; des

monts *Parime*, au sud du Vénézuéla, et des monts *Brésiliens*.

Les Andes renferment plusieurs volcans actifs, entre autres le *Chimborazo* et le *Cotopaxi*, dans l'Équateur.

Des ravins profonds et des défilés de montagnes y offrent de grands dangers aux voyageurs, qui souvent ne peuvent les franchir qu'au moyen de ponts de cordes et portés par les Indiens.

310. **Plaines.** — Parmi les plaines que renferme cette partie du monde, on remarque celle de l'*Orénoque*, que l'on nomme *llanos* (tianoce) ou plaine d'herbes ; celle de l'*Amazon*, *seltas* ou plaine boisée, et celle de la *Plata*, *pampas* ou prairies.

311. **Golfes.** — On remarque les golfes de *Panama* et du *Darien*, dans la Colombie ; — ceux de *Maracaibo*, dans le Vénézuéla ; — de *Saint-Georges*, dans la Patagonie, — et de *Guayaquil*, dans l'Équateur.

312. **Détroit.** — Le détroit de *Magellan*, entre la Patagonie et la Terre-de-Feu.

313. **Cours d'eau.** — L'Amérique méridionale

est arrosée par l'*Orénoque*, dans le Vénézuéla ; — l'*Amazone*, 4,000 milles, et ses affluents, le *Rio Negro*, la *Madeira*, le *Tupajos*, dans le Brésil ; — par la *Plata* et son affluent, le *Parana*, dans la république Argentine.

314. **Lac.** — Le lac *Titicaca*, dans le Pérou.

315. **Climat.** — Le climat de l'Amérique méridionale est varié, et généralement plus *humide* et *moins chaud* que celui des parties de l'Afrique situées dans les mêmes latitudes.

316. **Productions.** — Les productions d'origine sud-américaine sont : la pomme de terre, la vanille, le maïs, le cacao, le quinquina¹ et le caoutchouc. Le pays produit aussi le sucre, le coton, le café, l'indigo, les ananas, les bananes, etc. Il y a des mines d'or, d'argent et de platine. On y trouve aussi le diamant, les rubis et autres pierres précieuses.

317. Les *animaux* les plus remarquables sont : le jaguar, espèce de tigre ; le puma, lion américain ; le fourmilier, le lama, l'alpaca, etc. D'énormes serpents, appelés *boas constricteurs*, infestent les forêts. Un grand nombre d'oiseaux sont remarquables par la beauté de leur plumage.

318. **Races humaines.** — Les habitants de l'Amérique du Sud sont : des blancs, descendants d'Espagnols et de Portugais ; des Indiens, des nègres et des métis. Les Indiens forment plus de la moitié de la population.

319. **Religion.** — La très grande majorité des habitants de l'Amérique du Sud professent la religion *catholique*.

320. **Divisions politiques.** — Les états de l'Amérique méridionale sont : la Colombie, le Vénézuéla, les Guyanes, le Brésil, l'Equateur, le Pérou, la Bolivie, le Chili, l'Argentine, le Paraguay et l'Uruguay.

321. Tous ces états se sont constitués en républiques, à l'exception des Guyanes, qui sont des colonies.

LECON XXXVI.

COLOMBIE.

Pop., 4,000,000 d'hab. — Sup., 400,000 m. c.

322. Les *Etats-Unis de Colombie* sont bornés au N. par la mer des Antilles ; à l'E., par le Vénézuéla ; au S., par l'Equateur ; à l'O., par le Grand océan.

¹ Le *cacao*, dont on fait le chocolat, est la fève ou graine du cacaoyer, espèce d'arbre. — Le *quinquina* est l'écorce dont on retire la *quinine*, substance fébrifuge.

323. Le *climat* y est très chaud et malsain sur les côtes, mais il est doux et salubre dans les contrées élevées.

324. Le *sol* y produit le sucre, le café, le coton et les fruits tropicaux ; les productions des régions élevées sont celles des climats tempérés.

325. **Villes.** — *Bogota*, 100,000 hab., capitale, est située vers le centre du pays, à 8,500 pieds au-dessus du niveau de la mer. — Le principal port est *Aspinwall* ou Colon, sur l'isthme de Panama.

VENEZUELA.

Pop., 2,300,000 hab. — Sup., 500,000 m. c.

326. Le *Vénézuéla* est situé à l'est des états colombiens ; il consiste en vastes plaines arrosées par l'*Orénoque* et quelques-uns de ses tributaires.

327. **Villes.** — *Caracas*, 75,000 hab., capitale, est située dans une plaine fort élevée. — *La Guayra*, 25,000 hab., est le principal port du Vénézuéla. — *Valencia*, 40,000 hab.

GUYANES.

Pop., 400,000 hab. — Sup., 180,000 m. c.

328. Les *Guyanes* sont situées au sud-est du Vénézuéla et au nord du Brésil. Leurs côtes sont basses, unies, malsaines et sujettes aux inondations. Le sud est montagneux et salubre. L'intérieur est habité par des Indiens.

329. Le *sol* y est extrêmement fertile ; il produit le café, le sucre, le cacao, le coton, le maïs, l'indigo et toutes les espèces de fruits des contrées tropicales.

330. Cette contrée se divise en trois parties, savoir : la *Guyane anglaise* cap., *Georgetown*, 30,000 hab. ; la *Guyane hollandaise*, ou *Surinam*, cap. *Paramaribo*, 20,000 hab., et la *Guyane française*, cap., *Cayenne*, 6,000 hab.

331. Le *commerce intérieur* de ces contrées est très faible. — *Importation* de produits européens : tissus de coton et de soie, vins. — *Exportation* de l'or et du tabac, de la


Colombie ; du café, du tabac, du cacao, du Vénézuéla ; du sucre et autres denrées coloniales, des laines et des peaux, des Guyanes.

LEÇON XXXVII.

BRÉSIL.

Pop., 14,000,000 d'hab.—Sup., 3,200,000 de m. c.

332. Sauf le Chili, tous les états de l'Amérique méridionale confinent aux *Etats-Unis du Brésil*, qui sont bornés à l'est par l'Atlantique.



RÉCOLTE DU CAFÉ.

333. Le *climat* est doux et généralement sain. —Le *sol*, remarquable pour sa fertilité, produit le sucre, le manioc, le blé, le coton, le tabac, le riz et beaucoup de fruits ; le Brésil fournit plus de café que toute autre contrée.

334. Il y a des mines d'or et d'argent. Le diamant et les rubis y sont abondants.

335. Les deux tiers de la *population* sont des *blancs* d'origine portugaise ; le reste se compose de *négres*, de *mulâtres* et d'Indiens civilisés ou sauvages.

336. La langue est un composé de portugais et de français. La religion est le *catholicisme*.

337. Le Brésil se divise en 20 *états* ou *provinces*, qui forment une *république fédérative*.

338. *Villes*. — *Rio-de-Janeiro*, 700,000 hab., capitale, est la plus grande ville et le port le plus important de l'Amérique méridionale.

Bahia ou São-Salvador, 160,000 hab., seconde ville de la république, bon port de mer.

Pernambouc, 140,000 hab., port de mer.

339. L'*industrie* manufacturière est peu avancée, mais les cultures et les mines sont importantes.

340. Le *commerce* y est très actif. Le commerce *intérieur* se fait surtout par eau. Rio-de-Janeiro, Bahia et Pernambouc ont des chemins de fer qui pénètrent dans l'intérieur du pays.

Importation d'objets manufacturés, tissus, farines, vins.—*Exportation* de café, coton, sucre, cuirs et peaux, caoutchouc et diamant.

LEÇON XXXVIII.

EQUATEUR.

Pop., 1,200,000 hab.—Sup., 200,000 m. c.

341. L'*Equateur* est borné au N. par la Colombie ; à l'E., par le Brésil ; au S., par le Pérou ; à l'O., par le Pacifique.

342. Le *climat* et les productions y sont les mêmes que dans la Colombie. C'est dans l'*Equateur* et les contrées voisines que se recueille le quinquina.

343. *Villes*.—*Quito*, 80,000 hab., capitale, est située à 15 minutes seulement de l'*Equateur*, sur le penchant d'une montagne.—*Guayaquil* en est le principal port de mer.

PEROU.

Pop., 3,000,000 d'hab.—Sup., 450,000 m. c.

344. Le *Pérou* est situé à l'ouest du Brésil et de la Bolivie, et au sud de l'*Equateur*.

345. La plaine de la côte est sablonneuse, et le *climat* y est très chaud ; jamais il n'y pleut, mais la

rosée y est abondante ; à l'est des montagnes, il pleut durant la moitié de l'année.

346. Les productions sont : le sucre, le coton, le tabac, le maïs, le cacao et surtout le quinquina.

347. Le Pérou était le pays le plus civilisé de l'Amérique méridionale, lorsque les Espagnols en firent la découverte. La soif de l'or poussa Pizarre et ses aventuriers à traiter cruellement l'Inca (le roi) et son peuple afin d'en extorquer ce métal, qu'ils convoitaient avec avidité.

348. Villes.—*Lima*, 110,000 hab., capitale, est bâtie à six milles de la côte ; elle a été plusieurs fois détruite par des tremblements de terre.—*Callao* est le principal port de mer du Pérou.—*Cuzco* était la capitale des Incas.

349. Il n'y a guère d'industries dans ces pays que l'agriculture et l'exploitation des mines.

350. Importation de farines et autres comestibles, et de tissus.

Exportation : de l'Equateur, cacao et caoutchouc ; — du Pérou, guano¹, nitrate de soude et laine de lama ; — des deux pays, quinquina et autres drogues médicinales.

LEÇON XXXIX.

BOLIVIE.

Pop., 2,400,000 hab.—Sup., 450,000 m. c.

351. La Bolivie² est située entre le Brésil et le Pérou.

352. Elle est montagneuse dans l'ouest ; de vastes plaines s'étendent à l'est et au centre.

353. Les Boliviens habitent particulièrement les vallées des Andes, lesquelles sont fertiles et salubres.

354. Villes.—*La Paz*, 80,000 hab., capitale.—

¹ Le guano est la fiente d'oiseaux de mer déposée en amas considérables sur les côtes de certains pays chauds et secs. C'est un excellent engrais, de même que le nitrate de soude.

² Le nom de Bolivie a été donné à ce pays en l'honneur de Bolivar, son libérateur.

Chuquisaca ou *Sucre*, 25,000 hab., est bâtie sur un plateau fort élevé.

CHILI.

Pop., 2,800,000 hab.—Sup., 280,000 m. c.

355. Le Chili¹ est une contrée longue et étroite, située entre le Pacifique et la chaîne des Andes.

356. Les Andes renferment beaucoup de volcans ; les tremblements de terre y sont fréquents ; quelquefois ils détruisent des villes entières.

357. Le climat y est tempéré et salubre. Le sol est fertile, excepté dans l'extrême nord, où il ne pleut jamais.

358. Les principales productions sont : le blé, le maïs, l'orge, le vin, l'huile, etc. Les produits minéraux sont : l'or, l'argent, le cuivre, l'étain et le fer.

359. Villes.—*Santiago*, 250,000 hab., cap., est située dans une plaine élevée et fort belle.—*Valparaiso* (vallée du Paradis), 120,000 hab., est le port le plus important du Pacifique méridional.

360. Ces deux pays exportent de l'argent, de l'or et du guano ; le Chili exporte de plus du cuivre, du nitrate de soude et du froment.

LEÇON XL.

ARGENTINE ou LA PLATA.

Pop., 4,400,000 hab.—Sup., 1,100,000 m. c.

361. La confédération Argentine, est située au S. de la Bolivie et du Paraguay, entre le Chili et l'Atlantique. C'est un pays presque entièrement composé de plaines (*pampas*), dans lesquelles errent une multitude de loups et de chevaux sauvages.

362. Le climat, généralement tempéré, est salubre.

363. Cette république est arrosée par les rivières Parana, Paraguay et plusieurs autres.

364. La partie méridionale de l'Argentine s'ap-

¹ Près du Chili, sur une des îles de *Juan-Fernandez*, vécut plusieurs années Alexandre Selkirk, dont l'histoire a servi de base au conte de *Robinson Crusoé*.

pelle *Patagonie* ; c'est une vaste pampa herbeuse parcourue par des Indiens, qui vivent de chasse et de pêche.

365. **Villes.**—*Buenos-Ayres*, 540,000 habitants, capitale, située sur la rive droite du Rio de la Plata ; c'est l'une des plus grandes places de commerce de l'Amérique.

Rosario, 70,000 hab., le second port du pays.

PARAGUAY.

Pop., 500,000 hab.—Sup., 100,000 m. c.

366. Le *Paraguay* est une petite contrée située au sud du Brésil ; sa surface s'élève graduellement vers l'intérieur.

367. Le *climat* y est doux et salubre, et le *sol*, fertile ; ses principaux produits sont : le sucre, le coton, le tabac, le riz, et surtout l'herbe célèbre connue sous le nom de *thé du Paraguay* ou *maté*.

368. **Ville.**—*L'Assomption*, 30,000 hab., cap., est bâtie sur la rive gauche de la rivière du Paraguay.

URUGUAY.

Pop., 700,000 hab.—Sup., 70,000 m. c.

369. L'*Uruguay* est le plus petit état de l'Amérique du Sud ; il est situé entre la confédération Argentine et l'océan Atlantique.

370. Son *climat* est tempéré et salubre, et son *sol*, fertile. Il y a plusieurs chaînes de montagnes vers le nord.

371. Il est arrosé par la rivière Uruguay et ses affluents.

372. **Ville.**—*Montevideo*, 130,000 hab., située sur la rive nord de la Plata, en est la capitale.

373. Ces pays sont fertiles ; on y *cultive*, surtout dans la partie occidentale de l'Argentine, la canne à sucre, le cotonnier, le tabac, la vigne et le blé. Mais ce sont surtout d'immenses régions de pâturages, et l'*industrie générale* est l'*élève des bestiaux*. C'est le plus grand centre de production de viande qui existè sur le globe.

374. *Importation* de tissus, d'articles de mode et autres produits manufacturés.—*Exportation* de viande salée, de laine, de peaux et autres produits animaux.

EUROPE.

LEÇON XLI.

GÉOGRAPHIE GÉNÉRALE DE L'EUROPE.

Population, 360,000,000 d'habitants.
Superficie, 3,760,000 milles carrés.

375. L'Europe fait partie de l'ancien continent ; elle est la plus petite des cinq parties du monde, mais la plus peuplée relativement à son étendue.

376. **Bornes.**—L'Europe est bornée au N. par l'océan Glacial ;—à l'E, par l'Asie et la mer Caspienne ;—au S., par le Caucase, la mer Noire et la Méditerranée, — et à l'O., par l'Atlantique.

377. **Iles.**—Les principales îles sont : la *Nouvelle-Zemble*, dans l'océan Glacial ; — l'archipel *Danois*, dans la Baltique ;—les îles *Britanniques*,

dans l'Atlantique ;—les îles *Baléares*, la *Corse*, la *Sardaigne* et la *Sicile*, dans la Méditerranée.

378. **Presqu'îles.**—Les presqu'îles sont : la péninsule *scandinave*, comprenant la Suède et la Norvège ;—le *Danemark*, la *Crimée*, la *Grèce*, l'*Italie* ;—la péninsule *hispanique*, comprenant l'Espagne et le Portugal.

379. **Isthmes.**—On remarque deux isthmes en Europe : celui de *Pérékop*, qui unit la Crimée à la Russie ;—et celui de *Corinthe*, qui joint la Morée (partie de la Grèce) au continent.

380. **Caps.**—Les caps les plus remarquables sont : les caps *Nord*, en Norvège ;—*Matapan*, en Grèce ;—*Finisterre*, en Espagne ;—*la Hogue*, en France ;—et *Land's-End*, en Angleterre.



ANIMAUX DE L'EUROPE.

1, Chevaux ; 2, vaches ; 3, sanglier ; 4, lièvre ; 5, mulets ; 6, cerf ; 7, chamois ; 8, reumes ; 9, bouquetin ; 10, chèvre ; 11, mouton ; 12, ânes ; 13, hérisson ; 14, rats ; 15, butor ; 16, hérons ; 17, canards ; 18, cygnes ; 19, ibis ; 20, pélican ; 21, lévrier.

381. Montagnes.—Les principales chaînes de montagnes sont : les *Dovrefield*, en Norvège et en Suède ;—l'*Oural* et le *Caucase*, entre la Russie et l'Asie ;—les *Alpes*, entre la France, la Suisse et l'Italie ;—les *Pyrénées*, entre la France et l'Espagne.

Le point le plus élevé de ces montagnes est le mont *Blanc* (16,000 pieds), dans les Alpes.

382. Volcans.—Les volcans les plus remarquables de l'Europe sont : le *Vésuve*, près de Naples ;—l'*Etna*, en Sicile.

383. Mers.—L'Europe est baignée : 1° par l'océan *Glacial boréal* (ou *arctique*) ;

2° Par l'océan *Atlantique*, qui forme la mer *Baltique*, la mer du Nord et la *Manche* ;

3° Par la mer *Méditerranée*, qui forme la mer *Adriatique*, l'*Archipel* ou mer *Egée* et la mer *Noire* ;

4° Par la mer *Caspienne*, qui est une mer isolée.

384. Golfes.—Les golfes les plus remarquables sont ceux de *Bothnie* et de *Finlande*, dans la *Baltique* ;—de *Tarante* et du *Lion*, dans la *Méditerranée* ;—de *Gascogne*, entre la France et l'Espagne.

385. Détroits.—Les principaux détroits sont ceux du *Bosphore* et des *Dardanelles*, entre la

Turquie d'Europe et la Turquie d'Asie ;—le *Phare de Messine*, entre l'Italie et la Sicile ;—le détroit de *Gibraltar*, entre l'Espagne et l'Afrique ;—le *Pas de Calais*, entre la France et l'Angleterre ;—le canal *Saint-Georges* et le canal du Nord, entre l'Angleterre et l'Irlande.

386. Fleuves.—Les fleuves les plus remarquables sont : l'*Oural* et le *Volga*, qui se jettent dans la mer Caspienne ;—le *Don*, le *Dniéper*, le *Danube*, qui se jettent dans la mer Noire ;—le *Tibre*, en Italie, le *Tage* dans la péninsule hispanique ;—le *Rhône*, la *Garonne*, la *Loire* et la *Seine*, en France ;—le *Rhin*, en Allemagne et dans les Pays-Bas ;—la *Tamise*, en Angleterre.

387. Lacs.—Les principaux lacs de l'Europe sont : les lacs *Onégu* et *Ladoga*, en Russie ;—les lacs de *Genève* et de *Constance*, en Suisse.

LEÇON XLII.

GEOGRAPHIE GENERALE DE L'EUROPE (suite).

388. Climat.—Le climat, à l'extrême nord et est, est froid et sévère ; mais à l'ouest et au centre, il est doux et

agréab.
presque
389.
utiles :
marbre.
390.
avec pe
oranges
nord pr
usage.
391.
ienne.
392.
épté
russie
natiq
eux d
aillet

Pop.,
396. I
aume-U
les Inde
colonies,
la plupar

agréable ; au-dessous du 45° de latitude, on jouit d'un été presque perpétuel.

389. **Productions.**—L'Europe est riche en *minéraux* utiles : houille, fer, cuivre, plomb, zinc, mercure, sel, marbre, etc.

390. Dans les contrées méridionales, on *cultive* la vigne avec perfection ; on y récolte également les citrons, les oranges, les figes et autres fruits tropicaux ; les contrées du nord produisent toutes sortes de graminées et de fruits pour l'usage de l'homme et la nourriture des animaux.

391. **Race humaine.**—Les Européens appartiennent à la race *blanche*.


392. La **religion chrétienne** domine partout, excepté en Turquie, où règne le *mahométisme*. La Russie et la Grèce suivent la religion *grecque schismatique* ; les états du nord, le *protestantisme*, et ceux du sud, le *catholicisme*. Les catholiques sont d'ailleurs nombreux partout.

393. L'Europe est renommée pour sa civilisation, son commerce et son industrie ; pour ses villes magnifiques, ses objets d'arts et de sciences.

Elle possède un grand nombre d'institutions qui répandent l'éducation parmi le peuple.

394. Les **gouvernements** européens sont en général *monarchiques* ; parmi eux on trouve aussi cependant plusieurs *républiques*.

395. **Divisions politiques.**— Les états de l'Europe sont : le Royaume-Uni de Grande-Bretagne et d'Irlande, le Danemark, la Norvège, la Suède, la Russie, la France, la Belgique, la Hollande, l'Allemagne, l'Autriche-Hongrie, la Suisse, le Portugal, l'Espagne, l'Italie, le Monténégro, la Serbie, la Roumanie, la Bulgarie, la Turquie et la Grèce.



VUE DE LONDRES.

LEÇON XLIII.

EMPIRE BRITANNIQUE.

Pop., 370,000,000 d'hab.—Sup., 11,000,000 de m. c.

396. L'*Empire Britannique* comprend le *Royaume-Uni de Grande-Bretagne et d'Irlande*, puis les *Indes*, le *Canada*, et une multitude d'autres colonies, dans toutes les parties du monde, qui pour la plupart ont leurs gouvernements particuliers. La

Grande-Bretagne est la puissance la plus influente du monde entier.

ROYAUME-UNI

DE GRANDE-BRETAGNE ET D'IRLANDE.

397. Le Royaume-Uni de Grande-Bretagne et d'Irlande comprend l'*Angleterre*, l'*Ecosse* et l'*Irlande*.

C'est une *monarchie constitutionnelle* ; *Londres* (voir no 402) en est la capitale.

ANGLETERRE.

Pop., 29,000,000 d'hab.—Sup., 58,000 m. c.

398. L'Angleterre est la partie la plus importante de la Grande-Bretagne; elle est séparée de la France par la Manche (*English Channel*), et de l'Irlande, par le canal Saint-Georges et la mer d'Irlande.

399. Ses principales rivières sont : la *Tamise*, dans l'est, et la *Severn*, dans l'ouest.

400. Son climat est doux, humide et brumeux.

401. La religion anglicane est la religion officielle; environ le tiers de l'Angleterre est catholique.

402. Villes.—*Londres*, 4,400,000 hab., sur la *Tamise*, capitale, est la ville la plus peuplée de tout le globe; elle renferme un grand nombre de monuments superbes; la cathédrale St-Paul, l'abbaye de Westminster surtout méritent d'être citées.

403. Les autres villes les plus remarquables sont : *Liverpool*, 520,000 hab., second port de commerce du monde; *Manchester*, 500,000 hab.; *Birmingham*, 440,000 hab.; *Leeds*, 370,000 hab.; *Sheffield*, 320,000 hab., toutes villes manufacturières; *Bristol*, 230,000 hab., port de mer important.

404. L'agriculture anglaise est des plus perfectionnées; elle produit relativement peu de grains, mais elle multiplie les cultures de plantes propres à engraisser les animaux. Elle possède plusieurs races d'animaux remarquables par la facilité avec laquelle ils engraisserent.

405. On exploite en Angleterre de riches mines de houille et de métaux utiles : fer, cuivre, plomb, etc.

On y construit des vaisseaux; on y fabrique des machines, des armes, de la coutellerie, etc., et des tissus de toute sorte, en grande partie pour l'exportation.

406. Le commerce intérieur dispose d'un fort bel ensemble de chemins de fer, de rivières et de canaux.

Plusieurs télégraphes sous-marins relient les îles Britanniques avec le continent européen et l'Amérique. De nombreuses lignes de vaisseaux à vapeur et à voile les mettent en communication avec tous les pays du monde.

407. L'Angleterre importe surtout des matières textiles (coton, laine) et des denrées alimentaires (farines, sucre, thé, café, bétail)¹.

¹ Entre autres produits, le Canada exporte en Angleterre des grains et farines, des pommes, des conserves alimentaires (fruits et légumes), du beurre, du fromage, des œufs et du bétail. Ce commerce pourrait probablement s'augmenter.

LEÇON XLIV.

ECOSSE (*Scotland*).

Population, 4,000,000 d'habitants.

Superficie (les îles adjacentes y comprises), 30,000 m. c.

408. L'Ecosse, autrefois *Calédonie*, est située au nord de l'Angleterre, dont elle est séparée par les monts Cheviots; elle est divisée en hautes terres (*Highlands*), au nord, et en terres basses (*Lowlands*), au sud.

409. Les *Highlands* sont une région montagneuse et froide, mais qui renferment des sites très pittoresques. Les *Lowlands* sont unies et bien cultivées.

410. Les principales productions sont celles qui proviennent de l'agriculture et des mines de fer et de charbon. Ses pêcheries sont très importantes.

411. Villes.—*Edimbourg*, 260,000 hab., capitale, est remarquable pour son château et pour son palais des rois d'Ecosse.—*Glasgow*, 620,000 hab., en est la ville la plus importante par sa population, et elle est célèbre pour ses tissus et sa métallurgie.—*Dundee*, 150,000 hab.

IRLANDE.

Pop., 5,000,000 d'hab.—Sup., 32,500 m. c.

412. L'Irlande, île située à l'ouest de l'Angleterre, est célèbre par sa constante verdure, d'où lui vient le nom d'*Emeraude*, qu'on lui donne souvent.

413. Son climat est très humide; son sol produit le blé, l'avoine, l'orge, le lin et surtout les pommes de terre, qui y sont excellentes, et qui y constituent la principale nourriture du pauvre.

414. Dans plusieurs parties de l'Irlande, le peuple est pauvre et opprimé par les seigneurs. Un grand nombre d'Irlandais émigrent chaque année en l'Amérique.

415. La plupart des habitants sont catholiques.

416. Villes.—*Dublin*, 260,000 hab., capitale, sur la *Liffey*, est une très belle ville et renferme de magnifiques monuments.—*Belfast*, 250,000 hab., célèbre par l'industrie du lin, et *Cork*, 80,000 hab., sont des ports de mer importants.

LEÇON XLV.

DANEMARK.

Pop., 2,200,000 hab.—Sup., 15,000 m. c.

417. Le *Danemark* est composé de la presqu'île de Jutland et de l'archipel danois ; il est situé au nord de la Norvège et de la Suède, dont il est séparé par deux bras de mer, qui portent les noms de *Sonder-Rack* et de *Cattégat*.

418. La surface du Danemark est plate et basse ; dans quelques endroits, elle est au-dessous du niveau de la mer.

419. Son *climat* est humide, mais doux et salubre.

420. Le *gouvernement* est une *monarchie constitutionnelle*. Les Danois professent le *protestantisme*.

421. *Ville*.—*Copenhague*, 310,000 hab., capitale, ville savante et industrieuse.

422. Le *sol* du Danemark est généralement fertile et produit des graminées en abondance. Les Danois élèvent des *bestiaux* en grand nombre.

423. La *pêche* au hareng, à la morue, au maquereau et au saumon s'y fait avec succès.

424. Le *commerce* extérieur du Danemark est très actif.

SUEDE et NORVEGE.

Pop., Suède, 4,900,000 hab. ; — Norvège, 2,100,000 hab.

Superficie totale, 295,000 m. c.

425. La *Suède* et la *Norvège* forment au nord-ouest de l'Europe, une péninsule qui, avec le Danemark, composent la *Scandinavie*. Ces deux pays sont séparés par les montagnes *Kiolen*.

426. La Norvège est montagneuse, tandis que la Suède est unie, excepté dans la partie du nord. La côte de la Norvège est très pittoresque.

427. Le *climat* y est froid, mais salubre. Dans le nord, l'été ne dure pas plus de trois mois, durant lesquels la végétation est extrêmement rapide.

428. Le *gouvernement* est une *monarchie constitutionnelle* ; chacun des deux pays a sa légis-

lature et ses lois, mais un même roi les gouverne tous deux. La *religion protestante* y domine.

429. *Villes*.—*Stockholm*, 250,000 hab., cap. de la Suède ;—*Christiania*, 130,000 hab., cap. de la Norvège.

430. La Suède est renommée pour ses *mines de fer* ; on dit que le fer de ce pays est le meilleur du monde. Les autres produits sont ceux qui proviennent de l'*agriculture*, des *forêts* et des *pêcheries*, qui sont considérables.

LEÇON XLVI.

RUSSIE.

Pop., 95,000,000 d'hab.—Sup., 2,100,000 m. c.

431. La *Russie* occupe presque toute la moitié orientale de l'Europe.

432. Sa *surface* se compose généralement de plaines basses et unies.

433. Le *climat* est continental, sec, très froid dans le nord, mais tempéré dans le sud.

434. Le *gouvernement* est une *monarchie absolue*. La religion, dont le czar ou empereur est le chef suprême, est le *rit grec schismatique*.


435. *Villes*.—*St-Petersbourg*, 1,000,000 d'hab., capitale, ville superbe et bien bâtie, fut fondée par Pierre le Grand.—*Moscou*, 750,000 hab., ancienne capitale, est la ville la plus remarquable ; elle fut brûlée, en 1812, à l'arrivée de Napoléon.

436. *Varsovie*, 460,000 hab., sur la Vistule ; ci-devant cap. de la Pologne.

Odessa, port sur la mer Noire, exporte des blés.

437. Le centre et le sud de la Russie produisent le *blé*, l'orge, le lin, le chanvre, le tabac et la betterave à sucre. On y exploite de grandes *forêts* de sapins et de riches *mines* d'or, de fer, de cuivre et de platine ; ce dernier métal se trouve dans les monts Ours en plus grande abondance que partout ailleurs.

1 Avec ses possessions asiatiques, l'empire russe compte 110,000,000 de sujets sur un territoire de 8,500,000 m. c.



NOTRE-DAME DE PARIS.

LEÇON XLVII.

FRANCE.

Pop.¹, 39,000,000 d'hab.—Sup., 204,000 m. c.

435. La France est séparée de l'Angleterre par la Manche; de l'Espagne par les Pyrénées; et de l'Italie par les Alpes. Elle est montagneuse dans l'est et le sud; le reste forme une partie de la grande plaine du nord de l'Europe.

436. Le climat de la France est doux, agréable et salubre. Son sol est très fertile et fort bien cultivé; il produit en abondance toutes les denrées des zones tempérées.

437. La France fut, avant 1792, un royaume, et depuis, successivement une république, un empire, un royaume, et est actuellement (1894) une république. Les Français professent la religion catholique.

438. Villes.—Paris, 2,400,000 hab., sur la Seine, capitale, est une des plus belles villes du

¹ Avec ses colonies, la France compte 70,000,000 de sujets sur un territoire d'environ 1,200,000 m. c.

monde; elle renferme de belles églises, de magnifiques monuments, des galeries de peinture splendides et des bibliothèques nulle part surpassées. La bibliothèque Nationale contient 1,800,000 volumes et 200,000 manuscrits.

439. Lyon¹, 400,000 hab., sur le Rhône, est remarquable par ses manufactures de soie.—Marseille, 380,000 hab., célèbre par son antiquité, en fut bâtie par les Grecs, 600 ans avant J.-C.—Bordeaux, 240,000 hab., renommée pour ses vins.

440. Ces deux dernières villes, ainsi que le Havre et Rouen, sont des ports de mer.

441. La France est une contrée à la fois agricole, manufacturière et commerçante. Elle produit pour l'exportation des vins, du sucre de betterave, des soieries, des draps, des vêtements confectionnés², etc. Elle importe de la houille, des métaux, des matières textiles: soie, coton, lin et laine, des peaux, du café, et assez souvent du blé, des bestiaux.

LEÇON XLVIII.

BELGIQUE.

Pop., 6,200,000 hab.—Sup., 11,400 m. c.

442. La Belgique est un petit royaume situé au N.-E. de la France; c'est le pays le plus peuplé de l'Europe relativement à son étendue. Ses côtes sont basses, et le sud est montagneux.

443. Le climat y est tempéré et humide.

444. Le gouvernement est une monarchie constitutionnelle. Les Belges professent la religion catholique.

445. La Belgique a été le théâtre de batailles sanglantes; une des plus fameuses est celle de Waterloo, qui a décidé du sort de Napoléon I, en 1815.

446. Villes.—Bruxelles, 480,000 hab., capitale, est une très jolie ville.—Anvers, 220,000 hab., grand port de mer.—Gand, 150,000 hab., et Liège, 145,000 hab., sont des villes renommées.

447. En Belgique, l'agriculture est portée à un très haut point de perfection; on y cultive surtout le lin, le houblon,

¹ Lyon se prononce en une syllabe, et non pas Ly-on. Il en est de même de Rouen.

² Ne dites pas des hardes faites.

coton, le tabac et les graminées. Le fer et le charbon y sont abondants.

Parmi les productions manufacturières, on cite particulièrement les dentelles et les tapis dits de Bruzelles.

HOLLANDE.

Pop., 4,500,000 hab.—Sup., 12,700 m. c.

448. La Hollande, appelée aussi les Pays-Bas, est un petit royaume situé au N.-E. de la Belgique. La dépression du terrain y est telle qu'on est obligé d'entretenir des digues pour empêcher la mer de le submerger.

449. Le climat y est humide et désagréable.

450. Le gouvernement est une monarchie constitutionnelle. La religion dominante est le protestantisme, mais il y a beaucoup de catholiques et de juifs.

451. Villes.—La Haye, 150,000 hab., en est la capitale.—Amsterdam, 420,000 hab., ancienne cap., est la ville la plus considérable.—Rotterdam, 200,000 hab., et Utrecht, 80,000 hab., sont des villes importantes.

452. De sa nature, le sol hollandais est ingrat, mais une agriculture intelligente l'a rendu très fertile. Les cultures sont à peu près les mêmes qu'en Belgique. Les Hollandais s'occupent aussi de l'engraissement des animaux.

LEÇON XLIX.

ALLEMAGNE.

Pop., 50,000,000 d'hab.—Sup., 209,000 m. c.

453. L'empire d'Allemagne est une vaste contrée au centre de l'Europe, s'étendant de la Belgique et de la mer du Nord à l'Autriche; sa surface est généralement unie, mais elle est montagneuse au sud; environ un tiers du pays est couvert de forêts.

454. Le climat y est plutôt froid que chaud, et devient très froid et très humide au nord. Le sol est généralement fertile et très bien cultivé; il renferme de riches mines de houille, de fer et autres métaux.

455. L'Allemagne est le foyer de la religion

protestante; elle domine dans le nord, tandis que la religion catholique est plus généralement professée dans le sud.—L'instruction y est très répandue.

456. L'Allemagne forme un empire fédératif, dont le roi de Prusse est souverain, et dont Berlin est la capitale.

457. Les principaux états que comprend l'Allemagne sont :

I. Le royaume de Prusse, 30,000,000 d'hab.

Villes.—Berlin, 1,600,000 hab., grande et belle ville, capitale du royaume de Prusse et de l'empire allemand.—Breslau, 340,000 hab.—Cologne, 280,000 hab., possède une des plus belles cathédrales du monde.—Aix-la-Chapelle, 100,000 hab., ancienne capitale de l'empire de Charlemagne.

II. Le royaume de Bavière; capitale, Munich, 350,000 hab.

III. Le royaume de Saxe; cap., Dresde, 270,000 hab.

IV. Le royaume de Wurtemberg¹; cap., Stuttgart, 140,000 hab.

V. Le grand-duché de Bade; cap., Carlsruhe, 70,000 hab.

VI. Alsace-Lorraine; cap., Strasbourg, 124,000 habitants.

458. Hambourg, 550,000 hab., port de mer, est la capitale d'un petit état, appelé district de Hambourg.

459. L'industrie de l'Allemagne est très développée, particulièrement dans la métallurgie et l'agriculture. Son commerce est très actif; il exporte surtout de la houille, des ouvrages en fer et en acier, des tissus divers et du sucre de betterave.

LEÇON L.

AUTRICHE-HONGRIE.

Pop., 42,000,000 d'hab.—Sup., 240,000 m. c.

460. L'empire d'Autriche-Hongrie est situé au centre de l'Europe. Sa surface est généralement montagneuse, excepté dans la Hongrie et la Bohême.

¹ Le *w* allemand se prononce comme le *v* français.

461. Le *climat* y est froid dans les régions des montagnes et doux dans les plaines. Le *sol* est assez fertile.

462. Le **gouvernement** est une *monarchie constitutionnelle*. La majorité de la population est *catholique*.

463. L'empire austro-hongrois est formé de deux grandes parties, l'**Autriche** et la **Hongrie**, possédant chacune un gouvernement distinct.

L'Autriche renferme les *royaumes* de **Dalmatie**, de **Galicie** et de **Bohême**.

464. **Villes**.—*Vienne*, 1,300,000 hab., capitale de l'Autriche et de l'empire ; très belle ville, située sur le Danube.

465. *Budapest*, 500,000 hab., cap. de la Hongrie ; formée de deux villes séparées par le Danube. — *Prague*, 200,000 hab. — *Trieste*, 150,000 hab., port de mer.

466. L'*agriculture* austro-hongroise produit des céréales, froment et maïs, du tabac, des vins et la betterave à sucre. Le *sol* renferme des *mines* d'or, d'argent, de cuivre et autres métaux, ainsi que de houille et de sel. Les habitants font l'élevage des *bestiaux* et fabriquent des *tissus* de soie et de laine.

LEÇON LI.

SUISSE.

Pop., 3,000,000 d'hab.—Sup., 16,000 m. c.


467. La *Suisse* est située entre l'Autriche et la France ; c'est un pays très montagneux et qui offre des paysages très pittoresques.

Les montagnes sont couvertes de grandes étendues de glace appelées *glaciers*.

468. Le *climat* y varie avec l'élévation des terrains. Le *sol* y est très fertile dans plusieurs vallées, et produit les fruits et les grains ordinaires des pays tempérés.

469. La Suisse est une *république fédérative*, ou une *confédération* de 22 petits états, appelés *cantons*. Le peuple est industriel et attaché à son pays.

470. **Villes**.—*Berne*, 50,000 hab., capitale fédérale.—*Bâle*, 75,000 hab., principale ville de commerce.—*Genève*, 70,000 hab., sur le lac du même nom ; la ville la plus remarquable dans l'histoire de la Suisse.



LE MONT PILATE, EN SUISSE.

471. L'élevage des *bestiaux* est la principale occupation des habitants de la Suisse ; il se livrent aussi à la fabrication de l'*horlogerie*.

LEÇON LII.

ESPAGNE.

Pop., 18,000,000 d'hab.—Sup., 195,000 m. c.

472. L'*Espagne* est située au S.-O. de la France, dont elle est séparée par les Pyrénées. Sa surface est très inégale ; l'intérieur consiste en vastes plateaux et en montagnes.

473. Le *climat* y est assez tempéré sur les côtes, mais les plateaux sont sujets à de grands froids et à de grandes chaleurs. Le *sol* est généralement bon et fertile, mais l'agriculture laisse à désirer.

474. Le **gouvernement** est une *monarchie constitutionnelle*. Les Espagnols professent la *religion catholique*, qui fut longtemps la seule admise dans le royaume.

475. **Villes**.—*Madrid*, 470,000 hab., capitale, située sur une branche du Tage, vers le milieu

du pays.—*Barcelone*, 260,000 hab., premier port de commerce.—*Valence*, 170,000 hab., surnommée *la Belle*.—*Séville*, 140,000 hab.—*Grenade* et *Cordoue*, remarquables par les ruines moresques qu'elles contiennent.

PORTUGAL.

Pop., 4,700,000 hab.—Sup., 34,200 m. c.

476. Le *Portugal*, est situé à l'ouest de l'Espagne. L'aspect de ce pays ressemble beaucoup à celui de l'Espagne.

477. Le *climat* y est salubre ; le *sol* est fertile.

478. Le **gouvernement** est une *monarchie constitutionnelle*. Les Portugais professent la *religion catholique*.

479. **Villes**.—*Lisbonne*, 260,000 hab., sur le Tage, en est la capitale ; elle fut presque détruite en 1755, par un de ces tremblements de terre auxquels le pays est sujet.—*Oporto*, 110,000 hab., est le principal port de commerce.

480. L'**industrie** et le **commerce** de ces deux pays sont peu florissants. Ils *exportent* surtout des vins et des fruits : raisins, oranges, olives, etc., et du sel. L'Espagne exporte aussi du mercure et du fer.

LEÇON LIII.

ITALIE.

Pop., 30,000,000 d'hab.—Sup., 111,000 m. c.

481. L'*Italie* est située au sud de l'Autriche et de la Suisse. Sa principale partie consiste en une péninsule ayant la forme d'une botte ; elle est comprise entre la Méditerranée et la mer Adriatique. Les îles de *Sicile* et de *Sardaigne* lui appartiennent.

482. Son *climat* est très beau, mais excessivement chaud. Son *sol* est généralement très productif.

483. L'Italie est un *royaume* qui a été formé par la réunion de plusieurs petits états, en particulier ceux de l'*Eglise*, injustement enlevés au Pape. La majorité des habitants sont descendants des anciens Romains. Ils professent la *religion catholique*.

484. L'Italie est remarquable par ses beaux-arts ; la peinture, la sculpture, la musique, y ont fleuri plus que partout ailleurs.

485. **Villes**.—*Rome*, 400,000 hab., est la capitale de l'Italie et du monde chrétien ; elle est la résidence de son chef, notre saint père, le Pape.

486. *Naples*, 500,000 hab., cap. de l'ancien royaume de *Naples*.—*Milan*, 300,000 hab., anc. cap. de la *Lombardie*, très belle cathédrale.—*Venise*, 160,000 hab., anc. cap. de la *Vénétie*, est bâtie sur soixante-et-douze petites îles ; les communications se font par le moyen de bateaux appelés *gondoles*.

487. L'Italie *exporte* de la soie, de l'huile d'olive et des fruits. Son industrie est peu progressive.

LEÇON LIV.

MONTENEGRO, SERBIE, ROUMANIE
et BULGARIE.

488. Le *Monténégro*, la *Serbie*, la *Roumanie* et la *Bulgarie* sont des petits états situés entre l'Autriche-Hongrie, la Russie et la Turquie.—Les trois premiers sont indépendants ; la Bulgarie est une principauté vassale de la Turquie.

489. La *principauté* de *Monténégro*, population 300,000 hab., a pour capitale *Cettinié* ou *Cettigné*, 5,000 hab.

490. Le *royaume* de *Serbie*, pop. 2,000,000 d'hab., a pour cap. *Belgrade*, 30,000 hab., sur le Danube.

491. Le *royaume* de *Roumanie* compte 5,500,000 hab. Sa cap. est *Bukharest*, 220,000 hab.

492. La *Bulgarie* compte 3,000,000 d'hab. Sa capitale est *Sofia* ou *Sophia*, 30,000 hab.

493. Le *Monténégro* et la *Serbie* sont peu productifs.—La *Roumanie* et la *Bulgarie* sont des pays fertiles, qui nourrissent un *bétail* nombreux et produisent abondamment le *maïs* et le *froment*.

LEÇON LV.

TURQUIE.

Pop., 5,000,000 d'hab.—Sup., 65,000 m. c.

494. La *Turquie* est une contrée du sud de l'Europe. Sa surface est alternée de montagnes et de vallées.

495. Son *climat* est sévère dans le nord ; le sud est plus doux, mais très variable. Son *sol* est très fertile, surtout dans la vallée du Danube, mais il est mal cultivé.

496. Son *gouvernement* est monarchique. L'empereur se nomme *grand seigneur* ou *sultan* ; il est en même temps chef de la religion, qui est le *mahométisme*.

497. La Turquie est un empire, dont la Bulgarie et quelques autres pays sont vassaux (voir nos 489, 521, 577, 584.)

498. *Villes*. — *Constantinople*, 880,000 hab., capitale, à l'entrée du Bosphore ; port bien situé.—*Salonique*, 80,000 hab., port de mer.

GRECE.

Pop., 2,200,000 hab.—Sup., 25,000 m. c.

499. La *Grèce*, qui consiste en deux péninsules séparées par le golfe de Lépante, est située au sud de la Turquie ; elle offre de très beaux sites et jouit d'une atmosphère agréable.

500. Le *climat* est tempéré, mais variable, et le *sol* est fertile, mais mal cultivé.

501. Son *gouvernement* est une *monarchie constitutionnelle*. La religion est le rite *grec schismatique*.

502. *Ville*.—*Athènes*, 90,000 hab., située près du golfe d'Egine, capitale ; ville fameuse par ses souvenirs et ses ruines ; elle fut renommée pour ses beaux-arts et sa littérature.

503. La Turquie et la Grèce ont un sol naturellement riche, mais l'agriculture et l'industrie y sont peu prospères. Ces deux pays exportent des *fruits*, et on trouve de fort beaux *marbres* en Grèce.

ASIE.

LEÇON LVI.

GEOGRAPHIE GÉNÉRALE DE L'ASIE.

Population, 810,000,000 d'habitants.
Superficie, 16,000,000 de milles carrés.

504. *Bornes*.—L'Asie est bornée au N. par l'Océan Arctique ;—à l'E., par le Pacifique ;—au S., par l'Océan Indien ;—à l'O., par la mer Rouge, la Méditerranée et l'Europe.—C'est la plus grande des parties du monde.

505. *Iles*.—Dans le *Grand océan*, les îles du Japon ; les îles *Formose* et *Hainan*, appartenant à la Chine ;—dans l'Océan Indien, l'île *Ceylan*, aux Anglais.

506. *Presqu'îles*.—La *Corée*, à l'O. ;—la presqu'île de *Malacca* et le *Décan* (partie méridionale de

l'Hindoustan), au S. ;—l'*Arabie* et l'*Asie Mineure* (partie de la Turquie), à l'O.

507. *Isthme*.—L'isthme de *Suez*, joint l'Asie à l'Afrique.

508. *Caps*.—Le cap *Oriental*, au N.-E. de la Sibérie ;—le cap *Romania*, au sud du Malacca ;—le cap *Comorin*, au sud du Décan.

509. *Montagnes*.—Les monts *Himalayas*, au nord de l'Hindoustan (renfermant le mont *Everest*, 29,000 pieds, le plus haut du globe) ;—les monts *Altai*, en Sibérie ;—l'*Oural* et le *Caucase*, entre l'Asie et l'Europe.

510. L'Asie est remarquable par ses hautes montagnes, les plus élevées du monde, ses vastes plateaux, ses plaines, ses déserts et ses grandes rivières.

511. *Mers*.—Au N., l'Océan *Glacial arctique* ;—à l'E., le *Pacifique*, formant la mer de *Behring*, la



ANIMAUX DE L'ASIE.

1, Lion, lionne ; 2, éléphants ; 3, tigres ; 4, panthère ; 5, dromadaire (à une bosse), chameau (à deux bosses) ; 6, rhinocéros ; 7, flamants ; 8, calao ; 9, perroquets ; 10, paon ; 11, argali (mouton) ; 12, singe ; 13, serpent à lunettes ; 14, python ; 15, porc-épic.

mer d'*Okhotsk*, la mer du Japon, la mer Jaune et la mer de Chine ; — au S., l'Océan Indien, formant la mer d'Arabie et la mer Rouge ; — à l'O., la Méditerranée, la mer Noire et la mer Caspienne.

512. **Golfes.** — Le golfe de *Siam*, dans l'Indo-Chine ; — le golfe de *Bengale* ; — le golfe *Persique*, entre la Perse et l'Arabie.

513. **Détroits.** — Le détroit de *Behring*, entre l'Asie et l'Amérique ; — le détroit de *Malacca*, entre la presqu'île de Malacca et l'île de Sumatra ; — le détroit de *Bab-el-Mandeb*, entre l'Arabie et l'Afrique ; — les *Dardanelles* et le *Bosphore*, entre l'Asie et l'Europe.

514. **Fleuves.** — L'*Obi*, la *Léna*, en Sibérie ; — l'*Hoang-Ho* (fleuve Jaune), le *Yang-tse-Kiang* (fleuve Bleu), en Chine ; — le *Gange* et l'*Indus*, dans l'Indoustan.

515. **Climat.** — Le climat de l'Asie est très varié ; ses côtes septentrionales et ses plateaux du centre sont froids et peu habités ; les régions de la Chine orientale et des

Indes sont humides, chaudes et très peuplées ; l'Asie occidentale est plus sèche et moins peuplée.

516. **Productions.** — Les productions de l'Asie sont importantes en espèces minérales : or, platine, pierres précieuses ; — en espèces végétales : riz, thé, mûrier, cotonnier, légumes ; — et en espèces animales : singes, tigre royal, éléphant des Indes, chameau et dromadaire d'Arabie, renne de Sibérie, ver à soie, paon, etc.

517. **Races humaines.** — Sa population, qui excède la moitié de celle de toute la terre, comprend trois races distinctes : la race blanche, occupant l'ouest, la race jaune et la race brune qui occupent le centre et l'est.

518. **Gouvernements. Religions.** — Les peuples sont opprimés par leurs gouvernements, presque tous despotiques. L'Asie est le siège de toutes les religions : la plus grande partie des populations est idolâtre, un grand nombre professe le mahométisme ; les catholiques n'y sont pas nombreux comparativement.

519. L'Asie est surtout remarquable comme ayant

été le berceau du genre humain et de la religion chrétienne.

520. **Divisions.**—Les principales divisions politiques de l'Asie sont : la Turquie d'Asie, l'Arabie, la Perse, l'Inde ou Hindoustan, la Cochinchine, le royaume d'Annam, le royaume de Siam, la Chine, le Japon, la Sibérie.

LEÇON LVII.

TURQUIE D'ASIE.

Pop., 17,000,000 d'hab.—Sup., 700,000 m. c.

521. La *Turquie d'Asie*, autrefois *Asie Mineure*, est une partie de l'empire Ottoman, dont Constantinople est la capitale (voir no 497). Elle est située dans l'ouest de l'Asie et diversifiée par des montagnes, des vallées et des plaines.

522. Son *climat* est varié. Son *sol* est fertile, mais mal cultivé.

523. Sa **population** est composée de Juifs, de Grecs, de Turcs et d'Arabes.

524. La *Palestine*, ou Terre-Sainte, qui fait partie de la Turquie, est le pays où ont eu lieu les événements rapportés dans l'Écriture sainte. On y trouve *Bethléem*, où Notre-Seigneur Jésus-Christ est né; *Nazareth*, où il a vécu, et *Jérusalem*, où il est mort. C'est là aussi qu'est la mer Morte, occupant l'emplacement où étaient autrefois les villes de *Sodome* et de *Gomorrhé*.

525. **Villes.**—*Smyrne*, 160,000 hab., en est le principal port.—On y trouve aussi les ruines de *Babylone* et de *Ninive*.—*Tyr* et *Sidon*, autrefois si célèbres pour leur commerce, ne sont plus que de pauvres villages.

526. La Turquie exporte des fruits, de l'opium, de l'huile d'olive et des éponges.

LEÇON LVIII.

ARABIE.

Pop., 6,000,000 d'hab.—Sup., 1,000,000 de m. c.

527. L'Arabie est une péninsule située dans le S.-O. de l'Asie; la plus grande partie est déserte,

faute de rivières permanentes. Le *climat* y est chaud et sec. Le mont *Sinaï* est situé au nord de la mer Rouge.

528. Les Arabes, descendants d'Ismaël, sont divisés en familles ou tribus.

Les habitants du désert se nomment *Bédouins* ils sont nomades et vivent sous des tentes.

529. **Villes.**—*Mascate*, ville florissante.—*La Mecque*, ville sainte et lieu de pèlerinage pour les mahométans : Mahomet y est né.—*Médine* possède le tombeau de Mahomet.

530. Le *sol* est stérile, excepté sur les côtes de la mer Rouge, où il est assez fertile; les *produits* de l'Arabie sont : le café, les dattes, l'indigo, les épices, la gomme arabique, etc.

PERSE.

Pop., 8,000,000 d'hab.—Sup., 600,000 m. c.

531. Le royaume de *Perse* est situé à l'E. de la Turquie. C'est une contrée diversifiée de groupes de collines, de chaînes de montagnes et de déserts salés et sablonneux, d'où résulte un *climat* varié.

532. Le *gouvernement* est despotique; le roi se nomme *schah*. Les Perses professent le *mahométisme*.

533. **Villes.**—*Téhéran*, 200,000 hab., capitale actuelle.—*Ispahan*, ancienne capitale.

534. La Perse exporte de la soie, des tapis, des armes blanches et des fruits.

LEÇON LIX.

HINDOUSTAN.

Pop., 280,000,000 d'hab.—Sup., 1,300,000 m. c.

535. L'*Inde*¹, ou *Hindoustan*, est bornée par les monts Himalayas, le golfe de Bengale et la mer d'Arabie. Elle forme un *empire*, qui est dépendant de l'Angleterre.

536. Le *climat* est très chaud, excepté dans les régions montagneuses, où il est assez tempéré.—La plupart des Hindous sont *idolâtres*.

¹ On désigne sous le nom générique des *Indes* l'Hindoustan, l'Indo-Chine et les petits pays adjacents.

chau. 537. Villes. —
la me *Calcutta*, 850,000
ab., capitale, — et
sor *Bombay*, 800,000
ab.; ce sont des
vins ports de mer.

538. Birmanie. —
L' Hindoustan se
— L. attache la Birma-
pou ne, petit état situé
édin. au S. de la Chine et
a me soumis à l'Angle-
nt: terre.
e, etc.

Sa capitale est
Mandalai, 180,000
habitants.

539. L'Inde exporte
e la du blé, du café, de l'o-
iper caum, du coton, de la
sert. pie et de la laine.

INDO-CHINE FRANÇAISE.

Pop., 17,000,000 d'hab.
mi. Sup., 105,000 m. c.

540. L'Indo-Chine
française est bornée
ale au N., par la Chine;
mes à l'E., par la mer de la Chine, et à l'O., par le royaume
de Siam.

Elle est sous la domination de la France.


541. Elle est formée surtout de la *Cochinchine*,
cap. *Saïgon*, et du royaume d'*Annam*, cap. *Hué*.

ROYAUME DE SIAM.

Population, 6,000,000 d'hab.

542. Le Royaume de *Siam* est situé à l'O. de
l'Indo-Chine française. — Il est indépendant.
Sa capitale est *Bangkok*, 500,000 hab.

543. Ces deux pays exportent du riz, du sucre et des épices.



PÊCHE AUX PERLES, SUR LES COTES DU GOLFE PERSIQUE.

LEÇON LX.

EMPIRE CHI- NOIS.

Pop., 400,000,000 d'h.
Sup., 4,400,000 m. c.

544. L'empire chi-
nois comprend, outre
la Chine propre, plu-
sieurs vastes con-
trées, dont les prin-
cipales sont : la
Mongolie, la *Mand-
chourie*, le *Thibet* et
la *Tartarie*; ces pro-
vinces sont peu con-
nues.

545. Le climat,
vers le nord, est plus
froid qu'en Europe
aux mêmes latitu-
des; le centre est
tempéré, et le midi,
passablement chaud.
Le sol est très bien
arrosé, fertile et bien
cultivé.

546. Le gouvernement de la Chine est monar-
chique absolu, mais d'un caractère patriarcal. Le
bouddhisme est la religion dominante.

547. Parmi les curiosités de la Chine, on cite la
grande muraille de 1,500 milles de longueur, cons-
truite pour protéger le pays contre les Tartares.

548. Villes. — *Pékin*, 1,000,000 d'hab, capitale.
— *Canton*, 1,600,000 hab., et *Shanghai*, 350,000
hab., sont les principaux ports de mer.

549. La Chine envoie à l'étranger des quantités énormes
de thé. Elle exporte aussi de la soie, du coton, de la porce-
laine et de la cire.

LEÇON LXI.

JAPON.

Pop., 40,000,000 d'hab.— Sup., 150,000 m. c.

550. Le Japon est situé à l'est de la Chine ; il est composé de plusieurs îles, dont les principales s'appellent *Nippon* et *Kiou-Siou*.

551. Son climat est variable, très froid au nord. Les trombes ou siphons sont communs dans les mers. Son sol est très bien cultivé.

552. Son gouvernement est une monarchie absolue ; l'empereur s'appelle *mikado*. Les Japonais professent l'idolâtrie ou le *bouddhisme*.

553. Villes.—*Tokio*, 1,400,000 hab., capitale, située à l'E. de l'île *Nippon*.—*Yokohama*, 120,000 hab., port de mer, entrepôt des Européens.

554. Le Japon exporte de la soie, du thé, du camphre, du cuivre et de la porcelaine.

LEÇON LXII.

SIBIRIE.

Pop., 10,000,000 d'hab.— Sup., 6,000,000 de m. c.

555. La Sibirie appartient à la Russie ; elle

occupe tout le nord de l'Asie, et n'est pour ainsi dire qu'une vaste plaine très froide.

556. *Irkoutsk*, 40,000 hab., dans le sud, résidence d'agrément ;—et *Tobolsk*, 20,000 hab., dans l'ouest, sont les principales villes.

557. Il y a des mines d'or, d'argent et de platine dans les monts Ourals et les monts Altaï ; mais les principaux articles de commerce sont les belles fourrures de zibeline et d'hermine.

TURKESTAN,

AFGHANISTAN et BELOUTCHISTAN.

Pop., 8,500,000 hab.— Sup., 550,000 m. c.

558. Le Turkestan, l'Afghanistan et le Beloutchistan sont de petits états situés entre la Sibirie, l'Inde et la Perse. Ils sont vassaux de puissances étrangères. La plupart des habitants sont chasseurs ou pâtres et mènent une vie errante ; cependant un grand nombre d'entre eux demeurent dans les villes.

559. Villes.—*Boukhara*, 100,000 hab., cap., et *Samar-kand* sont les principales villes du Turkestan.

Kaboul, 60,000 hab., est la cap. de l'Afghanistan,—et *Kelat*, 15,000 hab., celle du Beloutchistan.

560. Ces pays exportent des produits agricoles, des bestiaux et des soieries. Le commerce s'y fait par caravanes.

AFRIQUE.

LEÇON LXIII.

GEOGRAPHIE GENERALE DE L'AFRIQUE.

Population, 140,000,000 d'habitants.

Superficie, 12,000,000 de milles carrés.

561. Situation.—L'Afrique est une des cinq parties du monde ; elle est située au S. de l'Europe, dont elle est séparée par la Méditerranée ; elle est jointe à l'Asie par l'isthme de Suez.

562. Îles.—Dans l'océan Indien, les îles de *Madagascar* et de la *Réunion*, aux Français, et l'île *Maurice*, aux Anglais ;—dans l'Atlantique, les

Canaries, aux Espagnols ; les îles du *Cap-Vert* et les *Madère*, aux Portugais.

563. Caps.—Le cap *Blanc*, au N. de la Tunisie ;—le cap *Guardafui*, à l'E. de l'Afrique ;—le cap de *Bonne-Espérance*, au S. ;—le cap *Vert*, à l'O. de la *Sénégalie*.

564. Montagnes.—L'*Atlas*, dans le nord du continent ;—les monts *Kongs*, dans la Guinée septentrionale, —les monts de l'*Abyssinie* ;— les monts *Neigeux*, dans le sud.

565. Désert.—Au sud des états barbaresques (voir leçon LXIV), se trouve un grand désert appelé le *Sahara*. Il est formé de plaines sablonneuses,



ANIMAUX DE L'AFRIQUE.

1, Hippopotame ; 2, buffle ; 3, lion ; 4, chacal ; 5, gorille ; 6, lémur ; 7, babouin ; 8, chimpanzé ; 9, martin-pêcheur ; 10, girafe ; 11, zèbre ; 12, éléphant ; 13, dromadaire ; 14, coudou ; 15, gazelle ; 16, gnou ; 17, antilope oryx ; 18, autruche ; 19, antilope noire ; 20, rhinocéros ; 21, babiroussa ; 22, phacochère ; 23, crocodile.

arides et salées, de collines rocheuses et nues. On trouve des points fertiles et habités, appelés *oasis*.

566. **Golfes.**—Le golfe de la *Sidre*, dans la Méditerranée ;—le golfe d'*Aden*, à l'entrée de la mer Rouge ;—le golfe de *Guinée*, dans l'Atlantique.

567. **Détroits.**—Le détroit de *Gibraltar*, entre l'Afrique et l'Espagne ;—le détroit de *Bab-el-Mandeb*, à l'entrée de la mer Rouge ;—le canal de *Mozambique*, à l'O. de l'île de Madagascar.

568. **Fleuves.**—Le *Nil*, arrose l'Égypte et la rend fertile ;—le *Sénégal* et la *Gambie*, en Sénégambie ;—le *Niger*, en Guinée ;—le *Congo*, dans l'Afrique centrale ; — l'*Orange*, dans le sud ;—le *Zambèze*, dans le Mozambique.

569. **Lacs.**—Le lac *Tchad*, dans le Soudan ;—les lacs *Albert*, *Victoria*, *Tanganika* et *Nyassa*, dans l'Est.

570. **Climat.**—Le climat de l'Afrique est très chaud et généralement très sec. Il est ordinairement malsain sur les côtes orientale et occidentale. Sur la côte septentrionale et à l'extrémité australe, il est tempéré.

571. **Productions.**—*Minéraux.* On trouve de la poudre d'or, en différents endroits, et des diamants, dans le bassin de l'*Orange*.—*Végétaux.* Les végétaux les plus remarquables et les plus utiles sont : le baobab, le palmier,

l'oranger, le dattier, le caféier, etc.

572. Les *animaux* les plus remarquables sont : le lion, le rhinocéros, l'hippopotame, la girafe, l'éléphant ; on compte plus de 60 espèces d'antilopes. Les serpents abondent dans les forêts, et les crocodiles dans les rivières. Les insectes s'y trouvent en abondance ; les fourmis et les sauterelles y font de grands dégâts.

573. **Population.**—Les Africains du nord sont des *blancs*. La plupart des autres sont des *négres* sauvages.

574. Il n'y a guère d'états importants en Afrique. La plus grande partie du continent connue, appartient à des puissances européennes. Les *gouvernements* indigènes sont despotiques. La *religion mahométane* domine dans le nord ; ailleurs les naturels sont adonnés à l'idolâtrie la plus dégradante.

575. L'intérieur de l'Afrique n'est que bien imparfaitement connu ; ce qui est dû à son climat brûlant et malsain, et au manque de baies et de rivières navigables.

576. **Divisions.**—Les principales contrées de l'Afrique sont : les *états barbaresques*, l'Égypte, l'Abyssinie, le Somaul, le Zanguebar, le Mozambique, la Cafrerie, l'île de Madagascar, la colonie du Cap, la Guinée méridionale, la Guinée septentrionale, le Sénégal, le Soudan et le Congo.

LEÇON LXIV.

ETATS BARBARESQUES.

Superficie totale, 980,000 m. c.

577. La *Barbarie* est située sur l'Atlantique et la Méditerranée ; son nom lui vient des habitants primitifs, nommés *Berbères*, qui habitent maintenant les monts Atlas, par lesquels la contrée est traversée.

578. Elle comprend les états suivants :

I. Le **Maroc**, 7,500,000 hab., indépendant ; — capitale, *Fcz*, 100,000 hab. ;

II. L'**Algérie**, 3,800,000 hab., appartenant à la France ; — cap., *Alger* ;

III. La **Tunisie**, 1,500,000 hab., dépendant de la France ; — cap., *Tunis* ;

IV. Le **Tripoli**, 1,000,000 d'hab., dépendant de l'empire turc ; — cap., *Tripoli*.

579. Les *Mores* ou *Maures* habitent les villes et les villages, mais les *Arabes* mènent une vie errante.

580. Les états barbaresques exportent des bestiaux, des cuirs (le *maroquin* du Maroc), des laines et des fruits : figues, dattes, etc.

LEÇON LXV.

EGYPTE.

Pop., 7,000,000 d'hab. — Sup., 400,000 m. c.

581. L'*Egypte* est située sur la Méditerranée, dans le nord de l'Afrique. Son histoire primitive est en partie rapportée dans la sainte Bible. Elle est fameuse par ses antiquités, dont on trouve encore de magnifiques ruines.

582. Le *climat* y est extrêmement chaud. Le *sol* y est rendu très fertile par les débordements du Nil.

583. Les *habitants* sont des Arabes, des Coptes, des Turcs, des Juifs, des Arméniens et des Grecs.

584. Cette contrée appartient à la Turquie et est gouvernée par un *khélive*. La *religion mahométane* y domine.

585. La *Nubie*, située entre l'Abyssinie et l'Egypte, appartient à ce dernier pays.

586. **Villes.**—*Le Caire*, 380,000 hab., capitale, est bâtie sur le Nil.—*Alexandrie*, 230,000 hab., est la principale place de commerce.—*Thèbes*, renferme des ruines fameuses.

587. L'isthme de Suez est percé par un *canal* qui permet aux vaisseaux de passer de la Méditerranée à la mer Rouge. — L'*Egypte* exporte du coton, du blé, du sucre et des fruits.

ABYSSINIE.

Pop., 5,000,000 d'hab.—Sup., 200,000 m. c.

588. L'*Abyssinie* est située sur la mer Rouge, au sud de l'Egypte. Son *climat* est tempéré.

589. Elle forme un *empire* dont le *gouvernement* est *despotique*.

590. *Gondar*, 6,000 hab., est sa capitale.

591. L'Abyssinie exporte des laines, du miel, du café et du blé.

LEÇON LXVI.

AFRIQUE ORIENTALE.

592. L'*Afrique orientale* comprend le littoral de l'Océan Indien depuis le Bab-el-Mandeb jusqu'à la Cafrerie.

593. On y trouve, en commençant par le nord :

I. Le **Somaul** ou pays des *Somaulis*, ville principale *Berbéra* ;

II. Le **Zanguebar**, appartenant en partie aux Anglais et aux Allemands, ville principale *Zanzibar* 70,000 hab., sur une île du même nom ;

III. Le **Mozambique**, appartenant aux Portugais ; cap., *Mozambique* ;

IV. La **Cafrerie** ou pays des *Cafres*, appartenant en partie aux Anglais et aux Portugais.

594. **Madagascar** est une grande île à l'est de l'Afrique, séparée de la terre ferme par le canal de Mozambique. *Tananarive* en est la capitale. Ses habitants s'appellent *Malagaches* ou *Malgaches*.

595. Ces pays exportent de l'ivoire, des peaux, de la cire et du caoutchouc.

LEÇON LXVII

AFRIQUE AUSTRALE.

596. L'*Afrique australe* comprend :

I. La république du **Transvaal**, cap. *Pretoria* ;

II. La république de l'**Orange**, cap. *Bloemfontein* ;

III. La colonie de **Natal**, cap. *Pietermaritzbourg* ;

IV. La colonie du **Cap**, cap. *le Cap (Cape Town)*, 1,000 hab. ;

V. La **Hottentotie allemande**.

597. La république du **Transvaal**, les colonies de **Natal** et du **Cap**, dépendent de l'Angleterre. Une grande partie des habitants sont d'origine européenne : Anglais et Hollandais.

598. L'*Afrique australe* exporte des laines, des peaux, du miel vivant, des plumes d'autruche et des diamants des bords de l'Orange).

LEÇON LXVIII.

AFRIQUE OCCIDENTALE.

599. L'*Afrique occidentale* se divise en trois régions principales : la *Guinée méridionale*, la *Guinée septentrionale* et la *Sénégalie*.

600. La *Guinée méridionale* comprend :

I. les colonies portugaises de **Benguela**, de **Angola** et du **Congo portugais** ;

II. le **Gabon-Congo** ou **Congo français** ;

III. le **Cameron**, appartenant aux Allemands.

601. La *Guinée septentrionale* comprend :

I. Les royaumes du **Dahomey** et de l'**Achanti** ;

II. La **côte d'Or**, la **côte d'Ivoire**, la **côte des esclaves**, appartenant aux Anglais ;

III. La **Libérie**, pays libre ;

IV. Le **Sierra-Leone**, aux Anglais.

602. La *Sénégalie* comprend principalement :

I. La **Gambie**, aux Anglais ;

II. Le **Sénégal**, aux Français.

603. **Villes**.— Parmi les principales villes de l'*Afrique occidentale*, il faut citer :

Saint-Paul, cap. du **Loanda** ;

Mourovia, cap. de la **Libérie** ;

Freetown, cap. du **Sierra-Leone** ;

Saint-Louis, cap. du **Sénégal**.

604. L'*Afrique occidentale* exporte de la poudre d'or, du poivre, de la gomme¹, du caoutchouc et de l'ivoire.

LEÇON LXIX.

AFRIQUE CENTRALE.

605. L'*Afrique centrale* comprend : le *Sahara*, le *Soudan* et le *Congo*.

606. Les *oasis* du **Sahara** renferment une population d'environ 4,000,000 d'hab.

607. Le **Soudan** est la partie de l'*Afrique intérieure* située au sud du **Sahara**.—Il est divisé en plusieurs petits états, dont le principal est le *Soudan égyptien*, ou les *Etats du Mahdi*, capitale *Kartoum*.

608. Le **Congo libre** est formé du bassin du fleuve **Congo** ; sa capitale est *Boma*.

609. L'*Afrique centrale* exporte de la poudre d'or, de la gomme, de l'ivoire et des plumes d'autruche.

¹ *Gomme arabique*, qui découle d'un arbre appelé *acacia*.



ANIMAUX DE L'OcéANIE.

1 et 2, Kangaroos géants ; 3, wombat ; 4, mouton ; 5, kangaroo-rat ; 6, ornithorhynque ; 7, chat sauvage ; 8, dragon volant ; 9, menure ; 10, perroquet ; 11, faisan ; 12, oiseau de paradis ; 13, casoar ; 14, aptéryx ; 15, cygne noir ; 16, émon.

OcéANIE.

LEÇON LXX.

GEOGRAPHIE GÉNÉRALE DE L'OcéANIE.

Population, 40,000,000 d'habitants.
Superficie, 4,600,000 milles carrés.

610. **Bornes.**—L'Océanie s'étend à l'O., jusque vers l'Asie et l'océan Indien ; à l'E., jusque vers l'Amérique ; au S., jusqu'au pôle austral.

611. **Divisions.**—On divise généralement l'Océanie en trois grandes parties : la *Malaisie*, l'*Australie* et la *Polynésie* (voir leçons suiv.).

612. **Montagnes.**—Les montagnes *Bleues*, dans l'Australie.—Les *volcans* sont nombreux dans les îles Malaises, qui sont très montagneuses.

613. **Golfe.**—Le plus remarquable est le golfe de *Carpentarie*, au nord de l'Australie.

614. **Détroits.**—Le détroit de la *Sonde*, entre Sumatra et Java ;—le détroit de *Torrès*, entre l'Aus-

tralie et la Nouvelle-Guinée ;—le détroit de *Bass*, entre la Tasmanie et l'Australie.

615. **Climat.**—Le climat de l'Océanie est généralement *tempéré et humide*, à cause des brises de la mer, qui viennent constamment rafraîchir les terres.

616. **Productions.**—Les productions naturelles sont les mêmes dans la Malaisie que dans les Indes asiatiques ; on cite comme espèces propres l'orang-outang de Bornéo et de Sumatra, le muscadier et le giroflor des Moluques. — L'Australie est riche en *mines* d'or, de cuivre et de houille, et possède des espèces *animales* particulières : kangaroo, ornithorhynque¹, oiseaux du paradis, aptéryx ou oiseau sans ailes.

617. **Races humaines.**—L'Océanie est peuplée par la *race brune*, surtout dans la Malaisie. L'Australie a des *noirs* indigènes et sauvages, et une nouvelle population coloniale qui se compose de *blancs* venus d'Europe.

618. **Religion.**—Les Malais sont généralement *mahométans* ; les noirs sont *païens*, et les blancs sont *chrétiens*.

¹ On donne souvent le nom de *Micronésie* à la partie de la Polynésie qui est située au nord de l'équateur.

¹ *Ornithorhynque*, petit quadrupède dont le museau ressemble à un bec de canard.

619. Condition politique.—L'Océanie presque entière appartient à des puissances européennes : Malaisie aux *Hollandais* et aux *Espagnols* tout, et l'Australie aux *Anglais*.

LEÇON LXXI.

MALAISIE.

620. Les colonies hollandaises de la Malaisie ont une population de 28,000,000 d'hab., et comprennent les îles de *Sumatra* et de *Java* (îles de la *Sonde*), de *Bornéo*, de *Célèbes* et les *Moluques*.

621. Ville.—*Batavia*, 100,000 hab., dont 4,000 Européens, capitale et port de mer, située sur l'île de *Java*.

622. Exportation de thé, de café, de sucre, d'étain et d'ivoires (des *Moluques*).

623. Les colonies espagnoles de la Malaisie ont une population de 9,000,000 d'hab., et sont situées sur les îles *Philippines*.

624. Ville.—*Manille*, 200,000 hab., cap., port de mer.

625. La Malaisie espagnole exporte du sucre, du tabac et des cigares, des cordages, des perles, etc.

LEÇON LXXII.

AUSTRALASIE.

626. Les colonies anglaises de l'Australasie ont une population de 4,200,000 hab., et comprennent l'*Australie* ou continent australien et les îles de la *Tasmanie* et de la *Nouvelle-Zélande*.

627. L'Australie est divisée en cinq états :

I. La colonie de *Victoria* ; cap., *Melbourne*, 1,000,000 hab., port le plus commerçant de l'Océanie ;

II. La *Nouvelle-Galles du Sud* ; cap., *Sydney*, 1,000,000 hab. ;

III. Le *Queensland* ; cap., *Brisbane*, 40,000 hab. ;

IV. L'*Australie méridionale* ; cap., *Adélaïde*, 80,000 hab. ;

V. L'*Australie occidentale* ; cap., *Perth*, 7,000 habitants.

628. La *Tasmanie* a pour cap. *Hobart-Town*, 35,000 hab. ;—et la *Nouvelle-Zélande*, *Wellington* ;—ville principale, *Auckland*, 50,000 hab.

629. Les colonies anglaises de l'Australasie élèvent de nombreux troupeaux de vaches à lait et de moutons dont elles exportent les produits : peaux, laines, viandes, beurre, fromage. Elles exportent aussi de l'or.

630. Outre le continent et les îles déjà nommées, l'Australasie comprend plusieurs autres îles, dont les principales sont la *Nouvelle-Guinée* ou *Papouasie*, les *Nouvelles-Hébrides* et la *Nouvelle-Calédonie*.

LEÇON LXXIII.

POLYNÉSIE.

631. La *Polynésie* comprend toutes les îles de l'Océan Pacifique qui ne sont pas incluses dans les deux divisions précédentes.

632. Un grand nombre de ces îles sont l'ouvrage d'animalcules qui se créent de petites loges calcaires et forment des îlots, qui se couvrent ensuite de sable, d'herbes marines, et deviennent ainsi habitables.

633. L'état libre le plus important de la Polynésie est celui d'*Hawaii* ou des îles *Sandwich*, 85,000 hab. ; cap., *Honolulu*, port très fréquenté, se trouvant sur la route de *San-Francisco* à la *Chine*.

634. Les autres principaux groupes d'îles sont : les îles *Marquises* et *Taïti*, aux Français ; les îles *Fidji*, aux Anglais ; les îles des *Amis*, de la *Société*, *Samoa* ou des *Navigateurs* et les *Carolines*, dont les habitants sont d'habiles marins.



LA TERRE.

RESUME.

Hémisphères.—Occidental, oriental.
Parties du monde.—Amérique (septentrionale et méridionale), Europe, Asie, Afrique, Océanie.
Iles.—**HÉMISPHERE OCCIDENTAL :** Groënland, Terre-Neuve, Antilles, etc.
HÉMISPHERE ORIENTAL : Iles du Japon, Philippines, Nouvelle-Guinée, Tasmanie, Célèbes, Bornéo, Java, Sumatra, Madagascar, Britanniques, Isthmes.—Pauane, Suez.
Caps.—**HÉM. OCC. :** Barrow, Farewell, Gallinas, St-Roch, Horn, Blanc.
HÉM. ORIENT. : Nord, Nord-Est, Comorin.
Montagnes.—**HÉM. OCC. :** monts Rocheux, Cordillères des Andes.
HÉM. ORIENT. : Ourals, Altaï, Hymalayas, Atlas, Alpes, Caucase.
Océans.—Atlantique, Pacifique, Indien, Arctique, Antarctique.
Mers.—**HÉM. OCC. :** d'Hudson, des Antilles.—**HÉM. ORIENT. :** de Chine, d'Arabie, Rouge, Méditerranée, Noire, Caspienne, du Nord, Baltique.
Golfes et Baies.—**HÉM. OCC. :** Baffin, St-Laurent, Mexique, Californie.
Détroits.—**HÉM. ORIENT. :** de Bengale, Persique, de Guinée, de Gascogne, Malacca, Bab-el-Mandeb, Mozambique, Gibraltar, Pas de Calais.
Fleuves.—**HÉM. OCC. :** Mackenzie, St-Laurent, Mississippi, Rio Grande, Orénoque, Amazone.—**HÉM. ORIENT. :** Obi, Iénisséï, Léna, Amour, Yang-tse-Kiang ou Bleu, Congo, Niger, Nil, Volga, Oural.

Les cinq parties du monde.

	Population.	Superficie m. c.	Pop. rel. 1
Amérique.....	125,083,239	15,654,883	8
Europe.....	362,700,000	3,762,600	97
Asie.....	810,000,000	16,025,000	55
Afrique.....	139,950,000	12,134,200	11
Océanie.....	42,000,000	4,115,300	10
Totaux.....	1,470,733,239	51,691,983	

1 Population relative, nombre d'habitants par mille carré.

Les douze plus grandes villes du globe.

	Populat.	Populat.	
Londres, Angleterre.....	4,400,000	Vienne, Autriche.....	1,300,000
Paris, France.....	2,500,000	Philadelphie, Etats-Unis.....	1,100,000
New-York, Etats-Unis.....	1,800,000	Chicago, Etats-Unis.....	1,100,000
Canton, Chine.....	1,600,000	St-Petersbourg, Russie.....	1,000,000
Berlin, Allemagne.....	1,600,000	Pékin, Chine.....	1,000,000
Tokio, Japon.....	1,400,000	Constantinople, Turquie.....	880,000

EXERCICES.

1. Que représente cette carte ?
2. Comment appelle-t-on la partie de droite ?—Celle de gauche ?
3. Montrez le pôle arctique.—Le pôle antarctique.
4. Montrez le tropique du Cancer.—Celui du Capricorne.
5. Montrez la zone torride.—Les zones tempérées.
6. Montrez les méridiens.—Montrez les parallèles.
7. Montrez l'équateur.—Le premier méridien.
8. Montrez des îles.—Des presque-îles.
9. Montrez l'ancien continent.—Le nouveau continent.
10. Où est placé le nord sur la carte ?—Le sud ?—L'ouest ?
11. Montrez l'Amérique septentrionale.—L'Europe.—L'Asie.—L'Océanie.
12. Laquelle de ces contrées est la plus au nord ? A.
13. La plus au sud ? A.—La plus à l'est ? A.
14. Quelle partie du monde est à l'est de l'Europe ? A.
15. Montrez le Canada.—Les Etats-Unis.—L'Australie.
16. Quel océan est situé entre l'Amérique et l'Europe ? A.
17. —Entre l'Amérique et l'Asie ? P.
18. Quel océan se trouve au nord de l'Europe et de l'Asie ? A.
19. Montrez le principal golfe de l'Amérique septentrionale. M.
20. Quelle mer sépare l'Europe de l'Afrique ? M.
21. Quel détroit sépare l'Asie de l'Amérique ? B.
22. Quel isthme unit les deux Amériques ? P.
23. Quel cap est situé à l'ouest de l'Amérique méridionale ? B.
24. Quel cap se trouve au sud de l'Afrique ? B.-E.
25. Quel cap est situé au N. de l'Europe ? N.—Au S. de l'Asie ? C.
26. Quelles montagnes sont situées à l'O. de l'Amérique septentrionale ? R.—A l'O. de l'Amérique méridionale ? A.
27. Quelles montagnes séparent l'Europe de l'Asie ? O.
28. Montrez, dans l'Asie, les monts Himalayas.
29. Quelles eaux traverserait-on et quel cap doublerait-on pour aller de New-York à San-Francisco ? O. A., c. H., o. P.—Du Canada en Australie ? O. A., B.-E., o. P. ou o. A., c. H., o. P.



- Reference to United States
- 1 Maine
 - 2 New Hampshire
 - 3 Vermont
 - 4 Massachusetts
 - 5 Rhode Island
 - 6 Connecticut
 - 7 New York
 - 8 New Jersey
 - 9 Pennsylvania
 - 10 Delaware
 - 11 Maryland
 - 12 Ohio
 - 13 Michigan
 - 14 Indiana
 - 15 Illinois
 - 16 Wisconsin
 - 17 Iowa
 - 18 Missouri
 - 19 Kentucky
 - 20 Virginia & West Va.
 - 21 North Carolina
 - 22 South Carolina
 - 23 Tennessee
 - 24 Arkansas
 - 25 Louisiana
 - 26 Mississippi
 - 27 Alabama
 - 28 Georgia
 - 29 Florida
 - 30 Minnesota
 - 31 Dakota
 - 32 Nebraska
 - 33 Kansas
 - 34 Texas
 - 35 New Mexico
 - 36 Colorado
 - 37 Wyoming
 - 38 Montana
 - 39 Oregon
 - 40 Utah
 - 41 Idaho
 - 42 California
 - 43 Nevada
 - 44 Utah
 - 45 Arizona

NORTH AMERICA.

British Miles
 0 100 200 300 400 500 600 700 800 900 1000

AMÉRIQUE SEPTENTRIONALE.

49

RESUME.

ORNES.—Océan Arctique, océan Atlantique, mer des Antilles, golfe du Mexique, océan Pacifique.

ILES.—Groënland, Islande, Terre-Neuve, Prince-Edouard, Antilles (Cuba, Haïti, Porto-Rico, Jamaïque, etc.), *Vancouver, Reine-Charlotte.*

ÉTATS.—Nouvelle-Ecosse, Floride, Yucatan, Vieille-Californie (ou Basse-Californie), *Alaska.*

POSTES.—*Barrow, Farewell, Charles, Race, Sable, Cod, Hatteras, Sable, San-Lucas, Mendocino.*

MONTAGNES.—Alléghany, *Sierra Madré, Sierra Nevada, Cascades, Rocheuses, Popocateptl.*

MERS ET MERS.—Arctique, Baffin et Hudson (mers ou baies), Atlan tique, Antilles, du Mexique (mer ou golfe), Pacifique, Behring.

BAIES ET BAIES.—St-Laurent, *Fundy, de Californie.*

DÉTROITS.—Behring, *Davis, Hudson, Belle-Isle, Floride, Yucatan.*

RIVIÈRES.—Mackenzie, St-Laurent, Mississipi, *Rouge, Arkansas, Ohio, Missouri, Rio Grande, Colorado, Colombie.*

LACS.—Des Ours, des Esclaves, *Winnipeg, Supérieur, Michigan, Huron, Erié, Ontario.*

Divisions.

CONTRÉES.	Population.	Superficie m. c.	Pop rel.	Capitales.
Groënland....	10,000	530,000	—	<i>Godthaab.</i>
Islande.....	70,000	40,000	2	<i>Reykjavik.</i>
Canada.....	4,833,239	3,456,383	1	Ottawa.
Terre-Neuve..	200,000	42,000	5	Saint-Jean.
Etats-Unis } et Alaska }	63,000,000	3,602,000	18	Washington.
Mexique.....	12,000,000	740,000	16	Mexico.
Guatémala....	1,400,000	46,000	30	Nouv.-Guatémala.
Honduras....	430,000	44,000	10	Tégucigalpa.
San-Salvador..	650,000	7,500	86	San-Salvador.
Nicaragua....	350,000	52,000	7	Nicaragua.
Costa-Rica....	240,000	20,000	12	San-José.
Antilles.....	5,300,006	95,000	54	
Totaux.....	89,383,239	8,724,883		

Dans ce résumé et ceux qui suivent, on a mis en italique les noms qui ne se rencontrent pas dans le texte.

EXERCICES.

1. Par quel océan l'Amérique septentrionale est-elle bornée au nord ? *A.*

2. Par quel océan est-elle bornée à l'est ? *A.*

3. Quelle mer est située au nord ? *H.*

4. Quelle contrée occupe le nord ? *C.*

5. Quelle contrée occupe le milieu ? *E.-U. (U.S.)*

6. Quelle est la capitale du Canada ? *O.*—Celle des Etats-Unis ? *W.*

7. Nommez et montrez la capitale du Mexique. *M.*—Celle du Guatémala. *N.-G.*

8. Quelle grande île est située à l'E. du Canada ? *T.-N.*

9. Quelles sont les deux grandes îles situées à l'ouest ? *R.-C. (Q. C.), V.*

10. Nommez les trois principales îles situées au sud-est des Etats-Unis. *C., H., J.*

11. Quelle presqu'île est située au sud-est du Canada ? *N.-E. (N. S.)*

12. Quelles sont les deux presqu'îles qui entourent une partie du golfe du Mexique ? *F., Y.*—Celle qui est située au N.-O. du Mexique ? *V.-C.*

13. Quelle presqu'île est située à l'O. du Canada ? *A.*

14. Montrez le Groënland. (*Greenland*) (70).

15. Quel est le cap situé au S.-O. de la Nouvelle-Ecosse ? *S.*

16. Quel cap est situé au sud de la Basse-Californie ? *S.-L.*—A l'O. des Etats-Unis ? *M.*

17. Quelles montagnes sont situées dans l'ouest du Canada ? *R.*

18. Quelle chaîne de montagnes occupe l'E. des Etats-Unis ? *A.*

19. Quel golfe se trouve à l'E. du Canada ? *S.-L.*

20. Quelle mer trouve-t-on au sud-est du golfe du Mexique ? *A. (C.)*

21. Quel golfe est situé à l'O. du Mexique ? *C.*

22. Montrez le détroit d'Hudson.—(62).

23. Quel détroit unit la mer de Baffin à l'Océan ? *D.*

24. Quels lacs se trouvent entre les Etats-Unis et le Canada ? *S., H., E., O.*

25. Montrez le grand lac des Ours (*Great Bear*);—le lac des Esclaves (*G. Slave*);—le lac Winnipeg.

26. Quel fleuve coule vers le nord et se décharge dans l'océan Arctique ? *M.*

27. Quel est le fleuve qui, coulant vers l'est, se jette dans l'Atlantique ? *S.-L.*

28. Quel est le fleuve qui, traversant les Etats-Unis, se jette dans le golfe du Mexique ? *M.*

29. Quel est le principal affluent du Mississipi ? *M.*

30. Quelles eaux traverserait-on pour aller de Québec à New-York ? *F. S.-L., g. S.-L., o. A.*—De New-York à la Nouv.-Orléans ? *O. A., g. M., f. M.*


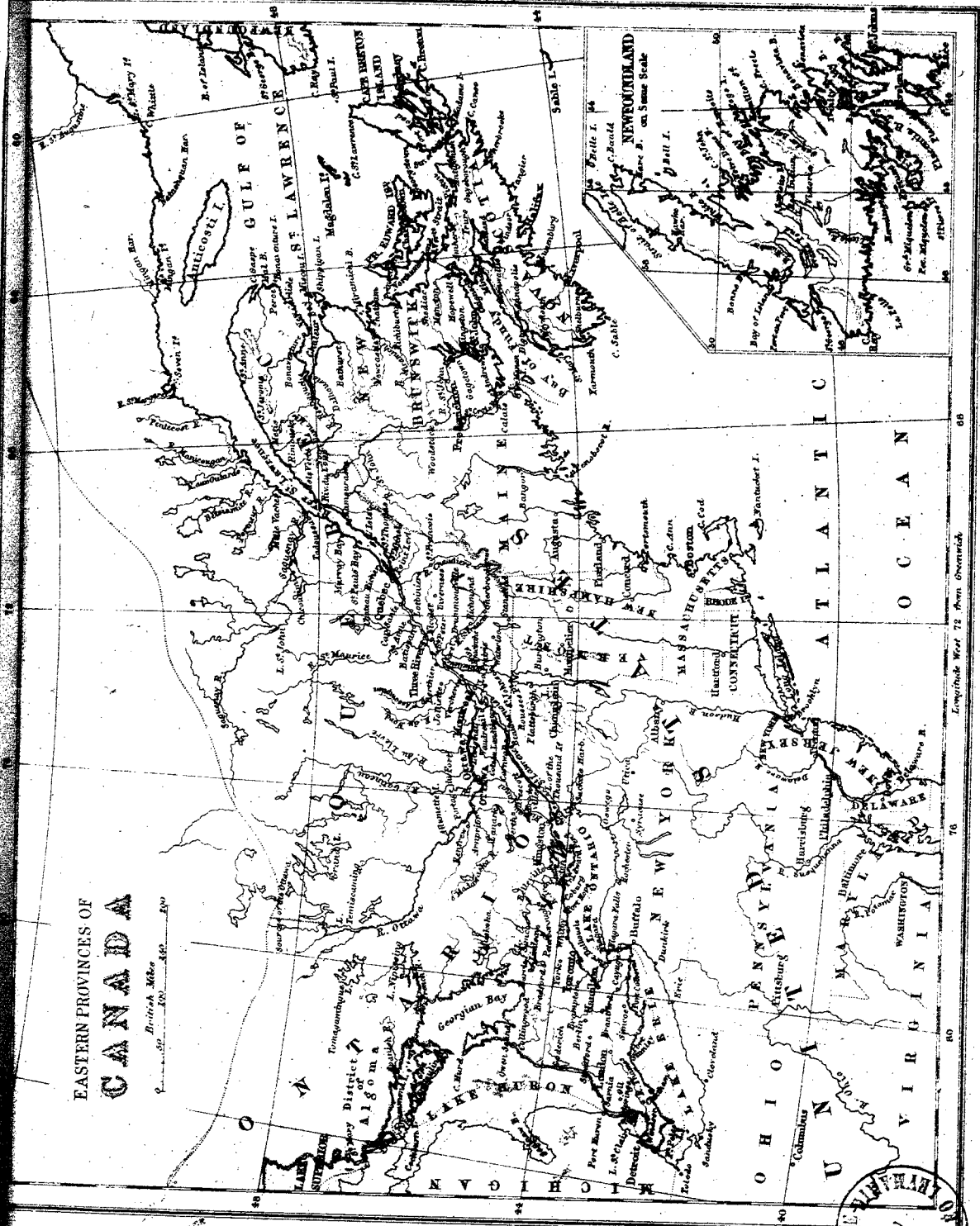
PUISSANCE DU CANADA.—(Carte No. 3.)

1. Par quoi la Puissance du Canada est-elle bornée au Nord ?
2. Par quoi est-elle bornée à l'Est ? *G-S-L*
3. Par quoi est-elle bornée au Sud ? *E-U.*—A l'Ouest ? *O. P.*
4. De combien de Provinces la Puissance est-elle composée ?
5. Quelles sont les Provinces contenues sur cette carte ? *Oo., Qc., N-B., N-S., P-E-I., Nd.*
6. Laquelle de ces Provinces ne fait pas partie de la Puissance ? *Nd.*—Laquelle est la plus à l'Est ? *NS.*
7. —La plus au Sud ? *Oo.*—La plus au Nord ? *Qc.*
8. Quelle est la capitale d'Ontario ? *To.*—De Québec ? *Qc.*
9. Quelle est la capitale du Nouveau-Brunswick ? *Fh.*
10. —La cap. de la Nouvelle-Ecosse ? *Hx.*—De l'île du Prince-Edouard ? *Ch.*—Montrez le Golfe St-Laurent. (48-60)
11. Quelle île est située au Nord du Golfe St-Laurent ? *At.*
12. Quelle est celle qui est située à l'Est ? *Nd.*
13. Quelles sont les deux qui sont au Sud ? *P-E-I., C-B.*
14. Quel groupe d'îles se trouve au milieu ? *Mh.*
15. Quel autre groupe se trouve dans le Canal Canadien, au N de l'île-Anticosti ? *Mh.*—Montrez le Lac Huron
16. Quelle grande île est située dans ce Lac ? *Mh.*
17. Montrez le Fleuve St-Laurent.—La Baie des Chaleurs.
18. Quelle presque île est formée par le St-Laurent et la Baie des Chaleurs ? (*Gaspé.*)
19. Quelle presque île est située au Sud du Golfe St-Laurent ? *N-S.*
20. Montrez la péninsule formée d'une partie de la Province d'Ontario (44-80).
21. Montrez l'Isthme de Chignecto. (*Entre le N-B. et la N-E.*)
22. Montrez et nommez les caps situés dans le Golfe St-Laurent. *We., Ry., S-L., Gé.*
23. Quels sont les trois principaux caps de la Nouvelle-Ecosse ? *C-B., Co., Se.*
24. Quelles sont les deux principales baies formées par le Golfe St-Laurent à l'Ouest ? *Ch., Mi.*
25. Quelle baie est située entre le N-B. et la N-Ecosse ? *Fh.*
26. Quelle baie est formée par le Lac Huron, dans la Puissance ? *Gh.*
27. Quel détroit sépare l'île du Prince-Edouard du Nouveau-Brunswick et de la Nouvelle-Ecosse ? *Nd.*
28. Quel détroit sépare l'île du Cap-Breton de la N-Ecosse ? *Co.*
29. Par quel détroit Terre-neuve se trouve-t-elle séparée du Canada ? *B-I.*
30. Quelle grande rivière se jette dans le St-Laurent au-dessus du 48e degré de latitude ? *Sy.*
31. Quel grand lac est formé par le Saguenay ? *S-J.*
32. Quelles sont les principales rivières qui se jettent dans le St-Laurent à l'E. du Saguenay ? *Pf., Be., R-O., Mn., Pt., S-M.*
33. Montrez la Rivière St-Maurice.
34. Quelle rivière sépare la Province d'Ontario de celle de Québec ? *Oa.*
35. Quels sont les deux principaux lacs situés aux sources de l'Outaouais ? *Gd., Tg.*
36. Quels sont les grands lacs qui forment une partie des limites de la Province d'Ontario ? *Sr., Hn., Eé., Co.*
37. Montrez dans le Nord de la Province d'Ontario, le Lac Tamaganingue.
38. Par quel fleuve est arrosée une partie du Nouveau-Brunswick ? *S-J.*
39. Quelles sont les deux Provinces qui ne sont pas contenues dans cette carte ? *Ma., Ca.* (Voyez la carte de l'Am. Sept).
40. Montrez la Province de Manitoba. (59-97).
41. Quels lacs sont situés au N. de cette Province ? *Ma. et Wg.*
42. Par quelle rivière est-elle arrosée ? *Rd. et Assiniboine.*
43. Montrez la Province de Colombie. (55-125).
44. Par quelles montagnes est-elle bornée à l'Est ? *Ry. (M. Rocheuses).*—Par quel océan est-elle bornée à l'Ouest ? *Pc.*
45. Par quel fleuve est-elle arrosée ? *Fr.*
46. Quelle île est située au Sud-Est de cette Province ? *Vr.*
47. Quelle est la cap. de la Colombie ? *Va.*—De Manitoba ? *Wg.*
48. Montrez le Territoire du Nord-Ouest.

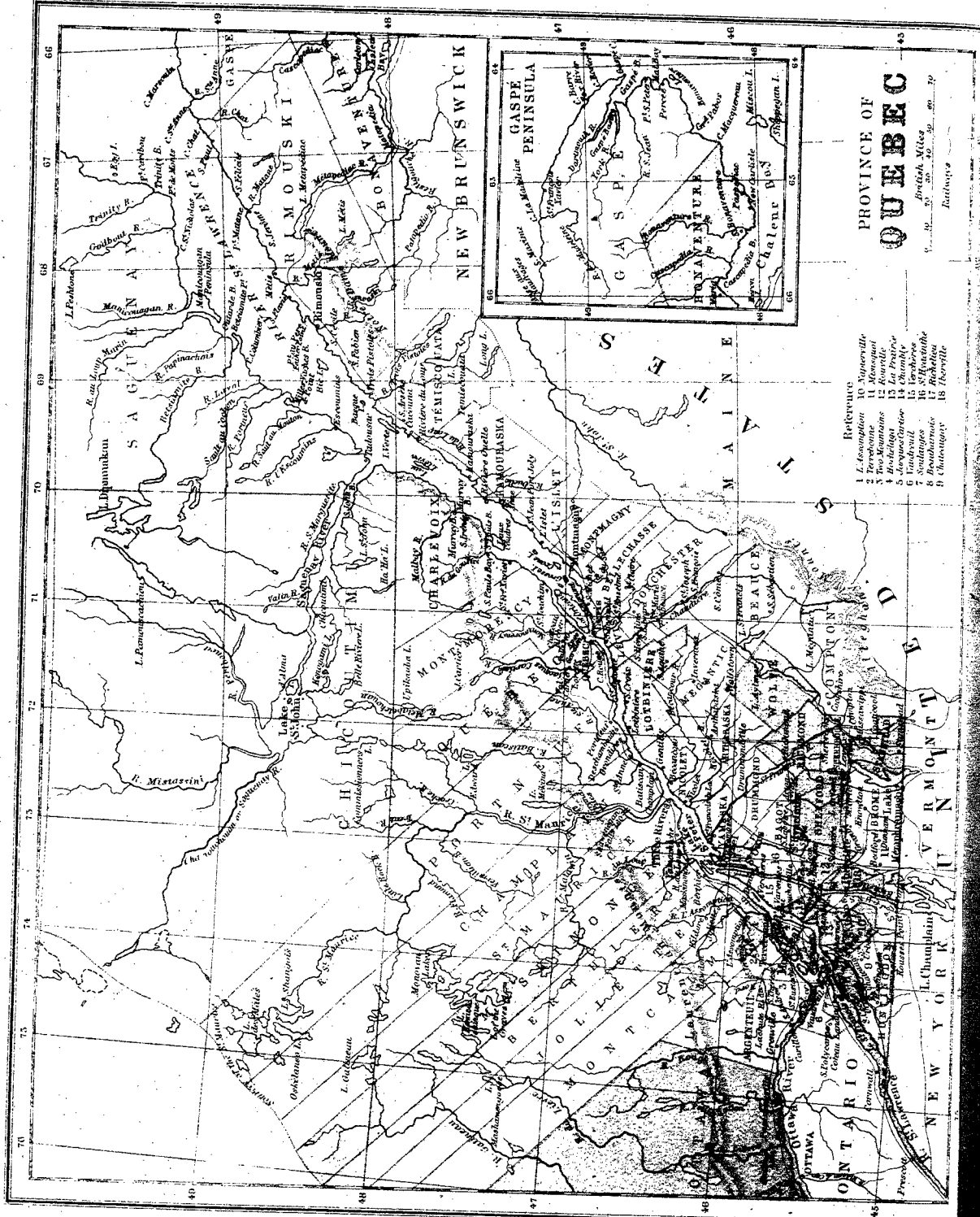
25. Quelle baie est située entre le N.B. et la N.-Écosse ?
48. Montrez le Territoire du Nord-Ouest.

EASTERN PROVINCES OF CANADA

Scale: 0 to 200 Miles



Imprinted West 72 Ave. Overick



PROVINCE OF
QUEBEC

- References
- 1. L. Assommoir
 - 2. Terrebonne
 - 3. Les Montagnes
 - 4. Abitibi
 - 5. Tadoussac
 - 6. Valcartier
 - 7. Beauport
 - 8. Bromont
 - 9. Chaudière
 - 10. Yverville
 - 11. Montcalm
 - 12. Rouville
 - 13. La Prairie
 - 14. La Vallée
 - 15. La Rivière
 - 16. St-Henri
 - 17. Richelieu
 - 18. Berthier

RESUME.

Iles.—Anticosti, Orléans, Montréal, Jésus, Grosse île, *vous Coudres, au Lièvre, Verté, Bic.*
Presqu'île.—*De Gaspé.*
Caps.—*Gaspé, des Roitiers, de la Madeleine, Chat, St-Nicolas, pointé au Père.*
Montagnes.—Laurentides, Notre-Dame, Alléghanys, monts Royal et Balcan.
Rivières.—St-Laurent, *Betsiamis, Saguenay, St-Maurice, Outaouais, du Lièvre, Chaudière, St-François, Richelieu.*

Lacs.—Saint-Jean, Saint-Pierre, Saint-Louis, Saint-François, *Memphrémagog, Témiscouata.*
Comtés.—(Voir p. 86.)
Villes.—Montréal, Québec, St-Henri (à côté de Montréal), Hull, Sherbrooke, Ste-Cunégonde (faubourg de Montréal), Trois-Rivières, Lévis, St-Hyacinthe, Sorel, *Valleyfield, St-Jean, Fraserville, Lachine, St-Jérôme, Longueuil, Nicolet, Chicoutimi.*
Chemins de fer.—Pacifique-Canadien, Grand-Tronc, Intercolonial, Québec-Central, Québec-Lac-Saint-Jean.

EXERCICES.

1. Quelle grande rivière traverse la Province du sud-ouest au nord-est? *S.-L.*
2. En combien de comtés la province de Québec est-elle divisée?
3. Montrez la rivière Richelieu. (73 L.)—Montrez les comtés qui touchent cette rivière sur la rive gauche. *R., V., C., S.-J.*
4. Quels sont les comtés baignés par la rive droite du Richelieu? *M., I., R., S.-H., R.*
5. Montrez la rivière Saint-François. (72 L.)
6. Montrez la rivière Chaudière. (71)—Quels sont les comtés arrosés par cette rivière? *C., B., D., L.*
7. Montrez les comtés situés sur le Saint-Laurent entre ceux de Yamaska et Lévis. *N., L.*
8. Nommez les comtés formant la rive droite du St-Laurent, depuis la Chaudière jusqu'à l'embouchure du Fleuve. *L., B., M., L.I., K., T., R., M., G.*
9. Montrez les rivières Saguenay et St-Maurice. — Quels comtés sont compris entre ces deux rivières? *C., P., G., M., C., C. L.-S.-J.*
10. Montrez la rivière Outaouais.
11. Quels comtés trouve-t-on sur le St-Laurent, de Joliette à l'embouchure de l'Outaouais? *L.A. T., D.-M. (T. M.)*
12. Quels sont ceux qui sont compris entre le St-Laurent et l'Outaouais? *V., S.*

13. Montrez les îles de Montréal et de Jésus.
14. Quelle est la capitale de la province de Québec? *Q.*
15. Montrez les villes de Montréal, Trois-Rivières et Sorel.
16. Montrez le comté dans lequel est situé notre école.—Quel est le chef-lieu de ce comté?
17. Quels comtés sont au nord?—à l'est?—au sud de celui où nous sommes?
18. Montrez l'île d'Orléans.—Quelles sont les principales îles situées dans le Saint-Laurent au-dessous de l'île d'Orléans? *G., C., L., V., B.*
19. Nommez les principaux caps de la Gaspésie. *G., R., M., C.*
20. Quelle pointe remarquable se trouve sur la côte de Rimouski? *P.*
21. Montrez le lac St-Jean.
22. Quel lac forme le St-Laurent au-dessous de Sorel? *S.-P.*
23. Montrez le lac Memphrémagog.—Le lac Témiscouata.
24. Montrez les Laurentides.—Les monts Notre-Dame.
25. Par quelles voies peut-on aller de Montréal à Québec?—Quelles villes rencontre-t-on? 1° Par *S.-L.; S., T.-R.; 2° par P.-C.; T.; 3° par G.-T. et S.-L.; S.-H., L.*
 ville passe-t-on? *S.-L., Q.-C.; L.*
 Par quelle voie peut-on aller de Montréal à Valleyfield? *G.-T., S.-L.*

RESUME.

Iles.—*St-Joseph, Manitoulin, Pointe-Pelée, Mille-Îles (Wolf, Howe, etc.).*
Presqu'île.—*Prince-Edouard.*
Rivières.—*Française (French), Severn, Sainte-Claire, Thames, Grande, Trent, Saint-Laurent, Outaouais, Rideau, Petite-Nation, Madawaska, Bonne-Chère, Pétawawa.*
Cataracte.—*Niagara.*
Baies.—*Georgienne, Quinté.*

Lacs.—*Supérieur, Huron, Sainte-Claire, Érié, Ontario, des Mille-Îles, Saint-François, Nipissingue, Muskoka, Simcoe.*

Villes.—(Voir p. 91.)

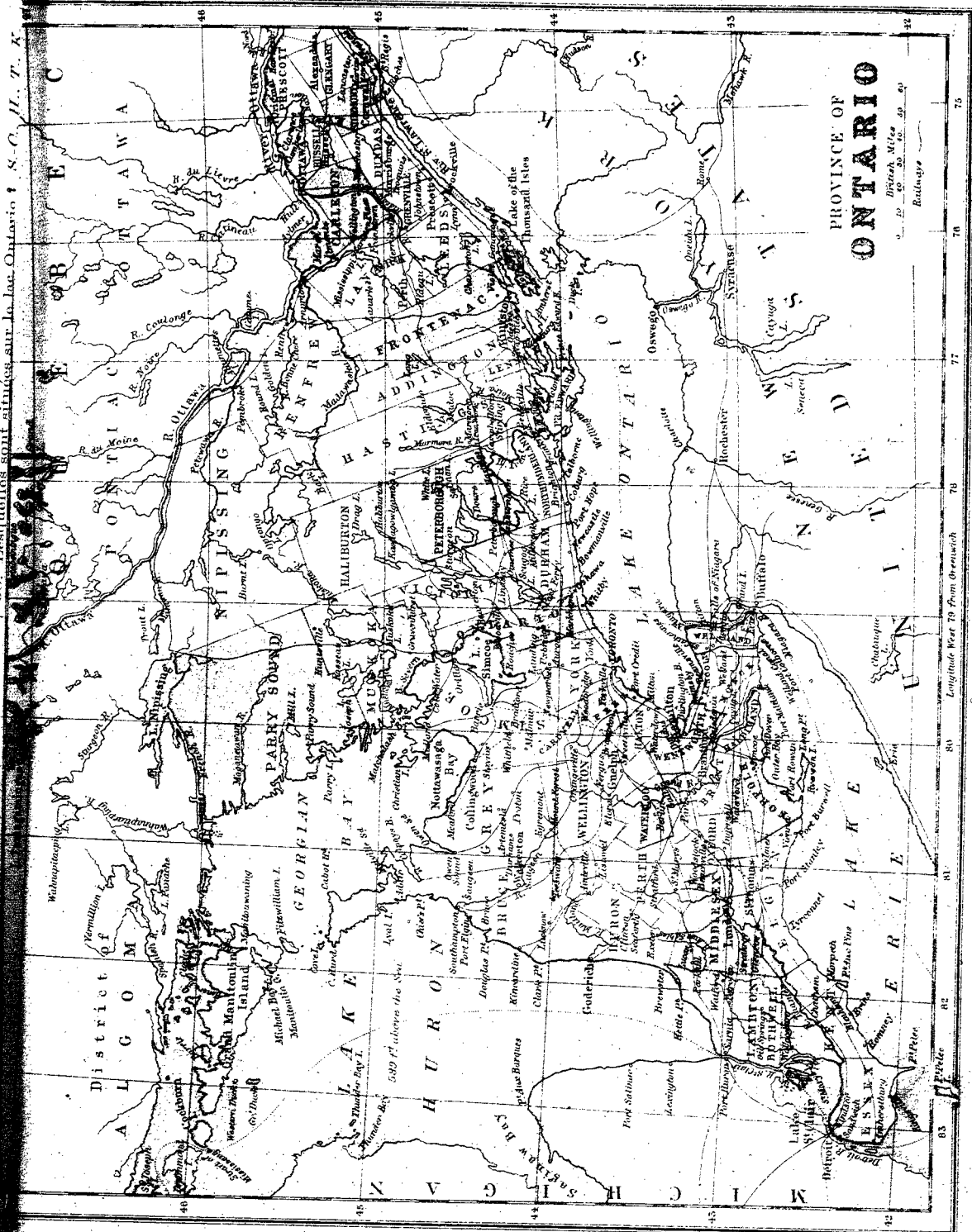
Toronto, Hamilton, Ottawa, London, Kingston, Brantford, Guelph, Saint-Thomas, Windsor, Belleville, Peterborough, Cornwall, Prescott, Brockville.

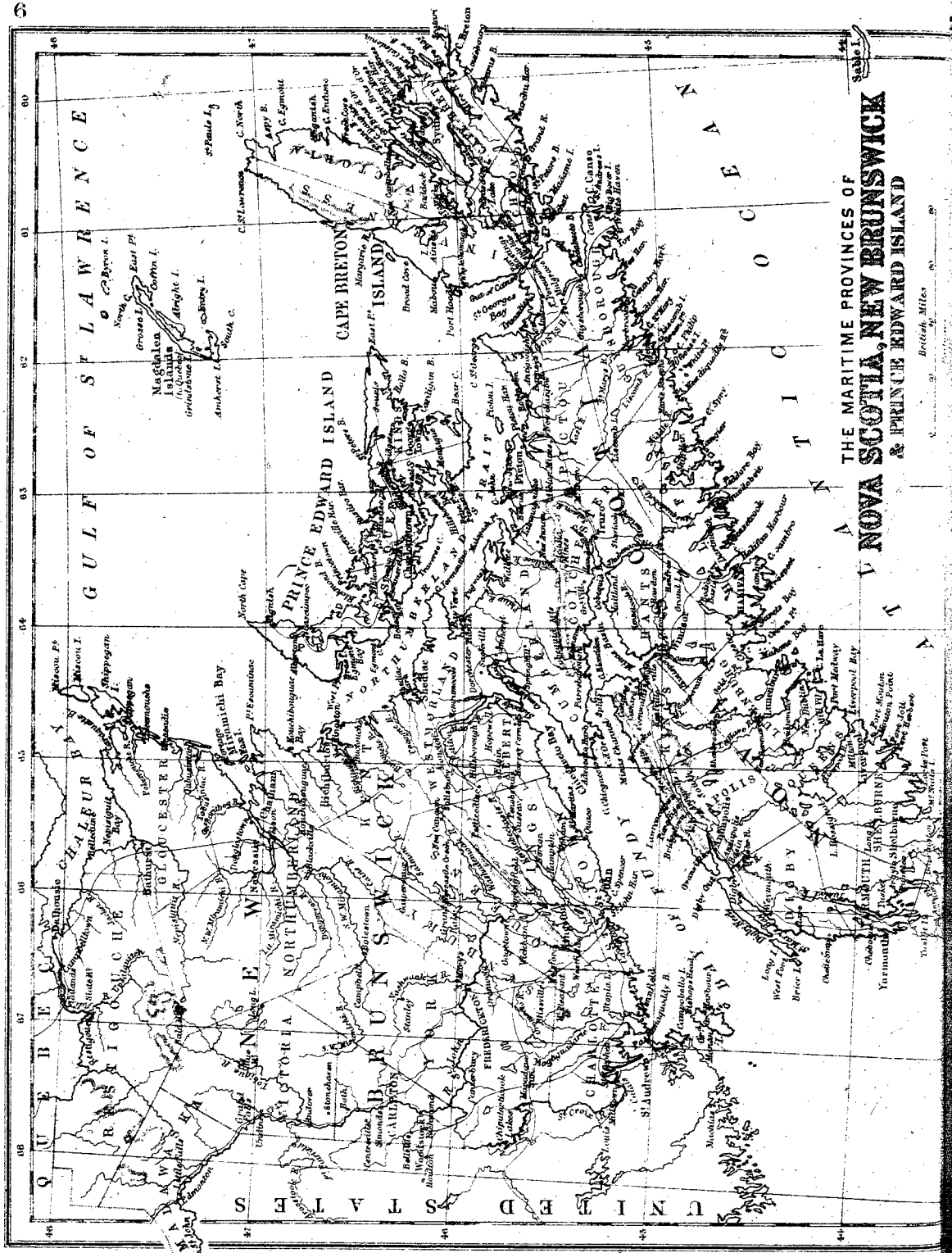
Principaux chemins de fer.—*Pacifique-Canadien, Grand-Tronc.*

EXERCICES.

1. Quelle contrée borne cette province à l'est ? *Q.*
2. Quelle rivière sépare cette province de celle de Québec ? *O.*
3. Quelle rivière la sépare de l'état de New-York ? *S.-L.*
4. Quels lacs sont situés au sud ? *O., E.*
5. Quelle rivière réunit les lacs Ontario et Érié ? *N.*
6. Quelle chute remarquable forme cette rivière ? *N.*
7. Par quel lac cette province est-elle bornée à l'ouest ? *H.*
8. Quelle rivière unit ce lac au lac Sainte-Claire ? *S.-C.*
9. Quelle grande baie est située à l'est du lac Huron ? *G.*
10. Quelle est la plus grande île de ce lac ? *M.*
11. Montrez la rivière Française (*French*) !
12. Quel lac cette rivière unit-elle au lac Huron ? *N.*
13. Quel lac est situé au sud-est de la baie Georgienne ? *S.*
14. Montrez le canal Rideau.
15. Quelles villes ce canal fait-il communiquer entre elles ? *O., K.*
16. Nommez les comtés situés sur le Saint-Laurent. *G., S., D., G., L.*
17. Nommez ceux qui sont situés sur la rivière Outaouais ? *P., R., C., R.*
18. Montrez la ville de Toronto.—Dans quel comté est-elle située ? *Y.*
19. Quel comté forme l'extrémité sud-ouest d'Ontario ? *E.*
20. Quels sont les comtés situés sur le lac Huron ? *L., H., B., G., S.*
21. Montrez le district d'Algoma.—Celui de Nipissing.

22. Montrez le district de Parry-Sound.—Celui de Muskoka.
23. Montrez le lac Simcoe.
24. Quelle rivière unit ce lac au lac Huron ? *S.*
25. Quelle grande rivière se jette dans le lac Ste-Claire ? *T.*
26. Quelle rivière coulant du nord au sud, se jette dans le lac Érié ? *G.*
27. Montrez la baie de Quinté. (44.)
28. Quelle rivière débouche dans cette baie ? *T.*
29. Quelle presque-île est formée par la baie de Quinté ? *P.-E.*
30. Quel lac est situé entre les districts de Nipissing et de Parry-Sound ? *N.*
31. Quelles sont les rivières de la province d'Ontario qui se jettent dans l'Outaouais ? *P.-N., Ma., B.-C., Pa.*
32. Montrez le lac des Mille-Îles (*Thousand*) (76 l.).
33. Nommez les principales îles de ce lac. *W., H.*
34. Quelle est la capitale d'Ontario ? *T.*
35. Montrez les villes suivantes et dites-en la population : *Hamilton, London, Kingston, Ste-Catherine.* (*Voyez, pour la population, à la fin du volume.*)
36. Quelles sont les principales villes que l'on rencontre en allant de Toronto à Montréal par le Grand-Tronc ? *B., K., B., P., C.*
37. Quelles sont les principales villes d'Ontario situées sur le Saint-Laurent ? *C., P., B.*
38. Lesquelles sont situées sur le lac Ontario ? *S., O., H., T., K.*





THE MARITIME PROVINCES OF
NOVA SCOTIA, NEW BRUNSWICK
 & PRINCE EDWARD ISLAND

Nouvelle-Ecosse, Nouvelle-Brunswick & Île-du-Prince-Édouard

Iles.—Du Prince-Edouard, du Cap-Breton.
 Fresqu'île.—Nouvelle-Ecosse.
 Isthme.—Chignectou.
 Caps.—Nord, Nord, Breton, Sable.
 Montagnes.—Cobouais.
 Golfes et Baies.—Saint-Laurent, des Chaleurs, Miramichi, Hillsborough,
 Saint-Georges, Chedabouctou, Sainte-Marie, Fundy, bassin des Mines
 (Minas), Chignectou, Passamaquoddy.

RESUME.

Détroits.—Northumberland, Canseau, des Mines.
 Rivières.—Restigouche, Miramichi, St-Jean, Ste-Croix.
 Lacs.—Bras-d'Or, Rossignol.
 Comtés.—(Voir pp. 95 et 96.)
 Villes.—Frédéricton, St-Jean, Moncton, Chatham, Halifax, Dartmouth,
 Yarmouth, Charlottetown.

EXERCICES.

1. Quelle baie se trouve entre le Nouveau-Brunswick et la Nouvelle-Ecosse ? *F.*
2. Quel isthme unit ces deux provinces ? *C.*
3. Par quel océan la Nouvelle-Ecosse est-elle bornée au sud ? *A.*
4. Quel détroit sépare l'île du Prince-Edouard de ces deux provinces ? *N.*
5. Quelle grande île est située au nord-est de la Nouvelle-Ecosse ? *C., B.*
6. En combien de comtés le Nouv.-Brunswick se divise-t-il ? (15)
7. Quels sont les deux comtés les plus au nord ? *R., G.*
8. —Les deux, les plus à l'est ? *G., W.*
9. —Les deux plus au sud ? *C., S.-J.*
10. Montrez le fleuve Saint-Jean.—Quelles sont les deux principales villes qui sont situées sur ce fleuve ? *S.-J., F.*
11. Quelle est la capitale du Nouveau-Brunswick ? *F.*
12. Dans quel comté se trouve cette ville ? *Y.*
13. Quelles sont les deux principales baies situées au nord-est ? *C., M.*
14. Quelle rivière se décharge dans la baie des Chaleurs ? *R.*
15. Quelle rivière arrose le comté de Northumberland ? *M.*
16. Dans quelle direction est située la Nouvelle-Ecosse à l'égard du Nouveau-Brunswick ?
17. En combien de comtés la Nouv.-Ecosse est-elle divisée ? (18)

18. Quelle grande île fait partie de cette province ? *C.-B.*
19. Combien l'île du Cap-Breton forme-t-elle de comtés ? (4)
20. Quelle est le comté de la péninsule le plus au nord ? *C.*
21. —Les trois comtés, les plus à l'est ? *P., A., G.,*
22. —Les trois les plus à l'ouest ? *D., Y., S.*
23. Quels sont les deux comtés situés sur la baie de Fundy ? *A., K.*
24. Montrez le bassin des Mines (*Minas Basin*).
25. Quels sont les deux comtés qui entourent en partie le bassin des Mines ? *C., H.*
26. Quelle est la capitale de la Nouvelle-Ecosse ? *H.*
27. Par quelles eaux pourrait-on aller de Charlottetown à Frédéricton ? *N., C., A., F., S.-J.*
28. Quelles montagnes trouve-t-on au nord du bassin des Mines ? *C.*
29. Quel détroit sépare l'île du Cap-Breton de la Péninsule ? *C.*
30. Quel est le principal lac du Cap-Breton ? *B.-d'O.*
31. Quel est le principal lac de la Nouvelle-Ecosse ? *R.*
32. Montrez le bassin d'Annapolis.
33. Montrez la baie Sainte-Marie.—(44)—Le havre d'Halifax.
34. Quels sont les trois comtés de l'Île-du-Prince-Edouard ? *P., Q., K.*—Quelle est sa capitale ? *C.*
35. Quelles sont les principales villes du Nouveau-Brunswick ? *S.-J., M., F.*—de la Nouvelle-Ecosse ? *H., D., Y.*

EXERCICES SUR MANITOBA, &c.

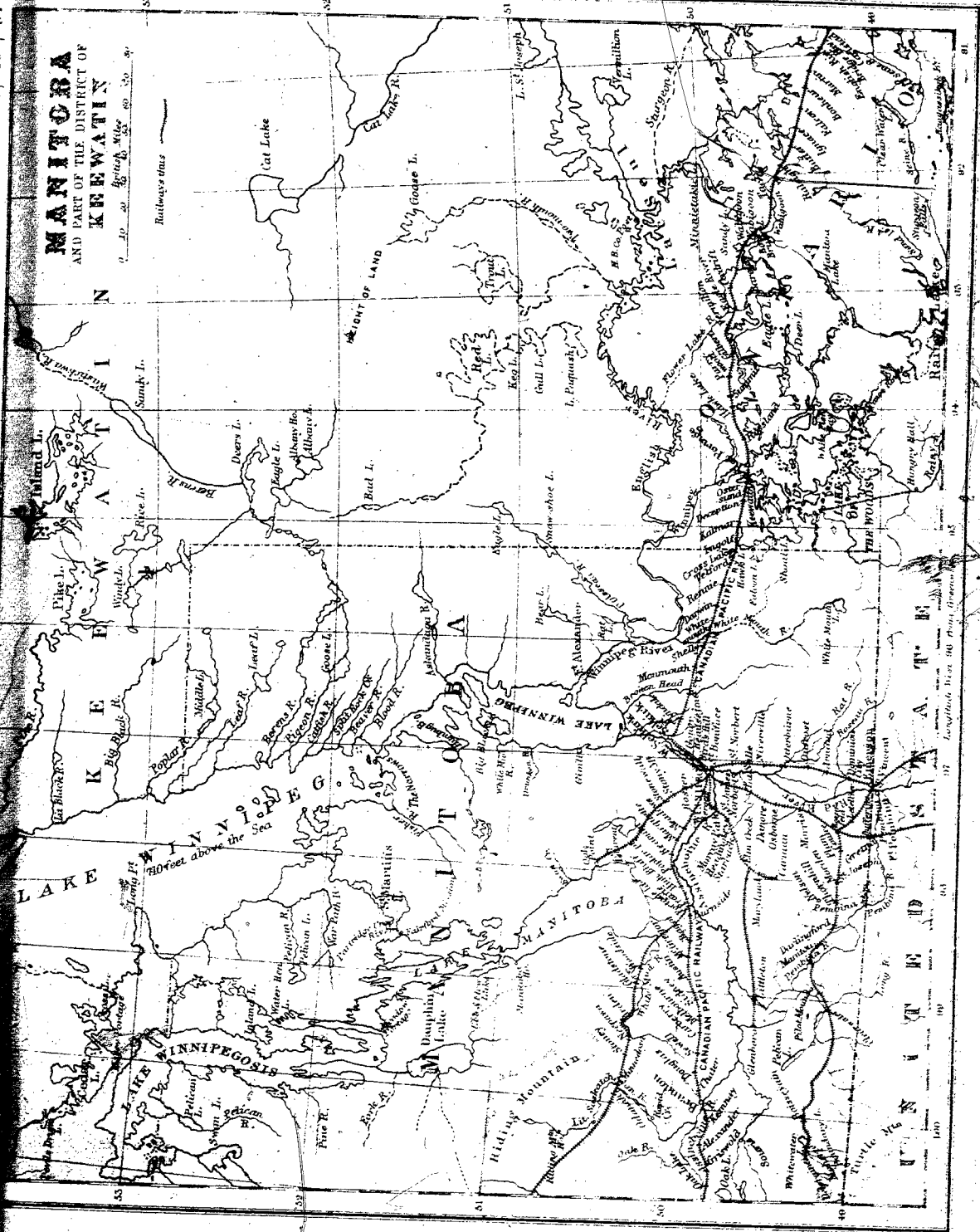
Lat.	Long.		Lat.	Long.		Lat.	Long.	
Montrez les lacs suivants :								
52	94	Al. any.....	51	94	Prince of Wales.....			
48	91	Basswood.....	48	93	Rainy (de la Pluie).....			
50	95	Bear (de l'Ours).....	51	98	St Martin.....			
53	100	Bourbon (Cedar).....	49	95	Shoal Lake (plat).....			
52	92	Cat Fish.....	50	97	Shoal.....			
51	91	Cat Lake (du Chat).....	52	100	Sturgeon.....			
53	100	Cedar (Bourbon).....	54	101	Trout (Truite).....			
49	91	Clear Water (Eau claire).....	53	91	Wapicopa.....			
54	98	Cross Lake (Traverse).....	52	89	Water Hen.....			
49	95	Cross.....	52	99	White Fish.....			
49	93	Deer (à la Biche).....	49	89	White Fish (Poisson Blanc).....			
51	94	Eagle (de l'Aigle).....	49	100	White Water (Eau Blanche).....			
49	93	Eagle.....	52	100	Winnipegous.....			
51	98	Ebb and Flow.....	50	96	Winnipeg (Eau Sale).....			
52	95	Family.....	Montrez les Rivières suivantes :					
53	94	Favourable.....	49	98	Assimboine.....			
52	90	Fisher (Pêcheur).....	52	96	Beren's (aux Tourtres).....			
54	94	God's (de Dieu).....	50	96	Black River (noire).....			
54	101	Goose (à l'Oie).....	53	96	Black Water.....			
51	92	Goose.....			Black River (sang).....			
49	95	Hawk (Faucon).....			Broken River Head.....			
54	99	Herb.....	50	96	English.....			
54	96	Holy Lake (Lac Saint).....	50	94	Fisher.....			
53	94	Inland (Intérieur).....	51	97	Great Beaver (grand Castor).....			
53	96	Jack.....	52	98	Little Saskatchewan (Dauphin).....			
48	91	Koagassikok.....	50	95	L'oiseau.....			
51	90	Lac St. Joseph.....	52	95	Pigeon.....			
49	94	Lac des Bois (of Wood).....	49	96	Rat.....			
50	98	Manitoba.....	49	96	Red river (riv. Rouge).....			
49	92	Manitou.....	49	97	Rosead.....			
51	91	Minnitakie.....	48	91	Seige.....			
54	94	Merry Lake.....	49	92	Waabigoon.....			
50	93	Poquath Lake.....	51	99	Water Hen.....			
52	96	Pigeon.....	49	95	White Mouth.....			
49	91	Pine Lake (du Pin).....	50	95	Winnipeg.....			
Montrez les Montagnes suivantes :								
		Dry Dance.....			Alexander, Fort.....			
		Pembina.....			Albany House (Maison de).....			
		Height of Land.....			Arnaud.....			
		Riding (Dauphin).....			Big black Island.....			
		Turtle (Tortue).....			Big Island.....			
					Egg Island.....			
					Burnside.....			
					Dufferin.....			
					Dufrost.....			
					Emerson.....			
					Garry Fort.....			
					Gimly.....			
					Gonor.....			
					Indian Village.....			
					Norway house.....			
					Niverville.....			
					Otterburn.....			
					Palestine.....			
					Penza.....			
					Pembina.....			
					Portage Laprairie.....			
					St Boniface.....			
					St Joseph.....			
					St Laurent.....			
					Selkirk.....			
					St Norbert.....			
					Winnipeg, Capitale.....			

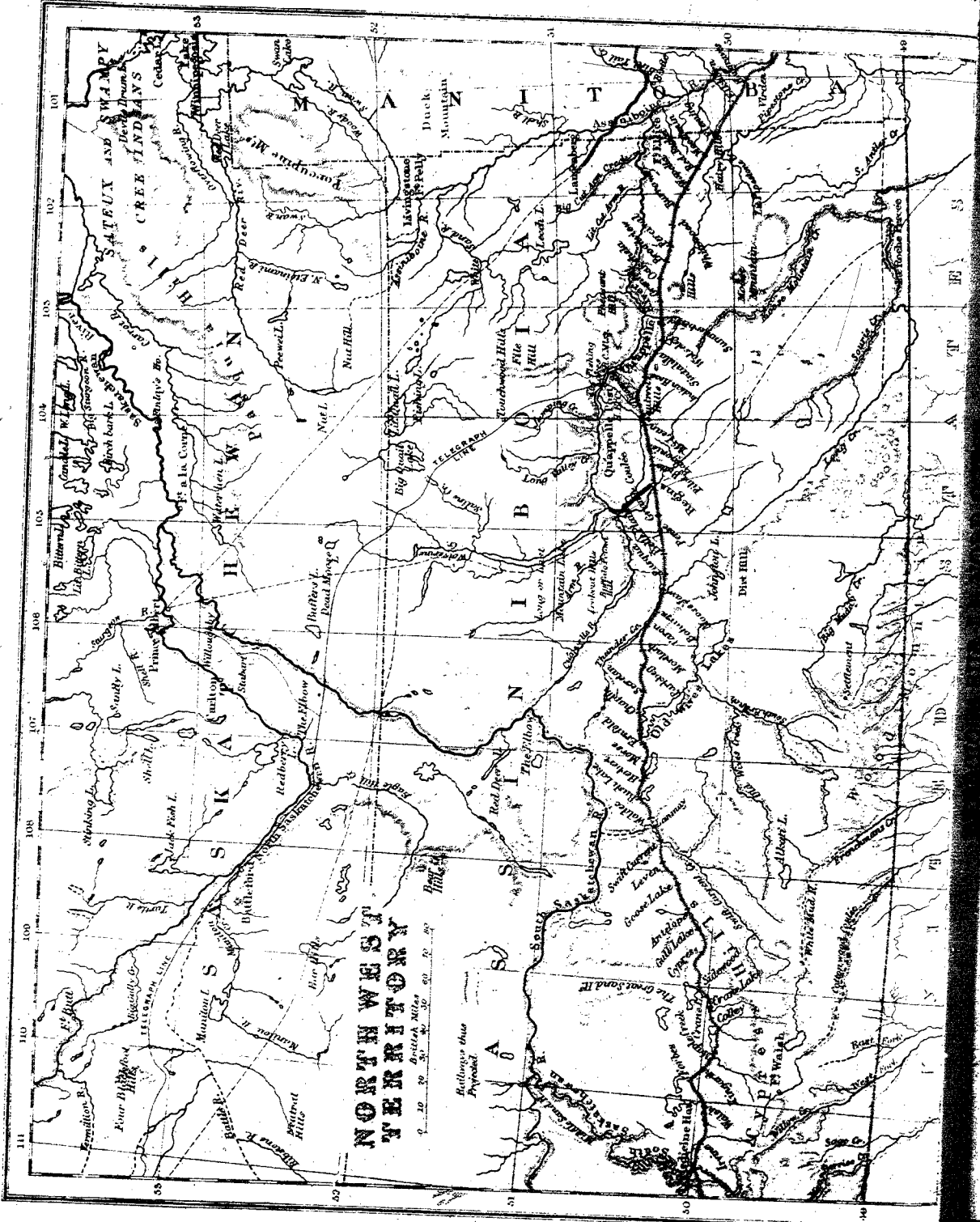
49 96
49 97
49 99
49 95
49 91
49 97
49 96
49 97
49 99
49 95
49 91
49 97
49 96
49 97

MANITOBA AND PART OF THE DISTRICT OF KEEWATIN

British Niles
1870-80

Railways etc.





**NORTH WEST
TERRITORY**

Boundaries thus Proposed

	Lat.	Long.		Lat.	Long.		Lat.	Long.
Montrez les Laos suivants :								
Athabaska (Filet de foin).....	59	110	Big Cat Arm.....	50	101	Last (Le dernier).....	51	104
Cedar (Bourbon).....	53	100	Qu'appelle.....	50	104	Lookout.....	50	105
Cranberry.....	54	101	Red Deer.....	52	101	Moose.....	50	102
Chaplin.....	50	106	Saskatchewan Nord.....	50	110	Neutral.....	52	110
Etoirmani.....	52	102	Saskatchewan Sud.....	51	108	Nut (Noix).....	52	103
Goose (A l'Oie).....	53	102	Sand (Sable).....	51	108	Squirrel (Ecureuil).....	50	103
Jack first.....	53	108	Shell (Coquille).....	51	102	Thickwood (Bois épais).....	51	104
Johnson.....	50	105	Souris.....	49	104	Willow (Saule).....	53	110
Leech (Sangsue).....	51	102	Thunder (Foudre).....	50	106	Weed (Matv. herbe).....	50	102
Long et last Mounl.....	51	105	White Sand.....	51	102	Wolf (Loup).....	50	102
Manitou.....	52	109	Montrez les Montagnes suivantes :					
Old Woman.....	50	106	Battleford, Capitale..... 108					
Quill.....	51	104	Carleton, Fort..... 52					
Red Deer (Biche rouge).....	53	101	Cumberland, Fort..... 53					
Shoal Lake (Lac plat).....	53	102	Cactus..... 49					
Swan (Cygne).....	53	107	Buffalo Pounds..... 53					
Stinking (Puant).....	53	107	Cyprès (3800)..... 49					
Iroquois.....	53	106	Duck (Canard)..... 51					
Montrez les Rivières suivantes :								
Battle (Bataille).....	52	110	Ear (Oreille)..... 52					
			File..... 51					
			Eye Brow (Sourcil)..... 50					
			Four Blackfoot (4 pieds noirs)..... 53					
			Hairy (Chevelu)..... 50					
			Qu'appelle Post..... 103					
			St Laurent (Col. Mis)..... 105					
			Settlement..... 49					
			Fishing Lake (Mis. Cat)..... 103					

Le Nord-Ouest, dit Mgr. Taché, peut se diviser en trois sections, savoir : désert, la prairie et la forêt.

16. Le désert est compris à peu près entre le 110e et le 113e degré de longitude et s'étend au Nord jusque vers le 52e de latitude. C'est généralement un sol aride où il ne croît qu'un peu d'herbe clair-soméc et haute à peine de six pouces, mais très nutritive et dont les animaux sont très-friands.

20. La prairie s'appuie sur le désert dont il vient d'être fait mention et à au N., pour limiter les régions des forêts. Vu à la saison des fleurs, la prairie est vraiment belle, étant sur un fond de verdure toute émaillée de couleurs diverses ; c'est comme un riche tapis dont les nuances variées semblent disposées par des mains d'artistes. Il est difficile d'imaginer quelque chose de plus beau, de plus gracieux que certains points accidentés des prairies ; mais par contre, la température n'est pas fort agréable, ni fort convenable à la culture.

Voici la distribution ordinaire des saisons et leur caractère le plus saillant :

Printemps.—Du 15 avril au 31 mai. Vent froid et désagréable, fortes gelées pendant la nuit.

Été.—Juin, juillet, août. Chaud, peu de pluie, vent violent, nuits froides vers la fin d'août.

Automne.—Septembre et octobre. Saison très-agréable, mais nuits généralement très froides et chaleur souvent intense pendant le jour. Pas ou presque point de pluie ; ce qui explique les incendies désastreux de cette époque dans les prairies.

Hiver.—De la fin d'octobre à la mi avril. Peu de neige, froid piquant, vif, constant et très-sec : pendant des mois entiers le thermomètre en moyenne descend à 30 degrés centigrades sous zéro ; des mois d'été donnent aussi en moyenne 30 degrés au-dessus de zéro, à l'ombre en plein midi.

RESUME.

Bornes.—Canada, lac Supérieur, lac Huron, lac Érié, lac Ontario, océan Atlantique, golfe du Mexique, Mexique, océan Pacifique.
Presqu'île.—Floride.

Caps.—Race, Cod, Hatters, Sable, Mendocino.

Montagnes.—Alléghany, Sierra Nevada, Cascades, monts Rocheux.

Rivières.—Mississipi, Rouge, Arkansas, Ohio, Missouri, Nebraska, Rio Grande, Colorado, Colombie, Hudson.

Lacs.—Supérieur, Michigan, Huron, Érié, Ontario, Champlain, grand lac Salé.

Villes.—(Voir p. 100.)

Louis, Washington, New-York, Chicago, Philadelphie, Brooklyn, Saint-Louis, Boston, Baltimore, San-Francisco, Cincinnati, Cleveland, Buffalo, Nouvelle-Orléans, Pittsburgh, Detroit, Milwaukee.

Trois des principaux chemins de fer.—Northern-Pacific; Central-Pacific, Southern-Pacific.

EXERCICES.

1. Quel pays est situé au N. des Etats-Unis ? *C.*
2. Par quoi les Etats-Unis sont-ils bornés à l'est ? *A.*
3. — Au sud ? *M., G., M.* — A l'ouest ? *P.*
4. Montrez le lac Champlain et la rivière Hudson. (40-70).
5. Quels sont les états situés à l'est de ce lac et de cette rivière ? *M., N.-H., V., M., C., R.-I.*—(Ils forment ce qu'on appelle la Nouvelle-Angleterre.)
6. Quels sont les autres états bornés par l'Atlantique ? *N.-Y., N.-J., D., M., V., C. s., C. m., G., F.*
7. Quels sont ceux qui sont bornés par le golfe du Mexique ? *F., A., M., L., T.*
8. Nommez les états baignés par le Pacifique ? *C., O., W.*
9. Montrez le Mississipi et le Missouri.
10. De quel état Boston est-il la capitale ? *M.*
11. Dans quel état se trouve Brooklyn ? *N.-Y.*
12. Quel chemin de fer va de Chicago à San-Francisco ? *C.-P.*
13. Quel autre grand chemin de fer aboutit à San-Francisco ? *S.-P.*
14. Quels sont les lacs situés entre le Canada et les Etats-Unis ? *S., H., E., O.*
15. Quelles grandes villes des Etats-Unis sont situées sur le lac Érié ? *B., C.*
16. Quelle est la capitale de l'état de New-York ? *A.*—De la Pensylvanie ? *H.*
17. —Du Maine ? *A.*—Du New-Hampshire ? *C.*
18. De quel état Annapolis est-elle la capitale ? *M.*

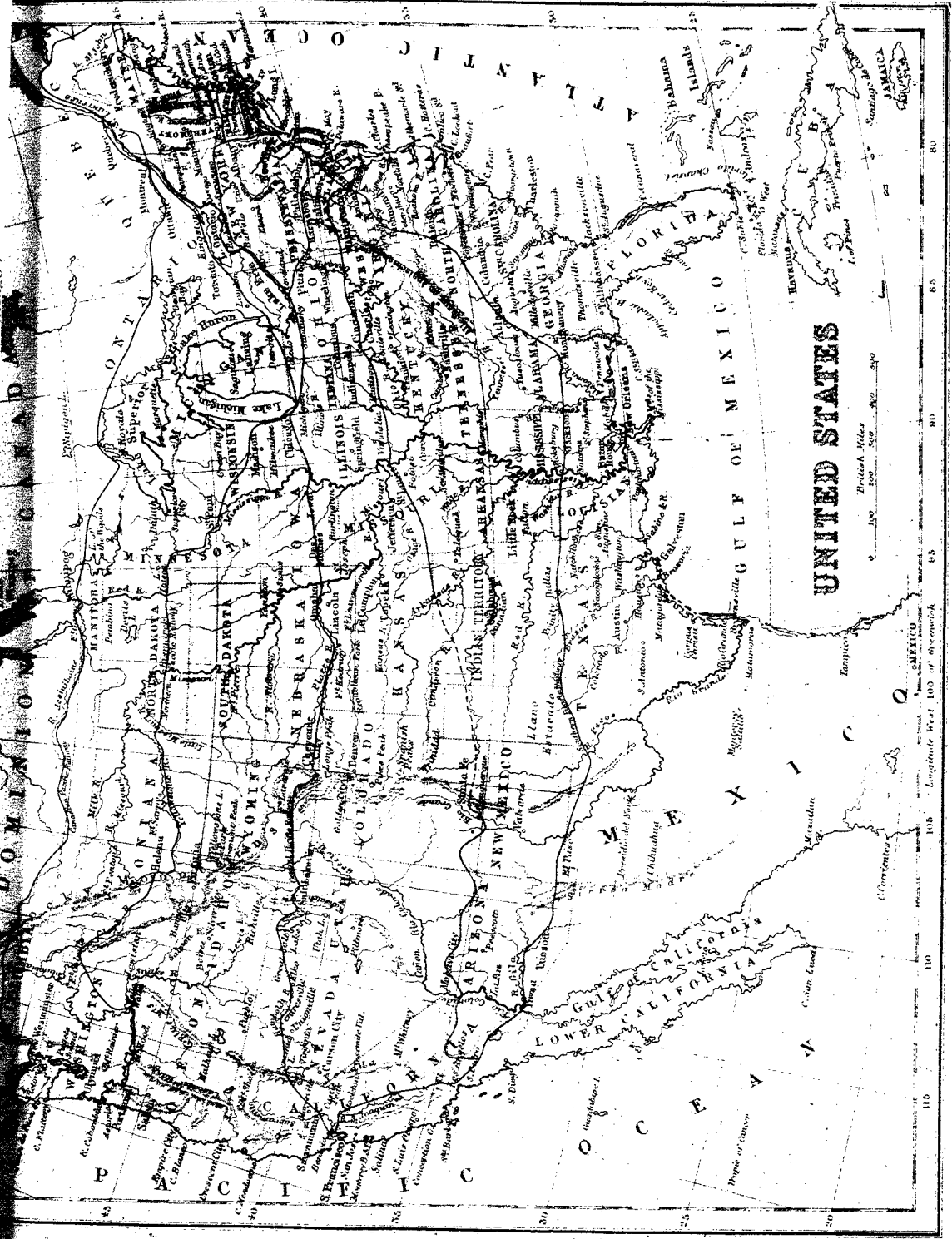
19. —Richmond ? *V.*—Raleigh ? *C. s. (N. C.)*—Columbia ? *C. m. (S. C.)*
20. Quelle presque île est située au sud-est des Etats-Unis ? *F.*
21. Quel cap est situé à l'est du Massachusetts ? *C.*
22. Quel cap se trouve au sud de la Floride ? *S.*
23. Quelle chaîne de montagnes longe l'océan Pacifique ? *C.*
24. Quelle chaîne se trouve à l'est des Cascades ? *S. N.*
25. Quelle autre chaîne est encore plus à l'est ? *H.*
26. Quelle chaîne se trouve dans l'est des Etats-Unis ? *A.*
27. Quel grand lac est situé dans l'Utah ? *G. l. S. (G. S. L.)*
28. Quel grand golfe trouve-t-on au sud ? *M.*
29. Montrez le principal affluent de la rive gauche du Mississipi ? *O.*
30. —Les deux principaux de la rive droite, autres que le Missouri ? *A., R.*
31. Quelles sont les deux plus grandes villes sises sur le Mississipi ? *N.-O., S.-L.*
32. Quelle rivière fait une partie des limites entre les Etats-Unis et le Mexique ? *R. G.*
33. Quelle autre grande rivière se décharge dans le golfe de Californie ? *C.*
34. Par quelle rivière l'état de Washington est-il arrosé ? *C.*
35. Quelle grande ville est sise au sud du lac Michigan ? *C.*
36. Dans quelle direction New-York est-il par rapport à St-Louis ?
37. A Montréal ? — A la Nouvelle-Orléans ?

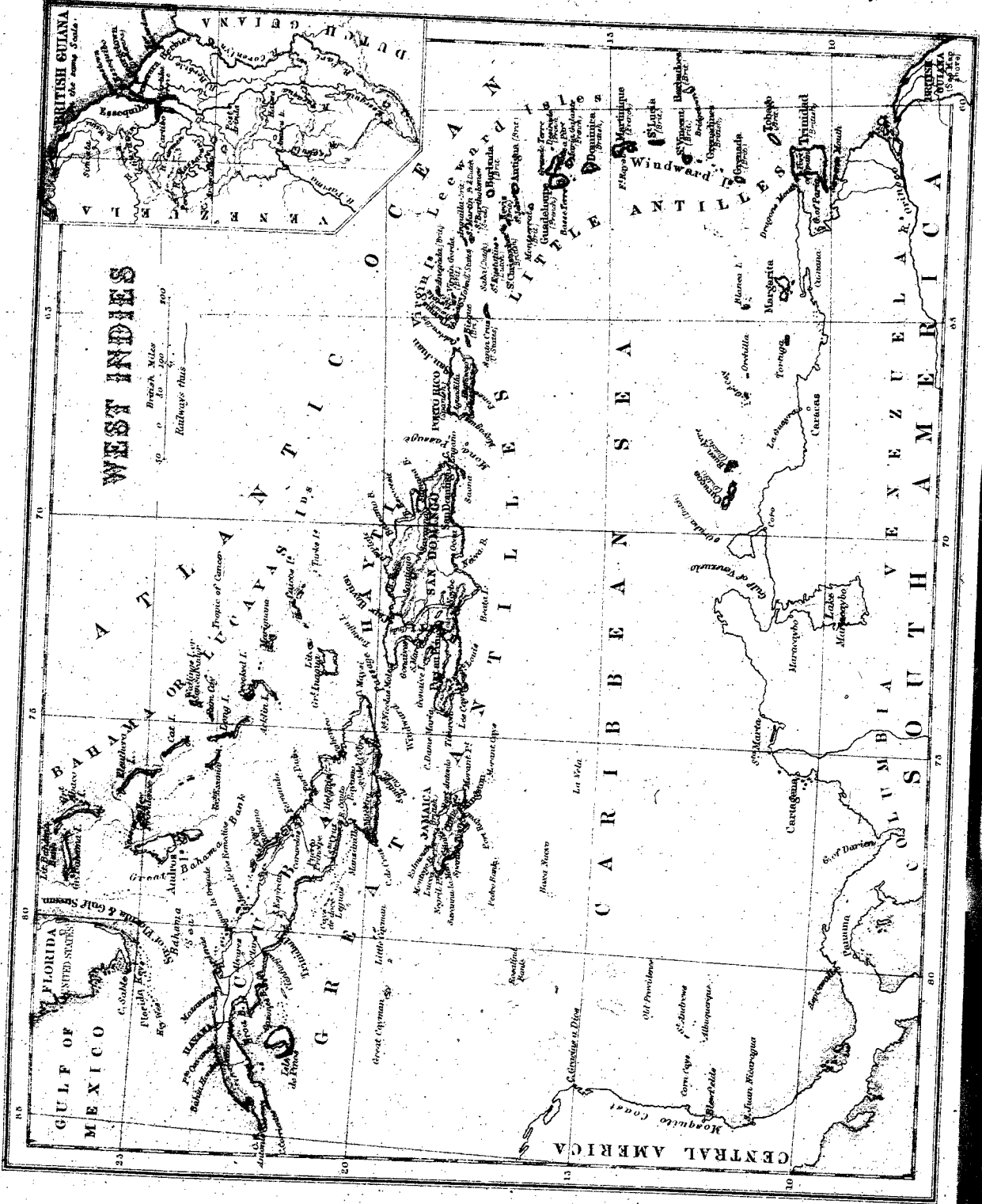
38. A San-Francisco ? — A Chicago ?

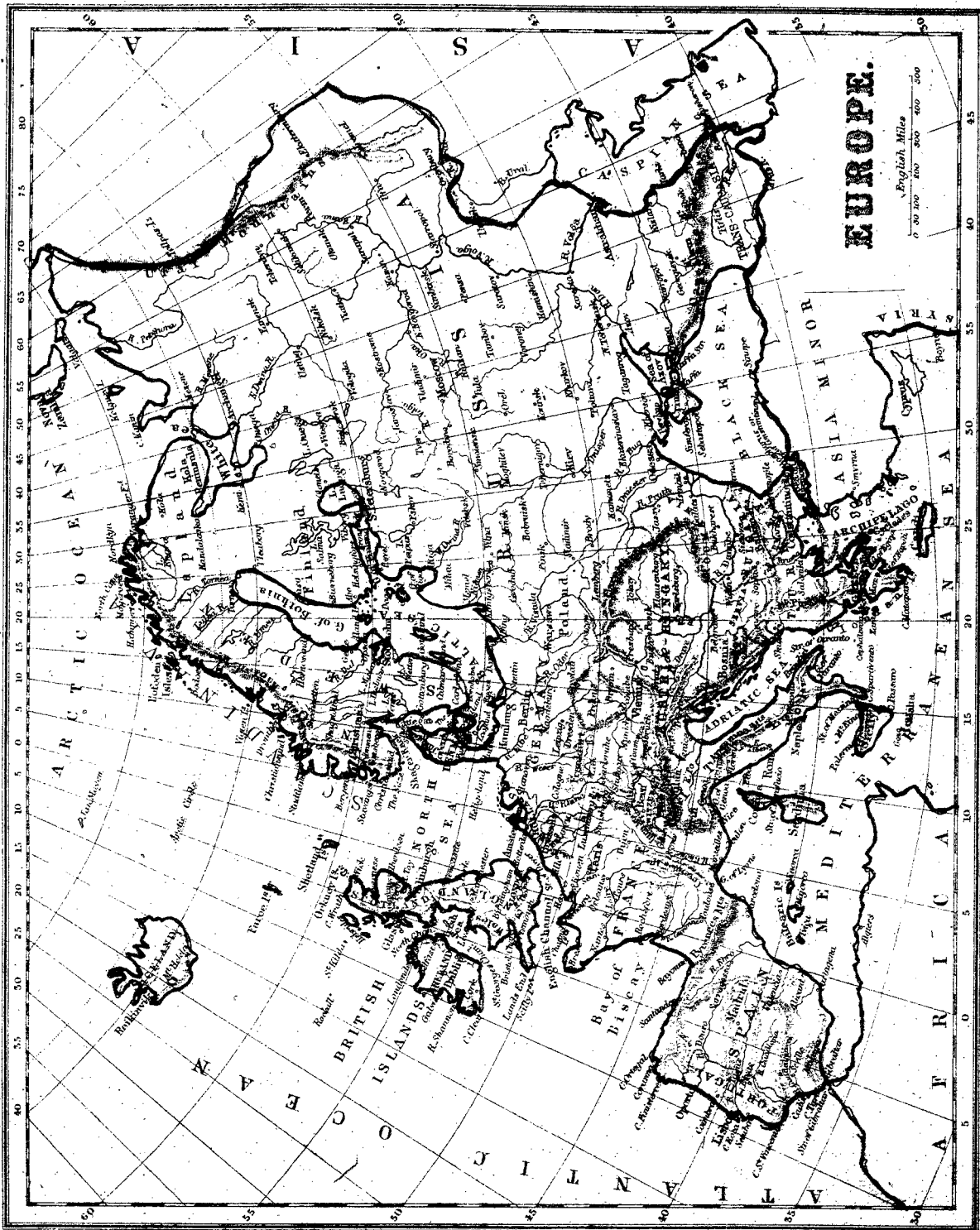
18. De quel état Annapolis est-elle la capitale ?

31. A Montreal ? - A la Nouvelle-Orléans ?

A San Francisco ? A Chicago ?







EUROPE.

English Miles
0 100 200 300 400 500

LES ANTILLES.

RESUME.

Groupes.—Bahama ou Lucayes, Grandes Antilles, Petites Antilles (Iles du Vent¹ et Iles Sous-le-Vent).
Océan et parties de mer.—Atlantique, mer des Antilles ou des Caraïbes, de l'océan, de la Floride, du Vent, Mona, le Gulf-Stream.
Divisions politiques.—Républiques d'Haïti, cap. Port-au-Prince, et de Saint-Domingue, cap. Saint-Domingue ;

ANTILLES ESPAGNOLES : Cuba, cap. la Havane ; — Porto-Rico, cap. San-Juan ;
ANTILLES ANGLAISES : la Jamaïque, cap. Kingston ;—les Bahama (entre autres San-Salvador), la plupart des Petites Antilles (entre autres la Barbade, cap. Bridgetown) ;—la Trinité, cap. Port-d'Espagne.
ANTILLES FRANÇAISES : la Martinique, v. pr. Saint-Pierre ; la Guadeloupe, v. pr., Pointe-à-Pître.

EXERCICES.

1. Quel archipel se trouve entre les deux Amériques ? A.
2. En combien de groupes divise-t-on les Antilles ? (3)
3. Quel est le groupe le plus au nord ? B. ou L.
4. Dans quelle île aborda Colomb à son premier voyage en Amérique ? S.-S.
5. Quel canal sépare les îles Lucayes ou Bahama de la Floride ? F.
6. Quel courant océanique remarquable se rencontre dans la même région ? G.-S.
7. Montrez les Grandes Antilles.
8. Quelles sont les quatre principales îles de ce groupe ? C., J., H., P.-R.
9. Quelle est la plus grande île des Antilles ? C.
10. Quelle est la capitale de Cuba ? H.
11. Quelle grande île est située au sud-est de Cuba ? H.
12. Par quel détroit ces deux îles sont-elles séparées ? V. (W).
13. Quelles sont les deux divisions de cette île ? H., S.-D.
14. Quelle est la capitale d'Haïti ? P.-az-P.
15. Quelle est la capitale de Saint-Domingue ? S.-D.
16. Quelle grande île est située au sud de Cuba ? J.
17. Quelle est sa capitale ? K.
18. Quelle île est située à l'est d'Haïti ? P.-R.

19. Montrez les Petites Antilles.
20. Comment se divisent généralement les Petites Antilles ? D. V., S.-l.-V.
21. Quelles sont les principales îles des Antilles qui appartiennent à la France ? G., M.
22. Quelles sont les principales îles qui appartiennent à l'Angleterre ? J., B., P. A. (B.), T.
23. Quelle mer est située entre les Antilles et le continent ? A.
24. Quel océan est au nord-est ? A.
25. Quel détroit sépare Haïti de Porto-Rico ? M.
26. Quelles contrées sont situées au sud de la mer des Caraïbes ? C., V.
27. Quelle contrée est située au sud-ouest ? A. C. (C. A.)
28. Dans quelle direction est Cuba par rapport à Saint-Domingue ? — A la Jamaïque ? — A Porto-Rico ? — Aux îles Bahama ? — Aux Petites Antilles ? — A la Trinité ?
29. Dans quelle direction l'île de Cuba est-elle à l'égard de la Jamaïque ? — Saint-Domingue, à l'égard de Cuba ? — La Jamaïque, à l'égard de Saint-Domingue ? — Porto-Rico, de la Jamaïque ?
30. Quelle île est traversée par le 20^e degré de latitude ? C.
31. — Par le 70^e de longitude ?

¹ Les Géographes appellent Iles du Vent la chaîne des Petites Antilles qui s'étend de Porto-Rico au golfe de Paris, et Iles Sous-le-Vent celles qui sont situées le long de la côte septentrionale de l'Amérique du Sud, à l'ouest du golfe de Paris. Les Anglais divisent celles des Iles du Vent qui leur appartiennent en deux groupes qu'ils appellent *Leeward Isles* (Iles Sous-le-Vent) et *Windward Isles* (Iles du Vent).

RESUME.

Bornes.—Mer des Antilles, océan Atlantique, océan Pacifique.

Iles.—*De la Trinité, Joannes ou Marajo, Falkland, Terre-de-Feu, archipel patagonien, Juan-Fernandez, Galapagos.*

Isthme.—Panama.

Caps.—Gallinas, St-Roch, Horn, Blanco.

Montagnes.—Andes, Brésilennes (chaîne principale, la *Serra Espinhaço*), Parime, Chimborazo, Cotopaxi, *Aconcagua*.

Parties de mer.—Darien, Maracaïbo, *Tous-les-Saints*, St-Georges, Magellan, de Guayaquil, de Panama.

Cours d'eau.—Orénoque, Amazone, *Para, Tocantins, Madeira, Tapajos, Xingu, Rio Negro, San-Francisco, Rio de la Plata, Parana, Paraguay.*

Lacs.—*Maracaïbo, Titicaca.*

Divisions.

CONTRÉES.	Population.	Superficie m. c.	Pop rel.	Capitales.
Colombie	4,000,000	400,000	10	Bogota.
Vénézuéla	2,300,000	500,000	4½	Caracas.
Guyanes	400,000	180,000	2	Georgetown, Para- maribo, Cayenne.
Bésil	14,000,000	3,200,000	4½	Rio-de-Janeiro.
Equateur	1,200,000	200,000	6	Quito.
Pérou	3,000,000	450,000	7	Lima.
Bolivie	2,400,000	450,000	5	La Paz.
Chili	2,800,000	280,000	10	Santiago.
Argentine	4,400,000	1,100,000	4	Buenos-Ayres.
Paraguay	500,000	100,000	5	Asuncion.
Uruguay	700,000	70,000	10	Montévidéo.
Totaux	35,700,000	6,930,000		

EXERCICES.

- Par quelle mer l'Amérique méridionale est-elle bornée au nord ? *C.*
- Par quel océan est-elle bornée à l'est ? *A.*
- Quel océan est situé à l'ouest ? *P.*
- Quels sont les deux états les plus au nord ? *C., V.*
- Montrez l'Amérique centrale (10° n.).
- Quel isthme unit les deux Amériques ? *P.*
- Quelle est la capitale de la Colombie ? *B.*
- Nommez la capitale du Vénézuéla ? *C.*
- Quel golfe se trouve au nord-est de l'isthme de Panama ? *D.*
- Quel est celui qui est au sud du même isthme ? *P.*
- Quelle grande rivière traverse le Vénézuéla de l'ouest à l'est ? *O.*
- Quelle île est située au nord-est du Vénézuéla ? *T.*
- Quel golfe se trouve au nord-ouest du Vénézuéla ? *M.*
- Montrez le lac Maracaïbo. (10)
- Montrez l'Equateur.—Le Brésil.—Les Guyanes.—Le Pérou.
- Quelle est la capitale de l'Equateur ? *Q.*
- Celle du Brésil ? *R.-J.*
- Quelles montagnes sont situées entre le Vénézuéla et le Brésil ? *P.*
- Quelle chaîne est située dans l'E. du Brésil ? *E.*
- Quelles sont les deux contrées situées à l'ouest du Brésil ? *P., B.*
- Quelle est la capitale du Pérou ? *L.*—De la Bolivie ? *L. P.*
- Quel grand fleuve traverse le Brésil de l'ouest à l'est ? *A.*
- Quel affluent de l'Amazone arrose la Bolivie par plusieurs branches ? *M.*
- Quels sont les deux principaux affluents de l'Amazone situés au-dessous de la Madeira ? *T., X.*
- Lequel unit l'Orénoque à l'Amazone ? *N.*
- Montrez l'île Marajo.—La rivière Para.
- Quelle rivière se jette dans la rivière Para ? *T.*
- Quels sont les états situés au sud de la Bolivie et du Brésil ? *A., C., P., U.*
- Montrez la rivière Rio de la Plata.
- Quel est le principal tributaire du Rio de la Plata ? *P.*
- Quelles montagnes traversent le Pérou ? *A.*
- Montrez le pic Aconcagua, le plus élevé de l'Amérique. (32)
- Quelle est la capitale de la Plata ? *B.-A.*
- Du Paraguay ? *A.*—De l'Uruguay ? *M.*
- Quelle contrée se trouve le plus au sud de l'Amérique ? *P.*
- Montrez la Terre-de-Feu (*Tierra del Fuego*).
- Quel détroit sépare cette île de la Patagonie ? *M.*
- Quel groupe d'îles est situé à l'est du détroit de Magellan ? *F.*
- Quel cap est au S. de l'Amérique méridionale ? *H.*

EUROPE.

RÉSUMÉ.

Bornes.—Océan Glacial arctique, Asie, mer Caspienne, Caucase, mer Noire, Méditerranée, Atlantique.

Iles.—Nouvelle-Zemble, archipel Danois, îles Britanniques, Baléares, Corse, Sardaigne, Sicile, *Malte, Ioniennes, Candie.*

Presqu'îles.—Suède et Norvège, Danemark, Grèce, Italie, Espagne et Portugal.

Isthmes.—Pétréop, Corinthe.

Capes.—Nord, Matapan, Finisterre, la Hogue, Land's-End.

Montagnes.—Dovrefield, Ourals, Caucase, *Carrpathes*, Alpes, Pyrénées, Vésuve, Etna.

Océans et Mers.—Océan Glacial arctique, *mer Blanche*, mer Caspienne, l'Archipel ou mer Égée, mer Noire, Méditerranée, Adriatique, Atlantique, la Manche, mer du Nord, Baltique.

Golfes.—De Tarante, du Lion, de Gascogne ou de Biscaye, *de Riga*, de Finlande, de Rothnie.

Détroits.—Bosphore, Dardanelles, Phare de Messine, de Gibraltar, Pas de Calais, Saint-Georges, du Nord.

Fleuves.—Oural, Volga, Don, Dniéper, Danube, Tibre, Pô, Rhône, Tage, Garonne, Loire, Seine, Tamise, Rhin.

Lacs.—Onéga, Ladoga, de Genève, de Constance.

Divisions.

États.	Population.	Superficie m. c.	Pop. rel.	Capitales.
Angleterre.....	29,000,000	58,000	500	Londres.
Ecosse.....	4,000,000	80,000	138	Edimbourg.
Irlande.....	5,000,000	32,500	154	Dublin.
Danemark.....	2,200,000	15,000	147	Copenhague.
Suède.....	4,900,000	171,000	29	Stockholm.
Norvège.....	2,100,000	124,500	17	Christiania.
Russie.....	100,000,000	2,100,000	47	Saint-Petersbourg.
France.....	39,000,000	204,000	191	Paris.
Belgique.....	6,200,000	11,400	544	Bruxelles.
Hollande.....	4,500,000	12,700	354	La Haye.
Allemagne.....	50,000,000	202,000	243	Berlin.
Autriche-Hongrie.....	42,000,000	240,000	175	Vienne.
Suisse.....	3,000,000	16,000	188	Berne.
Espagne.....	18,000,000	195,000	92	Madrid.
Portugal.....	4,700,000	34,200	188	Lisbonne.
Italie.....	30,003,000	111,000	270	Rome.
Monténégro.....	300,000	3,500	86	Cettigné.
Serbie.....	2,100,000	19,000	110	Belgrade.
Roumanie.....	5,500,000	48,000	114	Bukharest.
Bulgarie.....	3,000,000	37,800	79	Sofia.
Turquie.....	5,000,000	65,000	77	Constantinople.
Grèce.....	2,200,000	25,000	88	Athènes.
Totaux.....	362,700,000	3,762,600		

EXERCICES.

1. Quel océan est situé au nord de l'Europe ? *A.*
2. Quelles mers sont situées au sud-est ? *C, N. (B.)*
3. Quelle grande mer sépare l'Europe de l'Afrique ? *M.*
4. Quelles mers la Méditerranée forme-t-elle ? *A., A.*
5. Par quel océan l'Europe est-elle bornée à l'ouest ? *A.*
6. Montrez la mer Blanche. (*White Sea*) (40° l.)
7. Quelles sont les trois contrées les plus au nord ? *N., S., R.*
8. Quelle mer est située entre la Suède et la Russie ? *B.*
9. Montrez les îles Britanniques (*British Islands*). (55° l.)
10. Quels sont les trois états, outre les Îles-Britanniques, qui sont les plus à l'ouest ? *F., P., E. (S.)*
11. Quelle est la capitale de la Russie ? *S.-P.*
12. — De la Suède ? *S.* — De la Norvège ? *C.* — De l'Angleterre ? *L.*
13. Quelle est la plus grande contrée de l'Europe ? *R.*
14. Quelle contrée se trouve entre la France et la Russie ? *A. (G.)*
15. Quel petit état est situé au nord de l'Allemagne ? *D.*
16. Montrez la Nouvelle-Zemble. (55 l.)
17. Montrez les principales îles de la Méditerranée. *C., S., S., C.*
18. Quelle presqu'île est située au sud de la Turquie ? *G.*
19. Quelles montagnes séparent l'Europe de l'Asie ? *O. (U.)*
20. Lesquelles se trouvent entre la mer Noire et la Caspienne ? *C.*
21. Quel est le plus grand fleuve de l'Europe ? *V.*
22. Quelle est sa longueur ? (*Voyez la mappemonde.*)
23. Nommez les trois plus grandes rivières qui débouchent dans la mer Noire ? *B., D., D.*
24. Nommez les deux plus grands lacs de la Russie. *L., O.*

M. G. M.

RESUME.

Iles.—La Grande-Bretagne, l'Irlande, les *Hébrides*, les *Shetland*.

Presqu'iles.—*De Cornouailles, de Galles, d'Ecosse.*

Caps.—*Foreland, Land'a-End, Clear, Malin.*

Montagnes.—*Grampians, Cheviots.*

Océan et Mers.—Atlantique, mer du Nord, la Manche, mer d'Irlande.

Golfes et Estuaires.—*Moray, du Forth, Wash, de la Tamise, de Bristol, de la Clyde, Donegal.*

Détroits.—Pas de Calais, Saint-Georges, du Nord.

Fleuves.—*Forth, Tamise, Severn, Mersey, Clyde, Shannon.*

Divisions.—Angleterre (comprenant le pays de *Galles*), Ecosse, Irlande (divisée en provinces nommées *Ulster, Leinster, Munster, Connaught*).

Villes.—ANGLETERRE : Londres, Liverpool, Manchester, Birmingham, Leeds, Sheffield.

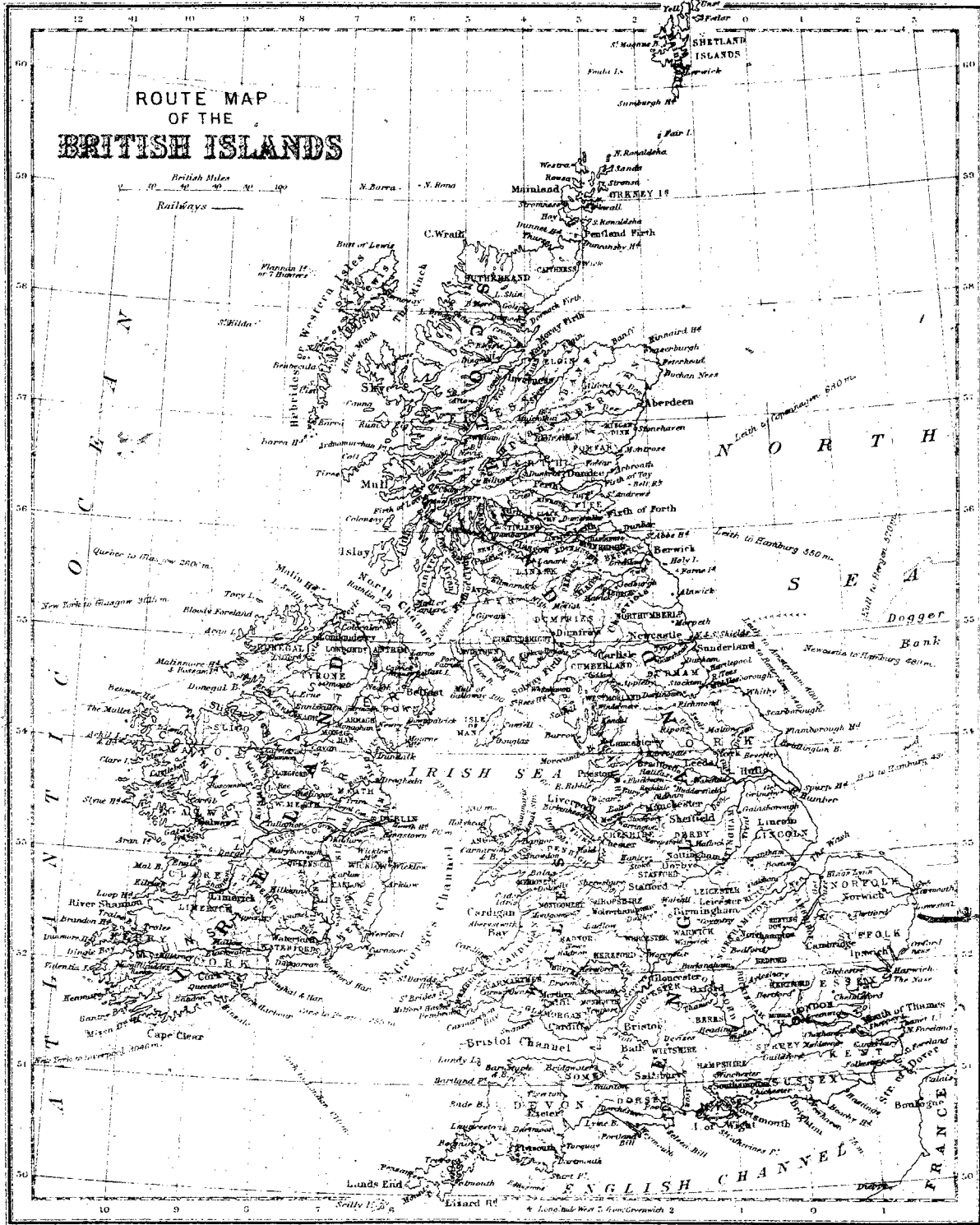
ECOSSE : Edimbourg, Glasgow.

IRLANDE : Dublin, Belfast, Cork.

EXERCICES.

1. Nommez les contrées renfermées dans les îles Britanniques. *E., I., E. (S.)*
2. Montrez l'Angleterre (*England*). — Montrez l'Ecosse (*Scotland*).
3. Montrez l'Irlande.—Montrez le pays de Galles (*Wales*).
4. Dans quelle partie de la Grande-Bretagne se trouve le pays de Galles ?
5. Par quel océan les îles Britanniques sont-elles bornées à l'ouest ? *A.*
6. Par quelle mer sont-elles bornées à l'est ? *N.*
7. Quelle mer est située entre l'Angleterre et l'Irlande ? *I.*
8. Quelle mer est au sud de l'Angleterre ? *M. (E.C.)*
9. Quelles îles sont situées au nord-ouest de l'Ecosse ? *H.*
10. Montrez les îles Shetland.
11. Quel détroit se trouve entre l'Irlande et l'Angleterre ? *S.-G.*
12. Quel golfe est situé au sud du pays de Galles ? *B.*
13. Par quel détroit la France est-elle séparée de l'Angleterre ? *P. de C. (D.)*
14. Quel détroit se trouve entre l'Irlande et l'Ecosse ? *N.*
15. Quel cap se trouve au sud-ouest de l'Angleterre ? *L.-E.*
16. Quel cap se trouve au nord de l'Irlande ? *M.*
17. Quelles montagnes séparent l'Ecosse de l'Angleterre ? *C.*
18. Montrez les principaux golfes ou estuaires (*Firths*) de l'Ecosse. *M., F.*
19. Montrez les principaux golfes ou estuaires de l'Angleterre. *W., T., B.*
20. Montrez le principal golfe situé à l'ouest de l'Irlande ? *D.*
21. Sur quelle rivière est située Liverpool ? *M.*
22. Montrez la Tamise. (*Thames*) (0° l.).
23. Quelle est la capitale de l'Angleterre ? *L.*
24. Sur quelle rivière la ville de Londres est-elle située ? *T.*
25. Quelle est la capitale de l'Ecosse ? *E.*
26. Près de quel golfe cette capitale est-elle située ? *F.*
27. Quelle est la capitale de l'Irlande ? *D.*
28. De quel côté de l'Irlande la ville de Dublin est-elle située ?
29. Quelle est la principale rivière de l'Irlande ? *S.*
30. Dans quel océan cette rivière coule-t-elle ? *A.*
31. Quelles sont les quatre grandes provinces de l'Irlande ? *U., L., M., C.*
32. Montrez l'Ulster.—Le Leinster.
33. Montrez le Munster.—Le Connaught.
34. Montrez, en Angleterre, Liverpool, (3° l.), Birmingham (2° l.).
35. Quelle est l'orientation de Manchester par rapport à Liverpool ?
36. Sur quelle rivière la ville de Glasgow est-elle située ? *C.*
37. Dans quelle partie de l'Irlande se trouve Cork, (52°) ?—Belfast, (6° l.) ?
38. Dans quelle direction Londres est-il à l'égard de la mer d'Irlande ?
39. —Edimbourg ?—Dublin ?—Liverpool ?
40. Dans quelle direction la ville de Liverpool se trouve-t-elle, par rapport à Londres ?
41. Quelle est la situation de l'Angleterre à l'égard de la mer d'Irlande ?

ROUTE MAP OF THE BRITISH ISLANDS



British Miles
0 20 40 60 80 100

Railways

N O R T H
S O U T H
E A S T
W E S T

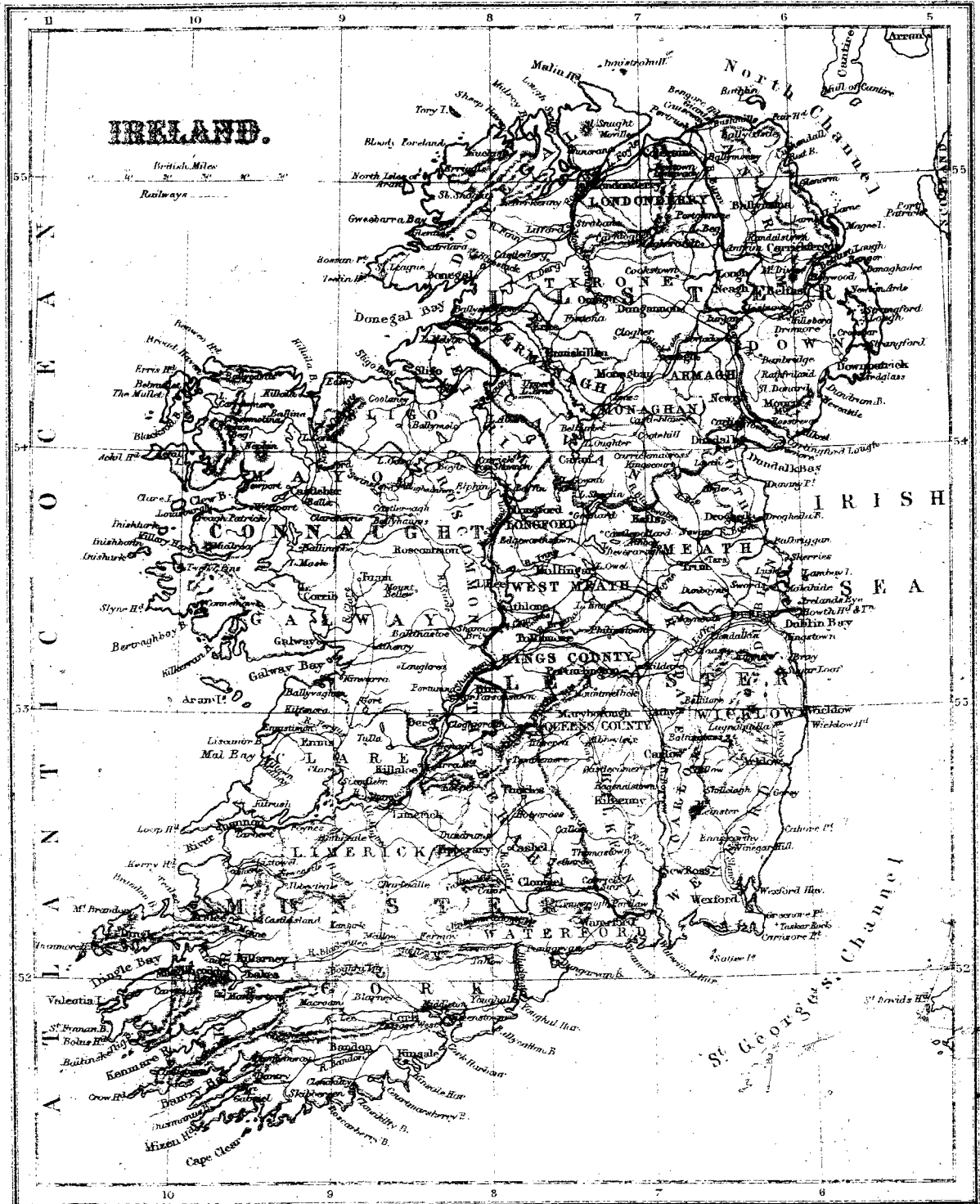
N O R T H

S E A

IRISH SEA

E N G L I S H C H A N N E L

FRANCE



1. Comment l'Irlande est-elle bornée au Nord?
2. Comment est-elle bornée au Sud?
3. —A l'Est?—A l'Ouest?
4. Combien y a-t-il de provinces en Irlande? 4.
5. Nommez ces provinces. *Ur., Mr., Lr., Ct.*
6. Combien y a-t-il de comtés en Irlande? 32.
7. Nommez les comtés situés dans l'Ulster. *Dl., Ly., Am., Te., Dn., Ah., Mn., Fl., Cn.*
8. Nommez ceux de Leinster. *Ld., W. Mh., E. Mh., Lh., Dn., Ke., Ks., Qs., Ww., Wd., Cw., Ky.*
9. Nommez ceux qui sont situés dans le Munster. *Ty., Wd., Ch., Ky., Lh., Ce.*
10. Quels sont ceux de Connaught? *Gy., Rm., Mo., So., Lm.*
11. Quelle est l'île située dans le Canal du Nord (*North Channel*)? *Rn.*
12. Nommez les îles situées à l'embouchure de la baie de Galway. *S. J. of An.*
13. Quelle île trouve-t-on à l'Ouest du comté de Mayo? *Al.*
14. Quel cap est situé au Sud de Cork? *Cr.*
15. Quel cap se trouve au S-O. de Clare? *Lp.*
16. Quel cap est situé sur la côte de Wicklow? *Ww.*
17. Dans quel comté se trouve les monts Mourne? *Dn.*
18. Où se trouvent les Monts Slieve Bloom? *K's., and Q's.*
19. Quelles rivières prennent leurs sources dans ces montagnes? *Sr., Ne., Bw.*
20. Quel lac (*Lough*) est situé entre les comtés Down et Louth? *Cd.*
21. Montrez la baie de Dublin.—Celle de Bantry.
22. Dans quel comté se trouvent les baies Dingle et Tralee? *Ky.*
23. Quelle baie trouve-t-on entre les comtés Clare et Galway? *Gy.*
24. Montrez les baies Clew et Killah.
25. Dans quel comté se trouve la baie Sligo? *So.*—Donegal? *Dl.*
26. Quel est le lac (*Lough*) situé entre les comtés Antrim et Tyrone? *Wh.*
27. Nommez quatre des principaux lacs de l'Irlande. *F., Nh., Sd., Ee.*
28. Nommez les principales baies situées dans l'Ulster. *Dl., Sy., Fe., Bt., Dm.*
29. —Celles qui se trouvent dans Leinster. *Dk., Dn.*
30. Montrez celles qui sont situées dans Munster. *Ch., By., Ke., De., De., Bn.*
31. —Celles qui se trouvent dans Connaught. *Gy., Cw., Bd., Ka., So.*
32. Montrez la rivière Shannon.
33. Nommez les principaux lacs formés par le Shannon. *Re., Bf., Ga.*
34. Quelles sont les trois principales rivières situées dans le Nord? *Ee., Fe., Bn.*
35. —Les trois principales situées dans le Sud? *Bw., Sr., Br.*
36. Dans quelle mer le Shannon se jette-t-il? *Ac.*
37. Quelle est la capitale de l'Irlande? *Dn.*
38. Sur quelle rivière Dublin est-il situé? *Ly.*
39. Quelle est la seconde ville de l'Irlande? *Ch.*
40. Sur quelle rivière Cork est-il situé? *Le.*
41. Quelles sont les comtés baignés par l'Atlantique, entre l'embouchure du Shannon et la baie Donegal? *Ce., Gy., Mo., So., Lm.*
42. Quels sont les trois comtés les plus au Nord? *Dl., Ly., Am.*
43. —Les trois les plus au Sud? *Ky., Ch., Wd.*
44. Nommez les comtés traversés par le 54e degré de latitude. *Mo., So., Lm., Cn., Mn., Lh.*
45. Nommez ceux qui le sont par le 53e degré de latitude. *Ce., Gy., Ty., Qs., Ke., Ww.*
46. Par quels comtés le comté Galway est-il borné? *Mo., Rn., Ks., Ty., Ce.*
47. Nommez les comtés qui bordent la mer d'Irlande (*Irish Sea*) entre les comtés Antrim et Wexford. *Dn., Lh., Mh., Dn., Ww.*
48. Quels sont les comtés baignés par le canal Saint Georges? *Wd., Wd., Ch.*
49. Quels comtés la baie Galway sépare-t-elle? *Ce., Gy.*
50. Quelle rivière sépare les Comtés Kilkenny et Waterford? *Sr.*
51. Quelle rivière arrose le comté Wexford? *Sy.*
52. Quelle comté est arrosé par la rivière Blackwater? *Ch.*

RESUME.

Ile.—Corse.
Caps. — *Grêt-Nez*, de la Hogue.
Montagnes. — *Vosges, du Jura*, Alpes (monts *Blanc et Cenise*), *Cevennes*, *Pyrénées*.
Océan et Mers. — Méditerranée, Atlantique, la Manche, du Nord.
Golfes. — Du Lion, de Gascogne ou de Biscaye.

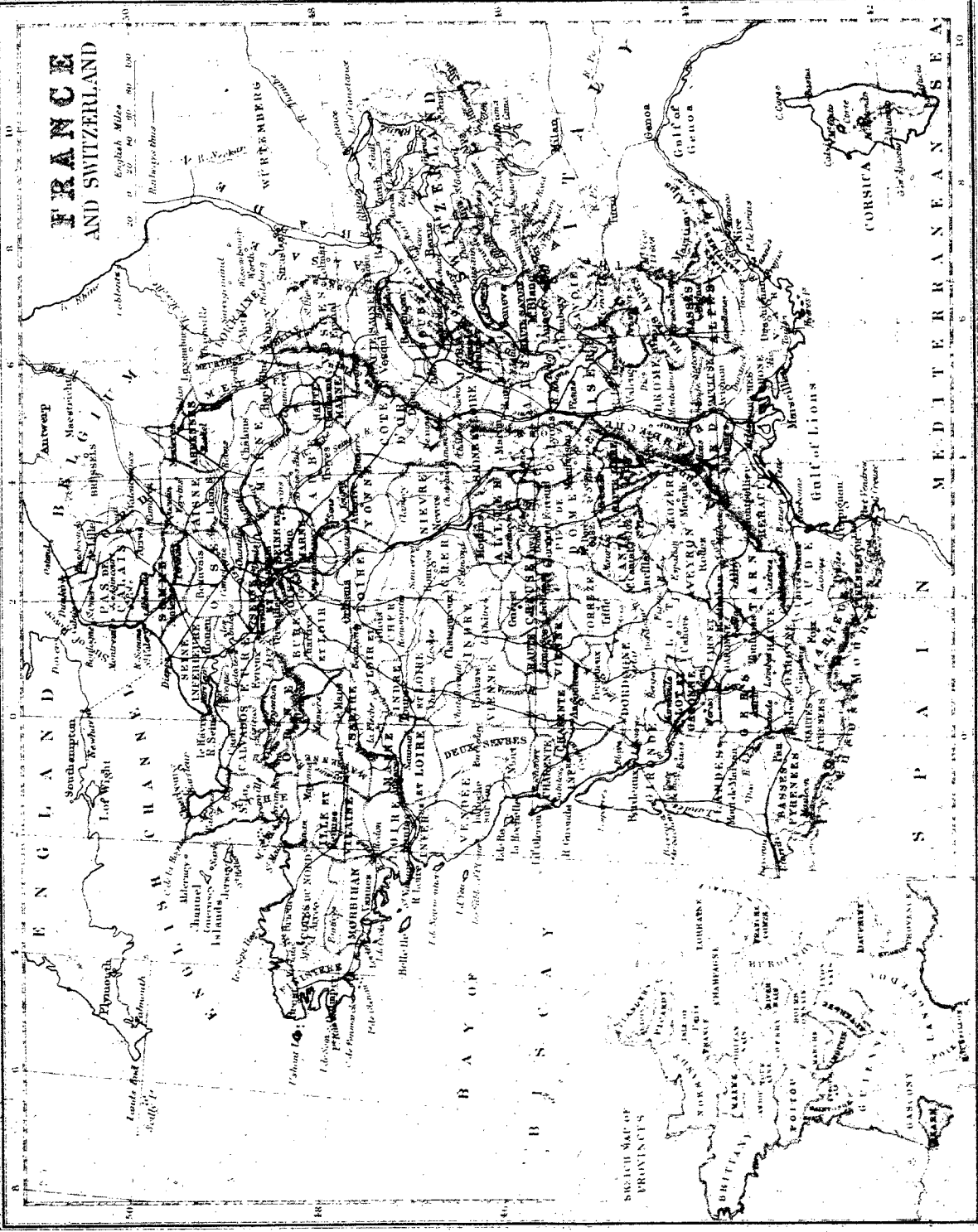
Détroit. — Pas de Calais.
Fleuves. — Rhône, Gironde (Garonne), Loire, Seine.
Divisions. — La France se divisait autrefois en 85 provinces, elle se divise maintenant en 86 départements.
Villes. — Paris, Lyon, Marseille, Bordeaux, Lille, Toulouse, Nantes, le Havre, Rouen, Tours.

EXERCICES.

1. Comment la France est-elle bornée au nord ? *M. (E.-C.)*, *P. C. (S. D.)*, *B.*
2. Comment est-elle bornée au sud ? *P.*, *M.*
3. Par quoi est-elle bornée à l'est ? *A.*, *S.*, *I.*
4. Par quoi est-elle bornée à l'ouest ? *G.*, *A.*
5. Qu'est-ce qui sépare la France de l'Angleterre ? *M.*, *P. C.*, (*E. C.*, *S. D.*)
6. Combien y a-t-il de départements ? 86.
7. Quelle grande île, formant un département, est située dans la Méditerranée ? *C.*
8. Montrez et suivez le cours de la Seine.
9. Quelles grandes villes sont situées sur la Seine ? *P.*, *R.*
10. Quel fleuve coulant du N. au S., se décharge dans la Méditerranée ? *R.*
11. Quelle grande ville est située sur le Rhône ? *L.*
12. Quelles grandes rivières ont leurs embouchures dans le golfe de Gascogne ? *G.*, *L.*
13. Comment s'appelle la Gironde dans la partie supérieure de son cours ? *G.*
14. Quelles sont les deux principales villes situées sur la Loire ? *N.*, *T.*
15. Quelle chaîne de montagnes se trouve entre la France et l'Espagne ? *P.*
16. Quelles chaînes de montagnes sont situées à l'est de la France ? *V.*, *J.*, *A.*
17. Quel détroit sépare la France de l'Angleterre ? *P. C. (D.)*
18. Sur quelle rivière Tours est-il situé ? *I.*
19. Quelle est la capitale de la France ? *P.*
20. Sur quelle rivière Paris est-il situé ? *S.*
21. Quelle chaîne de montagnes se trouve dans le sud de la France ? *C.*
22. Montrez les monts du Jura. — Les Vosges.
23. Montrez le mont Cenis, dans les Alpes.
24. Montrez la Savoie.
25. Quels monts remarquables se trouvent dans la Savoie ? *B.*, *C.*
26. Quel pays est séparé de la France par les montagnes du Jura ? *S.*
27. Quel grand port français de commerce est situé sur la Méditerranée ? *M.*
28. Quelle ville remarquable est située sur la Garonne ? *B.*
29. Quelle ville se trouve à l'embouchure de la Seine ? *H.*
30. Quel golfe est situé au sud de la France ? *L.*
31. Dans quelle partie de la France est la Bretagne ? (*Brittany.*)
32. Où se trouve la Normandie ?
33. Quelle est l'orientation du Maine par rapport à la Normandie ?
34. Quelle est l'orientation de l'Anjou par rapport à la Bretagne ?
35. Dans quelle province se trouvait Paris ? *I.-de-F.*
36. Dans quel département se trouve maintenant cette ville ? *S.*
37. Quelle province se trouvait à l'est de l'Ile-de-France ? *C.*
38. Où se trouvent le Languedoc et la Provence ?
39. Quels départements touchent aux Pyrénées ? *B.-P.*, *H.-P.*, *A.*, *P.-O.*

FRANCE AND SWITZERLAND

English Miles
0 20 40 60 80 100
Railways
Cableways



MEDITERRANEAN SEA

SPANISH

ITALY

SWISS MAP OF PROVINCES

BAY OF BISCAY

ENGLAND

CHAMPAGNE

NORMANDE

BRETAGNE

PROVENCE

SWITZERLAND

ITALY

GENOVA

MEDITERRANEAN SEA

GULF OF LIONS

SPANISH

ITALY

SWISS MAP OF PROVINCES

BAY OF BISCAY

ENGLAND

CHAMPAGNE

NORMANDE

BRETAGNE

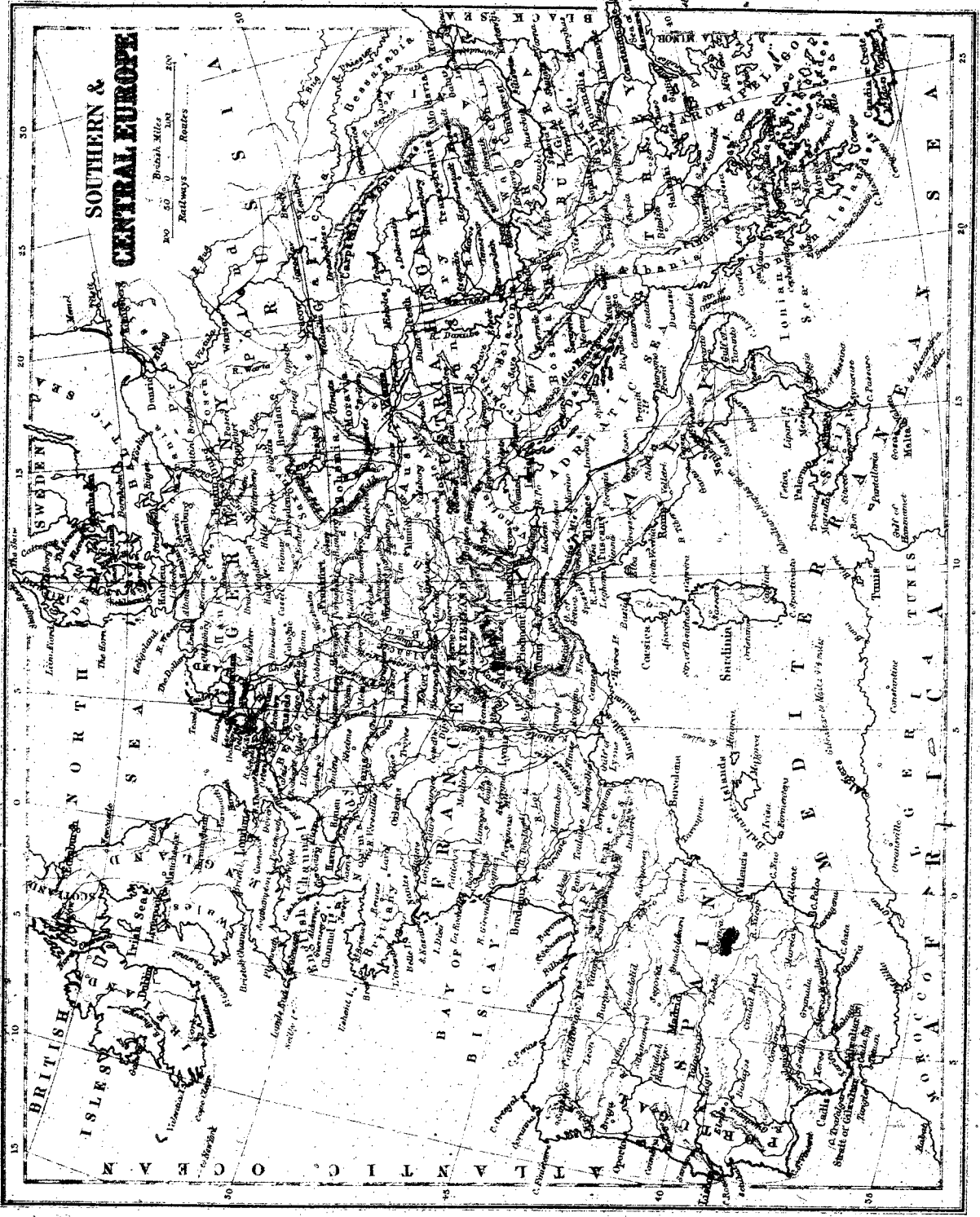
PROVENCE

SWITZERLAND

ITALY

GENOVA

MEDITERRANEAN SEA



SOUTHERN & CENTRAL EUROPE

Bozrah Miles
Routes
Railways

Map showing Southern and Central Europe, including the British Isles, North Sea, Atlantic Ocean, and Mediterranean Sea. Major cities and geographical features are labeled.

RÉSUMÉ.

Bornes.—Mer du Nord, mer Baltique, Russie, Mer Noire, Méditerranée, Atlantique.
Iles.—Archipel Danois, Britanniques, Baléares (*Majorque, Minorque*), Corse, Sardaigne, Sicile, *Malde, Ioniennes, Candie*.
Presqu'îles.—Danemark, Grèce, Italie, Espagne et Portugal.
Isthmes.—Pérekop, Corinthe.
Cap.—Matapan, Finisterre, la Hogue, Land's-End.
Montagnes.—*Carpathes*, Alpes, *Apennins*, Pyrénées, Vésuve, Etna.
Océan et Mers.—L'Archipel ou mer Egée, mer Noire, Méditerranée, Adriatique, Atlantique, la Manche, mer du Nord, Baltique.
Golfes.—De Tarante, du Lion, de Gascogne ou de Biscaye.
Détroits.—Bosphore, Dardanelles, Phare de Messine, de *Donsfacto*, de Gibraltar, Pas de Calais, Saint-Georges, du Nord.

Fleuves.—Danube, Tibre, Pô, Rhône, Tage, Garonne, Loire, Seine, Tamise, Rhin, *Elbe*.

Laos.—De Genève, de Constance.

Divisions.—1° Grande-Bretagne et Irlande ; capitale, *Londres* ;—2° Danemark ; cap., *Copenhague* ;—3° France ; cap., *Paris* ;—4° Belgique ; cap., *Bruxelles* ;—5° Hollande ; cap., *la Haye* ;—6° Allemagne ; cap., *Berlin* ;—7° Autriche-Hongrie ; cap., *Vienne* ;—8° Suisse ; cap., *Berne* ;—9° Portugal ; cap., *Lisbonne* ;—10° Espagne ; cap., *Madrid* ;—11° Italie ; cap., *Rome* ;—12° Monténégro ; cap., *Cettinje* ;—13° Serbie ; cap., *Belgrade* ;—14° Roumanie ; cap., *Bukharest* ;—15° Bulgarie ; cap., *Sofia* ;—16° Turquie ; cap., *Constantinople* ;—17° Grèce ; cap., *Athènes*.

EXERCICES.

1. Par quelles mers l'Europe centrale est-elle bornée au nord ? *N, B.*
2. Quelle mer est située au sud-est ? *A.*
3. Quelles mers se trouvent au sud ? *M, A.*
4. Par quel océan est-elle bornée à l'ouest ? *A.*
5. Quelle est la capitale du Danemark ? *C.*—De l'empire d'Allemagne ? *B.*—De la Prusse ? *B.*
6. Quelle est la capitale de l'Autriche-Hongrie ? *V.*—De la Turquie ? *C.*
7. Quelle contrée est au sud de la Turquie ? *G.*
8. Quelle est la capitale de l'Espagne ? *M.*—Du Portugal ? *L.*—De l'Italie ? *R.*
9. Montrez la France.—L'Angleterre.
10. Quelle est la principale ville de la Suisse ? *B.*
11. —La capitale de la Belgique ? *B.*—De la Hollande ? *H.*
12. Montrez l'île de Candie (35).—La Sicile.—La Sardaigne.
13. Quelle île de la Méditerranée appartient à la France ? *C.*
14. Quel groupe d'îles, situé dans la Méditerranée, appartient à l'Espagne ? *B.*
15. Nommez les deux principales îles de ce groupe ? *M, M.*
16. Montrez la presqu'île hispanique. (*L'Espagne et le Portugal.*)
17. Quelle presqu'île est située dans le N. de l'Europe centrale ? *D.*
18. Quelle presqu'île est située au sud-est de la France ? *I.*
19. Montrez les Alpes (46-7).—Les Apennins (8 1).
20. Montrez les monts Carpathes (48).
21. Quel golfe est situé au nord de l'Espagne ? *G.*
22. Quelle mer se trouve entre la France et l'Angleterre ? *M.(E.C.)*
23. Quel détroit unit la Manche à la mer du Nord ? *P. C. (D.)*
24. Quel détroit sépare la Sicile de l'Italie ? *M.*
25. Quel détroit sépare l'île de Corse de la Sardaigne ? *B.*
26. Quel est celui qui unit la Méditerranée à l'Atlantique ? *G.*
27. Quelle grande rivière arrose l'est de l'Europe centrale ? *D.*
28. Dans quelle mer se jette le Danube ? *N. (B.)*
29. Quelles sont les deux grandes rivières qui, arrosant l'Allemagne, se jettent dans la mer du Nord ? *R, E.*
30. Nommez les quatre principales rivières qui arrosent la France ? *S, L, G, R.*
31. Quelle est l'orientation de l'Espagne à l'égard de la France ?
32. —Celle de la France à l'égard de l'Italie ?—Celle de l'Italie à l'égard de l'Autriche-Hongrie ?

RESUME.

Bornes.—Océans Glacial arctique, Pacifique, Indien ; mers Rouge, Méditerranée ; Europe.
Iles.—Du Japon (*Yesso, Nippon, Siko, Kiou-Siou*), Formose, Haïnan, Ceylan.
Presqu'îles.—*Kamatchatka*, Corée, Malacca, Décan, Arabie, Asie Mineure.
Isthme.—Suez.
Caps.—Nord-Est, Oriental, *Cambodge*, Komania, Comorin.
Montagnes.—Oural, Altai, *Jablonoi Himalaya* (Everest), Caucase, *Taurus, Ararat*.
Mers et Golfs.—Océan Glacial, Pacifique, Behring, Okhotsk, du Japon Jaune, de Chine, de Siam, de Bengale, Persique, d'Arabie, Indien, Rouge, Méditerranée, Noire, Caspienne.
Détroits.—De Behring, de *Corée*, de Malacca, de Bab-el-Mandeb, Dardanelles, Bosphore.
Fleuves.—Obi, *Ténissé*, Léna, *Amour*, Hoang-Ho (fleuve Jaune), Yang-tse-Kiang (fleuve Bleu), *Mékong*, Gange, Indus, *Euphrate*.

Laos.—*Arat* (mer ou lac), *Beikal*.

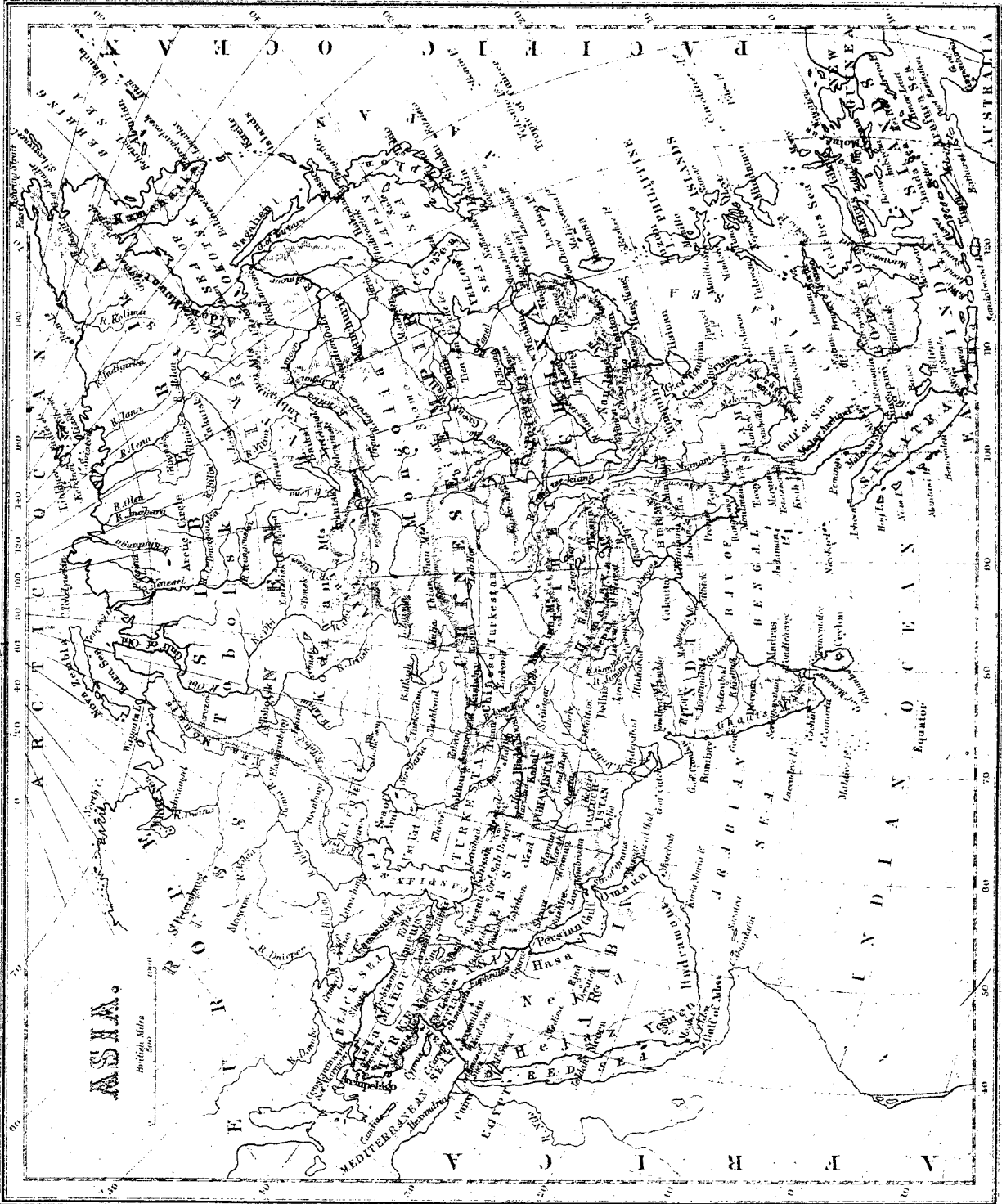
Divisions.

ÉTATS.	Population.	Superficie m. c.	Pop. rel.	Capitales.
Turque d'Asie.....	17,000,000	700,000	24	Smyrne (port princ.)
Arabie.....	6,000,000	1,000,000	6	Mascate (ville princ.)
Persé.....	8,000,000	600,000	13	Téhéran.
Indes anglaises.....	285,000,000	1,500,000	187	Calcutta.
Indo-Chine française.....	17,000,000	105,000	162	Saigon, Hué.
Siam.....	6,000,000	270,000	22	Bangkok.
Chine.....	400,000,000	4,400,000	88	Pekin.
Japon.....	10,000,000	150,000	267	Tokio.
Sibérie.....	21,000,000	6,000,000	2	Irkoutsk (ville princ.)
Autres états.....	810,000,000	16,025,000	16	
Totaux.....				

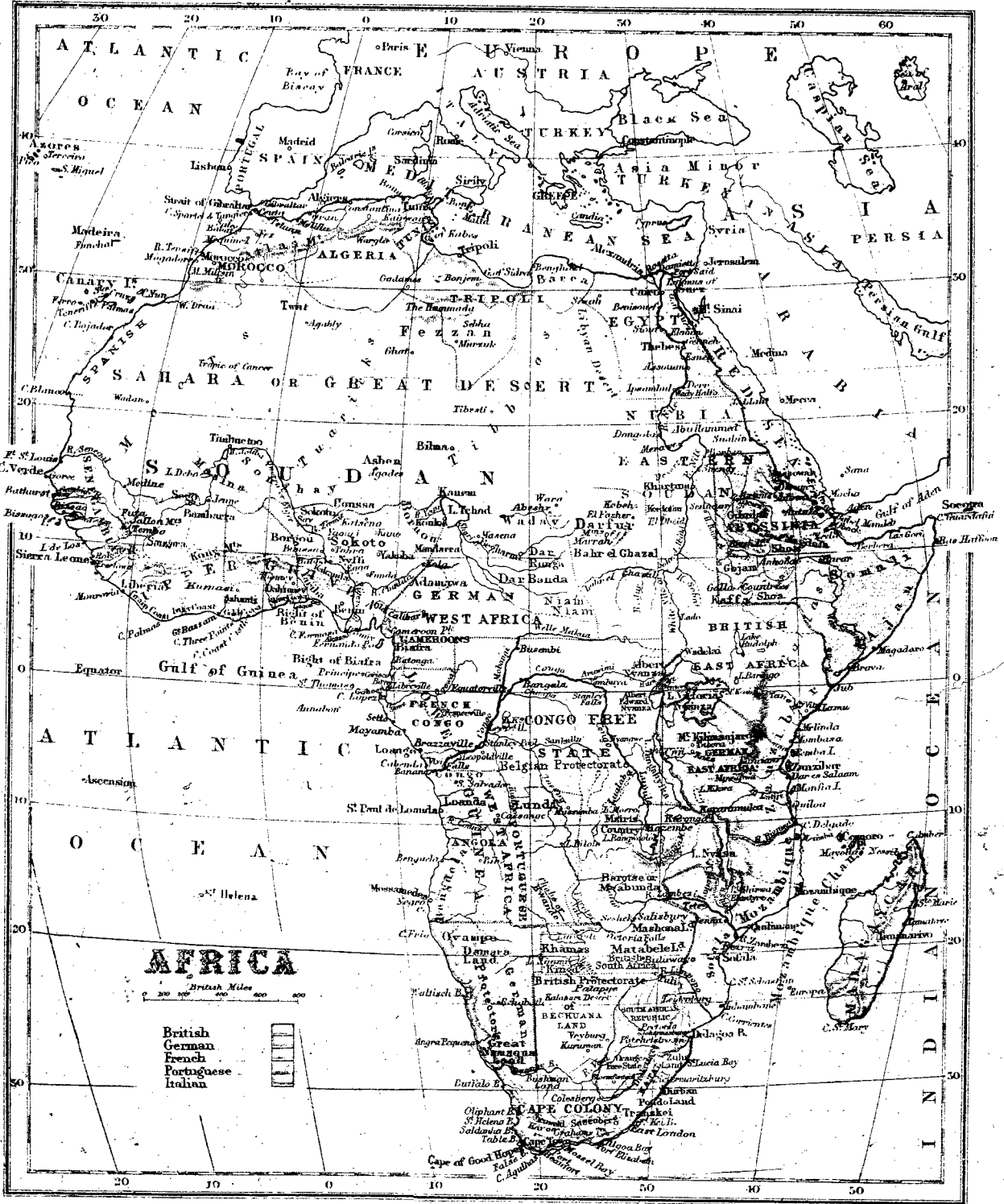
EXERCICES.

1. Par quoi l'Asie est-elle bornée au nord ? *O. G.*
2. —A l'est ? *O. P.*—Au sud ? *O. I.*—A l'ouest ? *M. R., M., E.*
3. Quelle est la contrée la plus au nord de l'Asie ? *S.*
4. —La plus au sud ? *I.*—La plus à l'ouest ? *T.*
5. Montrez les états suivants et nommez leurs capitales : le Chine, *P.*—Le royaume d'Annam, *H.*—Le Japon, *T.*
6. Montrez l'Hindoustan et nommez sa capitale. *C.*
7. Quel groupe d'îles est situé à l'est de la Chine ? *J.*
8. Quelles sont les principales îles de ce groupe ? *Y., N., S., K.*
9. Quelle île est située au sud de l'Hindoustan ? *C.*
10. Montrez la presqu'île de Kamatchatka.
11. —Celle de Corée.—Celle de Malacca.—Celle du Décan.
12. Montrez la mer Rouge.—Le golfe Persique.—La mer Noire.
13. Quelle grande presqu'île est formée par la mer Rouge, la mer Arabe et le golfe Persique ? *A.*
14. Quel isthme unit l'Asie à l'Afrique ? *S.*
15. Quels sont les deux caps situés au sud à peu près sous la même latitude ? *C., C.*
16. Quel cap trouve-t-on au S. de la presqu'île de Malacca ? *R.*
17. Quelles montagnes séparent la Sibérie de la Chine ? *A., J. (Y.)*

18. Montrez les monts Hymalayas.—Le mont Everest.
19. Quelle est son altitude ? (*Voyez sur la mappemonde.*)
20. Quels monts séparent l'Europe de l'Asie ? *C., O.*
21. Montrez, dans l'Asie Mineure, les monts Taurus et Ararat.
22. Quelle est l'altitude de ces monts ? (*Voyez la mappemonde.*)
23. Montrez la mer de Behring (60).—Celle d'Okhotsk.
24. Quelle mer est située entre la Chine et le Japon ? *J.*
25. Celle qui se trouve au sud de la Corée ? *J. (Y.)*
26. Quelle mer trouve-t-on entre l'Arabie et l'Hindoustan ? *A.*
27. Montrez la mer Caspienne.—Le lac Aral.
28. Où se trouve le détroit de Malacca ?
29. Quel est le détroit situé à l'entrée de la mer Rouge ? *B.-M.*
30. Quelles sont les trois grandes rivières de la Sibérie qui se jettent dans l'océan Arctique ? *O., I., L.*
31. Quel grand lac trouve-t-on aux sources de l'Épissé ? *B.*
32. Quel est le plus grand fleuve de la Chine ? *Y.-K. (F. Bleu).*
33. Quel est le second ? *H.-H. (F. Jaune).*
34. Quel grand fleuve coule dans l'ouest de l'Hindoustan ? *I.*
35. Quel fleuve remarquable se jette dans le golfe Persique ? *E.*
36. Qu'est-ce qui sépare l'Asie de l'Europe ? *O., O. (U., U.)*



ASIA.
British Miles
Nautical Miles



AFRIQUE.

81

RESUME.

Bornes.—Méditerranée, mer Rouge, océan Indien, Atlantique.

Iles.—Madagascar, de la Réunion, Maurice, du Cap-Vert, Canaries, Madère.

Isthme.—De Suez.

Caps.—Blanc, Bon, Guardafui, Bonne-Espérance, Vert.

Montagnes.—Atlas, Kongs, de l'Abyssinie, Neigeuses.

Désert.—Sahara.

Mers et Golfses.—Méditerranée, de Gabès (Kabès), de la Sidre, Rouge, d'Aden, de Guinée.

Détroits.—Gibraltar, Bab-el-Mandeb, canal de Mozambique.

Fleuves.—Nil, Sénégal, Gambie, Niger, Congo, Orange, Zambèze.

Canal.—De Suez.

Lacs.—Tchad, Albert, Victoria, Tanganika, Nyassa.

Divisions.

CONTRÉES.	Population.	Superficie m. c.	Pop rel.	Capitales.
Maroc	7,500,000	300,000	25	Fez.
Algérie	3,800,000	250,000	15	Alger.
Tunisie	1,500,000	45,000	33	Tunis.

Divisions (suite).

CONTRÉES.	Population.	Superficie m. c.	Pop rel.	Capitales.
Tripoli	1,000,000	390,000	26	Tripoli.
Egypte	7,000,000	400,000	17	Le Caire.
Abyssinie	5,000,000	200,000	25	Gondar.
Zanguebar angl. . .	1,000,000	154,508	4	} Zanzibar (ville pr.)
Zanguebar allem..	5,000,000	463,500	11	
Mozambique port.	3,000,000	309,000	10	Mozambique.
Madagascar	4,000,000	231,700	17	Tananarive.
Transvaal	800,000	115,000	7	Pretoria.
Orange	150,000	45,000	3	Bloemfontein.
Natal	500,000	21,000	24	Pietermaritzbourg.
Le Cap	1,700,000	225,000	7	Le Cap.
Congo français...	4,000,000	309,000	13	
Sahara indép.	4,000,000	2,041,000	2	} Kartoum (ville pr.)
Soudan indép.	40,000,000	3,862,000	10	
Congo indép.	20,000,000	772,500	26	Boma.
Autres contrées...	30,000,000	2,000,000	15	
Totaux	139,950,000	12,134,200		

EXERCICES.

1. Quelle mer est au nord de l'Afrique? *M.*
2. —Au N.-E.? *R.*—Quel océan est à l'E.? *I.*
3. Quel océan est situé à l'ouest? *A.*
4. Nommez les états situés sur la Méditerranée.
M., A., T., T., E.
5. Quelles sont leurs capitales? *F., A., T., T., C.*
6. Quels sont les états bornés par la mer Rouge (*Red Sea*)? *E., A.*
7. Quelles sont les capitales de ces États? *C., G.*
8. Montrez la colonie du Cap et nommez sa capitale. *C.-T.*
9. Quelle est la capitale de la colonie de Natal? *P.*
10. Montrez la Guinée méridionale. (*Lower G.*) (*10s*)
11. Montrez la Guinée septentrionale.
12. Montrez la Sénégambie.—Le Sahara.
13. Quelle grande île est située au sud-est de l'Afrique? *M.*
14. Quel canal sépare cette île de la terre ferme? *M.*
15. Quel groupe d'îles est situé au nord-ouest? *C.*
16. Quel isthme est situé entre la mer Rouge et la Méditerranée? *S.*
17. Quel canal unit la mer Rouge à la Méditerranée? *S.*
18. Quels sont les quatre caps situés aux quatre points cardinaux de l'Afrique? *B., G., B.-E., V.*
19. Montrez la Barbarie. (*31-0.*)
20. Quelle chaîne de montagnes traverse cette contrée? *A.*
21. Quelles montagnes trouve-t-on au nord de la Guinée septentrionale? *K.*
22. Quel golfe est situé au sud-est de la mer Rouge? *A.*
23. Quel détroit unit ce golfe à la mer Rouge? *B.-M.*
24. Quels golfes, formés par la Méditerranée, sont situés dans la Barbarie? *G., S.*
25. Montrez le golfe de Guinée. (*0*)
26. Quel détroit sépare l'Europe de l'Afrique? *G.*
27. Montrez, dans le Soudan, le lac Tchad.
28. Montrez la plus grande rivière de l'Afrique? *N.*
29. Quels sont les deux lacs qui sont vers sa source? *A., V.*
30. Montrez la rivière Zambèze. (*15 s.*)
31. Quel lac alimente cette rivière? *N.*
32. Quelle grande rivière traverse la Guinée septentrionale après avoir arrosé le Soudan? *N.*
33. Montrez la république du Transvaal (*23*).
34. Quelle rivière borne la colonie du Cap au nord? *O.*
35. Dans quelles eaux le fleuve Niger débouche-t-il? *G. G.*

RESUME.

Bornes. — Amérique, pôle austral, océan Indien, Asie.
Divisions physiques. — Malaisie, Australasie, Polynésie.
Îles. — Sumatra, Java, Bornéo, Célèbes, Moluques, Philippines, Nouvelle-Guinée, Nouvelles-Hébrides, Nouvelle-Calédonie, Nouvelle-Zélande, Tasmanie, Mariannes ou des Larcous, Carolines, Fidji, Kermadec, des Amis, de Cook, Taïti, de la Société, des Navigateurs, Marquises, Hawaïennes ou Sandwich.

Montagnes. — Bleues, *Mazama-Loa*.

Mer. — *De Coraïl*.

Golfe. — De Carpentarie.

Détroits. — De la Sonde, de Bass.

Fleuve et Lac. — *Murray, Torrens*.

Divisions.

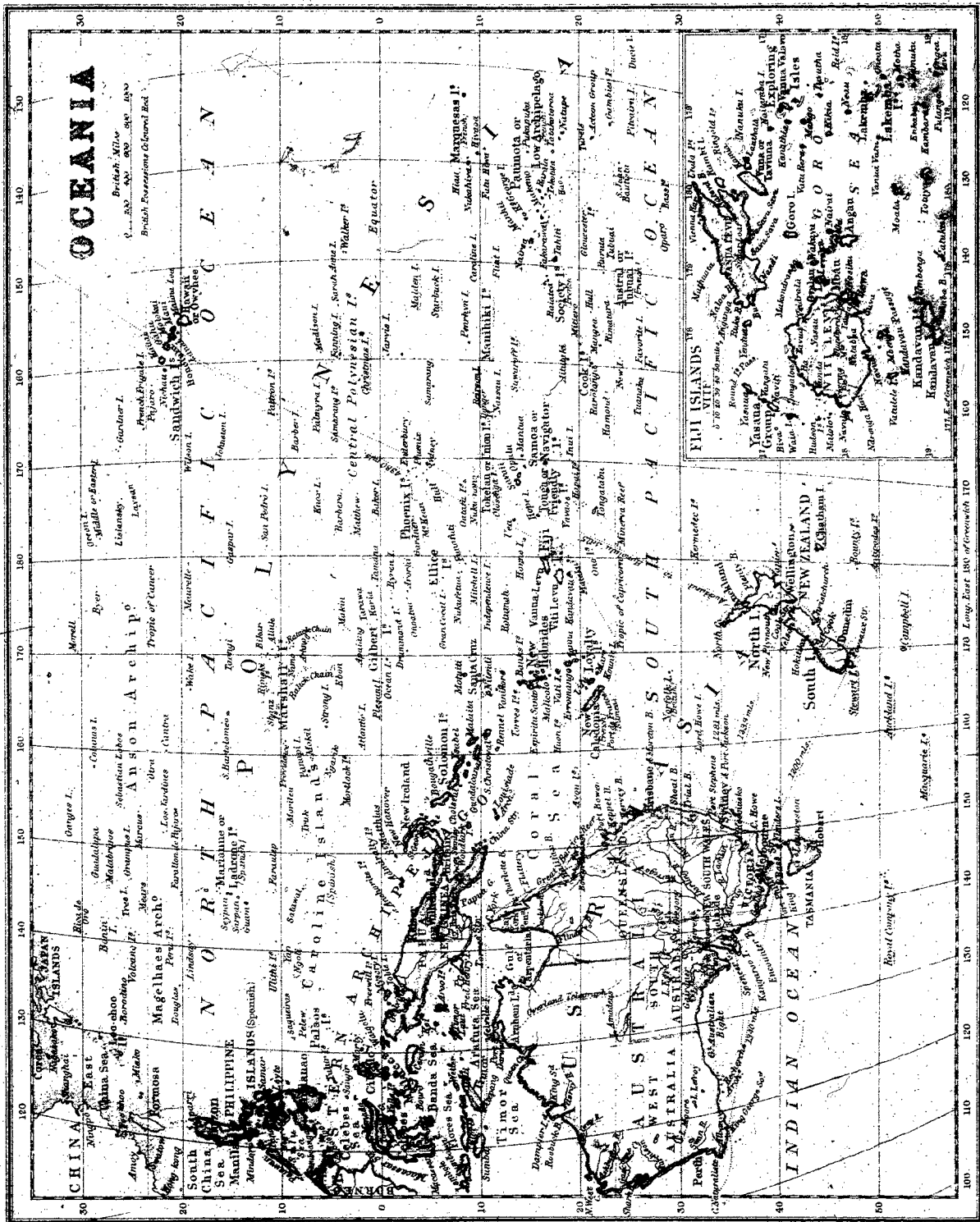
CONTRÉES.	Populat.	Superficie m. c.	Pop. rel.	Capitales.
Possessions hollandaises.....	28,000,000	700,000	40	Batavia.
“ espagnoles.....	9,000,000	77,000	117	Manille.

Divisions (suite).

CONTRÉES.	Populat.	Superficie m. c.	Pop. rel.	Capitales.
Victoria.....				Melbourne.
Nouvelles-Galles du Sud.....				Sydney.
Queensland.....				Brisbane.
Australie méridionale.....	4,200,000	3,200,000	1	Adélaïde.
Australie occidentale.....				Perth.
Tasmanie.....				Hobart-Town.
Nouvelle-Zélande.....				Wellington.
Possessions françaises.....	90,000	11,000	8	
“ allemandes.....	300,000	115,000	4	
“ portugaises.....	125,000	5,800	21	
État d'Hawaï.....	85,000	6,500	13	Honolulu.
Totaux.....	42,000,000	4,115,300		
Australie.....	3,000,000	3,000,000		
Bornéo.....	2,000,000	300,000		
Nouvelle-Guinée.....	400,000	270,000		

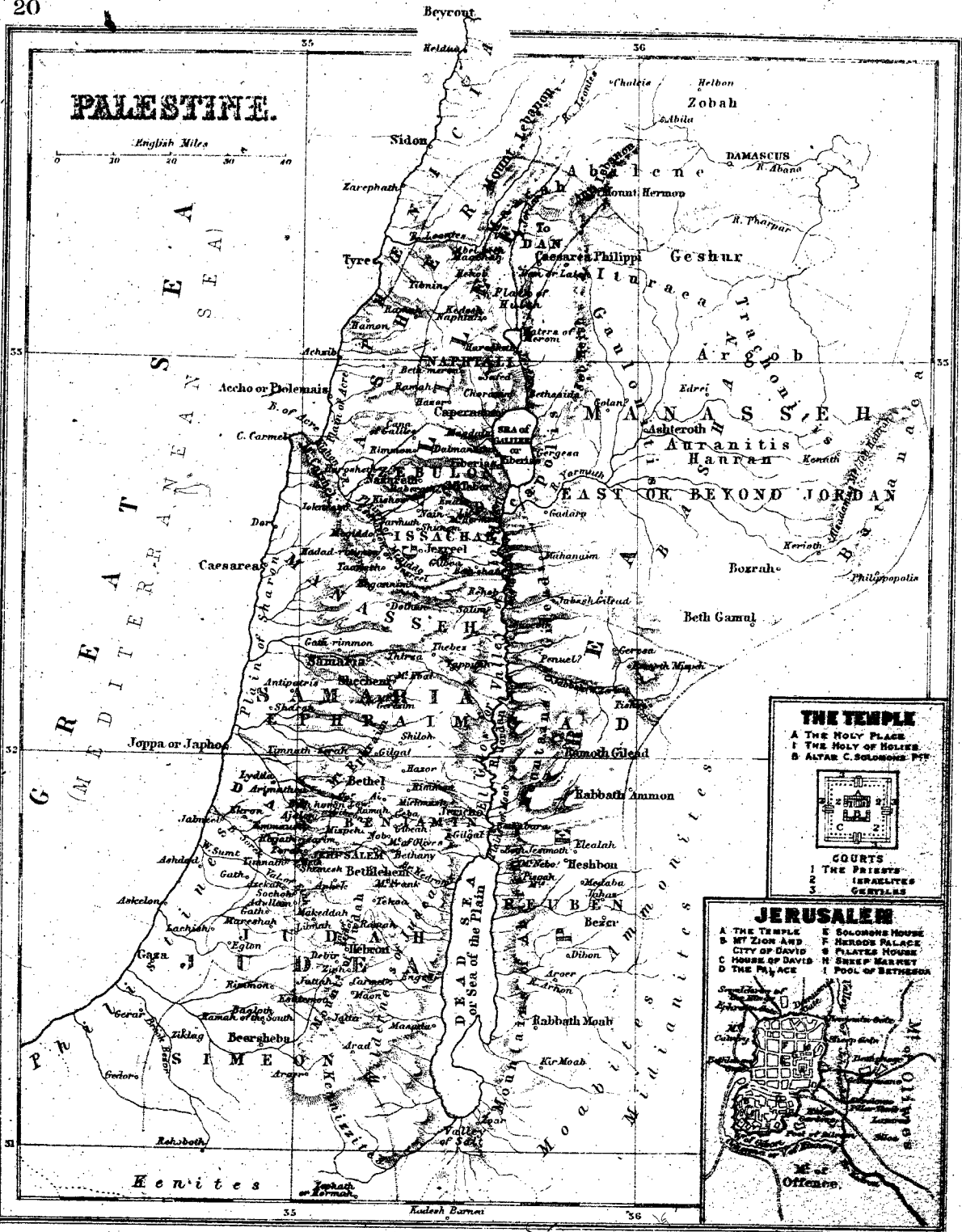
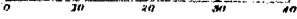
EXERCICES.

1. Quelle est la plus grande île de l'Océanie ? *B.*
2. Quelle province occupe le nord-est de l'Australie ? *Q.*
3. Quelle province se trouve au sud du Queensland ?
N.-G. S. (N. S. W.)
4. Quelle province occupe l'ouest de l'Australie ? *A. o. (W. A.)*
5. Quelle grande ville se trouve dans la colonie de Victoria ? *M.*
6. Quelle est la principale rivière du continent australien ? *M.*
7. Quel est le principal golfe ? *C.*
8. Quelle île est située au sud-est ? *T.*
9. Par quel détroit cette île est-elle séparée de la terre ferme ? *B.*
10. Quelles grandes îles se trouvent au sud-est du continent ?
N.-Z.
11. Quel groupe d'îles se trouve entre les îles Célèbes et la Nouvelle-Guinée ? *M.*
12. Quel groupe trouve-t-on au nord des Célèbes ? *P.*
13. Montrez les îles Carolines. (150° l.)
14. Quel groupe est situé au nord des îles Carolines.
15. Montrez les îles Sandwich.
16. Où sont situées les îles Fidji ?
17. Quel détroit sépare la Nouvelle-Guinée de l'Australie ? *T.*
18. Quelle mer est située au nord-est de l'Australie ? *C.*
19. Dans quelle direction se trouve l'Australie par rapport à la Nouvelle-Zélande ? — Les Moluques par rapport à l'Australie ?
20. Quelle est la longueur de l'Australie mesurée sur le tropique du Capricorne ?
Manille ? *H., P.*
21. Dans quelles îles se trouvent les villes d'Honolulu et de Manille ? *H., P.*
22. Quelles sont les principales villes qui sont situées sur la côte méridionale de l'Australie ? *M., A.*
23. Dans quels états sont les villes de Sydney et de Brisbane ?
N.-G. S., Q.
24. Dans quelle île se trouve Hobart-Town ? *T.*
25. Dans quelle île se trouve Batavia ? *J.*



PALESTINE.

English Miles



THE TEMPLE

A THE HOLY PLACE
 I THE HOLY OF HOLIES
 B ALTAR C. SOLOMONS PTF

COURTS

1 THE PRIESTS
 2 ISRAELITES
 3 GENTILES

JERUSALEM

A THE TEMPLE F SOLOMONS HOUSE
 B MT ZION AND G PALATINE HOUSE
 C HOUSE OF DAVID H SHEEP MARKET
 D THE PALACE I POOL OF BETHSEDA

RESUME.

1. **Situation.** — La *Terre-Sainte* ou *Palestine* est située au centre de l'ancien continent, dans l'Asie occidentale et sur les bords de la Méditerranée.

2. **Bornes.** — La *Terre-Sainte* est bornée au N., par la Phénicie et la Syrie ; à l'E., par le désert de Syrie ; au S., par le désert d'Arabie ; à l'O., par la mer Méditerranée.

3. **Montagnes.** — On remarque au S. les monts de *Juda*, auxquels se rattachent le mont *Calvaire* et le mont des *Oliviers*, près de Jérusalem ; au N., le mont *Carmel*, le mont *Thabor*, etc. ; à l'E., les monts de *Galaad* et le mont *Nebo*.

4. **Eaux intérieures.** — Le *Jourdain*, fleuve qui coule dans une vallée profonde, forme le lac de Génésareth ou mer de *Galilée*, puis se jette dans le lac salé et amer appelé lac *Asphaltite* ou *mer Morte*.

5. **Divisions.** — Au temps de Notre-Seigneur, on divisait la Palestine en quatre provinces :

I. La *Judée*, au S.-O., comprenant les tribus de *Siméon*, de *Juda*, de *Benjamin*, de *Dan* et le pays des *Philistins* ;

II. La *Samarie*, au centre, comprenant les tribus d'*Ephraïm* et de *Manassé occidentale* ;

III. La *Galilée*, au N.-O., formée des tribus d'*Issachar*, de *Zabulon*, d'*Aser* et de *Nephtali* ;

IV. La *Pérée*, à l'est du Jourdain, formée des tribus de *Manassé orientale*, de *Gad* et de *Ruben*.

6. **Villes.** — Les villes ou localités les plus célèbres de la Palestine, sont :

I. Dans la Judée, *Jérusalem*, la ville la plus intéressante du monde par ses souvenirs, *Bethléem*, *Hébron*, *Jéricho*, *Rama*, *Béthel*, *Emmaüs*, *Jaffa*, et *Gaza*, reliée à Jérusalem par un chemin de fer.

II. Dans la Samarie, *Samarie*, *Sichem*, *Silo*, *Salem*, *Bethulie*, *Césarée* ;

III. Dans la Galilée, *Nazareth*, *Nain*, *Cana*, *Tibériade*, *Capharnaüm*, *Saint-Jean-d'Acre* ;

A la Galilée se rattache la *Phénicie*, renfermant les villes de *Sour*, autrefois *Tyr*, et *Saida*, autrefois *Sidon*.

IV. Dans la Pérée, la ville ruinée de *Bethsaïde*.

7. **Population.** — La Palestine compte à peine 250,000 habitants, parmi lesquels il y a peu de Juifs et encore moins de chrétiens catholiques. La plupart sont des Turcs mahométans ou des Grecs schismatiques.

8. **Gouvernement.** — Ce pays dépend de l'*Empire turc*, et est administré, au nom du sultan de Constantinople, par un *pacha* ou gouverneur résidant à Jérusalem.

EXERCICES.

- Par quelle mer la Palestine est-elle bornée à l'ouest ? *M.*
- En combien de provinces était-elle divisée au temps de N.-S. ?
- Quelle province occupait le nord-ouest de la Palestine ? *G.*
- Quelle province occupait la partie du milieu ? *S.*
- Quelle est celle qui était située au sud-ouest ? *J.*
- Quelle rivière traverse la Palestine du nord au sud ? *J.*
- Dans quelle mer se jette cette rivière ? *M. (D.S.)*
- Quelle province est située à l'est du Jourdain ? *P.*
- Quelles sont les tribus renfermées dans la Galilée ? *A., N., Z., I.*
- Quel lac est situé entre les territoires des tribus de Zabulon et de Manassé ? *G.*
- Quelles sont les tribus qui formaient la Samarie ? *M., E.*
- Quelle tribu était située à l'est du Jourdain, vis-à-vis de la Samarie ? *G.*
- Nommez les tribus que comprenait la Judée. *D., B., J., S.*
- Quelle tribu est située à l'E. de la mer Morte ? *R.*
- Quelle nation habitait le sud-ouest de la Palestine ? *P.*

- Quelle est la capitale de la Palestine ? *J.*
- Montrez le mont Carmel. (33 l.)
- Quel autre mont est situé à peu près à la même latitude que le mont Carmel ? *T.*
- Montrez les monts de Juda.
- Quelles montagnes sont situées à l'est du Jourdain ? *G.*
- Montrez la montagne sur laquelle mourut Moïse. *N. (31-35).*
- Montrez le mont des Oliviers.
- Quelles villes remarquables étaient situées sur la côte de la Phénicie ? *S., T.*
- Montrez Nazareth. — Tibériade. — Samarie. — Sichem. — Béthel.
- Montrez Jéricho. — Bethléem. — Hébron.
- Montrez, sur la Méditerranée, Césarée. — Jaffa. — Gaza.
- Montrez Capharnaüm.
- Montrez la rivière où S. Jean-Baptiste baptisait. *J.*
- Quelle tribu est en partie à l'est et en partie à l'ouest du Jourdain ? *M.*
- Quelle est l'orientation du pays des Philistins à l'égard de la Judée ?

TABLEAU I.—COMTÉS DE LA PROVINCE DE QUÉBEC.

Nos	COMTÉS ET CHEFS-LIEUX.	Nos	COMTÉS ET CHEFS-LIEUX.	Nos	COMTÉS ET CHEFS-LIEUX.
1	Pontiac..... <i>Bryson</i>	22	Berthier..... <i>Berthier</i>	43	Mégantic..... <i>Inverness</i>
2	Outaouais..... <i>Hull</i>	23	Maskinongé..... <i>Louiseville</i>	44	Arthabaska..... <i>St-Christophe</i>
3	Argenteuil..... <i>Lachute</i>	24	St-Maurice..... <i>Yamachiche</i>	45	Lotbinière..... <i>Lotbinière</i>
4	Deux-Montagnes..... <i>Ste-Scholastique</i>	25	Champlain..... <i>Ste-Geneviève</i>	46	Lévis..... <i>Lévis</i>
5	Vaudreuil..... <i>Vaudreuil</i>	26	Nicolet..... <i>Béancourt</i>	47	Dorchester..... <i>St-Hénédine</i>
6	Soulanges..... <i>Côteau-Landing</i>	27	Yamaska..... <i>St-François-du-Lac</i>	48	Bellechasse..... <i>St-Michel</i>
7	Huntingdon..... <i>Huntingdon</i>	28	Richelieu..... <i>Sorel</i>	49	Montmagny..... <i>Montmagny</i>
8	Beauharnois..... <i>Beauharnois</i>	29	St-Hyacinthe..... <i>St-Hyacinthe</i>	50	Portneuf..... <i>Cap-Santé</i>
9	Châteauguay..... <i>Ste-Martine</i>	30	Bagot..... <i>St-Liboire</i>	51	Québec..... <i>Charlesbourg</i>
10	Napierville..... <i>Napierville</i>	31	Rouville..... <i>Marierville</i>	52	Montmorency..... <i>Château-Richer</i>
11	Saint-Jean..... <i>Saint-Jean</i>	32	Iberville..... <i>Iberville</i>	53	Charlevoix..... <i>Boie-St-Paul</i>
12	Laprairie..... <i>Laprairie</i>	33	Missisquoi..... <i>Bedford</i>	54	L'Islet..... <i>St-Jean-Port-Joly</i>
13	Chambly..... <i>Longueuil</i>	34	Brome..... <i>Knowlton</i>	55	Kamouraska..... <i>St-Louis de Kam'ka</i>
14	Verchères..... <i>Verchères</i>	35	Stanstead..... <i>Stanstead</i>	56	Témiscouata..... <i>Ile-Verte</i>
15	Hochelega..... <i>Longue-Pointe</i>	36	Shefford..... <i>Waterloo</i>	57	Chicoutimi..... <i>Chicoutimi</i>
16	Laval..... <i>Sainte-Rose</i>	37	Sherbrooke..... <i>Sherbrooke</i>	58	Lac-Saint-Jean..... <i>Roberval</i>
17	Jacques-Cartier..... <i>Pointe-Clair</i>	38	Richmond..... <i>Richmond</i>	59	Saguenay..... <i>Tadoussac</i>
18	L'Assomption..... <i>L'Assomption</i>	39	Drummond..... <i>Drummondville</i>	60	Matane..... <i>St-Jérôme de M</i>
19	Terrebonne..... <i>St-Jérôme</i>	40	Wolfe..... <i>Dudswell</i>	61	Rimouski..... <i>Rimouski</i>
20	Montcalm..... <i>Ste-Julienne</i>	41	Compton..... <i>Cookshire</i>	62	Gaspé..... <i>Perce</i>
21	Joliette..... <i>Joliette</i>	42	Beauce..... <i>St-Joseph</i>	63	Bonaventure..... <i>New-Carlisle</i>

NOTE.—Règle générale, dans la province de Québec, le *comte* est à la fois une *circonscription électorale* pour la députation à la législature provinciale, et une *municipalité* formée par la confédération des villes, villages, paroisses et cantons qui se trouvent sur son territoire. Cependant : 1° certaines villes sont détachées, pour les fins municipales et quelques-unes même pour les fins électorales, des comtés dans le territoire desquels elles se trouvent enclavées ; 2° deux comtés, tout en formant deux municipalités distinctes, peuvent être réunis pour ne former qu'une circonscription électorale.

La délimitation des comtés est du ressort de la législature provinciale.

La délimitation des circonscriptions électorales pour la députation à la *Chambre des Communes*, appartient au gouvernement fédéral. Ces circonscriptions correspondent plus ou moins aux comtés.

TABLEAU II.—VILLES, VILLAGES, PAROISSES, ETC., DE LA PROVINCE DE QUÉBEC.

VILLES, PAROISSES, ETC. (c)	d	Popu- lation.	VILLES, PAROISSES, ETC.	d	Popu- lation.	VILLES, PAROISSES, ETC.	d	Popu- lation.
A								
<i>Acton Vale</i>	30	1381	<i>Aylmer</i>	2	1945	<i>Bedford</i>	33	1571
Adstock.....	42	682	Aylwin.....	2	835	Beebe Plains.....	35	411
Aldfield.....	1	666	B			Belœil.....	14	1805
Ahmerst.....	2	388	<i>Bagotville</i>	57	1476	<i>Berthier</i>	22	1827
Anse du Cap.....	62	1497	Baie-du-Febvre.....	27	2055	Berthier.....	22	1537
Armagh.....	48	1549	Baie-Saint-Paul.....	53	3760	<i>Bienville</i>	46	840
<i>Arthabaska</i>	44	1034	Barford.....	35	1634	Bigelow.....	2	655
Arundel.....	3	743	Barnston.....	35	2694	Bolton.....	34	3274
Ascot.....	37	3935	Basin.....	62	839	Bonne-Esperance.....	59	351
Auckland.....	41	677	Beauharnois	8	1590	<i>Boucherville</i>	13	995
Aumond.....	2	515	Beaumont.....	48	811	Boucherville (Ste-Famille).....	13	821
Aylene.....	1	268	Beauport.....	51	4644	Bouchette.....	2	990
			Béancourt.....	26	2017			

(a) La population est celle du recensement de 1891.

(c) Les cités sont en lettres majuscules, les villes, en caractère **gras**, les villages en *italique*, et les paroisses et townships, en romain.

(d) Les chiffres de ces colonnes indiquent les nos des comtés dans lesquels les localités correspondantes sont situées.

DIVISIONS ET POPULATION.

87

VILLES, PAROISSES, ETC.	d	Popu- lation.	VILLES, PAROISSES, ETC.	d	Popu- lation.	VILLES, PAROISSES, ETC.	d	Popu- lation.
Bourg Louis.....	50	756	D			Hamden.....	41	1066
Bouthiller.....	2	331	Dalibaire.....	61	425	Hamilton.....	63	2328
Bowmen.....	2	634	Danville, (Ste-Anne).....	38	854	Harrington.....	3	720
Bristol, (St-Edouard).....	1	2275	Denholm.....	2	334	Hartwell.....	2	1204
Brôme.....	34	3775	Deschambault.....	50	2401	Harvey.....	57	189
Brompton, (St-Praxède).....	38	1766	Dixville.....	35	514	Harwick.....	39	853
<i>Bryson</i>	1	1944	Ditchfield.....	42	848	Hasley.....	35	2579
Buckingham	2	2239	Ditton.....	41	827	Havelock.....	7	1035
<i>Buckingham</i>	2	2186	Dorset.....	42	346	Havre Aubert.....	62	601
Buckland Est.....	48	1199	Douglas.....	62	1468	Havre des Maisons.....	62	1152
Bury.....	41	1621	<i>Drummondville</i>	39	1955	Hemmingford.....	7	2038
C			Dudswell.....	38	2143	Hereford, Paquetteville.....	41	1814
Cabano.....	56	330	Duhamel, etc.....	1	677	Hinchinbrooke.....	7	2209
Cacouna, (St-Georges).....	56	899	Dundee, (Ste-Agnes).....	7	1535	Hinks.....	2	522
Cacouna.....	56	620	Dunham, (Ste-Croix).....	33	2793	Hochelaga.....	15	8540
Calumet, (Ste-Anne).....	1	1310	Durham, Sud.....	39	1494	Hope.....	63	2114
Cameron.....	2	513	Durham.....	39	543	Howard.....	3	448
Canrobert.....	31	311	E			Hull.....	2	4825
Cap de la Madeleine.....	25	1289	Eardly.....	2	1530	Hull.....	2	11264
Cap Chat.....	62	1237	Eaton.....	41	3078	Hunterstown.....	23	727
Cap Rosier.....	62	785	Eboulements.....	53	2608	Huntingdon.....	7	1177
Cap Santé.....	50	1185	Ecureuils.....	50	528	I		
Cap St-Ignace.....	49	3539	Egan.....	2	1220	Iberville.....	32	1710
Carillon.....	3	255	Elgin.....	54	570	Ile Anticosti.....	59	253
Carleton, (St-Joseph).....	63	1078	Elgin.....	7	915	Ile aux Coudres.....	53	907
Causapsal.....	61	155	Ely.....	36	2747	Ile aux Grues.....	49	586
Cèdres.....	6	256	Emberton.....	41	422	Ile Bizard.....	17	715
Chambly, (St-Joseph).....	13	958	Escoumains.....	59	667	Ile de la Madeleine.....	62	4942
Chambly.....	13	879	Etang du Nord.....	62	1952	Ile des Allumettes.....	1	1618
Chambly Canton.....	13	846	F			Ile du Pads.....	22	1356
Chapeau.....	1	250	Farnham, (St-Romuald).....	33	1520	Ile Perrot.....	5	859
Château-Richer.....	52	1587	Farnham, Ouest.....	33	2822	Ile Verte.....	56	2415
Chatham.....	3	3371	Farnham, Est.....	34	2045	Inverness.....	43	1700
Charlesbourg.....	51	2328	Fort Coulonge.....	1	323	Ireland.....	43	2152
Chesham.....	41	621	Fox, etc.....	62	1422	J		
Chénier.....	44	1500	Franklin.....	7	1133	Joliette.....	21	3372
Cherbourg.....	61	739	Fraserville.....	56	4175	K		
Chertsey, (St-Théodore).....	20	1169	Frelighsburg.....	33	263	<i>Kayouraska</i>	55	600
Chester Nord.....	44	640	G			Kensington.....	2	281
Chichester.....	1	711	Garthby et d'Israëli.....	38	1793	Kingsey Falls.....	39	924
Chicoutimi.....	57	2277	Gaspé.....	62	1460	Kingsey, Est.....	39	1536
Chicoutimi, (St-F-X.).....	57	2070	<i>Gatineau</i>	2	1520	L		
Chlorydormes.....	62	647	Gentilly.....	26	2486	Labelle.....	2	85
Clarendon.....	1	2638	Godmanchester.....	7	1673	Lac Mégantic.....	41	1173
Clifton.....	41	1840	Gore.....	3	593	L'Acadie.....	11	1568
Cleveland.....	38	1249	Granby, (S.-C. de M.).....	36	2795	Lachenaie.....	18	608
Clyde, etc.....	2	736	<i>Granby</i>	36	1710	Lachine, (Sts Ang'es).....	17	1058
<i>Coaticook</i>	35	3086	Grande Rivière.....	62	2343	Lachine.....	17	3761
Como.....	5	400	Grande Vallée.....	62	575	Lachute.....	3	1751
Compton.....	41	2409	Grenville.....	39	911	Lacolle.....	11	2528
Contrecoeur.....	14	1760	Gronlines.....	50	2685	Lambton.....	42	1780
<i>Côte-des-Neiges</i>	15	391	Grosse Ile, etc.....	62	398	L'Ange-Gardien.....	2	1354
Côte St-Antoine.....	15	3076	H			L'Ange-Gardien.....	31	1874
Côte St-Paul.....	15	1317	Halifax, Nord.....	43	1513	L'Ange-Gardien.....	52	1137
Côte Visitation.....	15	816	Halifax, Sud.....	43	2235	Lanoraie.....	22	1715
<i>Côteau Landing</i>	6	507	Ham.....	38	2124	L'Anse au Griffon, (St-Jh.).....	62	1030
<i>Côteau St-Louis</i>	15	2972	I			L'Anse St-Jean.....	57	761
Côteau Station.....	6	390	Halifax, Nord.....	43	1513			
Coucelle.....	22	304	Halifax, Sud.....	43	2235			
Cowansville.....	33	639	Ham.....	38	2124			

VILLES, PAROISSES, ETC.	d	Popu- lation	VILLES, PAROISSES, ETC.	d	Popu- lation	VILLES, PAROISSES, ETC.	d	Popu- lation
<i>Laprairie</i>	12	1246	Montminy	49	1436	Port-Daniel	1	1977
Laprairie	12	1874	MONTREAL	15	216650	Portland	62	1836
La Présentation	29	1285	MORIN	3	471	Portneuf	50	1855
La Rochelle	26	382	Mulgrave, etc.	2	632	Potton	34	2253
<i>L'Assomption</i>	18	1275	N			Preston, etc.	2	249
<i>L'Assomption</i>	18	1256	<i>Napierville</i>	10	860	Princeville	44	837
Laternière	57	1006	Natashquan	59	365	Q		
Laurentides	18	930	Neigette	60	247	QUÉBEC	51	63090
<i>Lauson</i>	46	3551	Nelson	43	410	Quyón	1	668
Lavaltrie	39	1252	New-Carlisle	68	991	R		
L'Avenir	39	1252	New-Glasgow	19	204	Racine, etc.	58	535
La Visitation	25	1523	New-Port	41	1121	Rawdon, (St-Patrick)	20	1186
Leeds	43	2450	New-Port	62	1481	Répentigny	18	693
<i>Lennoxville</i>	37	962	New-Richmond	63	2050	Réserve Indienne	57	434
L'Épiphanie	18	1450	Nicolet	26	2518	Restigouche	68	579
Leslie, etc.	1	928	Nicolet	26	1824	<i>Richmond</i>	38	2056
Lévis	46	7301	Notre-Dame de Bon Secours	2	792	<i>Richelieu</i>	31	530
Lingwick	41	1022	N.-D. de Bon Secours	31	569	<i>Rigaud</i>	5	672
<i>L'Islet</i>	54	2414	N.-D. de Grâces	15	2305	Rigaud	5	1554
Lotbinière	45	7854	N.-D. de la Victoire	46	1496	Rimouski	60	1229
Lochaber, etc.	2	1857	N.-D. de Stanbridge	33	1245	Rimouski	60	1220
Longue-Pointe	15	2445	N.-D. de St-Hyacinthe	29	2799	Ripon	2	1557
Longueuil, (St-Antoine)	13	1194	N.-D. des Anges	33	376	River Beaudette	6	238
Longueuil	13	2757	N.-D. des Anges	50	606	Rivière-à-Pierre	50	603
Lorette	51	2444	N.-D. des Neiges, Ouest	15	933	Rivière-du-Loup	23	2099
Louiseville	23	1740	N.-D. des Sept Douleurs	56	291	Rivière-du-Loup	56	788
Low	2	1255	N.-D. d'Hébertville	57	2396	Rivière-Quelle	55	1972
M			N.-D. du Lac	56	1393	Roberval	58	783
Macnider	61	1881	N.-D. du Lac St-Jean	58	1040	Romieux	61	236
Magog	35	2869	N.-D. du Mont Carmel	25	2042	Roxton	36	1765
Magog, (St-Patrick)	35	2100	N.-D. du Portage	56	477	<i>Roxton Falls</i>	36	908
Maisonneuve	15	1226	N.-D. du S.-C.	60	668	S		
Malbaie	62	1827	Normandin, etc.	58	587	Sacré-Cœur	42	1586
Malbaie	53	3239	Northfield	2	431	St-Adolphe	25	352
Manicouagan	59	128	Nouvelle	63	2150	St-Adrien	38	507
Maniwaki, (N.-D.)	2	966	O			St-Albert	39	737
Mann	63	808	Oka	4	1466	Sts-Anges	42	993
Mansfield, etc.	1	1057	Onslow	1	1935	St-Agapit	45	1001
Marchand	2	414	Orford	37	1097	St-Aimé	28	2481
Maria	63	2433	<i>Outremont</i>	15	408	St-Alban	50	2090
<i>Marieville</i>	31	1266	P			St-Alexandre	55	1741
Marsden, etc.	41	1117	Pabos	62	1348	St-Alexandre	32	2101
Masham	2	2099	Paspébiac	63	1749	St-Alexis	20	1231
Maskinonge	23	2021	Patton, etc.	49	582	St-Alexis	57	1689
Mastigoche	23	563	Percé	62	1800	St-Alexis	23	1194
Matane	61	2025	Petite Rivière	53	856	St-Alphonse	21	1128
Mécantina	59	841	<i>Philipburg</i>	33	230	St-Alphonse	57	1476
Melbourne, etc.	38	2756	Pierreville, etc.	27	1297	St-Ambroise de Lorette	51	3869
Métapédia	63	1273	<i>Plessisville</i>	43	1323	St-Ambroise	21	1706
<i>Mile End, (St-Louis)</i>	15	3537	Pointe-au-Fic	53	420	St-Anaclet	60	942
Mille Isles	3	519	Pointe-aux-Trembles	15	876	St-André	30	2064
Mille Vaches	59	1105	Pointe-aux-Trembles	50	1240	St-André	55	1398
Milton, (Ste-Cécile)	36	1496	Pointe-aux-Esquimaux	59	1751	St-André	3	1702
Moisie	59	269	Pointe-Claire	17	1337	St-André-Avelin	2	2543
Mont-Carmel	55	1075	Pointe-du-Lac	24	1366	St-Anicet	7	2093
Mont-Carmel	26	2042	Pointe-des-Monts	59	498	St-Anselme	47	2002
Mont-Joli	60	742	Pointe-Fortune	5	322	St-Antoine	14	1473
Mont-Louis	62	896	Ponsonby	2	301	St-Antoine-Abbé	9	585
Montebello	2	754	<i>Portage-du-Fort, etc.</i>	1	741	St-Antoine de Tilly	45	1450
<i>Montmagny</i>	49	1697						

DIVISIONS ET POPULATION.

89

VILLES, PAROISSES, ETC.	d	Popu- lation.	VILLES, PAROISSES, ETC.	d	Popu- lation.	VILLES, PAROISSES, ETC.	d	Popu- lation.
St-Antonin.....	56	1079	St-Edouard.....	45	1359	St-Hilarion.....	53	1099
St-Appolinaire.....	45	1740	St-Edouard de Frampton.....	47	1653	St-Honoré.....	56	312
St-Armand, Ouest.....	33	990	St-Eleuthère.....	55	611	St-Hypolite.....	19	856
St-Armand, Est.....	33	1049	St-Elie.....	24	835	St-Hubert.....	13	944
St-Arsène.....	56	1213	St-Eloi.....	56	913	St-Hugues.....	30	2003
St-Athanase.....	32	1028	St-Elphège.....	27	712	ST-HYACINTHE	29	7016
St-Aubert, etc.....	54	1573	St-Elzéar.....	42	1247	St-Hyacinthe le Confesseur.....	29	940
St-Augustin.....	50	1413	St-Emile, etc.....	20	375	St-Ignace.....	33	1102
St-Augustin.....	4	1328	St-Ephrem de Tring.....	42	2386	St-Ignace.....	6	1276
St-Barnabé.....	24	2014	<i>St-Ephrem d'Upton</i>	30	2153	St-Irénée.....	53	1152
St-Barnabé.....	29	1005	St-Epiphanie de Viger.....	56	1158	St-Isidore.....	12	1463
St-Barthélemy.....	22	2527	St-Esprit.....	20	1419	St-Isidore.....	47	2046
St-Basile.....	50	1912	St-Etienne.....	8	982	St-Jacques de l'Achigan.....	20	2423
St-Basile-le-Grand.....	13	683	St-Etienne de Lauzon.....	46	803	St-Jacques des Piles.....	25	791
St-Benoit.....	4	1385	St-Etienne des Grès.....	24	2166	St-Jacques-le-Mineur.....	12	1393
St-Benoit Labre.....	42	772	St-Eugène.....	39	1049	St-Janvier.....	19	1055
St-Benoit Labre.....	59	803	St-Eugène.....	54	1500	St-Jean.....	52	1277
St-Bernard.....	47	1582	St-Eustache.....	4	1796	St-Jean-Baptiste.....	15	15423
St-Bonaventure.....	39	1209	<i>St-Eustache</i>	4	960	St-Jean-Baptiste.....	31	1455
St-Bruno.....	13	721	St-Evariste.....	42	1248	St-Jean Chrysostôme.....	46	1802
St-Bruno.....	57	564	St-Fabien.....	59	1994	St-Jean Chrysostôme.....	9	2270
St-Calixte.....	20	1002	St-Faustin.....	19	669	St-Jean de Dieu.....	56	1055
St-Camille.....	38	939	St-Félicien, etc.....	57	988	St-Jean de Matha.....	21	2675
St-Canut.....	4	639	St-Félix de Valois.....	21	2847	St-Jean Deschailions.....	45	2300
St-Casimir.....	50	2927	St-Félix du Cap Rouge.....	51	534	St-Jean d'Iberville.....	11	4722
St-Célestin.....	26	1532	St-Ferréol.....	52	1041	St-Jean l'Évangéliste.....	11	875
St-Césaire.....	31	1623	St-Fidèle.....	53	1068	St-Jean Port-Joli.....	54	2171
<i>St-Césaire</i>	31	1021	St-Flavien.....	45	1717	St-Jérôme.....	19	2868
St-Charles.....	29	989	St-Fortunat.....	40	1024	St-Jérôme.....	19	1961
St-Charles.....	48	2076	St-François.....	52	508	St-Jérôme, (Lac St-Jean).....	58	1835
St-Charles de Caplan.....	63	1305	St-François.....	56	860	St-Jérusalem.....	3	1062
St-Charles Borromée.....	21	840	St-François.....	42	4022	St-Joachim.....	52	897
St-Charles, etc.....	57	423	St-François-de-Sales.....	16	808	St-Joachim de Chateauguay.....	9	1560
St-Christophe.....	39	1079	St-François.....	27	2255	St-Joseph.....	28	1210
St-Clément.....	56	1408	St-François, Rivière du Sud.....	49	1554	St-Joseph.....	15	761
St-Clément de Beauharnois.....	8	1771	St-François-Xavier.....	25	996	St-Joseph.....	4	1153
St-Clet.....	6	965	St-Frédéric.....	42	1814	St-Joseph.....	6	1442
St-Colomban.....	4	395	St-Fulgence.....	57	777	St-Joseph.....	42	3163
St-Côme de Linière.....	42	1279	St-Gabriel de Valcartier.....	51	504	St-Joseph d'Alma.....	57	1031
St-Côme.....	21	850	St-Gabriel.....	51	600	St-Joseph de la Page.....	59	401
St-Constant.....	12	1572	<i>St-Gabriel</i>	15	9986	St-Joseph de Lévis.....	46	351
St-Cuthbert.....	22	3179	St-Gabriel de Brandon.....	22	3172	St-Jovite.....	19	1114
St-Cyprien.....	10	1703	St-Gabriel, etc.....	59	937	St-Jude.....	29	2197
St-Cyriac.....	57	435	St-Gédéon.....	57	960	St-Julien.....	40	1530
St-Cyriac, etc.....	54	1289	St-Georges.....	32	1324	St-Justin.....	23	1677
St-Damase.....	29	1718	St-Georges.....	33	1138	St-Lambert.....	46	1433
St-Damase.....	59	863	St-Georges.....	42	3099	St-Lambert.....	13	906
St-Damase.....	54	624	St-Georges de Windsor.....	38	1609	St-Laurent.....	17	1184
St-Damien.....	48	820	St-Germain.....	39	3065	<i>St-Laurent</i>	17	1993
St-Damien.....	22	1163	St-Germain de Rimouski.....	60	1220	St-Laurent.....	52	792
St-David.....	27	2312	St-Gervais.....	48	2072	St-Lazare.....	48	1322
St-David.....	46	629	St-Giles.....	45	631	St-Lazare.....	5	1325
St-Denis.....	55	909	St-Grégoire.....	26	1843	St-Léon.....	23	1875
St-Denis.....	29	2250	St-Grégoire le Grand.....	32	1377	St-Léon de Standon.....	47	1602
St-Didace.....	23	1954	St-Guillaume d'Upton.....	39	2821	St-Léonard.....	26	1734
St-Dominique.....	30	1897	St-Henri de Lauzon.....	42	2243	St-Léonard.....	15	1166
St-Dominique.....	57	1477	St-Henri de Masconche.....	18	2081	St-Liboire.....	30	2353
St-Donat, etc.....	20	351	St-Henri.....	15	13413	St-Lignori.....	20	1170
St-Donat.....	59	760	St-Hermas.....	4	1217	St-Lin.....	13	1541
St-Dunstan.....	51	216	St-Hilaire.....	31	1251	St-Louis.....	29	298
St-Edouard.....	10	1290	St-Hilaire, etc.....	57	1124	St-Louis.....	56	304

VILLES, PAROISSES, ETC.	d	Popu- lation.	VILLES, PAROISSES, ETC.	d	Popu- lation.	VILLES, PAROISSES, ETC.	d	Popu- lation.
St-Louis.....	55	1050	St-Polycarpe.....	6	1734	Ste-Anastasia.....	43	1343
St-Louis.....	39	573	St-Polycarpe.....	6	431	Ste-Angèle.....	31	1325
St-Louis.....	28	1092	St-Prime.....	57	1050	Ste-Angèle.....	26	1136
St-Louis.....	19	722	St-Prosper.....	25	1358	Ste-Angèle de Mérici.....	59	1231
St-Louis de Gonzague.....	8	2187	St-Prosper.....	47	674	Ste-Angélique.....	2	2482
St-Louis.....	57	1155	St-Raphaël.....	48	2406	Ste-Anne.....	39	588
St-Luc.....	11	801	St-Raymond.....	50	3320	Ste-Anne.....	32	775
St-Luc.....	25	795	St-Rémi.....	39	1024	Ste-Anne.....	57	1663
St-Magloire.....	48	1065	St-Rémi.....	10	1647	Ste-Anne.....	28	1213
St-Malachie.....	2	413	St-Rémi.....	10	1167	Ste-Anne de Bellevue.....	17	1171
St-Malachie.....	9	2656	St-Robert.....	28	1879	Ste-Anne de la Pérade.....	25	2320
St-Malachie.....	47	1482	St-Roch.....	28	1045	Ste-Anne de la Pocatière.....	55	2734
St-Marc.....	14	897	St-Roch de l'Achigan.....	18	2048	Ste-Anne Pointe au Père.....	60	324
St-Marcel.....	23	1169	St-Roch des Aulnets.....	54	1662	Ste-Anne des Plaines.....	19	1717
St-Martin.....	16	2678	St-Romuald.....	46	3545	Ste-Anne des Monts.....	62	1762
St-Martin.....	42	894	St-Samuel.....	26	200	Ste-Anne du Bout de l'Isle.....	17	589
St-Mathias.....	31	725	St-Samuel.....	42	889	Ste-Anne de Beauré.....	52	1613
St-Mathieu.....	24	233	St-Sauveur.....	19	1460	Ste-Barbe.....	7	582
St-Mathieu.....	59	846	St-Sébastien.....	32	1495	Ste-Beatrix.....	21	1043
St-Maurice.....	25	3040	St-Sébastien d'Aylmer.....	42	859	Ste-Blandine.....	59	595
St-Médard.....	44	1505	St-Sévère.....	24	972	Ste-Brigitte.....	32	2083
St-Michel.....	43	1838	St-Séverin.....	25	1068	Ste-Brigitte.....	26	1012
St-Michel.....	31	832	St-Séverin.....	42	790	Ste-Brigitte de Laval.....	52	639
St-Michel.....	27	1747	St-Siméon.....	53	968	Ste-Catherine.....	50	1103
St-Michel Archange.....	10	1619	St-Simon.....	30	1732	Ste-Cécile.....	36	1496
St-Michel des Saints.....	22	591	St-Simon.....	59	998	Ste-Cécile.....	8	1315
St-Modeste.....	56	764	St-Stanislas.....	25	2456	Ste-Cécile du Bic.....	60	1990
St-Moise.....	59	537	St-Stanislas Kostka.....	8	1198	Ste-Claire.....	47	1824
St-Narcisse.....	25	1950	St-Sulpice.....	18	622	Ste-Clothilde.....	39	1145
St-Narcisse, (Beau-Rivage).....	45	782	St-Sylvère.....	26	839	Ste-Clothilde.....	9	845
St-Néré.....	43	1181	St-Sylvestre.....	45	1633	Ste-Croix.....	45	2309
St-Norbert.....	22	1478	St-Télesphore.....	6	1307	Ste-Cunégonde.....	15	9291
St-Norbert d'Arthabaska.....	44	836	St-Télesphore.....	46	233	Ste-Dorothee.....	21	876
St-Nicolas.....	46	1768	St-Théodore d'Acton.....	30	1855	Ste-Elizabeth.....	21	2725
St-Octave.....	59	2523	St-Théophile.....	42	318	Ste-Elizabeth.....	39	528
St-Odilon.....	47	997	St-Thomas.....	21	2068	Ste-Emilie de l'Energie.....	21	939
St-Onésime.....	55	760	St-Thomas.....	33	698	Ste-Emilie, (Leclercville).....	45	1189
St-Ours.....	23	918	St-Thomas.....	49	2849	Ste-Eulalie.....	26	891
St-Ours.....	28	1654	St-Thomas de Pierreville.....	27	2121	Ste-Famille.....	52	786
St-Pacôme.....	55	1928	St-Timothée.....	8	2104	Ste-Félicité.....	59	1064
St-Pamphile.....	54	1041	St-Tite.....	25	995	Ste-Flavie.....	59	1296
St-Pascal.....	55	3109	St-Tite.....	25	2535	Ste-Flore.....	25	1992
St-Patrick.....	45	988	St-Ubalde.....	50	1154	Ste-Foye.....	51	1034
St-Patrick de Rawdon.....	20	1186	St-Ulric.....	59	1704	Ste-Françoise.....	56	704
St-Paul.....	56	745	St-Urbain.....	9	1318	Ste-Geneviève.....	22	2222
St-Paul.....	39	1876	St-Urbain.....	53	1141	Ste-Geneviève.....	17	1295
St-Paul.....	31	1873	St-Valentin.....	11	1788	Ste-Geneviève.....	17	729
St-Paul l'Ermite.....	18	1170	St-Valère.....	44	1494	Ste-Geneviève de Batiscan.....	25	1985
St-Paulin.....	23	1453	St-Valérien.....	59	814	Ste-Germaine.....	47	1278
St-Philippe.....	12	1716	St-Valérien.....	36	1906	Ste-Gertrude.....	26	1748
St-Philippe de Néri.....	55	1049	St-Valier.....	48	1322	Ste-Hélène.....	39	1681
St-Pie.....	30	3342	St-Victor de Tring.....	42	2557	Ste-Hélène.....	30	1526
St-Pie de Guère.....	27	1289	St-Vincent de Paul.....	16	2519	Sté-Hélène.....	55	1518
St-Pierre.....	43	901	St-Wenceslas.....	26	1909	Ste-Hénédine.....	47	1049
St-Pierre, etc.....	59	1115	St-Zacharie.....	47	653	Ste-Jeanne de Neuville.....	50	1289
St-Pierre.....	52	772	St-Zéphirin.....	27	1632	Ste-Julie.....	14	1299
St-Pierre de Broughton.....	43	789	St-Zotique.....	6	1062	Ste-Julienne.....	20	1150
St-Pierre les Becquets.....	26	2274	Ste-Adèle.....	19	1493	Ste-Justine.....	47	609
St-Pierre.....	49	1331	Ste-Agathe.....	45	905	Ste-Justine.....	5	1559
St-Pierre de Sorel.....	23	492	Ste-Agathe des Monts.....	19	1703	Ste-Louise.....	54	979
St-Placide.....	4	990	Ste-Agnès.....	53	1790	Ste-Luce.....	59	1375

VILLES, PAROISSES, ETC.	d	Popu- lation.	VILLES, PAROISSES, ETC.	d	Popu- lation.	VILLES, PAROISSES, ETC.	d	Popu- lation.
Ste-Lucie	19	694	Shawanigan	24	1328	Très-St-Sacrement	9	1925
Ste-Marguerite	47	1260	Shawville	1	432	Trois-Pistoles	56	2495
Ste-Marguerite	19	725	Sheen	1	771	TROIS-RIVIERES	24	8834
Ste-Marie	26	270	Shelford	36	3241	V		
Ste-Marie	42	2897	Shenly	42	1578	Valleyfield	8	5516
Ste-Marie-Madeleine	29	936	Sherbrook	37	10110	Varennues (Ste-Anne)	14	1599
Ste-Marie du Monnoir	31	1357	Sherrington	10	1815	Varennues	14	802
Ste-Marie-Salomée	20	655	Slipton	38	2318	Vaudreuil (St-Michel)	5	1548
Ste-Marthe	5	1611	Sicotte, etc.	2	359	Vaudreuil	5	427
Ste-Martine	9	1600	Sillery	51	2663	Verrières	14	2040
Ste-Mélanie	21	1243	Somerset, N. et S.	43	3110	Verdun	15	296
Ste-Monique	26	2171	SOREL	28	6669	Victoriaville	44	1300
Ste-Monique	4	1090	Sorel (St-Pierre)	28	492	W		
Ste-Perpétue	26	833	Spaulding	42	188	Wahasee	2	227
Ste-Pétronille	52	255	Stanbridge	33	941	Wakefield	2	1852
Ste-Philomène	45	830	Stanbridge (Station)	33	860	Waltham	1	361
Ste-Philomène	48	707	Stanford	39	2084	Warwick	44	1505
Ste-Philomène	9	1105	Stanstead Plain	35	600	Waterloo	36	1733
Ste-Prudentienne	36	1832	Stanstead (S.-C. de J.)	35	3685	Waterville	41	516
Ste-Rosalie	30	1339	Stoneham	51	727	Weedon	40	2219
Ste-Rose	56	800	Stoke	38	1133	Wendover	39	2300
Ste-Rose	47	306	Stratford	38	723	Wentworth	3	898
Ste-Rose	16	1498	Stuckely	36	3130	Westbury	41	973
Ste-Rose	16	1057	Suffolk	2	2964	Whitton	41	983
Ste-Scholastique	4	1770	Sutton	34	3362	Wickham	39	1610
Ste-Scholastique	4	838	Sweetsburg	33	303	Windsor	38	967
Ste-Sophie	26	1116	T			Windsor Mills	38	1591
Ste-Sophie	19	1255	Tadoussac	59	2440	Winslow	41	1499
Ste-Thècle	25	1101	Templeton	2	2964	Woburn, etc.	42	198
Ste-Théodosie	14	582	Terrebonne	19	1457	Wotton	40	1216
Ste-Thérèse	19	1483	Tessier	61	551	Wright	2	1182
Ste-Thérèse	19	1662	Thetford, etc.	43	3414	Y		
Ste-Ursule	23	2490	Thetford	43	1682	Yamachiche	24	2025
Ste-Victoire	28	1532	Thorne	1	940	Yamachiche	24	908
Salaberry	8	5515	Thurso	2	578	Yamaska	27	638
Sault-au-Récollet	15	1820	Tingwick	39	979	York	62	350
Sault-St-Louis	12	1936	Très-St-Rédempteur	5	526			

TABLEAU III.—COMTES DE LA PROVINCE D'ONTARIO.

Nos.	COMTÉS ET CHEFS-LIEUX.	Nos.	COMTÉS ET CHEFS-LIEUX.	Nos.	COMTÉS ET CHEFS-LIEUX.
1	Essex Sandwich	18	Wellington Guelph	35	Stormont Cornwall
2	Kent Chatham	19	Cardwell Albion	36	Glengarry Cornwall
3	Elgin St-Thomas	20	Waterloo Berlin	37	Prescott L'Orignal
4	Norfolk Simcoe	21	Lincoln St-Catharines	38	Russell L'Orignal
5	Haldimand Cayuga	22	Wentworth Hamilton	39	Carleton Ottawa
6	Monck Dunnville	23	Halton Milton	40	Lanark Perth
7	Welland Welland	24	Peel Brampton	41	Renfrew Pembroke
8	Bothwell Napanee	25	York Toronto	42	Victoria Lindsay
9	Lambton Sarnia	26	Ontario Whitby	43	Peterborough Peterborough
10	Huron Goderich	27	Durham Cobourg	44	Hastings Belleville
11	Bruce Walkerton	28	Northumberland Cobourg	45	Haliburton Minden
12	Grey Owen-Sound	29	Prince-Edward Picton	46	Muskoka
13	Simcoe Barrie	30	Lennox Napanee	47	Parry-Sound
14	Middlesex London	31	Addington Napanee	48	Algoma
15	Oxford Woodstock	32	Frontenac Kingston	49	Nipissing
16	Brant Brantford	33	Leeds et Grenville Brockville	50	Thunder-Bay
17	Perth Stratford	34	Dundas Cornwall	51	Rainy-River

} Districts ou comtés non organisés.

TABLEAU IV. - CITES, VILLES, VILLAGES, ETC., DE LA PROVINCE D'ONTARIO.

VILLES, VILLAGES, ETC.		d	Popu- lation.	VILLES, VILLAGES, ETC.		d	Popu- lation.	VILLES, VILLAGES, ETC.		d	Popu- lation.
A											
Abinger, Effingham, etc.	31	870	Baxter, Gibson et Freeman	45	700	Burgess North	40	1117			
Acton	23	1209	Bayfield	10	595	Burlington	28	1835			
Atelaide	14	2616	Bayham	3	3858	Burpee	46	186			
Adjala	19	2459	Beamsville	21	911	O					
Admaston	41	2548	Beaver et Silver Mountain	46	685	Caistor	22	2002			
Adolphustown	30	720	Beaverton	26	850	Caledon	19	5520			
Ailsa Craig	14	732	Beckwith	40	1767	Caledonia	37	1943			
Albemarle	11	1819	Bedford	31	1837	Caledonia	5	968			
Albion	19	3142	Beeton	13	771	Calvin, Launder, etc.	47	549			
Aldborough	3	5299	Belle River	1	657	Cambridge	38	4118			
Alexandria	36	1614	BELLEVILLE	44	9914	Camden	31	4745			
Alfred	37	3053	Belmont	43	2548	Camden	8	2993			
Algoma Mills	46	620	Bentick	12	5323	Camden, Deacon et Fitzgerald	47	242			
Algona South	41	1025	Berlin	20	7425	Campbell	46	547			
Alice et Fraser	41	1920	Bethune, Perry et Proudfoot	45	1704	Campbellford	28	2424			
Allan	46	317	Beverly	22	4636	Canboro	6	1118			
Alliston	13	1371	Bexley	42	902	Cannington	26	1050			
Almonte	40	3072	Biddulph	14	2600	Caradoc	14	4762			
Alnwick	28	1321	Bidwell	46	457	Carden	42	815			
Alvinston	9	1006	Billings	46	635	Cardiff	43	612			
Amabel	11	3890	Binbrook	22	1674	Cardinal	33	960			
Amaranth	18	2304	Birtie	7	4222	Carleton Place	40	4435			
Ameliasburgh	29	3080	Biscotasing, Chapleau, etc.	46	2280	Carlow	44	569			
Amherstburg	1	2279	Blair, Brown, Burton, etc.	45	1119	Carnavon	46	500			
Amherst Island	30	938	Blanchard	17	2928	Carrick	11	5503			
Ancaster	16	4098	Blandford	15	1911	Cartwright	27	2028			
Anderdon	1	2205	Blenheim	16	5606	Cavan	27	3106			
Anson et Hindon	42	275	Blenheim	2	1708	Cavendish	43	94			
Appleby, Hagar, Awrey, etc.	47	155	Blezard, McKim et Broder	47	2358	Cayuga North	5	1894			
Arkona	9	463	Blyth	10	927	Cayuga South	6	925			
Arnour et Rycerson	45	2171	Bobcaygeon	42	1018	Cayuga	5	822			
Arnprior	41	3341	Bolton	19	743	Chapman et Croft	45	1301			
Arran	11	2913	Bonfield, Chisholm, etc.	47	2249	Charlottenburg	36	5657			
Artemesia	12	4092	Bosanquet	9	2866	Charlotteville	4	3937			
Arthur	18	3224	Bothwell	8	897	Chatham	8	6150			
Arthur	18	1296	Bowmanville	27	3377	Chatham	2	9052			
Ashburnham	43	1674	Bracebridge	26	1419	Chelmsford et Cartier	46	755			
Ashfield	10	4010	Bradford	25	996	Chesley	11	1437			
Asphodel	43	1866	Brampton	24	3252	Chesterville	34	775			
Assignack	46	819	Brant	11	4929	Chippewa	7	523			
Athens	33	905	BRANTFORD	16	12753	Chingacousy	24	4750			
Athol	29	1284	Brantford	16	6954	Clarence	38	4779			
Augusta	33	4535	Brighton	28	3017	Clarendon et Miller	31	929			
Aurora	25	1743	Brighton	28	1479	Clarke	27	4427			
Aylmer	3	2167	Brock	26	4071	Clifford	18	634			
Ayr	20	1040	BROCKVILLE	33	8793	Clinton	10	2635			
B											
Bagot et Blythfield	41	1595	Bromley	41	1933	Clinton	21	2137			
Bangor, McClure et Wicklow	44	1026	Brooke	9	3874	Cobourg	28	4829			
Barrie	13	5550	Brougham	41	548	Cockburn Island	46	240			
Barrie	31	670	Bruce	11	3793	Colborne	10	2215			
Barry Island	46	209	Bruce Mines	46	750	Colborne	28	1068			
Barton	22	4997	Brudenell	41	1104	Colchester	1	4547			
Bastard et Burgess South	33	3319	Brunel et Stephenson	45	1728	Collingwood	12	3932			
Bath	30	530	Brussels	10	1204	Collingwood	13	4941			
Bathurst	40	2758	Buchanan, Wylie et Rolph	41	1034	Conger, Cowper et Foley	45	502			
			Burford	15	4939	Cornwall	35	6805			
			Burleigh, Austruther et Chan- dos	43	1521	Cornwall	35	6792			

DIVISIONS ET POPULATION.

VILLES, VILLAGES, ETC.		d	Popu- lation.	VILLES, VILLAGES, ETC.		d	Popu- lation.	VILLES, VILLAGES, ETC.		d	Popu- lation.
Cramahe.....	23	2987	Enniskillen.....	9	5006	Greenock.....	11	3389			
Creemore.....	13	731	Ennismore.....	43	932	Grey.....	10	4022			
Crosby.....	33	3946	Eramosa.....	18	3118	Griffith.....	41	275			
Crowland.....	7	1107	Erin.....	18	4048	Grimsby.....	22	883			
Cullross.....	11	3345	Erin.....	18	594	Grimsby.....	22	2705			
Cumburland.....	38	4014	Ernestown.....	30	3597	Guelph.....	18	2464			
D			Esquesing.....	23	4435	GUELPH					
Dalhousie et Sherbrooke North	40	2142	Essa.....	13	3592	Gurd, Pringle et Patter on...	45	842			
Dalton.....	42	509	Essex Centre.....	1	1709	Gwillimbury et Snake Island..	25	7359			
Darling.....	40	39	Etobicoke.....	25	4558	H					
Darlington.....	27	4758	Euphrasia.....	12	3567	Hagersville.....	5	1068			
Dawson.....	46	113	Euphemia.....	14	2523	Hagerty et Jones.....	41	1608			
Dawn.....	8	3480	Exeter.....	14	1809	Haldimand.....	28	4484			
Day.....	46	834	F			Hallam et Graham.....	46	702			
Delaware.....	14	2549	Faraday.....	44	705	Hallowell.....	29	3379			
Derby.....	12	2200	Fenelon.....	42	2809	HAMILTON					
Dereham.....	4	4025	Fenelon Falls.....	42	1219	Hamilton.....	22	4313			
Deseronto.....	44	3338	Fergus.....	18	1599	Harcourt, Dudley, etc.....	43	1081			
Dorchester.....	14	5376	Ferguson, Carling, etc.....	45	481	Harriston.....	18	1687			
Douro.....	43	2131	Ferrie, Mills, etc.....	45	753	Harvey.....	43	1155			
Dover.....	2	4415	Finch.....	35	3509	Harwick.....	2	6017			
Downie.....	17	3281	Finlayson et Peck.....	47	204	Hastings.....	28	812			
Draper.....	26	1082	Fitzroy.....	40	2940	Hawk Lake.....	46	17			
Drayton.....	18	795	Flamborough.....	22	5740	Hawkesbury.....	37	2042			
Dresden.....	8	2058	Flos.....	13	3783	Hawkesbury.....	37	7636			
Drumfries South.....	16	3137	Forest.....	9	2057	Hay.....	10	4244			
Drummond.....	40	2202	Fort Erie.....	7	934	Head, Maria et Clara.....	41	521			
Duck Islands.....	46	83	Fort Francis.....	46	1339	Hespeler.....	20	1482			
Dumfries North.....	20	2522	Frankford.....	44	533	Hibbert.....	17	2636			
Dummer.....	43	2143	Franklin, Sinclair, etc.....	45	1776	Hillier.....	29	1890			
Dundalk.....	12	696	Fredericksburg.....	30	2685	Hilton.....	46	389			
Dundas.....	22	3546	Fullarton.....	17	2511	Himsworth et Nipissing.....	45	1832			
Dungannon.....	44	754	G			Hinchinbrooke.....	31	1465			
Dunn.....	6	984	Gainsborough.....	6	2683	Holland.....	12	3602			
Dunnville.....	6	1776	Galt.....	20	7535	Holland Landing.....	25	443			
Dunwich.....	3	3663	Galway.....	42	710	Hope.....	27	3887			
Durham.....	12	1273	Gananoque.....	33	3669	Horton.....	41	1608			
Dutton.....	3	338	Garafraxa.....	18	5214	Houghton.....	4	2014			
E			Garden Island.....	32	412	Howard.....	3	3626			
Easthope.....	15	4700	Garden River.....	46	606	Howe Island.....	32	422			
Eastnor, Lindsay et St-Ed- munds.....	11	2321	Georgetown.....	23	1509	Howick.....	10	4439			
East Wawanosh.....	10	2078	Georgina et Georgina Island...	25	1990	Howland.....	46	1254			
Echo River.....	46	499	Glamorgan.....	43	505	Hullett.....	10	3281			
Edwardsburg.....	33	4517	Glanford.....	22	1744	Humberstone.....	7	2842			
Eganville.....	41	395	Glencoe.....	14	971	Humphrey, Watt et Cardwell..	45	1835			
Egremont.....	12	3904	Glenelg.....	12	3318	Hungerford.....	44	4762			
Ekfrid.....	14	2876	Gloucester.....	38	6823	Huntingdon.....	44	2562			
Elderslie.....	11	3048	Goderich.....	10	2907	Huntley.....	40	2322			
Eldon.....	42	3145	Goderich.....	10	3839	Huntsville.....	45	1159			
Elizabethtown.....	33	4726	Gordon.....	46	455	Huron.....	11	4125			
Elma.....	17	4231	Gore Bay.....	46	472	I					
Ellice.....	17	3384	Gosfield.....	1	4071	Ingersoll.....	15	4191			
Elmira.....	20	1060	Goulais Bay.....	46	239	Innisfil.....	13	5112			
Elmsley.....	40	1233	Goulburn.....	39	2784	Iroquois.....	34	1047			
Elora.....	18	1304	Gower.....	33	960	J					
Elzevir et Grimsthorpe.....	44	1506	Grande Pointe.....	46	137	Joly, Strong et Sundridge....	45	1500			
Embros.....	15	637	Grantham.....	21	1928	K					
Emily.....	42	2603	Grattan.....	41	1724	Kaladar et Anglesea.....	31	1232			
			Gravenhurst.....	13	1848	Keewatin.....	46	1416			

VILLES, VILLAGES, ETC.	d	Popu- lation.	VILLES, VILLAGES, ETC.	d	Popu- lation.	VILLES, VILLAGES, ETC.	d	Popu- lation.
Kemptville.....	33	1226	Markham.....	25	1100	Nepean.....	39	11405
Kennebec.....	31	1428	Marlborough.....	39	1703	Newboro.....	33	462
Kenyon.....	36	5376	Marmora et Lake.....	44	2176	Newburg.....	31	648
Keppel.....	12	3774	Maryborough.....	18	3548	Newbury.....	14	452
Killarney.....	46	502	Marysburg.....	29	3073	Newcastle.....	27	787
Kincardine.....	11	2631	Matawatchan.....	41	446	New Edinburg.....	38	1673
Kincardine.....	11	3618	Matchedash.....	13	375	New Hamburg.....	20	1335
King.....	25	6067	Matilda.....	34	4138	Newmarket.....	26	2143
Kingston.....	32	3349	Mattawa.....	47	1437	Niagara.....	21	1845
KINGSTON	32	24269	Mayo.....	44	518	Niagara.....	21	1349
Kingsville.....	1	1335	McDougall, Parry Sound, etc	45	2337	Niagara Falls.....	7	1179
Kirkwood.....	46	185	McGillivray.....	14	3507	Niagara Falls.....	7	3349
Kinloss.....	11	2903	McKillop.....	10	3086	Nichol.....	18	2057
Kirkpatrick, Hugel, etc.....	47	535	McKellar et Hagerman.....	45	1186	Nipigon et Pays Plat.....	46	909
Kitley.....	33	2336	McNab.....	41	3514	Nipissing, Springer, etc.....	47	1480
L			Meaford.....	12	1999	Nissouri East.....	15	3031
Lakefield.....	43	1120	Medonte.....	13	4514	Nissouri West.....	14	3271
Lanark.....	40	1904	Medora et Wood.....	13	921	Norman.....	46	727
Lanark.....	40	859	Melancthon.....	12	3822	Normanby.....	12	5006
Lancaster.....	36	4084	Merrickville.....	33	1072	North Bay, Widdifield, etc.....	47	2210
Lancaster.....	36	700	Merriton.....	21	1813	North Gower.....	39	2382
Lansdowne et Leeds.....	33	5780	Mersea.....	1	3788	Norwich.....	15	1255
Laurier, Machor et Lount.....	45	1177	Metcalfe.....	14	1699	Norwich.....	15	5532
Lavant.....	40	680	Methuen.....	43	260	Norwood.....	43	1010
Laxton, Digby et Longford.....	42	874	Michipicoton.....	46	115	Nottawasaga.....	13	6060
Leamington.....	1	1910	Middleton.....	4	3457			
Limerick.....	44	508	Midland.....	13	2088			
Lindsay.....	42	6081	Millbrook.....	27	971	Oakland.....	15	858
Listowell.....	17	2587	Mills.....	46	189	Oakley.....	26	385
Lobo.....	14	2989	Milton.....	23	1450	Oakville.....	23	1835
Lochiel.....	36	5016	Milverton.....	17	603	Oil Springs.....	9	1138
Logan.....	17	3094	Minden.....	42	1182	Olden.....	31	1002
LONDON	14	31977	Minto.....	18	3639	Omenee.....	42	687
London.....	14	14544	Mississauga.....	46	789	Oneida.....	5	2403
London.....	14	1915	Mitchell.....	17	2101	Onondaga.....	16	1482
Longueuil.....	37	1172	Monaghan.....	43	2114	Ops.....	42	2926
L'Orignal.....	37	1002	Monck.....	13	854	Orangeville.....	18	2962
Loughborough.....	31	2218	Monmouth.....	43	548	Orillia.....	13	4752
Louth.....	21	1774	Mono.....	19	3518	Orillia.....	13	3687
Lucan.....	14	920	Montague.....	40	2232	Oro.....	13	4359
Lucknow.....	11	1285	Monteagle et Hershell.....	44	1552	Osgoode.....	38	4358
Luther.....	18	4224	Monteith, Spence et Christie.....	45	1087	Oshawa.....	26	4065
Lutterworth.....	42	549	Moore.....	9	5080	Osnabruck.....	35	5317
Lyndoch.....	41	294	Mornington.....	17	3509	Oso.....	31	1176
			Morris.....	10	3253	Osprey.....	12	3314
M			Morrisburg.....	34	1859	Otonabee.....	43	3652
Macanley.....	26	760	Morrison.....	26	890	OTTAWA	39	44154
MacLean.....	26	545	Mosa.....	14	2450	Ottawa East.....	39	741
Madoc.....	44	2967	Moulton.....	6	1394	Otter Tail.....	46	873
Madoc.....	44	1134	Mountain.....	34	3422	Owen Sound.....	12	7497
Maidstone.....	1	3127	Mount Forest.....	18	2214	Oxford.....	33	3309
Malahide.....	3	3851	Mulmur.....	13	3661	Oxford.....	3	3479
Malden.....	1	1573	Murillo.....	46	427			
Mamainse.....	46	104	Murray.....	28	3306	P		
Manvers.....	27	4047	Muskoka.....	13	797	Paisley.....	11	1328
Mars.....	26	3152				Pakenham.....	40	2007
March.....	39	1264	N			Palmerston.....	18	2002
Mariposa.....	42	4849	Napanee.....	30	3434	Palmerston et Canonto.....	31	1064
Markdale.....	12	756	Nasagaweya.....	23	2809	Papineau et Mattawa.....	47	694
Markham.....	25	5681	Neebing.....	46	2175	Paris.....	16	3094
			Nelson.....	23	3269	Parkhill.....	14	1680

VILLES, VILLAGES, ETC.	d	Popu- lation.	VILLES, VILLAGES, ETC.	d	Popu- lation.	VILLES, VILLAGES, ETC.	d	Popu- lation.
Waterloo	20	7347	Williamsburg	34	4308	Woodville	42	323
Waterloo	20	2941	Williams	14	3576	Woolwich	20	4838
Watford	9	1299	Wilmot	20	5487	Wookwamakong	46	1191
Welland	7	2035	Willoughby	7	1099	Wrozeler	10	504
Wellesley	20	5609	Winchester	34	3621	Wyoming	9	871
Wellington	29	555	Winchester	34	962			
Westmeath	41	3612	Windham	4	4252			
Weston	25	1196	Windsor	1	10322	Yarmouth	3	5474
Westminster	14	8506	Wingham	10	2167	Yonge et Escott	33	4270
West Wawanosh	10	2336	Wolfe Island	32	2003	York Est.	25	6654
Whitby	26	5631	Wolford	33	2115	York Ouest	25	16604
Whitby	26	2786	Wollaston	44	771			
Whitchurch	26	4019	Woodbridge	25	762			
Warton	11	1984	Woodhouse	4	2508			
Wilberforce et Algona Nord	41	2877	Woodstock	15	8612	Zone	8	1401
						Zorra	15	7250

TABLEAU V. — COMTES DU NOUVEAU-BRUNSWICK.

Nos.	COMTÉS ET CHEFS-LIEUX.	Popu- lation.	Nos.	COMTÉS ET CHEFS-LIEUX.	Popu- lation.	Nos.	COMTÉS ET CHEFS-LIEUX.	Popu- lation.
1	Westmoreland... <i>Dorchester</i>	41478	6	Albert... <i>Hopewell</i>	10971	11	Sunbury... <i>Oromocto</i>	5759
2	Kent... <i>Richibucto</i>	23845	7	St. John... <i>St. John</i>	49574	12	York... <i>Fredericton</i>	30979
3	Northumberland... <i>Newcastle</i>	25715	8	Charlotte... <i>St. Andrews</i>	23752	13	Carleton... <i>Woodstock</i>	22532
4	Gloucester... <i>Bathurst</i>	24897	9	King's... <i>Hampton</i>	23090	14	Victoria... <i>Grand Falls</i>	18217
5	Restigouche... <i>Dalhousie</i>	8309	10	Queen's... <i>Gagetown</i>	12152	15	Madawaska... <i>Edmunston</i>	

TABLEAU VI. — CITES, VILLES, VILLAGES DU NOUVEAU-BRUNSWICK.

VILLES, VILLAGES, ETC.	d	Popu- lation.	VILLES, VILLAGES, ETC.	d	Popu- lation.	VILLES, VILLAGES, ETC.	d	Popu- lation.
A			Caraquet	4	4630	F		
Aberdeen	13	1314	Cardwell	9	1218	FREDERICTON	12	6502
Addington	5	2751	Carleton	2	2285	G		
Alma	6	1091	Chatham	3	5644	Gagetown	10	1029
Alnwick	3	2960	Chipman	10	1651	Gladstone	11	911
Andover	14	1242	Clarendon	8	177	Gleneig	3	1382
B			Colborne	5	901	Gordou	14	744
Bathurst	4	4815	Coverdale	6	1387	Grand Falls	14	1596
Beresford	4	4301	D			Grand Manan	8	2397
Blackville	3	2066	Dalhousie	5	2532	Greenwich	9	819
Blissfield	3	896	Derby	3	871	H		
Blissville	11	764	Dorchester	1	6357	Hammond	9	767
Botsford	1	4150	Douglas	12	2380	Hampstead	10	1130
Bright	12	1661	Drummond	14	2022	Hampton	9	1883
Brighton	13	2385	Dufferin	8	334	Harcourt et Huskinson	2	1309
Brunswick	10	381	Dumbarton	8	807	Hardwicke	3	1170
Burton	11	1454	Dumfries	12	689	Harvey	6	1614
C			Dundas	2	3296	Havelock	9	2081
Cambridge	10	1366	Durham	5	1973	Hillsborough	6	2677
Campobello	8	1188	E			Hopewell	6	1780
Canning	10	806	Eldon et Restigouche River	5	152	I		
Canterbury	12	2297	Elgin	6	2422	Inkerman	4	2008

DIVISIONS ET POPULATION.

97

VILLES, VILLAGES, ETC.	d	Popu- lation.	VILLES, VILLAGES, ETC.	d	Popu- lation.	VILLES, VILLAGES, ETC.	d	Popu- lation.
J			P			St. Francis		
Johnston	10	1588	Peel	18	1818	St. George	8	2757
K			Pennfield			St. Hilaire	14	992
Kars	9	503	Perth	14	1792	St. Isidore	4	872
Kent	13	2786	Petersville	10	1914	St. Jacques	14	874
Kingsclear	12	1746	Prince William	12	1398	St. James	8	2266
Kingston	9	1811	Q			ST. JOHN	7	39179
L			Queensbury			St. Leonard's	14	2393
Lancaster	7	4211	R			St. Louis	2	2120
Lepreaux	8	423	Richmond			St. Martin's	7	2335
Lincoln	11	840	Richibucto			St. Mary's	2	3429
Lorne	14	309	Rogersville			St. Mary's	12	3354
Ludlow	13	805	Rothesay			St. Patrick's	8	21
M			S			St. Stephen's	8	2680
Madawaska	14	1683	Sackville			St. Stephen's	8	708
Manners Sutton	12	1693	Salisbury			Sussex	9	3205
Marysville	12	1339	Saumarez			U		
Maugerville	11	475	Shediac			Upham	9	1145
Milltown	8	2146	Sheffield			Upper Mills	8	266
MONCTON	1	8763	Shippigan			W		
Moncton	1	5165	Simonds			Wakefield	13	1760
Musquash	7	783	Simond's			Waterborough	10	1352
N			Southampton			Waterford	9	1177
Nelson	3	1907	South Esk			Weldford	2	3561
New Bandon	4	2456	Springfield			Wellington	2	3861
Newcastle	3	4006	St. Andrew's			Westfield	9	1172
New Maryland	12	409	Stanley			West Isles	8	1644
Northampton	13	1110	St. Anne			Westmoreland	1	2168
North Esk	3	1586	St. Basil			Wickham	10	935
Northfield	11	602	St. Croix			Wicklow	13	2240
Northlake	12	755	St. David			Wilmot	13	1928
Norton	9	1605				WOODSTOCK	13	3238
						Woodstock	13	1767

TABLEAU VII. — COMTES DE LA NOUVELLE-ECOSSE ET DE L'ILE DU PRINCE-EDOUARD.

Nos.	COMTES ET CHEFS-LIEUX.	Popu- lation.	Nos.	COMTES ET CHEFS-LIEUX.	Popu- lation.	Nos.	COMTES ET CHEFS-LIEUX.	Popu- lation.
NOUVELLE-ECOSSE.			8	Shelburne..... <i>Shelburne</i>	14954	17	Antigonish..... <i>Antigonish</i>	16112
1	Digby..... <i>Digby</i>	19896	9	Queen's..... <i>Liverpool</i>	10610	18	Pictou..... <i>Pictou</i>	34541
2	Annapolis..... <i>Kentville</i>	19350	10	Lunenburg..... <i>Lunenburg</i> ...	31076	ILE DU PRINCE-EDOUARD.		
3	King's..... <i>Kentville</i>	22489	11	Halifax..... <i>Halifax</i>	71421	19	King's..... <i>Georgetown</i> ...	26634
4	Hauts..... <i>Windsor</i>	22152	12	Guysborough..... <i>Guy-borough</i> ..	17195	20	Prince..... <i>Summerside</i> ..	36471
5	Colchester..... <i>Truro</i>	27160	13	Richmond..... <i>Arichat</i>	14400	21	Queen's..... <i>Charlottetown</i> ..	45983
6	Cumberland..... <i>Amherst</i>	34529	14	Cap-Breton..... <i>Sydney</i>	34223			
7	Yarmouth..... <i>Yarmouth</i>	22218	15	Victoria..... <i>Baddeck</i>	12387			
			16	Inverness..... <i>Port Hood</i>	25779			

TABLEAU VIII.—CITES, VILLES, VILLAGES DE LA NOUVELLE-ECOSSE ET DE L'ILE-DU-PRINCE-EDOUARD.

VILLES, VILLAGES, ETC.	d	Popu- lation.	VILLES, VILLAGES, ETC.	d	Popu- lation.	VILLES, VILLAGES, ETC.	d	Popu- lation.
A			D			M		
Abercrombie	18	100	Descousse	13	1000	Main-à-Dieu	14	994
Advocate-Harbour	0	600	Digby	1	2000	Maitland	4	708
Amherst	0	3781	E			Margarie	16	571
Amherst	6	100	East-Bay	14	250	Marie Joseph	12	624
Amherst-shore	6	100	F			Meadowvale	2	523
Annapolis-Royal	2	949	Falmouth	4	829	Melford	12	1497
Antigonish	17	6331	Five-Mile-River	4	380	Melvorn	2	687
Arcadia	7	529	Forks	4	921	Merigomish	18	772
Arichat	13	876	Forks-St-Mary's	12	863	Middle-River	18	801
Arichat-East	13	862	Franboise	13	656	Middle-River	15	895
B			Fraser's-Mountain et Church-ville	18	1441	Middleton	2	740
Baddeck	15	1235	French-River	14	632	Milford	2	416
Bailey's-Brook	18	887	Freeport	1	701	Mill-Brook	18	587
Ball's-Creek	14	1208	G			Mill-Cove	10	619
Barney's-River	13	1026	Gabarouse	14	1747	Mill-Village	9	773
Barrington	8	1000	Gaspereaux	3	996	Milton	9	984
Barrington-Passage	8	625	Georgetown	19	1060	Musquodoboit	11	1100
Baie-Saint-Laurent	15	574	Glace-Bay	14	2459	N		
Bayswater	10	608	Grande-Anse	13	758	New-Glasgow	18	3776
Bear-River	2	693	Grand-Pré	3	700	Nine-Mile-River	4	1130
Belle-Isle	2	1005	Granville-Ferry	2	905	Noël	4	300
Berwick	3	738	Granville-Lower	2	923	North-Sydney	14	2518
Bridgewater	10	1037	Greenfield	9	551	O		
Brookfield	9	615	Green-Harbour	8	687	Oxford	6	978
Brooklyn	9	614	Green-Hill	18	757	P		
Brooklyn	4	1040	Guysborough	12	1546	Parker's-Cove	2	569
Burlington	4	661	Guysborough-Intervale	12	842	Parrsboro	6	1909
C			H			Parrsboro	6	1852
Caledonia	12	214	HALIFAX	11	38556	Parrsboro-shore	6	1232
Caledonia	9	1037	Hantsport	4	915	Petit-Dégrad	13	612
Canard	3	1296	Hawkesbury	16	653	Petite-Rivière	10	3415
Canning	3	2939	Hopewell	18	858	Pictou-Island et Fishers Grant	18	577
Canso	12	1024	I			Pictou	18	2998
Catalone	14	780	Isaac's-Harbour	12	400	Pleasant-Bay	16	235
Centreville	3	2192	J			Poplar-Grove	16	1061
CHARLOTTETOWN	21	11373	Jeddore-Oyster-Pond	11	1000	Port-Clyde	8	1004
Chester	10	950	K			Port-George	2	684
Cheticamp	16	153	Kentville	3	1686	Port-Hastings	6	1681
Church-Over	8	630	L			Port-Houde	16	1646
Clare	1	8124	Lawrencetown-Lane	2	683	Port-la-Tour	8	1049
Clarence	2	904	Lingan	14	1868	Port-Lorne	2	673
Clements	2	687	Liverpool	9	2465	Port-Medway	9	943
Clementsvalle	2	704	Londonderry	5	6017	Port-Mouton	9	758
Clements West	2	467	Lorway-Mines	14	1200	Pubnico	7	1474
Clifton	5	1017	Louisbourg	14	1115	Pubnico-Head	7	1091
Conquerall	10	1418	Lower l'Ardoise	13	858	Pugwash	6	2160
Cow-Bay	14	2103	Lunenburg	10	4894	R		
Country-Harbour	12	447	M			Rawdon-Church	4	855
Crow-Harbour	12	738	N			Red-Islands	13	887
Curry's-Corner	4	532	O			Ritcey's-Cove	10	1934
D			P			R		
Dartmouth	11	4576	Q			R		

DIVISIONS ET POPULATION.

99

VILLES, VILLAGES, ETC.	d	Popu- lation.	VILLES, VILLAGES, ETC.	d	Popu- lation.	VILLES, VILLAGES, ETC.	d	Popu- lation.		
Rivière-Bourgeois	13	1120	South-Maitland	4	553	U				
River-Dennis	16	1089	South-Rawdon et Uniacke	4	857					
Rivière-Hébert	6	2611	Springfield	2	589	Upper l'Ardoise	13	1236		
River-Inhabitants	16	1144	Springhill	6	4813	V				
River-Inhabitants	13	1453	Springhill	6	400					
River-John	18	2114	St-Andrews	17	4145	Victoria	14	630		
River-Philip	6	1031	St-Croix	4	1483	Victoria	6	843		
Rockville	7	701	Stellarton	18	2410	W				
Round-Hill	2	696	Stewiacke	5	3666					
S			St-Peters	13	1299	Wallace	6	1650		
			Strathlorn	16	1515	Walton	4	687		
			Summerside	10	1513	Wagh's River	5	1427		
			T			Wentworth	6	745		
	Salmon-River	12		703	Tancook-Island	10	570	West Arichat	13	1189
	Sandy-Point	8		485	Tatamagouche	5	1466	Westchester	6	971
	Scotch-Village	4		821	Tracadie	12	440	Westville	18	3152
	Selma	4		563	Tracadie	17	3222	Weymouth	1	3490
	Shag-Harbour	8		628	Trout-Brook	14	900	White Haven	12	1086
	Shelburne-District	8		1299	Truro	5	7480	Whycomagh	16	2289
Sherbrooke	12	1063		Truro	5	5102	Windsor	4	2837	
Shubenacadie	4	1349		Tusket	7	1699	Wolfville	3	1963	
Summerside	20	2882		Tusket-Wedge	7	1618	Wood's-Harbour	8	1135	
Sydney-Town	14	2426	Tusket-Lakes	7	323	Y				
Sydney-Forks	14	1226			Yarmouth		7	7095		
Sydney-Mines	14	2442								
Somerset	3	931								
South-Gut	15	343								

TABLEAU IX.—DIVISIONS DE LA COLOMBIE-BRITANNIQUE, DU MANITOBA ET DES TERRITOIRES.

Nos.	COMTÉS.	Nos.	CIRCONSCRIPTIONS ÉLECTORALES.	Nos.	DISTRICTS.
	COLOMBIE-BRITANNIQUE.		MANITOBA.		LES TERRITOIRES.
1	Cariboo	6	Lisgar	10	Alberta
2	New Westminster	7	Marquette	11	Assiniboia
3	Vancouver	8	Provencher	12	Saskatchewan
4	Victoria	9	Selkirk	13	Athabaska
5	Yale		Winnipeg	14	Non organisés

TABLEAU X.—CITES, VILLES, VILLAGES DU MANITOBA. VILLES DES TERRITOIRES ET DE LA COLOMBIE-BRITANNIQUE.

VILLES, VILLAGES, ETC.	d	Popu- lation.	VILLES, VILLAGES, ETC.	d	Popu- lation.	VILLES, VILLAGES, ETC.	d	Popu- lation.		
A			Birtle	7	846	D				
			Birtle	7	338		Cornwallis	9	1254	
			Blanchard	7	527	Cypress	7	4108		
			Boulton et Shell-River	7	439					
Archie	7	727	Brandon	9	3778					
Argyle	9	2272	Brenda	9	1016	Doly	9	928		
Arthur	9	666				Deloraine	9	1928		
Assiniboia	6	1237	C			Derby	9	1245		
B				Calgary et Red-Deer	10	11199	De Salaberry	8	1207	
	Barleton	9		1484	Cartier	8	939	Douglas	9	4467
	Belcourt	6		1019	Clanwilliam	7	596	Dufferin	9	4835

VILLES, VILLAGES, ETC.	d	Popu- lation.	VILLES, VILLAGES, ETC.	d	Popu- lation.	VILLES, VILLAGES, ETC.	d	Popu- lat.
E			N			S		
East-Selkirk	6	350	Medora	7	794	St-Andrews	6	1
Elm-River	7	567	Miniota	7	1068	St-Boniface	8	1
Emerson	8	660	Minnedosa	7	614	St-Boniface	8	1
Elton	9	1534	Morden	7	1176	St-Clement	6	1
F			Montcalm	8	1688	St-François Xavier	6	1
Fairford	6	1167	Morris	8	739	St-Laurent et Posen	6	1
Franklin	8	1662	Morris	8	286	St-Norbert	8	1
G			O			St-Paul	6	1
Gimli	6	1641	Nanaimo	3	4595	Ste-Anne	8	1
Gladstone	7	378	Neepawa	7	774	Selkirk	6	1
Glendale	7	752	New-WESTMINSTER	2	6678	Saskatchewan	7	1
Glenwood	9	1473	Norfolk	7	3904	Shoal-Lake	7	1
H			P			Sifton	7	1
Hanover	8	1177	Pipestone	7	1100	Springfield	6	1
Harrison	7	437	Plessis	6	1296	T		
Hespeler	8	1122	Portage-la-Prairie	7	3882	Tache	8	1
I			Portage-la-Prairie	7	3363	Turtle-Mountain	7	1
Inchiquin	7	408	Prince-Albert	12	1360	V		
K			R			VANCOUVER	2	13
Kildonan	6	571	Rapids City	7	543	Varennes	6	1
L			REGINA	11	1681	VICTORIA	4	16
La Broquerie	8	330	Rhineland	7	5093	Viriden	7	1
Landsdowne	7	1037	Riding Mountain	7	976	W		
Lorne	7	2588	Riverside	7	1339	Wallace	7	1
Louise	7	2551	Rockwood	6	2901	Westbourne	7	1
M			Rosedale	7	1698	Whitehead	7	1
Macdonald	6	383	Rossbarn	7	551	Whitewater	7	1
McLeod	10	7203	Russell	7	1407	WINNIPEG	9	25
						Woodlands	6	1
						Woodworth	7	1
						Y		
						Youville	8	1

ETATS-UNIS.

ETATS.	Popula- tion.	Capitales.	ETATS.	Popula- tion.	Capitales.	ETATS.	Popula- tion.	Capitales.
Alabama	1,513,073	Montgomery.	Louisiane	1,118,528	Baton-Rouge.	Rhode-Island	345,343	Newport
Arkansas	1,128,385	Little-Rock.	Maine	661,061	Augusta.	Tennessee	1,767,723	Providence
Californie	1,208,002	Sacramento.	Maryland	1,042,331	Annapolis.	Texas	2,235,220	Nashville.
Caroline merid.	1,151,161	Columbia.	Massachusetts	2,238,407	Boston.	Vermont	332,205	Austin.
Caroline sept.	1,617,340	Raleigh.	Michigan	2,093,790	Lansing.	Virginie	1,655,911	Montpell.
Colorado	419,173	Denver.	Minnesota	1,301,017	St-Paul.	Virginie occid.	762,448	Richmond.
Connecticut	746,261	Hartford.	Mississippi	1,289,687	Jackson.	Washington	349,316	Charlesto
Dakota merid.	328,843	Pierre.	Missouri	2,679,080	Jefferson.	Wisconsin	1,686,697	Madison.
Dakota sept.	182,425	Bismark.	Montana	132,169	Helena.	Wyoming	60,589	Cheyenne
Delaware	168,471	Dover.	Nebraska	1,058,793	Lincoln.	TERRITOIRES.		
Floride	391,435	Talahassée.	Nevada	45,327	Carson.	Alaska	30,329	Sitka.
Georgie	1,837,366	Atlanta.	New-Hampshire	376,527	Concord.	Arizona	59,691	Phœnix.
Idaho	84,250	Boisé City.	New-Jersey	1,444,017	Trenton.	Indien	120,000	(non orga
Illinois	3,826,336	Springfield.	New-York	5,997,934	Albany.	Nouv.-Mexique	153,86	Santa-Fé.
Indiana	2,192,030	Indianapolis.	Ohio	3,672,719	Columbus.	Oklahoma	61,801	Guthrie.
Iowa	1,911,729	Des Moines.	Orégon	313,490	Salem.	Utah	207,908	Salt-Lake
Kansas	1,427,085	Topeka.	Pensylvanie	5,258,074	Harrisburg.	Dist de Colombie	230,796	Washing
Kentucky	1,858,436	Frankfort.						

TC.	d	Po. lat
.....	6	1
.....	8	
.....	8	1
.....	6	1
.....	6	
.....	8	
.....	6	
.....	8	1
.....	6	9
.....	7	7
.....	7	1
.....	7	1
.....	6	1
.....	8	
.....	7	1
.....	2	13
.....	6	
.....	4	16
.....	7	
.....	7	1
.....	7	1
.....	7	1
.....	7	1
.....	9	25
.....	6	1
.....	7	1
.....	8	

la-	Capital
343	Newport Provider
723	Nashville
220	Austin
205	Montpelier
911	Richmond
448	Charleston
316	Olympia
697	Madison
589	Cheyenne
329	Sitka
691	Phoenix
000	(non orga
86	Santa Fe
801	Guthrie
908	Salt Lake
796	Washing