

Technical and Bibliographic Notes/Notes techniques et bibliographiques

The Institute has attempted to obtain the best original copy available for filming. Features of this copy which may be bibliographically unique, which may alter any of the images in the reproduction, or which may significantly change the usual method of filming, are checked below.


- Coloured covers/
Couverture de couleur
- Covers damaged/
Couverture endommagée
- Covers restored and/or laminated/
Couverture restaurée et/ou pelliculée
- Cover title missing/
Le titre de couverture manque
- Coloured maps/
Cartes géographiques en couleur
- Coloured ink (i.e. other than blue or black)/
Encre de couleur (i.e. autre que bleue ou noire)
- Coloured plates and/or illustrations/
Planches et/ou illustrations en couleur
- Bound with other material/
Relié avec d'autres documents
- Tight binding may cause shadows or distortion
along interior margin/
La reliure serrée peut causer de l'ombre ou de la
distorsion le long de la marge intérieure
- Blank leaves added during restoration may
appear within the text. Whenever possible, these
have been omitted from filming/
Il se peut que certaines pages blanches ajoutées
lors d'une restauration apparaissent dans le texte,
mais, lorsque cela était possible, ces pages n'ont
pas été filmées.
- Additional comments:
Commentaires supplémentaires:

L'Institut a microfilmé le meilleur exemplaire qu'il lui a été possible de se procurer. Les détails de cet exemplaire qui sont peut-être uniques du point de vue bibliographique, qui peuvent modifier une image reproduite, ou qui peuvent exiger une modification dans la méthode normale de filmage sont indiqués ci-dessous.

- Coloured pages/
Pages de couleur
- Pages damaged/
Pages endommagées.
- Pages restored and/or laminated/
Pages restaurées et/ou pelliculées
- Pages discoloured, stained or foxed/
Pages décolorées, tachetées ou piquées
- Pages detached/
Pages détachées
- Showthrough/
Transparence
- Quality of print varies/
Qualité inégale de l'impression
- Includes supplementary material/
Comprend du matériel supplémentaire
- Only edition available/
Seule édition disponible
- Pages wholly or partially obscured by errata
slips, tissues, etc., have been refilmed to
ensure the best possible image/
Les pages totalement ou partiellement
obscurcies par un feuillet d'errata, une pelure,
etc., ont été filmées à nouveau de façon à
obtenir la meilleure image possible.

This item is filmed at the reduction ratio checked below/
Ce document est filmé au taux de réduction indiqué ci-dessous.

10X	14X	18X	22X	26X	30X
<input type="checkbox"/>	<input type="checkbox"/>	<input checked="" type="checkbox"/>	<input type="checkbox"/>	<input type="checkbox"/>	<input type="checkbox"/>
12X	16X	20X	24X	28X	32X



215

NOUVELLE
GEOGRAPHIE PRIMAIRE

ILLUSTREE

A L'USAGE

DES ECOLES CHRETIENNES

DEUXIÈME ÉDITION



PAR LES FRÈRES DES ÉCOLES CHRÉTIENNES

MONTREAL

RUE COTÉ, 30



PRÉFACE

En préparant ce *Cours élémentaire de Géographie*, nous n'avons point perdu de vue que nous travaillions pour de très jeunes enfants; dans cette pensée, nous l'avons fait aussi simple que possible, sans rien négliger toutefois de ce qui est essentiel.

Pour atteindre ce but, nous avons laissé de côté les grands détails, les longues nomenclatures, et, généralement, tout ce qui offre quelque difficulté, pour ne nous attacher qu'au facile, à l'utile, sans cependant négliger tout à fait l'agréable.

Ainsi, cet abrégé présente aux élèves trois leçons distinctes: le texte, les illustrations et les cartes.

Le *texte*, qui n'est qu'une légère esquisse sur chaque contrée, est divisé en courts paragraphes, afin d'en faciliter l'étude.

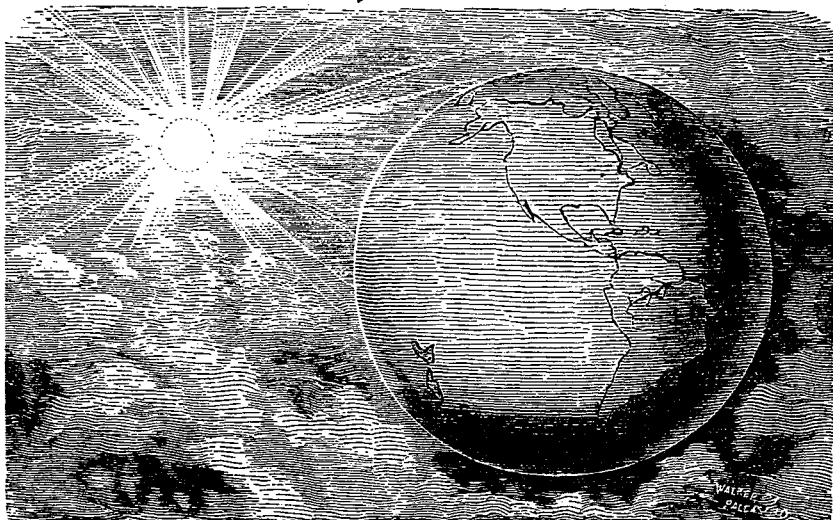
Les *illustrations* sont un moyen d'enseignement aussi instructif qu'intéressant.

Les *cartes*, gravées spécialement pour cet ouvrage, font saisir sans efforts et même avec goût, au moyen des *exercices* mis en regard, les divers accidents physiques de la surface du globe.

Puissent ces éléments de notre *série géographique* être utiles à la jeunesse pour laquelle nous les avons coordonnés!

NOTE.—Aux leçons VIII, IX et X, se trouvent des *questionnaires* et des indications d'*exercices cartographiques* auxquels il n'y a que quelques mots à changer pour qu'ils conviennent aux leçons suivantes.

NOUVELLE
GÉOGRAPHIE PRIMAIRE
ILLUSTRÉE.



NOTIONS PRÉLIMINAIRES.

LEÇON I.

Forme de la Terre ; sa représentation.

1.

1. Qu'est-ce que la Géographie ?—
La Géographie est la description
de la Terre.

2. Quelle est la forme de la Terre ?—

La Terre est à peu près ronde, comme
une boule.

3. Quels sont les mouvements de la
Terre ?—La Terre a deux **mouvements** : 1o. un mouvement **journalier**
de *rotation* sur elle-même ; 2o. un mouvement
annuel de *révolution* autour
du Soleil. 365 jours 5 heures 48 minutes.

4. Comment représente-t-on la Terre ?
—On représente la Terre au moyen de
cartes et de globes.

2.

5. *Qu'est-ce qu'une carte géographique ?* — Une carte géographique est un plan qui représente la Terre, en entier ou en partie.

6. *Qu'est-ce qu'un globe ou une sphère ?* — Un globe ou une sphère est une boule qui sert à représenter la Terre.

7. *Comment s'appelle la moitié d'une sphère ?* — La moitié d'une sphère s'appelle hémisphère.

8. *Combien y a-t-il d'hémisphères ?* — Il y en a deux : l'hémisphère oriental et l'hémisphère occidental.

LEÇON II.

Orientation.

1.

9. *Comment appelle-t-on le côté où le Soleil se lève ?* — Le côté où le Soleil se lève s'appelle l'est.

10. *Comment appelle-t-on le côté où le Soleil se couche ?* — On appelle ouest le côté où le Soleil se couche.

11. *Quand vous avez à votre droite le Soleil levant, quel point se trouve devant vous ?* — Le nord.

12. *Et quel point est alors derrière vous ?* — Le sud.

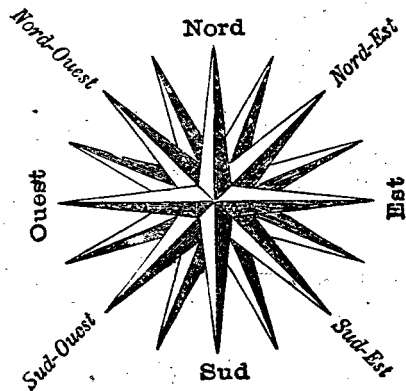
2.

13. *Où se trouve le nord sur une carte ?* — Sur une carte, le nord se trouve en haut.

14. *Où se trouve le sud ?* — Le sud se trouve en bas.

15. *Où se trouve l'est ?* — L'est se trouve à droite.

16. *Où se trouve l'ouest sur une carte ?* — L'ouest, sur une carte, se trouve à gauche.



ROSE DES VENTS.

3.

17. *Comment nomme-t-on le point qui se trouve entre le nord et l'est ?* — On le nomme le nord-est.

18. *Comment se nomme celui qui se trouve entre le sud et l'est ?* — Il se nomme le sud-est.

19. *Celui qui est entre le nord et l'ouest ?* — Il s'appelle le nord-ouest.

20. *Et celui qui est entre le sud et l'ouest ?* — Il se nomme le sud-ouest.

LEÇON III.

Les terres.

1.

21. *Quelle partie de la Terre la Géographie décrit-elle ?*—La Géographie décrit la *surface* de la Terre.

22. *De quoi se compose cette surface ?*—Cette **surface** se compose de terre et d'eau.

23. *Comment s'appellent les différentes étendues de terre ?*—Les différentes **étendues de terre** s'appellent : *continents, îles, presqu'îles, isthmes, caps, montagnes, plaines, vallées*, etc.

24. *Qu'est-ce qu'un continent ?*—Un **continent** est une grande étendue de terre non interrompue par les mers.

2.

25. *Qu'est-ce qu'une île ?*—Une **île** est une étendue de terre entièrement entourée d'eau.

26. *Qu'est-ce qu'une presqu'île ?*—Une **presqu'île** est une étendue de terre presque entièrement entourée d'eau.

27. *Qu'est-ce qu'un isthme ?*—Un **isthme** est une langue de terre qui unit deux terres plus grandes.

28. *Qu'appelle-t-on côte ?*—On appelle **côte** le rivage de la mer.

3.

29. *Qu'est-ce qu'un cap ?*—Un **cap** est une pointe de terre qui s'avance dans les eaux.

30. *Qu'est-ce qu'une montagne ?*—Une **montagne** est une masse de terre qui s'éleve au-dessus des parties environnantes.

31. *Qu'est-ce qu'une colline ?*—Une **colline** est une petite montagne.

32. *Qu'est-ce qu'un volcan ?*—Un **volcan** est une montagne qui vomit des matières embrasées.

4.

33. *Qu'est-ce qu'une plaine ?*—Une **plaine** est un grand espace de terrain à peu près d'égal niveau.

34. *Qu'est-ce qu'un plateau ?*—Un **plateau** est une plaine élevée.

35. *Qu'est-ce qu'une vallée ?*—Une **vallée** est un espace creux entre deux montagnes.

36. *Qu'est-ce qu'un désert ?*—Un **désert** est une région stérile et inhabitée.

EXERCICES CARTOGRAPHIQUES.


Après chacune des leçons III, IV et V, l'élève dessinera les accidents géographiques qui font l'objet de la leçon. Il en tirera les sujets de son manuel, de son imagination ou de la géographie locale. (Voir *Exercices cartographiques*, cahier No. 1, p. 2.)

LEÇON IV.

Les eaux.

1.

37. *Comment s'appellent les différentes étendues d'eau ?*—Les différentes **étendues d'eau** s'appellent : *océans*,



LES ACCIDENTS GÉOGRAPHIQUES.—VUE.

- | | | | | |
|-----------------|---------------|---------------|-----------------|------------------------------|
| 1, Iles; | 8, Colline ; | 14, Mer ; | 20, Rivières ; | 24, 24 ^a , Embou- |
| 2, Presqu'île ; | 9, Volcan ; | 15, Golfe ; | 21, Affluent ; | chures de ri- |
| 3, Isthme ; | 10, Plaine ; | 16, Baie ; | 22, Confluent : | vières ; |
| 4, Caps ; | 11, Plateau ; | 17, Port ; | 23, Sources de | 25, Chute ; |
| 5, 6, Côte ; | 12, Vallée ; | 18, Détroit ; | Rivières ; | 26, Lac ; |
| 7, Montagnes ; | 13, Océan ; | 19, Fleuve ; | | 27, Canal. |

mers, golfes, baies, détroits, rivières, lacs, etc.

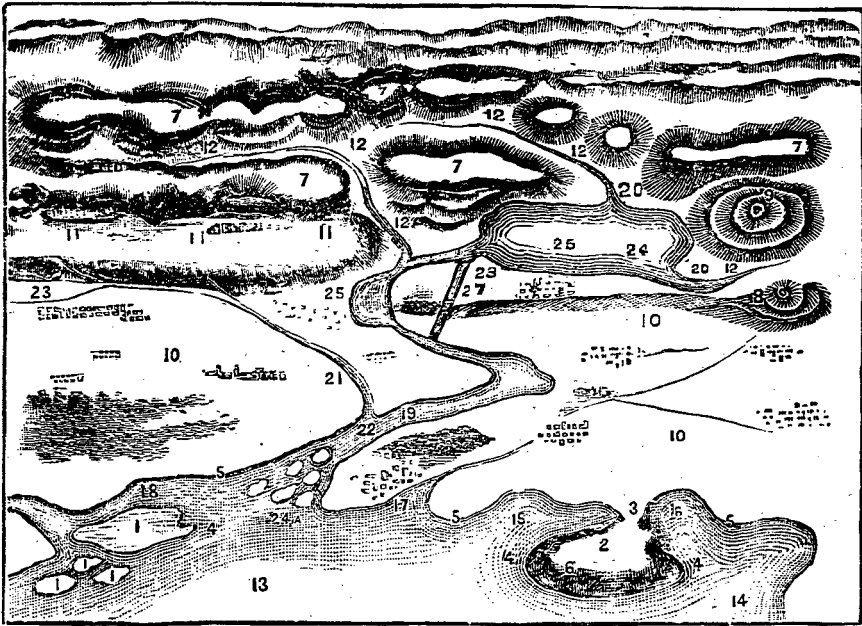
38. *Qu'est-ce que l'Océan ?*—L'**Océan** est l'ensemble des eaux salées qui entourent les continents.

39. *Qu'est-ce qu'une mer ?*—Une **mer** est une partie de l'Océan.

2.

40. *Qu'est-ce qu'un golfe ?*—Un **golfe** est une partie de mer s'avancant dans les terres.

41. *Qu'est-ce qu'une baie ?*—Une **baie** est un petit golfe.



LES ACCIDENTS GÉOGRAPHIQUES.—CARTE.

42. *Qu'est-ce qu'un port ?*—Un **port** est un lieu où les bateaux chargent et déchargent les marchandises.

43. *Qu'est-ce qu'un détroit ?*—Un **détroit** est un bras de mer qui a peu de largeur et qui unit deux mers.

EXERCICES.—Voir à la fin de la leçon III.

LEÇON V.

Les eaux (suite).

1.

44. *Qu'est-ce qu'un fleuve ?*—Un **fleuve** est un cours d'eau considérable qui se jette dans la mer.

45. *Qu'est-ce qu'une rivière ?*—Une **rivière** est un cours d'eau qui se jette dans un fleuve ou dans une autre rivière.

46. *Qu'est-ce qu'un affluent ?*—Un **affluent** est un cours d'eau qui se jette dans un autre.

47. *Qu'est-ce qu'un confluent ?*—Un **confluent** est l'endroit où deux cours d'eau se rencontrent.

2.

48. *Qu'est-ce que la source d'un cours d'eau ?*—La **source** d'un cours d'eau est l'endroit où il commence.

49. *Qu'est-ce que l'embouchure d'un cours d'eau ?*—L'**embouchure** d'un cours d'eau est l'endroit où il se jette dans un autre cours d'eau ou dans la mer.

50. *Qu'est-ce que le haut d'un cours d'eau ?*—Le **haut** d'un cours d'eau est la partie qui est vers sa source.

51. *Qu'est-ce que le bas d'un cours d'eau ?*—Le **bas** d'un cours d'eau est la partie qui est vers son embouchure.

3

52. *Qu'appelle-t-on rive droite d'une rivière ?*—On appelle **rive droite** d'une rivière le côté qui est à la droite d'une personne ayant le visage tourné vers le bas du courant.

53. *Qu'appelle-t-on rive gauche ?*—On appelle **rive gauche** le côté opposé à la rive droite.

54. *Qu'est-ce qu'une chute ou cataracte ?*—Une **chute**, ou **cataracte**, est le saut que font les eaux d'une rivière quand elles tombent d'une hauteur assez grande.

55. *Qu'est-ce qu'un lac ?*—Un **lac** est une étendue d'eau renfermée dans les terres.

56. *Qu'est qu'un canal ?*—Un **canal** est une rivière creusée par les hommes pour y faire passer les bateaux.

EXERCICES.—Voir à la fin de la leçon III.

LEÇON VI.

Races humaines.—Divisions politiques.

1.

57. *Quelles sont les races humaines ?*—Les **races humaines** sont : la

race blanche, la **race jaune**, la **race brune**, la **race rouge** et la **race noire**.

58. *Comment distingue-t-on surtout ces races ?*—On **distingue** surtout ces races par la couleur de la peau, qui est blanche, jaune, brune, rouge, ou noire.

59. *Où trouve-t-on surtout la race blanche ?*—On trouve surtout la **race blanche** en *Europe*, en *Amérique*, et dans l'*Asie occidentale*, *et nord de l'Afr.*

60. *Où trouve-t-on surtout la race jaune ?*—On trouve surtout la **race jaune** en *Asie*. *Sicilien*.

61. *Quels peuples comprend la race brune ?*—La **race brune** comprend les peuples des *Indes* et de la *Malaisie*.

62. *Quels peuples comprend la race rouge ?*—La **race rouge** comprend les *Indiens* ou *sauvages* de l'*Amérique*.

63. *Où se trouve principalement la race noire ?*—La **race noire** ou **négre** se trouve principalement en *Afrique*. *Sicilien*.


2.

64. *Qu'est-ce qu'un état ?*—Un **état** est un pays soumis à un même gouvernement.

65. *Quelles sont les différentes sortes d'états ?*—Les différentes **sortes** d'états sont : les **empires**, les **royaumes**, les **républiques**, les **confédérations**, etc.

66. *Qu'est-ce qu'un empire ?*—Un **empire** est un état renfermant plusieurs contrées et gouverné par un **empereur**.

67. *Qu'est-ce qu'un royaume ?*—Un **royaume** est un état gouverné par un **roi**.



RACES : — 1, race blanche ; — 2, race jaune ; — 3, race brune ; — 4, race rouge ; — 5, race noire.

68. *Qu'appelle-t-on roi ou empereur ?*—On appelle **roi** ou **empereur** des chefs d'état ordinairement héréditaires.

69. *Qu'est-ce qu'une république ?*—Une **république** est un état qui n'a qu'un chef temporaire nommé **président**.

3.

70. *Qu'est-ce qu'une confédération ?*—Une **confédération** est une alliance entre plusieurs états ou provinces.

71. *Qu'est-ce qu'une province ?*—Une **province** est une subdivision d'un état.

72. *Qu'est-ce qu'un comté ?*—Un **comté** est une des subdivisions d'une province.

73. *Qu'est-ce qu'un diocèse ?*—Un **diocèse** est une étendue de pays sous la juridiction d'un évêque.

74. *Qu'est-ce qu'une paroisse ?*—Une **paroisse** est une partie d'un diocèse administrée par un curé.

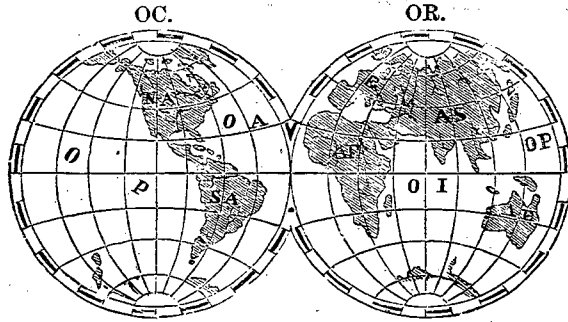
75. *Qu'appelle-t-on capitale d'un pays ?*—On appelle **capitale** d'un pays la ville où siège le gouvernement.

LEÇON VII.

Divisions du Globe.

1.

76. *Combien y a-t-il de continents ?*—Il y a **trois continents** : l'**ancien continent**, le **nouveau continent** ou l'**Amérique**,—et l'**Australie** ou **continent australien**.



Le blanc désigne l'eau.

Le noir désigne la terre.

OC., Hémisphère Occidental.

OR., Hémisphère Oriental.

E., Europe.

AS., Asie.

N A., Amérique du Nord.

S A., Amérique du Sud.

AF., Afrique.

A E., Australie.

OP., Océan Pacifique.

O I., Océan Indien.

77. Combien y a-t-il de parties du monde?—Il y a **cinq parties** du monde : l'Amérique, l'Europe, l'Asie, l'Afrique et l'Océanie.

78. De quelles parties du monde l'ancien continent est-il formé?—L'**ancien continent** est formé de l'Europe, de l'Asie et de l'Afrique.

79. Que comprend l'Océanie?—L'**Océanie** comprend l'Australie et un grand nombre d'îles.

80. Comment divise-t-on l'Océan?—On divise l'**Océan** en cinq océans particuliers: 1° l'Océan Atlantique, 2°

l'Océan Pacifique ou Grand océan, 3° l'Océan Indien, 4° l'Océan Glacial du Nord ou Arctique, 5° l'Océan Glacial du Sud ou Antarctique.

81. Quelle est la population totale du Globe?—La **population** totale du Globe est de près d'un *billion et demi* d'habitants.

EXERCICE CARTOGRAPHIQUE.

Reproduire, sur le papier, sur l'ardoise ou au tableau noir, les deux hémisphères en indiquant les cinq parties du monde et les cinq océans. (Voir *Exercices cartographiques*, Cahier No. 1, p. 3.)



ANIMAUX DE L'AMÉRIQUE SEPTENTRIONALE

1, Elan (*original*) ; 2, ours blanc, ours noir ; 3, bisons ; 4, cerfs du Canada (*chevreuils*) ; 5, chevaux ; 6, biche ; 7, loups ; 8, coqs d'Inde ; 9, raton laveur ; 10, alligator ; 11, tortue ; 12, castors ; 13, renard ; 14, aigle ; 15, hiboux.

AMÉRIQUE SEPTENTRIONALE. 43

LEÇON VIII.

1.

82. L'Amérique septentrionale est bornée au nord par l'océan Arctique ; à l'est, par l'Atlantique ; au sud et à l'ouest, par le Pacifique.

83. Les principales îles de l'Amérique septentrionale sont : Terre-Neuve, l'île du Prince-Edouard, Cuba, Haïti, la Jamaïque, Porto-Rico et Vancouver.

longueur 3.000 m. sup. 900.000 carr.

84. Les *presqu'îles* les plus remarquables sont la Nouvelle-Ecosse, la Floride et la Basse-Californie. *Yucatan, Alaska, Labrador, Arizelle, Labrador :* 2.

85. Les principaux *caps* sont : Farewell, Race, Cod, Hatteras, Sable, San-Lucas et Mendocino.

86. Les principales *montagnes* sont les Alléghans⁺ et les montagnes Rocheuses. * *Apéul achis, Alenis, Vertes.*

Superficie: 8.109.000.

9. 11. 1. 1. 1.

87. Les principaux *golfs* sont : le golfe St-Laurent, le golfe du Mexique et la baie d'Hudson.

88. Les *détroits* les plus remarquables sont : le détroit de Belle-Isle et celui de Behring.

3.

89. Les principaux *fleuves* sont : le Mackenzie, le St-Laurent, le Mississipi et le Rio Grande.

90. Les principaux *lacs* sont : les grands lacs de l'Ours et de l'Esclave, les lacs Supérieur, Michigan, Huron, Érié, Ontario. *La et St. Winifred*

91. Les principales *divisions* de l'Amérique septentrionale sont : le Canada, les États-Unis, le Mexique, l'Amérique centrale et les Antilles.

QUESTIONNAIRE.

82. Quelles sont les *bornes* de l'Amérique septentrionale ?

83. Quelles sont les principales *îles* de l'Amérique septentrionale ?

84. Quelles en sont les principales *presqu'îles* ?

85. Quels en sont les principaux *caps* ?

86. Quelles en sont les principales *montagnes* ?

87. Quels en sont les principaux *golfs* ? — Quelle est la principale *baie* ?

88. Quels sont les *détroits* les plus remarquables ?

89. Quels sont les principaux *fleuves* ?

90. Quels sont les principaux *lacs* ?

91. Quelles sont les principales *divisions* de l'Amérique septentrionale ?

LEÇON IX.

1.—LE CANADA.

5,369,666
Population : 5,000,000 d'habitants.
Superficie : 3,400,000 milles carrés.

92. **Situation.**—Le Canada est une vaste contrée qui occupe une grande partie du nord de l'Amérique septentrionale.

93. **Habitants.**—Le Canada est habité surtout par des Canadiens-français, des Anglais, des Irlandais et des Écossais.

94. **Gouvernement.**—Le Canada est gouverné par un *gouverneur général*, nommé par la *reine* d'Angleterre, et de plus, à la tête de chaque province, il y a un *lieutenant-gouverneur*, nommé par le gouverneur général.

95. **Divisions.**—Le Canada est une confédération formée de sept provinces : Québec, Ontario, la Nouvelle-Ecosse, le Nouveau-Brunswick, l'île du Prince-Édouard, Manitoba et la Colombie Anglaise, et des Territoires et Districts du Nord-Ouest.

96. **Villes.**—*Ottawa*, capitale, est agréablement située sur la rive droite de l'Outaouais. Les édifices du Parlement en sont le principal ornement. La chute de la Chaudière, près de la ville, est très remarquable.

97. Les autres principales villes du Canada sont :

Montréal, sur le Saint-Laurent ;
Toronto, sur le lac Ontario ;
Québec, sur le Saint-Laurent ;
Hamilton, sur le lac Ontario ;
Halifax, sur l'Atlantique.

Ref. 2.005.305 hab
2. Province de Québec.

Population: 1.500.000 habitants
Superficie: 220.000 milles carrés.

98. Les principales voies de communication sont : le fleuve St-Laurent et les chemins de fer.

99. Les principaux chemins de fer sont : le *Pacifique-Canadien*, qui traverse le Canada de l'Atlantique au Pacifique ; le *Grand-Tronc* et l'*Intercolonial*, qui ensemble relient les provinces d'Ontario, de Québec, du Nouveau-Brunswick et de la Nouvelle-Ecosse.

100. **Situation.**—La province de Québec est située sur les deux versants du fleuve St-Laurent, entre la province d'Ontario et l'Atlantique.

101. **Illes.**—Les principales illes de cette province sont celles de Montréal, de Jésus et d'Orléans.

102. **Montagnes.**—Il y a trois chaînes de montagnes : les Laurentides, au nord ; les monts Notre-Dame et les Alleghany, au sud. Parmi les montagnes isolées, on remarque surtout les monts Royal et Beceil.

103. **Rivières.**—Les principales rivières sont : le St-Laurent, qui traverse la province, et ses affluents : le Saguenay, le St-Maurice, l'Outaouais, du côté du nord ; le Richelieu, du côté du sud.

104. **Lacs.**—Les principaux lacs sont : le lac St-Jean, dans le nord de la province ; le lac St-Pierre, entre Sorel et Trois-Rivières ; le lac St-François, au sud-ouest.

105. **Climat.**—Le climat de cette province est très froid en hiver, mais agréable en été et en automne.

106. **Sol.**—Le sol est fertile ; il produit le blé, le maïs et les autres graminées, des fruits et des légumes en abondance.

QUESTIONNAIRE.

- a) Quelle est la population du Canada ?
- b) Quelle est sa superficie ?
- 92. Où le Canada est-il situé ?
- 93. A quelles nationalités appartiennent ses habitants ?
- 94. Par qui le Canada est-il gouverné ?—Par qui chaque province est-elle gouvernée ?
- 95. Comment le Canada est-il divisé ?
- 96. Quelle est la capitale du Canada ? Sur quelle rivière est-elle située ? Quels en sont les principaux édifices ? Quelle chute remarquable est située près d'Ottawa ?
- 97. Quelles sont les autres principales villes du Canada ?
- 98. Quelles sont les principales voies de communication du Canada ?
- 99. Quels sont les principaux chemins de fer ?

EXERCICES CARTOGRAPHIQUES.

- 1°. Dessiner le contour du Canada et les accidents géographiques énumérés à la leçon VIII et qui se trouvent en Canada.
- 2°. Tracer une carte du Canada, en y indiquant les divisions, les villes, les voies de communication énumérées ci-dessus. (Voir Exercices cartographiques, cahier No 1, cartes nos 4 et 5).

QUESTIONNAIRE.

- a) Quelle est la population de la province de Québec ?
- Quelle est sa superficie ?

100. Où la province de Québec est-elle située ?

101. Quelles sont les principales rivières de la province de Québec ?

102. Quelles en sont les principales montagnes ?

103. Quelles sont ses principales rivières ?

104. Nommez trois des principaux lacs de la Province ?

105. Quels sont les caractères du climat de cette Province ?

106. Quels sont les produits végétaux de son sol ?

EXERCICE CARTOGRAPHIQUE.

Tracer une carte de la province de Québec, en y indiquant les accidents géographiques mentionnés dans cette leçon.

3.—Province de Québec (suite).

107. **Habitants.**—Les habitants sont, pour les cinq sixièmes, *Canadiens-français*, et la très grande majorité professe la *religion catholique*.

108. **Gouvernement.**—Le gouvernement de la Province se compose 1° d'un *lieutenant-gouverneur*, 2° d'un *conseil législatif*, dont les membres sont nommés par le lieutenant-gouverneur, et 3° d'une *assemblée législative*, dont les membres sont élus par le peuple.

109. **Divisions.**—La province de Québec est divisée en ~~18~~ *comtés* (voir p. 37).

Les *diocèses* sont au nombre de dix.

110. **Villes.**—*Québec*, capitale, est assise sur une éminence, appelée le

Cap-Diamant, d'où elle domine tous les environs. C'est un port de mer et un des entrepôts du commerce du Canada avec l'Angleterre.

111. *Montréal*, la plus importante des villes du Canada, est un grand centre de commerce. 725 30, 45

112. Après Québec et Montréal, les principales villes de la Province sont : *St-Henri*, à côté de Montréal, *Hull*, *Sherbrooke*, *Trois-Rivières* et *Lévis*.

113. **Industrie.**—Les habitants de la Province se livrent à la *culture* de la terre, à l'exploitation des *forêts*, des *pêcheries* et des *mines*, et à la *fabrication* de divers produits.

QUESTIONNAIRE.

107. A quelle *nationalité* appartient la plupart des habitants de la province de Québec ? —Quelle *religion* professent-ils ?

108. Comment le *gouvernement* de cette province est-il composé ?

109. Quelles sont les *divisions* de la province de Québec ?

110. Quelle est la *capitale* de cette province ?—Où cette ville est-elle située ?—Qu'est-elle au point de vue du commerce ?

111. Quelle est la ville la plus importante du Canada ?

112. Quelles sont les autres *principales villes* de la Province ?

113. A quelles *industries* se livre-t-on dans la province de Québec ?

EXERCICE CARTOGRAPHIQUE.

Dessiner une carte de la province de Québec, en y indiquant les villes mentionnées dans cette leçon, ainsi que les comtés dans lesquels elles se trouvent.

73. 110



LE SUCRE D'ÉRABLE.

LEÇON X.

9,523,400
1.—Ontario. P. 2,182,942

du lac Ontario. Son havre est sûr et spacieux.

QUESTIONNAIRE.

114. Cette province, qui est la plus peuplée, est située à l'ouest de celle de Québec et au nord des Etat-Unis.

114. Où la province d'Ontario est-elle située ?— Sa population est-elle considérable ?

115. Etant située plus au sud que la province de Québec, elle jouit d'un climat plus doux que celui de cette dernière.

115. Que savez-vous de son climat ?

116. Le sol est généralement fertile; les produits sont à peu près les mêmes que ceux de Québec. Le pétrole y abonde.

116. Quels sont les produits de son sol ?— Que savez-vous de son commerce ?

117. Quelle est la capitale de cette province ?— Où est-elle située ?

492,000

P. 459,574

2.—Nouvelle-Ecosse.

Le commerce y est très actif.

117. Toronto, capitale, ville très prospère, est située sur une jolie baie

118. La Nouvelle-Ecosse est une presqu'île située au sud du golfe St-Laurent.

119. Ses côtes sont échanrées par un grand nombre de bons havres, qui favorisent singulièrement le commerce.

120. Son *climat* est plus doux que celui de Québec. Ses principaux *produits* proviennent de l'agriculture, des pêcheries et des mines.

121. *Halifax*, capitale, est la principale station navale de l'Angleterre en Amérique. Son havre est un des plus beaux du monde.

LEÇON XI

1.—Nouveau-Brunswick.

122. Le *Nouveau-Brunswick* est compris entre la province de Québec et la Nouvelle-Ecosse, à laquelle il est réuni par l'isthme de Chignectou.

Sa surface est généralement ondulée.

123. Son *climat* ressemble à celui de la province de Québec.

124. Les principales occupations des habitants sont l'exploitation des forêts et la construction de *vaisseau*.

125. *Frédéricton*, capitale, est agréablement située sur la rive droite du fleuve St Jean.

126. *St-Jean*, sur la rive nord, à l'embouchure du fleuve St-Jean, est la ville la plus importante de la province.

2.—Île du Prince-Edouard.

127. L'île du *Prince-Edouard* est située dans le golfe St-Laurent; c'est la plus petite province du Canada, mais la plus peuplée proportionnellement.

128. Le *climat* est plus doux que celui des provinces voisines.

129. Ses *produits* proviennent surtout de l'agriculture.

130. *Charlottetown*, capitale, est bâtie sur une petite élévation, près de la rivière Hillsborough. *Evêché et collège*.

LEÇON XII

1.—Manitoba.

P. 254. 947

131. *Manitoba*, traversé par la rivière Rouge, était autrefois connu sous le nom d'*Etablissement de la rivière Rouge*.

132. Le *climat* est très froid en hiver.

133. Sa surface est unie et couverte de *prairies*; le sol est très productif.

134. *Winnipeg*, capitale, est assise à la jonction de la rivière Assiniboine et de la rivière Rouge. C'est la métropole du commerce au Nord-Ouest. *S. Boniface*.

2.—Colombie anglaise.

P. 178. 657 (392. 45. 0)

135. La *Colombie anglaise*, appelée autrefois Nouvelle-Calédonie, est la province la plus occidentale du Canada. Elle est située au N. des Etats-Unis, entre les montagnes Rocheuses et le Pacifique. *Cascades*.

136. Sa surface est montagneuse; le *climat*, généralement doux, est agréable et salubre.

137. Cette province est particulièrement remarquable par ses *mines d'or*, qui sont très abondantes.

138. *Victoria*, capitale, est située dans la partie sud de l'île Vancouver ; les environs en sont remarquablement beaux.

3.—Territoires du Nord-Ouest.

P. 158. 941

139. Les *Territoires du Nord-Ouest* sont une vaste contrée qui occupe le nord du Canada et s'étend jusqu'à l'océan Glacial.

140. Le *climat* y est extrêmement froid et se refuse à toute culture, excepté dans la partie du sud-ouest appelée *les prairies*.

141. Le *sol*, dans le sud, consiste en plaines couvertes d'herbes ; dans le nord, il est couvert de forêts où l'on trouve beaucoup d'animaux à fourrures.

142. La capitale est *Régina*, dans le district d'Assiniboia.—Le district de *Keewatin* a un gouvernement distinct.

Yukon P. 27. 169

Territoires non organisés P. 25. 546

LEÇON XIII.

I.—Terre-Neuve.

143. L'île de *Terre-Neuve* est située dans le golfe Saint-Laurent ; elle est découpée par un grand nombre de baies.

144. Le *climat* y est un peu humide, mais salubre ; les brouillards y sont fréquents.

145. Plusieurs télégraphes transatlantiques aboutissent à *Terre-Neuve*.



LE RIZ.

Ses bancs sont très renommés pour la pêche de la morue.

146. *Saint-Jean*, située dans la péninsule Avalon, en est la capitale.

2.—Etats-Unis.

147. Les *Etats-Unis* occupent le centre de l'Amérique septentrionale ; ils s'étendent du Canada au golfe du Mexique, et de l'Atlantique au Pacifique.

148. Le *climat*, dans l'est, est doux en été et froid en hiver ; ailleurs, il

Territoire Yukon: 46,000

District Keewatin: 6,000

375,660
492,500
Albion
Assiniboia Est
Ouest
Saskatchewan
40 Alberta
2000
4000
10000

225,000

101,400,000
65,000,000

Malherbe: 2,000
Keewatin: 6,000

est plus doux ; dans le sud, il est chaud, la neige et la glace y sont rares.



RAMEAU DE COTONNIER.

149. Le sol presque partout, est fertile ; dans le nord et le centre, il produit le blé, le maïs et les autres céréales, ainsi que des fruits ; dans le sud, on cultive le cotonnier, la canne à sucre, la vigne, le tabac et le riz.

150. Les principales voies de communication par eau sont le Mississipi et le Hudson ; un grand nombre de chemins de fer traversent le pays en tous sens.

3.—Etats-Unis (suite).

151. Les Etats-Unis sont une république formée de 45 états et de 4 territoires (voir p. 37).

152. *Washington*, la capitale, est une fort belle ville située sur la rivière Potomac.

153. Parmi les principales villes des Etats-Unis se trouvent aussi ¹ :

New-York, la plus grande ville de l'Amérique, située à l'embouchure du Hudson ;

Chicago, sur le lac Michigan ;

Philadelphie, au sud de *New-York* ;

Brooklyn, tout à côté de *New-York* ;

Saint-Louis, sur le Mississipi ;

Boston, au nord de *New-York*,

Baltimore, entre *Washington* et *Philadelphie* ;

San-Francisco, en Californie ;

La Nouvelle-Orléans, à l'embouchure du Mississipi.

LEÇON XIV.

1.—Mexique


154. Le *Mexique* est une république très étendue située au sud des Etats-Unis, dont elle est séparée en partie par la Rio-Grande.

155. Le climat de cette contrée est très chaud.

156. Le sol produit une grande variété de fruits tropicaux. On y trouve aussi plusieurs riches mines d'or et d'argent.

157. *Mexico*, capitale, est située dans une délicieuse vallée, à 8,000 pieds d'élévation au-dessus du niveau de la mer.

¹ Ce que l'élève doit s'appliquer à retenir, c'est plutôt la situation de ces villes que l'ordre dans lequel elles sont énumérées.



DEUX VOLCANS PRÈS DE MEXIQUE.

2.—Amérique centrale.

158. L'Amérique centrale est située entre le Mexique et l'isthme de Panama. Elle renferme plusieurs petits états indépendants.

159. Cette contrée est particulièrement remarquable par la chaleur de son climat et ses nombreux volcans.

160. On y trouve des mines d'argent, et elle exporte des fruits, de l'acajou¹ et de l'indigo².

161. Les principales villes de ces

¹ Acajou, beau bois employé pour faire des meubles.

² Indigo, plante qui sert à teindre en bleu.

états sont la Nouvelle-Guatemala, San-Salvador, et San-José.

3.—Antilles.

162. Les Antilles, ou Indes Occidentales, sont des îles situées entre l'Amérique septentrionale et l'Amérique méridionale.

163. Le climat est chaud et malsain sur les côtes, mais sain et agréable dans l'intérieur. Le sol est généralement fertile.

164. Les Antilles appartiennent en grande partie à divers états européens. La principale ville est la Havane, dans l'île de Cuba.



ANIMAUX DE L'AMÉRIQUE MÉRIDIONALE.

1, Porc-épic ; 2, tamanoir (fourmilier) ; 3, lama ; 4, alligator ; 5, tapir ; 6, chinchilla ; 7, cabiai ; 8, cougar ; 9, pécarì ; 10, petit tamanoir ; 11, singes ; 12, jaguar ; 13, toucans ; 14, perroquets ; 15, condor ; 16, aigle ; 17, boa ; 18, ocelot ; 19, tatou.

AMÉRIQUE MÉRIDIONALE.

LEÇON XV.

1.

165. L'Amérique méridionale est bornée au N. par la mer des Antilles ; au N.-E. et au S.-E., par l'Atlantique ; et, à l'O., par l'océan Pacifique.

166. Les principales îles sont celles de Joannes et de la Terre-de-Feu.

167. L'isthme de Panama réunit les deux Amériques.

168. Les caps Gallinas, Saint-Roch, Horn et Blanco sont les plus importants.

169. Les principales chaînes de montagnes sont les Andes et les monts Brésiliens.

2.

170. Les principaux *golfs* sont ceux de Panama, de Darien, de Saint-Georges et de Guayaquil.

171. Le principal *détroit* est celui de Magellan, et le principal *lac*, celui de Maracaibo.

172. Parmi les principaux *fleuves*, on remarque l'Orénoque, l'Amazone, le plus grand du globe; le Rio de la Plata, formé par les rivières Parana et Paraguay.

173. Les principales *contrées* de l'Amérique méridionale sont: les Etats-Unis de la Colombie, le Vénézuéla, les Guyanes, le Brésil, l'Equateur, le Pérou, la Bolivie, le Chili, l'Argentine, le Paraguay et l'Uruguay.

Sur l'Amérique méridionale

LEÇON XVI.

4,650,000

1.—Etats-Unis de la Colombie.

174. Cette contrée occupe la partie N.-O. de l'Amérique méridionale, y compris l'isthme de Panama.

175. Le *climat* est très chaud et malsain, excepté sur les plateaux élevés.

176. On y trouve de l'or et des pierres précieuses en assez grande quantité.

177. Sa capitale est *Bogota*, située au centre du pays. *bananes*

2.—Vénézuéla. 2,595,000

178. Le Vénézuéla est situé dans le

N. de l'Amérique méridionale, et à l'E. des Etats-Unis de la Colombie.

179. Le *climat* ressemble beaucoup à celui de la Colombie.

180. La plus grande partie de cet état consiste en une vaste plaine couverte d'herbes permettant l'élevage de nombreux *troupeaux*.

181. La capitale est *Caracas*, située à peu de distance de la mer. *détroit de*

3.—Guyanes.

400,000

182. Les *Guyanes* sont des colonies situées dans le N. de l'Amérique méridionale, à l'E. du Vénézuéla

183. Le *climat* est chaud et assez malsain.

184. Le *sol* produit une grande variété de fruits; on y cultive aussi la canne à sucre, le café et des épices.

185. Les principales villes sont *Georgetown*, *Paramaribo* et *Cayenne*.

x *la capitale de l'Amérique méridionale, anglo-brésilienne*

LEÇON XVII.

1.—Brésil. 24,500,000

186. Le Brésil est la plus grande contrée de l'Amérique méridionale: il en occupe presque toute la partie orientale.

187. Le *climat* est chaud, mais assez agréable.

188. Parmi ses *productions*, on cite particulièrement les meilleurs bois de construction et de teinture. Les diamants et les pierres précieuses s'y trouvent en grande quantité, ainsi que l'or

France - Sur l'Amérique méridionale



LE CAFÉIER.

et l'argent. La moitié du café consommé sur le globe est produit par le Brésil.

189. *Rio-de-Janeiro*, capitale, est la ville la plus considérable de l'Amérique méridionale.

190. L'*Equateur* est situé à l'O. du Brésil, entre la Colombie et le Pérou.

191. Le climat est chaud et malsain, excepté sur les plateaux, où il est doux et salubre.

192. Le sol est très fertile, sauf dans le N., où il ne pleut que rarement.

193. *Quito*, située à 9,000 pieds d'altitude, est la capitale.

Le Saltpetre: le terrible volcan.

4,000,000
3.—Pérou. 3. *les*
194. Le Pérou est situé entre le Brésil et l'océan Pacifique.

195. Le climat est chaud, et le pays souvent éprouvé par de violents tremblements de terre.

196. Le Pérou est renommé à cause de l'abondance de ses métaux précieux.

197. *Lima*, capitale, est la plus belle ville de l'Amérique méridionale.

LEÇON XVIII.

1.—Bolivie. 2,500,000

198. La Bolivie est située à l'O. du Brésil et au N. de la Plata.

199. Le climat est chaud dans les parties basses.

200. Ce pays est particulièrement remarquable par ses mines d'argent.

201. *La Paz*, près du lac Titicaca, est la capitale. *Plumiers* *villes* *l'argent*

2.—Chili. 3,400,000
Le curato *25,000* *moins* *l'argent*

202. Le Chili, pays long et étroit, est situé entre les Andes et le Pacifique, au S. du Pérou.

203. Le climat est sain et agréable.

204. Le sol est généralement fertile ; il contient des mines d'or et d'argent. Il est remarquable par ses volcans et ses tremblements de terre.

205. *Santiago* est la capitale, et *Valparaiso*, le principal port de mer.

3.—Confédération Argentine. 3,000,000
6,000,000

206. Ce pays, appelé aussi la Plata, est une grande contrée située à l'extré-



PRISE DE BŒUFS SAUVAGES AU LASSO.

mité sud de l'Amérique méridionale, à l'est des Andes.

207. Le *climat*, en général, y est sain et tempéré.

208. La Plata est particulièrement remarquable par le grand nombre de *bestiaux* qui errent en liberté dans ses vastes plaines ou *pampas*.

209. La *Patagonie*, partie méridionale de l'Argentine, est un pays froid, aride et peuplé de sauvages peu connus.

210. *Buenos-Ayres*, sur le Rio de la Plata, est la capitale de l'Argentine.

LEÇON XIX.

1.—Paraguay.

211. Le *Paraguay*, petit état intérieur, est situé entre le Brésil, la Plata et la Bolivie.

212. Le *climat* est doux et salubre.

213. Une des plus remarquables productions du *Paraguay* est le *maté*, dont on se sert au lieu de thé dans une partie de l'Amérique méridionale.

214. *L'Assomption*, ou *Asuncion*, est la capitale du Paraguay.

2.—Uruguay.

215. Cette petite contrée est située au sud du Brésil et à l'est de l'Argentine.

216. Le *climat* y est sain et délicieux.

217. Une grande partie du pays consiste en plaines couvertes d'herbes et appelées *pampas*.

218. *Montevideo*, sur le Rio de la Plata, en est la capitale.



ANIMAUX DE L'EUROPE.

1, Chevaux ; 2, vaches ; 3, sanglier ; 4, lièvre ; 5, mulets ; 6, cerf ; 7, chamois ; 8, rennes ; 9, bouquetin ; 10, chèvre ; 11, mouton ; 12, ânes ; 13, hérisson ; 14, rats ; 15, butor ; 16, hérons ; 17, canards ; 18, cygnes ; 19, ibis ; 20, pélican ; 21, lévrier.

EUROPE. 404.000,000

LEÇON XX.

I.

219. L'Europe est bornée au N. par l'Océan Glacial arctique ; à l'E, par l'Asie et la mer Caspienne ; au S., par la mer Noire et la Méditerranée ; à l'O., par l'Océan Atlantique.

220. Les principales îles sont : les îles Britanniques, dans l'Atlantique ; la Corse, la Sardaigne et la Sicile, dans la Méditerranée.

221. Les *presqu'îles* sont : la Suède


et la Norvège, le Danemark, la Grèce, l'Italie, l'Espagne et le Portugal.

222. Les caps les plus remarquables sont les caps Nord, Matapan et Finistère.

223. Les principales chaînes de montagnes sont : les Dovrefield, les monts Ourals, le Caucase, les Carpathes, les Alpes et les Pyrénées.

X ^{mont de la...} 2. ^{mont de la...}

224. Les principales mers de l'Europe sont : la mer du Nord et la Bal-



VUE DE LONDRES.

tique, au nord ; la mer Caspienne, la mer Noire et la Méditerranée, au sud.

225. Les *golfs* les plus remarquables sont ceux de Gascogne, de Bothnie et de Finlande.

226. Les principaux *détroits* sont : le Bosphore, les Dardanelles, le Phare de Messine, le détroit de Gibraltar et le Pas de Calais.

227. Les *fleuves* les plus remarquables sont : le Volga, le Don, le Dniéper, le Danube, le Rhône et le Rhin.

228. Les principaux *lacs* sont ceux d'Onéga et de Ladoga, en Russie.

3.

229. Le *climat* de l'Europe est généralement tempéré.

230. Les contrées les plus froides sont celles du nord-ouest ; les plus

chaudes, celles du sud ; les plus humides, celles de l'ouest.

231. Les *états* de l'Europe sont : le royaume de Grande-Bretagne et d'Irlande, le Danemark, la Norvège, la Suède, la Russie, la France, la Belgique, la Hollande, l'Allemagne, l'Autriche-Hongrie, la Suisse, le Portugal, l'Espagne, l'Italie, le Monténégro, la Serbie, la Roumanie, la Bulgarie, la Turquie et la Grèce.

41.000.000

LEÇON XXI.

1.—Grande-Bretagne et Irlande.

232. Le *royaume-uni* de Grande-Bretagne et d'Irlande occupe surtout les deux grandes îles *Britanniques*, situées dans l'O. de l'Europe.

233. Il se compose de l'Angleterre, de l'Ecosse et de l'Irlande.

234. Le sol de ces îles est fertile ; l'agriculture y est portée à un haut degré de perfection.

235. Londres, capitale de l'Angleterre et du royaume-uni, est la ville la plus peuplée et la plus riche du globe.

236. Edimbourg, capitale de l'Ecosse, et Dublin, capitale de l'Irlande, sont remarquables par leurs rues élégantes et leurs beaux édifices publics.

237. Parmi les principales villes de la Grande-Bretagne, il faut encore citer : Liverpool et Glasgow, ports de mer, et Manchester, ville manufacturière.

238. L'Angleterre est le pays le plus commerçant du monde. Elle possède un grand nombre de colonies, qui, avec elle, constituent l'empire britannique.

2.—Danemark.

239. Le Danemark, formé d'îles et de presqu'îles, est situé dans le N. de l'Europe.

240. L'agriculture et le commerce y sont bien développés. Il exporte des chevaux et des produits de laiterie.

241. Sa capitale est Copenhague.

3.—Suède et Norvège.

242. La Suède et la Norvège forment une presqu'île située au N. de la mer Baltique.

243. Le sol de la Norvège est montagneux ; celui de la Suède est uni et couvert de lacs et de rivières.

244. La capitale de la Suède est

Stockholm ; celle de la Norvège est Christiania.

LEÇON XXII.

160,095,500 1.—Russie.

245. La Russie, située dans le N.-E. de l'Europe, est l'état le plus étendu du continent.

246. Le sol produit une grande variété de grains et de fruits. On y cultive avec succès la betterave à sucre.

247. St-Petersbourg, la capitale, est une très belle ville.

2.—France.

248. La France, située dans l'O. de l'Europe, est un grand et beau pays, l'un des plus importants du monde. C'est le pays d'origine des Franco-Canadiens.

249. La France est célèbre pour ses vins, ses manufactures de soie et de draps. Elle produit aussi beaucoup de blé et de sucre de betterave.

250. Paris, capitale, est la plus belle ville de l'Europe, et la plus peuplée après Londres.

251. Parmi les principales villes de France, se trouvent encore : Lyon, ville manufacturière ; Marseille et le Havre, ports de mer.

Bordeaux sur la Garonne 7,500,000
Paris sur la Seine
Lyon sur le Rhône
Nantes sur la Loire
3.—Belgique.

252. La Belgique est un petit état situé au N.-E. de la France.

253. C'est un très beau pays, possédant un sol fertile et très bien cultivé.

254. Bruxelles en est la capitale.

Suède: 5.200.000

Norvège 2.260.000

LA VENDANGE ¹:

LEÇON XXIII.

1.—Hollande.

255. La *Hollande* est un petit royaume situé au N. de la Belgique.

256. Le *sol* est bas et stérile, mais les habitants l'ont rendu fertile à force de travail et d'industrie.

257. *La Haye*, capitale, est située sur la côte de la mer du Nord.

2.—Allemagne.

258. L'*Allemagne* occupe le centre de l'Europe. C'est un empire fédératif formé de la *Prusse* et de plusieurs autres petits états.

¹ *Vendange*, récolte du raisin.

259. Le *sol*, qui est très bien cultivé, produit abondamment les graminées et la betterave à sucre. La vigne prospère dans le sud.

260. *Berlin* est la capitale de la Prusse et de tout l'empire.

3.—Autriche-Hongrie.

261. L'*Autriche-Hongrie*, l'un des plus grands états de l'Europe, est située au S.-E. de l'Allemagne.

262. Les *minéraux* utiles, tels que le sel, le charbon, le cuivre et le fer y sont abondants.

263. *Vienne*, capitale de l'Autriche-Hongrie, est une belle et grande ville située sur le Danube.

LEÇON XXIV.

1.—Suisse. 3,500,000

264. La Suisse est une petite république située à l'E. de la France.

265. Cette contrée, célèbre par la beauté de ses montagnes et de ses vallées, est surtout un pays de pâturages.

266. Berne en est la capitale.

2.—Espagne et Portugal. 5,500,000

267. L'Espagne et le Portugal forment une presqu'île située au S. de la France, dont elle est séparée par les Pyrénées.

268. L'Espagne est un pays très montagneux. Son sol, ainsi que celui du Portugal, est bon et productif. Ces deux pays exportent surtout des vins et des fruits.

269. Madrid, capitale de l'Espagne, possède des places et des édifices splendides.

270. Lisbonne, sur le Tage, est la capitale du Portugal.

3.—Italie. 34,900,000

271. L'Italie est une presqu'île située au S. de l'Europe, dans la Méditerranée.

272. Son sol produit une grande variété de fruits délicieux, tels que figues, oranges, dattes, etc.

273. Rome, capitale de l'Italie, l'est aussi de tout le monde catholique, à cause de la résidence de N.S.P. le Pape.

274. Rome et les pays environnants s'appellent les *Etats de l'Eglise*; ils étaient autrefois gouvernés par le Pape, à qui ils ont été injustement enlevés.

LEÇON XXV.

1.—Monténégro et Serbie. 2,800,000

275. Le Monténégro¹ et la Serbie sont deux petits états situés au sud de l'Autriche-Hongrie.

276. La capitale du Monténégro est Cettinié; celle de la Serbie est Belgrade.

2.—Roumanie et Bulgarie. 4,100,000

277. La Roumanie est située au S.-E. de l'Autriche-Hongrie.

278. La Bulgarie est située au S. de la Roumanie. Elle dépend de la Turquie.

279. Bukharest est la capitale de la Roumanie; Sofia est celle de la Bulgarie.

3.—Turquie. 37,000,000

280. La Turquie est située au S. de la Serbie et de la Bulgarie.

281. Le sol produit particulièrement le maïs, le coton, le riz et les olives. On y fabrique des soieries.

282. Constantinople, sur le Bosphore, en est la capitale.

4.—Grèce. 3,000,000

283. La Grèce est une presqu'île située au sud de la Turquie.

284. La Grèce a eu autrefois des philosophes et une littérature qui l'ont rendue célèbre.

285. Athènes en est la capitale.

1 Mo., sur la carte.



ANIMAUX DE L'ASIE.

1, Lion, lionne; 2, éléphants; 3, tigres; 4, panthère; 5, dromadaire (à une bosse), chameau (à deux bosses); 6, rhinocéros; 7, flamants; 8, calao; 9, perroquets; 10, paon; 11, argali (mouton); 12, singe; 13, serpent à lunettes; 14, python; 15, porc-épic.

ASIE.

LEÇON XXVI.

1.

286. L'Asie, la plus étendue des cinq parties du monde et la plus remarquable par ses hautes montagnes, est bornée au N. par l'océan Glacial; à l'E. par le Pacifique; au S., par l'océan Indien, et à l'O., par la mer Rouge, la Méditerranée et l'Europe.

287. Les principales îles sont celles du Japon, de Formose et de Ceylan.

288. Les *presqu'îles* sont celles de la Corée, de Malacca, du Décan (partie méridionale de l'Hindoustan), l'Arabie et l'Asie Mineure (partie de la Turquie).

289. Les principaux *caps* sont: le cap Oriental et le cap Comorin.

290. Les principales chaînes de montagnes sont: les monts Altaï, Himalayas et Ourals.

2.

291. Les *mers* sont celles de Behring, d'Okhotsk, du Japon, de la Chine; la

mer Jaune, la mer Arabique, la mer Rouge, la Méditerranée, la mer Noire et la mer Caspienne.

292. Les principaux *golfses* sont : les golfses de Siam et de Bengale et le golfe Persique.

293. Les principaux *détroits* sont ceux de Behring, de Malacca et de Bab-el-Mandeb.

294. Les *fleuves* sont : l'Obi, l'Ié-nisséi, la Léna, le Hoang-Ho (fleuve Jaune), le Yang-tse-Kiang (fleuve Bleu), le Gange et l'Indus.

3.

295. Le *climat*.—Les plaines septentrionales et les plateaux du centre de l'Asie sont froids.

296. Les régions de la Chine orientale et des Indes sont chaudes et humides ; l'Asie occidentale est plus sèche.

297. Les principales *divisions* politiques de l'Asie sont : la Turquie d'Asie, l'Arabie, la Perse, les Indes (Inde, Indo-Chine), la Chine, le Japon, la Sibérie.

LEÇON XXVII.

1.—Turquie d'Asie.

298. La *Turquie d'Asie* est située dans l'O. de l'Asie ; elle renferme la *Palestine*, ou Terre-Sainte.

299. Les grenades, les olives, les figes figurent parmi les principales productions.

300. La Turquie d'Asie est gouvernée par le souverain de *Constantinople*.

2.—Arabie.

301. L'*Arabie*, grande presqu'île

située dans le S.-O. de l'Asie, est remarquable par ses vastes déserts.

302. Une partie de ses habitants, appelés *Bédouins*, sont errants et vivent sous des tentes.

303. *La Mecque* est la principale ville de l'Arabie.

3.—Perse. 9,500,000

304. La *Perse* est située à l'E. de la Turquie.

305. Elle est renommée pour ses beaux châles et ses beaux tapis.

306. *Téhéran* est la capitale.

LEÇON XXVIII.

1.—Hindoustan.

307. L'*Inde*, ou *Hindoustan*, est bornée par les monts Himalayas, le golfe de Bengale et la mer d'Arabie. La *Birmanie* en fait partie.

308. On en *exporte* des grains, du coton et du café.

309. L'Inde dépend de l'Angleterre. Sa capitale est *Calcutta*.—*Mandalai* est la principale ville de la Birmanie.

2.—Indo-Chine.

310. L'*Indo-Chine* est une presqu'île située entre le golfe de Bengale et la mer de Chine. Elle comprend le royaume de *Siam*, la *Cochinchine* et l'*Annam*.

311. La capitale du royaume de Siam est *Bangkok*.

312. La *Cochinchine* et l'*Annam* dépendent de la France.

313. *Saïgon* est la capitale de la *Cochinchine* ;—*Hué*, celle de l'*Annam*.



LES CÈDRES DU LIBAN.

3
LEÇON XXIX.

1.—Empire chinois.

314. L'empire chinois occupe le centre de l'Asie et comprend la Chine proprement dite, la Mongolie, la Mandchourie, le Thibet et la Tartarie.

315. La Chine exporte du thé et de la soie.

316. Pékin, capitale, est une des plus grandes villes du monde.

2.—Japon.

317. Le royaume du Japon est formé

d'un groupe d'îles situées à l'E. de la Chine.

318. Ce pays exporte du thé, de la soie et du camphre.

319. Sa capitale est Tokio.

3.—Autres Etats.

320. La Sibérie, vaste contrée du N. de l'Asie, appartient à la Russie.

321. Le Turkestan, l'Afghanistan et le Bélouchistan sont trois petits états situés entre la Sibérie, l'Inde et la Perse.

9.68.000,000

Bil 1030,000

4.500,000



ANIMAUX DE L'AFRIQUE.

1, Hippopotame ; 2, buffle ; 3, lion ; 4, chacal ; 5, gorille ; 6, lémur ; 7, babouin ; 8, chimpanzé ; 9, martin-pêcheur ; 10, girafe ; 11, zèbre ; 12, éléphant ; 13, dromadaire ; 14, condou ; 15, gazelle ; 16, gnou ; 17, antilope oryx ; 18, autruche ; 19, antilope noire ; 20, rhinocéros ; 21, babiroussa ; 22, phacochère ; 23, crocodile.

AFRIQUE. 200,000,000

LEÇON XXX.

1.

322. L'*Afrique* est bornée au nord par la Méditerranée ; à l'est par la mer Rouge et l'océan Indien ; au sud et à l'ouest, par l'Atlantique.


323. Les principales îles sont : Madagascar, les îles du Cap-Vert et les Canaries.

324. Les principaux caps sont : le

cap Guardafui, le cap de Bonne-Espérance et le cap Vert.

325. Les montagnes les plus remarquables sont les monts Atlas, les monts Kongs et les monts Neigeux.

326. Au sud des états barbaresques (voir leçon XXXI), se trouve un grand désert appelé le Sahara. Il est formé de plaines sablonneuses, arides et salées, et de collines rocheuses et nues. On y trouve des points fertiles, qu'on appelle oasis.



PYRAMIDES D'EGYPTE.

2.

327. Les principaux *golfs* sont ceux d'Aden et de Guinée.

328. Les *détroits* sont ceux de Gibraltar, de Bab-el-Mandeb et le canal de Mozambique.

329. Les principaux *fleuves* sont : le Nil, le Niger et le Congo.

330. Les *lacs* les plus remarquables sont les lacs Tchad, Victoria, Tanganika et Nyassa.

3.

331. Le *climat* de l'Afrique est généralement très chaud et très sec.

332. Il est ordinairement malsain sur les côtes orientale et occidentale. Sur la côte septentrionale et à l'extrémité australe, il est tempéré et salubre.

333. On trouve de la poudre d'or en différents endroits du continent, et des diamants dans le sud.

334. Le nord et le sud produisent les grains de l'Europe. On cultive aussi en Afrique le figuier, le dattier, la canne à sucre et le cotonnier.

335. Les produits du règne animal sont surtout les plumes d'autruche et l'ivoire.

336. Les Africains du nord sont des *blancs*. La plupart des autres sont des *négres* peu civilisés ou même sauvages.

337. Il n'y a guère d'états importants en Afrique. Presque toutes les contrées connues de ce continent appartiennent à des puissances européennes.

338. Les principales contrées de l'Afrique sont : les états barbaresques, l'Égypte, l'Abyssinie, le Zanguebar, le Mozambique, l'île de Madagascar, la colonie du Cap, les Guinées, la Sénégambie, le Soudan et le Congo.

LEÇON XXXI.

1.—Etats barbaresques.

339. Le Maroc, l'Algérie, la Tunisie et le Tripoli s'appellent états barbaresques. Ils occupent le nord de l'Afrique, et sont bornés au N., par la Méditerranée ; au S., par le Sahara.

340. Capitale du Maroc, *Fez* ; de l'Algérie, *Alger* ; de la Tunisie, *Tunis* ; du Tripoli, *Tripoli*.

2.—Égypte et Abyssinie.

341. Ces deux pays sont situés sur la mer Rouge. Le premier occupe la vallée du Nil ; il est célèbre par ses antiquités : temples, pyramides, etc., et ses souvenirs historiques.

342. La *Nubie*, située entre l'Abyssinie et l'Égypte, appartient à ce dernier pays.

343. Le *Caire*, situé sur la rive droite du Nil, est la capitale de l'Égypte. *Alexandrie*, en est la principale ville.—*Gondar* est la capitale de l'Abyssinie.

LEÇON XXXII.

1.—Afrique orientale.

344. Sur la côte orientale de l'Afrique on trouve :

1° Le *Zanguebar* ; ville principale, *Zanzibar* ;

2° Le *Mozambique*, appartenant aux Portugais ; capitale, *Mozambique* ;

3° L'île de *Madagascar*, soumise à la France ; capitale, *Tananarive*.

2.—Afrique australe.

345. A l'extrémité sud du continent africain, se trouvent :

1° Les républiques du *Transvaal* et de l'*Orange* ;

2° Les colonies de *Natal* et du *Cap*, capitale le *Cap* ;

3° Le pays des *Hottentots*.

346. Presque tous ces états appartiennent à l'Angleterre, et une grande partie des habitants sont d'origine européenne.

3.—Afrique occidentale et centrale.

347. La côte occidentale est partagée entre les Français, les Anglais, les Portugais et les Allemands.

348. Elle comprend les *Guinées* méridionale et septentrionale et la *Sénégambie*, dont la ville principale est *Saint-Louis*.

349. Au centre de l'Afrique, se trouvent :

1° Le *Soudan*, divisé en plusieurs petits états, dont le plus important est le *Soudan égyptien*, qui a pour capitale *Kartoum*.

2° Le *Congo libre* ; capitale, *Boma*.



ANIMAUX DE L'Océanie.

1 et 2, Kangourous géants ; 3, wombat ; 4, mouton ; 5, kangourou-rat ; 6, ornithorhynque ; 7, chat sauvage ; 8, dragon volant ; 9, menure ; 10, perroquet ; 11, faisan ; 12, oiseau de paradis ; 13, casoar ; 14, aptéryx ; 15, cygne noir ; 16, é mou.

Océanie. 51, 420, 000

LEÇON XXXIII.

1.

350. L'Océanie s'étend à l'O. jusque vers l'Asie et l'océan Indien ; à l'E., jusque vers l'Amérique ; au S., jusqu'au pôle austral.

351. L'Océanie est formée d'un continent et d'un grand nombre d'îles. On la divise généralement en trois grandes parties : la Malaisie, l'Australasie et la Polynésie.

352. La Malaisie comprend plusieurs îles importantes dont les princi-

pales sont : Bornéo, Sumatra, Java et les Philippines.

353. L'Australasie comprend l'Australie, la Nouvelle-Guinée ou Papouasie, la Nouvelle-Zélande et plusieurs autres îles moins importantes.

354. La Polynésie comprend toutes les îles de l'océan Pacifique qui n'appartiennent pas aux divisions précédentes.

355. Les principaux groupes dont elle est formée, sont : les îles Hawaii, les Carolines, les îles Fidji, des Amis, Taïti et Marquises.

2.

356. Le principal *golfe* de l'Océanie est celui de Carpentarie, au nord de l'Australie.

357. Les principaux *détroits* sont ceux de la Sonde, entre Sumatra et Java; — de Torrès, entre l'Australie et la Nouvelle-Guinée; — de Bass, entre la Tasmanie et l'Australie.

358. Le *climat*, en général, est tempéré et humide.

359. On tire de la Malaisie du camphre, du poivre et d'autres épices.

360. L'Australie est riche en *mines* d'or et de cuivre; on en exporte, ainsi

que de la Nouvelle-Zélande, beaucoup de beurre et de fromage.

3.

361. L'Océanie est peuplée surtout par la *race brune*. Il y a aussi des *noirs* et des colons *européens*.

362. Le continent australien est divisé en colonies anglaises, dont les deux plus importantes sont :

1° Victoria; capitale, *Melbourne*;

2° La Nouvelle-Galles du Sud; capitale, *Sydney*.

363. Les îles Philippines, capitale *Manille*, appartiennent aux *Espagnols*.

STATISTIQUES.

Altitude des principales montagnes du Globe.

	Pieds.
Mont Everest, Himalaya, Asie.....	29,000
Dhawalahiri, Himalaya, Asie.....	28,000
Aconcagua, Chili, Amérique mérid.....	23,000
Tupungato, Chili, Amérique mérid.....	22,000
Sorata, Bolivie, Amérique mérid.....	21,300
Chuquibambas, Pérou, Amérique mér.....	21,000
Hindou-Kouth, Caboul, Asie.....	20,000
Kilimanjaro, M. de la Lune, Afrique.....	20,000
Kenia, M. de la Lune, Afrique.....	20,000

Longueur des principales rivières du Globe.

	Milles.
Mississipi-Missouri, Amér. sept.....	4,100
Amazone, Amérique méridionale.....	3,600
Nil, Afrique.....	3,600
Mackenzie, Amérique septentrionale.....	2,600
Léna, Asie.....	2,600
Niger, Afrique.....	2,600
Rio de la Plata.....	2,250
St-Laurent, Amérique septentrionale.....	2,200
Paraná, Amérique méridionale.....	2,000

Superficie et population des principaux états du Globe.

I.—Amérique Septentrionale.			ETATS.	Superficie ; mil. car.	Population ; habitants.
ETATS.	Superficie ; mil. car.	Population ; habitants.			
Canada	3,400,000	5,000,000	Amérique Centrale	200,000	3,000,000
Terre-Neuve.....	42,000	200,000	Antilles.....	95,000	3,500,000
Etats-Unis.....	3,010,000	65,000,000	Autres états.....	150,000	105,000
Mexique.....	700,000	12,000,000	Totaux.....	8,947,000	89,805,000

II.—Amérique Méridionale.

ÉTATS.	Superficie ; mil. car.	Population ; habitants.
Colombie	500,000	4,000,000
Vénézuéla.....	430,000	2,300,000
Guyanes.....	180,000	400,000
Bésil.....	3,000,000	14,000,000
Equateur.....	240,000	1,200,000
Perou.....	500,000	3,000,000
Bolivie.....	480,000	2,400,000
Chili.....	260,000	2,800,000
Argentine.....	1,100,000	4,400,000
Paraguay.....	90,000	500,000
Uruguay.....	70,000	700,000
Totaux.....	6,750,000	35,700,000

III.—Europe.

Iles Britanniques.....	121,320	38,000,000
Danemark.....	15,000	2,200,000
Suède et Norwège.....	295,000	7,000,000
Russie.....	2,090,000	95,000,000
Frauce.....	204,000	39,000,000
Belgique.....	11,370	6,200,000
Hollande.....	13,000	4,500,000
Allemagne.....	211,000	50,000,000
Autriche-Hongrie.....	240,000	42,000,000
Suisse.....	15,250	3,000,000
Espagne.....	190,000	18,000,000
Portugal.....	34,500	4,700,000
Italie.....	116,000	30,000,000
Roumanie.....	46,314	5,500,000
Turquie.....	70,000	5,000,000
Grèce.....	24,000	2,200,000
Autres états.....	60,103	5,300,000
Totaux.....	3,756,857	357,600,000

IV.—Asie.

Turquie d'Asie.....	700,000	16,000,000
Arabie.....	1,200,000	6,000,000
Perse.....	470,000	8,000,000

Asie (suite).

ÉTATS.	Superficie ; mil. car.	Population ; habitants.
Hindoustan.....	1,500,000	260,000,000
Indo-Chine.....	950,000	24,000,000
Chine.....	4,088,000	400,000,000
Japon.....	160,000	40,000,000
Sibérie.....	5,250,000	5,000,000
Autres états.....	1,800,000	50,000,000
Totaux.....	16,118,000	809,000,000

V.—Afrique.

Maroc.....	300,000	6,500,000
Algérie.....	180,000	3,800,000
Tunisie.....	45,000	1,500,000
Tripoli.....	380,000	1,000,000
Egypte.....	400,000	7,000,000
Abyssinie.....	200,000	5,000,000
Madagascar.....	230,000	4,000,000
Rép. du Transvaal.....	115,000	800,000
Rép. de l'Orange.....	45,000	150,000
Colonie de Natal.....	20,000	500,000
Colonie du Cap.....	220,000	1,500,000
Congo.....	800,000	20,000,000
Autres contrées.....	9,065,000	88,250,000
Totaux.....	12,000,000	140,000,000

VI.—Océanie.

Bornéo.....	300,000	2,000,000
Sumatra.....	160,000	2,000,000
Iles Philippines.....	120,000	7,000,000
Cont. Australien.....	3,000,000	3,000,000
Nouvelle-Guinée.....	270,000	400,000
Iles Hawaii.....	7,000	85,000
Autres îles.....	743,000	25,515,000
Totaux.....	4,600,000	40,000,000

Les comtés de cinq provinces du Canada.

Province de Québec.	St-Hyacinthe. Bagot. Rouville. Iberville. Missisquoi. Brome. Stanstead. Shefford. Sherbrooke. Richmond. Drummond. Wolfe. Compton. Beauce. Mégantic. Arthabaska. Lotbinière. Lévis. Dorchester. Bellechasse. Montmagny. Portneuf. Québec. Montmorency. Charlevoix. L'Islet. Kamouraska. Témiscouata. Lac-Saint-Jean. Chicoutimi. Saguenay. Rimouski.	Matane. Gaspé. Bonaventure. Iles-Madeleine. Ontario. Addington. Brant. Bruce. Carleton. Dufferin. Dundas. Durham. Elgin. Essex. Frontenac. Glengarry. Grenville. Grey. Haldimand. Halliburton. Halton. Hastings. Huron. Kent. Lambton. Lanark. Leeds. Lennox. Lincoln. Middlesex. Norfolk.	Northumberland. Ontario. Oxford. Peel. Perth. Peterborough. Prescott. Prince-Edouard. Renfrew. Russell. Simcoe. Stromont. Victoria. Waterloo. Welland. Wellington. Wentworth. York. Nouv.-Brunswick. Saint-Jean. Charlotte. King. Queen. Sunbury. York. Carleton. Victoria. Madawaska. Restigouche. Gloucester.	Northumberland. Kent. Westmoreland. Albert. Nouvelle-Ecosse. Hants. King. Annapolis. Digby. Yarmouth. Shelburne. Queen. Lunenburg. Halifax. Cumberland. Colchester. Pictou. Antigonish. Guysborough. Inverness. Victoria. Cap-Breton. Richmond. Ile-du-Prince-Edouard. King. Queen. Prince.
----------------------------	--	---	---	---

Les Etats-Unis.

Alabama. Arkansas. Californie. Caroline mérid. Caroline sept. Colorado. Connecticut. Dakota mérid. Dakota septent. Delaware. Floride.	Géorgie. Idaho. Illinois. Indiana. Iowa. Kansas. Kentucky. Louisiane. Maine. Maryland. Massachusetts.	Michigan. Minnesota. Mississippi. Missouri. Montana. Nebraska. Nevada. New-Hampshire. New-Jersey. New-York. Ohio.	Orégon. Pensylvanie. Rhode-Island. Tennessee. Texas. Utah. Vermont. Virginie. Virginie occid. Washington. Wisconsin.	Wyoming. TERRITOIRES. Alaska. Arizona. Indien. Nouv.-Mexique. Oklahoma. DISTRICT De Colombie.
---	---	---	--	---

Hémisphère Occidental.

Résumé.

Divisions.—Amérique Septentrionale et Amérique Méridionale.

Iles.—Groënland, Islande, Terre-Neuve, Antilles, Terre-de-Feu, Nouvelle-Zélande, Aléoutiennes, etc.

Isthme.—Panama.

Caps.—Barrow, Farewell, Sable, Hatteras, Gallinas, St-Roch, Horn, Blanc, San-Lucas, Mendocino.

Montagnes.—Monts Rocheux, Cordillères des Andes.

Océans, Mers.—Arctique, Atlantique, Antarctique, Pacifique; mer ou baie d'Hudson; des Antilles.

Golfes et Baie.—Baffin, St-Laurent, Mexique, Californie.

Détroits.—Davis, Magellan, Behring.

Fleuves.—Mackenzie, St-Laurent, Mississipi, Rio-Grande, Orénoque, Amazone.

Exercices.

Divisions.—Quelle sont les deux grandes divisions de l'hémisphère occidental?

Iles.—Quelle grande île est située au N.-E. de l'Amérique septentrionale? *G.*

Quelle île est située à l'E. du Groënland? *I.*

Quelle île se trouve à l'E. de l'Amérique septentrionale? *T.*

Quel groupe d'îles trouve-t-on entre les deux Amériques? *A.*

Quelles îles sont situées au sud de l'Amérique méridionale? *T.-F.*

Quel groupe d'îles se trouve au N.-O. de l'Amérique septentrionale? *A.*

Caps.—Quel cap est situé au N. de l'Amérique septentrionale? *B.*

Quels caps trouve-t-on sur la côte orientale? *S., H.*

—Sur la côte occidentale? *M., S.-L.*

Par quel cap se termine le Groënland au sud? *F.*

Quel cap trouve-t-on au N. de l'Amérique méridionale? *G.*

Quel cap trouve-t-on à l'est? *S.-E.*

Quel cap trouve-t-on au sud? *H.*

Montagnes.—Où sont les montagnes Rocheuses?

Quelle chaîne de montagnes trouve-t-on dans l'ouest de l'Amérique méridionale? *A.*

Océans et Mer.—Quel océan est situé au N.? *A.*

Quel océan est situé à l'est? *A.*

Quel océan est situé au sud? *A.*

Quel océan est situé à l'ouest? *P.*

Quelle mer est située au nord de l'Amérique méridionale? *A.*

Golfes et Baie.—Quel golfe est situé dans le sud de l'Amérique septentrionale? *M.*

Quel golfe est situé à l'est? *S.-L.*

Quel golfe trouve-t-on à l'ouest? *C.*

Détroits.—Quel détroit sépare l'Amérique de l'Asie? *B.*

Quel détroit y a-t-il entre la mer de Baffin et le Groënland? *D.*

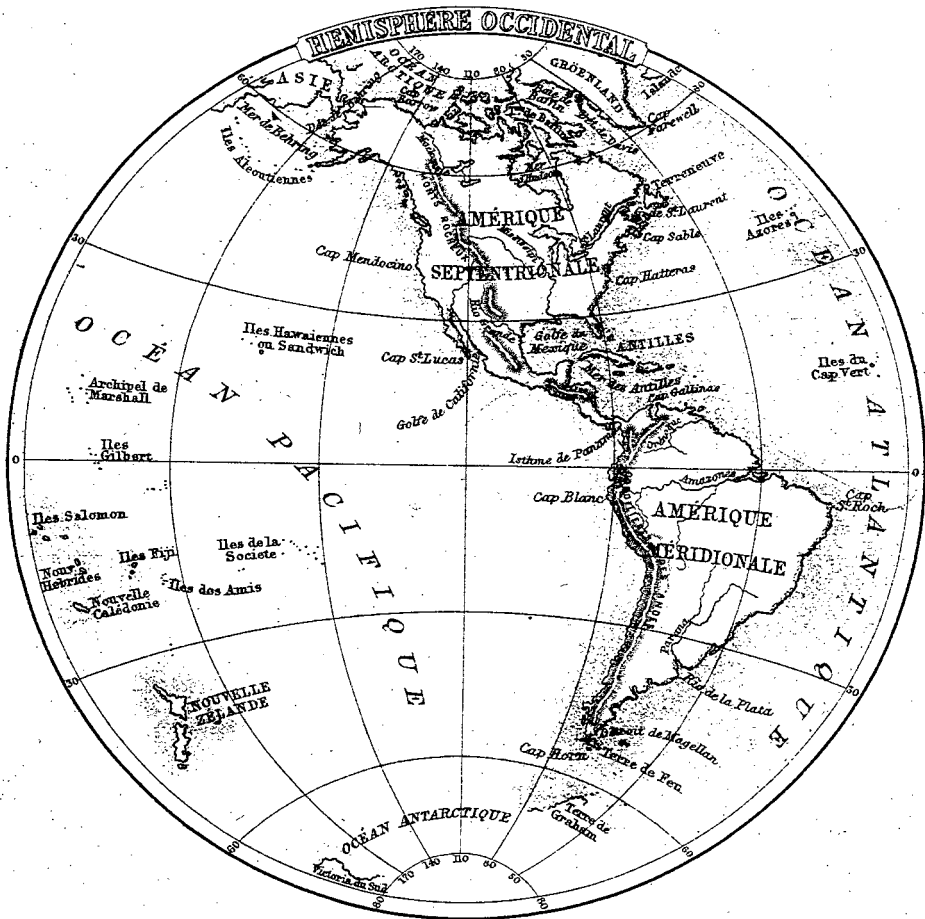
Quel détroit sépare les îles de la Terre-de-Feu de la terre ferme? *M.*

Fleuves.—Quel est le fleuve qui se décharge dans l'océan Arctique? *M.*

Quel fleuve trouve-t-on dans l'Amérique septentrionale se jetant dans l'Atlantique? *S.-L.*

Quels sont les deux fleuves qui se jettent dans le golfe du Mexique? *M., R.-G.*

Quels sont les deux fleuves du nord de l'Amérique méridionale qui se jettent dans l'Atlantique? *O., A.*



Hémisphère Oriental.

Résumé.

Divisions.—Europe, Asie, Afrique, Australie.

Iles.—Spitzberg, Nouvelle-Zemble, Saghalien, Japon, Philippines, Nouvelle-Guinée, Tasmanie, Célèbes, Bornéo, Java, Sumatra, Madagascar, Britanniques.

Isthme.—Suez.

Caps.—Nord, Nord-Est, Comorin, Bonne-Espérance, Vert.

Montagnes.—Ourales, Altaï, Himalaya, Kongs, Atlas, Alpes, Caucase.

Océans.—Arctique, Pacifique, Indien, Antarctique, Atlantique.

Mers.—Blanche, Okhotsk, du Japon, Jaune, de Chine, d'Arabie, Rouge, Méditerranée, Noire, Caspienne, du Nord, Baltique.

Golfes.—De l'Obi, de Siam, de Bengale, Persique, de Guinée, de Gascogne.

Détroits.—Malacca, Bab-el-Mandeb, Mozambique, Gibraltar, la Manche.

Fleuves.—Obi, Iénisséï, Léna, Amour, Yang-tse-Kiang ou Bleu, Cambodge, Zambèze, Congo, Niger, Nil, Volga, Oural.

Exercices.

Divisions.—Montrez l'Europe, —l'Asie, —l'Afrique, —l'Australie.

Iles.—Quels sont les deux groupes d'îles situés au nord de l'Europe? *S., N.-Z.*

Quel groupe est situé au sud-est de l'Asie? *P.*

Quelles sont les trois grandes îles situées sous l'Équateur? *S., B., C.*

Quelle grande île se trouve à l'est de l'Afrique? *M.*

Quelles îles sont situées à l'ouest de l'Europe? *B.*

Caps.—Quel cap se trouve sur la côte nord de l'Asie? *N.-E.*

Quel cap est situé au sud de l'Asie? *C.*

Quel cap est situé au sud de l'Afrique? *B.-E.*
—À l'ouest? *V.*

Montagnes.—Quelles montagnes sont situées entre l'Europe et l'Asie? *O.*

Où sont les monts Himalaya?—les monts Caucase?—les monts Atlas?

Océans et Mers.—Quel océan est situé à l'est de l'hémisphère oriental? *P.*

—Au sud de l'Asie? *I.*

Quel océan est situé à l'O. de l'Afrique? *A.*

Quelle mer trouve-t-on au nord-ouest de l'Europe? *N.*

—Entre l'Afrique et l'Asie? *B.*

—Entre l'Europe et l'Afrique? *M.*

Quelles mers sont situées entre l'Europe et l'Asie? *N., C.*

Golfes.—Quel golfe trouve-t-on au sud de l'Asie? *B.*—au sud-ouest de l'Afrique? *G.*

—À l'ouest de l'Europe? *G.*

Détroits.—Quel détroit est situé au sud de l'Asie? *M.*

Quel détroit y a-t-il entre l'Afrique et l'Asie? *B.-M.*

—Entre l'Afrique et l'Europe? *G.*

Fleuves.—Nommez trois fleuves de l'Asie se déchargeant dans l'océan Arctique.
O., I., L.

Quel est le fleuve qui se jette dans la mer d'Okhotsk? *A.*

Quel est le fleuve en Afrique qui se jette dans la Méditerranée? *N.*

Quels sont les fleuves qui se jettent dans la mer Caspienne? *V., O.*

Amérique Septentrionale.

Résumé.

Bornes.—Océan Arctique, océan Atlantique, mer des Antilles, golfe du Mexique, océan Pacifique.

Iles.—Groënland, Terre-Neuve, Antilles (Cuba, Haiti, Porto-Rico Jamaïque, etc.), Vancouver, Reine Charlotte.

Presqu'îles.—Nouvelle-Ecosse, Floride, Yucatan, Vieille-Californie (ou Basse-Californie), Alaska.

Caps.—Barrow, Farewell, Charles, Sable, Cod, Hatteras, Sable, San-Lucas, Mendocino.

Montagnes.—Alléghanys, Sierra Madré, Sierra Nevada, Rocheuses.

Océans et Mers.—Arctique, Hudson (mer ou baie), Atlantique, Antilles, Pacifique, Behring.

Golfes et Baies.—Baffin, St-Laurent, Fundy, du Mexique, de Californie.

Détroits.—Davis, Hudson, Behring.

Rivières.—Mackenzie, St-Laurent, Mississippi, Rouge, Arkansas, Ohio, Missouri, Rio-Grande, Colorado, Colombie.

Lacs.—Grands lacs de l'Ours et de l'Esclave, Winnipeg (Ouinipeg), Supérieur, Michigan, Huron, Erié, Ontario.

Divisions.—1° Canada; capitale, *Ottawa*; —2° Etats-Unis; capitale, *Washington*; —3° Mexique; capitale *Mexico*; —4° *Amérique Centrale*; —5° Antilles; —6° Terre-Neuve; —7° Groënland; —8° Alaska.

Exercices.

Bornes.—Par quoi l'Amérique est-elle bornée au nord ?

Par quel océan est-elle bornée à l'est ?

Par quelles eaux est-elle bornée au sud ? *M. A., G. M.*—à l'ouest ? *O. P.*

Iles.—Quelle grande île se trouve au nord-est de l'Amérique ? *G.*

Nommez les quatre principales îles des Antilles ? *C., H., P.-E., J.*

Nommez les deux grandes îles situées à l'ouest du Canada ? *V., R. C.*

Caps.—Quel cap trouve-t-on au sud du Groënland ? *F.*

Quels caps sont situés à l'est des Etats-Unis ? *C., H.*

Quel cap est situé au sud-est ? *S.*

Montagnes.—Quels pays les monts Rocheux traversent-ils ? *C., E.-U.*

Nommez la chaîne de montagnes qui est à l'est des Etats-Unis ? *A.*

Mer et Golfes.—Quelle mer trouve-t-on au sud-est des Etats-Unis ? *A.*

Quel golfe est situé à l'est du Canada ? *S.-L.*

Quel golfe est situé au sud des Etats-Unis ? *M.*

Détroits.—Quel détroit unit la baie d'Hudson à l'Atlantique ? *H.*

Quel détroit sépare l'Amérique septentrionale de l'Asie ? *B.*

Par quel détroit la baie de Baffin est-elle unie à l'Atlantique ? *D.*

Rivières.—Quel fleuve, coulant du sud au nord, se jette dans l'océan Arctique ? *M.*

Quel sont les principaux tributaires du Mississippi ? *M., O., A., R.,*

Quels sont les deux fleuves qui se jettent dans le Pacifique ? *C., C.*

Lacs.—Dans quels pays sont les lacs Erié, —Ontario, —Michigan ?

Quels sont les trois principaux lacs situés dans l'ouest du Canada ? *O., E., W.*

Divisions.—Quel territoire est situé à l'ouest du Canada ? *A.*

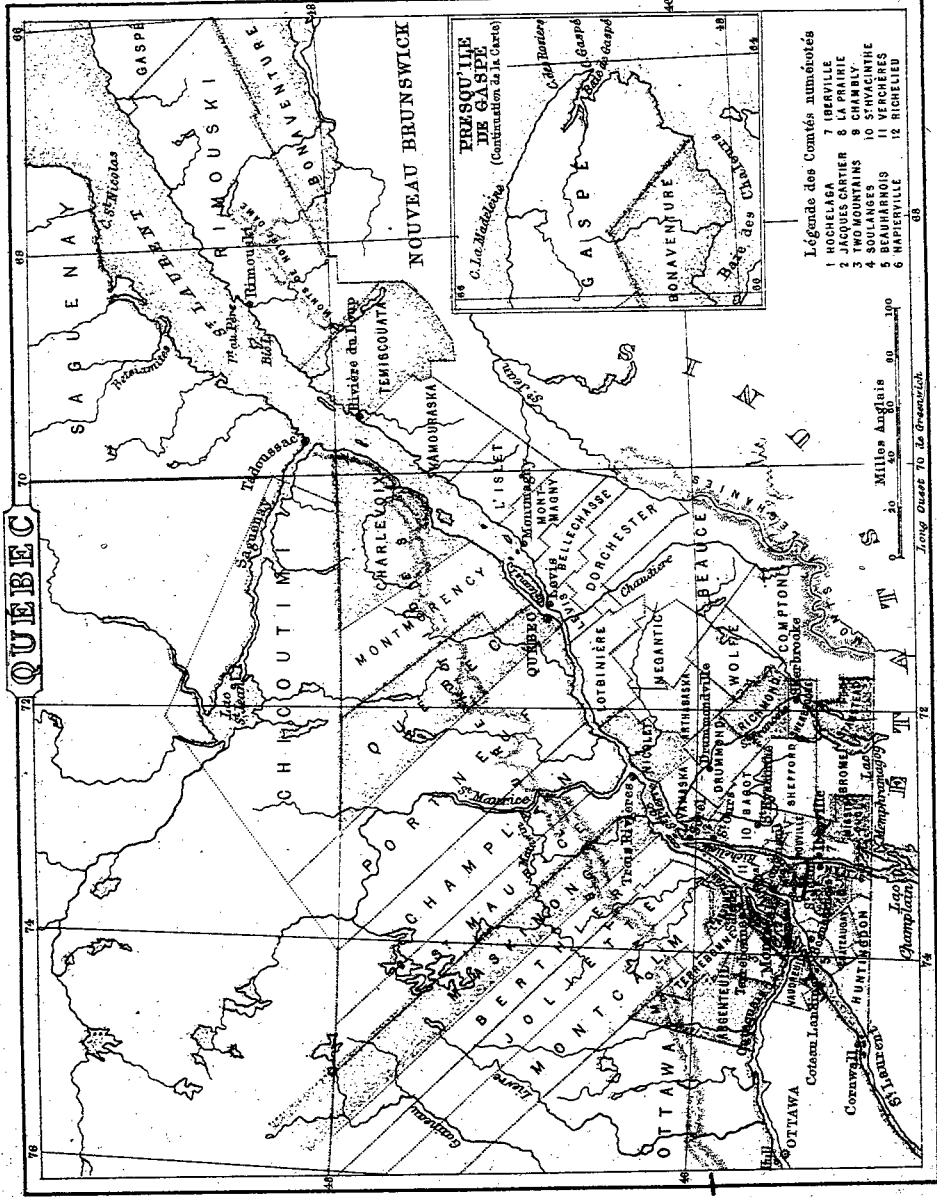
Entre quels pays se trouvent les Etats-Unis ? *C. et M.*

Quelles villes capitales se trouvent dans l'est de l'Amérique septentrionale ? *O., W.*

Quelle contrée trouve-t-on au sud-ouest du Mexique ? *A. C.*

AMERIQUE SEPTENTRIONALE





QUÉBEC

PRESQU'ÎLE DE GASPÉ
(Continuation de la Gaspé)

Légende des Comtés numérotés

- 1 HOCHELAGA
- 2 JACQUES CARTIER
- 3 JACQUES LUSSIER
- 4 SAGOUANES
- 5 BEAUHARROIS
- 6 NAPERVILLE
- 7 IBERVILLE
- 8 CHAMBY
- 9 ST-VINCENT
- 10 ST-VINCENT
- 11 VERCHÈRES
- 12 RICHELIEU

0 20 40 60 80 100
Miles Anglais
0 20 40 60 80 100
Kilomètres

Long Ouest 76 25 Ouest

Résumés.

Iles.—Montréal, Jésus, Orléans, Bic.

Presqu'île.—De Gaspé.

Caps.—Gaspé, des Rosters, de la Madeleine, St-Nicolas, Montagnes,—Laurentides, Notre-Dame, Alleghany, mont Royal, Belœil.

Rivières.—St-Laurent, Betsiamites, Saguenay, St-Maurice, Outaouais, du Lièvre, Chaudière, St-François, Richelieu.

Laos.—St-Jean, St-Pierre, St-François, Memphrémagog. **Comtés.**—(Voir p. 37).

Villes.—Montréal, Québec, St-Henri (à côté de Montréal), Hull, Sherbrooke, Trois-Rivières, Lévis, St-Hyacinthe, Sorel, Valleyfield, Ste-Cunégonde (faubourg de Montréal), St-Jean, Fraserville, Lachine, St-Jérôme, Longueuil, Nicolet, Chicoutimi

Exercices.

Iles et Presqu'île.—Quelle grande île trouve-t-on au confluent de l'Outaouais et du St-Laurent ? *M.*
Quelle île se trouve au nord de celle de Montréal ? *J.*
Quelle grande île est située près de Québec ? *O.*
Quelle presqu'île est située dans l'est de la Province ? *G.*

Caps et Montagnes.—Quelle chaîne de montagnes forme une partie des limites entre la province de Québec et les États-Unis ? *A.*
Quelle chaîne de montagnes se trouve au nord du St-Laurent ? *L.*
Nommez les trois caps situés dans la Gaspésie. *G., R., M.*

Rivières et Laos.—Quel fleuve traverse la province de Québec du sud-ouest au nord-est ? *S.-L.*
Nommez les trois principaux affluents de la rive droite du St-Laurent ? *R., S.-E., C.*
Nommez les trois principaux de la rive gauche ? *O., S.-M., S.*
Quel lac le Richelieu décharge-t-il ? *C.*

Dans quelle rivière le St-François se décharge-t-il ? *S.-L.*
Dans quelle direction le St-Maurice coule-t-il ?
De quel lac le Saguenay reçoit-il les eaux ? *S.-J.*
Montrez les rivières du Lièvre et Betsiamites.

Comtés.—Quels sont les comtés baignés par la Chaudière ?
L., D., B., C.

Dans quel comté Montréal est-il situé ? *H.*

Dans quel comté se trouve Québec ? *Q.*

—Trois-Rivières ? *S.-M.* —Sorel ? *R.*

Quels comtés se trouvent entre l'Outaouais et le St-Laurent ?
V., S.

Quels sont les comtés baignés par le Richelieu ? *R., S.-H., R., I., M., V., C., S.-J.*

Quels sont les comtés baignés par le Saguenay ? *S., C.*

Nommez les comtés formant la rive nord du St-Laurent, depuis le St-Maurice jusqu'à l'île de Montréal ? *S.-M., M., B., J.-A.*

Nommez les comtés à l'ouest du comté de Joliette ? *M., P.-A., T., D.-M., A., O.*

Villes.—Dans quelle île est la ville de Montréal ? *M.*

Quelle est la capitale de la province de Québec ? *Q.*

Sur quelle rivière est-elle située ? *S.-L.*

Quelle ville est située à l'embouchure du St-Maurice ? *T.-R.*

Quel village est situé à l'embouchure du Saguenay ? *Tadouss.*
Quelle ville est située à l'embouchure du Richelieu ? *S.*

Résumé.

Iles.—St-Joseph, Manitoulin, de pointe Pelée, Mille Iles.
Presqu'île.—Prince-Édouard, ^{anciennement les Îles de la} Grande, Trent, St-Laurent, Outaouais, Rideau, Madawaska, Pétawawa.
Cataracte.—Niagara.

Lacs.—Supérieur, Huron, Ste-Claire, Érié, Ontario, Mille Iles, St-François, Nipissingue, Muskoka, Simcoe.
Comtés.—(Voir p. 37).
Villes.—Toronto, Hamilton, Ottawa, London [Londres], Kingston, Brantford, Guelph, St-Thomas, ~~Windsor~~, Belle-~~ville~~, ~~Parkborough~~, Cornwall, Prescott, Brockville.

Exercices.

Iles et Presqu'île.—Quelle grande île est située dans le lac Huron ? *M.*
 Quelle presqu'île est formée par la baie de Quinté ? *P., E.*
 Où sont situées les Mille Iles ?
Rivières et Lacs.—Par quelle rivière la province d'Ontario est-elle bornée au nord-ouest ? *O.*
 Au sud-ouest ? *S., L.*
 Par quels lacs est-elle bornée au sud ? *O., E.*
 Par quel lac à l'ouest ? *H.*
 Quel lac est situé entre les lacs Huron et Érié ? *S., C.*
 Quel lac est situé vers le centre de la province ? *S.*
 Quel lac est uni à la baie Georgienne par la rivière Française [French] ? *N.*
 Quels sont les principaux tributaires de la rive droite de l'Outaouais ? *P., M.*
 Quelle rivière se jette dans le lac Ontario par la baie de Quinté ? *T.*
 Quelle rivière se jette dans le lac Érié ? *G.*
 Quelle est la rivière qui débouche dans le lac Ste-Claire ? *T.*
 Quelle rivière porte les eaux du lac Simcoe à la baie Georgienne ? *S.*
 Entre quels lacs se trouve la cataracte de Niagara ? *E., O.*

Quel canal unit Kingston à Ottawa ? *Rideau.*
Villes et Comtés.—Quelle est la capitale d'Ontario ? *T.*
 Sur quel lac est-elle située ? *O.*
 Quelle ville est située à l'extrémité ouest du lac Ontario ? *H.*
 Quelle ville trouve-t-on à l'extrémité nord-est de ce lac ? *K.*
 Quelle ville est située sur la Tamise, dans le comté de Middlesex ? *L.*
 De quel état la ville d'Ottawa est-elle la capitale ? *O.*
 Dans quel comté est située la ville de Toronto ? *Y.*
 Dans quel comté est située la ville de Kingston ? *F.*
 Dans quel comté est située la ville de London [Londres] ? *M.*
 De Hamilton ? *W.*—De Brantford ? *B.*
 Quels sont les comtés situés sur le St-Laurent ? *G., S., D., G., L., F.*
 Quels sont les comtés situés sur l'Outaouais ? *P., R., C., R.*
 Quel comté forme une presqu'île à l'extrémité occidentale de la province ? *E.*
 Quels sont les comtés baignés par la rivière Trent et ses tributaires ? *V., P., N., H.*
 —Par la rivière Grande ? *W., W., B., H.*
 —Par la Tamise ? *E., K., E., M., O.*

Résumé.

Iles.—Prince-Edouard, du Cap-Breton.

P. resqu'île.—Nouvelle-Ecosse.

Caps.—Nord, Nord, Breton, Sable.

Golfes et Baies.—St-Laurent, Chaleurs, Miramichi,

Hillsborough, St-Georges, Chedabouctou, Fundy, bassin

des Mines (Minus), Chignecton, Passamaquoddy.

Détroits.—Northumberland, Causo, des Mines.

Rivières.—Restigouche, Miramichi, St-Jean, Ste-Croix.

Comtés.—(Voir p. 37.) *N. C. A. F. S.-J.*

Villes.—Frédéricton, St-Jean, Halifax, Charlottetown.

N. C. A. F. S.-J.

Exercices.

Nouvelle-Ecosse.—Les Terres.—Quel isthme joint la Nouvelle-Ecosse au Nouveau-Brunswick ? *C.*

Quelle grande île trouve-on au nord-ouest de la Nouvelle-Ecosse ? *C.-B.*

Quels caps sont au sud et à l'est de la Nouvelle-Ecosse ? *S., G.*

Les **Eaux.**—Quelle baie sépare la Nouvelle-Ecosse du Nouveau-Brunswick ? *F.*

Par quelles eaux la Nouvelle-Ecosse est-elle bornée au sud et à l'est ? *A.*

Montrez la baie de Chignecton.

Montrez le détroit des Mines (Minus) ;—le bassin des Mines.

Par quel détroit le Cap-Breton est-il séparé de la Nouvelle-Ecosse ? *C.*

Comtés et Villes.—Quels sont les deux comtés qu'arrose la rivière Annapolis ? *K., A.*

Quelle est la capitale de la Nouvelle-Ecosse ? *H.*

Dans quel comté est-elle située ? *H.*

Nouveau Brunswick.—**Golfes, Baies et Rivières.**—Par quelle rivière et quelle baie le Nouveau-Brunswick est-il borné au nord ? *R., C.*

Par quel golfe et quel détroit est-il borné à l'est ? *S.-L., N.*

Par quelle baie est-il borné au sud ? *F.*

Quel pays le borne à l'ouest ? *E.-U.*

Quelle rivière se jette dans la baie Miramichi ? *M.*

Quelle est la plus grande rivière du Nouveau-Brunswick ? *S.-J.*

Quel est le cours général du fleuve St-Jean ?

Dans quelles eaux se décharge-t-il ? *F.*

Comtés et Villes.—Quelle grande ville est située à l'embouchure du fleuve St-Jean ? *S.-J.*

Quelle est la capitale du Nouveau-Brunswick ? *F.*

Sur quelle rivière est-elle située ? *S.-J.*

Quel comté est borné par la rivière Restigouche ? *R.*

Quels sont les comtés situés sur le détroit de Northumberland ? *K., W.*

Ile du Prince-Edouard.—**Golfes et Détroits.**—

Dans quel golfe est située l'île du Prince-Edouard ? *S.-L.*

Quel détroit sépare cette île du Nouveau-Brunswick et de la Nouvelle-Ecosse ? *N.*

Comtés et Villes.—Quels sont les comtés de cette province ? *P., Q., K.*

Quelle est la capitale de cette île ? *C.*

Sur quelle baie est-elle située ? *H.*

Quelles eaux traverserit-on pour aller de Charlottetown à Frédéricton ? *N., C., A., F., S.-J.*

Résumé.

Bornes.—Canada, lac Supérieur, lac Huron, lac Erié, lac Ontario, océan Atlantique, golfe du Mexique, Mexique, océan Pacifique.

Caps.—Race, Cod, Hatteras, Sable, Mendocino.

Presqu'île.—Floride.

Montagnes.—Alléghany, Sierra Nevada, monts Cascades, monts Rocheux.

Rivières.—Mississippi, Rouge, Arkansas, Ohio, Missouri, Nebraska, Rio Grande, Colorado, Colombie.

Villes.—(Voir p. 37).

Washington, New-York, Chicago, Philadelphie, Brooklyn, Saint-Louis, Boston, Baltimore, San-Francisco, Nouvelle-Orléans.

Exercices.

Bornes.—Quelles sont les bornes des Etats-Unis au N ?
C, S, H., E., O.

Quel océan est situé à l'est ? *A.*

Quelle contrée et quel golfe les bornent au S. ? *M, M.*

Quel océan se trouve à l'ouest ? *P.*

Caps et Montagnes.—Quel cap trouve-t-on à l'E. de la Caroline ? *H.*—au sud de la Floride ? *S.*—à l'O. de la Californie ? *M.*

Montrez les montagnes Rocheuses.

Quelle chaîne de montagnes se trouve dans l'est des Etats-Unis ? *A.*

Rivières.—Montrez le fleuve Mississippi.

Dans quelles eaux se décharge-t-il ? *G. M.*

Quels sont ses trois principaux affluents sur la rive droite ?
M., A., R.

Quel est son principal affluent sur la rive gauche ? *O.*

Quelle rivière sépare le Mexique des Etats-Unis ? *R. G.*

Quel fleuve arrose le sud-ouest des Etats-Unis ? *C.*

Où débouche ce fleuve ? *G. C.*

Quelle grande rivière arrose le nord-ouest ? *C.*

Dans quelles eaux se jette-t-elle ? *P.*

Vers quel océan se dirigent les rivières situées à l'ouest des montagnes Rocheuses ? *P.*

Dans quelles eaux se jettent les rivières situées entre les Alléghany et les montagnes Rocheuses ? *G. M.*—Et les rivières qui se trouvent à l'est des Alléghany ? *A.*

Etats.—De combien d'états se composent les Etats-Unis ? Quels sont les deux qui sont les plus au sud ? *F., T.*

Lequel est le plus à l'ouest ? *C.*

Montrez l'état de New-York.

Quels états touchent à la province de Québec ? *M., N.-H., V., N.-Y.*

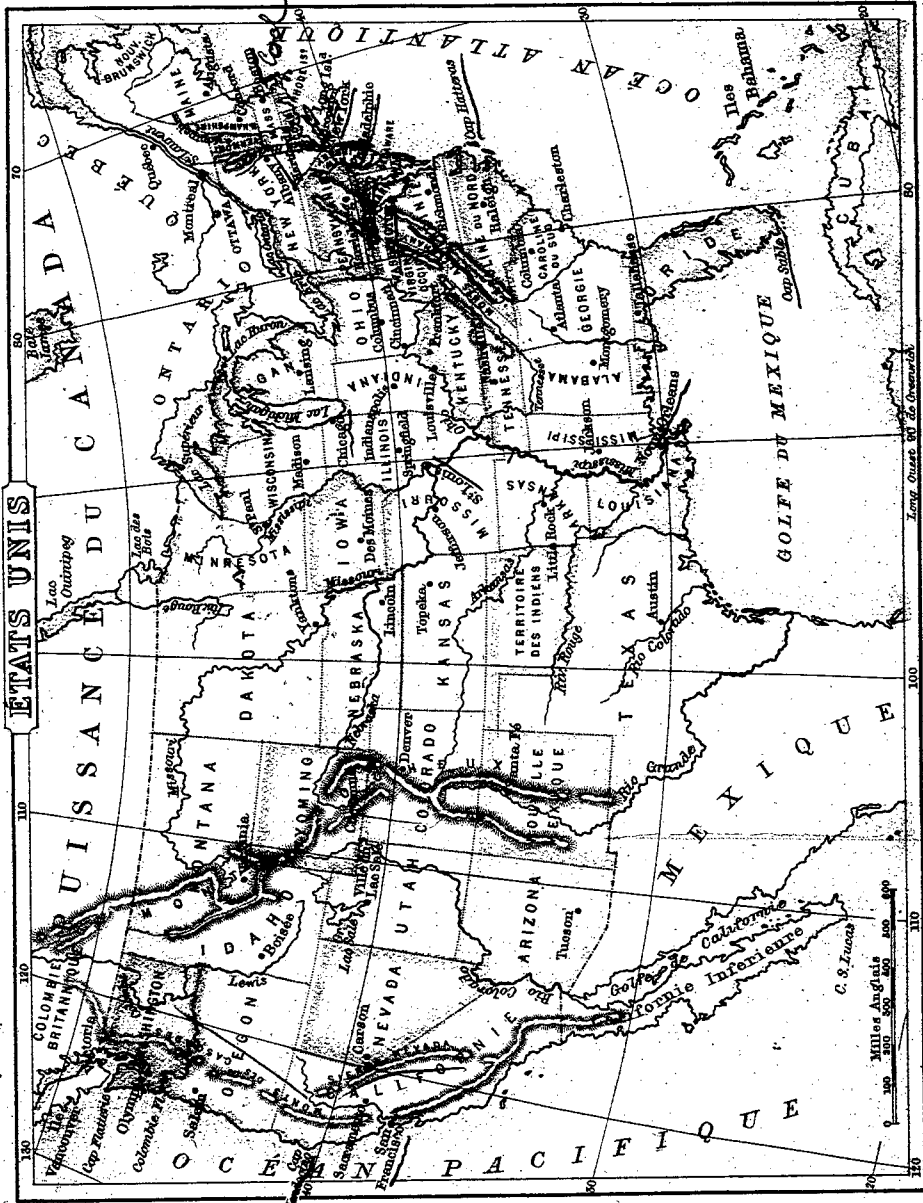
Quels états sont baignés par l'Atlantique de New-York au Nouveau-Brunswick ? *N.-Y., C., R.-I., M., N.-H., M.*

Lequel est baigné par les lacs Supérieur et Huron ? *M.*

Quels sont ceux qui sont baignés par le Pacifique ? *W., O., C.*

Villes.—Quelle est la capitale des Etats-Unis ? *W.*

Dans quel état est New-York ? *N.-Y.*—Boston ? *M.*—Saint-Louis ? *M.*—La Nouvelle-Orléans ? *L.*—Philadelphie ? *P.*—Baltimore ? *M.*—San-Francisco ? *C.*



Amérique Méridionale.

Résumé.

Bornes.—Mer des Antilles, Atlantique, Pacifique.

Iles.—De la Trinité, Joannes, Falkland, Terre-de-Feu, Juan Fernandez.

Isthme.—Panama.

Caps.—Gallinas, Saint-Roch, Horn, Blanco.

Montagnes.—Andes, Brésiliennes.

Parties de mer.—De Tous-les-Saints, de Saint-Georges, de Magellan, de Guayaquil, de Panama.

Cours d'eau.—Orénoque, des Amazones, Tocantins, Xingu, Madeira, San-Francisco, Rio de la Plata, Parana, Paraguay.

Lacs.—Maracaïbo, Titicaca. X

Divisions.—1° Colombie ; capitale, *Bogota* ; —2° Vénézuéla ; cap., *Caracas* ; —3° Guyanes ; capitales, *Georgetown*, *Paramaribo*, *Cayenne* ; —4° Brésil ; cap., *Rio-de-Janeiro* ; —5° Equateur, cap., *Quito* ; —6° Pérou ; cap., *Lima* ; —7° Bolivie ; cap., *La Paz et Sucre* ; —8° Chili ; cap., *Santiago* ; —9° Argentine ; cap., *Buenos-Ayres* ; —10° Paraguay ; cap., *Assomption (Asuncion)* ; —11° Uruguay ; cap., *Montevideo*.

Exercices.

Bornes.—Comment l'Amérique méridionale est-elle bornée au nord ?

Quelles sont ses bornes à l'est ?

Comment est-elle bornée à l'ouest ?

Iles.—Quelle île trouve-t-on à l'embouchure de l'Amazone ? *J.*

Quel groupe d'îles est situé à l'est de la Patagonie ? *F.*

Quelles îles se trouvent au sud de la Patagonie ? *T.-F.*

Quelles sont les îles situées à l'ouest du Chili ? *J.-F.*

Caps et Montagnes.—Quelle chaîne de montagnes voit-on dans l'ouest ? *A.*

Quelle chaîne trouve-t-on à l'est ? *B.*

Quel cap est situé au nord de l'Amérique méridionale ? *G.*

Quel est le cap situé à l'est ? *S.-E.*

Quel est celui qui est au sud ? *H.*

Nommez celui qui est le plus à l'ouest. *B.*

Mer, Golfes, etc.—Quelle mer est située au nord ? *A.*

Quelle baie trouve-t-on à l'est du Brésil ? *T.-S.*

Quel golfe trouve-t-on à l'ouest de l'Equateur ? *G.*

Quel détroit sépare les îles de Terre-de-Feu de la Patagonie ? *M.*

Rivières et Lacs.—Quel lac est situé dans le Vénézuéla ? *M.*

—Dans le Pérou ? *T.*

Quel est le plus grand fleuve de l'Amérique méridionale ? *A.*

Dans quelle contrée est situé le fleuve des Amazones ? *B.*

Quels sont ses principaux tributaires ? *X., M.*

Quel fleuve est situé au nord de l'Amazone, et lui est parallèle ? *O.*

Quel fleuve situé dans le sud-est se jette dans l'Atlantique ? *R. P.*

Comment se nomme la partie supérieure du Rio de la Plata ? *P.*

Divisions.—Quelles sont les deux contrées les plus au nord ? *C., V.*

Quelle contrée est située à l'est du Vénézuéla ? *G.*

Quelle contrée occupe la plus grande partie de l'est de l'Amérique méridionale ? *B.*

Quelle est la contrée la plus méridionale de l'Amérique ? *P.*

Europe.

Résumé.

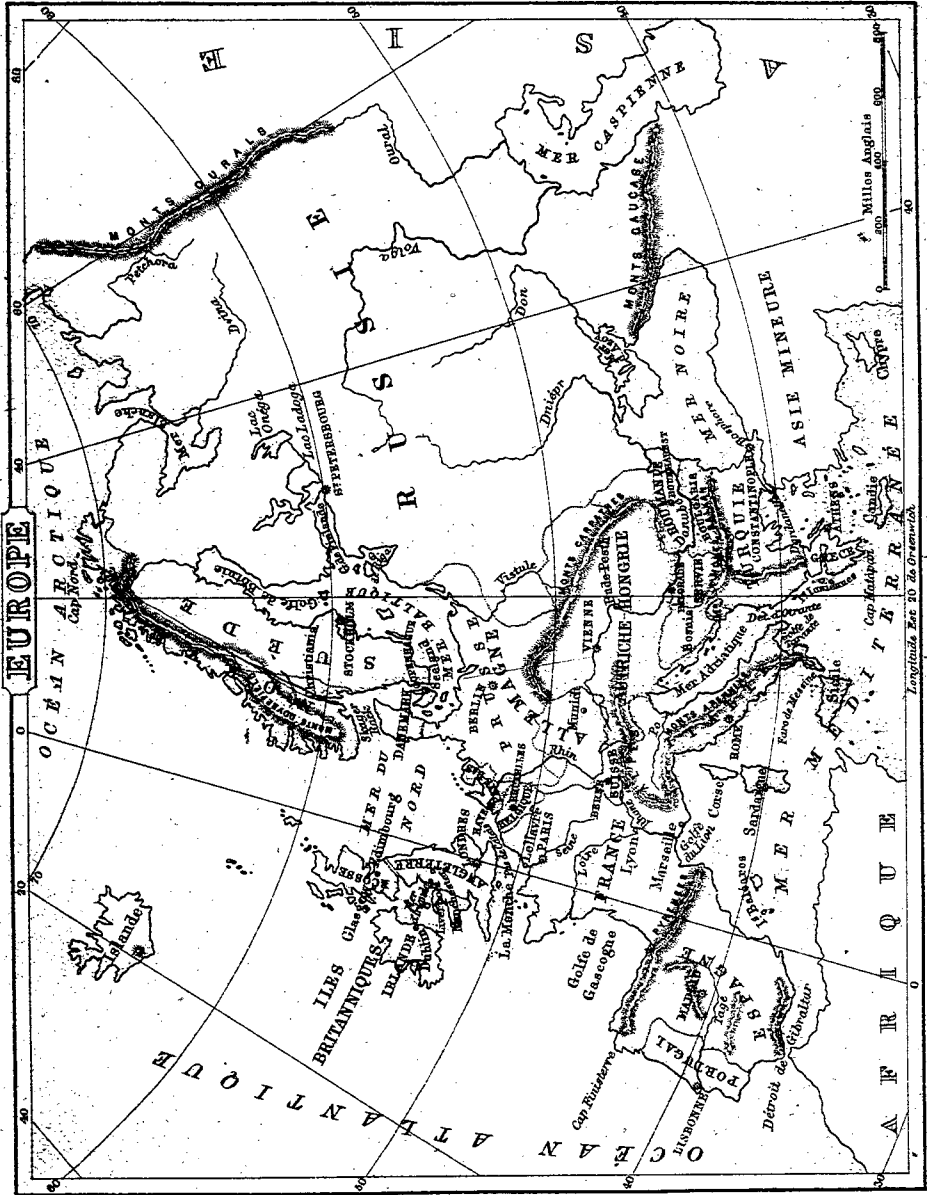
Bornes.—Océan Glacial arctique, Asie, mer Caspienne, Caucase, mer Noire, Méditerranée, Atlantique.
Iles.—Nouvelle-Zemble, Britanniques, Baléares/ Corses, Sardaigne, Sicile, Malte, Ioniennes, Candie.
Presqu'îles.—Suède et Norvège, Danemark, Grèce, Italie, Espagne et Portugal.
Caps.—Nord, Matapan, Finistère.
Montagnes.—Dovrefeld, Ourals, Caucase, Carpathes, Alpes, Pyrénées.
Océans et Mers.—Océan Glacial arctique, mer Blanche, mer Caspienne, mer Noire, Méditerranée, Adriatique, Atlantique, la Manche, mer du Nord, Baltique.
Golfes.—De Tarantèze, de Lion, de Gascogne, de Riga, de Finlande, de Bothnie.
Détroits.—Bosphore, Dardanelles, Phare de Messine, de Gibraltar, Pas de Calais.

Exercices.

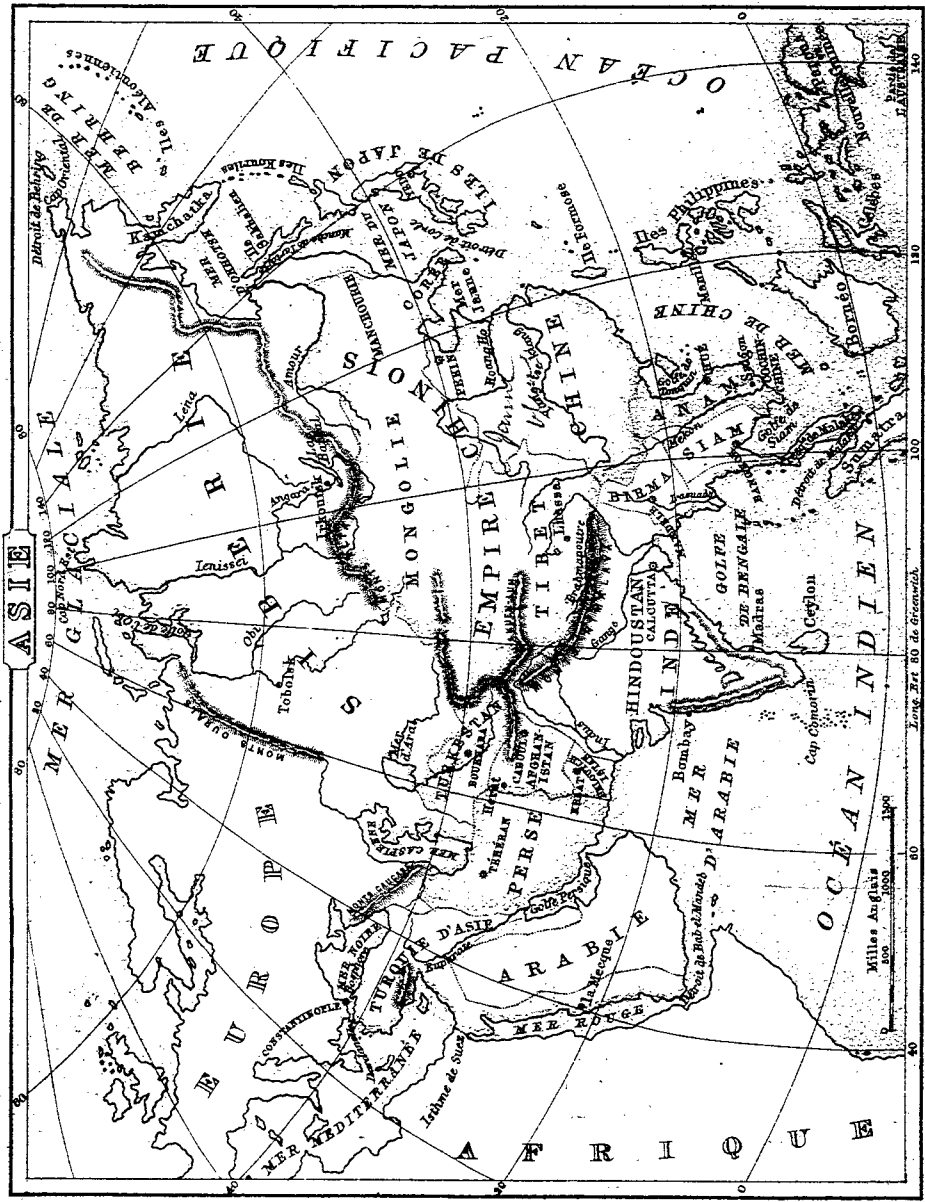
Bornes.—Par quoi l'Europe est-elle bornée au nord ? — à l'est ? — au sud ? — à l'ouest ?
Iles.—Quelles îles sont situées à l'ouest de l'Europe ? *I. B.*
Quelles sont les principales îles de la Méditerranée ? *C. S. S.*
Quel groupe d'îles est situé à l'est de l'Espagne ? *B.*
Presqu'îles.—Quelles sont les deux contrées qui forment une presqu'île au nord de l'Europe ? *N. S.*
Quelle presqu'île se trouve au S.-O. de la France ? *E. et P.*
Quelle presqu'île trouve-t-on dans la Méditerranée ? *I.*
Caps et Montagnes.—Quelle chaîne de montagnes trouve-t-on au sud de la Russie ? *C.*—Au nord de l'Italie ? *A.*—Entre la France et l'Espagne ? *P.*
Quel cap se trouve au nord de l'Europe ? *N.*
Quel cap se trouve au nord-ouest de l'Espagne ? *F.*
Mers et Golfes.—Quelle mer est située à l'est de l'Italie ? *A.*
Quelle mer se trouve entre l'Angleterre et le Danemark ? *N.*
— Entre la Russie et la Suède ? *B.*

Fleuves.—Oural, Volga, Don, Dniéper, Danube, Fô, Rhène, Tage, Loire, Seine, Rhin.
Lacs.—Onga, Ladoga.
Divisions.—1° Grande-Bretagne et Irlande ; capitale, Londres ; 2° Danemark ; cap., *Copenhague* ; 3° Norvège ; cap., *Stockholm* ; 4° Suède ; cap., *Christianstad* ; 5° Russie ; cap., *Saint-Petersbourg* ; 6° France ; cap., *Paris* ; 7° Belgique ; cap., *Bruxelles* ; 8° Hollande ; cap., *la Haye* ; 9° Allemagne ; cap., *Berlin* ; 10° Autriche-Hongrie ; cap., *Vienne* ; 11° Suisse ; cap., *Berne* ; 12° Portugal ; cap., *Lisbonne* ; 13° Espagne ; cap., *Madrid* ; 14° Italie ; cap., *Rome* ; 15° Monténégro ; cap., *Cettinje* ; 16° Serbie ; cap., *Belgrade* ; 17° Roumanie ; cap., *Bukharest* ; 18° Bulgarie ; cap., *Sofia* ; 19° Turquie ; cap., *Constantinople* ; 20° Grèce ; cap., *Athènes*.

Quel golfe est situé au sud de l'Italie ? *T.*
Quel golfe trouve-t-on au sud de la France ? *L.*
Quel golfe se trouve au nord de l'Espagne ? *G.*
Rivières.—Nommez les deux fleuves qui se déchargent dans la mer Gaspienne. *O. V.*
Quelles sont les trois principales rivières de la France ? *R., L., S.*
Sur quelle rivière Lisbonne est-elle située ? *T.*—Paris ? *S.*—Vienne ? *D.*
Divisions.—Quelles contrées occupent le nord de l'Europe ? *N., S., R.*
Quelles sont leurs capitales ? *C., S., S.-P.*
Quel état trouve-t-on au sud de la Turquie ? *G.*
Quelle est la capitale de la Grèce ? *A.*
Montrez l'Italie et dites quelle est sa capitale. *R.*
Montrez la France et sa capitale. *P.*
Montrez l'Espagne et nommez sa capitale ? *M.*
Quel état borne l'Espagne à l'ouest ? *P.*



1. f



Je n'ai pas
vu ces cartes

Asie.

Résumé.

Bornes.—Océans Glacial arctique, Pacifique, Indien ; mers Rouge, Méditerranée ; Europe.
Iles.—Japon, Formose, Ceylan.
Presqu'îles.—Kamchatka, Corée, Malacca, Dégan, Arabie, Asie Mineure.
Isème.—Suez, Levant.
Caps.—Nord-Est, Oriental, Comorin.
Montagnes.—Oural, Altai, Himalayas, Caucase.
Mers et Golfs.—Behring, Okhotsk, du Japon, Jaune, de Chine, de Siam, de Bengale, d'Arabie, Rouge, Méditerranée, Noire, Caspienne.
Détroits.—De Behring, de Corée, de Malacca, de Bab-el-

Mandeb, Dardanelles, Bosphore.
Fleuves.—Obi, Léna, Amour, Hoang-ho, Yang-tse-Kiang, Mékong, Gange, Indus, Euphrate.
LAOS.—Aral (mer ou lac), Baikal.
Divisions.—1° Turquie d'Asie ;—2° Arabie ; ville princédoustan ; cap., *Calcutta* (Birmanie) ; cap., *Mandala* ;—3° Persse ; cap., *Téhéran* ;—4° Hindoustan ; cap., *Bangkok* ;—6° Cochinchine ; cap., *Saigon* ;—7° Annam ; cap., *Hue* ;—8° Chine ; capitale, *Pékin* ;—9° Corée ; cap., *Séoul* ;—10° Japon ; cap., *Tokio* ;—11° Sibérie ;—12° Turkestan ; cap., *Boukhara* ;—13° Afghanistan ; cap., *Kaboul* ;—14° Beloutchistan ; cap., *Kélat*.

Exercices.

Bornes.—Quel océan borne l'Asie au nord ? *G.*
 Quelles sont les mers qui la bornent à l'est ? *B., O., J., J.*
 Par quelles mers et quel golfe est-elle bornée au sud ? *C., E., A.*
 Quelles sont les mers et les montagnes qui la bornent à l'ouest ? *R., M., N., C., O.*
Iles.—Quel groupe d'îles trouve-t-on à l'est de la Chine ? *J.*
 Quelle île se trouve au sud de l'Hindoustan ? *C.*
Presqu'îles.—Quelles presqu'îles trouve-t-on à l'ouest de l'Asie ? *A., M., A.*
 Quelle presqu'île est située au sud de Siam ? *M.*
Caps et Montagnes.—Quelle chaîne de montagnes y a-t-il entre la Chine et la Sibérie ? *A.*
 Quelle chaîne sépare l'Hindoustan de la Chine ? *H.*
 Quelle chaîne sépare la Sibérie de l'Europe ? *O.*
 Quel cap est situé au nord de la Sibérie ? *N., E.*
 Quel cap se trouve au sud de l'Inde ? *C.*
Golfs et Détroits.—Quel golfe trouve-t-on au sud-est de l'Inde ? *B.*

Quel golfe se trouve entre l'Arabie et la Perse ? *P.*
 Quelles mers le détroit de Bab-el-Mandeb unit-il ? *R., A.*
 Quel détroit se trouve entre la presqu'île de Malacca et l'île de Sumatra ? *M.*
Rivières.—Nommez les trois fleuves qui arrosent la Sibérie. *O., I., L.*
 Dans quelle direction coulent-ils généralement ?
 Où le Gange prend-il sa source ? *M., H.*
 Quel fleuve arrose le nord-ouest de l'Hindoustan ? *I.*
 Par quel fleuve la Turquie d'Asie est-elle arrosée ? *E.*
Divisions.—Quelle contrée occupe le nord de l'Asie ? *S.*
 Quel empire trouve-t-on au sud de la Sibérie ? *C.*
 Quelle est la capitale de la Chine ? *J.*
 Quelle contrée trouve-t-on au sud-ouest de la Chine ? *L. ou H.*
 Quelle en est la principale ville ? *C.*
 Montrez l'Arabie et nommez-en la principale ville. *M.*
 Quelle est la capitale de la Perse ? *T.*

Afrique.

Résumé.

Bornes.—Méditerranée, mer Rouge, océan Indien, Atlantique.

Iles.—Madagascar, du Cap-Vert, Canaries.

Isthme.—De Suez.

Caps.—Bon, Guardafui, Bonne-Espérance, Vert.

Montagnes.—Atlas, Kongs, Neigeuses.

Mers et Golfes.—Méditerranée, de la Sidre, Rouge, d'Aden, de Guinée.

Détroits.—Gibraltar, Bab-el-Mandeb, canal de Mozambique.

Fleuves.—Nil, Zambèze, Congo, Niger.

Lacs.—Tchad, Albert, Victoria, Tanganika, Nyassa.

Divisions.—1° Maroc; cap., *Fes*;—2° Algérie; cap., *Alger*;—3° Tunisie; cap., *Tunis*;—4° Tripoli; cap., *Tripoli*;—5° Egypte; cap., *le Caire*;—6° Abyssinie; cap., *Gondar*;—7° Zanguebar; ville principale, *Zanzibar*;—8° Mozambique; cap., *Mozambique*;—9° Transvaal; cap., *Pretoria*;—10° Natal; cap., *Pietermaritzbourg*;—11° république de l'Orange; cap., *Bloemfontein*;—12° Colonie du Cap; cap., *le Cap*;—13° Guinée méridionale;—14° Guinée septentrionale;—15° Sénégalie;—16° Soudan;—17° Congo; cap., *Boma*.

Exercices.

Bornes.—Quelle mer borne l'Afrique au nord? *M.*

Par quelles eaux est-elle bornée à l'est? *M. R., O. I.*

Comment est-elle bornée au sud et à l'ouest? *O. A.*

Iles et Isthme.—Quelle grande île trouve-t-on au sud-est de l'Afrique? *M.*

Par quel canal est-elle séparée de la terre ferme? *M.*

Quel groupe d'îles est situé à l'ouest de la Sénégalie? *C.-V.*

Quel isthme unit l'Asie à l'Afrique? *S.*

Caps et Montagnes.—Quels monts se trouvent au nord-ouest de l'Afrique? *A.*

Quelle chaîne de montagnes trouve-t-on au sud? *N.*

Quel cap est situé au nord de l'Afrique? *B.*—*A l'est? G.*—*Au sud? B.-E.*

Quel cap trouve-t-on à l'ouest? *V.*

Mers et Golfes.—Quelle mer sépare l'Afrique de l'Europe? *M.*

Quelle mer sépare l'Afrique de l'Asie? *R.*

Quel golfe est situé au nord de Tripoli? *S.*

—*Au sud de la Guinée septentrionale? G.*

Détroits.—Quel détroit y a-t-il entre l'Afrique et l'Europe? *G.*

Quel détroit unit la mer Rouge à l'océan Indien? *B.-M.*

Fleuves.—Quel est le fleuve qui, coulant du sud au nord, se jette dans la Méditerranée? *N.*

Quel est le fleuve qui se jette dans le golfe de Guinée après avoir arrosé le Soudan et la Guinée? *N.*

Lacs.—Quel lac se trouve au centre du Soudan? *T.*

Quels lacs trouve-t-on dans le sud-est de l'Afrique? *A., V., N.*

Divisions.—Quelles contrées occupent le nord de l'Afrique? *M., A., T., T.*

Quelle est la capitale du Maroc? *F.*

Quelle est la capitale de l'Algérie? *A.*

—*De la Tunisie? T.*—*Du Tripoli? T.*

Quelle est la capitale de l'Égypte? *C.*

Montrez le Mozambique.

Montrez la Guinée septentrionale.

Quelle est la contrée la plus à l'ouest? *S.*

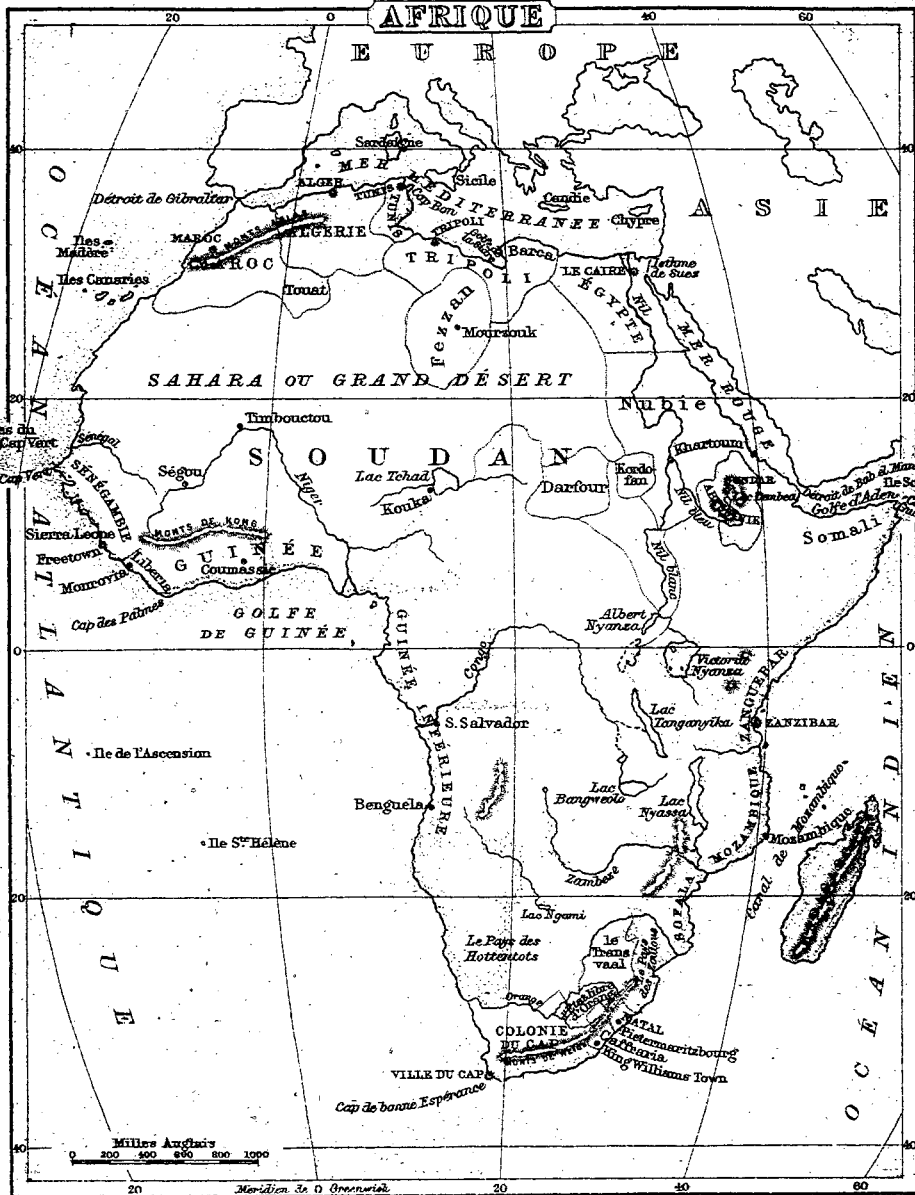
Quel état est traversé par le Congo? *C.*

Quel état est à l'extrémité sud de l'Afrique? *C. C.*

Quels états sont au N.-E. de la Colonie du Cap? *O., N.*

Quelle contrée est au nord du Mozambique? *Z.*

AFRIQUE



Milliers Anglois
 0 200 400 600 800 1000

Méridien de O Greenwich

Océanie.

Résumé.

Bornes.—Amérique, pôle austral, océan Indien, Asie.
Iles.—Sumatra, Java, Bornéo, Célèbes, Moluques, Philippines, Nouvelle-Guinée, Nouvelles-Hébrides, Nouvelle-Calédonie, Nouvelle-Zélande, Tasmanie, Mariannes ou des Iarons, Carolines, Fidji, Kermadec, des Amis, de Cook, Taïti, de la Société, des Navigateurs, Marquises, Hawaïennes ou Sandwich.
Golfe.—De Carpentarie.

Détroits.—De la Sonde, de Torres, de Bass.
Fleuve et Lac.—Murray, Torrens.
Divisions du continent.—Queensland, Nouvelle-Galles du Sud, Victoria, Australie méridionale, Australie occidentale, Australie septentrionale.
Villes.—Honolulu, Sydney, Hobart-Town, Melbourne, Albany, Perth, Batavia, Manille.

Exercices.

Malaisie.—Quels sont les grandes divisions de l'Océanie ?
M, P., A.
 Quelle île est située au sud de la presqu'île de Malacca ? *S.*
 Quel détroit sépare cette île de la terre ferme ? *M.*
 Quelle grande île est située à l'est de Sumatra ? *B.*
 Quelle île se trouve à l'est de Bornéo ? *C.*
 Quelle île se trouve à l'est de Célèbes ? *M.*
 Quel groupe trouve-t-on dans le nord de la Malaisie ? *P.*
 Quelle ville remarquable est située dans les îles Philippines ?
M.
 Dans quelle île est située la ville de Batavia ? *J.*
Australasie.—Montrez l'Australie.
 Dans quelle partie de l'Océanie est-elle située ? *A.*
 Quelle grande île se trouve au nord de l'Australie ? *P.*
 Par quel détroit en est-elle séparée ? *T.*
 Quelles sont les six principales divisions de l'Australie ? *A.*
N., Q., N.-G., V., A. S., A. O.
 Quelle est la capitale de Victoria ? *M.*

Quels sont les deux groupes d'îles que l'on trouve à l'est de l'Australie ? *N.-H., N.-C.*
 Par quel détroit est-elle séparée de l'Australie ? *B.*
 Quelles îles trouve-t-on au sud-est de l'Australie ? *N.-Z.*
 Quel golfe est situé au nord de l'Australie ? *C.*
 Quelle rivière trouve-t-on dans le sud de l'Australie ? *M.*
 Quel lac se trouve dans la même région ? *T.*
 Quelles sont les deux villes que l'on trouve au sud-ouest ? *P., A.*
Polynésie.—Montrez la Polynésie.
 Quel archipel trouve-t-on dans le nord-est ? *H.*
 Quels sont les trois groupes que l'on trouve au nord-ouest ?
M., M., C.
 Dans quel groupe d'îles est située la ville d'Honolulu ? *H.*
 Montrez les îles des Navigateurs.
 Montrez les îles de Cook.
 Montrez les îles Marquises.
 Quel groupe de la Polynésie est le plus au sud ? *K.*

TABLE DES MATIÈRES.

Leçon I.	NOTIONS préliminaires.			
	Forme de la Terre; sa			
	représentation.....	1	Leçon XXV.	Espagne et Portugal....
— II.	Orientation.....	2		Italie.....
— III.	Les terres.....	3		Monténégro et Serbie... 26
— IV.	Les eaux.....	4		Roumanie et Bulgarie... 26
— V.	—.....	5		Turquie.....
— VI.	Races humaines.—Divi-			Grèce.....
	sions politiques.....	6	— XXVI.	ASIE.....
— VII.	DIVISIONS du Globe..	8	— XXVII.	Turquie d'Asie.....
— VIII.	AMÉRIQUE Septent... 9			Arabie.....
— IX.	Le Canada.....	10	— XXVIII.	Perse.....
	Province de Québec....	11		Hindoustan.....
— X.	Ontario.....	13	— XXIX.	Indo-Chine.....
	Nouvelle-Ecosse.....	13		Empire chinois.....
— XI.	Nouveau-Brunswick... 14			Japon.....
	Ile du Prince-Edouard.. 14		— XXX.	Autres Etats.....
— XII.	Manitoba.....	14	— XXXI.	AFRIQUE.....
	Colombie anglaise.....	14		Etats barbaresques... 32
	Territoires du Nord-Ouest 15		— XXXII.	Égypte et Abyssinie... 32
— XIII.	Terre-Neuve.....	15		Afrique orientale..... 32
	Etats-Unis.....	15		Afrique australe..... 32
— XIV.	Mexique.....	16		Afrique occidentale et
	Amérique centrale.....	17	— XXXIII.	centrale.....
	Antilles.....	17		Océanie.....
— XV.	AMÉRIQUE Méridionale 18			
— XVI.	E.-U. de la Colombie... 19		STATISTIQUES.	
	Vénézuéla.....	19		Principales montagnes et principales ri-
	Guyanes.....	19		vières du Globe.....
— XVII.	Brésil.....	19		34
	Equateur.....	20		Superficie et population des principaux
	Pérou.....	20		états du Globe.....
— XVIII.	Bolivie.....	20		34
	Chili.....	20		Population des principales villes du
	Confédération Argentine. 20			Globe.....
— XIX.	Paraguay.....	21		36
	Uruguay.....	21		Les comtés de cinq provinces du Canada. 37
— XX.	EUROPE.....	22		Les Etats-Unis (énumération)..... 37
— XXI.	Grande-Bretagne et Ir-		CARTES avec EXERCICES en regard.	
	lande.....	23		Hémisphère occidental.....
	Danemark.....	24		39
	Suède et Norwège.....	24		Hémisphère oriental.....
— XXII.	Russie.....	24		40
	France.....	24		Amérique septentrionale.....
	Belgique.....	24		43
— XXIII.	Hollande.....	25		Province de Québec.....
	Allemagne.....	25		44
	Autriche-Hongrie.....	25		Ontario.....
— XXIV.	Suisse.....	26		47
				Nouvelle-Ecosse, Nouveau-Brunswick
				et Ile du Prince-Edouard.....
				48
				Etats-Unis.....
				51
				Amérique méridionale.....
				52
				Europe.....
				55
				Asie.....
				56
				Afrique.....
				59
				Océanie.....
				60

